

Диагностическая работа по химии
Вариант № 2002

Инструкция по выполнению работы

Экзаменационная работа состоит из двух частей, включающих в себя 24 задания. Часть 1 содержит 19 заданий с кратким ответом, часть 2 содержит 5 заданий с развёрнутым ответом.

На выполнение экзаменационной работы по химии отводится 180 минут.

Ответы к заданиям 1–19 записываются в виде одной цифры или последовательности цифр. Ответ запишите в поле ответа в тексте работы, а затем перенесите в бланк ответов № 1.

К заданиям 20–23 следует дать полный развёрнутый ответ, включающий в себя необходимые уравнения реакций и расчёты. Ответы на задания записываются на бланке ответов № 2. Задание 24 предполагает выполнение эксперимента под наблюдением экспертов.

К выполнению задания 24 следует приступать после выполнения участником экзамена задания 23 и не ранее чем через 30 минут после начала экзамена.

Все бланки заполняются яркими чернилами. Допускается использование гелевой или капиллярной ручки.

При выполнении работы Вы можете пользоваться Периодической системой химических элементов Д.И. Менделеева, таблицей растворимости солей, кислот и оснований в воде, электрохимическим рядом напряжений металлов и непрограммируемым калькулятором.

При выполнении заданий можно пользоваться черновиком. Записи в черновике, а также в тексте контрольных измерительных материалов не учитываются при оценивании работы.

Баллы, полученные Вами за выполненные задания, суммируются. Постарайтесь выполнить как можно больше заданий и набрать наибольшее количество баллов.

После завершения работы проверьте, чтобы ответ на каждое задание в бланках ответов №1 и №2 был записан под правильным номером.

Желаем успеха!

Часть 1

Ответом к заданиям 1–19 является цифра или последовательность цифр. Укажите ответы сначала в тексте работы, а затем перенесите в БЛАНК ОТВЕТОВ № 1 справа от номера соответствующего задания, начиная с первой клеточки, без пробелов, запятых и других дополнительных символов. Каждую цифру пишите в отдельной клеточке в соответствии с приведёнными в бланке образцами.

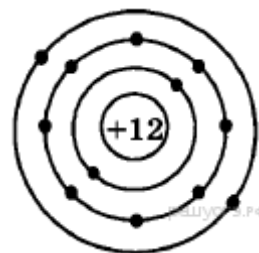
1 Выберите два высказывания, в которых говорится о хлоре как о химическом элементе:

- 1) Хлор — жёлто-зелёный удушающий газ
- 2) Атомная масса хлора составляет 35,453 а. е. м.
- 3) Молекула соляной кислоты содержит один атом хлора
- 4) Хлор использовался как боевое отравляющее вещество
- 5) Хлор при попадании в лёгкие вызывает ожог лёгочной ткани

Ответ:

2 На приведенном рисунке изображена модель атома:

- 1) магния
- 2) кальция
- 3) лития
- 4) калия



Ответ:

3 Атомный радиус химических элементов уменьшается в ряду

- 1) Si → Al → Mg
- 2) Be → Al → C
- 3) As → P → N
- 4) F → Cl → Br

Ответ:

4 В каком из соединений степень окисления хлора равна +1?

- 1) Cl_2O_7
- 2) AlCl_3
- 3) NaClO
- 4) HClO_4

Ответ:

5 Ковалентная неполярная связь реализуется в

- 1) молекуле оксида углерода ((IV))
- 2) молекуле S_8
- 3) кристаллическом льде
- 4) молекуле NH_3

Ответ:

6 Какие два утверждения верны для характеристики как кислорода, так и серы?

- 1) электроны в атоме расположены на пяти электронных слоях
- 2) химический элемент образует летучее водородное соединение вида $\text{H}_2\text{Э}$
- 3) число протонов в ядре атома химического элемента равно 8
- 4) химический элемент имеет 6 валентных электронов
- 5) соответствующее простое вещество при н. у. является газом

Запишите в поле ответа номера выбранных высказываний.

Ответ:

7 Только щёлочи расположены в ряду

- 1) NaOH - $\text{Ba}(\text{OH})_2$
- 2) NH_4OH - $\text{Cu}(\text{OH})_2$
- 3) LiOH - $\text{Al}(\text{OH})_3$
- 4) $\text{Ba}(\text{OH})_2$ - $\text{Mg}(\text{OH})_2$

Ответ:

8 И с цинком, и с медью реагирует

- 1) хлор
- 2) оксид углерода(II)
- 3) гидроксид натрия
- 4) разбавленная соляная кислота

Ответ:

9 Оксид кальция реагирует с

- 1) K_2O
- 2) SO_2
- 3) N_2O
- 4) MgO

Ответ:

10 Установите соответствие между реагирующими веществами и продуктами их взаимодействия: к каждой позиции, обозначенной буквой, подберите соответствующую позицию, обозначенную цифрой.

РЕАГИРУЮЩИЕ ВЕЩЕСТВА

- A) $AgNO_3 + BaCl_2 \rightarrow$
Б) $H_2SO_4 + Ba(NO_3)_2 \rightarrow$
B) $Na_2CO_3 + HCl \rightarrow$

ПРОДУКТЫ ВЗАИМОДЕЙСТВИЯ

- 1) $Ba(NO_3)_2 + AgCl$
2) $BaSO_4 + H_2$
3) $BaSO_4 + HNO_3$
4) $NaCl + H_2O + C$
5) $NaCl + H_2O + CO_2$

Запишите в ответ цифры, расположив их в порядке, соответствующем буквам:

Ответ:

А	Б	В

- 11** Установите соответствие между веществами и реагентами, с каждым из которых оно может вступить в реакцию

ВЕЩЕСТВО	РЕАГЕНТЫ
А) гидроксид калия KOH	1) SO ₂ , FeSO ₄
Б) гидроксид цинка Zn(OH) ₂	2) NaOH, H ₂ SO ₄
В) соляная кислота HCl	3) Na ₂ SO ₃ , AgNO ₃
	4) KCl, CaO

Запишите в ответ цифры, расположив их в порядке, соответствующем буквам:

Ответ:

А	Б	В

- 12** Какое уравнение соответствует реакции разложения?

- 1) $2Ag \rightarrow 2Ag + I_2$
- 2) $2HCl + Ba(OH)_2 \rightarrow BaCl_2 + 2H_2O$
- 3) $Ca(OH)_2 + CO_2 \rightarrow CaCO_3 + H_2O$
- 4) $Na_2S + Br_2 \rightarrow 2NaBr + S$

Ответ:

- 13** Установите соответствие между веществами признаком протекающей между ними реакции. К каждому элементу первого столбца подберите соответствующий элемент из второго столбца.

РЕАГИРУЮЩИЕ ВЕЩЕСТВА	ПРИЗНАК РЕАКЦИИ
А) FeCl ₃ (р-р) и AgNO ₃ (р-р)	1) образование белого творожистого осадка
Б) FeCl ₃ (р-р) и NaOH (р-р)	2) образование бурого осадка
В) Na ₂ SiO ₃ (р-р) и HCl (р-р)	3) выделение газа
	4) образование бесцветного студенистого осадка

Ответ:

А	Б	В

14 Одинаковое количество катионов и анионов образуется при полной диссоциации

- 1) Na_3PO_4
- 2) ZnSO_4
- 3) FeCl_3
- 4) $\text{Ca}(\text{NO}_3)_2$

Ответ:

15 Вода образуется в реакции ионного обмена при взаимодействии

- 1) HCl и $\text{Ca}(\text{OH})_2$
- 2) H_2SO_4 и $\text{Ba}(\text{OH})_2$
- 3) Na_2CO_3 и $\text{Ba}(\text{OH})_2$
- 4) K_2CO_3 и CaCl_2
- 5) CuSO_4 и $\text{Ba}(\text{OH})_2$
- 6) K_2SiO_3 и NaOH

Ответ:

16 К окислительно-восстановительным реакциям относятся реакции, уравнения которых

- 1) $2\text{Al} + 6\text{H}_2\text{O} \rightarrow 2\text{Al}(\text{OH})_3 + 3\text{H}_2\text{O}$
- 2) $2\text{H}_2\text{S} + 3\text{O}_2 \rightarrow 2\text{SO}_2 + 2\text{H}_2\text{O}$
- 3) $\text{SO}_3 + \text{H}_2\text{O} \rightarrow \text{H}_2\text{SO}_4$
- 4) $\text{MgO} + \text{CO}_2 \rightarrow \text{MgCO}_3$
- 5) $\text{SiO}_2 + 2\text{Mg} \rightarrow 2\text{Mg}_2\text{O} + \text{Si}$

Ответ:

17 Верны ли следующие суждения о чистых веществах и смесях и способах их разделения?

А. Чистые вещества имеют постоянный состав.

Б. Смесь поваренной соли с речным песком можно разделить с помощью добавления воды и последующего фильтрования и выпаривания.

- 1) верно только А
- 2) верно только Б
- 3) верны оба суждения
- 4) оба суждения неверны

Ответ:

18 Установите соответствие между двумя веществами и реактивом, с помощью которого можно различить эти вещества.

ВЕЩЕСТВА

А) AgNO_3 (р-р) и KNO_3 (р-р)

Б) $\text{Ba}(\text{OH})_2$ (р-р) и KOH (р-р)

В) K_2CO_3 (р-р) и H_2SO_4 (р-р)

РЕАКТИВ

1) лакмус

2) Cu

3) K_2SO_4 (р-р)

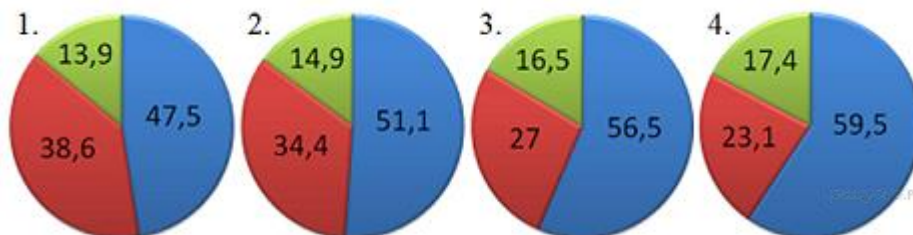
4) NaNO_3 (р-р)

Запишите в ответ цифры, расположив их в порядке, соответствующем буквам:

Ответ:

А	Б	В

- 19 На какой диаграмме распределение массовых долей элементов соответствует количественному составу нитрата калия?



Ответ:

! Не забудьте перенести все ответы в бланк ответов № 1 в соответствии с инструкцией по выполнению работы. Проверьте, чтобы каждый ответ был записан в строке с номером соответствующего задания.

Часть 2

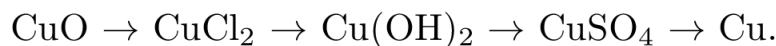
Для ответов на задания 20–22 используйте БЛАНК ОТВЕТОВ № 2. Запишите сначала номер задания (20, 21 или 22), а затем развёрнутый ответ к нему. Ответы записывайте чётко и разборчиво.

- 20** Используя метод электронного баланса, расставьте коэффициенты в уравнении реакции, схема которой



Определите окислитель и восстановитель.

- 21** Напишите молекулярные уравнения реакций, с помощью которых можно осуществить указанные превращения. Для третьего превращения составьте сокращённое ионное уравнение реакции.



Для **предпоследней** реакции напишите сокращённое ионное уравнение.

- 22** К раствору силиката калия массой 20,53 г и массовой долей 15% прилили избыток раствора нитрата кальция. Вычислите массу образовавшегося осадка.



Проверьте, чтобы каждый ответ был записан рядом с номером соответствующего задания.

Практическая часть

Приступайте к выполнению заданий 23 и 24 после выполнения всех предыдущих заданий. Прочитайте текст и выполните задания 23 и 24. Для ответа на задание 23 используйте БЛАНК ОТВЕТОВ №2. Запишите сначала номер задания (23), а затем развёрнутый ответ к нему. Ответ записывайте чётко и разбросчиво. Задание 24 выполняйте только под наблюдением экспертов.

Дан раствор сульфата магния, а также набор следующих реактивов: цинк, соляная кислота, растворы гидроксида натрия, хлорида бария и нитрата калия.

23 Используя только реактивы из приведённого перечня, запишите молекулярные уравнения двух реакций, которые характеризуют химические свойства сульфата магния, и укажите признаки их протекания.

24 Подготовьте лабораторное оборудование, необходимое для проведения эксперимента. Проведите химические реакции между сульфатом магния и выбранными веществами в соответствии с составленными уравнениями реакции, соблюдая правила техники безопасности, приведённые в инструкции к заданию. Опишите изменения, происходящие с веществами в ходе проведённых реакций.

Инструкция по выполнению задания 24

Внимание! В случае ухудшения самочувствия перед началом опытов или во время их выполнения обязательно сообщите об этом организатору в аудитории.

1. **Вы приступаете к выполнению эксперимента.** Для этого получите лоток с лабораторным оборудованием и реактивами у специалиста по проведению инструктажа и обеспечению лабораторных работ в аудитории.

2. **Прочтите** ещё раз перечень веществ, приведённый в тексте к заданиям 23 и 24, и убедитесь (по формулам на этикетках) в том, что на выданном лотке находятся пять указанных в перечне реактивов.

3. **Перед началом выполнения эксперимента** осмотрите ёмкости с реактивами и определите способ работы с ними. При этом обратите внимание на рекомендации, которым Вы должны следовать.

3.1 **В склянке находится пипетка.** Это означает, что отбор жидкости и переливание её в пробирку для проведения реакции необходимо проводить только с помощью пипетки. Для проведения опытов отбирают 7–10 капель реактива.

3.2 **Пипетка в склянке с жидкостью отсутствует.** В этом случае переливание раствора осуществляют через край склянки, которую располагают так, чтобы при её наклоне этикетка оказалась сверху («этикетку — в ладонь!»). Склянку медленно наклоняют над пробиркой, пока нужный объём раствора не перельётся в неё. Объём перелитого раствора должен составлять 1–2 мл (1–2 см).

3.3 **Для проведения опыта требуется порошкообразное (сыпучее) вещество.** Отбор порошкообразного вещества из ёмкости осуществляют только с помощью ложечки или шпателя.

3.4 **При отборе исходного реактива взят его излишек.** Возврат излишка реактива в исходную ёмкость категорически запрещён. Его помещают в отдельную, резервную пробирку.

3.5 **Сосуд с исходным реактивом (жидкостью или порошком)** обязательно закрывается крышкой (пробкой) от этой же ёмкости.

3.6 При растворении в воде порошкообразного вещества или при перемешивании реактивов следует слегка ударять пальцем по дну пробирки.

3.7 Для определения запаха вещества следует взмахом руки над горлышком сосуда направлять на себя пары этого вещества.

3.8 **Для проведения нагревания пробирки с реактивами на пламени спиртовки необходимо:**

- снять колпачок спиртовки и поднести зажжённую спичку к её фитилю;
 - закрепить пробирку в пробиркодержателе на расстоянии 1–2 см от горлышка пробирки;
- передвигать её в пламени вверх и вниз так, чтобы содержимое пробирки прогрелось равномерно;

- далее следует нагревать только ту часть пробирки, где находятся вещества, при этом пробирку удерживать в слегка наклонном положении;
- открытый конец пробирки следует отводить от себя и других людей;
- после нагревания пробирку с помощью пробиркодержателя поместить в штатив для пробирок;
- фитиль спиртовки закрыть колпачком.

3.9 Если реактивы попали на рабочий стол, их удаляют с поверхности стола с помощью салфетки.

3.10 Если реактив попал на кожу или одежду, необходимо незамедлительно обратиться за помощью к специалисту по проведению инструктажа и обеспечению лабораторных работ в аудитории.

4. Вы готовы к выполнению эксперимента. Поднимите руку и попросите организатора в аудитории пригласить экспертов для оценивания проводимого Вами эксперимента.

5. Начинайте выполнять опыт. После проведения каждой реакции записывайте в черновик свои наблюдения за изменениями, происходящими с веществами.

6. Вы завершили эксперимент. Проверьте соответствие зафиксированных на черновике признаков протекания реакций признакам, указанным в Вашем ответе на задание 23. При необходимости, дополните ответ или скорректируйте его.

Периодическая система элементов Д.И.Менделеева.

	I	II	III	IV	V	VI	VII	VIII			
1	1 H 1,00797 Водород										2 He 4,0026 Гелий
2	3 Li 6,939 Литий	4 Be 9,0122 Бериллий	5 B 10,811 Бор	6 C 12,01115 Углерод	7 N 14,0067 Азот	8 O 15,9994 Кислород	9 F 18,9984 Фтор				10 Ne 20,183 Неон
3	11 Na 22,9898 Натрий	12 Mg 24,312 Магний	13 Al 26,9815 Алюминий	14 Si 28,086 Кремний	15 P 30,9738 Фосфор	16 S 32,064 Сера	17 Cl 35,453 Хлор				18 Ar 39,948 Аргон
4	19 K 39,102 Калий	20 Ca 40,08 Кальций	21 Sc 44,956 Скандий	22 Ti 47,90 Титан	23 V 50,942 Ванадий	24 Cr 51,996 Хром	25 Mn 54,938 Марганец	26 Fe 55,847 Железо	27 Co 58,9332 Кобальт	28 Ni 58,71 Никель	
	29 Cu 63,546 Медь	30 Zn 65,37 Цинк	31 Ga 69,72 Галлий	32 Ge 72,59 Германий	33 As 74,9216 Мышьяк	34 Se 78,96 Селен	35 Br 79,904 Бром				36 Kr 83,80 Криптон
5	37 Rb 85,47 Рубидий	38 Sr 87,62 Стронций	39 Y 88,905 Иттрий	40 Zr 91,22 Цирконий	41 Nb 92,906 Ниобий	42 Mo 95,94 Молибден	43 Tc [99] Технеций	44 Ru 101,07 Рутений	45 Rh 102,905 Родий	46 Pd 106,4 Палладий	
	47 Ag 107,868 Серебро	48 Cd 112,40 Кадмий	49 In 114,82 Индий	50 Sn 118,69 Олово	51 Sb 121,75 Сурьма	52 Te 127,60 Теллур	53 I 126,9044 Иод				54 Xe 131,30 Ксенон
6	55 Cs 132,905 Цезий	56 Ba 137,34 Барий	57 La * 138,81 Лантан	72 Hf 178,49 Гафний	73 Ta 180,948 Тантал	74 W 183,85 Вольфрам	75 Re 186,2 Рений	76 Os 190,2 Осмий	77 Ir 192,2 Иридий	78 Pt 195,09 Платина	
	79 Au 196,967 Золото	80 Hg 200,59 Ртуть	81 Tl 204,37 Таллий	82 Pb 207,19 Свинец	83 Bi 208,980 Висмут	84 Po [210] Полоний	85 At 210 Астат				86 Rn [222] Радон
7	87 Fr [223] Франций	88 Ra [226] Радий	89 Ac ** [227] Актиний	104 Db [261] Дубний	105 Jl [262] Жолиотий	106 Rf [263] Резерфордий	107 Bh [262] Борий	108 Hn [265] Ганий	109 Mt [266] Мейтнерий		110

*ЛАНТАНОИДЫ

58 Ce 140,12 Церий	59 Pr 140,907 Празеодим	60 Nd 144,24 Неодим	61 Pm [145] Прометий	62 Sm 150,35 Самарий	63 Eu 151,96 Европий	64 Gd 157,25 Гадолиний	65 Tb 158,924 Тербий	66 Dy 162,50 Диспрозий	67 Ho 164,930 Гольмий	68 Er 167,26 Эрбий	69 Tm 168,934 Тулий	70 Yb 173,04 Иттербий	71 Lu 174,97 Лютеций
------------------------------------	---	-------------------------------------	--------------------------------------	--------------------------------------	--------------------------------------	--	--------------------------------------	--	---------------------------------------	------------------------------------	-------------------------------------	---------------------------------------	--------------------------------------

**АКТИНОИДЫ

90 Th 232,038 Торий	91 Pa [231] Протактиний	92 U 238,03 Уран	93 Np [237] Нептуний	94 Pu [242] Плутоний	95 Am [243] Америций	96 Cm [247] Кюрий	97 Bk [247] Берклий	98 Cf [249] Калифорний	99 Es [254] Эйнштейний	100 Fm [253] Фермий	101 Md [256] Менделевий	102 No [255] Нобелий	103 Lr [257] Лоуренсий
-------------------------------------	---	----------------------------------	--------------------------------------	--------------------------------------	--------------------------------------	-----------------------------------	-------------------------------------	--	--	-------------------------------------	---	--------------------------------------	--

Примечание: Образец таблицы напечатан из современного курса для поступающих в ВУЗы Н.Е. Кузьменко и др. «Начала химии» М., «Экзамен», 2000

Копирование не допускается

РЯД АКТИВНОСТИ МЕТАЛЛОВ / ЭЛЕКТРОХИМИЧЕСКИЙ РЯД НАПРЯЖЕНИЙ
 Li Rb K Ba Sr Ca Na Mg Al Mn Zn Cr Fe Cd Co Ni Sn Pb (H) Sb Bi Cu Hg Ag Pt Au
 ↗
 активность металлов уменьшается

РАСТВОРИМОСТЬ КИСЛОТ, СОЛЕЙ И ОСНОВАНИЙ В ВОДЕ

	H ⁺	Li ⁺	K ⁺	Na ⁺	NH ₄ ⁺	Ba ²⁺	Ca ²⁺	Mg ²⁺	Sr ²⁺	Al ³⁺	Cr ³⁺	Fe ²⁺	Fe ³⁺	Ni ²⁺	Co ²⁺	Mn ²⁺	Zn ²⁺	Ag ⁺	Hg ⁺	Pb ²⁺	Sn ²⁺	Cu ²⁺	
OH ⁻		P	P	P	P	P	M	H	M	H	H	H	H	H	H	H	H	-	-	H	H	H	
F ⁻	P	M	P	P	P	M	H	H	H	M	H	H	H	P	P	P	P	P	-	H	P	P	
Cl ⁻	P	P	P	P	P	P	P	P	P	P	P	P	P	P	P	P	P	P	H	P	M	P	P
Br ⁻	P	P	P	P	P	P	P	P	P	P	P	P	P	P	P	P	P	P	H	M	M	P	P
I ⁻	P	P	P	P	P	P	P	P	P	P	?	P	?	P	P	P	P	P	H	H	H	M	P
S ²⁻	P	P	P	P	P	-	-	-	H	-	-	H	-	H	H	H	H	H	H	H	H	H	H
HS ⁻	P	P	P	P	P	P	P	P	P	?	?	?	?	?	H	?	?	?	?	?	?	?	?
SO ₃ ²⁻	P	P	P	P	P	H	H	M	H	?	-	H	?	H	H	?	M	H	H	H	?	?	
HSO ₃ ⁻	P	?	P	P	P	P	P	P	P	?	?	?	?	?	?	?	?	?	?	?	?	?	
SO ₄ ²⁻	P	P	P	P	P	H	M	P	H	P	P	P	P	P	P	P	P	M	-	H	P	P	
HSO ₄ ⁻	P	P	P	P	P	?	?	?	-	?	?	?	?	?	?	?	?	?	?	?	H	?	
NO ₃ ⁻	P	P	P	P	P	P	P	P	P	P	P	P	P	P	P	P	P	P	P	P	P	-	P
NO ₂ ⁻	P	P	P	P	P	P	P	P	P	?	?	?	?	P	M	?	?	M	?	?	?	?	?
PO ₄ ³⁻	P	H	P	P	-	H	H	H	H	H	H	H	H	H	H	H	H	H	H	H	H	H	H
HPO ₄ ²⁻	P	?	P	P	P	H	H	M	H	?	?	H	?	?	?	H	?	?	?	?	M	H	?
H ₂ PO ₄ ⁻	P	P	P	P	P	P	P	P	P	?	?	P	?	?	?	P	P	P	?	-	?	?	
CO ₃ ²⁻	P	P	P	P	P	H	H	H	H	?	?	H	-	H	H	H	H	H	?	H	?	H	
HCO ₃ ⁻	P	P	P	P	P	P	P	P	P	?	?	P	?	?	?	?	?	?	?	?	P	?	
CH ₃ COO ⁻	P	P	P	P	P	P	P	P	P	-	P	P	-	P	P	P	P	P	P	P	P	-	P
SiO ₃ ²⁻	H	H	P	P	?	H	H	H	H	?	?	H	?	?	?	H	H	?	?	H	?	?	

“P” – растворяется (> 1 г на 100 г H₂O)

“M” – мало растворяется (от 0,1 г до 1 г на 100 г H₂O)

“H” – не растворяется (меньше 0,01 г на 1000 г воды)

“-” – в водной среде разлагается

“?” – нет достоверных сведений о существовании соединений

Примечание: Электрохимический ряд напряжений металлов и таблица «Растворимость кислот, солей и оснований в воде» напечатаны из современного курса для поступающих в ВУЗы Н.Е. Кузьменко и др. «Начала химии» М., «Экзамен», 2000 (с. 241, форзац)

Копирование не допускается

100balnik.ru.com