

**Мониторинговая работа за 1 полугодие в 9 классе в формате
ОГЭ по МАТЕМАТИКЕ
Вариант № 113**

Инструкция по выполнению работы

Экзаменационная работа состоит из двух частей, включающих в себя 26 заданий. Часть 1 содержит 20 заданий, часть 2 содержит 6 заданий с развёрнутым ответом.

На выполнение экзаменационной работы по математике отводится 3 часа 55 минут (235 минут).

Ответы к заданиям 7 и 15 запишите в бланк ответов № 1 в виде одной цифры, которая соответствует номеру правильного ответа.

Для остальных заданий части 1 ответом является число или последовательность цифр. Ответ запишите в поле ответа в тексте работы, а затем перенесите в бланк ответов № 1. Если получилась обыкновенная дробь, ответ запишите в виде десятичной.

Решения заданий части 2 и ответы к ним запишите на бланке ответов № 2. Задания можно выполнять в любом порядке. Текст задания переписывать не надо, необходимо только указать его номер.

Все бланки заполняются яркими чёрными чернилами. Допускается использование гелевой или капиллярной ручки.

Сначала выполняйте задания части 1. Начать советуем с тех заданий, которые вызывают у Вас меньше затруднений, затем переходите к другим заданиям. Для экономии времени пропускайте задание, которое не удаётся выполнить сразу, и переходите к следующему. Если у Вас останется время, Вы сможете вернуться к пропущенным заданиям.

При выполнении части 1 все необходимые вычисления, преобразования выполняйте в черновике. **Записи в черновике, а также в тексте контрольных измерительных материалов не учитываются при оценивании работы.**

Если задание содержит рисунок, то на нём непосредственно в тексте работы можно выполнять необходимые Вам построения. Рекомендуем внимательно читать условие и проводить проверку полученного ответа.

При выполнении работы Вы можете воспользоваться справочными материалами, выданными вместе с вариантом КИМ, и линейкой.

Баллы, полученные Вами за выполненные задания, суммируются. Постарайтесь выполнить как можно больше заданий и набрать наибольшее количество баллов.

Для прохождения аттестационного порога необходимо набрать не менее 8 баллов, из которых не менее 2 баллов должны быть получены за решение заданий по геометрии (задания 16–20, 24–26).

После завершения работы проверьте, чтобы ответ на каждое задание в бланках ответов № 1 и № 2 был записан под правильным номером.

Желаем успеха!

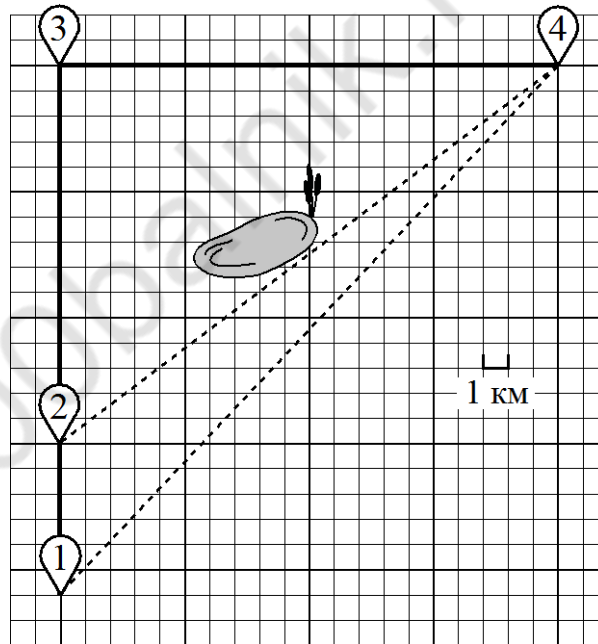
Часть 1

Ответами к заданиям 1–20 являются число или последовательность цифр, которые следует записать в БЛАНК ОТВЕТОВ № 1 справа от номера соответствующего задания, начиная с первой клеточки. Если ответом является последовательность цифр, то запишите её без пробелов, запятых и других дополнительных символов. Каждый символ пишите в отдельной клеточке в соответствии с приведёнными в бланке образцами.

Прочитайте внимательно текст и выполните задания 1–5.

Саша летом отдыхает у дедушки в деревне Масловка. В субботу они собираются съездить на велосипедах в село Захарово в магазин. Из деревни Масловка в село Захарово можно проехать по прямой лесной дорожке. Есть более длинный путь: по прямолинейному шоссе через деревню Вёсенка до деревни Полянка, где нужно повернуть под прямым углом направо на другое шоссе, ведущее в село Захарово. Есть и третий маршрут: в деревне Вёсенка можно свернуть на прямую тропинку в село Захарово, которая идёт мимо пруда.

Лесная дорожка и тропинка образуют с шоссе прямоугольные треугольники.



По шоссе Саша с дедушкой едут со скоростью 20 км/ч, а по лесной дорожке и тропинке — со скоростью 15 км/ч. На плане изображено взаимное расположение населённых пунктов, сторона каждой клеточки равна 1 км.

1

Пользуясь описанием, определите, какими цифрами на плане обозначены населённые пункты.

Заполните таблицу, в бланк ответов перенесите последовательность трёх цифр без пробелов, запятых и других дополнительных символов.

Насел. пункты	д. Масловка	с. Захарово	д. Вёсенка
Цифры			

2 Сколько километров проедут Саша с дедушкой от деревни Масловка до села Захарово, если они поедут по шоссе через деревню Полянка?

Ответ: _____.

3 Найдите расстояние от деревни Вёсенка до села Захарово по прямой. Ответ дайте в километрах.

Ответ: _____.

4 Сколько минут затратят на дорогу из деревни Масловка в село Захарово Саша с дедушкой, если они поедут сначала по шоссе, а затем свернут в деревне Вёсенка на прямую тропинку, которая проходит мимо пруда?

Ответ: _____.

5 В таблице указана стоимость (в рублях) некоторых продуктов в четырёх магазинах, расположенных в деревне Масловка, селе Захарово, деревне Вёсенка и деревне Полянка.

Наименование продукта	д. Масловка	с. Захарово	д. Вёсенка	д. Полянка
Молоко (1 л)	45	40	42	52
Хлеб (1 батон)	29	28	31	22
Сыр «Российский» (1 кг)	250	270	290	280
Говядина (1 кг)	350	380	360	390
Картофель (1 кг)	35	25	32	24

Саша с дедушкой хотят купить 2 л молока, 2 кг говядины и 4 кг картофеля. В каком магазине такой набор продуктов будет стоить дешевле всего? В ответ запишите стоимость данного набора в этом магазине.

Ответ: _____.

6 Найдите значение выражения $\frac{1}{2} + \frac{33}{50}$.

Ответ: _____.

7 Какое из следующих чисел заключено между числами $\frac{19}{8}$ и $\frac{17}{7}$?

- 1) 2,3 2) 2,4 3) 2,5 4) 2,6

Ответ:

8 Найдите значение выражения $\frac{\sqrt{45}}{\sqrt{5}}$.

Ответ: _____.

9 Решите уравнение $5x^2 + 15x = 0$.

Если уравнение имеет более одного корня, в ответ запишите меньший из корней.

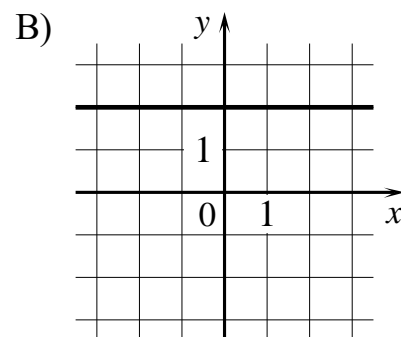
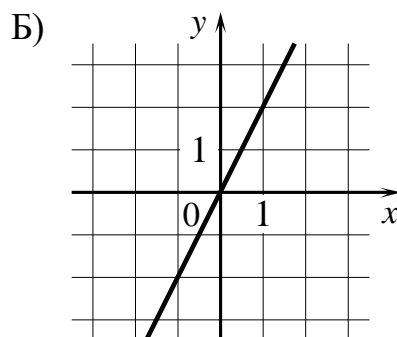
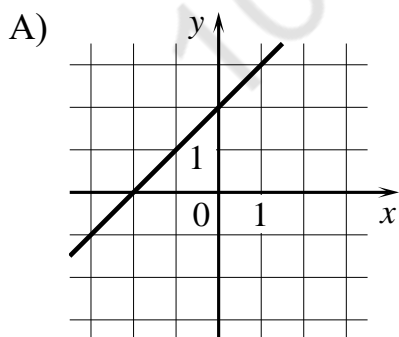
Ответ: _____.

10 В магазине канцтоваров продаётся 84 ручки, из них 22 красных, 9 зелёных, 41 фиолетовая, остальные синие и чёрные, их поровну. Найдите вероятность того, что случайно выбранная в этом магазине ручка будет красной или фиолетовой.

Ответ: _____.

11 Установите соответствие между графиками функций и формулами, которые их задают.

ГРАФИКИ



ФОРМУЛЫ

1) $y = 2x$

2) $y = x + 2$

3) $y = 2$

В таблице под каждой буквой укажите соответствующий номер.

Ответ:

А	Б	В

12 Выписаны первые три члена арифметической прогрессии:

30; 24; 18; ...

Найдите 7-й член этой прогрессии.

Ответ: _____.

13 Найдите значение выражения $-16ab + 8(a+b)^2$ при $a = \sqrt{14}$, $b = \sqrt{5}$.


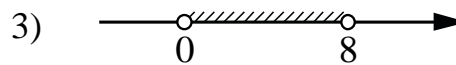
Ответ: _____.

14 Чтобы перевести значение температуры по шкале Цельсия в шкалу Фаренгейта, пользуются формулой $t_F = 1,8t_C + 32$, где t_C — температура в градусах Цельсия, t_F — температура в градусах Фаренгейта. Скольким градусам по шкале Фаренгейта соответствует 90 градусов по шкале Цельсия?

Ответ: _____.

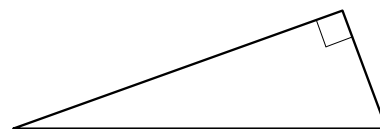
15 Укажите решение неравенства

$$8x - x^2 < 0.$$



Ответ:

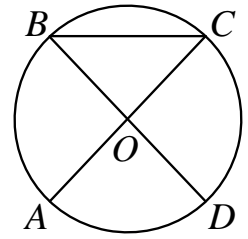
16 Два катета прямоугольного треугольника равны 18 и 7. Найдите площадь этого треугольника.



Ответ: _____.

17

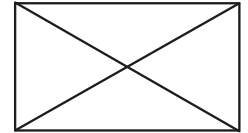
В окружности с центром в точке O отрезки AC и BD — диаметры. Угол AOD равен 88° . Найдите угол ACB . Ответ дайте в градусах.



Ответ: _____.

18

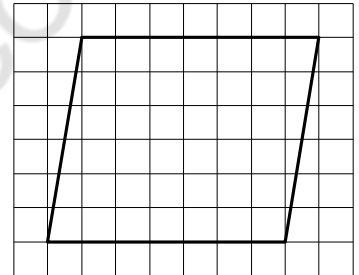
Диагональ прямоугольника образует угол 86° с одной из его сторон. Найдите острый угол между диагоналями этого прямоугольника. Ответ дайте в градусах.



Ответ: _____.

19

На клетчатой бумаге с размером клетки 1×1 изображён параллелограмм. Найдите его площадь.



Ответ: _____.

20

Какое из следующих утверждений верно?

- 1) Площадь прямоугольного треугольника равна произведению длин его катетов.
- 2) Существует прямоугольник, диагонали которого взаимно перпендикулярны.
- 3) Если стороны одного четырёхугольника соответственно равны сторонам другого четырёхугольника, то такие четырёхугольники равны.

В ответ запишите номер выбранного утверждения.

Ответ: _____.



Не забудьте перенести все ответы в бланк ответов № 1 в соответствии с инструкцией по выполнению работы. Проверьте, чтобы каждый ответ был записан в строке с номером соответствующего задания.

Часть 2

При выполнении заданий 21–26 используйте БЛАНК ОТВЕТОВ № 2. Сначала укажите номер задания, а затем запишите его решение и ответ. Пишите чётко и разборчиво.

21

Решите систему уравнений
$$\begin{cases} 2x^2 - 5x = y, \\ 2x - 5 = y. \end{cases}$$

22

Баржа прошла по течению реки 80 км и, повернув обратно, прошла ещё 60 км, затратив на весь путь 10 часов. Найдите собственную скорость баржи, если скорость течения реки равна 5 км/ч.

23

Постройте график функции

$$y = \frac{7x - 10}{7x^2 - 10x}.$$

Определите, при каких значениях k прямая $y = kx$ имеет с графиком ровно одну общую точку.

24

Катет и гипотенуза прямоугольного треугольника равны 35 и 125. Найдите высоту, проведённую к гипотенузе.

25

Основания BC и AD трапеции $ABCD$ равны соответственно 6 и 24, $BD = 12$. Докажите, что треугольники CBD и BDA подобны.

26

В параллелограмме $ABCD$ проведена диагональ AC . Точка O является центром окружности, вписанной в треугольник ABC . Расстояния от точки O до точки A и прямых AD и AC соответственно равны 13, 7 и 5. Найдите площадь параллелограмма $ABCD$.



Проверьте, чтобы каждый ответ был записан рядом с номером соответствующего задания.