

НОМЕР КИМ**Инструкция по выполнению работы**

На выполнение экзаменационной работы по физике отводится 3 часа (180 минут). Экзаменационная работа включает в себя 25 заданий.

Ответы к заданиям 1, 2, 4, 11–14, 16, 18 и 19 записываются в виде последовательности цифр. Ответом к заданиям 3 и 15 является одна цифра, которая соответствует номеру правильного ответа. Ответы к заданиям 5–10 записываются в виде целого числа или конечной десятичной дроби с учётом указанных в ответе единиц. Ответ запишите в поле ответа в тексте работы, а затем перенесите в бланк ответов № 1. Единицы измерения в ответе указывать не надо.

К заданиям 17, 20–25 следует дать развернутый ответ. Задания выполняются на бланке ответов № 2. Запишите сначала номер задания, а затем ответ на него. Ответы записывайте чётко и разборчиво. Задание 17 экспериментальное, и для его выполнения необходимо воспользоваться лабораторным оборудованием.

При вычислениях разрешается использовать линейку и непрограммируемый калькулятор.

Все бланки заполняются яркими чёрными чернилами. Допускается использование гелевой или капиллярной ручки.

При выполнении заданий можно пользоваться черновиком. **Записи в черновике, а также в тексте контрольных измерительных материалов не учитываются при оценивании работы.**

Баллы, полученные Вами за выполненные задания, суммируются. Постарайтесь выполнить как можно больше заданий и набрать наибольшее количество баллов.

После завершения работы проверьте, чтобы ответ на каждое задание в бланках ответов № 1 и № 2 был записан под правильным номером.

Желаем успеха!

Ниже приведены справочные данные, которые могут понадобиться Вам при выполнении работы.

Десятичные приставки		
Наименование	Обозначение	Множитель
гига	Г	10^9
мега	М	10^6
кило	к	10^3
гекто	г	10^2
санти	с	10^{-2}
милли	м	10^{-3}
микро	мк	10^{-6}
нано	н	10^{-9}

Константы	
ускорение свободного падения на Земле	$g = 10 \frac{\text{м}}{\text{с}^2}$
гравитационная постоянная	$G = 6,7 \cdot 10^{-11} \frac{\text{Н} \cdot \text{м}^2}{\text{кг}^2}$
скорость света в вакууме	$c = 3 \cdot 10^8 \frac{\text{м}}{\text{с}}$
элементарный электрический заряд	$e = 1,6 \cdot 10^{-19} \text{ Кл}$

Плотность			
бензин	$710 \frac{\text{кг}}{\text{м}^3}$	древесина (сосна)	$400 \frac{\text{кг}}{\text{м}^3}$
спирт	$800 \frac{\text{кг}}{\text{м}^3}$	парафин	$900 \frac{\text{кг}}{\text{м}^3}$
керосин	$800 \frac{\text{кг}}{\text{м}^3}$	лёд	$900 \frac{\text{кг}}{\text{м}^3}$
масло машинное	$900 \frac{\text{кг}}{\text{м}^3}$	алюминий	$2700 \frac{\text{кг}}{\text{м}^3}$
вода	$1000 \frac{\text{кг}}{\text{м}^3}$	мрамор	$2700 \frac{\text{кг}}{\text{м}^3}$
молоко цельное	$1030 \frac{\text{кг}}{\text{м}^3}$	цинк	$7100 \frac{\text{кг}}{\text{м}^3}$
вода морская	$1030 \frac{\text{кг}}{\text{м}^3}$	сталь, железо	$7800 \frac{\text{кг}}{\text{м}^3}$
глицерин	$1260 \frac{\text{кг}}{\text{м}^3}$	медь	$8900 \frac{\text{кг}}{\text{м}^3}$
ртуть	$13\,600 \frac{\text{кг}}{\text{м}^3}$	свинец	$11\,350 \frac{\text{кг}}{\text{м}^3}$

Удельная			
теплоёмкость воды	$4200 \frac{\text{Дж}}{\text{кг} \cdot ^\circ\text{C}}$	теплота парообразования воды	$2,3 \cdot 10^6 \frac{\text{Дж}}{\text{кг}}$
теплоёмкость спирта	$2400 \frac{\text{Дж}}{\text{кг} \cdot ^\circ\text{C}}$	теплота парообразования спирта	$9,0 \cdot 10^5 \frac{\text{Дж}}{\text{кг}}$
теплоёмкость льда	$2100 \frac{\text{Дж}}{\text{кг} \cdot ^\circ\text{C}}$	теплота плавления свинца	$2,5 \cdot 10^4 \frac{\text{Дж}}{\text{кг}}$
теплоёмкость алюминия	$920 \frac{\text{Дж}}{\text{кг} \cdot ^\circ\text{C}}$	теплота плавления стали	$7,8 \cdot 10^4 \frac{\text{Дж}}{\text{кг}}$
теплоёмкость стали	$500 \frac{\text{Дж}}{\text{кг} \cdot ^\circ\text{C}}$	теплота плавления олова	$5,9 \cdot 10^4 \frac{\text{Дж}}{\text{кг}}$
теплоёмкость цинка	$400 \frac{\text{Дж}}{\text{кг} \cdot ^\circ\text{C}}$	теплота плавления льда	$3,3 \cdot 10^5 \frac{\text{Дж}}{\text{кг}}$
теплоёмкость меди	$400 \frac{\text{Дж}}{\text{кг} \cdot ^\circ\text{C}}$	теплота сгорания спирта	$2,9 \cdot 10^7 \frac{\text{Дж}}{\text{кг}}$
теплоёмкость олова	$230 \frac{\text{Дж}}{\text{кг} \cdot ^\circ\text{C}}$	теплота сгорания керосина	$4,6 \cdot 10^7 \frac{\text{Дж}}{\text{кг}}$
теплоёмкость свинца	$130 \frac{\text{Дж}}{\text{кг} \cdot ^\circ\text{C}}$	теплота сгорания бензина	$4,6 \cdot 10^7 \frac{\text{Дж}}{\text{кг}}$
теплоёмкость бронзы	$420 \frac{\text{Дж}}{\text{кг} \cdot ^\circ\text{C}}$		

Температура плавления		Температура кипения	
свинца	327 °C	воды	100 °C
олова	232 °C	спирта	78 °C
льда	0 °C		

Удельное электрическое сопротивление, $\frac{\text{Ом} \cdot \text{мм}^2}{\text{м}}$ (при 20 °C)			
серебро	0,016	никелин	0,4
медь	0,017	нихром (сплав)	1,1
алюминий	0,028	фехраль	1,2
железо	0,10		

Нормальные условия: давление 10^5 Па, температура 0 °C



Ответом к заданиям 1, 2, 4, 11–14, 16, 18 и 19 является последовательность цифр. Последовательность цифр записывайте без пробелов, запятых и других дополнительных символов. Ответом к заданиям 3 и 15 является одна цифра, которая соответствует номеру правильного ответа. Ответом к заданиям 5–10 является число. Единицы измерения в ответе указывать не надо. Ответ запишите в поле ответа в тексте работы, а затем перенесите в БЛАНК ОТВЕТОВ № 1 справа от номера соответствующего задания, начиная с первой клеточки. Каждый символ пишите в отдельной клеточке в соответствии с приведёнными в бланке образцами. Ответы на задания 17, 20–25 запишите на БЛАНКЕ ОТВЕТОВ № 2.

1 Установите соответствие между физическими величинами и единицами величин в Международной системе единиц (СИ). К каждой позиции первого столбца подберите соответствующую позицию из второго столбца и запишите в таблицу выбранные цифры под соответствующими буквами. Цифры в ответе могут повторяться.

ФИЗИЧЕСКИЕ ВЕЛИЧИНЫ

- А) внутренняя энергия
- Б) удельная теплота плавления
- В) количество теплоты

ЕДИНИЦЫ

- 1) джоуль (1 Дж)
- 2) джоуль на килограмм ($1 \frac{\text{Дж}}{\text{кг}}$)
- 3) джоуль на килограмм – градус Цельсия ($1 \frac{\text{Дж}}{\text{кг} \cdot ^\circ\text{C}}$)
- 4) джоуль на градус Цельсия ($1 \frac{\text{Дж}}{^\circ\text{C}}$)
- 5) джоуль – килограмм (1 Дж·кг)

Ответ:

А	Б	В

2 Установите соответствие между формулами для расчёта физических величин и названиями этих величин. В формулах использованы обозначения: m – масса; λ – удельная теплота плавления; L – удельная теплота парообразования вещества. К каждой позиции первого столбца подберите соответствующую позицию из второго столбца и запишите в таблицу выбранные цифры под соответствующими буквами.

ФОРМУЛЫ

- А) λm
- Б) Lm


ФИЗИЧЕСКИЕ ВЕЛИЧИНЫ

- 1) количество теплоты, выделяющееся при кристаллизации вещества
- 2) количество теплоты, выделяющееся при плавлении вещества
- 3) количество теплоты, выделяющееся при кипении вещества
- 4) количество теплоты, выделяющееся при конденсации вещества

Ответ:

А	Б

3 Возьмём два стакана. Прогреем оба стакана и обернём один из них смоченной в горячей воде бумагой. Заполнив оба стакана этой же горячей водой, мы обнаружим, что вода в стакане, обернутом мокрой бумагой, охлаждается быстрее (см. рисунок). Какое явление объясняет этот факт?



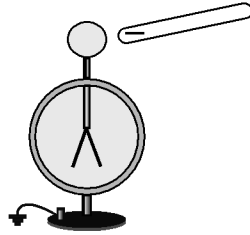
- 1) испарение воды с поверхности бумаги
- 2) конденсация испарившейся воды на поверхности бумаги
- 3) испарение воды из стаканов
- 4) кипение горячей воды

Ответ:



4 Прочитайте текст и вставьте на места пропусков слова (словосочетания) из приведённого списка.

Отрицательно заряженную стеклянную палочку поднесли, не касаясь, к шару незаряженного электроскопа (см. рисунок).



При этом наблюдается явление (А)_____. Шар со стороны поднесённой палочки приобрёл избыточный (Б)_____ заряд. Шар и стержень электроскопа являются (В)_____. Свободные электроны с шара перешли на лепестки, в результате лепестки получили (Г)_____ заряд и разошлись на некоторый угол.

Список слов и словосочетаний:

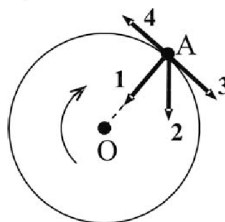
- 1) проводники
- 2) диэлектрики
- 3) электризация трением
- 4) электризация через влияние
- 5) нейтральный
- 6) положительный
- 7) одноимённый
- 8) разноимённый

Запишите в таблицу выбранные цифры под соответствующими буквами.

А	Б	В	Г

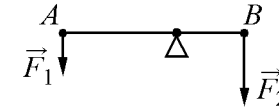
Ответ:

5 В инерциальной системе отсчёта тело равномерно движется по окружности по часовой стрелке (см. рисунок). Какой из изображённых векторов совпадает по направлению с равнодействующей сил, приложенных к телу в точке А?



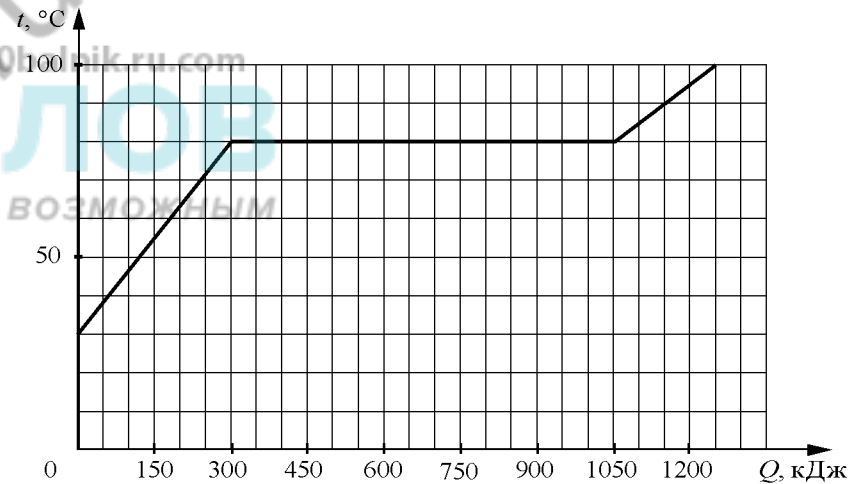
Ответ: _____.

6 Лёгкий рычаг находится в равновесии под действием двух сил. Сила $F_2 = 6$ Н. Чему равна сила F_1 , если плечо силы F_1 равно 25 см, а плечо силы F_2 равно 15 см?



Ответ: _____ Н.

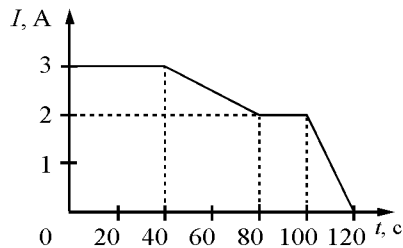
7 По результатам нагревания тела массой 5 кг, первоначально находившегося в кристаллическом состоянии, построен график зависимости температуры этого тела от полученного им количества теплоты. Считая, что потерями энергии можно пренебречь, определите удельную теплоту плавления вещества.



Ответ: _____ кДж/кг.



8 На рисунке представлен график зависимости силы электрического тока I , текущего по проводнику, от времени t .



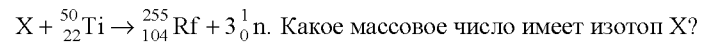
Чему равен модуль заряда, прошедшего через поперечное сечение проводника в интервале времени от 80 до 100 с?

Ответ: _____ Кл.

9 Луч света падает на плоское зеркало. Угол между падающим и отражённым лучами равен 90° . Чему равен угол падения?

Ответ: _____ градусов.

10 Элемент резерфордий можно получить при бомбардировке ядер изотопа X ядрами изотопа титана ${}_{22}^{50}\text{Ti}$ в соответствии с реакцией



Ответ: _____.

11 Космический корабль, движущийся по круговой орбите вокруг Земли, сместился на другую круговую орбиту, меньшего радиуса. Как изменились в результате этого перехода модуль скорости корабля и период его обращения вокруг Земли?

Для каждой величины определите соответствующий характер изменения:

- 1) увеличилась
- 2) уменьшилась
- 3) не изменилась

Запишите в таблицу выбранные цифры для каждой физической величины. Цифры в ответе могут повторяться.

Модуль скорости корабля	Период обращения корабля вокруг Земли

12 На кухне включена микроволновая печь. Как изменится общая сила тока в электрической цепи, а также общая потребляемая электрическая мощность, если дополнительно в электрическую сеть включить электрический чайник?

Для каждой величины определите соответствующий характер изменения:

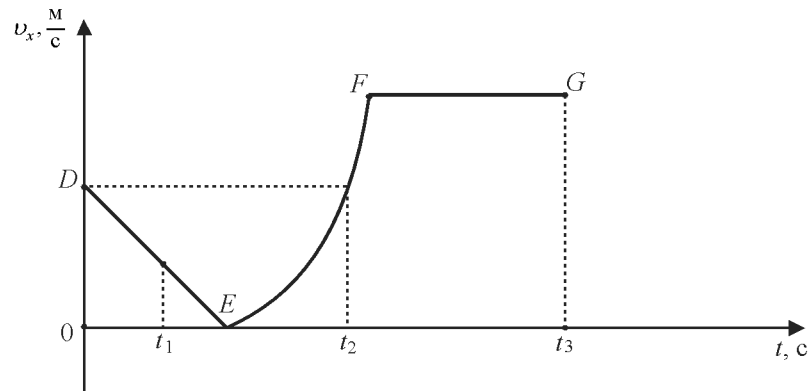
- 1) увеличится
- 2) уменьшится
- 3) не изменится

Запишите в таблицу выбранные цифры для каждой физической величины. Цифры в ответе могут повторяться.

Общая сила тока в цепи	Общая потребляемая электрическая мощность



- 13 На рисунке представлен график зависимости проекции скорости v_x от времени t для тела, движущегося вдоль оси Ox .



Используя данные графика, выберите из предложенного перечня **два** верных утверждения. Укажите их номера.

- 1) Участок DE соответствует неравномерному движению тела.
- 2) Участок FG соответствует состоянию покоя тела.
- 3) В момент времени t_1 тело двигалось по направлению оси Ox .
- 4) Момент времени t_3 соответствует остановке тела.
- 5) В интервале времени от t_1 до t_2 тело изменило направление своего движения.

Ответ:

- 14 В справочнике физических свойств различных материалов представлена следующая таблица.

Вещество	Плотность в твёрдом состоянии, $\frac{\text{г}}{\text{см}^3}$	Удельное электрическое сопротивление (при 20 °С), $\frac{\text{Ом} \cdot \text{мм}^2}{\text{м}}$
Алюминий	2,7	0,028
Железо	7,8	0,1
Константан (сплав)	8,8	0,5
Латунь	8,4	0,07
Медь	8,9	0,017
Никелин (сплав)	8,8	0,4
Нихром (сплав)	8,4	1,1
Серебро	10,5	0,016

Используя данные таблицы, выберите из предложенного перечня **два** верных утверждения. Укажите их номера.

- 1) При равных размерах проводник из латуни имеет большую массу и меньшее электрическое сопротивление по сравнению с проводником из меди.
- 2) Проводники из константана и никелина при одинаковых размерах имеют одинаковые электрические сопротивления.
- 3) При равных размерах проводник из серебра имеет наибольшее электрическое сопротивление.
- 4) При замене спирали электроплитки с никелиновой на нихромовую такого же размера электрическое сопротивление спирали увеличится.
- 5) При последовательном включении проводников из железа и никелина, имеющих одинаковые размеры, потребляемая мощность у никелина в 4 раза больше, чем у железа.

Ответ:



- 15 На рисунках представлены изображения фрагментов двух линеек. Цена деления линеек равна соответственно



Рис. 1

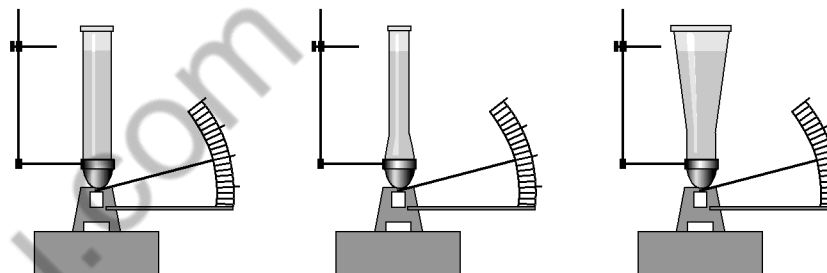


Рис. 2

- 1) 100 см и 10 мм
- 2) 10 см и 1 мм
- 3) 10 см и 1 см
- 4) 100 мм и 10 мм

Ответ:

- 16 Учитель провёл опыты с прибором, предложенным Паскалем. В сосуды, дно которых имеет одинаковую площадь и затянута одинаковой резиновой плёнкой, наливается жидкость. Дно сосудов при этом прогибается, и его движение передаётся стрелке. Отклонение стрелки характеризует силу, с которой жидкость давит на дно сосуда. Условия проведения опытов и наблюдаемые показания прибора представлены на рисунке.



Опыты 1–3.

100balnik.ru.com В сосуды разной формы наливают воду, причём высота столба жидкости во всех опытах одинакова

100-БАЛНИК.РУ.COM
100balnik.ru.com
Делаем невозможное возможным
Выберите из предложенного перечня **два** утверждения, которые соответствуют результатам проведённых экспериментальных наблюдений. Укажите их номера.

- 1) При увеличении высоты столба жидкости сила давления на дно сосуда увеличивается.
- 2) Сила давления жидкости на дно сосуда зависит от площади дна сосуда.
- 3) Сила давления жидкости на дно сосуда не зависит от формы сосуда.
- 4) Сила давления жидкости на дно сосуда зависит от плотности жидкости.
- 5) Сила давления воды на дно сосудов во всех трёх опытах одинакова.

Ответ:



Прочитайте текст и выполните задания 19 и 20.

Для ответа на задание 17 используйте БЛАНК ОТВЕТОВ № 2. Запишите сначала номер задания, а затем ответ к нему.

- 17) Используя брусок с крючком, динамометр № 2, грузы № 1, № 2 и № 3, направляющую рейку, соберите экспериментальную установку для измерения работы силы трения скольжения между бруском с тремя грузами и поверхностью рейки при перемещении бруска на расстояние 17 см. Используйте поверхность рейки, обозначенную Б. Абсолютная погрешность измерения силы равна $\pm 0,1$ Н, абсолютная погрешность измерения расстояния равна $\pm 0,2$ см.

В бланке ответов № 2:

- 1) сделайте рисунок экспериментальной установки;
- 2) запишите формулу для расчёта работы силы трения скольжения;
- 3) укажите результаты измерения модуля перемещения бруска с грузами и силы трения скольжения при движении каретки с грузами по поверхности рейки с учётом абсолютных погрешностей измерения;
- 4) запишите значение работы силы трения скольжения.

- 18) Установите соответствие между научными открытиями и именами учёных, которым эти открытия принадлежат. К каждой позиции первого столбца подберите соответствующую позицию из второго столбца.

НАУЧНЫЕ ОТКРЫТИЯ

- А) опыты с магдебургскими полушариями
 Б) опыты по изучению плавания тел

УЧЁНЫЕ

- 1) Г. Галилей
- 2) О. фон Герике
- 3) Архимед
- 4) Б. Паскаль

Ответ:

А	Б

Зелёный луч

Рефракция света в атмосфере – оптическое явление, вызываемое преломлением световых лучей в атмосфере и проявляющееся в кажущемся смещении удалённых объектов. Вследствие того, что атмосфера является средой оптически неоднородной (с высотой меняется температура, плотность, состав воздуха), лучи света распространяются в ней не прямолинейно, а по некоторой кривой линии. Наблюдатель видит объекты не в направлении их действительного положения, а вдоль касательной к траектории луча в точке наблюдения (см. рисунок 1).



Рисунок 1. Криволинейное распространение светового луча в атмосфере (сплошная линия) и кажущееся смещение объекта (пунктирная линия)

Показатель преломления зависит не только от свойств воздушных слоёв атмосферы, но и от длины световой волны (дисперсия света). Поэтому рефракция в атмосфере сопровождается разложением светового луча в спектр. Чем меньше длина волны светового луча, тем более сильную рефракцию он испытывает. Например, фиолетовые лучи преломляются сильнее, чем зелёные, а зелёные – сильнее, чем красные. Поэтому чем меньше длина волны луча, тем сильнее будет видимое смещение за счёт рефракции. В результате верхняя каёмка диска Солнца на восходе и закате может оказаться сине-зелёной, нижняя – оранжево-красной (рисунок 2).

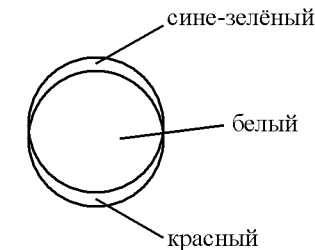


Рисунок 2. Пояснение к появлению зелёного луча



Дисперсия солнечных лучей в наиболее явном виде проявляется в самый последний момент захода Солнца. Когда Солнце уходит за горизонт, последним лучом мы должны были бы увидеть фиолетовый. Однако самые коротковолновые лучи – фиолетовые, синие, голубые – на долгом пути в атмосфере (когда Солнце уже у горизонта) настолько сильно рассеиваются, что не доходят до земной поверхности. Кроме того, к лучам этой части спектра менее чувствительны глаза человека. Поэтому последний луч заходящего Солнца оказывается яркого изумрудного цвета. Это явление и получило название «зелёный луч».

Зелёный луч может наблюдаться при очень прозрачном воздухе, чаще всего на морском горизонте. Если Солнце имеет на закате красный цвет и на него легко смотреть невооружённым глазом, то зелёного луча не будет, поскольку красный цвет солнечного диска указывает на сильное рассеяние атмосферой как синих, так и зелёных лучей.

19 Выберите два верных утверждения, которые соответствуют содержанию текста. Запишите в ответ их номера.

- 1) Криволинейное распространение света при прохождении атмосферы объясняется преломлением света в неоднородных по плотности слоях атмосферы.
- 2) Возможность увидеть зелёный луч в момент захода Солнца связана как с дисперсией, так и с рассеянием солнечных лучей.
- 3) Чем меньше частота световой волны, тем более сильную рефракцию она испытывает.
- 4) Наблюдаемое положение звёзд на ночном небе ниже их действительного положения.
- 5) Явление «зелёного луча» можно наблюдать только при восходе Солнца.

Ответ:

--	--

Для ответов на задания 20–25 используйте БЛАНК ОТВЕТОВ № 2. Запишите сначала номер задания (20, 21 и т.д.), а затем ответ на него. Полный ответ на задания 20, 21 и 22 должен содержать не только ответ на вопрос, но и его развёрнутое, логически связанное обоснование.

20 В ясную погоду наблюдают цвет Луны при её разных положениях: высоко над горизонтом и вблизи горизонта. В каком случае цвет Луны приобретает красный оттенок? Ответ поясните.

21 Один из двух одинаковых сплошных деревянных брусков плавает в пресной воде, другой – в солёной воде. Сравните выталкивающие силы, действующие на бруски. Ответ поясните.

22

Зимой на улице металл на ощупь холоднее дерева. Каким будет казаться на ощупь металл по сравнению с деревом на солнце в летнюю жару? Ответ поясните.

Для заданий 23–25 необходимо записать полное решение, включающее запись краткого условия задачи (Дано), запись формул, применение которых необходимо и достаточно для решения задачи, а также математические преобразования и расчёты, приводящие к числовому ответу.

23

4 кг воды, взятой при температуре 70 °С, смешали с водой, температура которой 30 °С. Определите массу более холодной воды, если известно, что установившаяся в смеси температура равна 40 °С. Теплообменом с сосудом пренебречь.

24

Металлический шар массой $m_1 = 2$ кг упал на свинцовую пластину массой $m_2 = 1$ кг и остановился. При этом пластина нагрелась на 3,2 °С. С какой высоты упал шар, если на нагревание пластины пошло 80% выделившегося при ударе количества теплоты? Начальная скорость шара равна нулю.

25

Найдите силу тяги, которую развивает при скорости $12 \frac{\text{м}}{\text{с}}$ электровоз, работающий при напряжении 3 кВ и потребляющий ток 1,6 кА. КПД двигателя электровоза равен 85%.



Не забудьте перенести все ответы в бланки ответов № 1 и № 2 в соответствии с инструкцией по выполнению работы. Проверьте, чтобы каждый ответ был записан рядом с номером соответствующего задания.

Номер комплекта оборудования, используемого при
проведении экзамена по ФИЗИКЕ

№ КИМ	№ комплекта оборудования	№ места участника (заполняется вручную)
	2	

100balnik.ru.com
100 БАЛЛОВ
Делаем невозможное возможным

НОМЕР КИМ**Инструкция по выполнению работы**

На выполнение экзаменационной работы по физике отводится 3 часа (180 минут). Экзаменационная работа включает в себя 25 заданий.

Ответы к заданиям 1, 2, 4, 11–14, 16, 18 и 19 записываются в виде последовательности цифр. Ответом к заданиям 3 и 15 является одна цифра, которая соответствует номеру правильного ответа. Ответы к заданиям 5–10 записываются в виде целого числа или конечной десятичной дроби с учётом указанных в ответе единиц. Ответ запишите в поле ответа в тексте работы, а затем перенесите в бланк ответов № 1. Единицы измерения в ответе указывать не надо.

К заданиям 17, 20–25 следует дать развернутый ответ. Задания выполняются на бланке ответов № 2. Запишите сначала номер задания, а затем ответ на него. Ответы записывайте чётко и разборчиво. Задание 17 экспериментальное, и для его выполнения необходимо воспользоваться лабораторным оборудованием.

При вычислениях разрешается использовать линейку и непрограммируемый калькулятор.

Все бланки заполняются яркими чёрными чернилами. Допускается использование гелевой или капиллярной ручки.

При выполнении заданий можно пользоваться черновиком. **Записи в черновике, а также в тексте контрольных измерительных материалов не учитываются при оценивании работы.**

Баллы, полученные Вами за выполненные задания, суммируются. Постарайтесь выполнить как можно больше заданий и набрать наибольшее количество баллов.

После завершения работы проверьте, чтобы ответ на каждое задание в бланках ответов № 1 и № 2 был записан под правильным номером.

Желаем успеха!

Ниже приведены справочные данные, которые могут понадобиться Вам при выполнении работы.

Десятичные приставки		
Наименование	Обозначение	Множитель
гига	Г	10^9
мега	М	10^6
кило	к	10^3
гекто	г	10^2
санти	с	10^{-2}
милли	м	10^{-3}
микро	мк	10^{-6}
нано	н	10^{-9}

Константы	
ускорение свободного падения на Земле	$g = 10 \frac{\text{м}}{\text{с}^2}$
гравитационная постоянная	$G = 6,7 \cdot 10^{-11} \frac{\text{Н} \cdot \text{м}^2}{\text{кг}^2}$
скорость света в вакууме	$c = 3 \cdot 10^8 \frac{\text{м}}{\text{с}}$
элементарный электрический заряд	$e = 1,6 \cdot 10^{-19} \text{ Кл}$

Плотность			
бензин	$710 \frac{\text{кг}}{\text{м}^3}$	древесина (сосна)	$400 \frac{\text{кг}}{\text{м}^3}$
спирт	$800 \frac{\text{кг}}{\text{м}^3}$	парафин	$900 \frac{\text{кг}}{\text{м}^3}$
керосин	$800 \frac{\text{кг}}{\text{м}^3}$	лёд	$900 \frac{\text{кг}}{\text{м}^3}$
масло машинное	$900 \frac{\text{кг}}{\text{м}^3}$	алюминий	$2700 \frac{\text{кг}}{\text{м}^3}$
вода	$1000 \frac{\text{кг}}{\text{м}^3}$	мрамор	$2700 \frac{\text{кг}}{\text{м}^3}$
молоко цельное	$1030 \frac{\text{кг}}{\text{м}^3}$	цинк	$7100 \frac{\text{кг}}{\text{м}^3}$
вода морская	$1030 \frac{\text{кг}}{\text{м}^3}$	сталь, железо	$7800 \frac{\text{кг}}{\text{м}^3}$
глицерин	$1260 \frac{\text{кг}}{\text{м}^3}$	медь	$8900 \frac{\text{кг}}{\text{м}^3}$
ртуть	$13\,600 \frac{\text{кг}}{\text{м}^3}$	свинец	$11\,350 \frac{\text{кг}}{\text{м}^3}$

Удельная			
теплоёмкость воды	$4200 \frac{\text{Дж}}{\text{кг} \cdot ^\circ\text{C}}$	теплота парообразования воды	$2,3 \cdot 10^6 \frac{\text{Дж}}{\text{кг}}$
теплоёмкость спирта	$2400 \frac{\text{Дж}}{\text{кг} \cdot ^\circ\text{C}}$	теплота парообразования спирта	$9,0 \cdot 10^5 \frac{\text{Дж}}{\text{кг}}$
теплоёмкость льда	$2100 \frac{\text{Дж}}{\text{кг} \cdot ^\circ\text{C}}$	теплота плавления свинца	$2,5 \cdot 10^4 \frac{\text{Дж}}{\text{кг}}$
теплоёмкость алюминия	$920 \frac{\text{Дж}}{\text{кг} \cdot ^\circ\text{C}}$	теплота плавления стали	$7,8 \cdot 10^4 \frac{\text{Дж}}{\text{кг}}$
теплоёмкость стали	$500 \frac{\text{Дж}}{\text{кг} \cdot ^\circ\text{C}}$	теплота плавления олова	$5,9 \cdot 10^4 \frac{\text{Дж}}{\text{кг}}$
теплоёмкость цинка	$400 \frac{\text{Дж}}{\text{кг} \cdot ^\circ\text{C}}$	теплота плавления льда	$3,3 \cdot 10^5 \frac{\text{Дж}}{\text{кг}}$
теплоёмкость меди	$400 \frac{\text{Дж}}{\text{кг} \cdot ^\circ\text{C}}$	теплота сгорания спирта	$2,9 \cdot 10^7 \frac{\text{Дж}}{\text{кг}}$
теплоёмкость олова	$230 \frac{\text{Дж}}{\text{кг} \cdot ^\circ\text{C}}$	теплота сгорания керосина	$4,6 \cdot 10^7 \frac{\text{Дж}}{\text{кг}}$
теплоёмкость свинца	$130 \frac{\text{Дж}}{\text{кг} \cdot ^\circ\text{C}}$	теплота сгорания бензина	$4,6 \cdot 10^7 \frac{\text{Дж}}{\text{кг}}$
теплоёмкость бронзы	$420 \frac{\text{Дж}}{\text{кг} \cdot ^\circ\text{C}}$		

Температура плавления		Температура кипения	
свинца	327 °С	воды	100 °С
олова	232 °С	спирта	78 °С
льда	0 °С		

Удельное электрическое сопротивление, $\frac{\text{Ом} \cdot \text{мм}^2}{\text{м}}$ (при 20 °С)			
серебро	0,016	никелин	0,4
медь	0,017	нихром (сплав)	1,1
алюминий	0,028	фехраль	1,2
железо	0,10		

Нормальные условия: давление 10^5 Па, температура 0 °С



Ответом к заданиям 1, 2, 4, 11–14, 16, 18 и 19 является последовательность цифр. Последовательность цифр записывайте без пробелов, запятых и других дополнительных символов. Ответом к заданиям 3 и 15 является одна цифра, которая соответствует номеру правильного ответа. Ответом к заданиям 5–10 является число. Единицы измерения в ответе указывать не надо. Ответ запишите в поле ответа в тексте работы, а затем перенесите в БЛАНК ОТВЕТОВ № 1 справа от номера соответствующего задания, начиная с первой клеточки. Каждый символ пишите в отдельной клеточке в соответствии с приведёнными в бланке образцами. Ответы на задания 17, 20–25 запишите на БЛАНКЕ ОТВЕТОВ № 2.

1 Установите соответствие между физическими понятиями и примерами. К каждой позиции первого столбца подберите соответствующую позицию из второго столбца и запишите в таблицу выбранные цифры под соответствующими буквами.

ФИЗИЧЕСКИЕ ПОНЯТИЯ

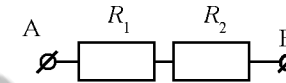
ПРИМЕРЫ

- | | |
|--------------------------------------|--|
| А) физическая величина | 1) распространение запаха одеколона в классной комнате |
| Б) физическое явление | 2) система отсчёта |
| В) физический закон (закономерность) | 3) температура |
| | 4) мензурка |
| | 5) увеличение давления газа в закрытом сосуде при нагревании |

Ответ:

А	Б	В

2 Установите соответствие между формулами для расчёта физических величин для случая протекания тока по участку цепи (см. рисунок) и названиями этих величин.



В формулах использованы обозначения: I – сила тока на участке АВ цепи; R_1 и R_2 – сопротивления резисторов; t – время.

К каждой позиции первого столбца подберите соответствующую позицию из второго столбца и запишите в таблицу выбранные цифры под соответствующими буквами.

ФОРМУЛЫ

ФИЗИЧЕСКИЕ ВЕЛИЧИНЫ

- | | |
|----------------|--|
| А) $I^2 R_2 t$ | 1) мощность электрического тока, выделяющаяся на резисторе R_1 |
| Б) $I^2 R_1$ | 2) мощность электрического тока, выделяющаяся на резисторе R_2 |
| | 3) работа электрического тока на резисторе R_1 |
| | 4) работа электрического тока на резисторе R_2 |

Ответ:

А	Б

3 Любой водоём, дно которого хорошо видно, всегда кажется мельче, чем в действительности. Какое физическое явление объясняет это?

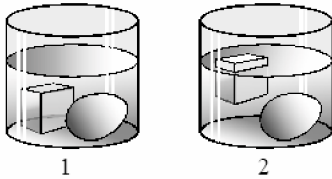
- 1) рассеяние света
- 2) дисперсия света
- 3) поглощение света
- 4) преломление света

Ответ:



4 Прочитайте текст и вставьте на места пропусков слова (словосочетания) из приведённого списка.

Сплошной кубик из льда и сырое яйцо последовательно опускают в жидкость 1 и жидкость 2 (см. рисунок).



На кубик и яйцо со стороны жидкостей действует (А)_____.
 Для кубика в жидкости 2 выталкивающая сила (Б)_____ силу тяжести. Плотность жидкости 2 (В)_____ плотности жидкости 1 и (Г)_____ средней плотности яйца.

Список слов и словосочетаний:

- 1) сила тяжести
- 2) архимедова сила
- 3) атмосферное давление
- 4) больше
- 5) меньше
- 6) уравнивает
- 7) превышает

Запишите в таблицу выбранные цифры под соответствующими буквами.

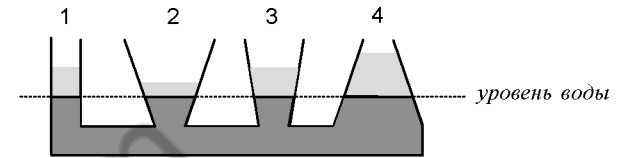
А	Б	В	Г

Ответ:

5 Время свободного падения камня из состояния покоя равно 2 с. Какое расстояние пролетел камень за это время? Сопротивлением движению пренебречь

Ответ: _____ м.

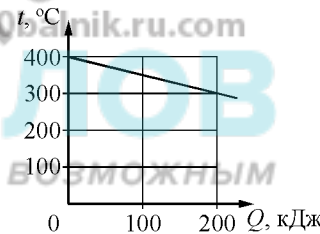
6 В сообщающиеся сосуды поверх предварительно налитой воды налили дополнительно четыре различные жидкости, не смешивающиеся с водой (см. рисунок). При этом уровень воды в сосудах остался одинаковым.



Какая жидкость имеет наибольшую плотность?

Ответ: _____.

7 На рисунке представлен график зависимости температуры t твёрдого тела от отданного им количества теплоты Q . Чему равна масса охлаждаемого тела, если известно, что его удельная теплоёмкость равна $500 \frac{\text{Дж}}{\text{кг} \cdot ^\circ\text{C}}$?



Ответ: _____ кг.

8 Результаты измерения силы тока в резисторе при разных напряжениях на его клеммах показаны в таблице.

$U, \text{В}$	0,4	0,6	1,0	1,4	2,0
$I, \text{А}$	0,2	0,3	0,5	0,7	1,0

Чему равно сопротивление резистора?

Ответ: _____ Ом.



9 Электрическая плита за 3 мин. работы потребляет энергию, равную 900 кДж. Сила тока, протекающего через спираль плиты, равна 5 А. Чему равно сопротивление спирали плиты?

Ответ: _____ Ом.

10 Сколько протонов содержит ядро изотопа неона ${}^{24}_{10}\text{Ne}$?

Ответ: _____.

11 Мяч, катящийся по ровному горизонтальному футбольному полю, останавливается из-за трения. Как при этом изменяются кинетическая энергия и внутренняя энергия мяча?

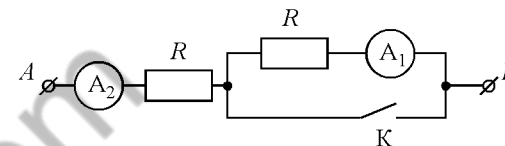
Для каждой величины определите соответствующий характер изменения:

- 1) увеличивается
- 2) уменьшается
- 3) не изменяется

Запишите в таблицу выбранные цифры для каждой физической величины. Цифры в ответе могут повторяться.

Кинетическая энергия мяча	Внутренняя энергия мяча

12 На рисунке изображён участок электрической цепи, состоящий из резисторов сопротивлением R , подключённых к ним амперметров A_1 и A_2 и ключа K . Определите, как изменятся при замыкании ключа K общее сопротивление цепи и показания амперметра A_1 , если напряжение на участке AB остаётся неизменным.



Для каждой величины определите соответствующий характер изменения:

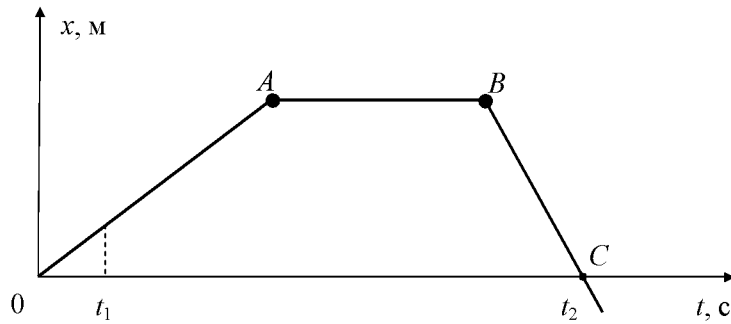
- 1) увеличится
- 2) уменьшится
- 3) не изменится

Запишите в таблицу выбранные цифры для каждой физической величины. Цифры в ответе могут повторяться.

Общее сопротивление цепи	Показания амперметра A_1



- 13 На рисунке представлен график зависимости координаты x от времени t для тела, движущегося вдоль оси Ox .



Используя данные графика, выберите из предложенного перечня **два** верных утверждения. Укажите их номера.

- 1) Участок BC соответствует ускоренному движению тела.
- 2) Участок OA соответствует равномерному движению тела.
- 3) В момент времени t_1 тело имело максимальную по модулю скорость.
- 4) В момент времени t_2 тело изменило направление своего движения.
- 5) Участок AB соответствует состоянию покоя тела.

Ответ:

- 14 На рисунке представлен фрагмент Периодической системы химических элементов Д.И. Менделеева.


79 Au Золото	80 Hg Ртуть	81 Tl Таллий	82 Pb Свинец	83 Bi Висмут	84 Po Полоний	85 At Астат	86 Rn Радон
197	200,61	204,37	207,19	209	[210]	[210]	[222]

Используя таблицу, из предложенного перечня выберите **два** верных утверждения. Укажите их номера.

- 1) В результате альфа-распада ядра свинца-185 образуется ядро полония.
- 2) Положительный ион золота содержит 80 протонов.
- 3) В результате бета-распада ядра таллия образуется ядро свинца.
- 4) Нейтральный атом золота содержит 197 электронов.
- 5) Ядро золота-200 содержит 79 протонов.

Ответ:

- 15 На границе воздух-стекло световой луч частично отражается, частично преломляется (см. рисунок).



Угол отражения равен примерно

- 1) 85°
- 2) 60°
- 3) 30°
- 4) 20°

Ответ:



16 Ученик провёл эксперимент по изучению силы упругости, возникающей при подвешивании грузов различной массы к резиновым шнурам разных длины и толщины.

Результаты экспериментальных прямых измерений массы m груза, диаметра поперечного сечения d шнура, его первоначальной длины l_0 и удлинения $(l-l_0)$, а также косвенных измерений коэффициента жёсткости k представлены в таблице.

№ опыта	m , кг	d , мм	l_0 , см	$(l-l_0)$, см	k , $\frac{H}{M}$
1	0,5	3	50	5,0	100
2	0,5	5	100	3,6	140
3	0,5	3	100	10,0	50
4	1,0	3	50	10,0	100

Выберите из предложенного перечня **два** утверждения, которые соответствуют результатам проведённых измерений. Укажите их номера.

- 1) Жёсткость шнура зависит от силы упругости.
- 2) Удлинение шнура зависит от его первоначальной длины.
- 3) При увеличении длины шнура его жёсткость увеличивается.
- 4) При увеличении толщины шнура его жёсткость увеличивается.
- 5) Удлинение шнура зависит от упругих свойств материала, из которого изготовлен исследуемый образец.

Ответ:

--	--

Для ответа на задание 17 используйте БЛАНК ОТВЕТОВ № 2. Запишите сначала номер задания, а затем ответ к нему.

17 Используя брусок с крючком, динамометр № 2, грузы № 1 и № 2, направляющую рейку, соберите экспериментальную установку для измерения работы силы трения скольжения между бруском с тремя грузами и поверхностью рейки при перемещении бруска на расстояние 12 см. Используйте поверхность рейки, обозначенную Б. Абсолютная погрешность измерения силы равна $\pm 0,1$ Н, абсолютная погрешность измерения расстояния равна $\pm 0,2$ см.

В бланке ответов № 2:

- 1) сделайте рисунок экспериментальной установки;
- 2) запишите формулу для расчёта работы силы трения скольжения;
- 3) укажите результаты измерения модуля перемещения бруска с грузами и силы трения скольжения при движении каретки с грузами по поверхности рейки с учётом абсолютных погрешностей измерения;
- 4) запишите значение работы силы трения скольжения.

18 Установите соответствие между техническими устройствами и физическими закономерностями, лежащими в основе принципа их действия. К каждой позиции первого столбца подберите соответствующую позицию из второго столбца и запишите в таблицу выбранные цифры под соответствующими буквами.

ТЕХНИЧЕСКИЕ УСТРОЙСТВА	ФИЗИЧЕСКИЕ ЗАКОНОМЕРНОСТИ
А) барометр-анероид Б) психрометр	1) уменьшение температуры жидкости при её испарении 2) зависимость объёма жидкости от температуры 3) зависимость гидростатического давления от высоты столба жидкости 4) зависимость деформации от действующей силы

Ответ:


А	Б



Прочитайте текст и выполните задания 19 и 20.

Слух дельфинов

Среди всех систем организма дельфина одна из самых интересных – слуховая. Основные сведения об окружающей обстановке дельфин получает с помощью слуха. При этом он использует эхолокацию: анализирует эхо, возникающее при отражении издаваемых им звуков от окружающих предметов. Эхо даёт точные сведения не только о положении предметов, но и об их величине, форме, материале, т.е. позволяет дельфину создать картину окружающего мира не хуже или даже лучше, чем с помощью зрения. Дельфины воспринимают акустические колебания, частоты которых почти в 10 раз более высокие, чем может воспринять человек (см. рисунок). Они способны слышать звуки, мощность которых в 10–30 раз ниже доступных слуху человека.



Диапазоны звуковых частот, воспринимаемых различными животными и человеком

Ультразвуковые сигналы, посылаемые дельфином, представляют собой последовательность коротких импульсов (щелчков), имеющих длительность порядка 0,01–0,1 мс.

Для того, чтобы сигнал был отражён препятствием, минимальный линейный размер этого препятствия должен быть не меньше длины волны посылаемого звука. Использование ультразвука позволяет обнаружить предметы меньших размеров, чем можно было бы обнаружить, используя более низкие звуковые частоты. Кроме того, использование ультразвуковых сигналов связано с тем, что ультразвуковая волна имеет острую направленность излучения, что очень важно для эхолокации, и намного медленнее затухает при распространении в воде.

Дельфин также способен воспринимать очень слабые отражённые сигналы звуковой частоты. Например, он прекрасно замечает маленькую рыбку, появившуюся сбоку на расстоянии 50 м.

Можно сказать, что дельфин обладает двумя типами слуха: он может направленно, вперёд, посылать и принимать ультразвуковой сигнал и может воспринимать обычные звуки, приходящие со всех сторон.

Для принятия остро направленных ультразвуковых сигналов у дельфина имеется вытянутая вперёд нижняя челюсть, по которой волны эхо-сигнала поступают к уху. А для принятия звуковых волн относительно низких частот, от 1 кГц до 10 кГц, по бокам головы дельфина, где когда-то у далеких предков дельфинов, живших на суше, были обыкновенные уши, имеются наружные слуховые отверстия, которые почти заросли, однако звуки они пропускают прекрасно.

19 Выберите два верных утверждения, которые соответствуют содержанию текста. Запишите в ответ их номера.

- 1) Длительность ультразвуковых импульсов, посылаемых дельфинами, не превышает 10^{-5} с.
- 2) Для эхолокации дельфин использует радиоволны широкого диапазона частот.
- 3) Дельфины используют инфразвук для общения.
- 4) У дельфина более широкий диапазон воспринимаемых звуковых частот по сравнению с летучими мышами.
- 5) Умение великолепно ориентироваться в пространстве связано у дельфинов с их способностью излучать и принимать звуковые и ультразвуковые волны.

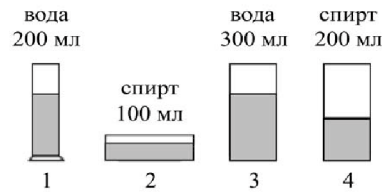
Ответ:

Для ответов на задания 20–25 используйте БЛАНК ОТВЕТОВ № 2. Запишите сначала номер задания (20, 21 и т.д.), а затем ответ на него. Полный ответ на задания 20, 21 и 22 должен содержать не только ответ на вопрос, но и его развёрнутое, логически связанное обоснование.

20 Может ли дельфин, используя сигнал частотой 100 кГц, обнаружить проплывающую впереди маленькую рыбку размером 5 см? Скорость звука в воде принять равной $1500 \frac{\text{м}}{\text{с}}$. Ответ поясните.



- 21 Для исследования процесса испарения жидкостей при комнатной температуре в различные сосуды цилиндрической формы, находящиеся в одном помещении при одинаковых условиях, налили спирт или воду различного объёма (см. рисунок). Далее измеряли время испарения жидкости из каждого сосуда.



Спирт из сосуда 2 испарился быстрее, чем из сосуда 4. Можно на основании этого наблюдения сделать вывод, что скорость испарения жидкости зависит от площади поверхности испарения? Ответ поясните.

- 22 На белом листе бумаги зелёным карандашом Кирилл нарисовал автомобиль. Что он увидит, рассматривая листок через красный фильтр? Ответ поясните.

Для заданий 23–25 необходимо записать полное решение, включающее запись краткого условия задачи (Дано), запись формул, применение которых необходимо и достаточно для решения задачи, а также математические преобразования и расчёты, приводящие к числовому ответу.

- 23 Определите напряжение на концах реостата, если мощность, потребляемая реостатом, равна 30 Вт. Реостат изготовлен из никелиновой проволоки длиной 6 м и площадью поперечного сечения $0,5 \text{ мм}^2$.

- 24 Летящая пуля пробивает тонкую деревянную стенку. В момент удара о стенку скорость пули была равна $400 \frac{\text{м}}{\text{с}}$. В процессе торможения температура пули увеличилась с 50 до $300 \text{ }^\circ\text{C}$. Какую скорость имела пуля при вылете из стенки, если считать, что всё количество теплоты, выделяемое при торможении в стенке, поглощается пулей? Удельная теплоёмкость вещества, из которого изготовлена пуля, равна $140 \frac{\text{Дж}}{\text{кг} \cdot \text{ }^\circ\text{C}}$.

- 25 Горизонтальный участок проводника, электрическое сопротивление которого равно $2,6 \text{ Ом}$, расположен в горизонтальном однородном магнитном поле индукцией $0,02 \text{ Тл}$ перпендикулярно линиям магнитной индукции. К концам проводника приложено напряжение $10,4 \text{ В}$. Какова длина проводника, если со стороны магнитного поля на проводник действует сила 20 мН ?



Не забудьте перенести все ответы в бланки ответов № 1 и № 2 в соответствии с инструкцией по выполнению работы. Проверьте, чтобы каждый ответ был записан рядом с номером соответствующего задания.

Номер комплекта оборудования, используемого при
проведении экзамена по ФИЗИКЕ

№ КИМ	№ комплекта оборудования	№ места участника (заполняется вручную)
	2	

100balnik.ru.com
100 БАЛЛОВ
Делаем невозможное возможным

НОМЕР КИМ**Инструкция по выполнению работы**

На выполнение экзаменационной работы по физике отводится 3 часа (180 минут). Экзаменационная работа включает в себя 25 заданий.

Ответы к заданиям 1, 2, 4, 11–14, 16, 18 и 19 записываются в виде последовательности цифр. Ответом к заданиям 3 и 15 является одна цифра, которая соответствует номеру правильного ответа. Ответы к заданиям 5–10 записываются в виде целого числа или конечной десятичной дроби с учётом указанных в ответе единиц. Ответ запишите в поле ответа в тексте работы, а затем перенесите в бланк ответов № 1. Единицы измерения в ответе указывать не надо.

К заданиям 17, 20–25 следует дать развернутый ответ. Задания выполняются на бланке ответов № 2. Запишите сначала номер задания, а затем ответ на него. Ответы записывайте чётко и разборчиво. Задание 17 экспериментальное, и для его выполнения необходимо воспользоваться лабораторным оборудованием.

При вычислениях разрешается использовать линейку и непрограммируемый калькулятор.

Все бланки заполняются яркими чёрными чернилами. Допускается использование гелевой или капиллярной ручки.

При выполнении заданий можно пользоваться черновиком. **Записи в черновике, а также в тексте контрольных измерительных материалов не учитываются при оценивании работы.**

Баллы, полученные Вами за выполненные задания, суммируются. Постарайтесь выполнить как можно больше заданий и набрать наибольшее количество баллов.

После завершения работы проверьте, чтобы ответ на каждое задание в бланках ответов № 1 и № 2 был записан под правильным номером.

Желаем успеха!

Ниже приведены справочные данные, которые могут понадобиться Вам при выполнении работы.

Десятичные приставки		
Наименование	Обозначение	Множитель
гига	Г	10^9
мега	М	10^6
кило	к	10^3
гекто	г	10^2
санти	с	10^{-2}
милли	м	10^{-3}
микро	мк	10^{-6}
нано	н	10^{-9}

Константы	
ускорение свободного падения на Земле	$g = 10 \frac{\text{м}}{\text{с}^2}$
гравитационная постоянная	$G = 6,7 \cdot 10^{-11} \frac{\text{Н} \cdot \text{м}^2}{\text{кг}^2}$
скорость света в вакууме	$c = 3 \cdot 10^8 \frac{\text{м}}{\text{с}}$
элементарный электрический заряд	$e = 1,6 \cdot 10^{-19} \text{ Кл}$

Плотность			
бензин	$710 \frac{\text{кг}}{\text{м}^3}$	древесина (сосна)	$400 \frac{\text{кг}}{\text{м}^3}$
спирт	$800 \frac{\text{кг}}{\text{м}^3}$	парафин	$900 \frac{\text{кг}}{\text{м}^3}$
керосин	$800 \frac{\text{кг}}{\text{м}^3}$	лёд	$900 \frac{\text{кг}}{\text{м}^3}$
масло машинное	$900 \frac{\text{кг}}{\text{м}^3}$	алюминий	$2700 \frac{\text{кг}}{\text{м}^3}$
вода	$1000 \frac{\text{кг}}{\text{м}^3}$	мрамор	$2700 \frac{\text{кг}}{\text{м}^3}$
молоко цельное	$1030 \frac{\text{кг}}{\text{м}^3}$	цинк	$7100 \frac{\text{кг}}{\text{м}^3}$
вода морская	$1030 \frac{\text{кг}}{\text{м}^3}$	сталь, железо	$7800 \frac{\text{кг}}{\text{м}^3}$
глицерин	$1260 \frac{\text{кг}}{\text{м}^3}$	медь	$8900 \frac{\text{кг}}{\text{м}^3}$
ртуть	$13\,600 \frac{\text{кг}}{\text{м}^3}$	свинец	$11\,350 \frac{\text{кг}}{\text{м}^3}$

Удельная			
теплоёмкость воды	$4200 \frac{\text{Дж}}{\text{кг} \cdot ^\circ\text{C}}$	теплота парообразования воды	$2,3 \cdot 10^6 \frac{\text{Дж}}{\text{кг}}$
теплоёмкость спирта	$2400 \frac{\text{Дж}}{\text{кг} \cdot ^\circ\text{C}}$	теплота парообразования спирта	$9,0 \cdot 10^5 \frac{\text{Дж}}{\text{кг}}$
теплоёмкость льда	$2100 \frac{\text{Дж}}{\text{кг} \cdot ^\circ\text{C}}$	теплота плавления свинца	$2,5 \cdot 10^4 \frac{\text{Дж}}{\text{кг}}$
теплоёмкость алюминия	$920 \frac{\text{Дж}}{\text{кг} \cdot ^\circ\text{C}}$	теплота плавления стали	$7,8 \cdot 10^4 \frac{\text{Дж}}{\text{кг}}$
теплоёмкость стали	$500 \frac{\text{Дж}}{\text{кг} \cdot ^\circ\text{C}}$	теплота плавления олова	$5,9 \cdot 10^4 \frac{\text{Дж}}{\text{кг}}$
теплоёмкость цинка	$400 \frac{\text{Дж}}{\text{кг} \cdot ^\circ\text{C}}$	теплота плавления льда	$3,3 \cdot 10^5 \frac{\text{Дж}}{\text{кг}}$
теплоёмкость меди	$400 \frac{\text{Дж}}{\text{кг} \cdot ^\circ\text{C}}$	теплота сгорания спирта	$2,9 \cdot 10^7 \frac{\text{Дж}}{\text{кг}}$
теплоёмкость олова	$230 \frac{\text{Дж}}{\text{кг} \cdot ^\circ\text{C}}$	теплота сгорания керосина	$4,6 \cdot 10^7 \frac{\text{Дж}}{\text{кг}}$
теплоёмкость свинца	$130 \frac{\text{Дж}}{\text{кг} \cdot ^\circ\text{C}}$	теплота сгорания бензина	$4,6 \cdot 10^7 \frac{\text{Дж}}{\text{кг}}$
теплоёмкость бронзы	$420 \frac{\text{Дж}}{\text{кг} \cdot ^\circ\text{C}}$		

Температура плавления		Температура кипения	
свинца	327 °C	воды	100 °C
олова	232 °C	спирта	78 °C
льда	0 °C		

Удельное электрическое сопротивление, $\frac{\text{Ом} \cdot \text{мм}^2}{\text{м}}$ (при 20 °C)			
серебро	0,016	никелин	0,4
медь	0,017	нихром (сплав)	1,1
алюминий	0,028	фехраль	1,2
железо	0,10		

Нормальные условия: давление 10^5 Па, температура 0 °C



Ответом к заданиям 1, 2, 4, 11–14, 16, 18 и 19 является последовательность цифр. Последовательность цифр записывайте без пробелов, запятых и других дополнительных символов. Ответом к заданиям 3 и 15 является одна цифра, которая соответствует номеру правильного ответа. Ответом к заданиям 5–10 является число. Единицы измерения в ответе указывать не надо. Ответ запишите в поле ответа в тексте работы, а затем перенесите в БЛАНК ОТВЕТОВ № 1 справа от номера соответствующего задания, начиная с первой клеточки. Каждый символ пишите в отдельной клеточке в соответствии с приведёнными в бланке образцами. Ответы на задания 17, 20–25 запишите на БЛАНКЕ ОТВЕТОВ № 2.

- 1** Установите соответствие между физическими понятиями и их определениями. К каждой позиции первого столбца подберите соответствующую позицию из второго столбца и запишите в таблицу выбранные цифры под соответствующими буквами.

ФИЗИЧЕСКИЕ ПОНЯТИЯ

- А) траектория
- Б) ускорение
- В) материальная точка

ОПРЕДЕЛЕНИЯ

- 1) физическая величина, характеризующая быстроту изменения скорости тела
- 2) тело, размеры которого меньше 1 мм
- 3) тело, размерами которого в данных условиях можно пренебречь
- 4) вектор, соединяющий начальное положение тела с последующим положением
- 5) линия, вдоль которой движется тело

Ответ:

А	Б	В

- 2** Установите соответствие между формулами для расчёта физических величин и названиями этих величин. В формулах использованы обозначения: I – сила тока; U – напряжение на концах проводника; l – длина проводника; S – площадь поперечного сечения проводника; ρ – удельное сопротивление проводника. К каждой позиции первого столбца подберите соответствующую позицию из второго столбца и запишите в таблицу выбранные цифры под соответствующими буквами.

ФОРМУЛЫ

- А) $\frac{\rho l}{S}$
- Б) IU

ФИЗИЧЕСКИЕ ВЕЛИЧИНЫ

- 1) электрический заряд
- 2) сопротивление проводника
- 3) работа электрического тока
- 4) мощность электрического тока

Ответ:

А	Б

- 3** Если рассматривать предмет сквозь стеклянную призму, то вокруг предмета можно наблюдать радужный ободок. Какое явление объясняет появление радужного ободка?
- 1) отражение света
 - 2) рассеяние света
 - 3) дисперсия света
 - 4) поглощение света

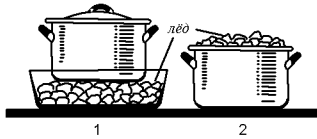
Ответ:

--



4 Прочитайте текст и вставьте на места пропусков слова из приведённого списка.

Для охлаждения морса в кастрюле используют лёд: в первом случае лёд кладут вниз, под дно кастрюли, во втором случае — вверх, в перевернутую крышку кастрюли (см. рисунок).



Процесс охлаждения морса происходит быстрее (А) _____ кастрюле. В этом случае процесс охлаждения осуществляется преимущественно за счет (Б) _____. Плотность охлажденных слоев (В) _____, поэтому они будут (Г) _____.

Список слов и словосочетаний:

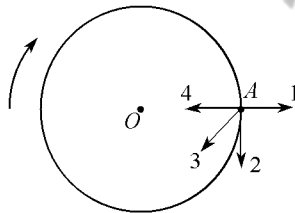
- 1) теплопроводность
- 2) конвекция
- 3) во второй
- 4) в первой
- 5) меньше
- 6) больше
- 7) всплывать
- 8) опускаться

Запишите в таблицу выбранные цифры под соответствующими буквами.

А	Б	В	Г

Ответ:

5 Тело движется по окружности вокруг точки O с постоянной по модулю скоростью. Какая из стрелок – 1, 2, 3 или 4 – указывает направление ускорения этого тела в точке A ?



Ответ: _____.

6 Стальной шарик опустили до полного погружения сначала в воду, а затем в керосин. Во сколько раз выталкивающая сила, действующая на шарик в воде, больше, чем выталкивающая сила в керосине?

Ответ: в _____ раз(а).

7 Какое количество теплоты необходимо, чтобы кусок олова массой 10 кг нагреть на 10°C ?

Ответ: _____ кДж.

8 В таблице представлены результаты исследования зависимости силы тока от напряжения на концах резистора. Какое значение силы тока должно стоять в пустой клетке?

U, В	8	10	20
I, А	2		5

Ответ: _____ А.

9 На какую длину волны нужно настроить радиоприёмник, чтобы слушать радиостанцию, которая вещает на частоте 106,2 МГц? Ответ округлите до сотых.

Ответ: _____ м.

10 Используя фрагмент Периодической системы химических элементов Д.И. Менделеева, представленный на рисунке, определите, сколько нейтронов содержит ядро бора с массовым числом 11.

Li 3 Литий 6,94	Be 4 Бериллий 9,013	5 B Бор 10,82	6 C Углерод 12,011	7 N Азот 14,008	8 O Кислород 16	9 F Фтор 19
-----------------------	---------------------------	---------------------	--------------------------	-----------------------	-----------------------	-------------------

Ответ: _____.



11 Свинцовый шарик нагрели в пламени свечи. Как при этом изменились средняя кинетическая энергия теплового движения частиц свинца и среднее расстояние между ними?

Для каждой величины определите соответствующий характер изменения:

- 1) увеличилась
- 2) уменьшилась
- 3) не изменилась

Запишите в таблицу выбранные цифры для каждой физической величины.

Цифры в ответе могут повторяться.

Средняя кинетическая энергия теплового движения частиц свинца	Среднее расстояние между частицами

12 Предмет, находящийся на расстоянии $4F$ от собирающей линзы, приближают к линзе на расстояние $2F$ (F – фокусное расстояние линзы). Как при этом изменяются оптическая сила линзы и размер изображения предмета?

Для каждой величины определите соответствующий характер изменения:

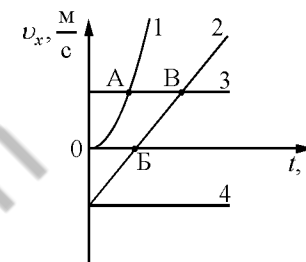
- 1) увеличивается
- 2) уменьшается
- 3) не изменяется

Запишите в таблицу выбранные цифры для каждой физической величины.

Цифры в ответе могут повторяться.

Оптическая сила линзы	Размер изображения предмета

13 На рисунке представлены графики зависимости проекции скорости v_x от времени t для четырёх тел, движущихся вдоль оси Ox .



Используя рисунок, выберите из предложенного перечня **два** верных утверждения. Укажите их номера.

- 1) В момент времени, соответствующий точке А на графике, тела 1 и 3 имели одинаковую скорость.
- 2) Тело 3 находится в состоянии покоя.
- 3) Тело 2 движется равномерно и прямолинейно.
- 4) От начала отсчёта до момента времени, соответствующего точке В на графике, тело 4 прошло больший путь по сравнению с телом 2.
- 5) От начала отсчёта до момента времени, соответствующего точке В на графике, путь тела 2 равен нулю.

Ответ:



- 14 Две катушки надеты на железный сердечник (см. рис. 1). Через первую катушку протекает электрический ток (график зависимости силы тока от времени представлен на рис. 2). Вторая катушка замкнута на гальванометр.

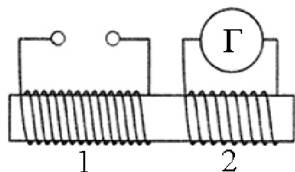


Рис. 1

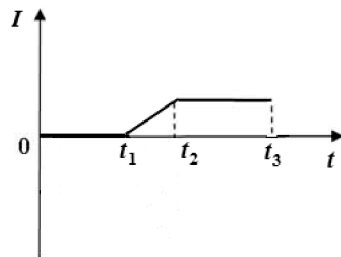


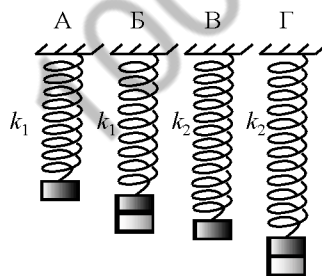
Рис. 2

Используя текст и рисунки, выберите из предложенного перечня **два** верных утверждения. Укажите их номера.

- 1) Заряд, прошедший через первую катушку в интервале времени от t_1 до t_2 , равен нулю.
- 2) Индукционный ток, возникающий в катушке 2 в интервале времени от t_1 до t_2 , имеет наибольшее значение.
- 3) В течение всего времени наблюдения (от 0 до t_3) в катушке 1 отсутствует магнитное поле.
- 4) В интервале времени от t_2 до t_3 магнитное поле в катушках не меняется.
- 5) В течение всего времени наблюдения (от 0 до t_3) в катушке 2 протекает индукционный ток.

Ответ:

- 15 Необходимо экспериментально установить, зависит ли частота колебаний пружинного маятника от массы груза. Какую из указанных пар маятников (см. рисунок) можно использовать для этой цели?



- 1) Б и В
- 2) В и Г
- 3) А и В
- 4) А и Г

Ответ:

- 16 Ученик провёл эксперимент по изучению количества теплоты, выделяющейся при остывании металлических цилиндров различной массы, предварительно нагретых до температуры t_1 . Количество теплоты оценивалось по нагреванию 100 г воды, налитой в калориметр и имеющей первоначально температуру 20 °С, при опускании в неё нагретого цилиндра и установлении состояния теплового равновесия. В таблице указаны результаты экспериментальных измерений массы m цилиндра, первоначальной температуры цилиндра t_1 и изменения температуры Δt воды для четырёх опытов.

№ опыта	Материал цилиндра	Масса цилиндра m , г	Начальная температура цилиндра t_1 , °С	Изменение температуры воды Δt , °С
1	медь	100	100	10
2	алюминий	100	60	10
3	алюминий	200	100	24
4	медь	200	100	13

Выберите из предложенного перечня **два** утверждения, которые соответствуют результатам проведённых экспериментальных измерений. Укажите их номера.

- 1) При остывании цилиндров в первом и во втором опытах выделилось одинаковое количество теплоты.
- 2) При остывании алюминиевого цилиндра в третьем опыте выделилось наименьшее количество теплоты.
- 3) Количество теплоты, выделяемое нагретым телом, зависит от массы этого тела.
- 4) Удельная теплоёмкость алюминия равна удельной теплоёмкости меди.
- 5) Количество теплоты, выделяемое нагретым телом, не зависит от вещества, из которого изготовлено тело.

Ответ:



Прочитайте текст и выполните задания 19 и 20.

Аморфные и кристаллические тела

По своим физическим свойствам и молекулярной структуре твёрдые тела разделяются на два класса – аморфные и кристаллические.

В кристаллических телах частицы располагаются в строгом порядке, образуя пространственные периодически повторяющиеся структуры во всем объёме тела. Для наглядного представления таких структур используются пространственные кристаллические решётки, в узлах которых располагаются центры атомов или молекул данного вещества. Часто кристаллическая решётка строится из ионов (положительно и отрицательно заряженных) атомов, которые входят в состав молекулы данного вещества. Например, решётка поваренной соли NaCl содержит ионы Na^+ и Cl^- (рисунок 1).

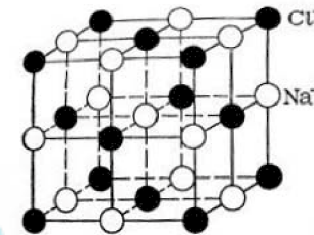


Рисунок 1

Физические свойства кристаллических тел неодинаковы в различных направлениях (это свойство кристаллов называется анизотропностью), но совпадают в параллельных направлениях. Анизотропия механических, тепловых, электрических и оптических свойств кристаллов объясняется тем, что при упорядоченном расположении атомов, молекул или ионов силы взаимодействия между ними и межатомные расстояния оказываются неодинаковыми по различным направлениям.

Характерной особенностью аморфных тел является их изотропность, т.е. независимость всех физических свойств от направления. Молекулы и атомы в изотропных твёрдых телах располагаются хаотично (см. рисунок 2).

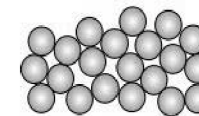


Рисунок 2

Для ответа на задание 17 используйте БЛАНК ОТВЕТОВ № 2. Запишите сначала номер задания, а затем ответ к нему.

- 17 Используя брусок с крючком, динамометр № 2, грузы № 1 и № 2, направляющую рейку, соберите экспериментальную установку для измерения работы силы трения скольжения между бруском с тремя грузами и поверхностью рейки при перемещении бруска на расстояние 16 см. Используйте поверхность рейки, обозначенную Б. Абсолютная погрешность измерения силы равна $\pm 0,1$ Н, абсолютная погрешность измерения расстояния равна $\pm 0,2$ см.

В бланке ответов № 2:

- 1) сделайте рисунок экспериментальной установки;
- 2) запишите формулу для расчёта работы силы трения скольжения;
- 3) укажите результаты измерения модуля перемещения бруска с грузами и силы трения скольжения при движении каретки с грузами по поверхности рейки с учётом абсолютных погрешностей измерения;
- 4) запишите значение работы силы трения скольжения.

- 18 Установите соответствие между техническими устройствами и физическими закономерностями, лежащими в основе принципа их действия. К каждой позиции первого столбца подберите соответствующую позицию из второго столбца и запишите в таблицу выбранные цифры под соответствующими буквами.

**ТЕХНИЧЕСКИЕ
УСТРОЙСТВА**

- А) барометр-анероид
- Б) U-образный жидкостный манометр

**ФИЗИЧЕСКИЕ
ЗАКОНОМЕРНОСТИ**

- 1) уменьшение температуры жидкости при её испарении
- 2) зависимость объёма жидкости от температуры
- 3) зависимость гидростатического давления от высоты столба жидкости
- 4) зависимость деформации от действующей силы

Ответ:

А	Б



По своей структуре аморфные тела очень близки к жидкостям. Примерами аморфных тел могут служить стекло, различные затвердевшие смолы (янтарь), пластики и т.д. У аморфных тел нет определённой температуры плавления. Если аморфное тело нагревать, то оно постепенно размягчается, и переход в жидкое состояние занимает значительный интервал температур.

19 Выберите два верных утверждения, которые соответствуют содержанию текста. Запишите в ответ их номера.

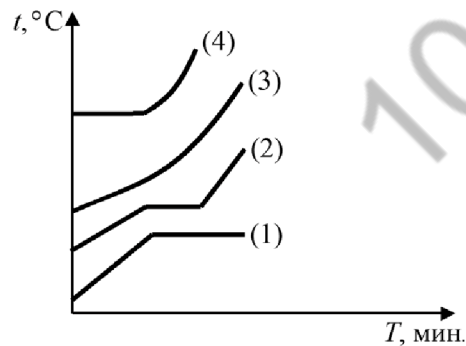
- 1) Изотропия физических свойств аморфных тел объясняется тем, что в аморфном теле межатомные расстояния в среднем одинаковы по различным направлениям.
- 2) Аморфные тела не могут находиться в жидком состоянии.
- 3) Стекло относится к кристаллическим твёрдым телам.
- 4) Анизотропией называется зависимость физических свойств вещества от направления.
- 5) В узлах кристаллической решетки поваренной соли находятся молекулы NaCl.

Ответ:

--	--

Для ответов на задания 20–25 используйте БЛАНК ОТВЕТОВ № 2. Запишите сначала номер задания (20, 21 и т.д.), а затем ответ на него. Полный ответ на задания 20, 21 и 22 должен содержать не только ответ на вопрос, но и его развёрнутое, логически связанное обоснование.

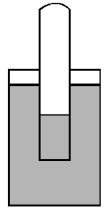
20 На рисунке представлены процессы нагревания с переходом в жидкое состояние для четырёх веществ, первоначально находившихся в твёрдом состоянии.



Какой график соответствует аморфному веществу? Ответ поясните.

21

Запаянную с одного конца трубку опускают открытым концом в воду на половину длины трубки (см. рисунок). Что произойдёт с уровнем зашедшей в трубку воды после того, как атмосферное давление уменьшится? Ответ поясните.



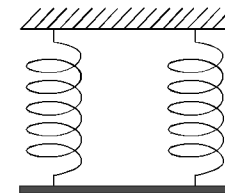
22

Аккомодация глаза рыбы основана на том, что хрусталик глаза имеет способность перемещаться вперёд-назад относительно глазного дна. Куда смещается хрусталик (по направлению к предмету или по направлению к главному дну) в случае, когда рыба приближается к рассматриваемому предмету? Ответ поясните.

Для заданий 23–25 необходимо записать полное решение, включающее запись краткого условия задачи (Дано), запись формул, применение которых необходимо и достаточно для решения задачи, а также математические преобразования и расчёты, приводящие к числовому ответу.

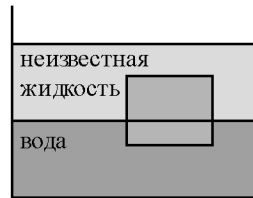
23

Однородный стержень массой 2 кг подвешен на двух одинаковых невесомых вертикальных пружинах (см. рисунок).



Какова жёсткость каждой пружины, если удлинение каждой пружины равно 2 см? Стержень неподвижен.

- 24 Сплошной кубик с ребром 10 см плавает на границе раздела воды и неизвестной жидкости, плотность которой меньше плотности воды, погрузившись в воду на 2 см (см. рисунок). Плотность вещества, из которого изготовлен кубик, равна $840 \frac{\text{кг}}{\text{м}^3}$. Свободная поверхность



неизвестной жидкости располагается выше, чем верхняя поверхность кубика. Определите плотность неизвестной жидкости.

- 25 Две спирали электроплитки с одинаковым сопротивлением соединены последовательно и включены в сеть с напряжением 220 В. Чему равно сопротивление одной спирали плитки, если вода массой 1 кг закипела на этой плитке через 174 с? Начальная температура воды равна 20 °С, а КПД процесса равен 80%. (Полезной считается энергия, необходимая для нагревания воды.)



Не забудьте перенести все ответы в бланки ответов №1 и №2 в соответствии с инструкцией по выполнению работы. Проверьте, чтобы каждый ответ был записан рядом с номером соответствующего задания.

100balnik.ru.com

100 БАЛЛОВ
 Делаем невозможное возможным

Номер комплекта оборудования, используемого при
проведении экзамена по ФИЗИКЕ

№ КИМ	№ комплекта оборудования	№ места участника (заполняется вручную)
	2	

100balnik.ru.com
100 БАЛЛОВ
Делаем невозможное возможным

НОМЕР КИМ**Инструкция по выполнению работы**

На выполнение экзаменационной работы по физике отводится 3 часа (180 минут). Экзаменационная работа включает в себя 25 заданий.

Ответы к заданиям 1, 2, 4, 11–14, 16, 18 и 19 записываются в виде последовательности цифр. Ответом к заданиям 3 и 15 является одна цифра, которая соответствует номеру правильного ответа. Ответы к заданиям 5–10 записываются в виде целого числа или конечной десятичной дроби с учётом указанных в ответе единиц. Ответ запишите в поле ответа в тексте работы, а затем перенесите в бланк ответов № 1. Единицы измерения в ответе указывать не надо.

К заданиям 17, 20–25 следует дать развернутый ответ. Задания выполняются на бланке ответов № 2. Запишите сначала номер задания, а затем ответ на него. Ответы записывайте чётко и разборчиво. Задание 17 экспериментальное, и для его выполнения необходимо воспользоваться лабораторным оборудованием.

При вычислениях разрешается использовать линейку и непрограммируемый калькулятор.

Все бланки заполняются яркими чёрными чернилами. Допускается использование гелевой или капиллярной ручки.

При выполнении заданий можно пользоваться черновиком. **Записи в черновике, а также в тексте контрольных измерительных материалов не учитываются при оценивании работы.**

Баллы, полученные Вами за выполненные задания, суммируются. Постарайтесь выполнить как можно больше заданий и набрать наибольшее количество баллов.

После завершения работы проверьте, чтобы ответ на каждое задание в бланках ответов № 1 и № 2 был записан под правильным номером.

Желаем успеха!

Ниже приведены справочные данные, которые могут понадобиться Вам при выполнении работы.

Десятичные приставки		
Наименование	Обозначение	Множитель
гига	Г	10^9
мега	М	10^6
кило	к	10^3
гекто	г	10^2
санти	с	10^{-2}
милли	м	10^{-3}
микро	мк	10^{-6}
нано	н	10^{-9}

Константы	
ускорение свободного падения на Земле	$g = 10 \frac{\text{м}}{\text{с}^2}$
гравитационная постоянная	$G = 6,7 \cdot 10^{-11} \frac{\text{Н} \cdot \text{м}^2}{\text{кг}^2}$
скорость света в вакууме	$c = 3 \cdot 10^8 \frac{\text{м}}{\text{с}}$
элементарный электрический заряд	$e = 1,6 \cdot 10^{-19} \text{ Кл}$

Плотность			
бензин	$710 \frac{\text{кг}}{\text{м}^3}$	древесина (сосна)	$400 \frac{\text{кг}}{\text{м}^3}$
спирт	$800 \frac{\text{кг}}{\text{м}^3}$	парафин	$900 \frac{\text{кг}}{\text{м}^3}$
керосин	$800 \frac{\text{кг}}{\text{м}^3}$	лёд	$900 \frac{\text{кг}}{\text{м}^3}$
масло машинное	$900 \frac{\text{кг}}{\text{м}^3}$	алюминий	$2700 \frac{\text{кг}}{\text{м}^3}$
вода	$1000 \frac{\text{кг}}{\text{м}^3}$	мрамор	$2700 \frac{\text{кг}}{\text{м}^3}$
молоко цельное	$1030 \frac{\text{кг}}{\text{м}^3}$	цинк	$7100 \frac{\text{кг}}{\text{м}^3}$
вода морская	$1030 \frac{\text{кг}}{\text{м}^3}$	сталь, железо	$7800 \frac{\text{кг}}{\text{м}^3}$
глицерин	$1260 \frac{\text{кг}}{\text{м}^3}$	медь	$8900 \frac{\text{кг}}{\text{м}^3}$
ртуть	$13\,600 \frac{\text{кг}}{\text{м}^3}$	свинец	$11\,350 \frac{\text{кг}}{\text{м}^3}$

Удельная			
теплоёмкость воды	$4200 \frac{\text{Дж}}{\text{кг} \cdot ^\circ\text{C}}$	теплота парообразования воды	$2,3 \cdot 10^6 \frac{\text{Дж}}{\text{кг}}$
теплоёмкость спирта	$2400 \frac{\text{Дж}}{\text{кг} \cdot ^\circ\text{C}}$	теплота парообразования спирта	$9,0 \cdot 10^5 \frac{\text{Дж}}{\text{кг}}$
теплоёмкость льда	$2100 \frac{\text{Дж}}{\text{кг} \cdot ^\circ\text{C}}$	теплота плавления свинца	$2,5 \cdot 10^4 \frac{\text{Дж}}{\text{кг}}$
теплоёмкость алюминия	$920 \frac{\text{Дж}}{\text{кг} \cdot ^\circ\text{C}}$	теплота плавления стали	$7,8 \cdot 10^4 \frac{\text{Дж}}{\text{кг}}$
теплоёмкость стали	$500 \frac{\text{Дж}}{\text{кг} \cdot ^\circ\text{C}}$	теплота плавления олова	$5,9 \cdot 10^4 \frac{\text{Дж}}{\text{кг}}$
теплоёмкость цинка	$400 \frac{\text{Дж}}{\text{кг} \cdot ^\circ\text{C}}$	теплота плавления льда	$3,3 \cdot 10^5 \frac{\text{Дж}}{\text{кг}}$
теплоёмкость меди	$400 \frac{\text{Дж}}{\text{кг} \cdot ^\circ\text{C}}$	теплота сгорания спирта	$2,9 \cdot 10^7 \frac{\text{Дж}}{\text{кг}}$
теплоёмкость олова	$230 \frac{\text{Дж}}{\text{кг} \cdot ^\circ\text{C}}$	теплота сгорания керосина	$4,6 \cdot 10^7 \frac{\text{Дж}}{\text{кг}}$
теплоёмкость свинца	$130 \frac{\text{Дж}}{\text{кг} \cdot ^\circ\text{C}}$	теплота сгорания бензина	$4,6 \cdot 10^7 \frac{\text{Дж}}{\text{кг}}$
теплоёмкость бронзы	$420 \frac{\text{Дж}}{\text{кг} \cdot ^\circ\text{C}}$		

Температура плавления		Температура кипения	
свинца	327 °C	воды	100 °C
олова	232 °C	спирта	78 °C
льда	0 °C		

Удельное электрическое сопротивление, $\frac{\text{Ом} \cdot \text{мм}^2}{\text{м}}$ (при 20 °C)			
серебро	0,016	никелин	0,4
медь	0,017	нихром (сплав)	1,1
алюминий	0,028	фехраль	1,2
железо	0,10		

Нормальные условия: давление 10^5 Па, температура 0 °C



Ответом к заданиям 1, 2, 4, 11–14, 16, 18 и 19 является последовательность цифр. Последовательность цифр записывайте без пробелов, запятых и других дополнительных символов. Ответом к заданиям 3 и 15 является одна цифра, которая соответствует номеру правильного ответа. Ответом к заданиям 5–10 является число. Единицы измерения в ответе указывать не надо. Ответ запишите в поле ответа в тексте работы, а затем перенесите в БЛАНК ОТВЕТОВ № 1 справа от номера соответствующего задания, начиная с первой клеточки. Каждый символ пишите в отдельной клеточке в соответствии с приведёнными в бланке образцами. Ответы на задания 17, 20–25 запишите на БЛАНКЕ ОТВЕТОВ № 2.

- 1 Установите соответствие между физическими понятиями и их определениями или характеристиками. К каждой позиции первого столбца подберите соответствующую позицию из второго столбца и запишите в таблицу выбранные цифры под соответствующими буквами.

ФИЗИЧЕСКИЕ ПОНЯТИЯ

- А) радиоволна
- Б) электрический ток
- В) электромагнитное поле

ОПРЕДЕЛЕНИЯ/ХАРАКТЕРИСТИКИ

- 1) заряд, проходящий через поперечное сечение проводника за единицу времени
- 2) процесс распространения механических колебаний в твёрдой, жидкой и газообразной средах
- 3) длинноволновая часть спектра электромагнитного излучения
- 4) вид материи, посредством которого осуществляется взаимодействие между электрически заряженными частицами
- 5) упорядоченное (направленное) движение заряженных частиц

Ответ:

А	Б	В

- 2 Установите соответствие между формулами для расчёта физических величин и названиями этих величин. В формулах использованы обозначения: U – напряжение на концах проводника; R – сопротивление проводника; t – время.

- А) $\frac{U^2}{R}$
 Б) $\frac{U^2}{R}t$

ФОРМУЛЫ

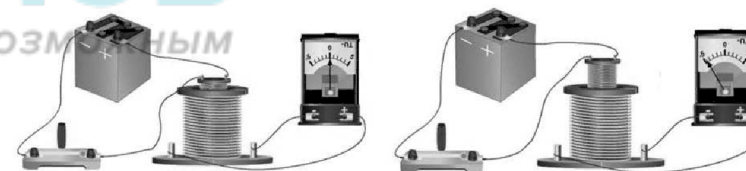
ФИЗИЧЕСКИЕ ВЕЛИЧИНЫ

- 1) удельное сопротивление
- 2) сила тока
- 3) работа электрического тока
- 4) мощность электрического тока

Ответ:

А	Б

- 3 Катушку большого диаметра присоединили к амперметру, а катушку меньшего диаметра подключили к источнику тока и вставили внутрь большой катушки. При движении малой катушки вверх в большой катушке возник электрический ток (см. рисунок). Какое явление демонстрирует данный опыт?



- 1) электромагнитная индукция
- 2) взаимодействие зарядов
- 3) резонанс
- 4) электризация тел


Ответ:



4 Прочитайте текст и вставьте на места пропусков слова из приведённого списка.

Свинцовый шар подняли на некоторую высоту над свинцовой плитой и отпустили (рис. а). После того как шар ударился о свинцовую плиту, он остановился (рис. б). При ударе шар и плита немного (А)_____. При этом изменилось взаимное расположение его частиц, а значит, изменилась и их (Б)_____ энергия.

Если измерить температуру шара и плиты сразу после удара, то обнаружится, что они нагрелись. При нагревании тела увеличивается средняя (В)_____ энергия частиц. Следовательно, механическая энергия, которой обладал шар в начале опыта, перешла в (Г)_____ энергию.



Список слов:

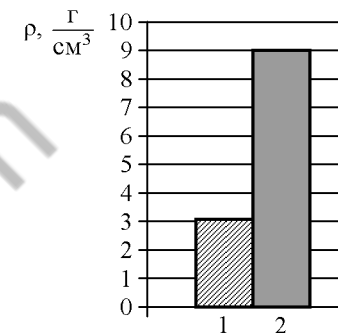
- 1) внутренняя
- 2) кинетическая
- 3) потенциальная
- 4) механическая
- 5) электромагнитная
- 6) деформировались
- 7) наэлектризовались
- 8) увеличились

Запишите в таблицу выбранные цифры под соответствующими буквами.

Ответ:

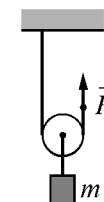
А	Б	В	Г

5 На рисунке приведена столбчатая диаграмма. На ней представлены значения плотностей веществ, из которых сделаны два сплошных тела с одинаковой массой. Определите отношение объёма тела 1 к объёму тела 2.



Ответ: _____.

6 С помощью подвижного блока равномерно поднимают груз массой $m = 20$ кг. Чему равен модуль вертикальной силы \vec{F} , приложенной к свободному концу верёвки, перекинутой через блок? Блок и верёвку считать невесомыми.



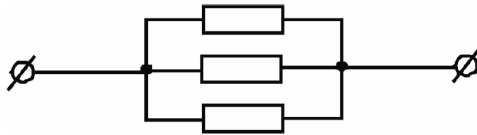
Ответ: _____ Н.

7 Какое количество теплоты выделится при охлаждении 4 кг свинца, находящегося в твёрдом состоянии, от температуры кристаллизации до $27^\circ C$?

Ответ: _____ кДж.



8 Чему равно сопротивление участка цепи, содержащего три параллельно соединённых одинаковых резистора сопротивлением по 9 Ом каждый?



Ответ: _____ Ом.

9 Луч света падает на плоское зеркало. Угол между падающим и отражённым лучами равен 150° . Чему равен угол между отражённым лучом и зеркалом?

Ответ: _____ градусов.

10 Сколько электронов содержит нейтральный атом железа ${}^{56}_{26}\text{Fe}$?

Ответ: _____.

11 В бассейне под водой установлен динамик, излучающий звук определённой частоты. Часть звуковой волны отражается от поверхности воды, а часть преломляется и проходит в воздух. Известно, что скорость звука в воде больше скорости звука в воздухе. Как при переходе из воды в воздух изменяются частота звука и амплитуда звуковой волны?

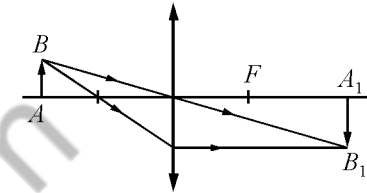
Для каждой величины определите соответствующий характер изменения:

- 1) увеличивается
- 2) уменьшается
- 3) не изменяется

Запишите в таблицу выбранные цифры для каждой физической величины. Цифры в ответе могут повторяться.

Частота звука	Амплитуда звуковой волны

12 С помощью собирающей линзы получено изображение A_1B_1 предмета AB (см. рисунок). Как изменятся размер и яркость изображения, если закрыть чёрной бумагой верхнюю половину линзы?



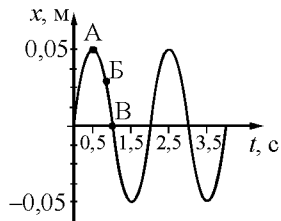
Для каждой величины определите соответствующий характер изменения:

- 1) увеличится
- 2) уменьшится
- 3) не изменится

Запишите в таблицу выбранные цифры для каждой физической величины. Цифры в ответе могут повторяться.

Размер изображения	Яркость изображения

- 13 На рисунке представлен график гармонических колебаний математического маятника.



Используя данные графика, выберите из предложенного перечня **два** верных утверждения. Укажите их номера.

- 1) В начальный момент времени кинетическая энергия маятника равна нулю.
- 2) При переходе из состояния, соответствующего точке А, в состояние, соответствующее точке В, потенциальная энергия маятника уменьшается.
- 3) Частота колебаний маятника равна 0,5 Гц.
- 4) Амплитуда колебаний маятника равна 0,1 м.
- 5) Точка В соответствует максимальному смещению маятника из положения равновесия.

Ответ:



- 14 Ниже приведена таблица удельной теплоты сгорания (q) различных видов топлива.

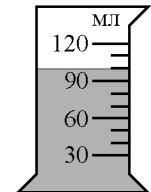
Топливо	$q, \frac{\text{Дж}}{\text{кг}}$	Топливо	$q, \frac{\text{Дж}}{\text{кг}}$
Порох	$0,38 \cdot 10^7$	Древесный уголь	$3,4 \cdot 10^7$
Дрова сухие	$1,0 \cdot 10^7$	Природный газ	$4,4 \cdot 10^7$
Торф	$1,4 \cdot 10^7$	Нефть	$4,4 \cdot 10^7$
Антрацит	$3,0 \cdot 10^7$	Бензин	$4,6 \cdot 10^7$
Каменный уголь	$2,7 \cdot 10^7$	Керосин	$4,6 \cdot 10^7$
Спирт	$2,7 \cdot 10^7$	Водород	$12,0 \cdot 10^7$

Из предложенного перечня утверждений выберите **два** правильных. Укажите их номера.

- 1) При полном сгорании 1 кг торфа выделяется такое же количество теплоты, как и при полном сгорании 1,4 кг сухих дров.
- 2) Удельная теплота сгорания жидкого топлива в основном меньше, чем твёрдого.
- 3) При полном сгорании 1 кг спирта выделяется 270 кДж энергии.
- 4) Зимой воздух в деревянном доме нагревается быстрее, если печь топить древесным углём, а не торфом.
- 5) При полном сгорании 5 кг нефти выделяется меньшее количество теплоты, чем при полном сгорании 6 кг древесного угля.

Ответ:

- 15 В мензурку налита вода (см. рисунок). Выберите верное значение объёма воды, учитывая, что погрешность измерения равна половине цены деления шкалы.

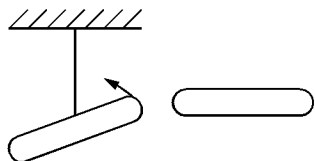


- 1) 90 мл
- 2) (90 ± 15) мл
- 3) (100 ± 5) мл
- 4) (100 ± 15) мл

Ответ:

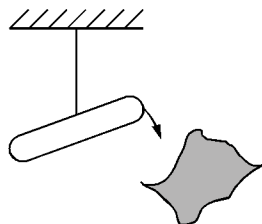


- 16 Учитель на уроке, используя две одинаковые палочки и кусок ткани, последовательно провёл опыты по электризации. Описание действий учителя представлены на рисунке.



Опыт 1.

После трения обеих палочек о ткань наблюдается взаимное отталкивание палочек



Опыт 2.

После трения палочки о ткань наблюдается взаимное притяжение между палочкой и тканью

Выберите из предложенного перечня **два** утверждения, которые соответствуют результатам проведённых экспериментальных наблюдений. Укажите их номера.

- 1) При трении палочка приобретает отрицательный заряд.
- 2) Электризация связана с перемещением электронов с одного тела на другое.
- 3) При трении палочка и ткань приобретают равные по величине заряды.
- 4) При трении палочка и ткань приобретают разные по знаку заряды.
- 5) И палочка, и ткань электризуются при трении.

Ответ:

--	--

Для ответа на задание 17 используйте БЛАНК ОТВЕТОВ № 2. Запишите сначала номер задания, а затем ответ к нему.

- 17 Используя источник тока, вольтметр, амперметр, ключ, реостат, соединительные провода и резистор, обозначенный R_2 , соберите экспериментальную установку для определения работы электрического тока на резисторе R_2 . При помощи реостата установите в цепи силу тока 0,4 А. Определите работу электрического тока за 6 минут. Абсолютная погрешность измерения силы тока равна $\pm 0,02$ А, абсолютная погрешность измерения напряжения равна $\pm 0,1$ В.

В бланке ответов № 2:

- 1) нарисуйте электрическую схему эксперимента;
- 2) запишите формулу для расчёта работы электрического тока;
- 3) укажите результаты измерения напряжения и силы тока с учётом абсолютных погрешностей измерений;
- 4) запишите значение работы электрического тока.

- 18 Установите соответствие между научными открытиями и именами учёных, которым эти открытия принадлежат. К каждой позиции первого столбца подберите соответствующую позицию из второго столбца.

НАУЧНЫЕ ОТКРЫТИЯ
 А) закон сохранения энергии
 Б) законы качаний маятника

УЧЁНЫЕ

- 1) И. Ньютон
- 2) Г. Галилей
- 3) В.В. Петров
- 4) Дж. Джоуль

Ответ:

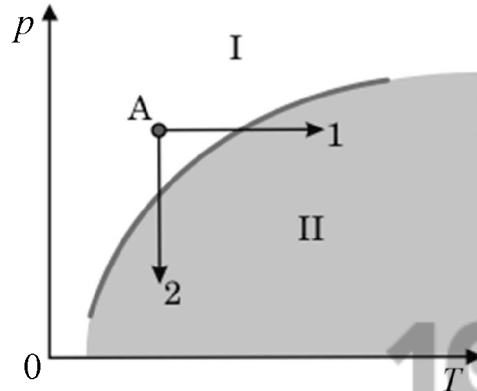
А	Б



Прочитайте текст и выполните задания 19 и 20.

Вулканы

Известно, что по мере спуска в недра Земли температура постепенно повышается. Это обстоятельство и сам факт извержения вулканами жидкой лавы невольно наталкивают на мысль, что на определённых глубинах вещество земного шара находится в расплавленном состоянии. Однако на самом деле всё не так просто. Одновременно с повышением температуры растёт давление в земных глубинах. А ведь чем больше давление, тем выше температура плавления (см. рисунок).



Кривая плавления (p – давление, T – температура)

Согласно современным представлениям большая часть земных недр сохраняет твёрдое состояние. Однако вещество астеносферы (оболочка Земли от 100 км до 300 км в глубину) находится в почти расплавленном состоянии. Так называют твёрдое состояние, которое легко переходит в жидкое (расплавленное) при небольшом повышении температуры (процесс 1) или понижении давления (процесс 2).

Источником первичных расплавов магмы является астеносфера. Если в каком-то районе снижается давление (например, при смещении участков литосферы), то твёрдое вещество астеносферы тотчас превращается в жидкий расплав, т.е. в магму.

Но какие физические причины приводят в действие механизм извержения вулкана?

В магме наряду с парами воды содержатся различные газы (углекислый газ, хлористый и фтористый водород, оксиды серы, метан и другие). Концентрация растворённых в магме газов зависит от внешнего давления. В физике известен закон Генри: концентрация газа, растворённого в жидкости, пропорциональна давлению этого газа над жидкостью.

Теперь представим, что давление на глубине уменьшилось. Растворимость газов также уменьшилась, и газы, растворённые в магме, выделяются из неё, образуя в магме газонаполненные пузырьки. Магма вспенивается и начинает подниматься вверх. По мере подъёма магмы давление падает ещё больше, поэтому процесс выделения газов усиливается, что, в свою очередь, приводит к ускорению подъёма.

19 Выберите два верных утверждения, которые соответствуют содержанию текста. Запишите в ответ их номера.

- 1) Стрелка 2 на диаграмме в тексте соответствует переходу из твёрдого состояния в жидкое при неизменной температуре.
- 2) Вещество астеносферы в области I на диаграмме (см. рисунок в тексте) находится в твёрдом состоянии.
- 3) Высоко в горах растворимость углекислого газа в воде увеличивается.
- 4) Вспенивающаяся магма внутри вулкана поднимается вверх за счёт действия атмосферного давления.
- 5) Астеносфера – это верхний слой атмосферы Земли.

Ответ:

Для ответов на задания 20–25 используйте БЛАНК ОТВЕТОВ № 2. Запишите сначала номер задания (20, 21 и т.д.), а затем ответ на него. Полный ответ на задания 20, 21 и 22 должен содержать не только ответ на вопрос, но и его развёрнутое, логически связанное обоснование.

20 Вдыхаемый нами воздух растворяется в крови и вместе с ней попадает в ткани. Чем выше давление, тем больше воздуха растворяется в крови. Воздух состоит преимущественно из азота и кислорода. И если кислород расходуется в тканях, то азот накапливается в крови. Можно ли быстро поднимать водолаза с глубины? Ответ поясните.

21 Почему сложно наэлектризовать трением гильзу из фольги, подвешенную на медной проволоке к стальному штапигу?

22 Лодка плавает в небольшом бассейне. Изменится ли (и если да, то как) уровень воды в бассейне, если из лодки осторожно опустить в бассейн большой камень? Ответ поясните.

Для заданий 23–25 необходимо записать полное решение, включающее запись краткого условия задачи (Дано), запись формул, применение которых необходимо и достаточно для решения задачи, а также математические преобразования и расчёты, приводящие к числовому ответу.

23

Водитель автобуса, движущегося по прямой улице со скоростью $15 \frac{\text{м}}{\text{с}}$, увидел красный сигнал светофора и нажал на педаль тормоза. После этого автобус начал двигаться равноускоренно и через 10 секунд после начала торможения остановился. Какой путь прошёл автобус за это время?

24

Какой путь прошёл автомобиль, если при средней скорости $100 \frac{\text{км}}{\text{ч}}$ его двигатель израсходовал 30 кг бензина? Механическая мощность двигателя автомобиля равна 46 кВт, КПД двигателя равен 36%.

25

Электроплитка включена в сеть напряжением 200 В. Вода массой 1 кг, имеющая начальную температуру 20 °С, налитая в алюминиевую кастрюлю массой 500 г, закипела на этой электроплитке через 93,2 с. Чему равно сопротивление спирали электроплитки? Потери энергии на нагревание окружающего воздуха пренебречь.



Не забудьте перенести все ответы в бланки ответов №1 и №2 в соответствии с инструкцией по выполнению работы. Проверьте, чтобы каждый ответ был записан рядом с номером соответствующего задания.

Номер комплекта оборудования, используемого при
проведении экзамена по ФИЗИКЕ

№ КИМ	№ комплекта оборудования	№ места участника (заполняется вручную)
	3	

100balnik.ru.com
100 БАЛЛОВ
Делаем невозможное возможным

НОМЕР КИМ**Инструкция по выполнению работы**

На выполнение экзаменационной работы по физике отводится 3 часа (180 минут). Экзаменационная работа включает в себя 25 заданий.

Ответы к заданиям 1, 2, 4, 11–14, 16, 18 и 19 записываются в виде последовательности цифр. Ответом к заданиям 3 и 15 является одна цифра, которая соответствует номеру правильного ответа. Ответы к заданиям 5–10 записываются в виде целого числа или конечной десятичной дроби с учётом указанных в ответе единиц. Ответ запишите в поле ответа в тексте работы, а затем перенесите в бланк ответов № 1. Единицы измерения в ответе указывать не надо.

К заданиям 17, 20–25 следует дать развернутый ответ. Задания выполняются на бланке ответов № 2. Запишите сначала номер задания, а затем ответ на него. Ответы записывайте чётко и разборчиво. Задание 17 экспериментальное, и для его выполнения необходимо воспользоваться лабораторным оборудованием.

При вычислениях разрешается использовать линейку и непрограммируемый калькулятор.

Все бланки заполняются яркими чёрными чернилами. Допускается использование гелевой или капиллярной ручки.

При выполнении заданий можно пользоваться черновиком. **Записи в черновике, а также в тексте контрольных измерительных материалов не учитываются при оценивании работы.**

Баллы, полученные Вами за выполненные задания, суммируются. Постарайтесь выполнить как можно больше заданий и набрать наибольшее количество баллов.

После завершения работы проверьте, чтобы ответ на каждое задание в бланках ответов № 1 и № 2 был записан под правильным номером.

Желаем успеха!

Ниже приведены справочные данные, которые могут понадобиться Вам при выполнении работы.

Десятичные приставки		
Наименование	Обозначение	Множитель
гига	Г	10^9
мега	М	10^6
кило	к	10^3
гекто	г	10^2
санти	с	10^{-2}
милли	м	10^{-3}
микро	мк	10^{-6}
нано	н	10^{-9}

Константы	
ускорение свободного падения на Земле	$g = 10 \frac{\text{м}}{\text{с}^2}$
гравитационная постоянная	$G = 6,7 \cdot 10^{-11} \frac{\text{Н} \cdot \text{м}^2}{\text{кг}^2}$
скорость света в вакууме	$c = 3 \cdot 10^8 \frac{\text{м}}{\text{с}}$
элементарный электрический заряд	$e = 1,6 \cdot 10^{-19} \text{ Кл}$

Плотность			
бензин	$710 \frac{\text{кг}}{\text{м}^3}$	древесина (сосна)	$400 \frac{\text{кг}}{\text{м}^3}$
спирт	$800 \frac{\text{кг}}{\text{м}^3}$	парафин	$900 \frac{\text{кг}}{\text{м}^3}$
керосин	$800 \frac{\text{кг}}{\text{м}^3}$	лёд	$900 \frac{\text{кг}}{\text{м}^3}$
масло машинное	$900 \frac{\text{кг}}{\text{м}^3}$	алюминий	$2700 \frac{\text{кг}}{\text{м}^3}$
вода	$1000 \frac{\text{кг}}{\text{м}^3}$	мрамор	$2700 \frac{\text{кг}}{\text{м}^3}$
молоко цельное	$1030 \frac{\text{кг}}{\text{м}^3}$	цинк	$7100 \frac{\text{кг}}{\text{м}^3}$
вода морская	$1030 \frac{\text{кг}}{\text{м}^3}$	сталь, железо	$7800 \frac{\text{кг}}{\text{м}^3}$
глицерин	$1260 \frac{\text{кг}}{\text{м}^3}$	медь	$8900 \frac{\text{кг}}{\text{м}^3}$
ртуть	$13\,600 \frac{\text{кг}}{\text{м}^3}$	свинец	$11\,350 \frac{\text{кг}}{\text{м}^3}$

Удельная			
теплоёмкость воды	$4200 \frac{\text{Дж}}{\text{кг} \cdot ^\circ\text{C}}$	теплота парообразования воды	$2,3 \cdot 10^6 \frac{\text{Дж}}{\text{кг}}$
теплоёмкость спирта	$2400 \frac{\text{Дж}}{\text{кг} \cdot ^\circ\text{C}}$	теплота парообразования спирта	$9,0 \cdot 10^5 \frac{\text{Дж}}{\text{кг}}$
теплоёмкость льда	$2100 \frac{\text{Дж}}{\text{кг} \cdot ^\circ\text{C}}$	теплота плавления свинца	$2,5 \cdot 10^4 \frac{\text{Дж}}{\text{кг}}$
теплоёмкость алюминия	$920 \frac{\text{Дж}}{\text{кг} \cdot ^\circ\text{C}}$	теплота плавления стали	$7,8 \cdot 10^4 \frac{\text{Дж}}{\text{кг}}$
теплоёмкость стали	$500 \frac{\text{Дж}}{\text{кг} \cdot ^\circ\text{C}}$	теплота плавления олова	$5,9 \cdot 10^4 \frac{\text{Дж}}{\text{кг}}$
теплоёмкость цинка	$400 \frac{\text{Дж}}{\text{кг} \cdot ^\circ\text{C}}$	теплота плавления льда	$3,3 \cdot 10^5 \frac{\text{Дж}}{\text{кг}}$
теплоёмкость меди	$400 \frac{\text{Дж}}{\text{кг} \cdot ^\circ\text{C}}$	теплота сгорания спирта	$2,9 \cdot 10^7 \frac{\text{Дж}}{\text{кг}}$
теплоёмкость олова	$230 \frac{\text{Дж}}{\text{кг} \cdot ^\circ\text{C}}$	теплота сгорания керосина	$4,6 \cdot 10^7 \frac{\text{Дж}}{\text{кг}}$
теплоёмкость свинца	$130 \frac{\text{Дж}}{\text{кг} \cdot ^\circ\text{C}}$	теплота сгорания бензина	$4,6 \cdot 10^7 \frac{\text{Дж}}{\text{кг}}$
теплоёмкость бронзы	$420 \frac{\text{Дж}}{\text{кг} \cdot ^\circ\text{C}}$		

Температура плавления		Температура кипения	
свинца	327 °С	воды	100 °С
олова	232 °С	спирта	78 °С
льда	0 °С		

Удельное электрическое сопротивление, $\frac{\text{Ом} \cdot \text{мм}^2}{\text{м}}$ (при 20 °С)			
серебро	0,016	никелин	0,4
медь	0,017	нихром (сплав)	1,1
алюминий	0,028	фехраль	1,2
железо	0,10		

Нормальные условия: давление 10^5 Па, температура 0 °С



Ответом к заданиям 1, 2, 4, 11–14, 16, 18 и 19 является последовательность цифр. Последовательность цифр записывайте без пробелов, запятых и других дополнительных символов. Ответом к заданиям 3 и 15 является одна цифра, которая соответствует номеру правильного ответа. Ответом к заданиям 5–10 является число. Единицы измерения в ответе указывать не надо. Ответ запишите в поле ответа в тексте работы, а затем перенесите в БЛАНК ОТВЕТОВ № 1 справа от номера соответствующего задания, начиная с первой клеточки. Каждый символ пишите в отдельной клеточке в соответствии с приведёнными в бланке образцами. Ответы на задания 17, 20–25 запишите на БЛАНКЕ ОТВЕТОВ № 2.

- 1 Установите соответствие между физическими величинами и единицами этих величин в Международной системе единиц (СИ). К каждой позиции первого столбца подберите соответствующую позицию из второго столбца и запишите в таблицу выбранные цифры под соответствующими буквами.

ФИЗИЧЕСКИЕ ВЕЛИЧИНЫ

- А) электрическое напряжение
- Б) электрическое сопротивление
- В) электрический заряд

ЕДИНИЦЫ

- 1) ом (1 Ом)
- 2) кулон (1 Кл)
- 3) джоуль (1 Дж)
- 4) паскаль (1 Па)
- 5) вольт (1 В)

Ответ:

А	Б	В

- 2 Установите соответствие между формулами для расчёта физических величин, характеризующих прямолинейное движение бруска, и названиями этих величин. В формулах использованы обозначения: \vec{F} – равнодействующая сил, действующих на брусок; s – путь, пройденный бруском из состояния покоя; m – масса бруска. К каждой позиции первого столбца подберите соответствующую позицию из второго столбца и запишите в таблицу выбранные цифры под соответствующими буквами.

ФОРМУЛЫ

- А) $\frac{F}{m}$
- Б) $F \cdot s$

ФИЗИЧЕСКИЕ ВЕЛИЧИНЫ

- 1) работа равнодействующей силы
- 2) модуль ускорения движения бруска
- 3) вектор ускорения
- 4) давление бруска на наклонную плоскость

Ответ:

А	Б

- 3 Любителям порыбачить с помощью кося (остроги) важно учитывать, что видимое положение рыбы не соответствует её реальному положению. Какое физическое явление объясняет смещение видимого положения тела под водой?

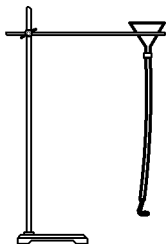
- 1) поглощение света
- 2) преломление света
- 3) дисперсия света
- 4) рассеяние света

Ответ:



4 Прочитайте текст и вставьте на места пропусков слова (словосочетания) из приведённого списка.

К воронке через резиновую трубку подсоединили изогнутую Г-образную стеклянную трубку (см. рисунок).



После того как в воронку наливают воду, она начинает выливаться из стеклянной трубки. При этом в соответствии с законом (А) _____ резиновая трубка отклоняется (Б) _____ движения струи выливающейся из трубки воды. Такое движение в физике называется (В) _____ движением. Примером такого движения в технике является запуск (Г) _____.

Список слов и словосочетаний:

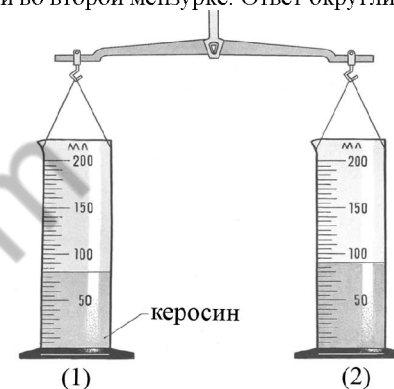
- 1) всемирного тяготения
- 2) сохранения импульса
- 3) равноускоренное
- 4) реактивное
- 5) грузовые автомобили
- 6) космические ракеты
- 7) по направлению
- 8) противоположно направлению

Запишите в таблицу выбранные цифры под соответствующими буквами.

Ответ:

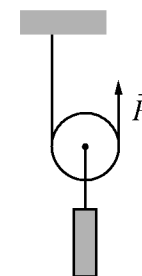
А	Б	В	Г

5 Две одинаковые мензурки с разными жидкостями уравновешены на рычажных весах. В первой мензурке находится керосин. Определите плотность жидкости во второй мензурке. Ответ округлите до десятых.



Ответ: _____ $\frac{\Gamma}{\text{см}^3}$.

6 На рисунке изображён подвижный блок, с помощью которого, прикладывая к свободному концу нити силу, равномерно поднимают груз массой 500 г.



Чему равен модуль прикладываемой силы, если трением пренебречь и блок считать невесомым?

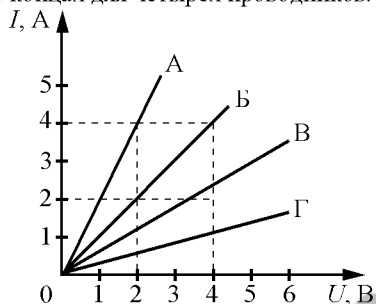
Ответ: _____ Н.



7) Температура в лаборатории поддерживается равной 20 °С. В помещение лаборатории вносят два медных бруска. Первый брусок имеет массу 5 кг и начальную температуру 100 °С, а второй – массу 2 кг и температуру 200 °С. Первый брусок кладут сверху второго. Какую примерно температуру будут иметь оба бруска при достижении теплового равновесия?

Ответ: _____ °С.

8) На рисунке представлены графики зависимости силы тока I в проводнике от напряжения U на его концах для четырёх проводников.



Чему равно электрическое сопротивление проводника А?

Ответ: _____ Ом.

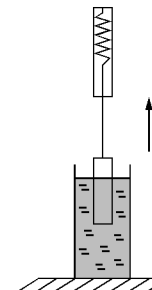
9) Расстояние между плоским зеркалом и изображением предмета равно 6 см. Каково расстояние между предметом и его изображением?

Ответ: _____ см.

10) Чему равно зарядовое число ядра, из которого после двух последовательных α -распадов образуется ядро цезия $^{140}_{58}\text{Cs}$?

Ответ: _____.

11) Груз, подвешенный к динамометру и опущенный в стакан с водой, с постоянной скоростью медленно вытаскивают из воды (см. рисунок). Как по мере выхода груза из воды изменяются выталкивающая сила, действующая на груз со стороны воды, и сила давления воды на дно сосуда?



Для каждой величины определите соответствующий характер изменения:

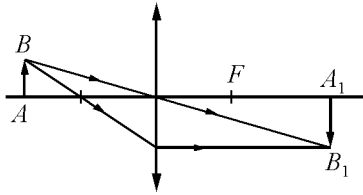
- 1) увеличивается
- 2) уменьшается
- 3) не изменяется

Запишите в таблицу выбранные цифры для каждой физической величины.

Цифры в ответе могут повторяться.

Выталкивающая сила, действующая на груз	Сила давления воды на дно сосуда

- 12 С помощью собирающей линзы получено изображение A_1B_1 предмета AB (см. рисунок). Как изменится фокусное расстояние линзы, а также яркость изображения, если закрыть чёрной бумагой нижнюю половину линзы?



Для каждой величины определите соответствующий характер изменения:

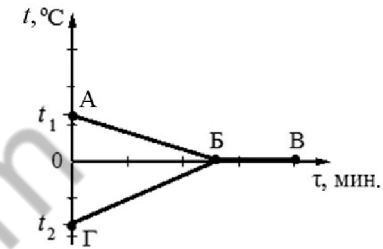
- 1) увеличится
- 2) уменьшится
- 3) не изменится

Запишите в таблицу выбранные цифры для каждой физической величины. Цифры в ответе могут повторяться.

Фокусное расстояние линзы	Яркость изображения предмета



- 13 В калориметр с водой добавили лёд. На рисунке представлены графики зависимости температуры t от времени τ для воды и льда в калориметре. Теплообмен с окружающей средой пренебрежимо мал.



Используя данные графика, выберите из предложенного перечня **два** верных утверждения. Укажите их номера.

- 1) К моменту установления теплового равновесия вся вода в калориметре превратилась в лёд.
- 2) Точка Б соответствует времени, когда в системе вода-лёд установилось состояние теплового равновесия.
- 3) Участок БВ соответствует процессу кристаллизации воды в калориметре.
- 4) Начальная температура смеси равна 0°C .
- 5) Процесс, соответствующий участку ГБ, идёт с поглощением энергии.

Ответ:



- 14) Ниже приведена таблица значений температуры вещества в зависимости от времени нагревания. Мощность нагревателя постоянна. В начальный момент вещество находилось в твёрдом состоянии.


Время, мин.	0	5	10	15	20	25	30	35
Температура, °C	20	150	300	300	300	300	350	400

Из предложенного перечня утверждений выберите **два** правильных. Укажите их номера.

- 1) Удельная теплоёмкость вещества в твёрдом состоянии равна удельной теплоёмкости в жидком состоянии.
- 2) Температура плавления вещества равна 300 °C.
- 3) Можно утверждать, что в момент времени 10 мин. вещество полностью находилось в твёрдом состоянии.
- 4) В интервале времени от 15 до 20 мин. часть вещества находилась в твёрдом состоянии, часть – в жидком состоянии.
- 5) В интервале времени 10–25 мин. внутренняя энергия вещества уменьшалась.

Ответ:

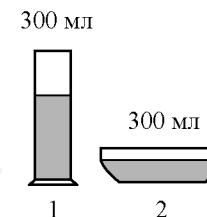
- 15) Силу тока в электрической цепи измеряют с помощью амперметра. Укажите цену деления и предел измерения амперметра, шкала которого представлена на рисунке.



- 1) 0,2 А; 2 А
- 2) 0,1 А; 2 А
- 3) 0,2 А; 10 А
- 4) 0,1 А; 10 А

Ответ:

- 16) В два сосуда налили равное количество воды, находящейся при комнатной температуре (см. рисунок). В результате наблюдений было отмечено, что вода во втором сосуде испарилась быстрее.



Выберите из предложенного перечня **два** утверждения, которые соответствуют результатам проведённых экспериментальных наблюдений. Укажите их номера.

- 1) Скорость испарения жидкости зависит от площади её поверхности.
- 2) При наличии ветра испарение воды происходит быстрее.
- 3) Процесс испарения воды происходит при комнатной температуре.
- 4) Скорость испарения жидкости увеличивается с увеличением её температуры.
- 5) Скорость испарения жидкости зависит от вида жидкости.

Ответ:



Прочитайте текст и выполните задания 19 и 20.

Закон эквивалентности работы и тепла

В 1807 г. физик Ж. Гей-Люссак, изучавший свойства газов, поставил простой опыт. Давно было известно, что сжатый газ, расширяясь, охлаждается. Гей-Люссак заставил газ расширяться в пустоту – в сосуд, воздух из которого был предварительно откачан (рисунок 1). К его удивлению, никакого понижения температуры не произошло, температура газа не изменилась. Исследователь не мог объяснить результат: почему один и тот же газ, одинаково сжатый, расширяясь, охлаждается, если его выпускать прямо в атмосферу, и не охлаждается, если его выпускать в пустой сосуд, где давление равно нулю.

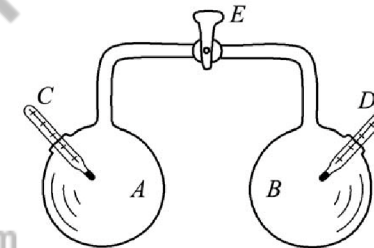


Рисунок 1. Опыт Гей-Люссака

В опыте Гей-Люссака в стеклянном двенадцатилитровом баллоне *A* находится воздух, из такого же баллона *B* воздух откачан. *C* и *D* – чувствительные термометры. После открытия крана *E* воздух перетекает в баллон *B*, пока в обоих баллонах не устанавливается одинаковое давление.

Объяснить опыт удалось немецкому врачу Роберту Майеру. У Майера возникла мысль, что работа и количество теплоты могут превращаться друг в друга. Эта замечательная идея сразу дала возможность Майеру сделать ясным загадочный результат в опыте Гей-Люссака: если количество теплоты и работа взаимно превращаются, то при расширении газа в пустоту, когда он не совершает никакой работы, так как нет никакой силы (давления), противодействующей увеличению его объёма, газ и не должен охлаждаться. Если же при расширении газа ему приходится совершать работу против внешнего давления, его температура должна понижаться.

Замечательный результат Майера был много раз подтверждён прямыми измерениями. Особое значение имели опыты Джоуля, который измерял количество теплоты, необходимое для нагревания жидкости вращающейся в ней мешалкой (рисунок 2). Одновременно измерялись и работа, затраченная на вращение мешалки, и количество теплоты, полученное жидкостью. Как ни менялись условия опыта (брались разные жидкости, разные сосуды и мешалки), результат был один и тот же: всегда работа, совершённая при падении груза, в пределах точности эксперимента равнялась количеству теплоты, выделившемуся в жидкости.

Для ответа на задание 17 используйте БЛАНК ОТВЕТОВ № 2. Запишите сначала номер задания, а затем ответ к нему.

- 17 Используя источник тока, вольтметр, амперметр, ключ, реостат, соединительные провода и резистор, обозначенный *R1*, соберите экспериментальную установку для определения работы электрического тока на резисторе *R1*. При помощи реостата установите в цепи силу тока 0,5 А. Определите работу электрического тока за 5 минут. Абсолютная погрешность измерения силы тока равна $\pm 0,02$ А, абсолютная погрешность измерения напряжения равна $\pm 0,1$ В.

В бланке ответов № 2:

- нарисуйте электрическую схему эксперимента;
- запишите формулу для расчёта работы электрического тока;
- укажите результаты измерения напряжения и силы тока с учётом абсолютных погрешностей измерений;
- запишите значение работы электрического тока.

- 18 Установите соответствие между техническими устройствами и физическими закономерностями, лежащими в основе принципа их действия. К каждой позиции первого столбца подберите соответствующую позицию из второго столбца и запишите в таблицу выбранные цифры под соответствующими буквами.

**ТЕХНИЧЕСКИЕ
УСТРОЙСТВА**

- А) жидкостный термометр
Б) пружинный динамометр

**ФИЗИЧЕСКИЕ
ЗАКОНОМЕРНОСТИ**

- зависимость гидростатического давления от высоты столба жидкости
- зависимость силы упругости от деформации тела
- расширение жидкостей при нагревании
- изменение давления жидкости при изменении её объёма

Ответ:

А	Б

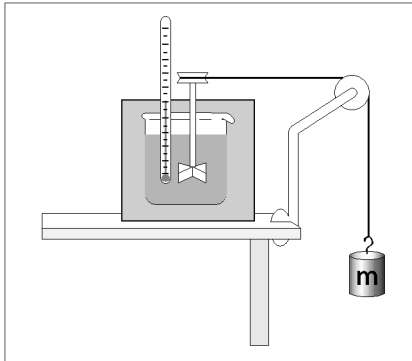


Рисунок 2. Упрощённая схема опыта Джоуля по определению механического эквивалента теплоты

19 Выберите два верных утверждения, которые соответствуют содержанию текста. Запишите в ответ их номера.

- 1) В опыте Ж. Гей-Люссака газ не охлаждался, потому что количество теплоты в этом процессе полностью превращалось в работу.
- 2) В опыте Ж. Гей-Люссака газ не охлаждался, потому что газ не совершал работы.
- 3) В опытах Джоуля внутренняя энергия жидкости увеличивается благодаря совершению работы над жидкостью.
- 4) В опытах Джоуля внутренняя энергия жидкости увеличивается благодаря теплообмену с окружающей средой.
- 5) В 1807 г. Роберт Майер провёл опыты с расширением газа в пустоту.

Ответ:

--	--

Для ответов на задания 20–25 используйте БЛАНК ОТВЕТОВ № 2. Запишите сначала номер задания (20, 21 и т.д.), а затем ответ на него. Полный ответ на задания 20, 21 и 22 должен содержать не только ответ на вопрос, но и его развёрнутое, логически связанное обоснование.

20 В одном из опытов Джоуля перемешивалось 7 кг воды. Мешалка приводилась в движение двумя грузами по 14 кг каждый, которые опускались на 2 м по вертикали. Затем Джоуль поднимал грузы вверх и повторял опыт. Изменится ли, и если изменится, то на сколько, температура воды при 20-кратном повторении опыта? Ответ поясните.



21 Отрицательно заряженная эбонитовая палочка притягивает подвешенную на нити лёгкую гильзу из алюминиевой фольги. Имеет ли гильза электрический заряд? Ответ поясните.

22 Под гайку болта подкладывают широкое металлическое кольцо (так называемую шайбу). Изменится ли при этом (и если изменится, то как) сила давления на деталь, скрепляемую болтом? Ответ поясните.

Для заданий 23–25 необходимо записать полное решение, включающее запись краткого условия задачи (Дано), запись формул, применение которых необходимо и достаточно для решения задачи, а также математические преобразования и расчёты, приводящие к числовому ответу.

23 Туристы поднимались в гору со скоростью $2 \frac{\text{км}}{\text{ч}}$, а затем спускались с неё со скоростью $6 \frac{\text{км}}{\text{ч}}$. Чему равна средняя скорость туристов на всем пути?

24 Шар массой 2 кг, движущийся со скоростью $4 \frac{\text{м}}{\text{с}}$, догоняет шар массой 8 кг, движущийся по той же прямой со скоростью $2 \frac{\text{м}}{\text{с}}$. После столкновения шары движутся вместе. Определите, какое количество теплоты выделилось в результате соударения.

25 Определите массу никелиновой проволоки площадью поперечного сечения 1 мм^2 , из которой изготовлен реостат, если при напряжении на его концах 24 В сила протекающего тока равна 3 А. Плотность никелина принять равной $8800 \frac{\text{кг}}{\text{м}^3}$.



Не забудьте перенести все ответы в бланки ответов № 1 и № 2 в соответствии с инструкцией по выполнению работы. Проверьте, чтобы каждый ответ был записан рядом с номером соответствующего задания.

Номер комплекта оборудования, используемого при
проведении экзамена по ФИЗИКЕ

№ КИМ	№ комплекта оборудования	№ места участника (заполняется вручную)
	3	

100balnik.ru.com
100 БАЛЛОВ
Делаем невозможное возможным

НОМЕР КИМ**Инструкция по выполнению работы**

На выполнение экзаменационной работы по физике отводится 3 часа (180 минут). Экзаменационная работа включает в себя 25 заданий.

Ответы к заданиям 1, 2, 4, 11–14, 16, 18 и 19 записываются в виде последовательности цифр. Ответом к заданиям 3 и 15 является одна цифра, которая соответствует номеру правильного ответа. Ответы к заданиям 5–10 записываются в виде целого числа или конечной десятичной дроби с учётом указанных в ответе единиц. Ответ запишите в поле ответа в тексте работы, а затем перенесите в бланк ответов № 1. Единицы измерения в ответе указывать не надо.

К заданиям 17, 20–25 следует дать развернутый ответ. Задания выполняются на бланке ответов № 2. Запишите сначала номер задания, а затем ответ на него. Ответы записывайте чётко и разборчиво. Задание 17 экспериментальное, и для его выполнения необходимо воспользоваться лабораторным оборудованием.

При вычислениях разрешается использовать линейку и непрограммируемый калькулятор.

Все бланки заполняются яркими чёрными чернилами. Допускается использование гелевой или капиллярной ручки.

При выполнении заданий можно пользоваться черновиком. **Записи в черновике, а также в тексте контрольных измерительных материалов не учитываются при оценивании работы.**

Баллы, полученные Вами за выполненные задания, суммируются. Постарайтесь выполнить как можно больше заданий и набрать наибольшее количество баллов.

После завершения работы проверьте, чтобы ответ на каждое задание в бланках ответов № 1 и № 2 был записан под правильным номером.

Желаем успеха!

Ниже приведены справочные данные, которые могут понадобиться Вам при выполнении работы.

Десятичные приставки		
Наименование	Обозначение	Множитель
гига	Г	10^9
мега	М	10^6
кило	к	10^3
гекто	г	10^2
санти	с	10^{-2}
милли	м	10^{-3}
микро	мк	10^{-6}
нано	н	10^{-9}

Константы	
ускорение свободного падения на Земле	$g = 10 \frac{\text{м}}{\text{с}^2}$
гравитационная постоянная	$G = 6,7 \cdot 10^{-11} \frac{\text{Н} \cdot \text{м}^2}{\text{кг}^2}$
скорость света в вакууме	$c = 3 \cdot 10^8 \frac{\text{м}}{\text{с}}$
элементарный электрический заряд	$e = 1,6 \cdot 10^{-19} \text{ Кл}$

Плотность			
бензин	$710 \frac{\text{кг}}{\text{м}^3}$	древесина (сосна)	$400 \frac{\text{кг}}{\text{м}^3}$
спирт	$800 \frac{\text{кг}}{\text{м}^3}$	парафин	$900 \frac{\text{кг}}{\text{м}^3}$
керосин	$800 \frac{\text{кг}}{\text{м}^3}$	лёд	$900 \frac{\text{кг}}{\text{м}^3}$
масло машинное	$900 \frac{\text{кг}}{\text{м}^3}$	алюминий	$2700 \frac{\text{кг}}{\text{м}^3}$
вода	$1000 \frac{\text{кг}}{\text{м}^3}$	мрамор	$2700 \frac{\text{кг}}{\text{м}^3}$
молоко цельное	$1030 \frac{\text{кг}}{\text{м}^3}$	цинк	$7100 \frac{\text{кг}}{\text{м}^3}$
вода морская	$1030 \frac{\text{кг}}{\text{м}^3}$	сталь, железо	$7800 \frac{\text{кг}}{\text{м}^3}$
глицерин	$1260 \frac{\text{кг}}{\text{м}^3}$	медь	$8900 \frac{\text{кг}}{\text{м}^3}$
ртуть	$13\,600 \frac{\text{кг}}{\text{м}^3}$	свинец	$11\,350 \frac{\text{кг}}{\text{м}^3}$

Удельная			
теплоёмкость воды	$4200 \frac{\text{Дж}}{\text{кг} \cdot ^\circ\text{C}}$	теплота парообразования воды	$2,3 \cdot 10^6 \frac{\text{Дж}}{\text{кг}}$
теплоёмкость спирта	$2400 \frac{\text{Дж}}{\text{кг} \cdot ^\circ\text{C}}$	теплота парообразования спирта	$9,0 \cdot 10^5 \frac{\text{Дж}}{\text{кг}}$
теплоёмкость льда	$2100 \frac{\text{Дж}}{\text{кг} \cdot ^\circ\text{C}}$	теплота плавления свинца	$2,5 \cdot 10^4 \frac{\text{Дж}}{\text{кг}}$
теплоёмкость алюминия	$920 \frac{\text{Дж}}{\text{кг} \cdot ^\circ\text{C}}$	теплота плавления стали	$7,8 \cdot 10^4 \frac{\text{Дж}}{\text{кг}}$
теплоёмкость стали	$500 \frac{\text{Дж}}{\text{кг} \cdot ^\circ\text{C}}$	теплота плавления олова	$5,9 \cdot 10^4 \frac{\text{Дж}}{\text{кг}}$
теплоёмкость цинка	$400 \frac{\text{Дж}}{\text{кг} \cdot ^\circ\text{C}}$	теплота плавления льда	$3,3 \cdot 10^5 \frac{\text{Дж}}{\text{кг}}$
теплоёмкость меди	$400 \frac{\text{Дж}}{\text{кг} \cdot ^\circ\text{C}}$	теплота сгорания спирта	$2,9 \cdot 10^7 \frac{\text{Дж}}{\text{кг}}$
теплоёмкость олова	$230 \frac{\text{Дж}}{\text{кг} \cdot ^\circ\text{C}}$	теплота сгорания керосина	$4,6 \cdot 10^7 \frac{\text{Дж}}{\text{кг}}$
теплоёмкость свинца	$130 \frac{\text{Дж}}{\text{кг} \cdot ^\circ\text{C}}$	теплота сгорания бензина	$4,6 \cdot 10^7 \frac{\text{Дж}}{\text{кг}}$
теплоёмкость бронзы	$420 \frac{\text{Дж}}{\text{кг} \cdot ^\circ\text{C}}$		

Температура плавления		Температура кипения	
свинца	327 °С	воды	100 °С
олова	232 °С	спирта	78 °С
льда	0 °С		

Удельное электрическое сопротивление, $\frac{\text{Ом} \cdot \text{мм}^2}{\text{м}}$ (при 20 °С)			
серебро	0,016	никелин	0,4
медь	0,017	нихром (сплав)	1,1
алюминий	0,028	фехраль	1,2
железо	0,10		

Нормальные условия: давление 10^5 Па, температура 0 °С



Ответом к заданиям 1, 2, 4, 11–14, 16, 18 и 19 является последовательность цифр. Последовательность цифр записывайте без пробелов, запятых и других дополнительных символов. Ответом к заданиям 3 и 15 является одна цифра, которая соответствует номеру правильного ответа. Ответом к заданиям 5–10 является число. Единицы измерения в ответе указывать не надо. Ответ запишите в поле ответа в тексте работы, а затем перенесите в БЛАНК ОТВЕТОВ № 1 справа от номера соответствующего задания, начиная с первой клеточки. Каждый символ пишите в отдельной клеточке в соответствии с приведёнными в бланке образцами. Ответы на задания 17, 20–25 запишите на БЛАНКЕ ОТВЕТОВ № 2.

1 Установите соответствие между физическими величинами и приборами, предназначенными для их измерения. К каждой позиции первого столбца подберите соответствующую позицию из второго столбца и запишите в таблицу выбранные цифры под соответствующими буквами.

ФИЗИЧЕСКИЕ ВЕЛИЧИНЫ

- А) скорость
- Б) ускорение
- В) сила

ПРИБОРЫ

- 1) акселерометр
- 2) динамометр
- 3) манометр
- 4) спидометр
- 5) рычажные весы

Ответ:

А	Б	В

2 Установите соответствие между формулами для расчёта физических величин и названиями этих величин. В формулах использованы обозначения: ρ – плотность; g – ускорение свободного падения; m – масса; h – расстояние. К каждой позиции первого столбца подберите соответствующую позицию из второго столбца и запишите в таблицу выбранные цифры под соответствующими буквами.

ФОРМУЛЫ

- А) mgh
- Б) ρgh

ФИЗИЧЕСКИЕ ВЕЛИЧИНЫ

- 1) гидростатическое давление жидкости на глубине h
- 2) сила давления, действующая на дно сосуда с жидкостью высотой h
- 3) потенциальная энергия тела, поднятого над Землёй на высоту h
- 4) работа равнодействующей силы при перемещении тела на расстояние h

Ответ:

А	Б

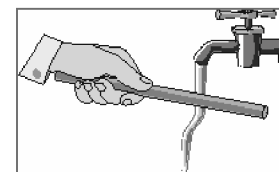
3 При прохождении через земную атмосферу метеорное тело нагревается. Какой способ изменения внутренней энергии проявляется в этом случае?

- 1) теплопроводность
- 2) совершение работы
- 3) тепловое излучение
- 4) конвекция

Ответ:

4 Прочитайте текст и вставьте на места пропусков слова (словосочетания) из приведённого списка.

К тонкой струе воды из водопроводного крана подносят, не дотрагиваясь, положительно заряженную палочку. Струя воды (А) _____ (см. рисунок).



Объясняется это явлением (Б) _____. Электрические заряды в струе воды (В) _____, причём на ближайшей к палочке стороне струи накапливается (Г) _____.

Список слов и словосочетаний:

- 1) магнитное взаимодействие
- 2) электризация через влияние
- 3) положительный заряд
- 4) отрицательный заряд
- 5) перераспределяются
- 6) нейтрализуются
- 7) притягивается к палочке
- 8) отталкивается от палочки

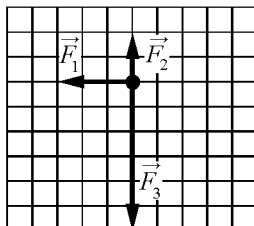
Запишите в таблицу выбранные цифры под соответствующими буквами.

Ответ:

А	Б	В	Г



- 5 На тело действуют три силы, модули которых: $F_1 = 6$ Н; $F_2 = 4$ Н и $F_3 = 12$ Н. Силы действуют в одной плоскости. Направления действия сил показаны на рисунке.



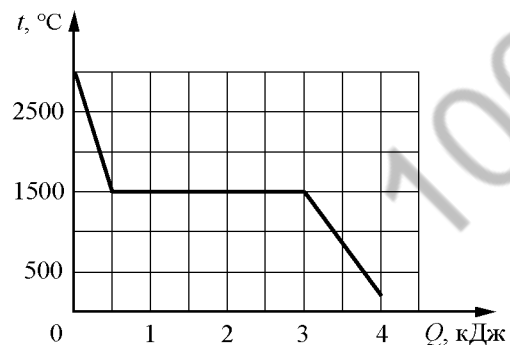
Чему равен модуль равнодействующей этих трёх сил?

Ответ: _____ Н.

- 6 Мяч массой 200 г подбросили с поверхности Земли вертикально вверх. В результате мяч поднялся на высоту 3 м, а затем упал обратно на землю. Чему равна работа силы тяжести на всём пути мяча?

Ответ: _____ Дж.

- 7 На рисунке показан график зависимости температуры металла от отданного им количества теплоты. Масса металла равна 100 г. Первоначально металл находился в жидком состоянии. Какое количество теплоты выделилось при кристаллизации металла?

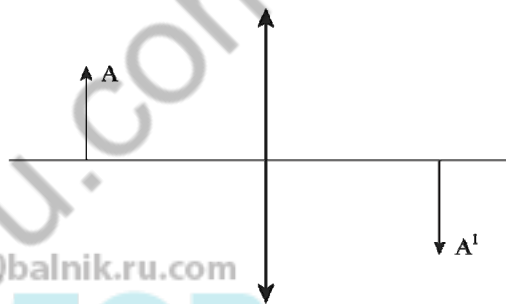


Ответ: _____ кДж.

- 8 Одному из двух одинаковых шариков сообщили заряд -10 нКл, другому — заряд -2 нКл. Затем шарики привели в соприкосновение. Какими станут заряды шариков после соединения?

Ответ: _____ нКл.

- 9 В собирающей линзе оптической силой 5 дптр изображение A^1 предмета A действительное и равное по высоте предмету (см. рисунок). На каком расстоянии от линзы находится предмет A ?



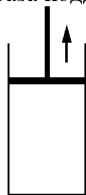
Ответ: _____ м.

- 10 Известно, что в электронной оболочке нейтрального атома изотопа X содержится 5 электронов, а в атомном ядре содержится 6 нейтронов. Сколько нуклонов содержится в ядре этого изотопа?

Ответ: _____.



- 11 В цилиндре под герметичным поршнем находится газ. Поршень перемещают вверх (см. рисунок). Температура газа поддерживается постоянной.



Как изменяются при этом давление газа и его плотность?

Для каждой величины определите соответствующий характер изменения:

- 1) увеличивается
- 2) уменьшается
- 3) не изменяется

Запишите в таблицу выбранные цифры для каждой физической величины.

Цифры в ответе могут повторяться.

Давление газа	Плотность газа

- 12 На кухне в электрическую сеть включена микроволновая печь. Как изменятся общее сопротивление цепи и общая потребляемая электрическая мощность, если дополнительно в сеть включить электрическую кофеварку?

Для каждой величины определите соответствующий характер изменения:

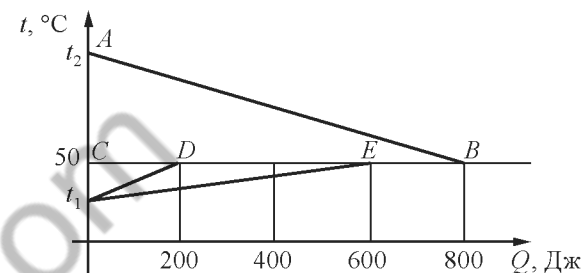
- 1) увеличится
- 2) уменьшится
- 3) не изменится

Запишите в таблицу выбранные цифры для каждой физической величины.

Цифры в ответе могут повторяться.

Общее сопротивление цепи	Общая потребляемая электрическая мощность

- 13 На рисунке графически изображён процесс теплообмена для случая, когда нагретый до температуры t_2 металлический брусок опускают в медный калориметр, содержащий воду температурой t_1 .



Используя рисунок, выберите из предложенного перечня **два** верных утверждения. Укажите их номера.

- 1) Точка D на графике соответствует окончанию процесса нагревания калориметра.
- 2) Точка E на графике соответствует окончанию процесса нагревания калориметра.
- 3) Внутренняя энергия воды в результате теплообмена изменилась на большую величину, чем внутренняя энергия калориметра.
- 4) Внутренняя энергия бруска в результате теплообмена увеличилась на 800 Дж.
- 5) На нагревание воды и калориметра вместе потребовалось количество теплоты, равное 600 Дж.

Ответ:



14 На рисунке представлен фрагмент Периодической системы химических элементов Д.И. Менделеева.

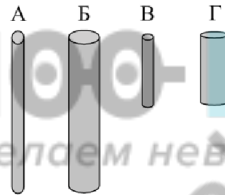
79 Au Золото 197	80 Hg Ртуть 200,61	81 Tl Таллий 204,37	82 Pb Свинец 207,19	83 Bi Висмут 209	84 Po Полоний [210]	85 At Астат [210]	86 Rn Радон [222]
------------------------	--------------------------	---------------------------	---------------------------	------------------------	---------------------------	-------------------------	-------------------------

Используя данные рисунка, из предложенного перечня утверждений выберите **два** правильных. Укажите их номера.

- 1) Радиоактивный распад ядра свинца-187 в ядро ртути-183 сопровождается испусканием альфа-частицы.
- 2) Ядро ртути содержит 80 нейтронов.
- 3) Ядро золота содержит 197 нейтронов.
- 4) Ядро висмута содержит 83 протона.
- 5) Радиоактивный распад ядра свинца-212 в ядро висмута-212 сопровождается испусканием протона.

Ответ:

15 Необходимо экспериментально обнаружить зависимость электрического сопротивления круглого угольного стержня от его длины. Какую из указанных на рисунке пар стержней можно использовать для этой цели?



- 1) А и Б
- 2) В и Г
- 3) А и В
- 4) В и Б

Ответ:

16 Используя термометр и часы, учитель на уроке провёл опыты по исследованию температуры остывающей воды с течением времени. В алюминиевый и пластиковый стаканы он налил одинаковое количество горячей воды. Результаты измерений даны в таблицах 1 и 2.

Таблица 1. Остывание воды в алюминиевом стакане

$t, ^\circ\text{C}$	72	62	55	50	46
$\tau, \text{мин.}$	0	5	10	15	20

Таблица 2. Остывание воды в пластиковом стакане

$t, ^\circ\text{C}$	72	65	60,5	56,7	53,3
$\tau, \text{мин.}$	0	5	10	15	20

Из предложенного перечня выберите **два** утверждения, соответствующих проведённым опытам. Укажите их номера.

- 1) За первые 5 мин. вода в алюминиевом стакане остыла на столько же градусов, на сколько и за следующие 5 мин.
- 2) Чем больше разница между температурой воды и температурой воздуха в комнате, тем скорость остывания выше.
- 3) Температура остывающей воды прямо пропорциональна времени наблюдения.
- 4) Остывание воды в обоих опытах наблюдалось до 46°C .
- 5) В алюминиевом стакане вода остывала быстрее, чем в пластиковом.

Ответ:



Прочитайте текст и выполните задания 19 и 20.

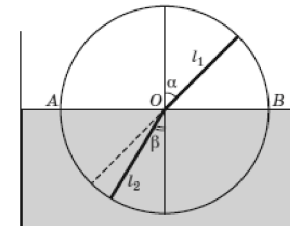
Опыты Птолемея по преломлению света

Оптика – одна из древнейших наук, тесно связанная с потребностями практики на всех этапах своего развития. Прямолинейность распространения света была известна народам Месопотамии за 5 тыс. лет до н.э. и использовалась в Древнем Египте при строительных работах.

Два закона геометрической оптики – закон прямолинейного распространения света и закон отражения света – были описаны знаменитым греческим учёным Евклидом, жившим в III в. до н.э. С помощью этих законов Евклид объяснил целый ряд наблюдаемых явлений, и в частности, явлений отражения света от плоских и даже сферических зеркал. Ученые древности имели также представление о преломлении света и даже пытались установить закон преломления.

Греческий астроном Клавдий Птолемей (около 130 г. н.э.) – автор замечательной книги, которая в течение почти 15 столетий служила основным учебником по астрономии, – написал ещё книгу «Оптика», в которой описал, в частности, явление преломления света. С явлением преломления света Птолемей столкнулся, наблюдая звёзды. Он заметил, что луч света, переходя из одной среды в другую, «ломается». Поэтому звёздный луч, проходя через земную атмосферу, доходит до поверхности Земли не по прямой, а по кривой линии, то есть происходит рефракция. Искривление хода луча происходит из-за того, что плотность воздуха меняется с высотой.

Чтобы изучить закон преломления, Птолемей провёл следующий эксперимент. Он взял круг и укрепил на оси линейки l_1 и l_2 так, чтобы они могли свободно вращаться вокруг неё (см. рисунок).



Птолемей погружал этот круг в воду до диаметра AB и, поворачивая нижнюю линейку, добивался того, чтобы линейки лежали для глаза на одной прямой (если смотреть вдоль верхней линейки). После этого он вынимал круг из воды и сравнивал углы падения α и преломления β .

Для ответа на задание 17 используйте БЛАНК ОТВЕТОВ № 2. Запишите сначала номер задания, а затем ответ к нему.

- 17 Используя источник тока, вольтметр, амперметр, ключ, реостат, соединительные провода и резистор, обозначенный R_1 , соберите экспериментальную установку для определения работы электрического тока на резисторе R_1 . При помощи реостата установите в цепи силу тока $0,4$ А. Определите работу электрического тока за 10 минут. Абсолютная погрешность измерения силы тока равна $\pm 0,02$ А, абсолютная погрешность измерения напряжения равна $\pm 0,1$ В.

В бланке ответов № 2:

- 1) нарисуйте электрическую схему эксперимента;
- 2) запишите формулу для расчёта работы электрического тока;
- 3) укажите результаты измерения напряжения и силы тока с учётом абсолютных погрешностей измерений;
- 4) запишите значение работы электрического тока.

- 18 Установите соответствие между техническими устройствами и физическими закономерностями, лежащими в основе принципа их действия. К каждой позиции первого столбца подберите соответствующую позицию из второго столбца и запишите в таблицу выбранные цифры под соответствующими буквами.

**ТЕХНИЧЕСКИЕ
УСТРОЙСТВА**

- А) жидкостный термометр
Б) пружинный динамометр

**ФИЗИЧЕСКИЕ
ЗАКОНОМЕРНОСТИ**

- 1) зависимость гидростатического давления от высоты столба жидкости
- 2) зависимость силы упругости от деформации тела
- 3) расширение жидкостей при нагревании
- 4) изменение давления жидкости при изменении её объёма

Ответ:

А	Б

Он измерял углы с точностью до $0,5^\circ$. Числа, полученные Птолемеем, представлены в таблице.

№ опыта	1	2	3	4	5	6	7	8
Угол падения α , град.	10	20	30	40	50	60	70	80
Угол преломления β , град.	8	15,5	22,5	28	35	40,5	45	50

Эксперимент Птолемея был поставлен правильно, ученый получил достаточно хорошие численные значения для углов падения и преломления, однако закона он установить не сумел.

19 Выберите два верных утверждения, которые соответствуют содержанию текста. Запишите в ответ их номера.

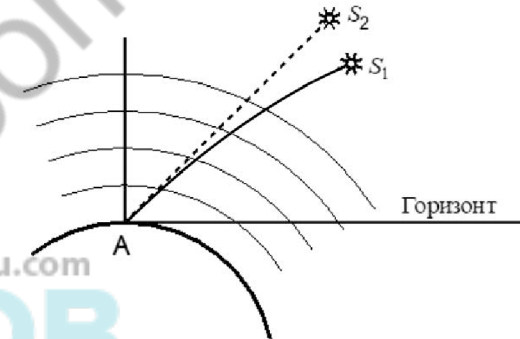
- 1) Все законы геометрической оптики были открыты в III в. до нашей эры.
- 2) Под рефракцией в тексте понимается явление изменения направления распространения светового луча из-за преломления в атмосфере Земли.
- 3) Рефракция проявляется в огибании световым лучом препятствий и, тем самым, в отклонении от прямолинейного распространения.
- 4) Согласно опытам Птолемея, с увеличением угла падения линейно увеличивается угол преломления.
- 5) Птолемей установил, что при переходе луча света из воздуха в воду угол преломления меньше угла падения.

Ответ:

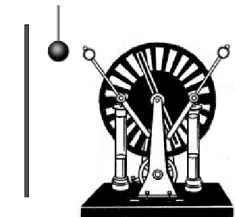


Для ответов на задания 20–25 используйте БЛАНК ОТВЕТОВ № 2. Запишите сначала номер задания (20, 21 и т.д.), а затем ответ на него. Полный ответ на задания 20, 21 и 22 должен содержать не только ответ на вопрос, но и его развёрнутое, логически связанное обоснование.

20 В спокойной атмосфере наблюдают положение звёзд, не находящихся на перпендикуляре к поверхности Земли в точке A , где находится наблюдатель. На рисунке схематично показано истинное и видимое положения для одной из звёзд. Какое положение (S_1 или S_2) может соответствовать истинному положению звезды, а какое – видимому? Ответ поясните.



21 Незаряженный проводящий легкий шарик висит на шелковой нити между заряженным кондуктором электрофорной машины и незаряженной проводящей пластиной. Что произойдет, если к шарiku приблизить кондуктор электрофорной машины? Ответ поясните.



22 Шприц с набранным лекарством держат вертикально иглой вниз. Что препятствует вытеканию лекарства из шприца. Ответ поясните.

Для заданий 23–25 необходимо записать полное решение, включающее запись краткого условия задачи (Дано), запись формул, применение которых необходимо и достаточно для решения задачи, а также математические преобразования и расчёты, приводящие к числовому ответу.

23 При вертикальном броске телу сообщили кинетическую энергию 50 Дж. Чему равна масса этого тела, если максимальная высота его подъёма равна 10 м? Сопротивлением воздуха пренебречь.

24 Стальная пуля пробивает деревянную стену. Скорость пули до удара о стену равна $400 \frac{\text{м}}{\text{с}}$, а после прохождения стены – $300 \frac{\text{м}}{\text{с}}$. На сколько изменится температура пули, если считать, что выделившееся при ударе количество теплоты целиком пошло на нагревание пули?

25 Две спирали электроплитки сопротивлением по 10 Ом каждая соединены последовательно и включены в сеть. Каково напряжение сети, если вода массой 1 кг закипит на этой плитке через 174 с? Начальная температура воды равна 20 °С, а КПД процесса равен 80%. (Полезной считается энергия, необходимая для нагревания воды.)



Не забудьте перенести все ответы в бланки ответов №1 и №2 в соответствии с инструкцией по выполнению работы. Проверьте, чтобы каждый ответ был записан рядом с номером соответствующего задания.

Номер комплекта оборудования, используемого при
проведении экзамена по ФИЗИКЕ

№ КИМ	№ комплекта оборудования	№ места участника <i>(заполняется вручную)</i>
	3	

100balnik.ru.com
100 БАЛЛОВ
Делаем невозможное возможным