

НОМЕР КИМ**Инструкция по выполнению работы**

На выполнение экзаменационной работы по физике отводится 3 часа (180 минут). Экзаменационная работа включает в себя 25 заданий.

Ответы к заданиям 1, 2, 4, 11–14, 16, 18 и 19 записываются в виде последовательности цифр. Ответом к заданиям 3 и 15 является одна цифра, которая соответствует номеру правильного ответа. Ответы к заданиям 5–10 записываются в виде целого числа или конечной десятичной дроби с учётом указанных в ответе единиц. Ответ запишите в поле ответа в тексте работы, а затем перенесите в бланк ответов № 1. Единицы измерения в ответе указывать не надо.

К заданиям 17, 20–25 следует дать развернутый ответ. Задания выполняются на бланке ответов № 2. Запишите сначала номер задания, а затем ответ на него. Ответы записывайте чётко и разборчиво. Задание 17 экспериментальное, и для его выполнения необходимо воспользоваться лабораторным оборудованием.

При вычислениях разрешается использовать линейку и непрограммируемый калькулятор.

Все бланки заполняются яркими чёрными чернилами. Допускается использование гелевой или капиллярной ручки.

При выполнении заданий можно пользоваться черновиком. **Записи в черновике, а также в тексте контрольных измерительных материалов не учитываются при оценивании работы.**

Баллы, полученные Вами за выполненные задания, суммируются. Постарайтесь выполнить как можно больше заданий и набрать наибольшее количество баллов.

После завершения работы проверьте, чтобы ответ на каждое задание в бланках ответов № 1 и № 2 был записан под правильным номером.

Желаем успеха!

Ниже приведены справочные данные, которые могут понадобиться Вам при выполнении работы.

Десятичные приставки		
Наименование	Обозначение	Множитель
гига	Г	10^9
мега	М	10^6
кило	к	10^3
гекто	г	10^2
санти	с	10^{-2}
милли	м	10^{-3}
микро	мк	10^{-6}
нано	н	10^{-9}

Константы	
ускорение свободного падения на Земле	$g = 10 \frac{\text{м}}{\text{с}^2}$
гравитационная постоянная	$G = 6,7 \cdot 10^{-11} \frac{\text{Н} \cdot \text{м}^2}{\text{кг}^2}$
скорость света в вакууме	$c = 3 \cdot 10^8 \frac{\text{м}}{\text{с}}$
элементарный электрический заряд	$e = 1,6 \cdot 10^{-19} \text{ Кл}$

Плотность			
бензин	$710 \frac{\text{кг}}{\text{м}^3}$	древесина (сосна)	$400 \frac{\text{кг}}{\text{м}^3}$
спирт	$800 \frac{\text{кг}}{\text{м}^3}$	парафин	$900 \frac{\text{кг}}{\text{м}^3}$
керосин	$800 \frac{\text{кг}}{\text{м}^3}$	лёд	$900 \frac{\text{кг}}{\text{м}^3}$
масло машинное	$900 \frac{\text{кг}}{\text{м}^3}$	алюминий	$2700 \frac{\text{кг}}{\text{м}^3}$
вода	$1000 \frac{\text{кг}}{\text{м}^3}$	мрамор	$2700 \frac{\text{кг}}{\text{м}^3}$
молоко цельное	$1030 \frac{\text{кг}}{\text{м}^3}$	цинк	$7100 \frac{\text{кг}}{\text{м}^3}$
вода морская	$1030 \frac{\text{кг}}{\text{м}^3}$	сталь, железо	$7800 \frac{\text{кг}}{\text{м}^3}$
глицерин	$1260 \frac{\text{кг}}{\text{м}^3}$	медь	$8900 \frac{\text{кг}}{\text{м}^3}$
ртуть	$13\,600 \frac{\text{кг}}{\text{м}^3}$	свинец	$11\,350 \frac{\text{кг}}{\text{м}^3}$

Удельная			
теплоёмкость воды	$4200 \frac{\text{Дж}}{\text{кг} \cdot ^\circ\text{C}}$	теплота парообразования воды	$2,3 \cdot 10^6 \frac{\text{Дж}}{\text{кг}}$
теплоёмкость спирта	$2400 \frac{\text{Дж}}{\text{кг} \cdot ^\circ\text{C}}$	теплота парообразования спирта	$9,0 \cdot 10^5 \frac{\text{Дж}}{\text{кг}}$
теплоёмкость льда	$2100 \frac{\text{Дж}}{\text{кг} \cdot ^\circ\text{C}}$	теплота плавления свинца	$2,5 \cdot 10^4 \frac{\text{Дж}}{\text{кг}}$
теплоёмкость алюминия	$920 \frac{\text{Дж}}{\text{кг} \cdot ^\circ\text{C}}$	теплота плавления стали	$7,8 \cdot 10^4 \frac{\text{Дж}}{\text{кг}}$
теплоёмкость стали	$500 \frac{\text{Дж}}{\text{кг} \cdot ^\circ\text{C}}$	теплота плавления олова	$5,9 \cdot 10^4 \frac{\text{Дж}}{\text{кг}}$
теплоёмкость цинка	$400 \frac{\text{Дж}}{\text{кг} \cdot ^\circ\text{C}}$	теплота плавления льда	$3,3 \cdot 10^5 \frac{\text{Дж}}{\text{кг}}$
теплоёмкость меди	$400 \frac{\text{Дж}}{\text{кг} \cdot ^\circ\text{C}}$	теплота сгорания спирта	$2,9 \cdot 10^7 \frac{\text{Дж}}{\text{кг}}$
теплоёмкость олова	$230 \frac{\text{Дж}}{\text{кг} \cdot ^\circ\text{C}}$	теплота сгорания керосина	$4,6 \cdot 10^7 \frac{\text{Дж}}{\text{кг}}$
теплоёмкость свинца	$130 \frac{\text{Дж}}{\text{кг} \cdot ^\circ\text{C}}$	теплота сгорания бензина	$4,6 \cdot 10^7 \frac{\text{Дж}}{\text{кг}}$
теплоёмкость бронзы	$420 \frac{\text{Дж}}{\text{кг} \cdot ^\circ\text{C}}$		

Температура плавления		Температура кипения	
свинца	327 °C	воды	100 °C
олова	232 °C	спирта	78 °C
льда	0 °C		

Удельное электрическое сопротивление, $\frac{\text{Ом} \cdot \text{мм}^2}{\text{м}}$ (при 20 °C)			
серебро	0,016	никелин	0,4
медь	0,017	нихром (сплав)	1,1
алюминий	0,028	фехраль	1,2
железо	0,10		

Нормальные условия: давление 10^5 Па, температура 0 °C



Ответом к заданиям 1, 2, 4, 11–14, 16, 18 и 19 является последовательность цифр. Последовательность цифр записывайте без пробелов, запятых и других дополнительных символов. Ответом к заданиям 3 и 15 является одна цифра, которая соответствует номеру правильного ответа. Ответом к заданиям 5–10 является число. Единицы измерения в ответе указывать не надо. Ответ запишите в поле ответа в тексте работы, а затем перенесите в БЛАНК ОТВЕТОВ № 1 справа от номера соответствующего задания, начиная с первой клеточки. Каждый символ пишите в отдельной клеточке в соответствии с приведёнными в бланке образцами. Ответы на задания 17, 20–25 запишите на БЛАНКЕ ОТВЕТОВ № 2.

1 Установите соответствие между физическими величинами и единицами величин в Международной системе единиц (СИ). К каждой позиции первого столбца подберите соответствующую позицию из второго столбца и запишите в таблицу выбранные цифры под соответствующими буквами. Цифры в ответе могут повторяться.

ФИЗИЧЕСКИЕ ВЕЛИЧИНЫ

- А) внутренняя энергия
- Б) удельная теплота плавления
- В) количество теплоты

ЕДИНИЦЫ

- 1) джоуль (1 Дж)
- 2) джоуль на килограмм ($1 \frac{\text{Дж}}{\text{кг}}$)
- 3) джоуль на килограмм – градус Цельсия ($1 \frac{\text{Дж}}{\text{кг} \cdot ^\circ\text{C}}$)
- 4) джоуль на градус Цельсия ($1 \frac{\text{Дж}}{^\circ\text{C}}$)
- 5) джоуль – килограмм (1 Дж·кг)

Ответ:

А	Б	В

2 Установите соответствие между формулами для расчёта физических величин и названиями этих величин. В формулах использованы обозначения: ρ – плотность; g – ускорение свободного падения; m – масса; h – расстояние. К каждой позиции первого столбца подберите соответствующую позицию из второго столбца и запишите в таблицу выбранные цифры под соответствующими буквами.

ФОРМУЛЫ

- А) mgh
- Б) ρgh

ФИЗИЧЕСКИЕ ВЕЛИЧИНЫ

- 1) гидростатическое давление жидкости на глубине h
- 2) сила давления, действующая на дно сосуда с жидкостью высотой h
- 3) потенциальная энергия тела, поднятого над Землёй на высоту h
- 4) работа равнодействующей силы при перемещении тела на расстояние h

Ответ:

А	Б

3 Высокая проникающая способность этого излучения послужила причиной его применения для исследования переломов костей и определения местоположения инородных тел (например, пули) в теле человека. В настоящее время применяют несколько методов диагностики с помощью этих лучей.

О какой части электромагнитного излучения идёт речь?

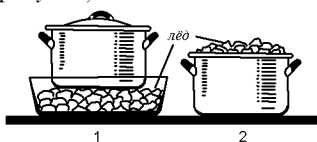
- 1) инфракрасные лучи
- 2) радиолучи
- 3) рентгеновские лучи
- 4) ультрафиолетовые лучи

Ответ:



4 Прочитайте текст и вставьте на места пропусков слова из приведённого списка.

Для охлаждения морса в кастрюле используют лёд: в первом случае лёд кладут вниз, под дно кастрюли, во втором случае — вверх, в перевернутую крышку кастрюли (см. рисунок).



Процесс охлаждения морса происходит быстрее (А) _____ кастрюле. В этом случае процесс охлаждения осуществляется преимущественно за счет (Б) _____. Плотность охлажденных слоев (В) _____, поэтому они будут (Г) _____.

Список слов и словосочетаний:


- 1) теплопроводность
- 2) конвекция
- 3) во второй
- 4) в первой
- 5) меньше
- 6) больше
- 7) всплывать
- 8) опускаться

Запишите в таблицу выбранные цифры под соответствующими буквами.

Ответ:

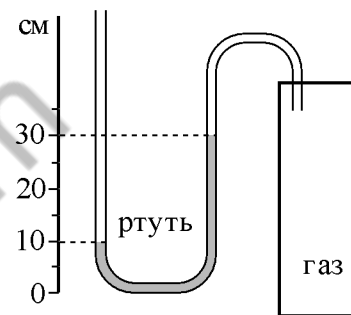
А	Б	В	Г

5 Нить, привязанная одним концом к вбитому в стену гвоздю, разорвется, если другой её конец тянуть с силой не менее 50 Н. С какой наименьшей силой F надо растягивать эту же нить в разные стороны, чтобы она порвалась?



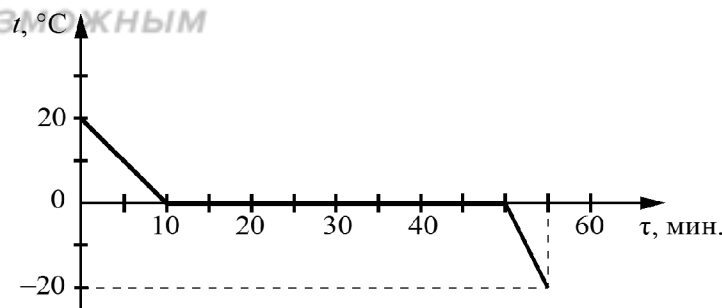
Ответ: _____ Н.

6 Одно из колен U-образного манометра соединили с сосудом, наполненным газом (см. рисунок). Чему равно давление газа в сосуде, если атмосферное давление составляет 760 мм рт. ст.? (В качестве жидкости в манометре используется ртуть.)



Ответ: _____ мм рт. ст.

7 Зависимость температуры 1 кг воды от времени при непрерывном охлаждении представлена на графике. Какое количество теплоты выделилось при охлаждении воды до температуры замерзания?



Ответ: _____ кДж.



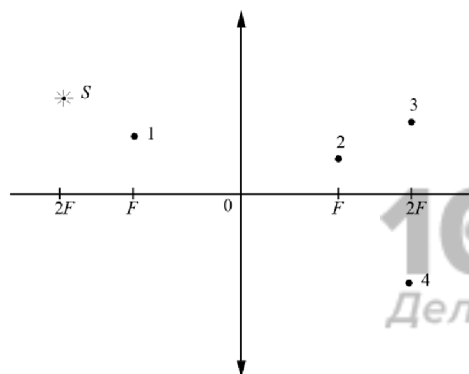
8 Результаты измерения силы тока в резисторе при разных напряжениях на его клеммах показаны в таблице.

$U, В$	0,4	0,6	1,0	1,4	2,0
$I, А$	0,2	0,3	0,5	0,7	1,0

Чему равно сопротивление резистора?

Ответ: _____ Ом.

9 В какой из точек 1–4 будет получено с помощью собирающей линзы изображение источника света S (см. рисунок)?

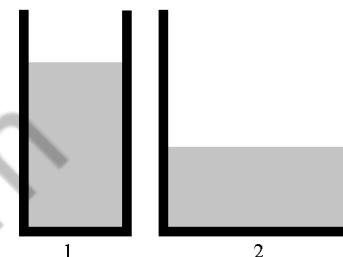


Ответ: _____.

10 Сколько электронов содержится в электронной оболочке нейтрального атома, в ядре которого содержится 3 протона и 4 нейтрона?

Ответ: _____.

11 Воду перелили из цилиндрического сосуда 1 в цилиндрический сосуд 2 (см. рисунок). Как при этом изменились сила тяжести, действующая на воду, и давление воды на дно сосуда?



Для каждой величины определите соответствующий характер изменения:

- 1) увеличилась
- 2) уменьшилась
- 3) не изменилась

Запишите в таблицу выбранные цифры для каждой физической величины. Цифры в ответе могут повторяться.

Сила тяжести, действующая на воду	Давление воды на дно сосуда

12 На кухне в электрическую сеть включен холодильник. Как изменятся общее сопротивление цепи и общая потребляемая электрическая мощность, если дополнительно к холодильнику включить электрическую мясорубку?

Для каждой величины определите соответствующий характер изменения:

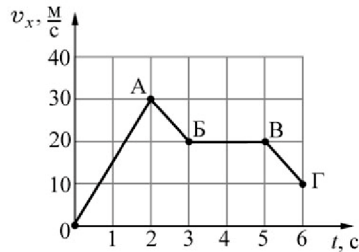
- 1) увеличится
- 2) уменьшится
- 3) не изменится

Запишите в таблицу выбранные цифры для каждой физической величины. Цифры в ответе могут повторяться.

Общее сопротивление цепи	Общая потребляемая электрическая мощность



- 13 Тело массой 3 кг движется вдоль оси Ox инерциальной системы отсчета. На рисунке представлен график зависимости проекции скорости v_x этого тела от времени t .



Используя график, выберите из предложенного перечня **два** верных утверждения. Укажите их номера.

- 1) На участке OA на тело действовала равнодействующая сила, равная по модулю 90 Н.
- 2) На участке AB тело двигалось с ускорением, модуль которого равен $10 \frac{m}{c^2}$.
- 3) На участке BB тело покоилось.
- 4) На участке ВГ тело двигалось со скоростью, равной по модулю $10 \frac{m}{c}$.
- 5) На участках AB и ВГ на тело действовала одинаковая по модулю и направлению равнодействующая сила.

Ответ:

- 14 В справочнике физических свойств различных материалов представлена следующая таблица.

Вещество	Плотность в твёрдом состоянии, $\frac{г}{см^3}$	Удельное электрическое сопротивление (при 20 °С), $\frac{Ом \cdot мм^2}{м}$
Железо	7,8	0,1
Константан (сплав)	8,8	0,5
Латунь	8,4	0,07
Никелин (сплав)	8,8	0,4
Нихром (сплав)	8,4	1,1
Серебро	10,5	0,016

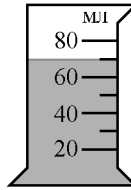
Используя данные таблицы, выберите из предложенного перечня **два** верных утверждения. Укажите их номера.

- 1) При равных размерах самым лёгким окажется проводник из серебра.
- 2) При равных размерах самое маленькое электрическое сопротивление имеет проводник из серебра.
- 3) Проводники из латуни и нихрома одинакового размера имеют одинаковую массу, но разные электрические сопротивления.
- 4) Чтобы при равной длине проводник из железа имел одинаковое электрическое сопротивление с проводником из никелина, он должен иметь в 4 раза большую площадь поперечного сечения.
- 5) При равной площади поперечного сечения проводник из константана длиной 5 м имеет такое же электрическое сопротивление, как и проводник из никелина длиной 4 м.

Ответ:



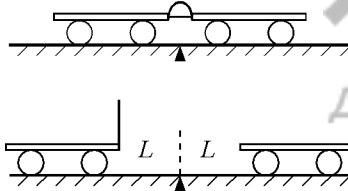
15 На рисунке изображена мензурка с водой. Цена деления шкалы и предел измерений мензурки равны соответственно



- 1) 10 мл; 160 мл
- 2) 10 мл; 80 мл
- 3) 20 мл; 80 мл
- 4) 80 мл; 20 мл

Ответ:

16 Учитель провёл следующий опыт. Взял две одинаковые тележки, к одной из которых прикрепил лёгкую упругую стальную пластинку. Согнул эту пластинку и связал её ниткой, а вторую тележку приставил к первой так, чтобы она плотно соприкасалась с другим концом пластинки. После пережатия нити пластинка выпрямилась, и обе тележки разъехались на одинаковые расстояния (см. рисунок).



Выберите из предложенного перечня **два** утверждения, которые соответствуют результатам проведённых экспериментальных наблюдений. Укажите их номера.

- 1) Тележки взаимодействуют друг с другом силами, направленными в противоположные стороны.
- 2) Ускорения, приобретаемые тележками, зависят от массы тележек.
- 3) Расстояния, на которые разъезжаются тележки, зависят от упругих свойств пластинки.
- 4) Расстояния, на которые разъезжаются тележки, зависят от трения между колёсами тележек и поверхностью демонстрационного стола.
- 5) Ускорения, приобретённые тележками при распрямлении пластинки, равны по модулю.

Ответ:

Для ответа на задание 17 используйте БЛАНК ОТВЕТОВ № 2. Запишите сначала номер задания, а затем ответ к нему.

17 Используя источник тока, вольтметр, амперметр, ключ, реостат, соединительные провода и резистор, обозначенный R_3 , соберите экспериментальную установку для определения работы электрического тока на резисторе R_3 . При помощи реостата установите в цепи силу тока 0,3 А. Определите работу электрического тока за 10 минут. Абсолютная погрешность измерения силы тока равна $\pm 0,02$ А, абсолютная погрешность измерения напряжения равна $\pm 0,1$ В.

В бланке ответов № 2:

- 1) нарисуйте электрическую схему эксперимента;
- 2) запишите формулу для расчёта работы электрического тока;
- 3) укажите результаты измерения напряжения и силы тока с учётом абсолютных погрешностей измерений;
- 4) запишите значение работы электрического тока.

18 Установите соответствие между техническими устройствами и физическими явлениями, лежащими в основе их работы. К каждой позиции первого столбца подберите соответствующую позицию из второго столбца и запишите в таблицу выбранные цифры под соответствующими буквами.

ТЕХНИЧЕСКИЕ УСТРОЙСТВА	ФИЗИЧЕСКИЕ ЯВЛЕНИЯ
А) электрический двигатель	1) действие магнитного поля на проводник с током
Б) двигатель внутреннего сгорания	2) превращение внутренней энергии в механическую
	3) превращение механической энергии во внутреннюю
	4) электромагнитная индукция

Ответ:

А	Б



Прочитайте текст и выполните задания 19 и 20.

Зимний водопровод на даче

Такое свойство грунта, как его промерзание, – важный фактор, который следует учитывать при возведении нового жилого или промышленного здания. Скорость и глубина промерзания грунта зависят от многих составляющих: от самого типа породы (см. таблицу); влажности грунта; значений отрицательных температур; наличия снегового покрова и др.

Нормативная глубина промерзания почвы в некоторых городах России

Город	Глубина промерзания грунта, м		
	суглинки и глины	песок мелкий, супесь	песок крупный, гравелистый
Архангельск	1,56	1,90	2,04
Вологда	1,43	1,74	1,86
Екатеринбург	1,57	1,91	2,04
Казань	1,43	1,75	1,87
Курск	1,06	1,29	1,38
Москва	1,10	1,34	1,44

Для функционирования водопровода в зимнее время трубы укладывают в грунт ниже уровня промерзания земли. Трубы, как правило, утепляют подстилкой из песка или полипропиленовыми чехлами. Однако всегда существует участок водопровода, подводящий воду непосредственно в дом и нуждающийся в дополнительной защите от промерзания. Одним из решений в этом случае является использование на этом участке водопровода специального кабеля, который помещается в трубу и подогревает на этом участке воду.

Саморегулирующийся греющий кабель – разновидность нагревательного проводника, который способен самостоятельно изменять выделение количества теплоты в зависимости от температуры окружающей среды. Устройство саморегулирующегося проводника представлено на рисунке 1.

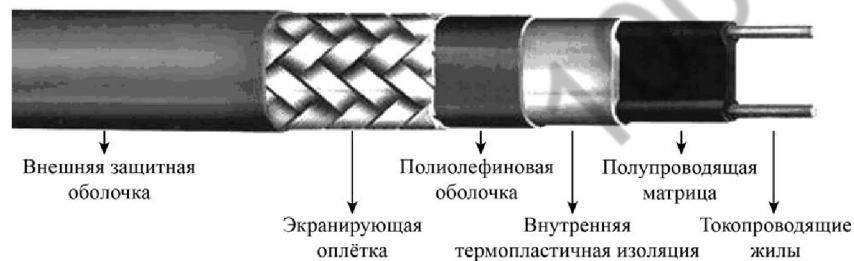


Рисунок 1. Устройство саморегулирующегося проводника

Основным устройством в конструкции является нагревательная проводящая матрица. Отдельные участки (нагревательные элементы) матрицы подсоединяются параллельно к токопроводящим медным проводникам, которые в свою очередь подключены к внешнему источнику тока. Принцип работы полимерной матрицы заключается в следующем: при уменьшении температуры на любом участке матрицы электрическое сопротивление уменьшается. Потребляемая мощность при этом увеличивается, и элемент нагревается до более высокой температуры. И наоборот, при нагревании матрицы потребляемая мощность начинает снижаться. Таким образом достигается терморегуляция (рисунок 2).

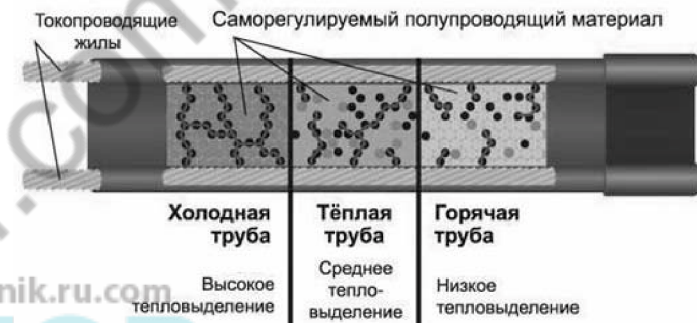


Рисунок 2. Как регулируется температура

Слой изоляции, защитной экранирующей оплётки, внешней оболочки выполняют функции термозащиты, а также защиты от механических и электромагнитных внешних воздействий.

19 Выберите два верных утверждения, которые соответствуют содержанию текста. Запишите в ответ их номера.

- 1) Глубина промерзания грунта в Вологде больше глубины промерзания грунта в Екатеринбурге.
- 2) При уменьшении температуры на одном из участков нагревательной матрицы саморегулирующегося кабеля электрическое сопротивление участка уменьшается, а сила тока на нём увеличивается.
- 3) По мере нагревания матрицы саморегулирующегося кабеля потребляемая электрическая мощность резко увеличивается.
- 4) Для одной и той же местности глубина промерзания песчаных почв на 20% и более превышает глубину промерзания глинистых и суглинистых почв.
- 5) В водопроводной трубе с помещённым в неё саморегулирующимся греющим кабелем нагревание воды происходит преимущественно за счёт энергии, выделяющейся при прохождении электрического тока по медным проводникам.

Ответ:



Для ответов на задания 20–25 используйте БЛАНК ОТВЕТОВ № 2. Запишите сначала номер задания (20, 21 и т.д.), а затем ответ на него. Полный ответ на задания 20, 21 и 22 должен содержать не только ответ на вопрос, но и его развернутое, логически связанное обоснование.

20 Зависит ли, и если зависит, то как, глубина промерзания почвы от высоты снежного покрова при прочих равных условиях? Ответ поясните.

21 Два тела, имеющие одинаковые температуру и массу – одно медное, другое свинцовое – упали на Землю с одинаковой высоты. Какое из тел нагрелось при ударе о Землю до более высокой температуры? Почему? Изменением внутренней энергии Земли и сопротивлением воздуха пренебречь.

22 Что произойдет с осадкой корабля при переходе из реки с пресной водой в море с солёной водой? Почему? (Осадка – глубина погружения корабля в воду.)

Для заданий 23–25 необходимо записать полное решение, включающее запись краткого условия задачи (Дано), запись формул, применение которых необходимо и достаточно для решения задачи, а также математические преобразования и расчёты, приводящие к числовому ответу.

23 Брусок массой 100 г покоится на горизонтальной поверхности. Какую силу, направленную горизонтально, нужно приложить к бруску, чтобы он мог двигаться с ускорением $2\frac{M}{C^2}$? Коэффициент трения между бруском и поверхностью равен 0,1.

24 Какой путь прошел автомобиль, если при средней скорости $100\frac{KM}{ч}$ его двигатель израсходовал 30 кг бензина? Механическая мощность двигателя автомобиля равна 46 кВт, КПД двигателя равен 36%.

25

Электрический нагреватель за 20 мин доводит до кипения 2,2 кг воды, начальная температура которой равна 10 °С. Сила тока в нагревателе равна 7 А, КПД нагревателя равен 45%. Чему равно напряжение в электрической сети?



Не забудьте перенести все ответы в бланки ответов № 1 и № 2 в соответствии с инструкцией по выполнению работы. Проверьте, чтобы каждый ответ был записан рядом с номером соответствующего задания.

100balnik.ru.com

БАЛНИК.РУ
100balnik.ru.com
Делаем невозможное возможным

Номер комплекта оборудования, используемого при
проведении экзамена по ФИЗИКЕ

№ КИМ	№ комплекта оборудования	№ места участника <i>(заполняется вручную)</i>
	3	

100balnik.ru.com
100 БАЛЛОВ
Делаем невозможное возможным

НОМЕР КИМ**Инструкция по выполнению работы**

На выполнение экзаменационной работы по физике отводится 3 часа (180 минут). Экзаменационная работа включает в себя 25 заданий.

Ответы к заданиям 1, 2, 4, 11–14, 16, 18 и 19 записываются в виде последовательности цифр. Ответом к заданиям 3 и 15 является одна цифра, которая соответствует номеру правильного ответа. Ответы к заданиям 5–10 записываются в виде целого числа или конечной десятичной дроби с учётом указанных в ответе единиц. Ответ запишите в поле ответа в тексте работы, а затем перенесите в бланк ответов № 1. Единицы измерения в ответе указывать не надо.

К заданиям 17, 20–25 следует дать развернутый ответ. Задания выполняются на бланке ответов № 2. Запишите сначала номер задания, а затем ответ на него. Ответы записывайте чётко и разборчиво. Задание 17 экспериментальное, и для его выполнения необходимо воспользоваться лабораторным оборудованием.

При вычислениях разрешается использовать линейку и непрограммируемый калькулятор.

Все бланки заполняются яркими чёрными чернилами. Допускается использование гелевой или капиллярной ручки.

При выполнении заданий можно пользоваться черновиком. **Записи в черновике, а также в тексте контрольных измерительных материалов не учитываются при оценивании работы.**

Баллы, полученные Вами за выполненные задания, суммируются. Постарайтесь выполнить как можно больше заданий и набрать наибольшее количество баллов.

После завершения работы проверьте, чтобы ответ на каждое задание в бланках ответов № 1 и № 2 был записан под правильным номером.

Желаем успеха!

Ниже приведены справочные данные, которые могут понадобиться Вам при выполнении работы.

Десятичные приставки		
Наименование	Обозначение	Множитель
гига	Г	10^9
мега	М	10^6
кило	к	10^3
гекто	г	10^2
санти	с	10^{-2}
милли	м	10^{-3}
микро	мк	10^{-6}
нано	н	10^{-9}

Константы	
ускорение свободного падения на Земле	$g = 10 \frac{\text{м}}{\text{с}^2}$
гравитационная постоянная	$G = 6,7 \cdot 10^{-11} \frac{\text{Н} \cdot \text{м}^2}{\text{кг}^2}$
скорость света в вакууме	$c = 3 \cdot 10^8 \frac{\text{м}}{\text{с}}$
элементарный электрический заряд	$e = 1,6 \cdot 10^{-19} \text{ Кл}$

Плотность			
бензин	$710 \frac{\text{кг}}{\text{м}^3}$	древесина (сосна)	$400 \frac{\text{кг}}{\text{м}^3}$
спирт	$800 \frac{\text{кг}}{\text{м}^3}$	парафин	$900 \frac{\text{кг}}{\text{м}^3}$
керосин	$800 \frac{\text{кг}}{\text{м}^3}$	лёд	$900 \frac{\text{кг}}{\text{м}^3}$
масло машинное	$900 \frac{\text{кг}}{\text{м}^3}$	алюминий	$2700 \frac{\text{кг}}{\text{м}^3}$
вода	$1000 \frac{\text{кг}}{\text{м}^3}$	мрамор	$2700 \frac{\text{кг}}{\text{м}^3}$
молоко цельное	$1030 \frac{\text{кг}}{\text{м}^3}$	цинк	$7100 \frac{\text{кг}}{\text{м}^3}$
вода морская	$1030 \frac{\text{кг}}{\text{м}^3}$	сталь, железо	$7800 \frac{\text{кг}}{\text{м}^3}$
глицерин	$1260 \frac{\text{кг}}{\text{м}^3}$	медь	$8900 \frac{\text{кг}}{\text{м}^3}$
ртуть	$13\,600 \frac{\text{кг}}{\text{м}^3}$	свинец	$11\,350 \frac{\text{кг}}{\text{м}^3}$

Удельная			
теплоёмкость воды	$4200 \frac{\text{Дж}}{\text{кг} \cdot ^\circ\text{C}}$	теплота парообразования воды	$2,3 \cdot 10^6 \frac{\text{Дж}}{\text{кг}}$
теплоёмкость спирта	$2400 \frac{\text{Дж}}{\text{кг} \cdot ^\circ\text{C}}$	теплота парообразования спирта	$9,0 \cdot 10^5 \frac{\text{Дж}}{\text{кг}}$
теплоёмкость льда	$2100 \frac{\text{Дж}}{\text{кг} \cdot ^\circ\text{C}}$	теплота плавления свинца	$2,5 \cdot 10^4 \frac{\text{Дж}}{\text{кг}}$
теплоёмкость алюминия	$920 \frac{\text{Дж}}{\text{кг} \cdot ^\circ\text{C}}$	теплота плавления стали	$7,8 \cdot 10^4 \frac{\text{Дж}}{\text{кг}}$
теплоёмкость стали	$500 \frac{\text{Дж}}{\text{кг} \cdot ^\circ\text{C}}$	теплота плавления олова	$5,9 \cdot 10^4 \frac{\text{Дж}}{\text{кг}}$
теплоёмкость цинка	$400 \frac{\text{Дж}}{\text{кг} \cdot ^\circ\text{C}}$	теплота плавления льда	$3,3 \cdot 10^5 \frac{\text{Дж}}{\text{кг}}$
теплоёмкость меди	$400 \frac{\text{Дж}}{\text{кг} \cdot ^\circ\text{C}}$	теплота сгорания спирта	$2,9 \cdot 10^7 \frac{\text{Дж}}{\text{кг}}$
теплоёмкость олова	$230 \frac{\text{Дж}}{\text{кг} \cdot ^\circ\text{C}}$	теплота сгорания керосина	$4,6 \cdot 10^7 \frac{\text{Дж}}{\text{кг}}$
теплоёмкость свинца	$130 \frac{\text{Дж}}{\text{кг} \cdot ^\circ\text{C}}$	теплота сгорания бензина	$4,6 \cdot 10^7 \frac{\text{Дж}}{\text{кг}}$
теплоёмкость бронзы	$420 \frac{\text{Дж}}{\text{кг} \cdot ^\circ\text{C}}$		

Температура плавления		Температура кипения	
свинца	327 °C	воды	100 °C
олова	232 °C	спирта	78 °C
льда	0 °C		

Удельное электрическое сопротивление, $\frac{\text{Ом} \cdot \text{мм}^2}{\text{м}}$ (при 20 °C)			
серебро	0,016	никелин	0,4
медь	0,017	нихром (сплав)	1,1
алюминий	0,028	фехраль	1,2
железо	0,10		

Нормальные условия: давление 10^5 Па, температура 0 °C



Ответом к заданиям 1, 2, 4, 11–14, 16, 18 и 19 является последовательность цифр. Последовательность цифр записывайте без пробелов, запятых и других дополнительных символов. Ответом к заданиям 3 и 15 является одна цифра, которая соответствует номеру правильного ответа. Ответом к заданиям 5–10 является число. Единицы измерения в ответе указывать не надо. Ответ запишите в поле ответа в тексте работы, а затем перенесите в БЛАНК ОТВЕТОВ № 1 справа от номера соответствующего задания, начиная с первой клеточки. Каждый символ пишите в отдельной клеточке в соответствии с приведёнными в бланке образцами. Ответы на задания 17, 20–25 запишите на БЛАНКЕ ОТВЕТОВ № 2.

1 Установите соответствие между физическими понятиями и примерами. К каждой позиции первого столбца подберите соответствующую позицию из второго столбца и запишите в таблицу выбранные цифры под соответствующими буквами.

ФИЗИЧЕСКИЕ ПОНЯТИЯ

ПРИМЕРЫ

- | | |
|--------------------------------|---------------------------------|
| А) физическая величина | 1) мощность излучения |
| Б) единица физической величины | 2) индивидуальный дозиметр |
| В) физический прибор | 3) естественная радиоактивность |
| | 4) альфа-частица |
| | 5) джоуль |

Ответ:

А	Б	В

2 Установите соответствие между формулами для расчёта физических величин и названиями этих величин. В формулах использованы обозначения: m – масса; v – скорость тела. К каждой позиции первого столбца подберите соответствующую позицию из второго столбца и запишите в таблицу выбранные цифры под соответствующими буквами.

ФОРМУЛЫ

ФИЗИЧЕСКИЕ ВЕЛИЧИНЫ

- | | |
|---------------------|--------------------------------|
| А) mv | 1) ускорение тела |
| Б) $\frac{mv^2}{2}$ | 2) кинетическая энергия тела |
| | 3) сила давления тела на опору |
| | 4) модуль импульса тела |

Ответ:

А	Б

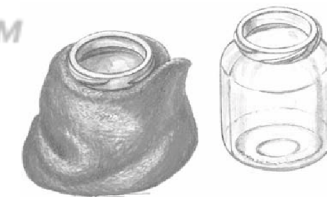
3 Вода за поршнем всасывающего насоса поднимается примерно на 10 м. Какая физическая величина определяет точное значение высоты подъёма воды?

- 1) масса воды
- 2) сила сопротивления
- 3) атмосферное давление
- 4) площадь поршня насоса

Ответ:

4 Прочитайте текст и вставьте на места пропусков слова (словосочетания) из приведённого списка.

Возьмём две одинаковые стеклянные банки и одну из них закутаем в шерстяной шарф (см. рисунок). Нальём в обе банки одинаковое количество холодной воды и поставим банки в тёплое помещение. Если через некоторое время измерить температуру воды в обеих банках, то мы обнаружим, что температура воды в банке с шарфом (А) _____, чем в другой банке. Это объясняется тем, что шерстяные, меховые, пуховые изделия являются (Б)_____ и (В)_____ охлаждение воды. Стекло же является (Г)_____.



Список слов и словосочетаний:

- 1) выше
- 2) ниже
- 3) замедляют
- 4) ускоряют
- 5) хороший проводник тепла
- 6) плохой проводник тепла
- 7) электрический проводник

Запишите в таблицу выбранные цифры под соответствующими буквами.

Ответ:

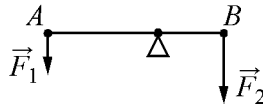
А	Б	В	Г



5 Груз массой 200 г подвесили к пружине. Длина пружины при этом увеличилась на 0,005 м. Чему равна жёсткость пружины?

Ответ: _____ $\frac{\text{Н}}{\text{м}}$.

6 Лёгкий рычаг находится в равновесии под действием двух сил. Сила $F_1 = 6 \text{ Н}$. Чему равна сила F_2 , если длина рычага равна 25 см, а плечо силы F_1 равно 15 см?



Ответ: _____ Н.

7 Какое количество теплоты отдало при остывании медное тело массой 2 кг, взятое при температуре 180 °С, если его конечная температура равна 170 °С?

Ответ: _____ кДж.

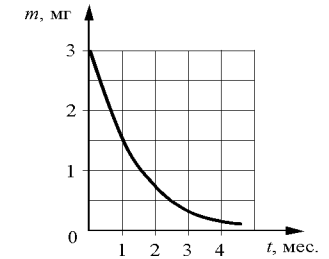
8 В металлическом проводнике протекает постоянный электрический ток силой 0,3 А. Какой заряд при этом проходит через поперечное сечение проводника за 1 мин.?

Ответ: _____ Кл.

9 Предмет, расположенный перед плоским зеркалом, отодвинули от него так, что расстояние между предметом и его изображением увеличилось в 4 раза. Во сколько раз увеличилось расстояние между предметом и зеркалом?

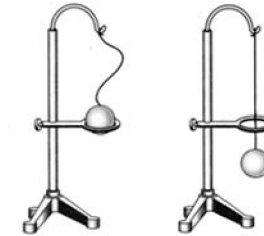
Ответ: в _____ раз(а).

10 На рисунке показан график изменения массы находящегося в пробирке радиоактивного изотопа с течением времени. Определите период полураспада этого изотопа.



Ответ: _____ мес.

11 Нагретый шарик застрял в металлическом кольце, а после остывания проскользнул сквозь кольцо (см. рисунок). Как в процессе остывания шарика изменились его плотность и средняя кинетическая энергия движения частиц вещества, из которого сделан шарик?



Для каждой величины определите соответствующий характер изменения:

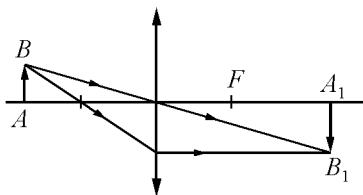
- 1) увеличилась
- 2) уменьшилась
- 3) не изменилась

Запишите в таблицу выбранные цифры для каждой физической величины.

Цифры в ответе могут повторяться.

Плотность шарика	Средняя кинетическая энергия теплового движения частиц

- 12 С помощью собирающей линзы получено изображение A_1B_1 предмета AB (см. рисунок). Как изменится оптическая сила линзы, а также размер изображения, если закрыть чёрной бумагой нижнюю половину линзы?



Для каждой величины определите соответствующий характер изменения:

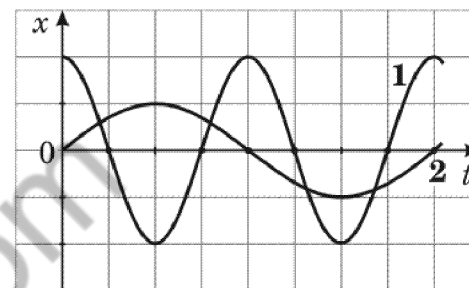
- 1) увеличится
- 2) уменьшится
- 3) не изменится

Запишите в таблицу выбранные цифры для каждой физической величины. Цифры в ответе могут повторяться.

Оптическая сила линзы	Размер изображения предмета



- 13 На рисунке представлены графики зависимости смещения x от времени t при колебаниях двух математических маятников.



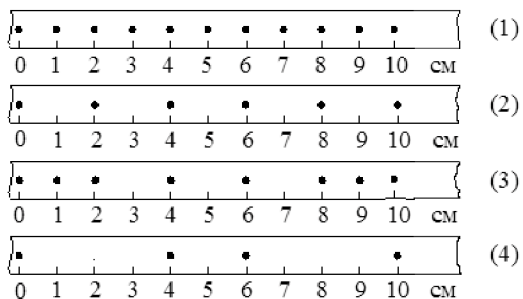
Из предложенного перечня утверждений выберите **два** правильных. Укажите их номера.

- 1) Периоды колебаний маятников различаются в 2 раза.
- 2) Маятники совершают колебания с одинаковой амплитудой, но разной частотой.
- 3) Оба маятника совершают затухающие колебания.
- 4) Частота колебаний второго маятника в 2 раза больше, чем частота колебаний первого маятника.
- 5) Длина нити первого маятника меньше длины нити второго маятника.

Ответ:



- 14 На рисунке точками на линейках показаны положения четырёх движущихся тел, причём положения тел отмечались через каждую секунду.




Используя текст и рисунок, выберите из предложенного перечня **два** верных утверждения. Укажите их номера.

- 1) С наибольшей средней скоростью на участке от 0 до 10 см двигалось тело 2.
- 2) Средняя скорость движения тела 4 на участке от 0 до 10 см равна $4 \frac{\text{м}}{\text{с}}$.
- 3) Средняя скорость движения тела 3 на участке от 0 до 6 см равна $1,5 \frac{\text{см}}{\text{с}}$.
- 4) С наименьшей средней скоростью на участке от 0 до 10 см двигалось тело 1.
- 5) За первые 3 с движения наибольший путь прошло тело 2.

Ответ:

- 15 На границе воздух-стекло световой луч частично отражается, частично преломляется (см. рисунок).



Угол преломления равен примерно

- 1) 30° 2) 35° 3) 55° 4) 60°

Ответ:



- 16 Ученик провёл эксперимент по изучению силы упругости, возникающей при подвешивании грузов различной массы к стальным пружинкам 1 и 2, различающимся только первоначальной длиной. Результаты экспериментальных прямых измерений массы m груза и удлинения $(l-l_0)$ пружинки, а также косвенных измерений коэффициента жесткости k представлены в таблице.

№ опыта		m , кг	$(l-l_0)$, см	k , $\frac{H}{M}$
1	пружинка 1	0,2	4,0	50
2	пружинка 1	0,4	8,0	50
3	пружинка 1	0,8	16,0	50
4	пружинка 2	0,2	4,0	100
5	пружинка 2	0,6	12,0	100

Из предложенного перечня выберите **два** утверждения, соответствующих проведённым опытам. Укажите их номера.

- 1) Жёсткость зависит от упругих свойств материала пружинки.
- 2) Жёсткость зависит от первоначальной длины пружинки.
- 3) Жёсткость прямо пропорциональна массе подвешиваемого груза.
- 4) Жёсткость не зависит от массы подвешиваемого груза.
- 5) Удлинение пружинки обратно пропорционально массе подвешиваемого груза.

Ответ:

--	--

Для ответа на задание 17 используйте БЛАНК ОТВЕТОВ № 2. Запишите сначала номер задания, а затем ответ к нему.

- 17 Используя источник тока, вольтметр, амперметр, ключ, реостат, соединительные провода и резистор, обозначенный R_2 , соберите экспериментальную установку для определения работы электрического тока на резисторе R_2 . При помощи реостата установите в цепи силу тока 0,4 А. Определите работу электрического тока за 6 минут. Абсолютная погрешность измерения силы тока равна $\pm 0,02$ А, абсолютная погрешность измерения напряжения равна $\pm 0,1$ В.

В бланке ответов № 2:

- 1) нарисуйте электрическую схему эксперимента;
- 2) запишите формулу для расчёта работы электрического тока;
- 3) укажите результаты измерения напряжения и силы тока с учётом абсолютных погрешностей измерений;
- 4) запишите значение работы электрического тока.

- 18 Установите соответствие между научными открытиями и именами учёных, которым эти открытия принадлежат. К каждой позиции первого столбца подберите соответствующую позицию из второго столбца.

НАУЧНЫЕ ОТКРЫТИЯ	УЧЁНЫЕ
А) движение искусственных спутников Земли Б) волновая теория света	1) К.Э. Циолковский 2) И. Ньютон 3) С.П. Королёв 4) Х. Гюйгенс

Ответ:

А	Б



Прочитайте текст и выполните задания 19 и 20.

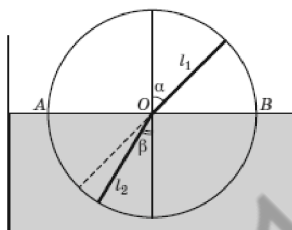
Опыты Птолемея по преломлению света

Оптика – одна из древнейших наук, тесно связанная с потребностями практики на всех этапах своего развития. Прямолинейность распространения света была известна народам Месопотамии за 5 тыс. лет до н.э. и использовалась в Древнем Египте при строительных работах.

Два закона геометрической оптики – закон прямолинейного распространения света и закон отражения света – были описаны знаменитым греческим учёным Евклидом, жившим в III в. до н.э. С помощью этих законов Евклид объяснил целый ряд наблюдаемых явлений, и в частности, явлений отражения света от плоских и даже сферических зеркал. Ученые древности имели также представление о преломлении света и даже пытались установить закон преломления.

Греческий астроном Клавдий Птолемей (около 130 г. н.э.) – автор замечательной книги, которая в течение почти 15 столетий служила основным учебником по астрономии, – написал ещё книгу «Оптика», в которой описал, в частности, явление преломления света. С явлением преломления света Птолемей столкнулся, наблюдая звёзды. Он заметил, что луч света, переходя из одной среды в другую, «ломается». Поэтому звёздный луч, проходя через земную атмосферу, доходит до поверхности Земли не по прямой, а по кривой линии, то есть происходит рефракция. Искривление хода луча происходит из-за того, что плотность воздуха меняется с высотой.

Чтобы изучить закон преломления, Птолемей провёл следующий эксперимент. Он взял круг и укрепил на оси линейки l_1 и l_2 так, чтобы они могли свободно вращаться вокруг неё (см. рисунок).



Птолемей погружал этот круг в воду до диаметра AB и, поворачивая нижнюю линейку, добивался того, чтобы линейки лежали для глаза на одной прямой (если смотреть вдоль верхней линейки). После этого он вынимал круг из воды и сравнивал углы падения α и преломления β .

Он измерял углы с точностью до $0,5^\circ$. Числа, полученные Птолемеем, представлены в таблице.

№ опыта	1	2	3	4	5	6	7	8
Угол падения α , град.	10	20	30	40	50	60	70	80
Угол преломления β , град.	8	15,5	22,5	28	35	40,5	45	50

Эксперимент Птолемея был поставлен правильно, ученый получил достаточно хорошие численные значения для углов падения и преломления, однако закона он установить не сумел.

19 Выберите два верных утверждения, которые соответствуют содержанию текста. Запишите в ответ их номера.

- 1) Согласно опытам Птолемея, с увеличением угла падения линейно увеличивается угол преломления.
- 2) Все законы геометрической оптики были открыты в III в. до нашей эры.
- 3) Птолемей установил, что при переходе луча света из воздуха в воду угол преломления меньше угла падения.
- 4) Под рефракцией в тексте понимается явление изменения направления распространения светового луча из-за преломления в атмосфере Земли.
- 5) Рефракция проявляется в огибании световым лучом препятствий и, тем самым, в отклонении от прямолинейного распространения.

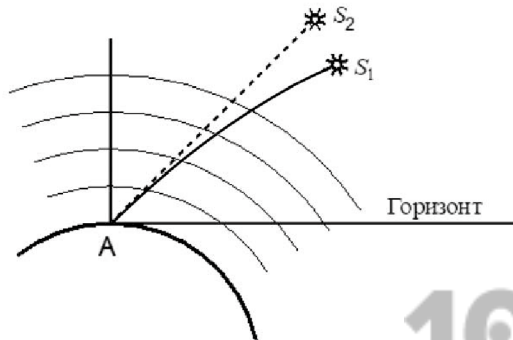
Ответ:

--	--

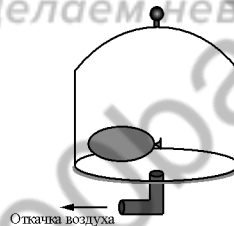


Для ответов на задания 20–25 используйте **БЛАНК ОТВЕТОВ № 2**. Запишите сначала номер задания (20, 21 и т.д.), а затем ответ на него. Полный ответ на задания 20, 21 и 22 должен содержать не только ответ на вопрос, но и его развёрнутое, логически связанное обоснование.

- 20 В спокойной атмосфере наблюдают положение звёзд, не находящихся на перпендикуляре к поверхности Земли в точке A , где находится наблюдатель. На рисунке схематично показано истинное и видимое положения для одной из звёзд. Какое положение (S_1 или S_2) может соответствовать истинному положению звезды, а какое – видимому? Ответ поясните.



- 21 Под герметично закрытым стеклянным колпаком находится завязанный надутый резиновый шарик (см. рисунок). Изменится, и если изменится, то как объём шарика, если откачать частично воздух из-под колпака? Ответ поясните.



- 22 На белой бумаге красными чернилами написан текст. Удастся ли ученику прочесть текст через красное стекло? Ответ поясните.

Для заданий 23–25 необходимо записать полное решение, включающее запись краткого условия задачи (Дано), запись формул, применение которых необходимо и достаточно для решения задачи, а также математические преобразования и расчёты, приводящие к числовому ответу.

- 23 Какую по величине работу должна совершить сила трения для полной остановки тела массой 1000 кг, движущегося по горизонтальной поверхности со скоростью $10 \frac{\text{М}}{\text{с}}$?
- 24 Какая часть энергии падающей воды идёт на её нагревание, если температура воды у основания водопада превышает температуру воды у его вершины на $0,2 \text{ }^\circ\text{C}$? Высота водопада составляет 100 м.
- 25 В электрочайнике с сопротивлением нагревательного элемента 12,1 Ом находится некоторая масса воды при $20 \text{ }^\circ\text{C}$. Электрочайник включили в сеть с напряжением 220 В и забыли выключить. Какова масса воды, находившейся в чайнике, если при КПД, равном 60%, через 11 мин. вода полностью выкипела?



Не забудьте перенести все ответы в бланки ответов № 1 и № 2 в соответствии с инструкцией по выполнению работы. Проверьте, чтобы каждый ответ был записан рядом с номером соответствующего задания.

Номер комплекта оборудования, используемого при
проведении экзамена по ФИЗИКЕ

№ КИМ	№ комплекта оборудования	№ места участника (заполняется вручную)
	3	

100balnik.ru.com
100 БАЛЛОВ
Делаем невозможное возможным

НОМЕР КИМ**Инструкция по выполнению работы**

На выполнение экзаменационной работы по физике отводится 3 часа (180 минут). Экзаменационная работа включает в себя 25 заданий.

Ответы к заданиям 1, 2, 4, 11–14, 16, 18 и 19 записываются в виде последовательности цифр. Ответом к заданиям 3 и 15 является одна цифра, которая соответствует номеру правильного ответа. Ответы к заданиям 5–10 записываются в виде целого числа или конечной десятичной дроби с учётом указанных в ответе единиц. Ответ запишите в поле ответа в тексте работы, а затем перенесите в бланк ответов № 1. Единицы измерения в ответе указывать не надо.

К заданиям 17, 20–25 следует дать развернутый ответ. Задания выполняются на бланке ответов № 2. Запишите сначала номер задания, а затем ответ на него. Ответы записывайте чётко и разборчиво. Задание 17 экспериментальное, и для его выполнения необходимо воспользоваться лабораторным оборудованием.

При вычислениях разрешается использовать линейку и непрограммируемый калькулятор.

Все бланки заполняются яркими чёрными чернилами. Допускается использование гелевой или капиллярной ручки.

При выполнении заданий можно пользоваться черновиком. **Записи в черновике, а также в тексте контрольных измерительных материалов не учитываются при оценивании работы.**

Баллы, полученные Вами за выполненные задания, суммируются. Постарайтесь выполнить как можно больше заданий и набрать наибольшее количество баллов.

После завершения работы проверьте, чтобы ответ на каждое задание в бланках ответов № 1 и № 2 был записан под правильным номером.

Желаем успеха!

Ниже приведены справочные данные, которые могут понадобиться Вам при выполнении работы.

Десятичные приставки		
Наименование	Обозначение	Множитель
гига	Г	10^9
мега	М	10^6
кило	к	10^3
гекто	г	10^2
санти	с	10^{-2}
милли	м	10^{-3}
микро	мк	10^{-6}
нано	н	10^{-9}

Константы	
ускорение свободного падения на Земле	$g = 10 \frac{\text{м}}{\text{с}^2}$
гравитационная постоянная	$G = 6,7 \cdot 10^{-11} \frac{\text{Н} \cdot \text{м}^2}{\text{кг}^2}$
скорость света в вакууме	$c = 3 \cdot 10^8 \frac{\text{м}}{\text{с}}$
элементарный электрический заряд	$e = 1,6 \cdot 10^{-19} \text{ Кл}$

Плотность			
бензин	$710 \frac{\text{кг}}{\text{м}^3}$	древесина (сосна)	$400 \frac{\text{кг}}{\text{м}^3}$
спирт	$800 \frac{\text{кг}}{\text{м}^3}$	парафин	$900 \frac{\text{кг}}{\text{м}^3}$
керосин	$800 \frac{\text{кг}}{\text{м}^3}$	лёд	$900 \frac{\text{кг}}{\text{м}^3}$
масло машинное	$900 \frac{\text{кг}}{\text{м}^3}$	алюминий	$2700 \frac{\text{кг}}{\text{м}^3}$
вода	$1000 \frac{\text{кг}}{\text{м}^3}$	мрамор	$2700 \frac{\text{кг}}{\text{м}^3}$
молоко цельное	$1030 \frac{\text{кг}}{\text{м}^3}$	цинк	$7100 \frac{\text{кг}}{\text{м}^3}$
вода морская	$1030 \frac{\text{кг}}{\text{м}^3}$	сталь, железо	$7800 \frac{\text{кг}}{\text{м}^3}$
глицерин	$1260 \frac{\text{кг}}{\text{м}^3}$	медь	$8900 \frac{\text{кг}}{\text{м}^3}$
ртуть	$13\,600 \frac{\text{кг}}{\text{м}^3}$	свинец	$11\,350 \frac{\text{кг}}{\text{м}^3}$

Удельная			
теплоёмкость воды	$4200 \frac{\text{Дж}}{\text{кг} \cdot ^\circ\text{C}}$	теплота парообразования воды	$2,3 \cdot 10^6 \frac{\text{Дж}}{\text{кг}}$
теплоёмкость спирта	$2400 \frac{\text{Дж}}{\text{кг} \cdot ^\circ\text{C}}$	теплота парообразования спирта	$9,0 \cdot 10^5 \frac{\text{Дж}}{\text{кг}}$
теплоёмкость льда	$2100 \frac{\text{Дж}}{\text{кг} \cdot ^\circ\text{C}}$	теплота плавления свинца	$2,5 \cdot 10^4 \frac{\text{Дж}}{\text{кг}}$
теплоёмкость алюминия	$920 \frac{\text{Дж}}{\text{кг} \cdot ^\circ\text{C}}$	теплота плавления стали	$7,8 \cdot 10^4 \frac{\text{Дж}}{\text{кг}}$
теплоёмкость стали	$500 \frac{\text{Дж}}{\text{кг} \cdot ^\circ\text{C}}$	теплота плавления олова	$5,9 \cdot 10^4 \frac{\text{Дж}}{\text{кг}}$
теплоёмкость цинка	$400 \frac{\text{Дж}}{\text{кг} \cdot ^\circ\text{C}}$	теплота плавления льда	$3,3 \cdot 10^5 \frac{\text{Дж}}{\text{кг}}$
теплоёмкость меди	$400 \frac{\text{Дж}}{\text{кг} \cdot ^\circ\text{C}}$	теплота сгорания спирта	$2,9 \cdot 10^7 \frac{\text{Дж}}{\text{кг}}$
теплоёмкость олова	$230 \frac{\text{Дж}}{\text{кг} \cdot ^\circ\text{C}}$	теплота сгорания керосина	$4,6 \cdot 10^7 \frac{\text{Дж}}{\text{кг}}$
теплоёмкость свинца	$130 \frac{\text{Дж}}{\text{кг} \cdot ^\circ\text{C}}$	теплота сгорания бензина	$4,6 \cdot 10^7 \frac{\text{Дж}}{\text{кг}}$
теплоёмкость бронзы	$420 \frac{\text{Дж}}{\text{кг} \cdot ^\circ\text{C}}$		

Температура плавления		Температура кипения	
свинца	327 °С	воды	100 °С
олова	232 °С	спирта	78 °С
льда	0 °С		

Удельное электрическое сопротивление, $\frac{\text{Ом} \cdot \text{мм}^2}{\text{м}}$ (при 20 °С)			
серебро	0,016	никелин	0,4
медь	0,017	нихром (сплав)	1,1
алюминий	0,028	фехраль	1,2
железо	0,10		

Нормальные условия: давление 10^5 Па, температура 0 °С



Ответом к заданиям 1, 2, 4, 11–14, 16, 18 и 19 является последовательность цифр. Последовательность цифр записывайте без пробелов, запятых и других дополнительных символов. Ответом к заданиям 3 и 15 является одна цифра, которая соответствует номеру правильного ответа. Ответом к заданиям 5–10 является число. Единицы измерения в ответе указывать не надо. Ответ запишите в поле ответа в тексте работы, а затем перенесите в БЛАНК ОТВЕТОВ № 1 справа от номера соответствующего задания, начиная с первой клеточки. Каждый символ пишите в отдельной клеточке в соответствии с приведёнными в бланке образцами. Ответы на задания 17, 20–25 запишите на БЛАНКЕ ОТВЕТОВ № 2.

1 Установите соответствие между физическими величинами и приборами, предназначенными для их измерения. К каждой позиции первого столбца подберите соответствующую позицию из второго столбца и запишите в таблицу выбранные цифры под соответствующими буквами.

ФИЗИЧЕСКИЕ ВЕЛИЧИНЫ

- А) скорость
- Б) объём жидкости
- В) атмосферное давление

ПРИБОРЫ

- 1) барометр
- 2) динамометр
- 3) спидометр
- 4) мензурка
- 5) весы

Ответ:

А	Б	В

2

Установите соответствие между формулами для расчёта физических величин и названиями этих величин. В формулах использованы обозначения: I – сила тока; R – сопротивление проводника; t – время.

К каждой позиции первого столбца подберите соответствующую позицию из второго столбца и запишите в таблицу выбранные цифры под соответствующими буквами.

ФОРМУЛЫ

- А) I^2Rt
- Б) IR

ФИЗИЧЕСКИЕ ВЕЛИЧИНЫ

- 1) напряжение на концах проводника
- 2) удельное сопротивление
- 3) работа электрического тока
- 4) мощность электрического тока

Ответ:

А	Б

3

Дельфины обладают врождённой способностью ориентироваться в пространстве и искать пищу с помощью эхолокации. Какое физическое явление лежит в основе эхолокации?


- 1) отражение звуковой волны
- 2) преломление звуковой волны
- 3) отражение световой волны
- 4) преломление световой волны

Ответ:



4 Прочитайте текст и вставьте на места пропусков слова из приведённого списка.

Между слоями жидкости и газа процесс (А) _____ может осуществляться за счет конвекции и теплопроводности. Рассмотрим опыт (см. рисунок). На дне пробирки с водой находятся кубики льда. Верхний слой воды нагревают на спиртовке. При этом верхний слой воды закипает, а лёд не тает.



При таком способе нагревания тёплые слои воды имеют (Б) _____ плотность, чем холодные, и не опускаются вниз, т.е. (В) _____ не происходит. Вода прогревается только за счет (Г) _____, что происходит довольно долго.

Список слов:

- 1) меньшую
- 2) большую
- 3) теплопередача
- 4) теплоёмкость
- 5) конвекция
- 6) излучение
- 7) теплопроводность

Запишите в таблицу выбранные цифры под соответствующими буквами.

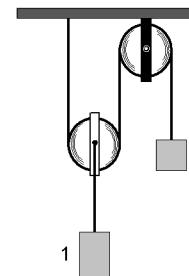
А	Б	В	Г

Ответ:

5 За 4 мин. пропеллер вентилятора совершает 480 оборотов. Чему равна частота вращения лопастей вентилятора?

Ответ: _____ $\frac{1}{с}$.

6 Изображённая на рисунке система находится в равновесии. Блоки и нить очень лёгкие, трение пренебрежимо мало. Масса груза 2 равна 4 кг. Чему равна масса груза 1?

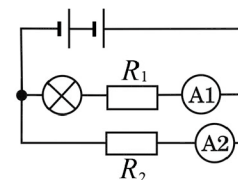


Ответ: _____ кг.

7 Какое количество теплоты выделится при кристаллизации 4 кг свинца, находящегося в жидком состоянии при температуре 327 °С?

Ответ: _____ кДж.

8 В электрической цепи (см. рисунок) амперметр А1 показывает силу тока 1,5 А, амперметр А2 – силу тока 0,5 А.

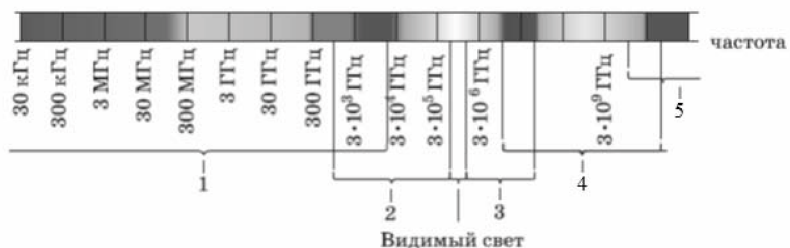


Чему равна сила тока, протекающего через лампу?

Ответ: _____ А.



9. Какая из цифр (1–5) соответствует на рисунке инфракрасному диапазону электромагнитных волн?

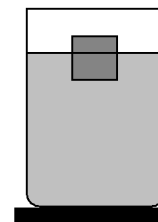


Ответ: _____.

10. Радиоактивный изотоп натрия $^{22}_{11}\text{Na}$ испытывает β^- -распад. Чему равно зарядовое число ядра, полученного в результате этого распада?

Ответ: _____.

11. Деревянный кубик плавает в сосуде, частично заполненном водой (см. рисунок). Как изменятся сила тяжести, действующая на воду, и сила давления воды на дно сосуда, если погрузить этот кубик в воду целиком?



Для каждой величины определите соответствующий характер изменения:

- 1) увеличится
- 2) уменьшится
- 3) не изменится

Запишите в таблицу выбранные цифры для каждой физической величины. Цифры в ответе могут повторяться.

Сила тяжести, действующая на воду	Сила давления воды на дно сосуда

12. Человек переводит взгляд с самолёта, летящего высоко в небе, на стрелки часов на руке. Как при этом меняются фокусное расстояние и оптическая сила хрусталика глаза человека?

Для каждой величины определите соответствующий характер изменения:

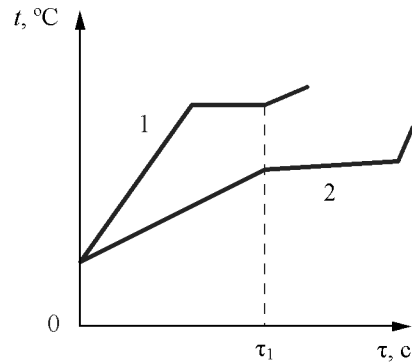
- 1) увеличивается
- 2) уменьшается
- 3) не изменяется

Запишите в таблицу выбранные цифры для каждой физической величины. Цифры в ответе могут повторяться.

Фокусное расстояние хрусталика	Оптическая сила хрусталика



- 13 На рисунке приведены графики зависимости температуры t от времени τ двух веществ одинаковой массы, находившихся первоначально в жидком состоянии, получающих одинаковое количество теплоты в единицу времени.



Из приведённых ниже утверждений выберите **два** верных и запишите их номера.

- 1) Вещество 1 полностью переходит в газообразное состояние, когда начинается кипение вещества 2.
- 2) Удельная теплоёмкость вещества 1 в жидком состоянии больше, чем вещества 2.
- 3) Удельная теплота кипения вещества 1 больше, чем вещества 2.
- 4) Температура кипения вещества 1 выше, чем вещества 2.
- 5) В течение промежутка времени $0-\tau_1$ оба вещества находились только в жидком состоянии.

Ответ:

- 14 Две катушки надеты на железный сердечник (см. рис. 1). Через первую катушку протекает электрический ток (график зависимости силы тока от времени представлен на рис. 2). Вторая катушка замкнута на гальванометр.

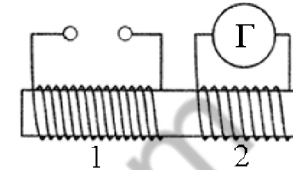


Рис. 1

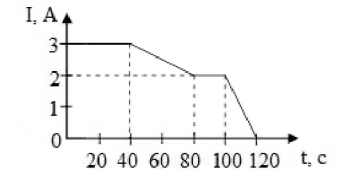


Рис. 2

Используя текст и рисунки, выберите из предложенного перечня **два** верных утверждения. Укажите их номера.

- 1) Заряд, прошедший через первую катушку в интервале времени от 0 до 40 с, равен 120 Кл.
- 2) Индукционный ток, возникающий в катушке 2 в интервале времени от 0 до 40 с, имеет наибольшее значение.
- 3) В течение всего времени наблюдения (от 0 до 120 с) в катушках существует магнитное поле.
- 4) В течение всего времени наблюдения (от 0 до 120 с) в катушке 2 протекает индукционный ток.
- 5) Заряд, прошедший через вторую катушку в интервале времени от 0 до 40 с, равен 80 Кл.

Ответ:



- 15 На рисунках представлены изображения фрагментов двух линеек. Цена деления линеек равна соответственно



Рис. 1



Рис. 2

- 1) 10 см и 1 мм
- 2) 10 см и 1 см
- 3) 100 см и 10 мм
- 4) 100 мм и 10 мм

Ответ:

- 16 Ученик провёл эксперимент по изучению силы упругости, возникающей при подвешивании грузов различной массы к резиновым шнурам разных длины и толщины.

Результаты экспериментальных прямых измерений массы m груза, диаметра поперечного сечения d шнура, его первоначальной длины l_0 и удлинения $(l-l_0)$, а также косвенных измерений коэффициента жёсткости k представлены в таблице.

№ опыта	m , кг	d , мм	l_0 , см	$(l-l_0)$, см	k , $\frac{\text{Н}}{\text{м}}$
1	2,0	3	50	20,0	100
2	2,0	5	100	14,3	140
3	2,0	3	100	40,0	50
4	1,0	3	50	10,0	100

Из предложенного перечня выберите **два** утверждения, соответствующих проведённым опытам. Укажите их номера.

- 1) При увеличении длины шнура его жёсткость увеличивается.
- 2) При увеличении толщины шнура его жёсткость увеличивается.
- 3) Удлинение шнура не зависит от его первоначальной длины.
- 4) Жёсткость шнура не зависит от массы подвешиваемого груза.
- 5) Удлинение шнура зависит от упругих свойств материала, из которого изготовлен исследуемый образец.

Ответ:

Для ответа на задание 17 используйте БЛАНК ОТВЕТОВ № 2. Запишите сначала номер задания, а затем ответ к нему.

- 17 Используя источник тока, вольтметр, амперметр, ключ, реостат, соединительные провода и резистор, обозначенный R_1 , соберите экспериментальную установку для определения работы электрического тока на резисторе R_1 . При помощи реостата установите в цепи силу тока 0,5 А. Определите работу электрического тока за 5 минут. Абсолютная погрешность измерения силы тока равна $\pm 0,02$ А, абсолютная погрешность измерения напряжения равна $\pm 0,1$ В.

В бланке ответов № 2:

- 1) нарисуйте электрическую схему эксперимента;
- 2) запишите формулу для расчёта работы электрического тока;
- 3) укажите результаты измерения напряжения и силы тока с учётом абсолютных погрешностей измерений;
- 4) запишите значение работы электрического тока.

- 18 Установите соответствие между техническими устройствами и действиями электрического тока, лежащими в основе их принципа действия. К каждой позиции первого столбца подберите соответствующую позицию из второго столбца и запишите в таблицу выбранные цифры под соответствующими буквами.

ТЕХНИЧЕСКИЕ
УСТРОЙСТВА

- А) лампа дневного света
- Б) электрический утюг

ДЕЙСТВИЯ
ЭЛЕКТРИЧЕСКОГО ТОКА

- 1) тепловое
- 2) световое
- 3) химическое
- 4) магнитное

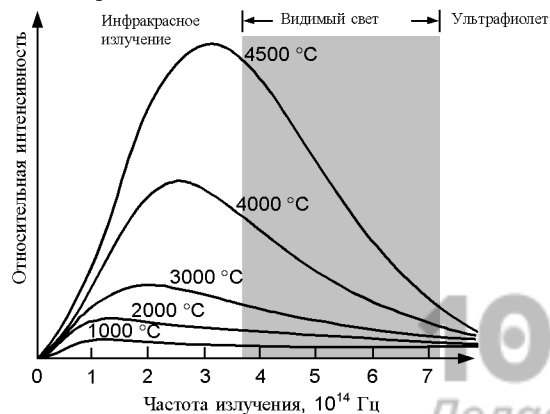
Ответ:

А	Б
<input type="checkbox"/>	<input type="checkbox"/>

Прочитайте текст и выполните задания 19 и 20.

Тепловое излучение тел

Все тела излучают электромагнитные волны. При комнатной температуре это невидимые инфракрасные волны. При нагревании тела максимум излучения смещается в область высоких частот (коротких длин волн). На рисунке представлены кривые интенсивности излучения для тел разной температуры. Так, например, кусок железа, нагретый до 550 °С, излучает в основном волны, воспринимаемые глазом как свет красного цвета. По мере повышения температуры цвет излучения меняется: при 1000 °С становится жёлтым, при 1500 °С – белым.



При этом тела не только излучают, но и поглощают энергию. Тело, полностью поглощающее всё падающее на него излучение, называется абсолютно чёрным. В том случае, если температура тела больше температуры окружающей среды, излучение будет преобладать над поглощением и тело будет охлаждаться.

Теплокровным животным и человеку для поддержания температуры тела необходимо постоянно пополнять энергию. Причём чем меньше размеры тела, тем больше энергии в единицу времени расходует тело в расчёте на единицу массы.

Пища и кислород являются исходными веществами биологических реакций, в результате которых образуются белки, ферменты и другие химические соединения, запасующие энергию. В целом все химические процессы, протекающие в живом организме, называются метаболизмом. Скорость метаболизма зависит от частоты дыхания.



19 Выберите два верных утверждения, которые соответствуют содержанию текста. Запишите в ответ их номера.

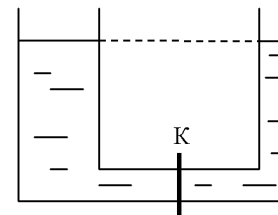
- 1) Абсолютно чёрное тело отражает всё падающее на него излучение.
- 2) Если температура тела больше температуры окружающей среды, то тело не участвует в поглощении энергии.
- 3) При увеличении температуры тела интенсивность его излучения не меняется.
- 4) При увеличении температуры фотосферы звезды максимум в спектре излучения смещается в область меньших длин волн.
- 5) Ежесуточный пищевой рацион, рассчитанный на 1 кг массы тела, у мыши больше, чем у слона.

Ответ:

Для ответов на задания 20–25 используйте БЛАНК ОТВЕТОВ № 2. Запишите сначала номер задания (20, 21 и т.д.), а затем ответ на него. Полный ответ на задания 20, 21 и 22 должен содержать не только ответ на вопрос, но и его развёрнутое, логически связанное обоснование.

20 стакан с горячим чаем оставили в большом прохладном помещении. С течением времени температура чая сравнялась с температурой окружающего воздуха. Как при этом изменилась интенсивность теплового излучения чая? Ответ поясните.

21 Сообщающиеся сосуды, наполненные водой, разделены внизу перегородкой К. Будет ли переливаться вода из одного сосуда в другой, если открыть перегородку? Ответ поясните.



22 У окна, выходящего на северную или южную сторону, лучше располагать термометр для измерения температуры наружного воздуха? Ответ поясните.

Для заданий 23–25 необходимо записать полное решение, включающее запись краткого условия задачи (Дано), запись формул, применение которых необходимо и достаточно для решения задачи, а также математические преобразования и расчёты, приводящие к числовому ответу.

23 Автомобиль равномерно движется по закруглённому участку дороги длиной 50 м и радиусом кривизны, равным 20 м. Сколько времени затратит автомобиль на преодоление этого участка, если центростремительное ускорение автомобиля равно $5 \frac{\text{м}}{\text{с}^2}$?

24 Стальной молот падает с высоты 10 м и забивает сваю. При ударе 50% энергии идёт на его нагревание. На сколько градусов нагревается молот? Удар считать абсолютно неупругим.

25 Имеются два одинаковых электрических нагревателя. При параллельном соединении они нагревают 2 л воды на 80 °С за 7 мин. Чему равна мощность каждого нагревателя? Потери энергии пренебречь.



Не забудьте перенести все ответы в бланки ответов № 1 и № 2 в соответствии с инструкцией по выполнению работы. Проверьте, чтобы каждый ответ был записан рядом с номером соответствующего задания.

Номер комплекта оборудования, используемого при
проведении экзамена по ФИЗИКЕ

№ КИМ	№ комплекта оборудования	№ места участника (заполняется вручную)
	3	

100balnik.ru.com
100 БАЛЛОВ
Делаем невозможное возможным

НОМЕР КИМ**Инструкция по выполнению работы**

На выполнение экзаменационной работы по физике отводится 3 часа (180 минут). Экзаменационная работа включает в себя 25 заданий.

Ответы к заданиям 1, 2, 4, 11–14, 16, 18 и 19 записываются в виде последовательности цифр. Ответом к заданиям 3 и 15 является одна цифра, которая соответствует номеру правильного ответа. Ответы к заданиям 5–10 записываются в виде целого числа или конечной десятичной дроби с учётом указанных в ответе единиц. Ответ запишите в поле ответа в тексте работы, а затем перенесите в бланк ответов № 1. Единицы измерения в ответе указывать не надо.

К заданиям 17, 20–25 следует дать развернутый ответ. Задания выполняются на бланке ответов № 2. Запишите сначала номер задания, а затем ответ на него. Ответы записывайте чётко и разборчиво. Задание 17 экспериментальное, и для его выполнения необходимо воспользоваться лабораторным оборудованием.

При вычислениях разрешается использовать линейку и непрограммируемый калькулятор.

Все бланки заполняются яркими чёрными чернилами. Допускается использование гелевой или капиллярной ручки.

При выполнении заданий можно пользоваться черновиком. **Записи в черновике, а также в тексте контрольных измерительных материалов не учитываются при оценивании работы.**

Баллы, полученные Вами за выполненные задания, суммируются. Постарайтесь выполнить как можно больше заданий и набрать наибольшее количество баллов.

После завершения работы проверьте, чтобы ответ на каждое задание в бланках ответов № 1 и № 2 был записан под правильным номером.

Желаем успеха!

Ниже приведены справочные данные, которые могут понадобиться Вам при выполнении работы.

Десятичные приставки		
Наименование	Обозначение	Множитель
гига	Г	10^9
мега	М	10^6
кило	к	10^3
гекто	г	10^2
санти	с	10^{-2}
милли	м	10^{-3}
микро	мк	10^{-6}
нано	н	10^{-9}

Константы	
ускорение свободного падения на Земле	$g = 10 \frac{\text{м}}{\text{с}^2}$
гравитационная постоянная	$G = 6,7 \cdot 10^{-11} \frac{\text{Н} \cdot \text{м}^2}{\text{кг}^2}$
скорость света в вакууме	$c = 3 \cdot 10^8 \frac{\text{м}}{\text{с}}$
элементарный электрический заряд	$e = 1,6 \cdot 10^{-19} \text{ Кл}$

Плотность			
бензин	$710 \frac{\text{кг}}{\text{м}^3}$	древесина (сосна)	$400 \frac{\text{кг}}{\text{м}^3}$
спирт	$800 \frac{\text{кг}}{\text{м}^3}$	парафин	$900 \frac{\text{кг}}{\text{м}^3}$
керосин	$800 \frac{\text{кг}}{\text{м}^3}$	лёд	$900 \frac{\text{кг}}{\text{м}^3}$
масло машинное	$900 \frac{\text{кг}}{\text{м}^3}$	алюминий	$2700 \frac{\text{кг}}{\text{м}^3}$
вода	$1000 \frac{\text{кг}}{\text{м}^3}$	мрамор	$2700 \frac{\text{кг}}{\text{м}^3}$
молоко цельное	$1030 \frac{\text{кг}}{\text{м}^3}$	цинк	$7100 \frac{\text{кг}}{\text{м}^3}$
вода морская	$1030 \frac{\text{кг}}{\text{м}^3}$	сталь, железо	$7800 \frac{\text{кг}}{\text{м}^3}$
глицерин	$1260 \frac{\text{кг}}{\text{м}^3}$	медь	$8900 \frac{\text{кг}}{\text{м}^3}$
ртуть	$13\,600 \frac{\text{кг}}{\text{м}^3}$	свинец	$11\,350 \frac{\text{кг}}{\text{м}^3}$

Удельная			
теплоёмкость воды	$4200 \frac{\text{Дж}}{\text{кг} \cdot ^\circ\text{C}}$	теплота парообразования воды	$2,3 \cdot 10^6 \frac{\text{Дж}}{\text{кг}}$
теплоёмкость спирта	$2400 \frac{\text{Дж}}{\text{кг} \cdot ^\circ\text{C}}$	теплота парообразования спирта	$9,0 \cdot 10^5 \frac{\text{Дж}}{\text{кг}}$
теплоёмкость льда	$2100 \frac{\text{Дж}}{\text{кг} \cdot ^\circ\text{C}}$	теплота плавления свинца	$2,5 \cdot 10^4 \frac{\text{Дж}}{\text{кг}}$
теплоёмкость алюминия	$920 \frac{\text{Дж}}{\text{кг} \cdot ^\circ\text{C}}$	теплота плавления стали	$7,8 \cdot 10^4 \frac{\text{Дж}}{\text{кг}}$
теплоёмкость стали	$500 \frac{\text{Дж}}{\text{кг} \cdot ^\circ\text{C}}$	теплота плавления олова	$5,9 \cdot 10^4 \frac{\text{Дж}}{\text{кг}}$
теплоёмкость цинка	$400 \frac{\text{Дж}}{\text{кг} \cdot ^\circ\text{C}}$	теплота плавления льда	$3,3 \cdot 10^5 \frac{\text{Дж}}{\text{кг}}$
теплоёмкость меди	$400 \frac{\text{Дж}}{\text{кг} \cdot ^\circ\text{C}}$	теплота сгорания спирта	$2,9 \cdot 10^7 \frac{\text{Дж}}{\text{кг}}$
теплоёмкость олова	$230 \frac{\text{Дж}}{\text{кг} \cdot ^\circ\text{C}}$	теплота сгорания керосина	$4,6 \cdot 10^7 \frac{\text{Дж}}{\text{кг}}$
теплоёмкость свинца	$130 \frac{\text{Дж}}{\text{кг} \cdot ^\circ\text{C}}$	теплота сгорания бензина	$4,6 \cdot 10^7 \frac{\text{Дж}}{\text{кг}}$
теплоёмкость бронзы	$420 \frac{\text{Дж}}{\text{кг} \cdot ^\circ\text{C}}$		

Температура плавления		Температура кипения	
свинца	327 °C	воды	100 °C
олова	232 °C	спирта	78 °C
льда	0 °C		

Удельное электрическое сопротивление, $\frac{\text{Ом} \cdot \text{мм}^2}{\text{м}}$ (при 20 °C)			
серебро	0,016	никелин	0,4
медь	0,017	нихром (сплав)	1,1
алюминий	0,028	фехраль	1,2
железо	0,10		

Нормальные условия: давление 10^5 Па, температура 0 °C



Ответом к заданиям 1, 2, 4, 11–14, 16, 18 и 19 является последовательность цифр. Последовательность цифр записывайте без пробелов, запятых и других дополнительных символов. Ответом к заданиям 3 и 15 является одна цифра, которая соответствует номеру правильного ответа. Ответом к заданиям 5–10 является число. Единицы измерения в ответе указывать не надо. Ответ запишите в поле ответа в тексте работы, а затем перенесите в БЛАНК ОТВЕТОВ № 1 справа от номера соответствующего задания, начиная с первой клеточки. Каждый символ пишите в отдельной клеточке в соответствии с приведёнными в бланке образцами. Ответы на задания 17, 20–25 запишите на БЛАНКЕ ОТВЕТОВ № 2.

1 Установите соответствие между физическими понятиями и примерами. К каждой позиции первого столбца подберите соответствующую позицию из второго столбца и запишите в таблицу выбранные цифры под соответствующими буквами.

ФИЗИЧЕСКИЕ ПОНЯТИЯ

- А) физическая величина
- Б) единица физической величины
- В) прибор для измерения физической величины

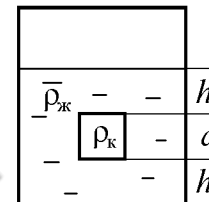
ПРИМЕРЫ

- 1) барометр
- 2) гектопаскаль
- 3) невесомость
- 4) сила
- 5) хаотичность движения молекул

Ответ:

А	Б	В

2 Сплошной кубик, имеющий плотность ρ_k и длину ребра a , опустили в цилиндрический сосуд с жидкостью, плотность которой равна $\rho_{ж}$ (см. рисунок).



Установите соответствие между формулами и физическими величинами. К каждой позиции первого столбца подберите соответствующую позицию из второго столбца и запишите в таблицу выбранные цифры под соответствующими буквами.

ФОРМУЛЫ

- А) $\rho_{ж}g(h_1 + h_2 + a)$
- Б) $\rho_{ж}gh_1$

ФИЗИЧЕСКИЕ ВЕЛИЧИНЫ

- 1) давление жидкости на дно сосуда
- 2) сила давления жидкости на дно сосуда
- 3) давление жидкости на нижнюю грань кубика
- 4) давление жидкости на верхнюю грань кубика

Ответ:

А	Б

3 В жарких странах для охлаждения воды её обычно содержат в сосудах с пористыми стенками из необожжённой глины. На каком явлении основано охлаждение воды в таком сосуде?

- 1) испарение воды
- 2) явление смачивания
- 3) конденсация водяного пара
- 4) диффузия

Ответ:



4 Прочитайте текст и вставьте на места пропусков слова (словосочетания) из приведённого списка.

Туго натянем нитку, закрепив один её конец (см. рисунок). Если дернуть за нитку, то можно услышать звук, как от натянутой струны. Источником этого звука являются колебания нити.



Если при неизменной длине оттянуть нить на большее расстояние, т. е. увеличить (А) _____ колебаний нити, то увеличивается (Б) _____ звука. Если нить укоротить, то при возбуждении колебаний увеличивается (В) _____ колебаний нити, и соответственно увеличивается (Г) _____ издаваемого звука.

Список слов и словосочетаний:

- 1) частота
- 2) амплитуда
- 3) длина волны
- 4) период
- 5) громкость
- 6) высота тона
- 7) сила тона

Запишите в таблицу выбранные цифры под соответствующими буквами.

А	Б	В	Г

Ответ:

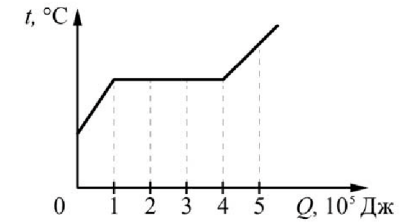
5 Мальчик и девочка тянут верёвку за противоположные концы. Девочка может тянуть с силой не более 50 Н, а мальчик – с силой 150 Н. С какой силой они могут натянуть верёвку, не сдвигаясь с места?

Ответ: _____ Н.

6 Шарик на нити, совершающий свободные колебания, переходит из крайнего правого положения в крайнее левое положение за 0,8 с. Чему равна частота колебания шарика?

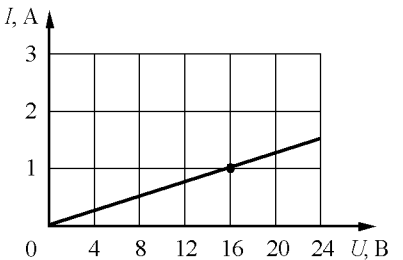
Ответ: _____ Гц.

7 На рисунке показан график изменения температуры вещества по мере поглощения им количества теплоты. Масса вещества равна 4 кг. Первоначально оно было в твёрдом состоянии. Какое количество теплоты потребовалось для плавления вещества?



Ответ: _____ кДж.

8 На рисунке изображён график зависимости силы тока I в проводнике от напряжения U на его концах. Чему равно сопротивление проводника?



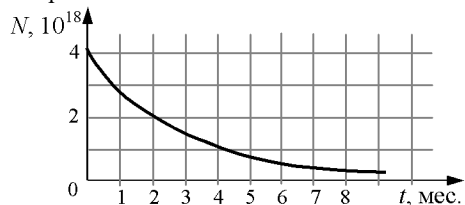
Ответ: _____ Ом.

9 Мощность электрического чайника составляет 2,4 кВт. Сколько электроэнергии потребляет чайник за 2 мин. работы с номинальной мощностью?

Ответ: _____ кДж.



10 Дан график изменения числа ядер находящегося в пробирке радиоактивного изотопа с течением времени.



Каков период полураспада этого изотопа?

Ответ: _____ мес.

11 Газ охлаждают в закрытом сосуде. Как в процессе охлаждения изменяются плотность газа и средняя скорость теплового движения его молекул?

Для каждой величины определите соответствующий характер изменения:

- 1) увеличивается
- 2) уменьшается
- 3) не изменяется

Запишите в таблицу выбранные цифры для каждой физической величины.

Цифры в ответе могут повторяться.

Плотность газа	Средняя скорость теплового движения молекул газа

12 Предмет, находящийся между фокусным и двойным фокусным расстоянием собирающей линзы, переместили ближе к фокусу линзы. Как изменятся расстояние между линзой и изображением предмета и оптическая сила линзы?

Для каждой величины определите соответствующий характер изменения:

- 1) увеличится
- 2) уменьшится
- 3) не изменится

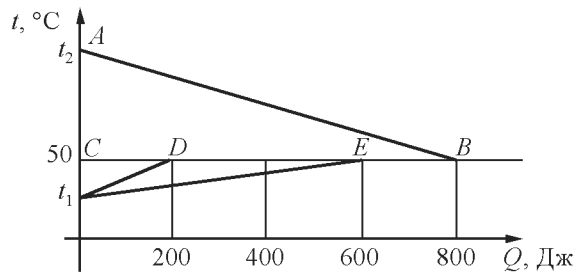
Запишите в таблицу выбранные цифры для каждой физической величины.

Цифры в ответе могут повторяться.

Расстояние между линзой и изображением предмета	Оптическая сила линзы



- 13 На рисунке графически изображён процесс теплообмена для случая, когда нагретый до температуры t_2 металлический брусок опускают в медный калориметр, содержащий воду температурой t_1 .



Используя рисунок, выберите из предложенного перечня **два** верных утверждения. Укажите их номера.

- 1) Точка D на графике соответствует окончанию процесса нагревания калориметра.
- 2) Точка E на графике соответствует окончанию процесса нагревания калориметра.
- 3) Внутренняя энергия воды в результате теплообмена изменилась на большую величину, чем внутренняя энергия калориметра.
- 4) На нагревание воды и калориметра вместе потребовалось количество теплоты, равное 600 Дж.
- 5) Внутренняя энергия бруска в результате теплообмена увеличилась на 800 Дж.

Ответ:

- 14 Две катушки надеты на железный сердечник (см. рис. 1). Через первую катушку протекает электрический ток (график зависимости силы тока от времени представлен на рис. 2). Вторая катушка замкнута на гальванометр.

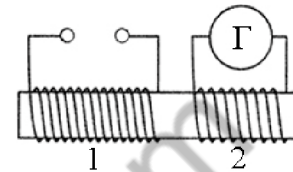


Рис. 1

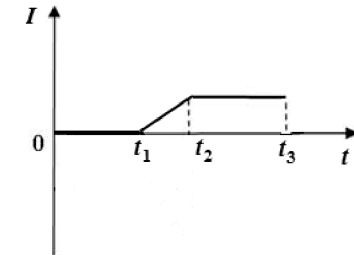


Рис. 2


Используя текст и рисунки, выберите из предложенного перечня **два** верных утверждения. Укажите их номера.

- 1) Заряд, прошедший через первую катушку в интервале времени от 0 до t_1 , равен нулю.
- 2) Индукционный ток, возникающий в катушке 2 в интервале времени от t_2 до t_3 , имеет наибольшее значение.
- 3) В интервале времени от t_1 до t_3 в катушках существует магнитное поле.
- 4) В интервале времени от t_2 до t_3 магнитного поля в катушках нет.
- 5) В интервале времени от t_1 до t_3 в катушке 2 протекает индукционный ток.

Ответ:



15 Ученик собрал электрическую цепь, представленную на рисунке.



Какое утверждение верное?

- 1) При замыкании ключа амперметр покажет силу электрического тока, протекающего через реостат R .
- 2) При замыкании ключа амперметр покажет силу электрического тока, протекающего через резистор $R1$.
- 3) При замыкании ключа амперметр покажет силу электрического тока, протекающего через резистор $R2$.
- 4) Амперметр включён в электрическую цепь с нарушением полярности подключения.

Ответ:

16 Изучая магнитные свойства проводника с током, ученик собрал электрическую схему, содержащую неподвижно закреплённый прямой проводник, и установил рядом с проводником магнитную стрелку (рис. 1). При пропускании электрического тока через проводник магнитная стрелка поворачивается, как показано на рис. 2 и 3.

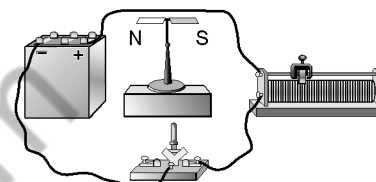


Рис. 1

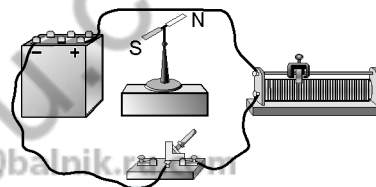


Рис. 2

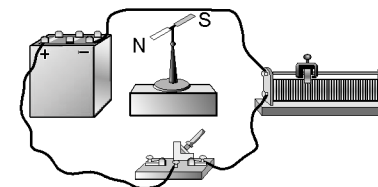


Рис. 3

Выберите из предложенного перечня **два** утверждения, которые соответствуют результатам проведённых экспериментальных наблюдений. Укажите их номера.

- 1) Вокруг проводника с током существует магнитное поле.
- 2) При увеличении электрического тока, протекающего через проводник, магнитное действие проводника усиливается.
- 3) При изменении направления электрического тока направление вектора индукции магнитного поля, создаваемого проводником с током, изменяется на противоположное.
- 4) Магнитные свойства проводника зависят от его размеров.
- 5) Магнитное действие проводника с током зависит от среды, в которую он помещён.

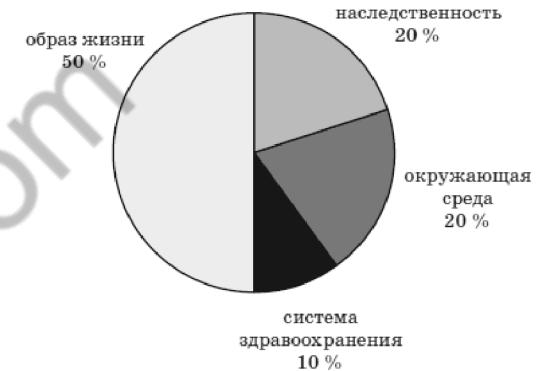
Ответ:



Прочитайте текст и выполните задания 19 и 20.

Здоровье человека и загрязнение окружающей среды

В последнее столетие человечество в полной мере осознало, что многие болезни непосредственно связаны с загрязнением атмосферы и водных ресурсов, с недоброкачественными продуктами.



Зависимость здоровья населения от разных факторов

Огромное количество загрязняющих веществ выбрасывается в окружающую среду в результате техногенных аварий и сбоев в системах технического обеспечения. Сотни тысяч автомобилей, курсирующих в больших городах, выбрасывают в воздух тонны углеводородов и других веществ, которые разлагаются под действием ультрафиолетовых лучей и образуют ядовитые туманы.

Отдельной проблемой является загрязнение поверхностных и подземных источников воды. В промышленно развитых странах наиболее часто в воде регистрируется повышенное содержание железа, фтора, марганца, хлоридов и др. Смыв с сельскохозяйственных полей азотных удобрений значительно повышает содержание в воде относительно безвредных нитратов, которые, однако, могут превращаться в опасные нитриты. Попав в кровь, нитриты соединяются с гемоглобином и тем самым резко уменьшают способность крови выполнять свою главную функцию.

Опасные для здоровья вещества с грунтовыми водами могут попадать в местные источники питьевого водоснабжения. Опасен также переход загрязняющих веществ из почвы в продукты питания. Интенсивное использование ядохимикатов в сельском хозяйстве приводит к накоплению пестицидов в почвах. В таких районах чаще, чем в других, рождаются дети, страдающие тяжёлыми заболеваниями, выше заболеваемость среди населения.

Для ответа на задание 17 используйте БЛАНК ОТВЕТОВ № 2. Запишите сначала номер задания, а затем ответ к нему.

17 Используя собирающую линзу, экран, лампу на подставке, источник тока, соединительные провода, ключ, линейку, соберите экспериментальную установку для исследования свойств изображения, полученного с помощью собирающей линзы от лампы, расположенной от центра линзы на расстоянии 7,5 см. Абсолютную погрешность измерения расстояний с помощью линейки принять равной 4 мм.

В бланке ответов:

- 1) сделайте схематический рисунок экспериментальной установки для наблюдения изображения лампы, полученного с помощью собирающей линзы;
- 2) передвигая экран, получите чёткое изображение лампы и запишите результаты измерения расстояний от лампы до линзы и от линзы до экрана с учётом абсолютной погрешности измерения;
- 3) сформулируйте вывод о свойствах изображения (мнимое или действительное, уменьшенное или увеличенное, прямое или перевёрнутое).

18 Установите соответствие между техническими устройствами и физическими явлениями, лежащими в основе их работы. К каждой позиции первого столбца подберите соответствующую позицию из второго столбца и запишите в таблицу выбранные цифры под соответствующими буквами.

**ТЕХНИЧЕСКИЕ
УСТРОЙСТВА**

- А) шлюзы
- Б) поршневой жидкостный насос

**ФИЗИЧЕСКИЕ
ЯВЛЕНИЯ**

- 1) передача давления внутри жидкости
- 2) действие атмосферного давления
- 3) уменьшение атмосферного давления с высотой
- 4) поведение жидкости в сообщающихся сосудах

Ответ:

А	Б



19 Выберите два верных утверждения, которые соответствуют содержанию текста. Запишите в ответ их номера.

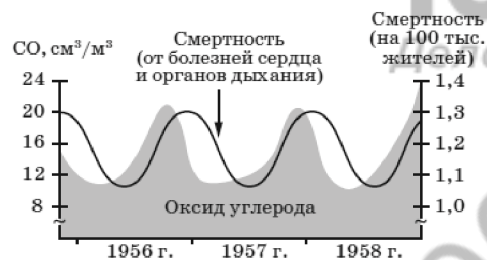
- 1) Образ жизни и окружающая среда в одинаковой степени влияют на здоровье населения.
- 2) Образование ядовитых туманов связано с техногенными факторами.
- 3) Загрязнение грунтовых вод может отразиться на качестве продуктов молочной и мясной промышленности.
- 4) Здоровье человека определяется, главным образом, его наследственностью.
- 5) Нитриты не представляют опасности для здоровья человека.

Ответ:

--	--

Для ответов на задания 20–25 используйте БЛАНК ОТВЕТОВ № 2. Запишите сначала номер задания (20, 21 и т.д.), а затем ответ на него. Полный ответ на задания 20, 21 и 22 должен содержать не только ответ на вопрос, но и его развёрнутое, логически связанное обоснование.

20 На рисунке представлены экспериментальные данные по выбросам оксида углерода и смертности от болезней сердца и органов дыхания в течение нескольких лет для одного из регионов. Какой вывод можно сделать по результатам представленных данных? Ответ поясните.



21 В сосуд с водой опустили кусок дерева. Как изменилось при этом давление на дно сосуда, если вода из сосуда не выливается? Ответ поясните.

22 На белой бумаге зелёными чернилами написан текст. Удастся ли ученику прочесть текст через синее стекло? Ответ поясните.

Для заданий 23–25 необходимо записать полное решение, включающее запись краткого условия задачи (Дано), запись формул, применение которых необходимо и достаточно для решения задачи, а также математические преобразования и расчёты, приводящие к числовому ответу.

23 Брусок массой 1,8 кг движется со скоростью $2 \frac{m}{c}$ по гладкой горизонтальной поверхности. Навстречу бруску летит пуля массой 9 г, которая пробивает брусок насквозь и выплетает из него со скоростью $500 \frac{m}{c}$. При этом брусок останавливается. Чему равна скорость пули до встречи с бруском?

24 Два одинаковых медных шара получили одинаковую энергию, в результате чего первый шар нагрелся на 8 °С, оставаясь неподвижным, а второй, не нагреваясь, приобрёл некоторую скорость. Какова эта скорость?

25 КПД электродвигателя подъёмного крана, который равномерно за 20 с поднимает груз массой 152 кг на высоту 12 м, равен 60%. Напряжение в электрической сети составляет 380 В. Чему равна сила тока в электродвигателе?



Не забудьте перенести все ответы в бланки ответов № 1 и № 2 в соответствии с инструкцией по выполнению работы. Проверьте, чтобы каждый ответ был записан рядом с номером соответствующего задания.

Номер комплекта оборудования, используемого при
проведении экзамена по ФИЗИКЕ

№ КИМ	№ комплекта оборудования	№ места участника (заполняется вручную)
	4	

100balnik.ru.com
100 БАЛЛОВ
Делаем невозможное возможным

НОМЕР КИМ**Инструкция по выполнению работы**

На выполнение экзаменационной работы по физике отводится 3 часа (180 минут). Экзаменационная работа включает в себя 25 заданий.

Ответы к заданиям 1, 2, 4, 11–14, 16, 18 и 19 записываются в виде последовательности цифр. Ответом к заданиям 3 и 15 является одна цифра, которая соответствует номеру правильного ответа. Ответы к заданиям 5–10 записываются в виде целого числа или конечной десятичной дроби с учётом указанных в ответе единиц. Ответ запишите в поле ответа в тексте работы, а затем перенесите в бланк ответов № 1. Единицы измерения в ответе указывать не надо.

К заданиям 17, 20–25 следует дать развернутый ответ. Задания выполняются на бланке ответов № 2. Запишите сначала номер задания, а затем ответ на него. Ответы записывайте чётко и разборчиво. Задание 17 экспериментальное, и для его выполнения необходимо воспользоваться лабораторным оборудованием.

При вычислениях разрешается использовать линейку и непрограммируемый калькулятор.

Все бланки заполняются яркими чёрными чернилами. Допускается использование гелевой или капиллярной ручки.

При выполнении заданий можно пользоваться черновиком. **Записи в черновике, а также в тексте контрольных измерительных материалов не учитываются при оценивании работы.**

Баллы, полученные Вами за выполненные задания, суммируются. Постарайтесь выполнить как можно больше заданий и набрать наибольшее количество баллов.

После завершения работы проверьте, чтобы ответ на каждое задание в бланках ответов № 1 и № 2 был записан под правильным номером.

Желаем успеха!

Ниже приведены справочные данные, которые могут понадобиться Вам при выполнении работы.

Десятичные приставки		
Наименование	Обозначение	Множитель
гига	Г	10^9
мега	М	10^6
кило	к	10^3
гекто	г	10^2
санти	с	10^{-2}
милли	м	10^{-3}
микро	мк	10^{-6}
нано	н	10^{-9}

Константы	
ускорение свободного падения на Земле	$g = 10 \frac{\text{м}}{\text{с}^2}$
гравитационная постоянная	$G = 6,7 \cdot 10^{-11} \frac{\text{Н} \cdot \text{м}^2}{\text{кг}^2}$
скорость света в вакууме	$c = 3 \cdot 10^8 \frac{\text{м}}{\text{с}}$
элементарный электрический заряд	$e = 1,6 \cdot 10^{-19} \text{ Кл}$

Плотность			
бензин	$710 \frac{\text{кг}}{\text{м}^3}$	древесина (сосна)	$400 \frac{\text{кг}}{\text{м}^3}$
спирт	$800 \frac{\text{кг}}{\text{м}^3}$	парафин	$900 \frac{\text{кг}}{\text{м}^3}$
керосин	$800 \frac{\text{кг}}{\text{м}^3}$	лёд	$900 \frac{\text{кг}}{\text{м}^3}$
масло машинное	$900 \frac{\text{кг}}{\text{м}^3}$	алюминий	$2700 \frac{\text{кг}}{\text{м}^3}$
вода	$1000 \frac{\text{кг}}{\text{м}^3}$	мрамор	$2700 \frac{\text{кг}}{\text{м}^3}$
молоко цельное	$1030 \frac{\text{кг}}{\text{м}^3}$	цинк	$7100 \frac{\text{кг}}{\text{м}^3}$
вода морская	$1030 \frac{\text{кг}}{\text{м}^3}$	сталь, железо	$7800 \frac{\text{кг}}{\text{м}^3}$
глицерин	$1260 \frac{\text{кг}}{\text{м}^3}$	медь	$8900 \frac{\text{кг}}{\text{м}^3}$
ртуть	$13\,600 \frac{\text{кг}}{\text{м}^3}$	свинец	$11\,350 \frac{\text{кг}}{\text{м}^3}$

Удельная			
теплоёмкость воды	$4200 \frac{\text{Дж}}{\text{кг} \cdot ^\circ\text{C}}$	теплота парообразования воды	$2,3 \cdot 10^6 \frac{\text{Дж}}{\text{кг}}$
теплоёмкость спирта	$2400 \frac{\text{Дж}}{\text{кг} \cdot ^\circ\text{C}}$	теплота парообразования спирта	$9,0 \cdot 10^5 \frac{\text{Дж}}{\text{кг}}$
теплоёмкость льда	$2100 \frac{\text{Дж}}{\text{кг} \cdot ^\circ\text{C}}$	теплота плавления свинца	$2,5 \cdot 10^4 \frac{\text{Дж}}{\text{кг}}$
теплоёмкость алюминия	$920 \frac{\text{Дж}}{\text{кг} \cdot ^\circ\text{C}}$	теплота плавления стали	$7,8 \cdot 10^4 \frac{\text{Дж}}{\text{кг}}$
теплоёмкость стали	$500 \frac{\text{Дж}}{\text{кг} \cdot ^\circ\text{C}}$	теплота плавления олова	$5,9 \cdot 10^4 \frac{\text{Дж}}{\text{кг}}$
теплоёмкость цинка	$400 \frac{\text{Дж}}{\text{кг} \cdot ^\circ\text{C}}$	теплота плавления льда	$3,3 \cdot 10^5 \frac{\text{Дж}}{\text{кг}}$
теплоёмкость меди	$400 \frac{\text{Дж}}{\text{кг} \cdot ^\circ\text{C}}$	теплота сгорания спирта	$2,9 \cdot 10^7 \frac{\text{Дж}}{\text{кг}}$
теплоёмкость олова	$230 \frac{\text{Дж}}{\text{кг} \cdot ^\circ\text{C}}$	теплота сгорания керосина	$4,6 \cdot 10^7 \frac{\text{Дж}}{\text{кг}}$
теплоёмкость свинца	$130 \frac{\text{Дж}}{\text{кг} \cdot ^\circ\text{C}}$	теплота сгорания бензина	$4,6 \cdot 10^7 \frac{\text{Дж}}{\text{кг}}$
теплоёмкость бронзы	$420 \frac{\text{Дж}}{\text{кг} \cdot ^\circ\text{C}}$		

Температура плавления		Температура кипения	
свинца	327 °C	воды	100 °C
олова	232 °C	спирта	78 °C
льда	0 °C		

Удельное электрическое сопротивление, $\frac{\text{Ом} \cdot \text{мм}^2}{\text{м}}$ (при 20 °C)			
серебро	0,016	никелин	0,4
медь	0,017	нихром (сплав)	1,1
алюминий	0,028	фехраль	1,2
железо	0,10		

Нормальные условия: давление 10^5 Па, температура 0 °C



Ответом к заданиям 1, 2, 4, 11–14, 16, 18 и 19 является последовательность цифр. Последовательность цифр записывайте без пробелов, запятых и других дополнительных символов. Ответом к заданиям 3 и 15 является одна цифра, которая соответствует номеру правильного ответа. Ответом к заданиям 5–10 является число. Единицы измерения в ответе указывать не надо. Ответ запишите в поле ответа в тексте работы, а затем перенесите в БЛАНК ОТВЕТОВ № 1 справа от номера соответствующего задания, начиная с первой клеточки. Каждый символ пишите в отдельной клеточке в соответствии с приведёнными в бланке образцами. Ответы на задания 17, 20–25 запишите на БЛАНКЕ ОТВЕТОВ № 2.

- 1 Установите соответствие между физическими величинами и единицами этих величин в Международной системе единиц (СИ). К каждой позиции первого столбца подберите соответствующую позицию из второго столбца и запишите в таблицу выбранные цифры под соответствующими буквами.

ФИЗИЧЕСКИЕ ВЕЛИЧИНЫ

- А) длина волны
- Б) частота колебаний
- В) период колебаний

ЕДИНИЦЫ

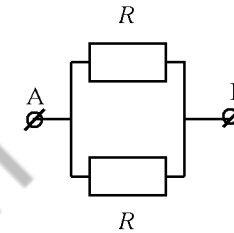
- 1) метр (1 м)
- 2) герц (1 Гц)
- 3) секунда (1 с)
- 4) ньютон на метр ($1 \frac{Н}{м}$)
- 5) метр в секунду ($1 \frac{м}{с}$)

Ответ:

А	Б	В

2

Установите соответствие между формулами для расчёта физических величин для случая протекания тока по участку цепи (см. рисунок) и названиями этих величин.



В формулах использованы обозначения: U – напряжение на участке АВ цепи; R – сопротивление резисторов.

К каждой позиции первого столбца подберите соответствующую позицию из второго столбца и запишите в таблицу выбранные цифры под соответствующими буквами.

ФОРМУЛЫ

- А) $\frac{2U}{R}$
- Б) $\frac{U}{R}$

ФИЗИЧЕСКИЕ ВЕЛИЧИНЫ

- 1) мощность электрического тока, выделяющаяся на резисторе R
- 2) мощность электрического тока, выделяющаяся на участке АВ цепи
- 3) сила тока на резисторе R
- 4) сила тока на участке АВ цепи

Ответ:

А	Б

3

Летучие мыши ориентируются в пространстве благодаря эхолокации. Какое физическое явление лежит в основе эхолокации?

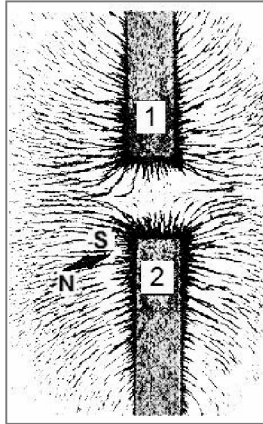
- 1) отражение звуковой волны
- 2) преломление звуковой волны
- 3) отражение световой волны
- 4) преломление световой волны

Ответ:



4 Прочитайте текст и вставьте на места пропусков слова из приведённого списка.

От двух полосовых магнитов, размещённых на поверхности деревянного стола, при помощи железных опилок получена картина линий магнитного поля (см. рисунок, вид сверху). В плоскости магнитов размещена также маленькая магнитная стрелка на подставке.



Картина магнитных линий соответствует (А) _____ полосовых магнитов. Следовательно, полюсы 1 и 2 магнитов являются (Б) _____. Так как магнитная стрелка своим (В) _____ полюсом притянулась к полюсу 2, то он является (Г) _____ полюсом указанного магнита.

Список слов:

- 1) притяжение
- 2) отталкивание
- 3) отрицательный
- 4) положительный
- 5) одноимённый
- 6) разноимённые
- 7) северный
- 8) южный

Запишите в таблицу выбранные цифры под соответствующими буквами.

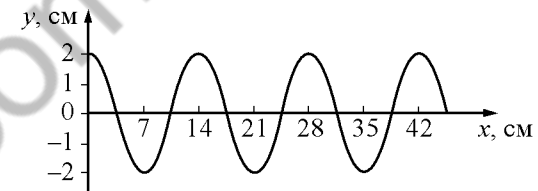
Ответ:

А	Б	В	Г

5 Время свободного падения камня из состояния покоя на поверхность Земли равно 4 с. Какую скорость имел камень в момент падения? Сопротивлением движению пренебречь.

Ответ: _____ $\frac{м}{с}$.

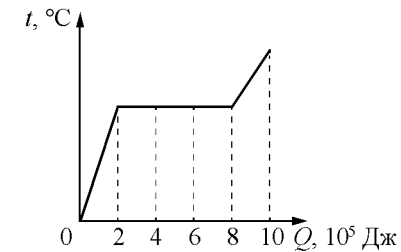
6 На рисунке показан профиль бегущей по поверхности воды волны.



Определите длину волны.

Ответ: _____ см.

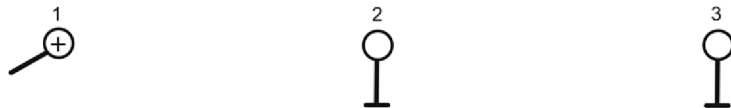
7 На рисунке приведён график изменения температуры вещества массой 3 кг по мере поглощения количества теплоты. В начале опыта вещество находится в кристаллическом состоянии. Какова удельная теплота плавления вещества?



Ответ: _____ $\frac{кДж}{кг}$.



8 Металлический шарик 1, укрепленный на длинной изолирующей ручке и имеющий заряд $q = +2,8$ нКл, приводят поочередно в соприкосновение с двумя такими же незаряженными шариками: 2 и 3, расположенными на высоких изолирующих подставках (см. рисунок).



Какой заряд в результате приобретёт шарик 2?

Ответ: _____ нКл.

9 Тонкая линза, фокусное расстояние которой равно 5 см, даёт действительное изображение предмета такого же размера, что и предмет. На каком расстоянии от линзы находится предмет?

Ответ: _____.

10 Сколько электронов содержит нейтральный атом изотопа полония ${}^{206}_{84}\text{Po}$?

Ответ: _____.

11 В процессе кипения вода превращается в пар. Как при этом изменяются средняя кинетическая энергия молекул воды и внутренняя энергия системы вода – пар?

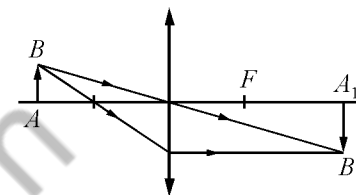
Для каждой величины определите соответствующий характер изменения:

- 1) увеличивается
- 2) уменьшается
- 3) не изменяется

Запишите в таблицу выбранные цифры для каждой физической величины. Цифры в ответе могут повторяться.

Средняя кинетическая энергия молекул воды	Внутренняя энергия системы вода – пар

12 С помощью собирающей линзы получено изображение A_1B_1 предмета AB (см. рисунок). Как изменятся размер и яркость изображения, если закрыть чёрной бумагой верхнюю половину линзы?



Для каждой величины определите соответствующий характер изменения:

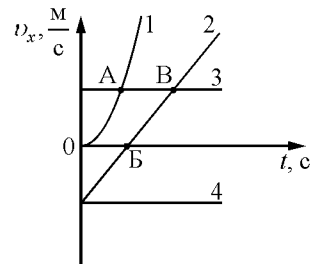
- 1) увеличится
- 2) уменьшится
- 3) не изменится

Запишите в таблицу выбранные цифры для каждой физической величины. Цифры в ответе могут повторяться.

Размер изображения	Яркость изображения



- 13 На рисунке представлены графики зависимости проекции скорости v_x от времени t для четырёх тел, движущихся вдоль оси Ox .



Используя рисунок, выберите из предложенного перечня **два** верных утверждения. Укажите их номера.

- 1) Тело 1 движется равноускоренно.
- 2) Тело 4 движется в отрицательном направлении оси Ox .
- 3) Тело 3 движется равномерно прямолинейно.
- 4) Точка А на графике соответствует встрече тел 1 и 3.
- 5) От момента времени $t=0$ до момента времени, соответствующего точке В на графике, тело 2 прошло больший путь по сравнению с телом 4.

Ответ:

- 14 Ниже приведена таблица удельной теплоты сгорания (q) различных видов топлива.

Топливо	$q, \frac{\text{Дж}}{\text{кг}}$	Топливо	$q, \frac{\text{Дж}}{\text{кг}}$
Порох	$0,38 \cdot 10^7$	Древесный уголь	$3,4 \cdot 10^7$
Дрова сухие	$1,0 \cdot 10^7$	Природный газ	$4,4 \cdot 10^7$
Торф	$1,4 \cdot 10^7$	Нефть	$4,4 \cdot 10^7$
Антрацит	$3,0 \cdot 10^7$	Бензин	$4,6 \cdot 10^7$
Каменный уголь	$2,7 \cdot 10^7$	Керосин	$4,6 \cdot 10^7$
Спирт	$2,7 \cdot 10^7$	Водород	$12,0 \cdot 10^7$

Из предложенного перечня утверждений выберите **два** правильных. Укажите их номера.

- 1) Зимой воздух в деревянном доме нагревается быстрее, если печь топить древесным углём, а не сухими дровами.
- 2) При полном сгорании 5 кг нефти выделяется меньшее количество теплоты, чем при полном сгорании 6 кг древесного угля.
- 3) В двух одинаковых сосудах нагревали воду одинаковой массы, используя в качестве топлива в одном случае спирт, а в другом случае керосин такой же массы, как и спирт. При полном сгорании спирта температура воды выше, чем при полном сгорании керосина. Считать, что потери энергии на нагревание воздуха отсутствуют.
- 4) При полном сгорании 5 кг антрацита выделяется такое же количество теплоты, как и при полном сгорании 15 кг сухих дров.
- 5) Удельная теплота сгорания жидкого топлива в основном меньше, чем твёрдого.

Ответ:

- 15 Температуру больного измеряют с помощью медицинского термометра. Запишите результат измерения, учитывая, что погрешность измерения, представленного на рисунке, равна цене деления термометра.



- 1) $(39 \pm 1) ^\circ\text{C}$
- 2) $(39,5 \pm 0,5) ^\circ\text{C}$
- 3) $(39,6 \pm 0,1) ^\circ\text{C}$
- 4) $(39,60 \pm 0,05) ^\circ\text{C}$

Ответ:



- 16 Учитель на уроке, используя катушку, замкнутую на гальванометр, и полосовой магнит (см. рис. 1), последовательно провёл опыты по наблюдению явления электромагнитной индукции. Условия проведения опытов и показания гальванометра представлены на рис. 2-3.

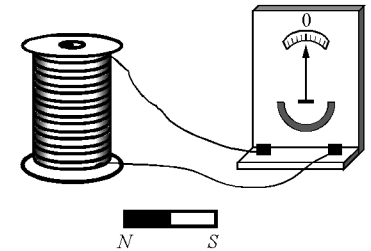


Рис. 1

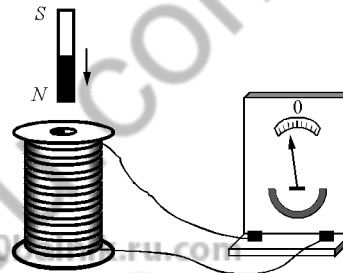


Рис. 2

Магнит вносят в катушку с некоторой скоростью v_1

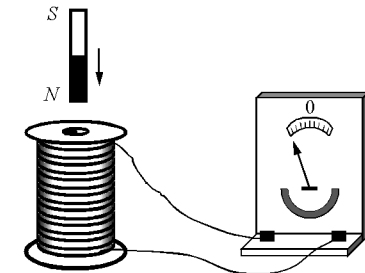


Рис. 3

Магнит вносят в катушку со скоростью v_2 , большей, чем v_1

Выберите из предложенного перечня **два** утверждения, которые соответствуют результатам проведённых экспериментальных наблюдений. Укажите их номера.

- 1) Величина индукционного тока зависит от геометрических размеров катушки.
- 2) При изменении магнитного потока, пронизывающего катушку, в катушке возникает электрический (индукционный) ток.
- 3) Величина индукционного тока зависит от скорости изменения магнитного потока, пронизывающего катушку.
- 4) Направление индукционного тока зависит от того, увеличивается или уменьшается магнитный поток, пронизывающий катушку.
- 5) Направление индукционного тока зависит от направления магнитных линий, пронизывающих катушку.

Ответ:



Прочитайте текст и выполните задания 19 и 20.

Для ответа на задание 17 используйте БЛАНК ОТВЕТОВ № 2. Запишите сначала номер задания, а затем ответ к нему.

17) Используя собирающую линзу 1, экран, линейку, соберите экспериментальную установку для определения оптической силы линзы. В качестве источника света используйте свет от удалённого окна. Абсолютная погрешность измерения расстояния равна ± 2 мм.

В бланке ответов № 2:

- 1) сделайте рисунок экспериментальной установки, указав ход лучей в линзе;
- 2) запишите формулу для расчёта оптической силы линзы;
- 3) укажите результат измерения фокусного расстояния линзы с учётом абсолютной погрешности измерения;
- 4) запишите значение оптической силы линзы.

18) Установите соответствие между научными открытиями и именами учёных, которым эти открытия принадлежат. К каждой позиции первого столбца подберите соответствующую позицию из второго столбца.

НАУЧНЫЕ ОТКРЫТИЯ

- А) закон упругой деформации
- Б) лампочка накаливания

УЧЁНЫЕ

- 1) Г. Галилей
- 2) В.В. Петров
- 3) А.Н. Лодыгин
- 4) Р. Гук

Ответ:

А	Б

Зелёный луч

Рефракция света в атмосфере – оптическое явление, вызываемое преломлением световых лучей в атмосфере и проявляющееся в кажущемся смещении удалённых объектов. Вследствие того, что атмосфера является средой оптически неоднородной (с высотой меняется температура, плотность, состав воздуха), лучи света распространяются в ней не прямолинейно, а по некоторой кривой линии. Наблюдатель видит объекты не в направлении их действительного положения, а вдоль касательной к траектории луча в точке наблюдения (см. рисунок 1).



Рисунок 1. Криволинейное распространение светового луча в атмосфере (сплошная линия) и кажущееся смещение объекта (пунктирная линия)

Показатель преломления зависит не только от свойств воздушных слоёв атмосферы, но и от длины световой волны (дисперсия света). Поэтому рефракция в атмосфере сопровождается разложением светового луча в спектр. Чем меньше длина волны светового луча, тем более сильную рефракцию он испытывает. Например, фиолетовые лучи преломляются сильнее, чем зелёные, а зелёные – сильнее, чем красные. Поэтому чем меньше длина волны луча, тем сильнее будет видимое смещение за счёт рефракции. В результате верхняя каёмка диска Солнца на восходе и закате может оказаться сине-зелёной, нижняя – оранжево-красной (рисунок 2).

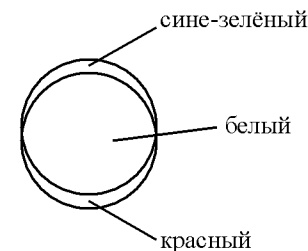


Рисунок 2. Пояснение к появлению зелёного луча



Дисперсия солнечных лучей в наиболее явном виде проявляется в самый последний момент захода Солнца. Когда Солнце уходит за горизонт, последним лучом мы должны были бы увидеть фиолетовый. Однако самые коротковолновые лучи – фиолетовые, синие, голубые – на долгом пути в атмосфере (когда Солнце уже у горизонта) настолько сильно рассеиваются, что не доходят до земной поверхности. Кроме того, к лучам этой части спектра менее чувствительны глаза человека. Поэтому последний луч заходящего Солнца оказывается яркого изумрудного цвета. Это явление и получило название «зелёный луч».

Зелёный луч может наблюдаться при очень прозрачном воздухе, чаще всего на морском горизонте. Если Солнце имеет на закате красный цвет и на него легко смотреть невооружённым глазом, то зелёного луча не будет, поскольку красный цвет солнечного диска указывает на сильное рассеяние атмосферой как синих, так и зелёных лучей.

19 Выберите два верных утверждения, которые соответствуют содержанию текста. Запишите в ответ их номера.

- 1) Возможность увидеть зелёный луч в момент захода Солнца связана как с дисперсией, так и с рассеянием солнечных лучей.
- 2) Наблюдаемое положение звёзд на ночном небе ниже их действительного положения.
- 3) Криволинейное распространение света при прохождении атмосферы объясняется преломлением света в неоднородных по плотности слоях атмосферы.
- 4) Чем меньше частота световой волны, тем более сильную рефракцию она испытывает.
- 5) Явление «зелёного луча» можно наблюдать только при восходе Солнца.

Ответ:

--	--

Для ответов на задания 20–25 используйте БЛАНК ОТВЕТОВ № 2. Запишите сначала номер задания (20, 21 и т.д.), а затем ответ на него. Полный ответ на задания 20, 21 и 22 должен содержать не только ответ на вопрос, но и его развёрнутое, логически связанное обоснование.

20 В ясную погоду наблюдают цвет Луны при её разных положениях: высоко над горизонтом и вблизи горизонта. В каком случае цвет Луны приобретает красный оттенок? Ответ поясните.

21 В мензурку налили воду и опустили кусок льда. Изменится ли уровень воды в мензурке, когда лёд растает? Ответ поясните.

22 Какой снег – грязный или чистый – на поле тает быстрее под лучами Солнца? Ответ поясните.

Для заданий 23–25 необходимо записать полное решение, включающее запись краткого условия задачи (Дано), запись формул, применение которых необходимо и достаточно для решения задачи, а также математические преобразования и расчёты, приводящие к числовому ответу.

23 Сколько спирта надо сжечь, чтобы нагреть воду массой 2 кг на 29 °С? Считать, что вся энергия, выделенная при сгорании спирта, идёт на нагревание воды.

24 Маленький свинцовый шарик равномерно движется по вертикали в воде. Каков объём шарика, если при его перемещении на 6 м выделилось 18,63 мДж энергии?

25 Подъёмный кран за 10 с равноускоренно поднимает груз массой 1140 кг из состояния покоя на высоту 10 м. Электродвигатель крана питается от сети напряжением 380 В, сила тока в обмотке электродвигателя в конце подъёма равна 102 А. Определите КПД электродвигателя крана в конце подъёма.



Не забудьте перенести все ответы в бланки ответов № 1 и № 2 в соответствии с инструкцией по выполнению работы. Проверьте, чтобы каждый ответ был записан рядом с номером соответствующего задания.

Номер комплекта оборудования, используемого при
проведении экзамена по ФИЗИКЕ

№ КИМ	№ комплекта оборудования	№ места участника (заполняется вручную)
	4	

100balnik.ru.com
100 БАЛЛОВ
Делаем невозможное возможным

НОМЕР КИМ**Инструкция по выполнению работы**

На выполнение экзаменационной работы по физике отводится 3 часа (180 минут). Экзаменационная работа включает в себя 25 заданий.

Ответы к заданиям 1, 2, 4, 11–14, 16, 18 и 19 записываются в виде последовательности цифр. Ответом к заданиям 3 и 15 является одна цифра, которая соответствует номеру правильного ответа. Ответы к заданиям 5–10 записываются в виде целого числа или конечной десятичной дроби с учётом указанных в ответе единиц. Ответ запишите в поле ответа в тексте работы, а затем перенесите в бланк ответов № 1. Единицы измерения в ответе указывать не надо.

К заданиям 17, 20–25 следует дать развернутый ответ. Задания выполняются на бланке ответов № 2. Запишите сначала номер задания, а затем ответ на него. Ответы записывайте чётко и разборчиво. Задание 17 экспериментальное, и для его выполнения необходимо воспользоваться лабораторным оборудованием.

При вычислениях разрешается использовать линейку и непрограммируемый калькулятор.

Все бланки заполняются яркими чёрными чернилами. Допускается использование гелевой или капиллярной ручки.

При выполнении заданий можно пользоваться черновиком. **Записи в черновике, а также в тексте контрольных измерительных материалов не учитываются при оценивании работы.**

Баллы, полученные Вами за выполненные задания, суммируются. Постарайтесь выполнить как можно больше заданий и набрать наибольшее количество баллов.

После завершения работы проверьте, чтобы ответ на каждое задание в бланках ответов № 1 и № 2 был записан под правильным номером.

Желаем успеха!

Ниже приведены справочные данные, которые могут понадобиться Вам при выполнении работы.

Десятичные приставки		
Наименование	Обозначение	Множитель
гига	Г	10^9
мега	М	10^6
кило	к	10^3
гекто	г	10^2
санти	с	10^{-2}
милли	м	10^{-3}
микро	мк	10^{-6}
нано	н	10^{-9}

Константы	
ускорение свободного падения на Земле	$g = 10 \frac{\text{м}}{\text{с}^2}$
гравитационная постоянная	$G = 6,7 \cdot 10^{-11} \frac{\text{Н} \cdot \text{м}^2}{\text{кг}^2}$
скорость света в вакууме	$c = 3 \cdot 10^8 \frac{\text{м}}{\text{с}}$
элементарный электрический заряд	$e = 1,6 \cdot 10^{-19} \text{ Кл}$

Плотность			
бензин	$710 \frac{\text{кг}}{\text{м}^3}$	древесина (сосна)	$400 \frac{\text{кг}}{\text{м}^3}$
спирт	$800 \frac{\text{кг}}{\text{м}^3}$	парафин	$900 \frac{\text{кг}}{\text{м}^3}$
керосин	$800 \frac{\text{кг}}{\text{м}^3}$	лёд	$900 \frac{\text{кг}}{\text{м}^3}$
масло машинное	$900 \frac{\text{кг}}{\text{м}^3}$	алюминий	$2700 \frac{\text{кг}}{\text{м}^3}$
вода	$1000 \frac{\text{кг}}{\text{м}^3}$	мрамор	$2700 \frac{\text{кг}}{\text{м}^3}$
молоко цельное	$1030 \frac{\text{кг}}{\text{м}^3}$	цинк	$7100 \frac{\text{кг}}{\text{м}^3}$
вода морская	$1030 \frac{\text{кг}}{\text{м}^3}$	сталь, железо	$7800 \frac{\text{кг}}{\text{м}^3}$
глицерин	$1260 \frac{\text{кг}}{\text{м}^3}$	медь	$8900 \frac{\text{кг}}{\text{м}^3}$
ртуть	$13\,600 \frac{\text{кг}}{\text{м}^3}$	свинец	$11\,350 \frac{\text{кг}}{\text{м}^3}$

Удельная			
теплоёмкость воды	$4200 \frac{\text{Дж}}{\text{кг} \cdot ^\circ\text{C}}$	теплота парообразования воды	$2,3 \cdot 10^6 \frac{\text{Дж}}{\text{кг}}$
теплоёмкость спирта	$2400 \frac{\text{Дж}}{\text{кг} \cdot ^\circ\text{C}}$	теплота парообразования спирта	$9,0 \cdot 10^5 \frac{\text{Дж}}{\text{кг}}$
теплоёмкость льда	$2100 \frac{\text{Дж}}{\text{кг} \cdot ^\circ\text{C}}$	теплота плавления свинца	$2,5 \cdot 10^4 \frac{\text{Дж}}{\text{кг}}$
теплоёмкость алюминия	$920 \frac{\text{Дж}}{\text{кг} \cdot ^\circ\text{C}}$	теплота плавления стали	$7,8 \cdot 10^4 \frac{\text{Дж}}{\text{кг}}$
теплоёмкость стали	$500 \frac{\text{Дж}}{\text{кг} \cdot ^\circ\text{C}}$	теплота плавления олова	$5,9 \cdot 10^4 \frac{\text{Дж}}{\text{кг}}$
теплоёмкость цинка	$400 \frac{\text{Дж}}{\text{кг} \cdot ^\circ\text{C}}$	теплота плавления льда	$3,3 \cdot 10^5 \frac{\text{Дж}}{\text{кг}}$
теплоёмкость меди	$400 \frac{\text{Дж}}{\text{кг} \cdot ^\circ\text{C}}$	теплота сгорания спирта	$2,9 \cdot 10^7 \frac{\text{Дж}}{\text{кг}}$
теплоёмкость олова	$230 \frac{\text{Дж}}{\text{кг} \cdot ^\circ\text{C}}$	теплота сгорания керосина	$4,6 \cdot 10^7 \frac{\text{Дж}}{\text{кг}}$
теплоёмкость свинца	$130 \frac{\text{Дж}}{\text{кг} \cdot ^\circ\text{C}}$	теплота сгорания бензина	$4,6 \cdot 10^7 \frac{\text{Дж}}{\text{кг}}$
теплоёмкость бронзы	$420 \frac{\text{Дж}}{\text{кг} \cdot ^\circ\text{C}}$		

Температура плавления		Температура кипения	
свинца	327 °C	воды	100 °C
олова	232 °C	спирта	78 °C
льда	0 °C		

Удельное электрическое сопротивление, $\frac{\text{Ом} \cdot \text{мм}^2}{\text{м}}$ (при 20 °C)			
серебро	0,016	никелин	0,4
медь	0,017	нихром (сплав)	1,1
алюминий	0,028	фехраль	1,2
железо	0,10		

Нормальные условия: давление 10^5 Па, температура 0 °C



Ответом к заданиям 1, 2, 4, 11–14, 16, 18 и 19 является последовательность цифр. Последовательность цифр записывайте без пробелов, запятых и других дополнительных символов. Ответом к заданиям 3 и 15 является одна цифра, которая соответствует номеру правильного ответа. Ответом к заданиям 5–10 является число. Единицы измерения в ответе указывать не надо. Ответ запишите в поле ответа в тексте работы, а затем перенесите в БЛАНК ОТВЕТОВ № 1 справа от номера соответствующего задания, начиная с первой клеточки. Каждый символ пишите в отдельной клеточке в соответствии с приведёнными в бланке образцами. Ответы на задания 17, 20–25 запишите на БЛАНКЕ ОТВЕТОВ № 2.

1 Установите соответствие между физическими понятиями и примерами этих понятий. К каждой позиции первого столбца подберите соответствующую позицию из второго столбца и запишите в таблицу выбранные цифры под соответствующими буквами.

ФИЗИЧЕСКИЕ ПОНЯТИЯ

- А) физическая величина
- Б) физическое явление
- В) физический закон (закономерность)

ПРИМЕРЫ

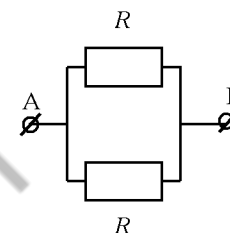
- 1) угол отражения звуковой волны на границе двух сред, равный углу падения
- 2) источник звуковой волны
- 3) эхолот
- 4) огибание звуковой волной деревьев в лесу
- 5) амплитуда звуковой волны

Ответ:

А	Б	В

2

Установите соответствие между формулами для расчёта физических величин для случая протекания тока по участку цепи (см. рисунок) и названиями этих величин.



В формулах использованы обозначения: U – напряжение на участке АВ цепи; R – сопротивления резисторов; t – время.

К каждой позиции первого столбца подберите соответствующую позицию из второго столбца и запишите в таблицу выбранные цифры под соответствующими буквами.

ФОРМУЛЫ

- А) $\frac{U^2}{R}t$
- Б) $\frac{2U^2}{R}$

ФИЗИЧЕСКИЕ ВЕЛИЧИНЫ

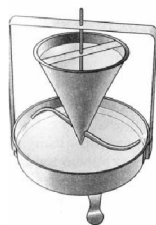
- 1) мощность электрического тока, выделяющаяся на резисторе R
- 2) мощность электрического тока, выделяющаяся на участке АВ цепи
- 3) количество теплоты, выделяющееся на резисторе R
- 4) количество теплоты, выделяющееся на участке АВ цепи

Ответ:

А	Б

3

В 1750 г. Я. Сегнер выдвинул идею водяного двигателя. Вода поступала сверху в сосуд, внизу которого располагались трубки с загнутыми в одну сторону концами. Вода, вытекающая через них, приводила во вращение колесо (см. рисунок).



Что лежит в основе вращения колеса?

- 1) свободное падение струи воды
- 2) сила жидкого трения
- 3) принцип реактивного движения
- 4) сохранение кинетической энергии струи

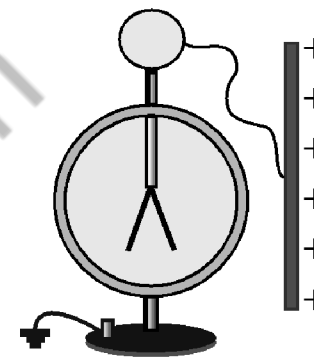
Ответ:



4

Прочитайте текст и вставьте на места пропусков слова из приведённого списка.

Положительно заряженную проводящую пластину соединили проводником с шаром незаряженного электроскопа (см. рисунок).



Шар и стержень электроскопа являются (А)_____. При соединении с пластиной электрический заряд с пластины перешёл на электроскоп, и он приобрёл (Б)_____ заряд. Лепестки электроскопа разошлись на некоторый угол, так как (В)_____ заряды отталкиваются. Если заряд пластины уменьшить, то угол расхождения лепестков электроскопа (Г)_____.

Список слов:

- 1) проводники
- 2) диэлектрики
- 3) отрицательный
- 4) положительный
- 5) увеличится
- 6) уменьшится
- 7) одноимённые
- 8) разноимённые


Запишите в таблицу выбранные цифры под соответствующими буквами.

Ответ:

А	Б	В	Г



- 5 Нить, привязанная одним концом к вбитому в стену гвоздю, разорвётся, если другой её конец тянуть с силой не менее 50 Н. С какой наименьшей силой F надо растягивать эту же нить в разные стороны, чтобы она порвалась?



Ответ: _____ Н.

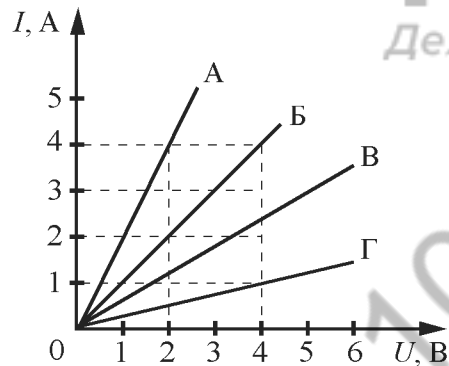
- 6 Чему равна сила Архимеда, действующая на тело объёмом 2 м^3 , наполовину погружённое в воду?

Ответ: _____ Н.

- 7 Какое количество теплоты выделится при охлаждении 4 кг свинца, находящегося в твёрдом состоянии, от температуры кристаллизации до $27 \text{ }^\circ\text{C}$?

Ответ: _____ кДж.

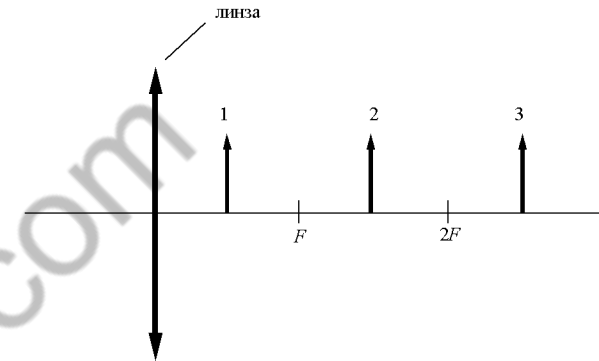
- 8 На рисунке представлены графики зависимости силы тока I в проводнике от напряжения U на его концах для четырёх проводников.



Чему равно электрическое сопротивление проводника Г?

Ответ: _____ Ом.

- 9 На рисунке изображены три предмета: 1, 2 и 3. Изображение какого предмета в тонкой собирающей линзе, фокусное расстояние которой F , будет увеличенным, перевёрнутым и действительным?



Ответ: _____.

- 10 Известно, что в электронной оболочке нейтрального атома изотопа X содержится 5 электронов, а в атомном ядре содержится 6 нейтронов. Сколько нуклонов содержится в ядре этого изотопа?

Ответ: _____.

- 11 Спиртовой термометр вынесли из тёплого помещения на улицу в прохладный день. Как при этом изменились средняя скорость теплового движения молекул спирта и плотность спирта?

Для каждой величины определите соответствующий характер изменения:

- 1) увеличилась
- 2) уменьшилась
- 3) не изменилась

Запишите в таблицу выбранные цифры для каждой физической величины. Цифры в ответе могут повторяться.

Средняя скорость теплового движения молекул спирта	Плотность спирта



12) На кухне в электрическую сеть включены холодильник и электрическая мясорубка. Как изменятся общее сопротивление цепи и общая потребляемая электрическая мощность, если выключить мясорубку?

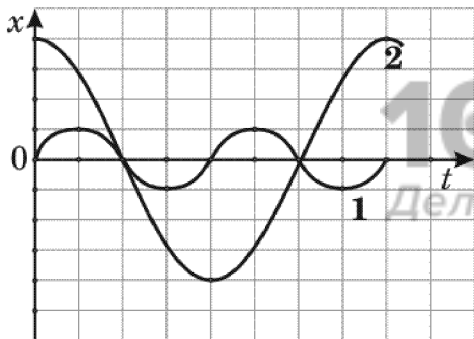
Для каждой величины определите соответствующий характер изменения:

- 1) увеличится
- 2) уменьшится
- 3) не изменится

Запишите в таблицу выбранные цифры для каждой физической величины. Цифры в ответе могут повторяться.

Общее сопротивление цепи	Общая потребляемая электрическая мощность

13) На рисунке представлены графики зависимости смещения x от времени t при колебаниях двух математических маятников.



Из предложенного перечня утверждений выберите **два** правильных. Укажите их номера.

- 1) Маятники совершают колебания с одинаковой частотой, но разной амплитудой.
- 2) Период колебаний маятника 2 меньше периода колебаний маятника 1.
- 3) Частота колебаний маятника 2 меньше частоты колебаний маятника 1 в 2 раза.
- 4) Амплитуды колебаний маятников различаются в 4 раза.
- 5) Длина нити первого маятника больше длины нити второго маятника.

Ответ:

14) Ниже приведена таблица удельной теплоты сгорания (q) различных видов топлива.

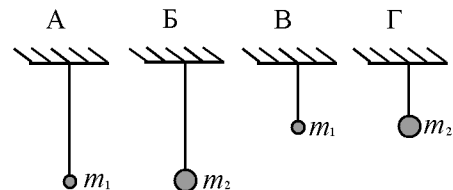
Топливо	$q, \frac{\text{Дж}}{\text{кг}}$	Топливо	$q, \frac{\text{Дж}}{\text{кг}}$
Порох	$0,38 \cdot 10^7$	Древесный уголь	$3,4 \cdot 10^7$
Дрова сухие	$1,0 \cdot 10^7$	Природный газ	$4,4 \cdot 10^7$
Торф	$1,4 \cdot 10^7$	Нефть	$4,4 \cdot 10^7$
Антрацит	$3,0 \cdot 10^7$	Бензин	$4,6 \cdot 10^7$
Каменный уголь	$2,7 \cdot 10^7$	Керосин	$4,6 \cdot 10^7$
Спирт	$2,7 \cdot 10^7$	Водород	$12,0 \cdot 10^7$

Из предложенного перечня утверждений выберите **два** правильных. Укажите их номера.

- 1) Зимой воздух в деревянном доме нагревается быстрее, если печь топить не древесным углём, а сухими дровами.
- 2) При полном сгорании 5 кг нефти выделяется меньшее количество теплоты, чем при полном сгорании 6 кг древесного угля.
- 3) Удельная теплота сгорания жидкого топлива в основном больше, чем твёрдого.
- 4) При полном сгорании 5 кг антрацита выделяется такое же количество теплоты, как и при полном сгорании 15 кг сухих дров.
- 5) При полном сгорании 5 кг нефти выделяется меньшее количество теплоты, чем при полном сгорании 5 кг природного газа.

Ответ:

15) Необходимо экспериментально установить, зависит ли частота колебаний математического маятника от длины нити. Какую из указанных на рисунке пар маятников можно использовать для этой цели?



- 1) А и Б
- 2) А и В
- 3) Б и В
- 4) В и Г

Ответ:



- 16 Используя термометр и часы, учитель на уроке провёл опыты по исследованию температуры остывающей воды с течением времени. В алюминиевый и пластиковый стаканы он налил одинаковое количество горячей воды. Результаты измерений даны в таблицах 1 и 2.

Таблица 1. Остывание воды в алюминиевом стакане

$t, ^\circ\text{C}$	72	62	55	50	46
τ , мин.	0	5	10	15	20

Таблица 2. Остывание воды в пластиковом стакане

$t, ^\circ\text{C}$	72	65	60,5	56,7	53,3
τ , мин.	0	5	10	15	20

Из предложенного перечня выберите **два** утверждения, соответствующих проведённым опытам. Укажите их номера.

- 1) За время наблюдения вода в алюминиевом стакане остыла в большей степени, чем в пластиковом.
- 2) За 20 мин. вода в обоих стаканах остыла до комнатной температуры.
- 3) Чем больше температура воды, тем выше наблюдаемая скорость остывания.
- 4) За первые 10 мин. наблюдения вода в алюминиевом стакане остыла на 55°C .
- 5) Испарение воды в пластиковом стакане происходит менее интенсивно, чем в алюминиевом.

Ответ:

Для ответа на задание 17 используйте БЛАНК ОТВЕТОВ № 2. Запишите сначала номер задания, а затем ответ к нему.

- 17 Используя собирающую линзу, экран, линейку, соберите экспериментальную установку для определения оптической силы линзы. В качестве источника света используйте свет от удалённого окна. Абсолютная погрешность измерения расстояния равна ± 2 мм.

В бланке ответов № 2:

- 1) сделайте рисунок экспериментальной установки, указав ход лучей в линзе;
- 2) запишите формулу для расчёта оптической силы линзы;
- 3) укажите результат измерения фокусного расстояния линзы с учётом абсолютной погрешности измерения;
- 4) запишите значение оптической силы линзы.

- 18 Установите соответствие между научными открытиями и именами учёных, которым эти открытия принадлежат. К каждой позиции первого столбца подберите соответствующую позицию из второго столбца.

НАУЧНЫЕ ОТКРЫТИЯ

УЧЁНЫЕ

- А) закон трения скольжения
Б) сложный состав белого света

- 1) Ш.-О. Кулон
2) В. Рентген
3) Б. Паскаль
4) И. Ньютон

Ответ:

А	Б



Прочитайте текст и выполните задания 19 и 20.

Смачивание

При соприкосновении жидкости с поверхностью твёрдого тела или другой жидкости возникает явление смачивания.

Для воды явление смачивания мы наблюдаем постоянно. Летом на листочках кустов и деревьев можно рассмотреть капельки росы. Они имеют форму шариков (рисунок 1), хотя, если собрать капли в руки, то вода тут же растекается. Из-за воскового налёта, остающегося на засушенных растениях, вода не проникает в стога сена и соломы.



Рисунок 1

Если из пипетки капнуть воду на различные поверхности, то можно наблюдать, как вода растекается на чистом стекле или дереве, но собирается в капли на парафине или «жирной» поверхности.

Способность воды смачивать или не смачивать различные материалы зависит от того, какие силы притяжения больше: между молекулами воды или между молекулами воды и твёрдого тела. Если силы притяжения между молекулами воды и твёрдого тела больше, чем между молекулами воды, то вода будет растекаться по поверхности твёрдого тела, т.е. смачивать поверхность. Если же молекулы воды притягиваются друг к другу сильнее, чем к молекулам твёрдого тела, то вода на поверхности этого тела будет собираться в капельки. В этом случае говорят, что вода не смачивает поверхность твёрдого тела.

Степень смачивания характеризуется величиной краевого угла смачивания (θ), образованного поверхностью твёрдого тела с касательной, проведённой к поверхности жидкости из точки её соприкосновения с поверхностью (рисунок 2).



Рисунок 2

Если величина краевого угла меньше или равна 90° (угол острый), то происходит смачивание жидкостью твёрдой поверхности. Если величина краевого угла больше 90° (угол тупой), то твёрдая поверхность не смачивается жидкостью.

Из-за смачивания наблюдается искривление свободной поверхности жидкости в сосудах по линии соприкосновения с поверхностью сосуда (рисунок 3).




Рисунок 3

Значения краевого угла смачивания θ для некоторых сочетаний «жидкость – твёрдое вещество» приведены в таблице.

Жидкость	Твёрдое вещество	Краевой угол смачивания θ , °
Вода	стекло	2
	парафин	107
Ртуть	стекло	140

19

Выберите два верных утверждения, которые соответствуют содержанию текста. Запишите в ответ их номера.

- 1) Все жидкости, приведённые в таблице, смачивают стекло.
- 2) Чтобы уменьшить намокание древесины, её можно покрыть воском.
- 3) Твёрдая поверхность не смачивается жидкостью, если силы притяжения между молекулами жидкости меньше, чем между молекулами жидкости и твёрдого тела.
- 4) Вода смачивает поверхность листа растения.
- 5) Из-за смачивания наблюдается искривление свободной поверхности жидкости в сосудах.

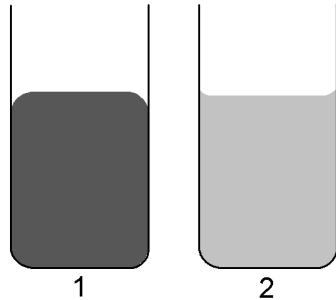
Ответ:

--	--




Для ответов на задания 20–25 используйте БЛАНК ОТВЕТОВ № 2. Запишите сначала номер задания (20, 21 и т.д.), а затем ответ на него. Полный ответ на задания 20, 21 и 22 должен содержать не только ответ на вопрос, но и его развёрнутое, логически связанное обоснование.

- 20 В два одинаковых стеклянных сосуда налили воду и ртуть (см. рисунок). В каком сосуде находится ртуть? Ответ поясните.



- 21 Необходимо как можно точнее провести измерения сторон стальной прямоугольной пластинки. Известно, что длины сторон пластинки не превышают 200 мм. Имеется три линейки (см. рисунок), погрешность измерения для каждой из них равна цене деления. Какую из линеек целесообразно использовать? Ответ поясните.



- 22 На белом листе бумаги зелёным карандашом Кирилл нарисовал автомобиль. Что он увидит, рассматривая листок через красный фильтр? Ответ поясните.

Для заданий 23–25 необходимо записать полное решение, включающее запись краткого условия задачи (Дано), запись формул, применение которых необходимо и достаточно для решения задачи, а также математические преобразования и расчёты, приводящие к числовому ответу.

- 23 Туристы поднимались в гору со скоростью $2 \frac{\text{км}}{\text{ч}}$, а затем спускались с неё со скоростью $6 \frac{\text{км}}{\text{ч}}$. Чему равна средняя скорость туристов на всем пути?
- 24 Какое количество керосина израсходовали двигатели самолёта, пролетевшего расстояние 500 км со средней скоростью $250 \frac{\text{км}}{\text{ч}}$, если средняя полезная мощность его двигателей равна 2300 кВт? КПД двигателей равен 25%.
- 25 Имеются два одинаковых электрических нагревателя мощностью 600 Вт каждый. На сколько градусов можно нагреть 2 л воды за 7 мин., если нагреватели будут включены параллельно в электросеть с напряжением, на которое рассчитан каждый из них? Потерями энергии пренебречь.



Не забудьте перенести все ответы в бланки ответов № 1 и № 2 в соответствии с инструкцией по выполнению работы. Проверьте, чтобы каждый ответ был записан рядом с номером соответствующего задания.

Номер комплекта оборудования, используемого при
проведении экзамена по ФИЗИКЕ

№ КИМ	№ комплекта оборудования	№ места участника (заполняется вручную)
	4	

100balnik.ru.com
100 БАЛЛОВ
Делаем невозможное возможным

Контрольная работа по ФИЗИКЕ
для обучающихся 9-х классов, осваивающих
образовательные программы основного общего образования

Вариант № 2

Инструкция по выполнению работы

На выполнение контрольной работы по физике отводится 3 часа (180 минут). Контрольная работа включает в себя 25 заданий.

Ответы к заданиям 1, 2, 4, 11–14, 16, 18 и 19 записываются в виде последовательности цифр. Ответом к заданиям 3 и 15 является одна цифра, которая соответствует номеру правильного ответа. Ответы к заданиям 5–10 записываются в виде целого числа или конечной десятичной дроби с учётом указанных в ответе единиц. Ответ запишите в поле ответа в тексте работы, а затем перенесите в бланк ответов № 1. Единицы измерения в ответе указывать не надо.

К заданиям 17, 20–25 следует дать развёрнутый ответ. Задания выполняются на бланке ответов № 2. Запишите сначала номер задания, а затем ответ на него. Ответы записывайте чётко и разборчиво. Задание 17 экспериментальное, и для его выполнения необходимо воспользоваться лабораторным оборудованием.

При вычислениях разрешается использовать линейку и непрограммируемый калькулятор.

Все бланки заполняются яркими чёрными чернилами. Допускается использование гелевой или капиллярной ручки.

При выполнении заданий можно пользоваться черновиком. **Записи в черновике, а также в тексте контрольной работы не учитываются при оценивании работы.**

Баллы, полученные Вами за выполненные задания, суммируются. Постарайтесь выполнить как можно больше заданий и набрать наибольшее количество баллов.

После завершения работы проверьте, чтобы ответ на каждое задание в бланках ответов № 1 и № 2 был записан под правильным номером.

Желаем успеха!

Ниже приведены справочные данные, которые могут понадобиться Вам при выполнении работы.

Десятичные приставки		
Наименование	Обозначение	Множитель
гига	Г	10^9
мега	М	10^6
кило	к	10^3
гекто	Г	10^2
санти	с	10^{-2}
милли	м	10^{-3}
микро	мк	10^{-6}
нано	н	10^{-9}

Константы	
ускорение свободного падения на Земле	$g = 10 \frac{\text{м}}{\text{с}^2}$
гравитационная постоянная	$G = 6,7 \cdot 10^{-11} \frac{\text{Н} \cdot \text{м}^2}{\text{кг}^2}$
скорость света в вакууме	$c = 3 \cdot 10^8 \frac{\text{м}}{\text{с}}$
элементарный электрический заряд	$e = 1,6 \cdot 10^{-19} \text{ Кл}$

Плотность			
бензин	$710 \frac{\text{кг}}{\text{м}^3}$	древесина (сосна)	$400 \frac{\text{кг}}{\text{м}^3}$
спирт	$800 \frac{\text{кг}}{\text{м}^3}$	парафин	$900 \frac{\text{кг}}{\text{м}^3}$
керосин	$800 \frac{\text{кг}}{\text{м}^3}$	лёд	$900 \frac{\text{кг}}{\text{м}^3}$
масло машинное	$900 \frac{\text{кг}}{\text{м}^3}$	алюминий	$2700 \frac{\text{кг}}{\text{м}^3}$
вода	$1000 \frac{\text{кг}}{\text{м}^3}$	мрамор	$2700 \frac{\text{кг}}{\text{м}^3}$
молоко цельное	$1030 \frac{\text{кг}}{\text{м}^3}$	цинк	$7100 \frac{\text{кг}}{\text{м}^3}$
вода морская	$1030 \frac{\text{кг}}{\text{м}^3}$	сталь, железо	$7800 \frac{\text{кг}}{\text{м}^3}$

глицерин	$1260 \frac{\text{кг}}{\text{м}^3}$	медь	$8900 \frac{\text{кг}}{\text{м}^3}$
ртуть	$13\,600 \frac{\text{кг}}{\text{м}^3}$	свинец	$11\,350 \frac{\text{кг}}{\text{м}^3}$

Удельная

теплоёмкость воды	$4200 \frac{\text{Дж}}{\text{кг} \cdot ^\circ\text{C}}$	теплота парообразования воды	$2,3 \cdot 10^6 \frac{\text{Дж}}{\text{кг}}$
теплоёмкость спирта	$2400 \frac{\text{Дж}}{\text{кг} \cdot ^\circ\text{C}}$	теплота парообразования спирта	$9,0 \cdot 10^5 \frac{\text{Дж}}{\text{кг}}$
теплоёмкость льда	$2100 \frac{\text{Дж}}{\text{кг} \cdot ^\circ\text{C}}$	теплота плавления свинца	$2,5 \cdot 10^4 \frac{\text{Дж}}{\text{кг}}$
теплоёмкость алюминия	$920 \frac{\text{Дж}}{\text{кг} \cdot ^\circ\text{C}}$	теплота плавления стали	$7,8 \cdot 10^4 \frac{\text{Дж}}{\text{кг}}$
теплоёмкость стали	$500 \frac{\text{Дж}}{\text{кг} \cdot ^\circ\text{C}}$	теплота плавления олова	$5,9 \cdot 10^4 \frac{\text{Дж}}{\text{кг}}$
теплоёмкость цинка	$400 \frac{\text{Дж}}{\text{кг} \cdot ^\circ\text{C}}$	теплота плавления льда	$3,3 \cdot 10^5 \frac{\text{Дж}}{\text{кг}}$
теплоёмкость меди	$400 \frac{\text{Дж}}{\text{кг} \cdot ^\circ\text{C}}$	теплота сгорания спирта	$2,9 \cdot 10^7 \frac{\text{Дж}}{\text{кг}}$
теплоёмкость олова	$230 \frac{\text{Дж}}{\text{кг} \cdot ^\circ\text{C}}$	теплота сгорания керосина	$4,6 \cdot 10^7 \frac{\text{Дж}}{\text{кг}}$
теплоёмкость свинца	$130 \frac{\text{Дж}}{\text{кг} \cdot ^\circ\text{C}}$	теплота сгорания бензина	$4,6 \cdot 10^7 \frac{\text{Дж}}{\text{кг}}$
теплоёмкость бронзы	$420 \frac{\text{Дж}}{\text{кг} \cdot ^\circ\text{C}}$		

Температура плавления		Температура кипения при нормальном атмосферном давлении	
свинца	327 °C	воды	100 °C
олова	232 °C	спирта	78 °C
льда	0 °C		

Удельное электрическое сопротивление, $\frac{\text{Ом} \cdot \text{мм}^2}{\text{м}}$ (при 20 °C)

серебро	0,016	никелин	0,4
медь	0,017	нихром (сплав)	1,1
алюминий	0,028	фехраль	1,2
железо	0,10		

Нормальные условия: давление – 10^5 Па, температура – 0 °C

Ответом к заданиям 1, 2, 4, 11–14, 16, 18 и 19 является последовательность цифр. Последовательность цифр записывайте без пробелов, запятых и других дополнительных символов. Ответом к заданиям 3 и 15 является одна цифра, которая соответствует номеру правильного ответа. Ответом к заданиям 5–10 является число. Единицы измерения в ответе указывать не надо. Ответ запишите в поле ответа в тексте работы, а затем перенесите в БЛАНК ОТВЕТОВ № 1 справа от номера соответствующего задания, начиная с первой клеточки. Каждый символ пишите в отдельной клеточке в соответствии с приведёнными в бланке образцами. Ответы на задания 17, 20–25 запишите на БЛАНКЕ ОТВЕТОВ № 2.

1

Установите соответствие между физическими понятиями и примерами. К каждой позиции первого столбца подберите соответствующую позицию из второго столбца и запишите в таблицу выбранные цифры под соответствующими буквами.

ФИЗИЧЕСКИЕ ПОНЯТИЯ

- А) физическая величина
- Б) единица физической величины
- В) прибор для измерения физической величины

ПРИМЕРЫ

- 1) траектория
- 2) средняя скорость
- 3) литр
- 4) измерительный цилиндр
- 5) механическое движение

Ответ:

А	Б	В

- 2 Установите соответствие между формулами для расчёта физических величин и названиями этих величин. В формулах использованы обозначения: m – масса; Q – количество теплоты; t – температура. К каждой позиции первого столбца подберите соответствующую позицию из второго столбца и запишите в таблицу выбранные цифры под соответствующими буквами.

ФОРМУЛЫ

А) $\frac{Q}{m(t_2 - t_1)}$

Б) $\frac{Q}{m}$

ФИЗИЧЕСКИЕ ВЕЛИЧИНЫ

- 1) количество теплоты, необходимое для плавления тела
- 2) количество теплоты, необходимое для нагревания тела
- 3) удельная теплота парообразования жидкости
- 4) удельная теплоёмкость вещества

Ответ:

А	Б

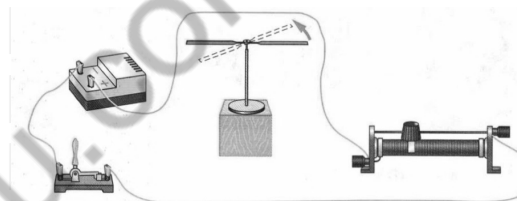
- 3 Диффузия в твёрдых телах при повышении температуры происходит быстрее, потому что с повышением температуры
- 1) увеличивается средняя скорость теплового движения молекул
 - 2) увеличиваются силы взаимодействия молекул
 - 3) уменьшаются силы взаимодействия молекул
 - 4) уменьшается площадь поперечного сечения молекул

Ответ:

--

- 4 Прочитайте текст и вставьте на места пропусков слова (словосочетания) из приведённого списка.

В 1820 г. датский ученый Эрстед обнаружил, что (А) _____, расположенная вблизи проводника, ориентируется при пропускании по нему электрического тока (см. рисунок) Этот опыт показывает, что вокруг проводника с током существует (Б) _____. Сейчас известно, что вокруг (В) _____ электрических зарядов существует только электрическое поле, а вокруг (Г) _____ электрических зарядов – и электрическое, и магнитное поле.



Список слов и словосочетаний:

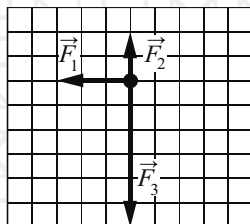
- 1) магнитная стрелка
- 2) заряженная палочка
- 3) магнитное поле
- 4) электрическое поле
- 5) движущиеся
- 6) неподвижные
- 7) положительные
- 8) отрицательные

Запишите в таблицу выбранные цифры под соответствующими буквами.

Ответ:

А	Б	В	Г

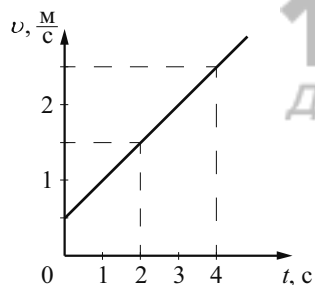
- 5 На тело действуют три силы, модули которых: $F_1 = 6$ Н; $F_2 = 4$ Н и $F_3 = 12$ Н. Силы действуют в одной плоскости. Направления действия сил показаны на рисунке.



Чему равен модуль равнодействующей этих трёх сил?

Ответ: _____ Н.

- 6 На рисунке представлен график зависимости скорости тела от времени. Во сколько раз увеличится кинетическая энергия тела за первую секунду?

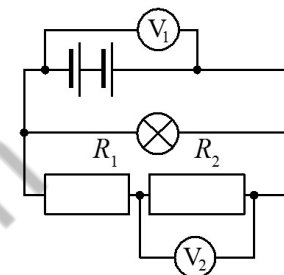


Ответ: в _____ раз(а).

- 7 Какое количество теплоты выделится при охлаждении 4 кг свинца, находящегося в твёрдом состоянии, от температуры кристаллизации до 27°C ?

Ответ: _____ кДж.

- 8 В электрической цепи (см. рисунок) вольтметр V_1 показывает напряжение 2 В, вольтметр V_2 – напряжение 0,5 В.



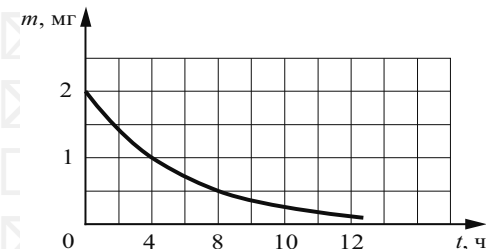
Чему равно напряжение на резисторе R_1 ?

Ответ: _____ В.

- 9 За 10 мин. работы электрическая лампа потребляет 18 кДж энергии при силе тока через неё, равной 0,5 А. Чему равно напряжение на лампе?

Ответ: _____ В.

- 10 На рисунке показан график изменения массы находящегося в пробирке радиоактивного изотопа с течением времени. Каков период полураспада этого изотопа?



Ответ: _____ ч.

- 11** Колбу с жидкостью закрыли пробкой, в которую вставили тонкую трубку. В процессе нагревания колбы с жидкостью наблюдали повышение уровня жидкости в трубке (см. рисунок). Как при этом изменились плотность жидкости в колбе и средняя скорость движения частиц жидкости?



Для каждой величины определите соответствующий характер изменения:

- 1) увеличилась
- 2) уменьшилась
- 3) не изменилась

Запишите в таблицу выбранные цифры для каждой физической величины.

Цифры в ответе могут повторяться.

Плотность жидкости	Средняя скорость движения частиц жидкости

- 12** Предмет, находящийся на расстоянии $4F$ от собирающей линзы, приближают к линзе на расстояние $2F$ (F – фокусное расстояние линзы). Как при этом изменяются фокусное расстояние линзы и расстояние от линзы до изображения предмета?

Для каждой величины определите соответствующий характер изменения:

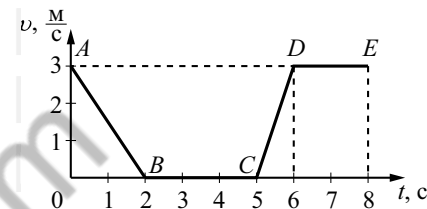
- 1) увеличивается
- 2) уменьшается
- 3) не изменяется

Запишите в таблицу выбранные цифры для каждой физической величины.

Цифры в ответе могут повторяться.

Фокусное расстояние линзы	Расстояние между линзой и изображением предмета

- 13** На рисунке представлен график зависимости модуля скорости v от времени t для тела, движущегося прямолинейно в инерциальной системе отсчёта.

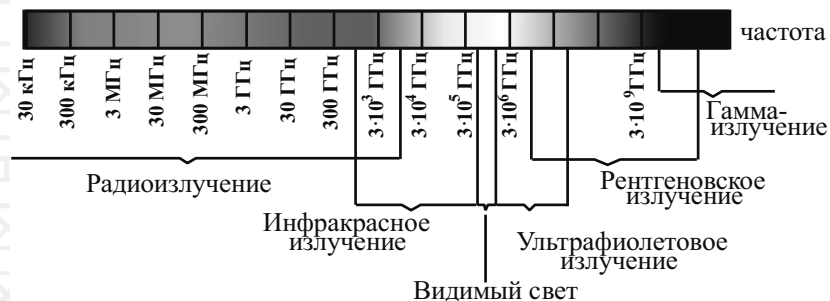


Используя данные графика, выберите из предложенного перечня **два** верных утверждения. Укажите их номера.

- 1) На участке DE тело двигалось равномерно.
- 2) Наибольшее ускорение тело имело на участке AB .
- 3) В интервале времени от 6 до 8 с тело прошло путь 6 м.
- 4) На участке CD кинетическая энергия тела уменьшалась.
- 5) В интервале времени от 0 до 2 с тело прошло путь 6 м.

Ответ:

14 На рисунке представлена шкала электромагнитных волн.




Используя данные шкалы, выберите из предложенного перечня **два** верных утверждения. Укажите их номера.

- 1) Электромагнитные волны частотой 300 кГц принадлежат только радиоизлучению.
- 2) Наибольшую скорость распространения в вакууме имеет видимый свет.
- 3) Электромагнитные волны частотой 10^5 ГГц принадлежат ультрафиолетовому излучению.
- 4) Гамма-лучи имеют большую длину волны по сравнению с ультрафиолетовыми лучами.
- 5) Длины волн видимого света составляют десятые доли микрометра.

Ответ:

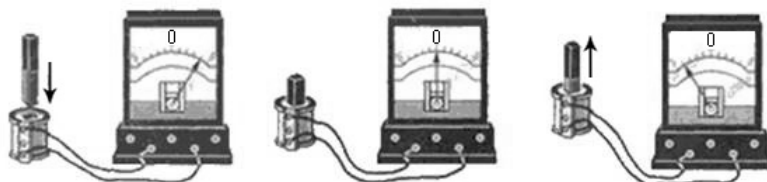
15 Запишите результат измерения атмосферного давления с помощью барометра-анероида (см. рисунок), учитывая, что погрешность измерения равна цене деления.



- 1) (750 ± 5) Па
- 2) (755 ± 1) Па
- 3) (107 ± 1) кПа
- 4) $(100,7 \pm 0,1)$ кПа

Ответ:

- 16 Учитель на уроке, используя катушку, замкнутую на гальванометр, и полосовой магнит, последовательно провёл опыты по наблюдению явления электромагнитной индукции. Движения магнита и показания гальванометра представлены на рисунке.



Из предложенного перечня выберите **два** утверждения, соответствующих проведённым опытам. Укажите их номера.

- 1) Величина индукционного тока зависит от геометрических размеров катушки.
- 2) При изменении магнитного потока, пронизывающего катушку, в катушке возникает электрический (индукционный) ток.
- 3) Величина индукционного тока зависит от скорости изменения магнитного потока, пронизывающего катушку.
- 4) Направление индукционного тока зависит от того, увеличивается или уменьшается магнитный поток, пронизывающий катушку.
- 5) Направление индукционного тока зависит от направления магнитных линий, пронизывающих катушку.

Ответ:

--	--

Для ответа на задание 17 используйте БЛАНК ОТВЕТОВ № 2. Запишите сначала номер задания, а затем ответ к нему.

- 17 Используя штатив с держателем, пружину № 2 со шкалой (или линейку), динамометр № 1 и груз № 5, соберите экспериментальную установку для измерения жёсткости пружины. Определите жёсткость пружины, подвесив к ней груз. Для измерения веса груза воспользуйтесь динамометром. Абсолютная погрешность измерения удлинения пружины составляет ± 2 мм, а абсолютная погрешность измерения веса груза равна $\pm 0,02$ Н.

В бланке ответов № 2:

- 1) сделайте рисунок экспериментальной установки;
- 2) запишите формулу для расчёта жёсткости пружины;
- 3) укажите результаты измерения веса грузов и удлинения пружины с учётом абсолютных погрешностей измерений;
- 4) запишите значение жёсткости пружины.

- 18 Установите соответствие между техническими устройствами и физическими явлениями, лежащими в основе их работы. К каждой позиции первого столбца подберите соответствующую позицию из второго столбца и запишите в таблицу выбранные цифры под соответствующими буквами.

ТЕХНИЧЕСКИЕ УСТРОЙСТВА

- А) зеркальный телескоп
- Б) лупа

ФИЗИЧЕСКИЕ ЯВЛЕНИЯ

- 1) отражение света
- 2) преломление света
- 3) поглощение света
- 4) разложение света в спектр

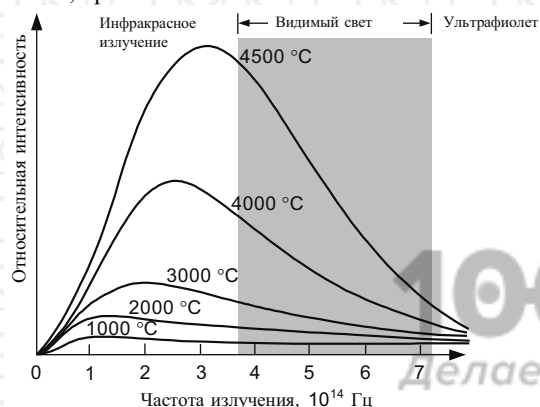
Ответ:

А	Б

Прочитайте текст и выполните задания 19 и 20.

Тепловое излучение тел

Все тела излучают электромагнитные волны. При комнатной температуре это невидимые инфракрасные волны. При нагревании тела максимум излучения смещается в область высоких частот (коротких длин волн). На рисунке представлены кривые интенсивности излучения для тел разной температуры. Так, например, кусок железа, нагретый до $550\text{ }^{\circ}\text{C}$, излучает в основном волны, воспринимаемые глазом как свет красного цвета. По мере повышения температуры цвет излучения меняется: при $1000\text{ }^{\circ}\text{C}$ становится жёлтым, при $1500\text{ }^{\circ}\text{C}$ – белым.



При этом тела не только излучают, но и поглощают энергию. Тело, полностью поглощающее всё падающее на него излучение, называется абсолютно чёрным. В том случае, если температура тела больше температуры окружающей среды, излучение будет преобладать над поглощением и тело будет охлаждаться.

Теплокровным животным и человеку для поддержания температуры тела необходимо постоянно пополнять энергию. Причём чем меньше размеры тела, тем больше энергии в единицу времени расходует тело в расчёте на единицу массы.

Пища и кислород являются исходными веществами биологических реакций, в результате которых образуются белки, ферменты и другие химические соединения, запасующие энергию. В целом все химические процессы, протекающие в живом организме, называются метаболизмом. Скорость метаболизма зависит от частоты дыхания.

19

Выберите два верных утверждения, которые соответствуют содержанию текста. Запишите в ответ их номера.

- 1) Абсолютно чёрное тело отражает всё падающее на него излучение.
- 2) Если температура тела больше температуры окружающей среды, то тело не участвует в поглощении энергии.
- 3) При увеличении температуры тела интенсивность его излучения не меняется.
- 4) При увеличении температуры фотосферы звезды максимум в спектре излучения смещается в область меньших длин волн.
- 5) Ежедневный пищевой рацион, рассчитанный на 1 кг массы тела, у мыши больше, чем у слона.

Ответ:

Для ответов на задания 20–25 используйте БЛАНК ОТВЕТОВ № 2. Запишите сначала номер задания (20, 21 и т.д.), а затем ответ на него. Полный ответ на задания 20, 21 и 22 должен содержать не только ответ на вопрос, но и его развёрнутое, логически связанное обоснование.

- 20) стакан с горячим чаем оставили в большом прохладном помещении. С течением времени температура чая сравнялась с температурой окружающего воздуха. Как при этом изменилась интенсивность теплового излучения чая? Ответ поясните.
- 21) В два одинаковых стакана налита вода до одной высоты. В один стакан опустили сплошной стальной брусок, а в другой – сплошной медный брусок той же массы. Бруски целиком погрузились в воду. В каком стакане уровень воды стал выше, если известно, что вода из стаканов не выливалась? Ответ поясните.
- 22) Каким образом легче резать картон с помощью ножниц: помещая картон у кончиков лезвий или ближе к их середине? Ответ поясните.

Для заданий 23–25 необходимо записать полное решение, включающее запись краткого условия задачи (Дано), запись формул, применение которых необходимо и достаточно для решения задачи, а также математические преобразования и расчёты, приводящие к числовому ответу.

- 23) В прямой никелиновой проволоке с площадью сечения 1 мм^2 сила постоянного тока равна 1 А. На каком расстоянии друг от друга находятся точки этой проволоки, напряжение между которыми равно 1 В?
- 24) Маленький свинцовый шарик равномерно движется по вертикали в воде. Каков объём шарика, если при его перемещении на 6 м выделилось 18,63 мДж энергии?
- 25) Подъёмный кран поднимает за 10 с равноускоренно груз массой 1140 кг из состояния покоя на высоту 10 м. Электродвигатель крана питается от сети напряжением 380 В и в конце подъёма имеет КПД, равный 60%. Определите силу тока в обмотке электродвигателя.



Не забудьте перенести все ответы в бланки ответов № 1 и № 2 в соответствии с инструкцией по выполнению работы. Проверьте, чтобы каждый ответ был записан рядом с номером соответствующего задания.