

Тренировочная работа в формате ВПР 2021 год

по ИСТОРИИ

5 КЛАСС

вариант ИС2050101

Инструкция по выполнению работы

На выполнение работы по истории даётся 45 минут. Работа состоит из двух частей и включает в себя 8 заданий. Часть 1 работы посвящена истории Древнего мира, в части 2 предложены задания по истории Вашего родного края.

Ответы на задания запишите в поля ответов в тексте работы. В случае записи неверного ответа зачеркните его и запишите рядом новый. При необходимости можно пользоваться черновиком. Записи в черновике проверяться и оцениваться не будут.

Советуем выполнять задания в том порядке, в котором они даны. В целях экономии времени пропускайте задание, которое не удаётся выполнить сразу, и переходите к следующему. Если после выполнения работы у Вас останется время, то Вы сможете вернуться к пропущенным заданиям.

Желаем успеха!

Часть 1

В этой части работы даны задания по истории Древнего мира.

Прочитайте перечень из четырёх тем и выполните задания 1–6.

Перечень тем



А) Финикия

Б) Персидская держава

В) Древний Египет

Г) Древний Китай

1 Каждая из иллюстраций, приведённых ниже, относится к одной из указанных в перечне тем. Установите соответствие между темами и иллюстрациями: к каждой теме подберите по одной иллюстрации.



Запишите в таблицу выбранные цифры под соответствующими буквами.



Ответ:

А	Б	В	Г

Перечень тем

А) Финикия

Б) Персидская держава

В) Древний Египет

Г) Древний Китай

2

Прочитайте отрывок из сочинения древнего историка и определите, к какой из данных тем он относится. В ответе напишите букву, которой обозначена эта тема.

«На двадцать шестом году правления циньского вана Чжэна правитель княжества Ци Цзянь вместе с первым советником Хоу Шэном поднял войска, чтобы защитить свои западные пределы, и перестал общаться с Цинь. Правитель Цинь послал туда военачальника Ван Бэня, который, следуя через юг княжества Янь, напал на Ци и взял в плен Ци-вана Цзяня.

Так Цинь впервые объединило Поднебесную. Циньский ван отдал первым советникам и цензорам приказ, который гласил: «В своё время ханьский ван поднёс нам земли, вручил печать и просил считать его нашим слугой. Однако вскоре он нарушил соглашение, объединился с княжествами Чжао и Вэй в союз по вертикали и восстал против Цинь, поэтому я послал войска, покарал их и взял в плен правителя Хань».

Ответ:

Выберите одну тему из перечня, а затем выполните относящиеся к этому перечню задания только по выбранной Вами теме. Перед выполнением каждого из относящихся к перечню заданий укажите букву, которой обозначена выбранная тема. Указанные в заданиях буквы должны быть одинаковыми.

3

Выбранная тема: (укажите букву в перечне).

Прочитайте список слов (словосочетаний) и напишите слово (словосочетание), относящееся к выбранной Вами теме.

Ашока, «сын неба», Тир, зиккурат, Царская дорога, Анубис.

Ответ: _____

Объясните смысл этого слова (словосочетания).

Ответ: _____

Перечень тем

А) Финикия

Б) Персидская держава

В) Древний Египет

Г) Древний Китай

4

Выбранная тема: (укажите букву в перечне).

Прочитайте список событий (явлений, процессов) и напишите событие (явление, процесс), которое относится к выбранной Вами теме.

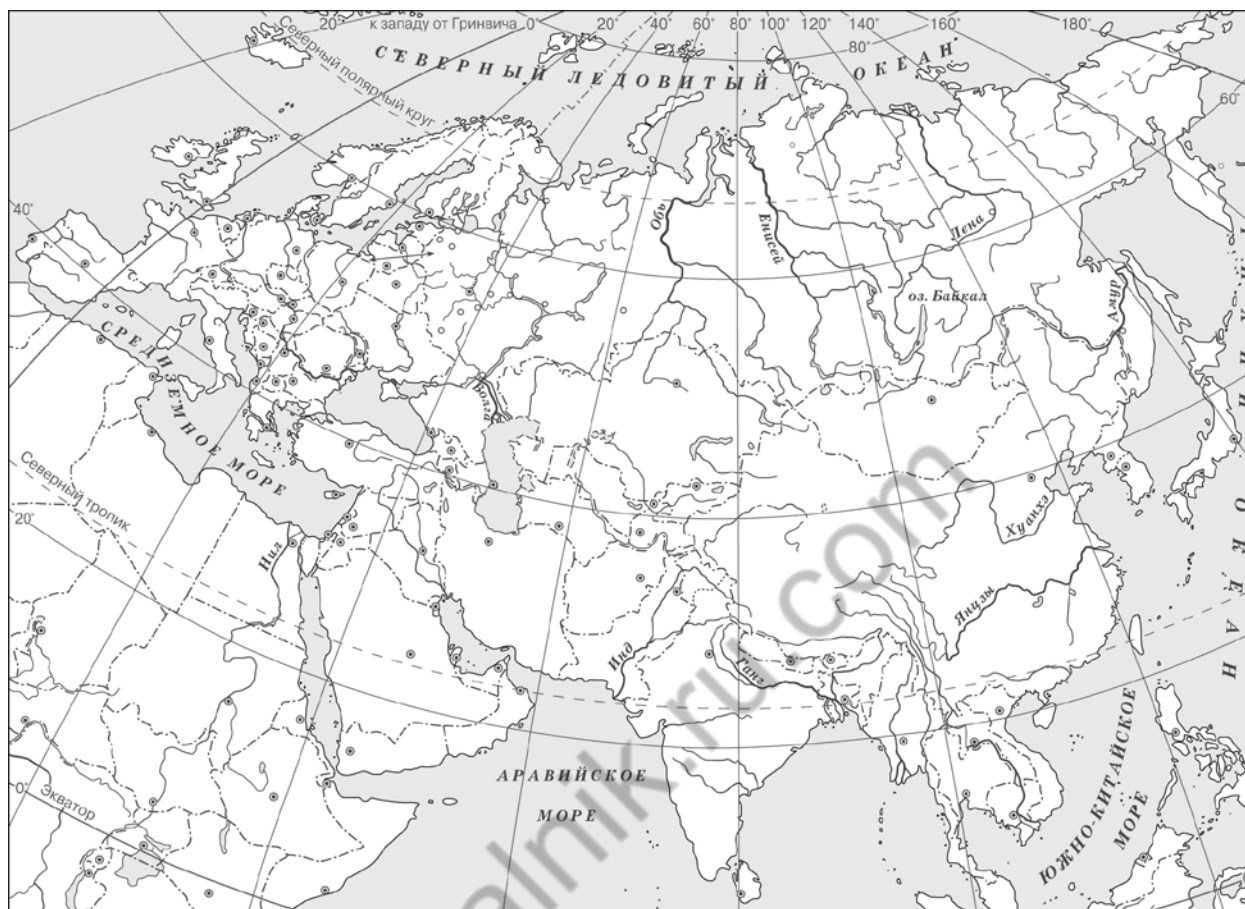
Завоевания Кира Великого, вера в Амона-Ра, изобретение древнейшего алфавита, легенда о принце Гаутаме, возникновение первых государств в Двуречье, производство шёлка.

Ответ: _____

Используя знания по истории, расскажите об этом событии (явлении, процессе). Ваш рассказ должен содержать не менее двух исторических фактов.

100balnik.ru.com

5 Заштрихуйте на контурной карте один четырёхугольник, образованный градусной сеткой (параллелями и меридианами), в котором располагался древний город, где находились висячие сады Семирамиды.



6 Используя знания исторических фактов, объясните, как природно-климатические условия повлияли на жителей страны, столицей которой был древний город, где находились висячие сады Семирамиды.



Ответ: _____

Тренировочная работа в формате ВПР 2021 год

по ИСТОРИИ

5 КЛАСС

вариант ИС2050102

Инструкция по выполнению работы

На выполнение работы по истории даётся 45 минут. Работа состоит из двух частей и включает в себя 8 заданий. Часть 1 работы посвящена истории Древнего мира, в части 2 предложены задания по истории Вашего родного края.

Ответы на задания запишите в поля ответов в тексте работы. В случае записи неверного ответа зачеркните его и запишите рядом новый.

При необходимости можно пользоваться черновиком. Записи в черновике проверяться и оцениваться не будут.

Советуем выполнять задания в том порядке, в котором они даны. В целях экономии времени пропускайте задание, которое не удаётся выполнить сразу, и переходите к следующему. Если после выполнения работы у Вас останется время, то Вы сможете вернуться к пропущенным заданиям.

Желаем успеха!

Часть 1

В этой части работы даны задания по истории Древнего мира.

Прочитайте перечень из четырёх тем и выполните задания 1–6.

Перечень тем

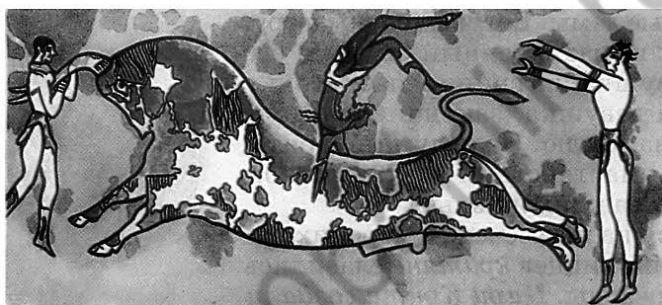
А) Ассирийское государство

Б) Древняя Индия

В) Древняя Греция

Г) Древняя Палестина

- 1) Каждая из иллюстраций, приведённых ниже, относится к одной из указанных в перечне тем. Установите соответствие между темами и иллюстрациями: к каждой теме подберите по одной иллюстрации.



1)



2)



3)



4)

Запишите в таблицу выбранные цифры под соответствующими буквами.



Ответ:

А	Б	В	Г

Перечень тем

А) Ассирийское государство

Б) Древняя Индия

В) Древняя Греция

Г) Древняя Палестина

2

Прочитайте отрывок из исторического источника и определите, к какой из данных тем он относится. В ответе напишите букву, которой обозначена эта тема.

«Исполняя завещание своего отца Давида, Соломон приступил к постройке храма Божия. Местом для него выбрал гору Мория, которая была указана ещё Давиду и на которой Авраам приносил в жертву Исаака. Храм строили семь с половиной лет около ста восьмидесяти пяти тысяч работников.

Стены храма были выложены из камня, снаружи обложены белым мрамором, а внутри золотом. Все принадлежности храма для богослужения были сделаны из золота. Когда храм был готов, Соломон призвал к освящению его всех старейшин и множество народа. При звуке труб и пении песен духовных внесён был Ковчег Завета».

Ответ:

Выберите одну тему из перечня, а затем выполните относящиеся к этому перечню задания только по выбранной Вами теме. Перед выполнением каждого из относящихся к перечню заданий укажите букву, которой обозначена выбранная тема. Указанные в заданиях буквы должны быть одинаковыми.

3

Выбранная тема: (укажите букву в перечне).

Прочитайте список слов (словосочетаний) и напишите слово (словосочетание), относящееся к выбранной Вами теме.

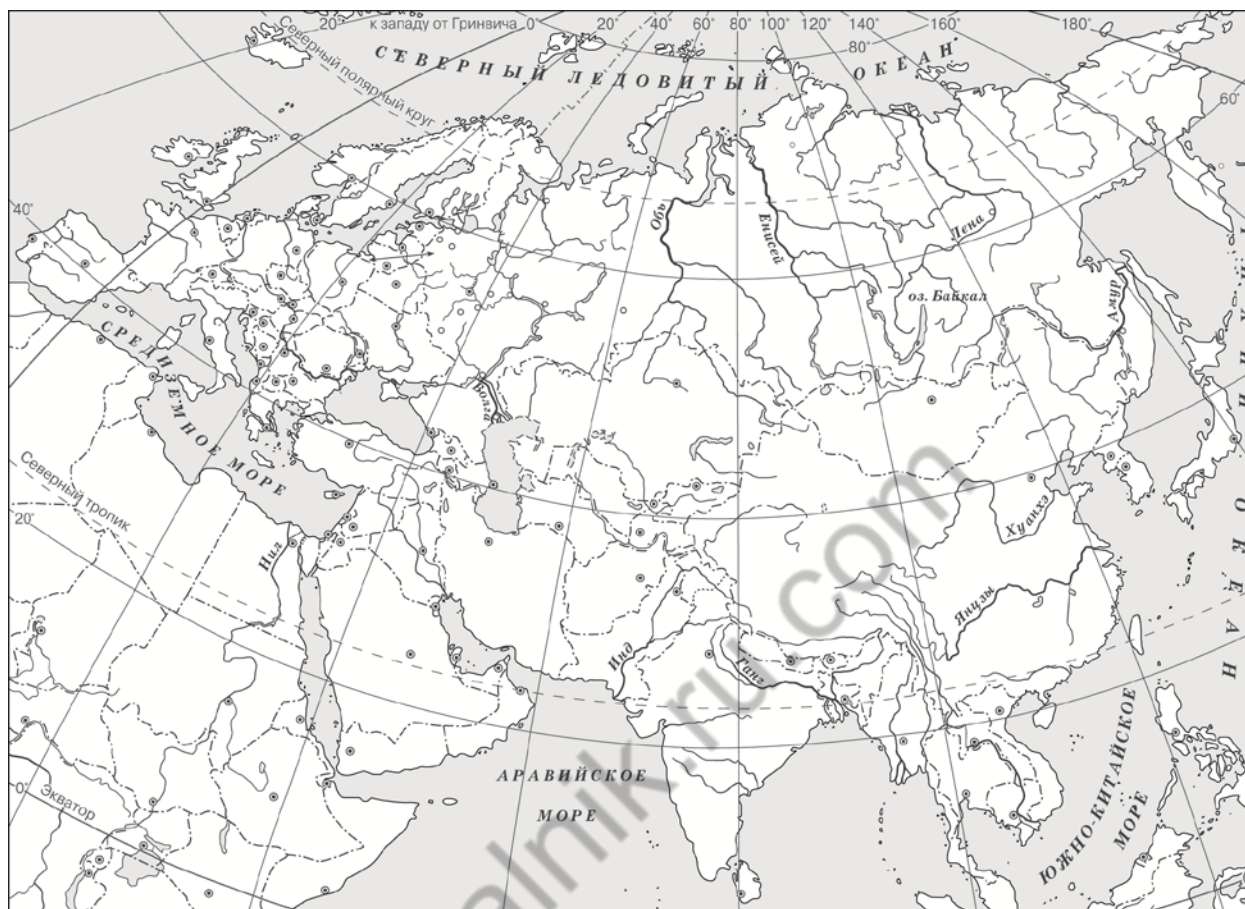
Скрижали, Ганг, илоты, клинопись, Ниневия, царство стран.

Ответ: _____

Объясните смысл этого слова.

Ответ: _____

5 Заштрихуйте на контурной карте один четырёхугольник, образованный градусной сеткой (параллелями и меридианами), в котором располагался древний город Микены.



6 Используя знания исторических фактов, объясните, как природно-климатические условия повлияли на жителей полуострова, на котором расположен древний город Микены.



Ответ: _____
