

Тренировочная работа в формате ВПР 2021 год

по ИСТОРИИ

6 КЛАСС

вариант ИС2060101

Инструкция по выполнению работы

На выполнение работы по истории даётся 60 минут. Работа включает в себя 10 заданий. Часть 1 работы посвящена истории России и истории зарубежных стран (история Средних веков), в части 2 предложены задания по истории Вашего родного края.

Ответы на задания запишите в поля ответов в тексте работы. В случае записи неверного ответа зачеркните его и запишите рядом новый.

При необходимости можно пользоваться черновиком. Записи в черновике проверяться и оцениваться не будут.

Советуем выполнять задания в том порядке, в котором они даны. В целях экономии времени пропускайте задание, которое не удаётся выполнить сразу, и переходите к следующему. Если после выполнения всей работы у Вас останется время, то Вы сможете вернуться к пропущенным заданиям.

Желаем успеха!

Часть 1

В этой части работы даны задания по истории России и истории зарубежных стран (история Средних веков).

Прочтите перечень из четырёх событий (процессов) и выполните задания, относящиеся к этому перечню.

Перечень событий (процессов)

- А) борьба Руси с половцами Б) формирование Древнерусского государства
 В) ордынское владычество на Руси Г) образование Испанского королевства

1) Каждая из иллюстраций, приведённых ниже, относится к одному из указанных в перечне событий (процессов). Установите соответствие между событиями (процессами) и иллюстрациями: к каждому событию (процессу) подберите по одной иллюстрации.



Запишите в таблицу выбранные цифры под соответствующими буквами.

Ответ:

А	Б	В	Г

Перечень событий (процессов)

А) борьба Руси с половцами

Б) формирование Древнерусского государства

В) ордынское владычество на Руси

Г) образование Испанского королевства

2 Прочтите отрывок из исторического источника и определите, к какому из данных событий (процессов) он относится. В ответе напишите букву, которой обозначено это событие (процесс).

«Изгнали варяг за море, и не дали им дани, и начали сами собой владеть, и не было среди них правды, и встал род на род, и была у них усобица, и стали воевать друг с другом. И сказали себе: "Поищем себе князя, который бы владел нами и судил по праву". И пошли за море к варягам, к руси. Те варяги назывались русью, как другие называются шведы, а иные норманны и англы, а ещё иные готландцы, – вот так и эти. Сказали руси чудь, словене, кривичи и весь: "Земля наша велика и обильна, а порядка в ней нет. Приходите княжить и владеть нами". И избрались трое братьев со своими родами, и взяли с собой всю русь, и пришли...».

Ответ:

3 С каким из данных событий (процессов) связано слово «Реконкиста»? Запишите букву, которой обозначено данное событие (процесс).

Ответ:

Объясните смысл слова «Реконкиста».

Ответ: _____

- 4 Укажите две исторические личности, которые были непосредственно связаны с распространением христианства на Руси в XI в.
Укажите одно любое действие каждой из этих личностей, в значительной степени повлиявшее на распространение христианства на Руси в XI в.
Ответ запишите в таблицу.

Ответ:

Личности	Действия
1.	
2.	

6 Запишите название любого географического объекта (города, населённого пункта, реки или др.), который непосредственно связан с внутриполитическим развитием Северо-Восточной Руси в XII в.

Объясните, как указанный Вами географический объект (город, населённый пункт, река или др.) связан с внутриполитическим развитием Северо-Восточной Руси в XII в.

Ответ (название объекта): _____

Объяснение: _____


7 Используя знание исторических фактов, объясните, почему характер внутриполитического развития Северо-Восточной Руси в XII в. имел большое значение (важные последствия) для истории нашей страны.

Ответ: _____

Рассмотрите изображения памятников культуры и выполните задания.




1)



2)



3)



4)

8) Какие два из представленных изображений являются памятниками культуры России, а какие – памятниками культуры зарубежных стран? Запишите в таблицу порядковые номера соответствующих памятников культуры.

<input type="checkbox"/>	Ответ:	Памятники культуры России		Памятники культуры зарубежных стран	
		_____	_____	_____	_____

9) Как называются русские героико-патриотические песни-сказания, повествующие о подвигах богатырей и отражающие жизнь Древней Руси IX–XIII веков?

Ответ: _____

Тренировочная работа в формате ВПР 2021 год
по ИСТОРИИ
6 КЛАСС
вариант ИС2060102

Инструкция по выполнению работы

На выполнение работы по истории даётся 60 минут. Работа включает в себя 10 заданий. Часть 1 работы посвящена истории России и истории зарубежных стран (история Средних веков), в части 2 предложены задания по истории Вашего родного края.

Ответы на задания запишите в поля ответов в тексте работы. В случае записи неверного ответа зачеркните его и запишите рядом новый.

При необходимости можно пользоваться черновиком. Записи в черновике проверяться и оцениваться не будут.

Советуем выполнять задания в том порядке, в котором они даны. В целях экономии времени пропускайте задание, которое не удаётся выполнить сразу, и переходите к следующему. Если после выполнения всей работы у Вас останется время, то Вы сможете вернуться к пропущенным заданиям.

Желаем успеха!

Часть 1

В этой части работы даны задания по истории России и истории зарубежных стран (история Средних веков).

Прочтите перечень из четырёх событий (процессов) и выполните задания, относящиеся к этому перечню.

- Перечень событий (процессов)**
- А)** внешняя политика князей государства Русь (882–972 гг.)
 - Б)** борьба католической церкви с еретиками в Европе
 - В)** разделение Древнерусского государства на отдельные княжества и земли
 - Г)** создание письменного законодательства государства Русь

1 Каждая из иллюстраций, приведённых ниже, относится к одному из указанных в перечне событий (процессов). Установите соответствие между событиями (процессами) и иллюстрациями: к каждому событию (процессу) подберите по одной иллюстрации.



Запишите в таблицу выбранные цифры под соответствующими буквами.

Ответ:

А	Б	В	Г

Перечень событий (процессов)**А)** внешняя политика князей государства Русь (882–972 гг.)**Б)** борьба католической церкви с еретиками в Европе**В)** разделение Древнерусского государства на отдельные княжества и земли**Г)** создание письменного законодательства государства Русь

2 Прочтите отрывок из исторического источника и определите, к какому из данных событий (процессов) он относится. В ответе напишите букву, которой обозначено это событие (процесс).

«Галицкий Осмомысл Ярослав, высоко сидишь ты на своём златокованном престоле. Подпёр ты горы Венгерские своими железными полками, загородив Королю путь, затворив Дунаю ворота, перемётывая тяжести через облака, наводя суд до Дуная. Грозы твои идут по землям; ты отворяешь Киеву ворота; стреляешь с отцова золотого престола салтанов за странами. Стреляй же, господин, Кончака, поганого раба, за землю Русскую, за раны Игоревы, буйного Святославича...».

Ответ:

3 С каким из данных событий (процессов) связано слово «инквизиция»? Запишите букву, которой обозначено данное событие (процесс).

Ответ:

Объясните смысл слова «инквизиция».

Ответ: _____

4 Укажите две исторические личности, которые были непосредственно связаны с обороной русских княжеств и земель во время Батыева нашествия на Русь.

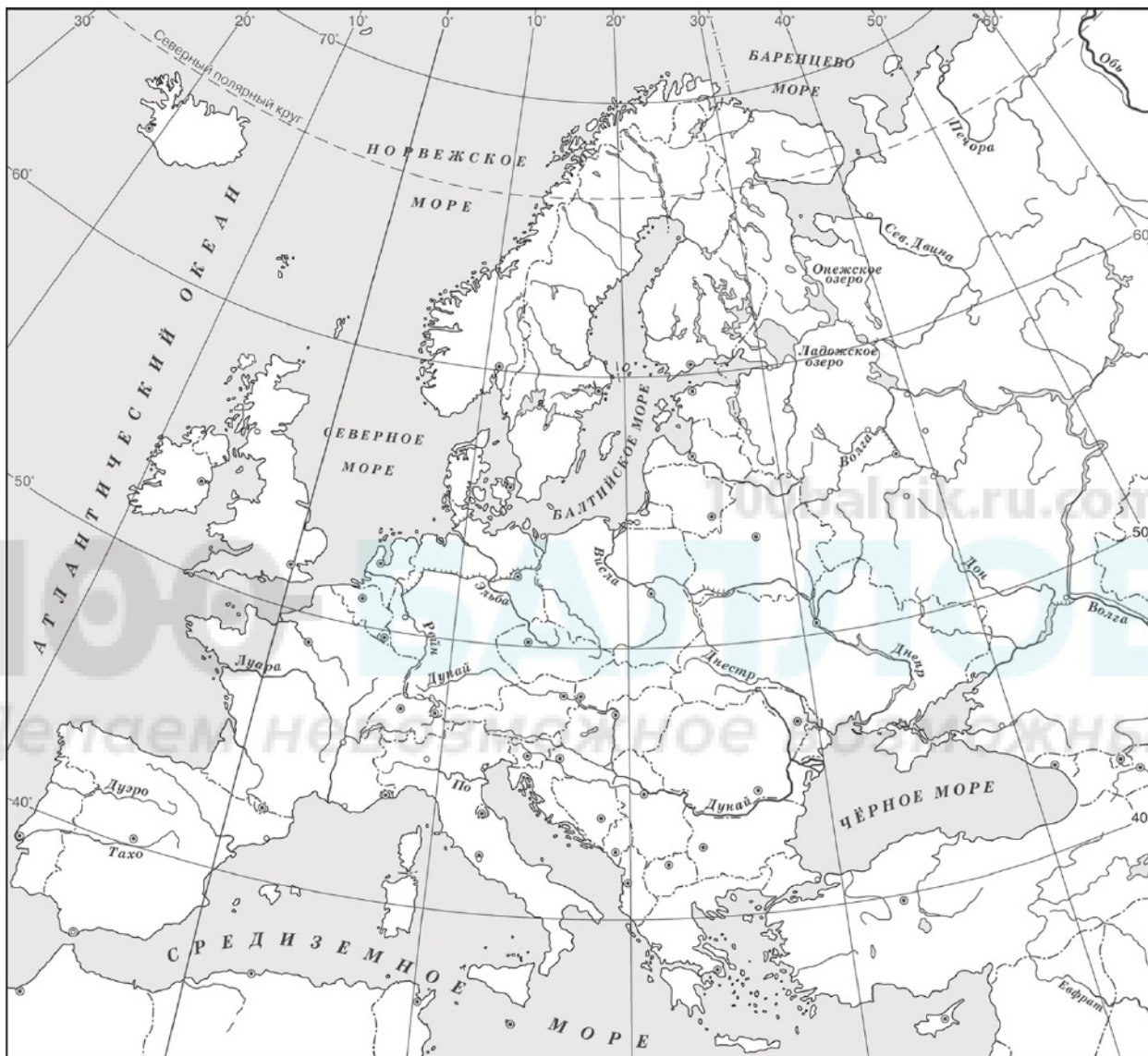
Укажите одно любое действие каждой из этих личностей, в значительной степени повлиявшее на сопротивление русских княжеств и земель во время Батыева нашествия на Русь.

Ответ запишите в таблицу.

Ответ:

Личности	Действия
1.	
2.	

5 Заштрихуйте на контурной карте один четырёхугольник, образованный градусной сеткой, в котором находится политико-административный центр племенного союза полян.



6 Запишите название любого географического объекта (города, населённого пункта, реки или др.), который непосредственно связан с борьбой русских земель против северо-западных завоевателей в XIII в.

Объясните, как указанный Вами географический объект (город, населённый пункт, река или др.) связан с борьбой русских земель против северо-западных завоевателей в XIII в.

Ответ (название объекта): _____

Объяснение: _____

100balnik.ru.com

7 Используя знание исторических фактов, объясните, почему борьба русских земель против северо-западных завоевателей в XIII в. имела большое значение (важные последствия) для истории нашей страны.

Ответ: _____


Рассмотрите изображения памятников культуры и выполните задания.



1)



2)



3)



4)

8) Какие два из представленных изображений являются памятниками культуры России, а какие – памятниками культуры зарубежных стран? Запишите в таблицу порядковые номера соответствующих памятников культуры.

Ответ:

Памятники культуры России	Памятники культуры зарубежных стран

9) Заполните пропуск в предложении: «Стены соборов украшали _____ – изображениями, которые наносили красками прямо на стену по сырой штукатурке»

Ответ: _____

