

НОМЕР КИМ**Инструкция по выполнению работы**

На выполнение экзаменационной работы по физике отводится 3 часа (180 минут). Экзаменационная работа включает в себя 25 заданий.

Ответы к заданиям 1, 2, 4, 11–14, 16, 18 и 19 записываются в виде последовательности цифр. Ответом к заданиям 3 и 15 является одна цифра, которая соответствует номеру правильного ответа. Ответы к заданиям 5–10 записываются в виде целого числа или конечной десятичной дроби с учётом указанных в ответе единиц. Ответ запишите в поле ответа в тексте работы, а затем перенесите в бланк ответов № 1. Единицы измерения в ответе указывать не надо.

К заданиям 17, 20–25 следует дать развернутый ответ. Задания выполняются на бланке ответов № 2. Запишите сначала номер задания, а затем ответ на него. Ответы записывайте чётко и разборчиво. Задание 17 экспериментальное, и для его выполнения необходимо воспользоваться лабораторным оборудованием.

При вычислениях разрешается использовать линейку и непрограммируемый калькулятор.

Все бланки заполняются яркими чёрными чернилами. Допускается использование гелевой или капиллярной ручки.

При выполнении заданий можно пользоваться черновиком. **Записи в черновике, а также в тексте контрольных измерительных материалов не учитываются при оценивании работы.**

Баллы, полученные Вами за выполненные задания, суммируются. Постарайтесь выполнить как можно больше заданий и набрать наибольшее количество баллов.

После завершения работы проверьте, чтобы ответ на каждое задание в бланках ответов № 1 и № 2 был записан под правильным номером.

Желаем успеха!

Ниже приведены справочные данные, которые могут понадобиться Вам при выполнении работы.

Десятичные приставки		
Наименование	Обозначение	Множитель
гига	Г	10^9
мега	М	10^6
кило	к	10^3
гекто	г	10^2
санти	с	10^{-2}
милли	м	10^{-3}
микро	мк	10^{-6}
нано	н	10^{-9}

Константы	
ускорение свободного падения на Земле	$g = 10 \frac{\text{м}}{\text{с}^2}$
гравитационная постоянная	$G = 6,7 \cdot 10^{-11} \frac{\text{Н} \cdot \text{м}^2}{\text{кг}^2}$
скорость света в вакууме	$c = 3 \cdot 10^8 \frac{\text{м}}{\text{с}}$
элементарный электрический заряд	$e = 1,6 \cdot 10^{-19} \text{ Кл}$

Плотность			
бензин	$710 \frac{\text{кг}}{\text{м}^3}$	древесина (сосна)	$400 \frac{\text{кг}}{\text{м}^3}$
спирт	$800 \frac{\text{кг}}{\text{м}^3}$	парафин	$900 \frac{\text{кг}}{\text{м}^3}$
керосин	$800 \frac{\text{кг}}{\text{м}^3}$	лёд	$900 \frac{\text{кг}}{\text{м}^3}$
масло машинное	$900 \frac{\text{кг}}{\text{м}^3}$	алюминий	$2700 \frac{\text{кг}}{\text{м}^3}$
вода	$1000 \frac{\text{кг}}{\text{м}^3}$	мрамор	$2700 \frac{\text{кг}}{\text{м}^3}$
молоко цельное	$1030 \frac{\text{кг}}{\text{м}^3}$	цинк	$7100 \frac{\text{кг}}{\text{м}^3}$
вода морская	$1030 \frac{\text{кг}}{\text{м}^3}$	сталь, железо	$7800 \frac{\text{кг}}{\text{м}^3}$
глицерин	$1260 \frac{\text{кг}}{\text{м}^3}$	медь	$8900 \frac{\text{кг}}{\text{м}^3}$
ртуть	$13\,600 \frac{\text{кг}}{\text{м}^3}$	свинец	$11\,350 \frac{\text{кг}}{\text{м}^3}$

Удельная			
теплоёмкость воды	$4200 \frac{\text{Дж}}{\text{кг} \cdot ^\circ\text{C}}$	теплота парообразования воды	$2,3 \cdot 10^6 \frac{\text{Дж}}{\text{кг}}$
теплоёмкость спирта	$2400 \frac{\text{Дж}}{\text{кг} \cdot ^\circ\text{C}}$	теплота парообразования спирта	$9,0 \cdot 10^5 \frac{\text{Дж}}{\text{кг}}$
теплоёмкость льда	$2100 \frac{\text{Дж}}{\text{кг} \cdot ^\circ\text{C}}$	теплота плавления свинца	$2,5 \cdot 10^4 \frac{\text{Дж}}{\text{кг}}$
теплоёмкость алюминия	$920 \frac{\text{Дж}}{\text{кг} \cdot ^\circ\text{C}}$	теплота плавления стали	$7,8 \cdot 10^4 \frac{\text{Дж}}{\text{кг}}$
теплоёмкость стали	$500 \frac{\text{Дж}}{\text{кг} \cdot ^\circ\text{C}}$	теплота плавления олова	$5,9 \cdot 10^4 \frac{\text{Дж}}{\text{кг}}$
теплоёмкость цинка	$400 \frac{\text{Дж}}{\text{кг} \cdot ^\circ\text{C}}$	теплота плавления льда	$3,3 \cdot 10^5 \frac{\text{Дж}}{\text{кг}}$
теплоёмкость меди	$400 \frac{\text{Дж}}{\text{кг} \cdot ^\circ\text{C}}$	теплота сгорания спирта	$2,9 \cdot 10^7 \frac{\text{Дж}}{\text{кг}}$
теплоёмкость олова	$230 \frac{\text{Дж}}{\text{кг} \cdot ^\circ\text{C}}$	теплота сгорания керосина	$4,6 \cdot 10^7 \frac{\text{Дж}}{\text{кг}}$
теплоёмкость свинца	$130 \frac{\text{Дж}}{\text{кг} \cdot ^\circ\text{C}}$	теплота сгорания бензина	$4,6 \cdot 10^7 \frac{\text{Дж}}{\text{кг}}$
теплоёмкость бронзы	$420 \frac{\text{Дж}}{\text{кг} \cdot ^\circ\text{C}}$		

Температура плавления		Температура кипения	
свинца	327 °С	воды	100 °С
олова	232 °С	спирта	78 °С
льда	0 °С		

Удельное электрическое сопротивление, $\frac{\text{Ом} \cdot \text{мм}^2}{\text{м}}$ (при 20 °С)			
серебро	0,016	никелин	0,4
медь	0,017	нихром (сплав)	1,1
алюминий	0,028	фехраль	1,2
железо	0,10		

Нормальные условия: давление 10^5 Па, температура 0 °С



Ответом к заданиям 1, 2, 4, 11–14, 16, 18 и 19 является последовательность цифр. Последовательность цифр записывайте без пробелов, запятых и других дополнительных символов. Ответом к заданиям 3 и 15 является одна цифра, которая соответствует номеру правильного ответа. Ответом к заданиям 5–10 является число. Единицы измерения в ответе указывать не надо. Ответ запишите в поле ответа в тексте работы, а затем перенесите в БЛАНК ОТВЕТОВ № 1 справа от номера соответствующего задания, начиная с первой клеточки. Каждый символ пишите в отдельной клеточке в соответствии с приведёнными в бланке образцами. Ответы на задания 17, 20–25 запишите на БЛАНКЕ ОТВЕТОВ № 2.

1 Установите соответствие между физическими понятиями и примерами этих понятий. К каждой позиции первого столбца подберите соответствующую позицию из второго столбца и запишите в таблицу выбранные цифры под соответствующими буквами.

ФИЗИЧЕСКИЕ ПОНЯТИЯ

- А) физическая величина
- Б) единица физической величины
- В) прибор для измерения физической величины

ПРИМЕРЫ

- 1) испарение воды
- 2) влажность воздуха
- 3) газ
- 4) психрометр
- 5) миллиметр

Ответ:

А	Б	В

2 Установите соответствие между формулами для расчёта физических величин и названиями этих величин. В формулах использованы обозначения: m – масса; Q – количество теплоты; t – температура; c – удельная теплоёмкость вещества.

А) $cm(t_2 - t_1)$

Б) $\frac{Q}{m}$


ФИЗИЧЕСКИЕ ВЕЛИЧИНЫ

- 1) количество теплоты, выделяемое при сгорании топлива
- 2) количество теплоты, необходимое для нагревания тела в данном агрегатном состоянии
- 3) удельная теплота сгорания топлива
- 4) удельная теплоёмкость вещества

Ответ:

А	Б

3 При резком торможении движущегося поезда пассажиры отклоняются вперёд (см. рисунок). Какое явление наблюдается в данном случае?

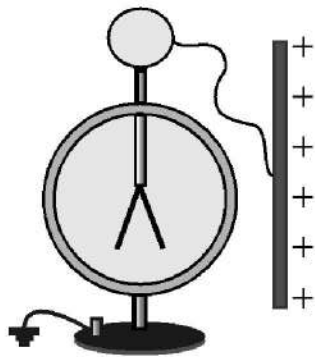


- 1) реактивное движение
- 2) колебания
- 3) сопротивление воздуха
- 4) инерция

Ответ:

4 Прочитайте текст и вставьте на места пропусков слова из приведённого списка.

Положительно заряженную проводящую пластину соединили проводником с шаром незаряженного электроскопа (см. рисунок).



Шар и стержень электроскопа являются (А)_____. При соединении с пластиной электрический заряд с пластины перешёл на электроскоп, и он приобрёл (Б)_____ заряд. Лепестки электроскопа разошлись на некоторый угол, так как (В)_____ заряды отталкиваются. Если заряд пластины уменьшить, то угол расхождения лепестков электроскопа (Г)_____.

Список слов:

- 1) проводники
- 2) диэлектрики
- 3) отрицательный
- 4) положительный
- 5) увеличится
- 6) уменьшится
- 7) одноимённые
- 8) разноимённые

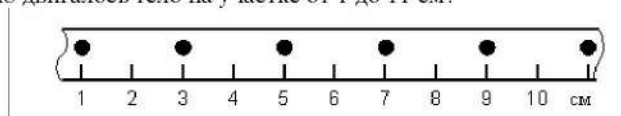
Запишите в таблицу выбранные цифры под соответствующими буквами.

Ответ:

А	Б	В	Г



5 На рисунке точками показаны положения движущегося по линейке тела, причём положения тела отмечались через каждую секунду. С какой средней скоростью двигалось тело на участке от 1 до 11 см?



Ответ: _____ $\frac{\text{см}}{\text{с}}$.

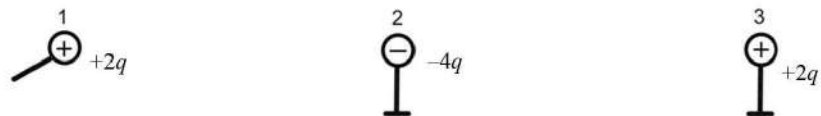
6 Шарик на нити, совершающий свободные колебания, переходит из крайнего правого положения в крайнее левое положение за 0,7 с. Чему равен период колебания шарика?

Ответ: _____ с.

7 Температура в лаборатории поддерживается равной 20 °С. В помещение лаборатории вносят два медных бруска. Первый брусок имеет массу 5 кг и начальную температуру 100 °С, а второй – массу 2 кг и температуру 200 °С. Первый брусок кладут сверху второго. Какую примерно температуру будут иметь оба бруска при достижении теплового равновесия?

Ответ: _____ °С.

8 Металлический шарик 1, имеющий заряд $+2q$, приводят поочерёдно в соприкосновение с двумя такими же шариками: 2 и 3, имеющими соответственно заряды $-4q$ и $+2q$. Все шары укреплены на изолирующих подставках (см. рисунок).

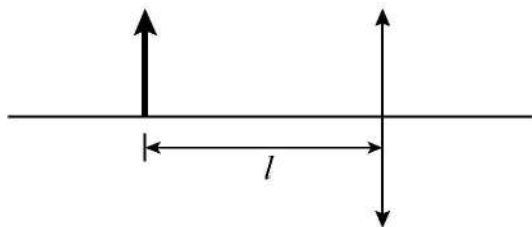


Во сколько раз в результате уменьшился модуль заряда на шарике 2?

Ответ: в _____ раз(а).



9 Предмет находится на расстоянии $l = 20$ см от собирающей линзы (см. рисунок). При этом изображение предмета действительное и равное по высоте предмету. Чему равна оптическая сила линзы?

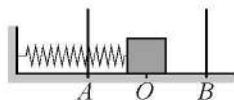


Ответ: _____ дптр.

10 Чему равно массовое число ядра, которое образуется из ядра радия ${}^{224}_{88}\text{Ra}$ после двух последовательных α -распадов?

Ответ: _____.

11 Пружинный маятник совершает незатухающие гармонические колебания между точками A и B (см. рисунок). Точка O соответствует положению равновесия маятника. Как изменяются скорость бруска и потенциальная энергия пружины маятника при переходе из точки B в точку O ?



Для каждой величины определите соответствующий характер изменения:

- 1) увеличивается
- 2) уменьшается
- 3) не изменяется

Запишите в таблицу выбранные цифры для каждой физической величины. Цифры в ответе могут повторяться.

Скорость бруска	Потенциальная энергия пружины

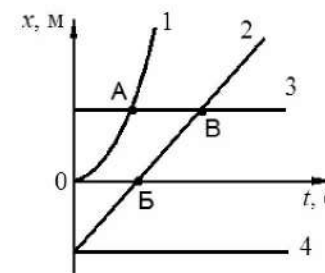
12 В процессе трения о шёлк стеклянная палочка приобрела положительный заряд. Как при этом изменилось количество заряженных частиц на палочке и шёлке при условии, что обмен атомами при трении не происходил? Для каждой величины определите соответствующий характер изменения:

- 1) увеличилась
- 2) уменьшилась
- 3) не изменилась

Запишите в таблицу выбранные цифры для каждой физической величины. Цифры в ответе могут повторяться.

Количество протонов на шёлке	Количество протонов на палочке

13 На рисунке представлены графики зависимости координаты x от времени t для четырёх тел, движущихся вдоль оси Ox .



Используя рисунок, выберите из предложенного перечня **два** верных утверждения. Укажите их номера.

- 1) В точке B тело 2 поменяло направление движения на противоположное.
- 2) В момент времени, соответствующий точке B на графике, скорости тел 2 и 3 равны по модулю.
- 3) Тело 1 движется ускоренно.
- 4) Тело 2 движется равномерно.
- 5) От начала отсчёта до момента времени, соответствующего точке A на графике, тела 1 и 3 прошли одинаковые пути.

Ответ:



14 На рисунке представлена шкала электромагнитных волн.




Используя данные шкалы, выберите из предложенного перечня **два** верных утверждения. Укажите их номера.

- 1) Наибольшую скорость распространения в вакууме имеют гамма-лучи.
- 2) Электромагнитные волны частотой 3000 кГц принадлежат только радиоизлучению.
- 3) Рентгеновские лучи имеют большую длину волны по сравнению с ультрафиолетовыми лучами.
- 4) Длины волн видимого света составляют десятые доли микрометра.
- 5) Электромагнитные волны частотой 10^5 ГГц могут принадлежать как инфракрасному излучению, так и видимому свету.

Ответ:

15 На границе воздух-стекло световой луч частично отражается, частично преломляется (см. рисунок).



Угол преломления равен примерно

- 1) 10°
- 2) 15°
- 3) 85°
- 4) 80°

Ответ:



- 16 В таблице приведены экспериментальные данные зависимости температуры кипения раствора этилового спирта в воде от внешнего давления.

Давление, мм рт. ст.	Температура кипения, °С
100	34,2
150	42,0
200	47,8
400	62,8
760	78,2
1100	87,8
1450	95,3

Из предложенного перечня выберите **два** утверждения, соответствующих данным таблицы. Укажите их номера.

- 1) При нормальном атмосферном давлении температура кипения раствора больше температуры кипения воды.
- 2) Температура кипения обратно пропорциональна внешнему давлению.
- 3) Температура кипения раствора не зависит от его химического состава.
- 4) При нормальном атмосферном давлении температура кипения раствора равна 78,2 °С.
- 5) Температура кипения зависит от внешнего давления.

Ответ:

Для ответа на задание 17 используйте БЛАНК ОТВЕТОВ № 2. Запишите сначала номер задания, а затем ответ к нему.

- 17 Используя штатив с муфтой и лапкой, пружину, динамометр с пределом измерения, равным 5 Н, линейку, и набор из трёх грузов по 100 г каждый, соберите экспериментальную установку для исследования зависимости силы упругости, возникающей в пружине, от степени растяжения пружины. Определите растяжение пружины, подвешивая к ней поочередно один, два и три груза. Для определения веса груза(-ов) воспользуйтесь динамометром. Абсолютную погрешность измерения растяжения пружины с помощью линейки принять равной ± 2 мм, абсолютную погрешность измерения силы с помощью динамометра принять равной $\pm 0,1$ Н.

В бланке ответов:

- 1) сделайте рисунок экспериментальной установки;
- 2) с учётом абсолютной погрешности укажите результаты измерения веса груза(-ов) и удлинения пружины для трёх случаев в виде таблицы (или графика);
- 3) сформулируйте вывод о зависимости силы упругости, возникающей в пружине, от степени растяжения пружины.

- 18 Установите соответствие между техническими устройствами и физическими закономерностями, лежащими в основе принципа их действия. К каждой позиции первого столбца подберите соответствующую позицию из второго столбца и запишите в таблицу выбранные цифры под соответствующими буквами.

ТЕХНИЧЕСКИЕ
УСТРОЙСТВА

- А) жидкостный манометр
Б) жидкостный термометр

ФИЗИЧЕСКИЕ
ЗАКОНОМЕРНОСТИ

- 1) зависимость гидростатического давления от высоты столба жидкости
- 2) зависимость силы упругости от деформации тела
- 3) расширение жидкостей при нагревании
- 4) изменение давления жидкости при изменении её объёма

Ответ:

А	Б
<input type="checkbox"/>	<input type="checkbox"/>



Прочитайте текст и выполните задания 19 и 20.

Невидимый свет

Ещё во времена античности было известно, что солнечные лучи несут не только свет, но и тепло. В 1800 году английский учёный У. Гершель, двигая чувствительный термометр вдоль солнечного спектра, обнаружил нагревание термометра в области, находящейся за границей красной части спектра и невидимой для глаза. Так было открыто инфракрасное излучение.

В 1801 г. немецкий физик И. Риттер исследовал химическое воздействие излучения различных участков солнечного спектра с помощью хлорида серебра (оно чернеет под действием света). Учёный обнаружил, что потемнение хлорида серебра постепенно возрастает при переходе от красной к фиолетовой части спектра и достигает максимума за фиолетовой областью, там, где глаз не воспринимает никаких лучей. Так было открыто ультрафиолетовое излучение.

Ультрафиолетовый спектр разделяют на ультрафиолет-А (УФ-А) с длиной волны 315–390 нм, ультрафиолет-В (УФ-В) – 280–315 нм и ультрафиолет-С (УФ-С) – 100–280 нм, которые отличаются по проникающей способности и биологическому воздействию на организм. Коротковолновая часть ультрафиолета, излучаемого Солнцем (ультрафиолет-С), не достигает поверхности Земли. Из-за наличия озонового слоя в атмосфере Земли, поглощающего ультрафиолетовые лучи, спектр солнечного излучения вблизи поверхности Земли практически обрывается на длине волны 290 нм.

Под действием ультрафиолета в коже человека вырабатывается особый пигмент, интенсивно отражающий эту часть солнечного спектра. При этом кожа приобретает характерный оттенок, известный как загар. Максимально интенсивно загар формируется при длине волны 340 нм.

Недостаток УФ-лучей опасен для человека, так как эти лучи являются стимулятором основных биологических процессов организма. Наиболее выраженное проявление «ультрафиолетовой недостаточности» – авитаминоз, при котором нарушается фосфорно-кальциевый обмен и процесс костеобразования, а также происходит снижение работоспособности и защитных свойств организма от заболеваний. Подобные проявления характерны для осенне-зимнего периода при значительном недостатке естественной ультрафиолетовой радиации (так называемое «световое голодание»).

Однако нельзя забывать, что положительное действие ультрафиолетовых лучей на организм человека проявляется только при определённых дозах солнечной радиации, особенно её коротковолновой части, с действием которой человек сталкивается, находясь, например, на высокогорных курортах. Передозировка может нанести непоправимый вред – вызвать серьёзные расстройства нервной, сердечнососудистой и других жизненно важных систем организма.

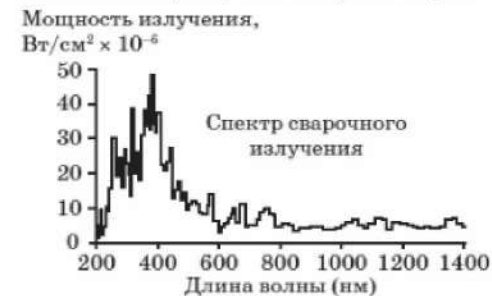
19 Выберите два верных утверждения, которые соответствуют содержанию текста. Запишите в ответ их номера.

- 1) Ультрафиолет вреден для организма человека.
- 2) Возникновение солнечного загара на коже человека связано преимущественно с воздействием ультрафиолета-А.
- 3) Потемнение хлорида серебра в опытах И. Риттера постепенно возрастает при переходе от фиолетовой части спектра к красной части спектра.
- 4) Термин «световое голодание» связывают с отсутствием ультрафиолетового излучения с длиной волны более 290 нм.
- 5) Ультрафиолет имеет частоту, меньшую частоты видимого света.

Ответ:

Для ответов на задания 20–25 используйте БЛАНК ОТВЕТОВ № 2. Запишите сначала номер задания (20, 21 и т.д.), а затем ответ на него. Полный ответ на задания 20, 21 и 22 должен содержать не только ответ на вопрос, но и его развёрнутое, логически связанное обоснование.

20 На рисунке представлен спектр излучения сварочной дуги.



При работе сварщикам необходимо пользоваться средствами защиты для глаз и кожи.

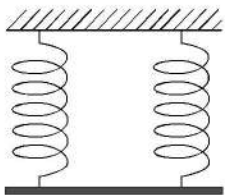
Какое излучение представляет при этом наибольшую опасность? Ответ поясните.

21 Один из двух одинаковых сплошных деревянных брусков плавает в пресной воде, другой – в солёной воде. Сравните выталкивающие силы, действующие на бруски. Ответ поясните.

- 22 Будет ли легче сдвигать полированные стёкла, сложенные стопкой, если предварительно между ними положить листы сухой бумаги?
 Ответ поясните.

Для заданий 23–25 необходимо записать полное решение, включающее запись кратко условия задачи (Дано), запись формул, применение которых необходимо и достаточно для решения задачи, а также математические преобразования и расчёты, приводящие к числовому ответу.

- 23 Однородный стержень (см. рисунок) подвешен на двух одинаковых вертикальных пружинах жёсткостью $800 \frac{\text{Н}}{\text{м}}$ каждая.



Какова масса стержня, если удлинение каждой пружины равно 2 см? Стержень неподвижен.

- 24 Ударная часть молота массой 10 т свободно падает с высоты 2,5 м на стальную деталь. Какую массу имеет стальная деталь, если после 32 ударов она нагрелась на 20 °С? На нагревание расходуется 25% энергии молота.

- 25 Горизонтальный проводник длиной 25 см, электрическое сопротивление которого равно 2,4 Ом, подвешен на двух тонких вертикальных изолирующих нитях в горизонтальном однородном магнитном поле индукцией 0,02 Тл перпендикулярно линиям магнитной индукции. Какое напряжение приложили к проводнику, если общее натяжение нитей после замыкания ключа увеличилось на 20 мН?



Не забудьте перенести все ответы в бланки ответов №1 и №2 в соответствии с инструкцией по выполнению работы. Проверьте, чтобы каждый ответ был записан рядом с номером соответствующего задания.

Номер комплекта оборудования, используемого при
проведении экзамена по ФИЗИКЕ

№ КИМ	№ комплекта оборудования	№ места участника <i>(заполняется вручную)</i>
	2	

100balnik.ru.com

НОМЕР КИМ**Инструкция по выполнению работы**

На выполнение экзаменационной работы по физике отводится 3 часа (180 минут). Экзаменационная работа включает в себя 25 заданий.

Ответы к заданиям 1, 2, 4, 11–14, 16, 18 и 19 записываются в виде последовательности цифр. Ответом к заданиям 3 и 15 является одна цифра, которая соответствует номеру правильного ответа. Ответы к заданиям 5–10 записываются в виде целого числа или конечной десятичной дроби с учётом указанных в ответе единиц. Ответ запишите в поле ответа в тексте работы, а затем перенесите в бланк ответов № 1. Единицы измерения в ответе указывать не надо.

К заданиям 17, 20–25 следует дать развернутый ответ. Задания выполняются на бланке ответов № 2. Запишите сначала номер задания, а затем ответ на него. Ответы записывайте чётко и разборчиво. Задание 17 экспериментальное, и для его выполнения необходимо воспользоваться лабораторным оборудованием.

При вычислениях разрешается использовать линейку и непрограммируемый калькулятор.

Все бланки заполняются яркими чёрными чернилами. Допускается использование гелевой или капиллярной ручки.

При выполнении заданий можно пользоваться черновиком. **Записи в черновике, а также в тексте контрольных измерительных материалов не учитываются при оценивании работы.**

Баллы, полученные Вами за выполненные задания, суммируются. Постарайтесь выполнить как можно больше заданий и набрать наибольшее количество баллов.

После завершения работы проверьте, чтобы ответ на каждое задание в бланках ответов № 1 и № 2 был записан под правильным номером.

Желаем успеха!

Ниже приведены справочные данные, которые могут понадобиться Вам при выполнении работы.

Десятичные приставки		
Наименование	Обозначение	Множитель
гига	Г	10^9
мега	М	10^6
кило	к	10^3
гекто	г	10^2
санти	с	10^{-2}
милли	м	10^{-3}
микро	мк	10^{-6}
нано	н	10^{-9}

Константы	
ускорение свободного падения на Земле	$g = 10 \frac{\text{м}}{\text{с}^2}$
гравитационная постоянная	$G = 6,7 \cdot 10^{-11} \frac{\text{Н} \cdot \text{м}^2}{\text{кг}^2}$
скорость света в вакууме	$c = 3 \cdot 10^8 \frac{\text{м}}{\text{с}}$
элементарный электрический заряд	$e = 1,6 \cdot 10^{-19} \text{ Кл}$

Плотность			
бензин	$710 \frac{\text{кг}}{\text{м}^3}$	древесина (сосна)	$400 \frac{\text{кг}}{\text{м}^3}$
спирт	$800 \frac{\text{кг}}{\text{м}^3}$	парафин	$900 \frac{\text{кг}}{\text{м}^3}$
керосин	$800 \frac{\text{кг}}{\text{м}^3}$	лёд	$900 \frac{\text{кг}}{\text{м}^3}$
масло машинное	$900 \frac{\text{кг}}{\text{м}^3}$	алюминий	$2700 \frac{\text{кг}}{\text{м}^3}$
вода	$1000 \frac{\text{кг}}{\text{м}^3}$	мрамор	$2700 \frac{\text{кг}}{\text{м}^3}$
молоко цельное	$1030 \frac{\text{кг}}{\text{м}^3}$	цинк	$7100 \frac{\text{кг}}{\text{м}^3}$
вода морская	$1030 \frac{\text{кг}}{\text{м}^3}$	сталь, железо	$7800 \frac{\text{кг}}{\text{м}^3}$
глицерин	$1260 \frac{\text{кг}}{\text{м}^3}$	медь	$8900 \frac{\text{кг}}{\text{м}^3}$
ртуть	$13\,600 \frac{\text{кг}}{\text{м}^3}$	свинец	$11\,350 \frac{\text{кг}}{\text{м}^3}$

Удельная			
теплоёмкость воды	$4200 \frac{\text{Дж}}{\text{кг} \cdot ^\circ\text{C}}$	теплота парообразования воды	$2,3 \cdot 10^6 \frac{\text{Дж}}{\text{кг}}$
теплоёмкость спирта	$2400 \frac{\text{Дж}}{\text{кг} \cdot ^\circ\text{C}}$	теплота парообразования спирта	$9,0 \cdot 10^5 \frac{\text{Дж}}{\text{кг}}$
теплоёмкость льда	$2100 \frac{\text{Дж}}{\text{кг} \cdot ^\circ\text{C}}$	теплота плавления свинца	$2,5 \cdot 10^4 \frac{\text{Дж}}{\text{кг}}$
теплоёмкость алюминия	$920 \frac{\text{Дж}}{\text{кг} \cdot ^\circ\text{C}}$	теплота плавления стали	$7,8 \cdot 10^4 \frac{\text{Дж}}{\text{кг}}$
теплоёмкость стали	$500 \frac{\text{Дж}}{\text{кг} \cdot ^\circ\text{C}}$	теплота плавления олова	$5,9 \cdot 10^4 \frac{\text{Дж}}{\text{кг}}$
теплоёмкость цинка	$400 \frac{\text{Дж}}{\text{кг} \cdot ^\circ\text{C}}$	теплота плавления льда	$3,3 \cdot 10^5 \frac{\text{Дж}}{\text{кг}}$
теплоёмкость меди	$400 \frac{\text{Дж}}{\text{кг} \cdot ^\circ\text{C}}$	теплота сгорания спирта	$2,9 \cdot 10^7 \frac{\text{Дж}}{\text{кг}}$
теплоёмкость олова	$230 \frac{\text{Дж}}{\text{кг} \cdot ^\circ\text{C}}$	теплота сгорания керосина	$4,6 \cdot 10^7 \frac{\text{Дж}}{\text{кг}}$
теплоёмкость свинца	$130 \frac{\text{Дж}}{\text{кг} \cdot ^\circ\text{C}}$	теплота сгорания бензина	$4,6 \cdot 10^7 \frac{\text{Дж}}{\text{кг}}$
теплоёмкость бронзы	$420 \frac{\text{Дж}}{\text{кг} \cdot ^\circ\text{C}}$		

Температура плавления		Температура кипения	
свинца	327 °С	воды	100 °С
олова	232 °С	спирта	78 °С
льда	0 °С		

Удельное электрическое сопротивление, $\frac{\text{Ом} \cdot \text{мм}^2}{\text{м}}$ (при 20 °С)			
серебро	0,016	никелин	0,4
медь	0,017	нихром (сплав)	1,1
алюминий	0,028	фехраль	1,2
железо	0,10		

Нормальные условия: давление 10^5 Па, температура 0 °С



Ответом к заданиям 1, 2, 4, 11–14, 16, 18 и 19 является последовательность цифр. Последовательность цифр записывайте без пробелов, запятых и других дополнительных символов. Ответом к заданиям 3 и 15 является одна цифра, которая соответствует номеру правильного ответа. Ответом к заданиям 5–10 является число. Единицы измерения в ответе указывать не надо. Ответ запишите в поле ответа в тексте работы, а затем перенесите в БЛАНК ОТВЕТОВ № 1 справа от номера соответствующего задания, начиная с первой клеточки. Каждый символ пишите в отдельной клеточке в соответствии с приведёнными в бланке образцами. Ответы на задания 17, 20–25 запишите на БЛАНКЕ ОТВЕТОВ № 2.

- 1 Установите соответствие между физическими понятиями и примерами. К каждой позиции первого столбца подберите соответствующую позицию из второго столбца и запишите в таблицу выбранные цифры под соответствующими буквами.

ФИЗИЧЕСКИЕ ПОНЯТИЯ

- А) физическая величина
- Б) единица физической величины
- В) прибор для измерения физической величины

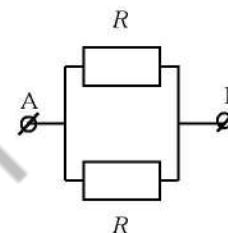
ПРИМЕРЫ

- 1) ньютон
- 2) инерция
- 3) масса
- 4) кристалл
- 5) весы

Ответ:

А	Б	В

- 2 Установите соответствие между формулами для расчёта физических величин для случая протекания тока по участку цепи (см. рисунок) и названиями этих величин.



В формулах использованы обозначения: U – напряжение на участке АВ цепи; R – сопротивления резисторов.

К каждой позиции первого столбца подберите соответствующую позицию из второго столбца и запишите в таблицу выбранные цифры под соответствующими буквами.

ФОРМУЛЫ

- А) $\frac{2U^2}{R}$
- Б) $\frac{U}{R}$

ФИЗИЧЕСКИЕ ВЕЛИЧИНЫ

- 1) мощность электрического тока, выделяющаяся на резисторе R
- 2) мощность электрического тока, выделяющаяся на участке АВ цепи
- 3) сила тока на резисторе R
- 4) сила тока на участке АВ цепи

Ответ:

А	Б

- 3 Стальная ложка, опущенная в горячий чай, быстро нагревается. Какой способ теплопередачи преимущественно объясняет изменение внутренней энергии ложки в этом случае?

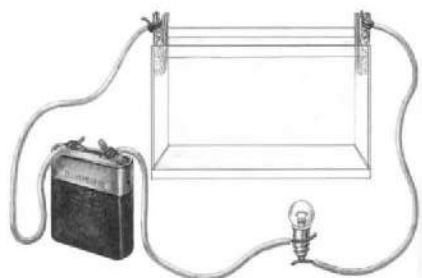
- 1) теплопроводность
- 2) совершение работы
- 3) конвекция
- 4) тепловое излучение

Ответ:



4 Прочитайте текст и вставьте на места пропусков слова (словосочетания) из приведённого списка.

Соберём электрическую цепь (см. рисунок), состоящую из источника тока, лампы, а также ёмкости, которая включена в цепь с помощью металлических зажимов («крокодильчиков»). Если в ёмкость доверху налить (А) _____, то лампочка не загорится. Если добавить в воду поваренную соль, то лампочка загорится. Это объясняется тем, что в воде кристаллы соли распадаются на (Б) _____, упорядоченное движение которых под действием (В) _____ создаёт в цепи (Г) _____.



Список слов и словосочетаний:

- 1) атомы
- 2) электроны
- 3) ионы
- 4) электрический ток
- 5) электрическое поле
- 6) магнитное поле
- 7) дистиллированная вода
- 8) морская вода

Запишите в таблицу выбранные цифры под соответствующими буквами.

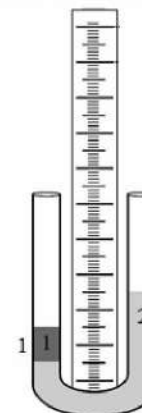
Ответ:

А	Б	В	Г

5 За 2 мин. пропеллер вентилятора совершает 2400 оборотов. Чему равна частота вращения лопастей вентилятора?

Ответ: на _____ $\frac{1}{с}$.

6 В U-образном сосуде находятся две несмешивающиеся жидкости. Во сколько раз плотность жидкости 1 больше плотности жидкости 2?

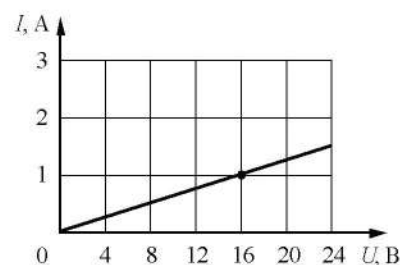


Ответ: в _____ раз(а).

7 Какое количество теплоты необходимо, чтобы кусок олова массой 10 кг нагреть на 10 °С?

Ответ: _____ кДж.

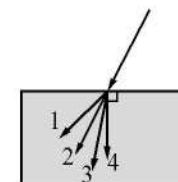
8 На рисунке изображён график зависимости силы тока I в проводнике от напряжения U на его концах. Чему равно сопротивление проводника?



Ответ: _____ Ом.

9 Луч света переходит из воздуха в стекло, преломляясь на границе раздела двух сред. Какое из направлений 1–4 соответствует преломлённому лучу?

Ответ: _____.

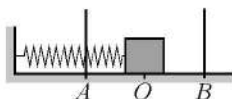




10 Чему равно массовое число ядра, из которого после двух последовательных α -распадов образуется ядро цезия $^{140}_{58}\text{Cs}$?

Ответ: _____.

11 Пружинный маятник совершает незатухающие гармонические колебания между точками A и B (см. рисунок). Точка O соответствует положению равновесия маятника. Как изменяются скорость бруска и потенциальная энергия пружины маятника при переходе из точки O в точку A ?



Для каждой величины определите соответствующий характер изменения:

- 1) увеличивается
- 2) уменьшается
- 3) не изменяется

Запишите в таблицу выбранные цифры для каждой физической величины. Цифры в ответе могут повторяться.

Скорость бруска	Потенциальная энергия пружины

12 Человек переводит взгляд со страницы книги на облака за окном. Как при этом меняются фокусное расстояние и оптическая сила хрусталика глаза человека?

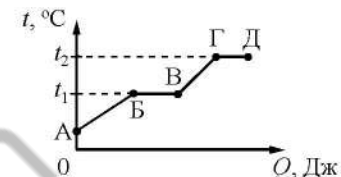
Для каждой величины определите соответствующий характер изменения:

- 1) увеличивается
- 2) уменьшается
- 3) не изменяется

Запишите в таблицу выбранные цифры для каждой физической величины. Цифры в ответе могут повторяться.

Фокусное расстояние хрусталика	Оптическая сила хрусталика

13 На рисунке представлен график зависимости температуры t некоторого вещества от полученного количества теплоты Q . Первоначально вещество находилось в твёрдом состоянии.



Используя данные графика, выберите из предложенного перечня **два** верных утверждения. Укажите их номера.

- 1) Удельная теплоёмкость вещества в твёрдом состоянии меньше удельной теплоёмкости вещества в жидком состоянии.
- 2) Температура плавления вещества равна t_2 .
- 3) Точка Б соответствует жидкому состоянию вещества.
- 4) В процессе перехода из состояния Б в состояние В внутренняя энергия вещества увеличивается.
- 5) Участок графика ГД соответствует процессу кипения вещества.

Ответ:

- 14) Ниже приведена таблица значений температуры вещества в зависимости от времени нагревания. Мощность нагревателя постоянна. В начальный момент вещество находилось в твёрдом состоянии.

Время, мин.	0	5	10	15	20	25	30	35
Температура, °C	20	150	300	300	300	300	350	400

Из предложенного перечня утверждений выберите **два** правильных. Укажите их номера.

- 1) В интервале времени 10–25 мин. внутренняя энергия вещества не изменялась.
- 2) В интервале времени от 15 до 20 мин. часть вещества находилась в твёрдом состоянии, часть – в жидком состоянии.
- 3) Можно утверждать, что в момент времени 10 мин. началось плавление вещества.
- 4) Температура кристаллизации вещества равна 300 °C.
- 5) Удельная теплоёмкость вещества в твёрдом состоянии больше, чем в жидком состоянии.

Ответ:



- 15) Ученик собрал электрическую цепь, представленную на рисунке.



Какое утверждение верное?

- 1) Вольтметр включён в электрическую цепь с нарушением полярности подключения.
- 2) При замыкании ключа вольтметр покажет общее электрическое напряжение на резисторах $R1$ и $R2$.
- 3) Амперметр включён в электрическую цепь с нарушением полярности подключения.
- 4) При замыкании ключа вольтметр покажет электрическое напряжение на резисторе $R2$.

Ответ:



- 16 Учитель на уроке провёл опыт по изучению движения тела по наклонной плоскости: шарик скатывался по наклонной плоскости из состояния покоя, причём фиксировались начальное положение шарика и его положения через каждую секунду после начала движения (см. рисунок).



Выберите из предложенного перечня **два** утверждения, которые соответствуют результатам проведённых экспериментальных наблюдений. Укажите их номера.

- 1) За две секунды шарик прошёл путь, равный 20 см.
- 2) Движение шарика является неравномерным.
- 3) Пути, проходимые шариком за последовательные равные промежутки времени, относятся как ряд последовательных чётных чисел.
- 4) При увеличении угла наклона плоскости ускорение шарика не изменяется.
- 5) Характер движения шарика зависит от силы трения.

Ответ:

--	--

Для ответа на задание 17 используйте БЛАНК ОТВЕТОВ № 2. Запишите сначала номер задания, а затем ответ к нему.

- 17 Используя каретку (брусок) с крючком, динамометр № 1 с пределом измерения, равным 1 Н, для измерения силы трения и динамометр № 2 с пределом измерения, равным 5 Н, для измерения силы нормального давления, набор из трёх грузов, направляющую рейку А, соберите экспериментальную установку для исследования зависимости силы трения скольжения между кареткой и поверхностью горизонтальной рейки от силы нормального давления. Определите силу трения скольжения, помещая на каретку поочерёдно один, два и три груза. Для определения веса каретки с грузом(-ами) воспользуйтесь динамометром. Абсолютную погрешность измерения силы с помощью динамометра № 1 принять равной $\pm 0,02$ Н, а динамометра № 2 принять равной $\pm 0,1$ Н.

В бланке ответов:

- 1) сделайте рисунок или описание экспериментальной установки;
- 2) укажите результаты измерений веса каретки с грузом(-ами) и силы трения скольжения с учётом погрешности измерения для трёх случаев в виде таблицы (или графика);
- 3) сформулируйте вывод о зависимости силы трения скольжения между кареткой и поверхностью рейки от силы нормального давления.

- 18 Установите соответствие между техническими устройствами и физическими закономерностями, лежащими в основе принципа их действия. К каждой позиции первого столбца подберите соответствующую позицию из второго столбца и запишите в таблицу выбранные цифры под соответствующими буквами.

ТЕХНИЧЕСКИЕ УСТРОЙСТВА	ФИЗИЧЕСКИЕ ЗАКОНОМЕРНОСТИ
А) U-образный манометр	1) зависимость гидростатического давления от высоты столба жидкости
Б) пружинный динамометр	2) условие равновесия рычага
	3) зависимость силы упругости от степени деформации тела
	4) изменение атмосферного давления при подъёме в горы

Ответ:

А	Б



Прочитайте текст и выполните задания 19 и 20.

Адсорбция

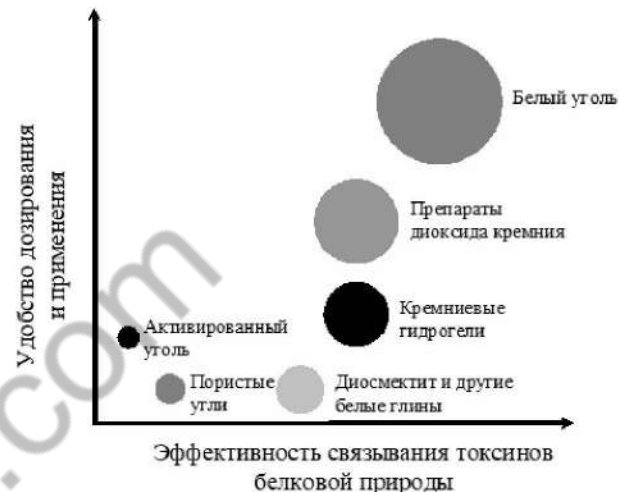
Твёрдое тело, находящееся в газе, всегда покрыто слоем молекул газа, некоторое время удерживающихся на нём молекулярными силами. Это явление называется адсорбцией. Количество адсорбированного газа зависит от площади поверхности, на которой могут адсорбироваться молекулы. Адсорбирующая поверхность особенно велика у пористых веществ, пронизанных множеством мелких каналов. Количество адсорбированного газа зависит также от природы газа и от химического состава твёрдого тела.

Одним из примеров веществ-адсорбентов является активированный уголь, то есть древесный уголь, освобождённый от смолистых примесей прокаливанием. В промышленности хороший активированный уголь получают из скорлупы кокосового ореха, из косточек некоторых плодовых культур.

Классическим примером использования адсорбирующих свойств активированного угля является противогаз. Фильтры, содержащие активированный уголь, применяются во многих современных устройствах для очистки питьевой воды. Активированный уголь применяется в химической, фармацевтической и пищевой промышленности.

В медицине процесс выведения из организма чужеродных веществ, попавших в него из окружающей среды, или образовавшихся в самом организме токсических продуктов обмена называется энтеросорбция. Лекарственные средства, поглощающие и выводящие из желудочно-кишечного тракта вредные, токсичные для организма вещества, называют энтеросорбентами. Эффективность энтеросорбентов зависит от площади их активной поверхности. При заданной массе энтеросорбента площадь активной поверхности обратно пропорциональна размеру его частиц: чем меньше размеры частиц, тем больше суммарная площадь их активной поверхности.

На диаграмме представлены сравнительные характеристики энтеросорбентов на основе диоксида кремния: удобство дозирования и применения (по вертикальной оси) и эффективность применения в расчёте на 1 г сорбента для выведения токсинов белковой природы (по горизонтальной оси). Размер пузырька адсорбированного газа пропорционален площади активной поверхности, приходящейся на 1 г сорбента.



19 Выберите два верных утверждения, которые соответствуют содержанию текста. Запишите в ответ их номера.

- 1) В соответствии с диаграммой в тексте средством, обладающим максимальным удобством в дозировании и применении, является активированный уголь.
- 2) Количество адсорбированного газа не зависит от природы газа, но зависит от свойств адсорбирующей поверхности.
- 3) Энтеросорбция – это метод лечения различных заболеваний, основанный на применении антибиотиков.
- 4) Адсорбенты применяются в химической технике для разделения и очистки веществ.
- 5) В соответствии с диаграммой в тексте при одинаковой массе сорбента наиболее эффективным для связывания токсинов является применение белого угля.

Ответ:

--	--



Для ответов на задания 20–25 используйте БЛАНК ОТВЕТОВ № 2. Запишите сначала номер задания (20, 21 и т.д.), а затем ответ на него. Полный ответ на задания 20, 21 и 22 должен содержать не только ответ на вопрос, но и его развёрнутое, логически связанное обоснование.

20 Какие частицы энтеросорбента (крупные или мелкие) окажут большее терапевтическое действие при одинаковой потребляемой массе сорбента? Ответ поясните.

21 У ученика есть провод длиной 1 м, толстый железный гвоздь и батарейка. Он намотал 10 витков провода на гвоздь и подключил его к батарейке. Гвоздь стал притягивать мелкие железные предметы. Что может сделать ученик, чтобы увеличить силу, с которой эти предметы притягиваются к гвоздю? Ответ поясните.

22 В какое время года (летом или поздней осенью) ветер одинаковой силы с большей вероятностью повалит лиственное дерево? Ответ поясните.

Для заданий 23–25 необходимо записать полное решение, включающее запись краткого условия задачи (Дано), запись формул, применение которых необходимо и достаточно для решения задачи, а также математические преобразования и расчёты, приводящие к числовому ответу.

23 Определите напряжение на концах реостата, если мощность, потребляемая реостатом, равна 30 Вт. Реостат изготовлен из никелиновой проволоки длиной 6 м и площадью поперечного сечения $0,5 \text{ мм}^2$.

24 Свинцовая пуля, подлетев к преграде со скоростью $v_1 = 200 \frac{\text{м}}{\text{с}}$, пробивает её и вылетает со скоростью $v_2 = 100 \frac{\text{м}}{\text{с}}$. На сколько градусов нагрелась пуля, если на её нагревание пошло 65% выделившегося количества теплоты?

25

В электропечи мощностью 100 кВт нагрели и полностью расплавили слиток стали массой 1 т. Сколько времени потребовалось для этого, если известно, что до начала плавления сталь необходимо было нагреть на $1500 \text{ }^\circ\text{C}$? Потерями энергии пренебречь.



Не забудьте перенести все ответы в бланки ответов № 1 и № 2 в соответствии с инструкцией по выполнению работы. Проверьте, чтобы каждый ответ был записан рядом с номером соответствующего задания.

Номер комплекта оборудования, используемого при
проведении экзамена по ФИЗИКЕ

№ КИМ	№ комплекта оборудования	№ места участника <i>(заполняется вручную)</i>
	2	

100balnik.ru.com

НОМЕР КИМ**Инструкция по выполнению работы**

На выполнение экзаменационной работы по физике отводится 3 часа (180 минут). Экзаменационная работа включает в себя 25 заданий.

Ответы к заданиям 1, 2, 4, 11–14, 16, 18 и 19 записываются в виде последовательности цифр. Ответом к заданиям 3 и 15 является одна цифра, которая соответствует номеру правильного ответа. Ответы к заданиям 5–10 записываются в виде целого числа или конечной десятичной дроби с учётом указанных в ответе единиц. Ответ запишите в поле ответа в тексте работы, а затем перенесите в бланк ответов № 1. Единицы измерения в ответе указывать не надо.

К заданиям 17, 20–25 следует дать развернутый ответ. Задания выполняются на бланке ответов № 2. Запишите сначала номер задания, а затем ответ на него. Ответы записывайте чётко и разборчиво. Задание 17 экспериментальное, и для его выполнения необходимо воспользоваться лабораторным оборудованием.

При вычислениях разрешается использовать линейку и непрограммируемый калькулятор.

Все бланки заполняются яркими чёрными чернилами. Допускается использование гелевой или капиллярной ручки.

При выполнении заданий можно пользоваться черновиком. **Записи в черновике, а также в тексте контрольных измерительных материалов не учитываются при оценивании работы.**

Баллы, полученные Вами за выполненные задания, суммируются. Постарайтесь выполнить как можно больше заданий и набрать наибольшее количество баллов.

После завершения работы проверьте, чтобы ответ на каждое задание в бланках ответов № 1 и № 2 был записан под правильным номером.

Желаем успеха!

Ниже приведены справочные данные, которые могут понадобиться Вам при выполнении работы.

Десятичные приставки		
Наименование	Обозначение	Множитель
гига	Г	10^9
мега	М	10^6
кило	к	10^3
гекто	г	10^2
санти	с	10^{-2}
милли	м	10^{-3}
микро	мк	10^{-6}
нано	н	10^{-9}

Константы	
ускорение свободного падения на Земле	$g = 10 \frac{\text{м}}{\text{с}^2}$
гравитационная постоянная	$G = 6,7 \cdot 10^{-11} \frac{\text{Н} \cdot \text{м}^2}{\text{кг}^2}$
скорость света в вакууме	$c = 3 \cdot 10^8 \frac{\text{м}}{\text{с}}$
элементарный электрический заряд	$e = 1,6 \cdot 10^{-19} \text{ Кл}$

Плотность			
бензин	$710 \frac{\text{кг}}{\text{м}^3}$	древесина (сосна)	$400 \frac{\text{кг}}{\text{м}^3}$
спирт	$800 \frac{\text{кг}}{\text{м}^3}$	парафин	$900 \frac{\text{кг}}{\text{м}^3}$
керосин	$800 \frac{\text{кг}}{\text{м}^3}$	лёд	$900 \frac{\text{кг}}{\text{м}^3}$
масло машинное	$900 \frac{\text{кг}}{\text{м}^3}$	алюминий	$2700 \frac{\text{кг}}{\text{м}^3}$
вода	$1000 \frac{\text{кг}}{\text{м}^3}$	мрамор	$2700 \frac{\text{кг}}{\text{м}^3}$
молоко цельное	$1030 \frac{\text{кг}}{\text{м}^3}$	цинк	$7100 \frac{\text{кг}}{\text{м}^3}$
вода морская	$1030 \frac{\text{кг}}{\text{м}^3}$	сталь, железо	$7800 \frac{\text{кг}}{\text{м}^3}$
глицерин	$1260 \frac{\text{кг}}{\text{м}^3}$	медь	$8900 \frac{\text{кг}}{\text{м}^3}$
ртуть	$13\,600 \frac{\text{кг}}{\text{м}^3}$	свинец	$11\,350 \frac{\text{кг}}{\text{м}^3}$

Удельная			
теплоёмкость воды	$4200 \frac{\text{Дж}}{\text{кг} \cdot ^\circ\text{C}}$	теплота парообразования воды	$2,3 \cdot 10^6 \frac{\text{Дж}}{\text{кг}}$
теплоёмкость спирта	$2400 \frac{\text{Дж}}{\text{кг} \cdot ^\circ\text{C}}$	теплота парообразования спирта	$9,0 \cdot 10^5 \frac{\text{Дж}}{\text{кг}}$
теплоёмкость льда	$2100 \frac{\text{Дж}}{\text{кг} \cdot ^\circ\text{C}}$	теплота плавления свинца	$2,5 \cdot 10^4 \frac{\text{Дж}}{\text{кг}}$
теплоёмкость алюминия	$920 \frac{\text{Дж}}{\text{кг} \cdot ^\circ\text{C}}$	теплота плавления стали	$7,8 \cdot 10^4 \frac{\text{Дж}}{\text{кг}}$
теплоёмкость стали	$500 \frac{\text{Дж}}{\text{кг} \cdot ^\circ\text{C}}$	теплота плавления олова	$5,9 \cdot 10^4 \frac{\text{Дж}}{\text{кг}}$
теплоёмкость цинка	$400 \frac{\text{Дж}}{\text{кг} \cdot ^\circ\text{C}}$	теплота плавления льда	$3,3 \cdot 10^5 \frac{\text{Дж}}{\text{кг}}$
теплоёмкость меди	$400 \frac{\text{Дж}}{\text{кг} \cdot ^\circ\text{C}}$	теплота сгорания спирта	$2,9 \cdot 10^7 \frac{\text{Дж}}{\text{кг}}$
теплоёмкость олова	$230 \frac{\text{Дж}}{\text{кг} \cdot ^\circ\text{C}}$	теплота сгорания керосина	$4,6 \cdot 10^7 \frac{\text{Дж}}{\text{кг}}$
теплоёмкость свинца	$130 \frac{\text{Дж}}{\text{кг} \cdot ^\circ\text{C}}$	теплота сгорания бензина	$4,6 \cdot 10^7 \frac{\text{Дж}}{\text{кг}}$
теплоёмкость бронзы	$420 \frac{\text{Дж}}{\text{кг} \cdot ^\circ\text{C}}$		

Температура плавления		Температура кипения	
свинца	327 °С	воды	100 °С
олова	232 °С	спирта	78 °С
льда	0 °С		

Удельное электрическое сопротивление, $\frac{\text{Ом} \cdot \text{мм}^2}{\text{м}}$ (при 20 °С)			
серебро	0,016	никелин	0,4
медь	0,017	нихром (сплав)	1,1
алюминий	0,028	фехраль	1,2
железо	0,10		

Нормальные условия: давление 10^5 Па, температура 0 °С



Ответом к заданиям 1, 2, 4, 11–14, 16, 18 и 19 является последовательность цифр. Последовательность цифр записывайте без пробелов, запятых и других дополнительных символов. Ответом к заданиям 3 и 15 является одна цифра, которая соответствует номеру правильного ответа. Ответом к заданиям 5–10 является число. Единицы измерения в ответе указывать не надо. Ответ запишите в поле ответа в тексте работы, а затем перенесите в БЛАНК ОТВЕТОВ № 1 справа от номера соответствующего задания, начиная с первой клеточки. Каждый символ пишите в отдельной клеточке в соответствии с приведёнными в бланке образцами. Ответы на задания 17, 20–25 запишите на БЛАНКЕ ОТВЕТОВ № 2.

- 1 Установите соответствие между физическими понятиями и примерами. К каждой позиции первого столбца подберите соответствующую позицию из второго столбца и запишите в таблицу выбранные цифры под соответствующими буквами.

ФИЗИЧЕСКИЕ ПОНЯТИЯ

- А) физическая величина
- Б) единица физической величины
- В) прибор для измерения физической величины

ПРИМЕРЫ

- 1) электронный секундомер
- 2) равномерное движение
- 3) центростремительное ускорение
- 4) минута
- 5) траектория

Ответ:

А	Б	В

- 2 Установите соответствие между формулами для расчёта физических величин и названиями этих величин. В формулах использованы обозначения: I – сила тока; U – напряжение на концах проводника; l – длина проводника; S – площадь поперечного сечения проводника; ρ – удельное сопротивление проводника. К каждой позиции первого столбца подберите соответствующую позицию из второго столбца и запишите в таблицу выбранные цифры под соответствующими буквами.

ФОРМУЛЫ

- А) $\frac{\rho l}{S}$
- Б) IU

ФИЗИЧЕСКИЕ ВЕЛИЧИНЫ

- 1) электрический заряд
- 2) сопротивление проводника
- 3) работа электрического тока
- 4) мощность электрического тока

Ответ:

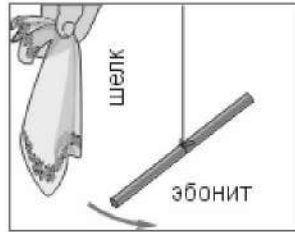
А	Б

- 3 Под микроскопом рассматривают каплю молока. Видно, что частицы жира находятся в непрерывном хаотическом движении. Какое явление наблюдается в этом опыте?
- 1) атмосферное давление
 - 2) броуновское движение
 - 3) теплопроводность
 - 4) диффузия

Ответ:

4 Прочитайте текст и вставьте на места пропусков слова (словосочетания) из приведённого списка.

К висящей на нити эбонитовой палочке подносят, не касаясь ее, отрицательно заряженный шёлковый платок. При этом палочка начинает (А) _____ (см. рис.).



Это объясняется явлением (Б) _____. Такой характер взаимодействия присущ (В) _____ заряженным телам, следовательно, эбонитовая палочка имеет (Г) _____ заряд.

Список слов и словосочетаний:

- 1) магнитное взаимодействие
- 2) взаимодействие заряженных тел
- 3) положительный
- 4) отрицательный
- 5) одноимённо
- 6) разноимённо
- 7) совершать колебания
- 8) отталкиваться от платка

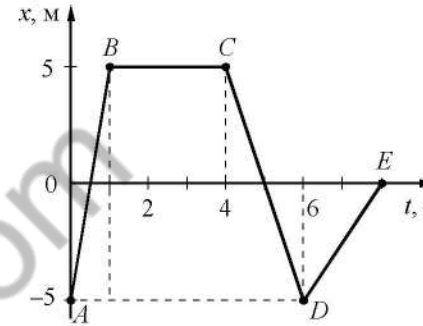
Запишите в таблицу выбранные цифры под соответствующими буквами.

Ответ:

А	Б	В	Г



5 На рисунке представлен график зависимости координаты от времени для тела, движущегося вдоль оси Ox . С какой по модулю скоростью двигалось тело в первую секунду от начала движения?



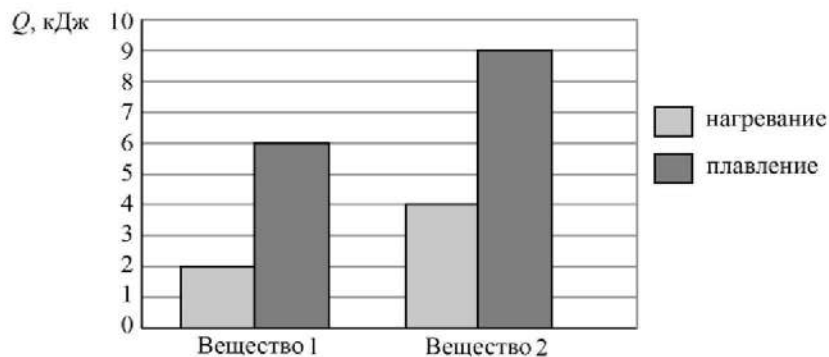
Ответ: _____ $\frac{м}{с}$.

6 Мяч массой 200 г подбросили с поверхности Земли вертикально вверх. В результате мяч поднялся на высоту 3 м, а затем упал обратно на землю. Чему равна работа силы тяжести на всём пути мяча?

Ответ: _____ Дж.



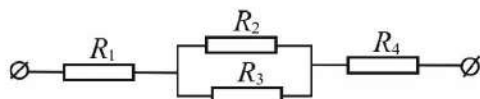
7 На диаграмме для двух веществ приведены значения количества теплоты, необходимого для нагревания 1 кг вещества на 10 °С и для плавления 100 г вещества, нагретого до температуры плавления.



Чему равна удельная теплоёмкость первого вещества?

Ответ: _____ $\frac{\text{Дж}}{\text{кг} \cdot ^\circ\text{C}}$.

8 Чему равно общее сопротивление участка цепи, изображённого на рисунке, если $R_1 = 1 \text{ Ом}$, $R_2 = 10 \text{ Ом}$, $R_3 = 10 \text{ Ом}$, $R_4 = 1 \text{ Ом}$?



Ответ: _____ Ом.

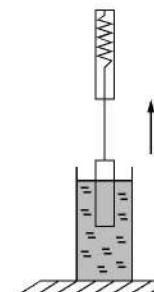
9 На какую длину волны нужно настроить радиоприёмник, чтобы услышать радиостанцию, которая вещает на частоте 500 кГц?

Ответ: _____ м.

10 Радиоактивный изотоп натрия $^{22}_{11}\text{Na}$ испытывает β^- -распад. Чему равно массовое число ядра, полученного в результате этого распада?

Ответ: _____.

11 Груз, подвешенный к динамометру и опущенный в стакан с водой, с постоянной скоростью медленно вытаскивают из воды (см. рисунок). Как по мере выхода груза из воды изменяются выталкивающая сила, действующая на груз со стороны воды, и сила давления воды на дно сосуда?



Для каждой величины определите соответствующий характер изменения:

- 1) увеличивается
- 2) уменьшается
- 3) не изменяется

Запишите в таблицу выбранные цифры для каждой физической величины. Цифры в ответе могут повторяться.

Выталкивающая сила, действующая на груз	Сила давления воды на дно сосуда

12 Человек переводит взгляд с экрана мобильного телефона на птицу, летящую высоко в небе. Как при этом меняются фокусное расстояние и оптическая сила хрусталика глаза человека?

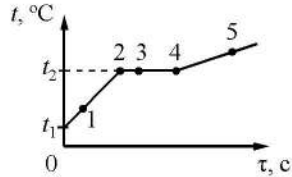
Для каждой величины определите соответствующий характер изменения:

- 1) увеличивается
- 2) уменьшается
- 3) не изменяется

Запишите в таблицу выбранные цифры для каждой физической величины. Цифры в ответе могут повторяться.

Фокусное расстояние хрусталика	Оптическая сила хрусталика

- 13 На рисунке представлен график зависимости температуры t от времени τ , полученный при равномерном нагревании вещества нагревателем постоянной мощности. Первоначально вещество находилось в твёрдом состоянии.



Используя данные графика, выберите из предложенного перечня **два** верных утверждения. Укажите их номера.

- 1) Удельная теплоёмкость вещества в твёрдом состоянии равна удельной теплоёмкости этого вещества в жидком состоянии.
- 2) Точка 2 на графике соответствует жидкому состоянию вещества.
- 3) Температура t_2 равна температуре плавления данного вещества.
- 4) Внутренняя энергия вещества при переходе из состояния 3 в состояние 4 увеличивается.
- 5) Испарение вещества происходит только в состояниях, соответствующих горизонтальному участку графика.

Ответ:



- 14 На рис. 1 представлены диапазоны слышимых звуков для человека и различных животных, а на рис. 2 – диапазоны, приходящиеся на инфразвук, звук и ультразвук.

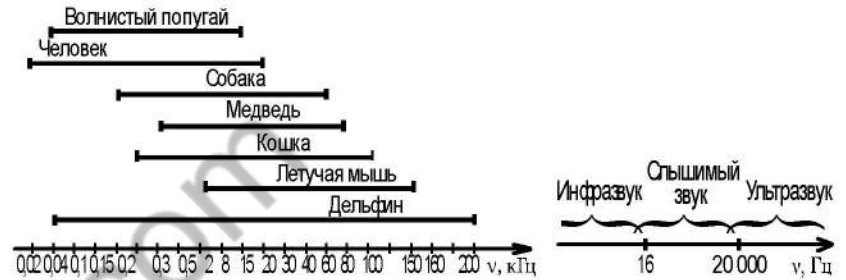


Рис. 1

Рис. 2


Используя данные рисунков, из предложенного перечня утверждений выберите **два** правильных. Укажите их номера.

- 1) Диапазон слышимых звуков у кошки сдвинут в область ультразвука по сравнению с человеческим диапазоном.
- 2) Из представленных животных наиболее широкий диапазон слышимых звуков имеет волнистый попугай.
- 3) Звуки с частотой 10 кГц принадлежат инфразвуковому диапазону.
- 4) Длина волны ультразвука больше длины волны инфразвука.
- 5) Звуковой сигнал, имеющий в воздухе длину волны 3 см, слышат все представленные животные и человек. (Скорость звука в воздухе равна 340 м/с.)

Ответ:



- 15 На границе воздух-стекло световой луч частично отражается, частично преломляется (см. рисунок).

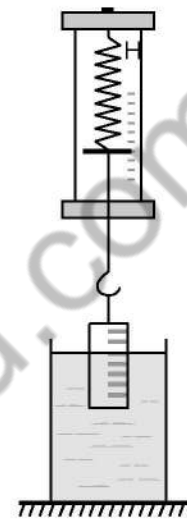


Угол отражения равен примерно

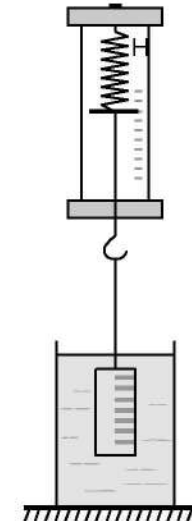
- 1) 85° 2) 60° 3) 30° 4) 20°

Ответ:

- 16 Ученик провёл эксперимент по изучению выталкивающей силы, действующей на цилиндр по мере его погружения в жидкость (см. рисунок).



Опыт 1



Опыт 2

Из предложенного перечня выберите **два** утверждения, соответствующих проведённым опытам. Укажите их номера.

- 1) Выталкивающая сила увеличивается при увеличении объёма погружённой части цилиндра.
- 2) Выталкивающая сила не зависит от материала, из которого изготовлен цилиндр.
- 3) Выталкивающая сила, действующая на цилиндр в первом опыте, меньше выталкивающей силы, действующей на цилиндр во втором опыте.
- 4) Выталкивающая сила не зависит от объёма цилиндра.
- 5) Выталкивающая сила зависит от плотности жидкости.

Ответ:



Прочитайте текст и выполните задания 19 и 20.

Для ответа на задание 17 используйте БЛАНК ОТВЕТОВ № 2. Запишите сначала номер задания, а затем ответ к нему.

- 17) Используя каретку (брусок) с крючком, динамометр № 2 с пределом измерения, равным 5 Н, набор из трёх грузов, направляющую рейку Б, соберите экспериментальную установку для исследования зависимости силы трения скольжения между кареткой и поверхностью горизонтальной рейки от силы нормального давления. Определите силу трения скольжения, помещая на каретку поочередно один, два и три груза. Для определения веса каретки с грузом(-ами) воспользуйтесь динамометром. Абсолютную погрешность измерения сил принять равной $\pm 0,1$ Н.

В бланке ответов:

- 1) сделайте рисунок или описание экспериментальной установки;
- 2) укажите результаты измерений веса каретки с грузом(-ами) и силы трения скольжения с учётом погрешности измерения для трёх случаев в виде таблицы (или графика);
- 3) сформулируйте вывод о зависимости силы трения скольжения между кареткой и поверхностью рейки от силы нормального давления.

- 18) Установите соответствие между научными открытиями и именами учёных, которым эти открытия принадлежат. К каждой позиции первого столбца подберите соответствующую позицию из второго столбца.

НАУЧНЫЕ ОТКРЫТИЯ

- А) закон трения скольжения
- Б) сложный состав белого света

УЧЁНЫЕ

- 1) Ш.-О. Кулон
- 2) В. Рентген
- 3) Б. Паскаль
- 4) И. Ньютон

Ответ:

А	Б

Как ориентируются летучие мыши

Летучие мыши обычно живут огромными стаями в пещерах, в которых они прекрасно ориентируются в полной темноте. Влетая и вылетая из пещеры, каждая мышь издает неслышимые нами звуки. Одновременно эти звуки издают тысячи мышей, но это никак не мешает им прекрасно ориентироваться в пространстве в полной темноте и летать, не сталкиваясь друг с другом. Почему летучие мыши могут уверенно летать в полной темноте, не натываясь на препятствия?

В 1793 г. итальянский натуралист Ладзаро Спалланцани проделал такой опыт: он ослепил летучую мышь и выпустил её в тёмную лабораторию. Эксперимент показал, что ослеплённая летучая мышь летала по комнате так же свободно, как и зрячая, не задевая ни одного из хитро расставленных в лаборатории предметов. Опыт Спалланцани повторили в Швейцарии. Однако в этих экспериментах уши летучих мышей заткнули ватой, и животные стали натываться на все встречавшиеся при полете препятствия.

Сегодня главный секрет ориентации летучих мышей можно считать раскрытым: они обладают поразительными по своему совершенству органами ультразвуковой локации. Оказалось, что во время полёта мышь излучает короткие сигналы на частотах примерно от 50 до 100 кГц, а затем принимает отражённые эхо-сигналы, которые приходят к ней от ближайших препятствий и от пролетающих вблизи насекомых (см. рисунок).



Для того, чтобы сигнал был отражён препятствием, наименьший линейный размер этого препятствия должен быть не меньше длины волны посылаемого звука. Использование ультразвука позволяет обнаружить предметы меньших размеров, чем можно было бы обнаружить, используя более низкие звуковые частоты. Кроме того, использование ультразвуковых сигналов связано с тем, что с уменьшением длины волны легче реализуется направленность излучения, а это очень важно для эхолокации.



Реагировать на тот или иной объект мышь начинает на расстоянии около 1 м, при этом длительность посылаемых мышью ультразвуковых сигналов уменьшается примерно в 10 раз, а частота их следования увеличивается до 100–200 импульсов (щелчков) в секунду. То есть, заметив объект, мышь начинает щёлкать более часто, а сами щелчки становятся более короткими. Наименьшее расстояние, которое мышь может определить таким образом, составляет примерно 5 см.

Во время сближения с объектом охоты летучая мышь как бы оценивает угол между направлением своей скорости и направлением на источник отражённого сигнала и изменяет направление полёта так, чтобы этот угол становился все меньше и меньше.

19 Выберите два верных утверждения, которые соответствуют содержанию текста. Запишите в ответ их номера.

- 1) При приближении к объекту скорость ультразвуковых сигналов, посылаемых летучей мышью, увеличивается.
- 2) Летучие мыши могут разглядеть предметы, находящиеся на расстоянии не более 5 см.
- 3) Для эхолокации мыши используют волны частотой более 50 кГц.
- 4) Ладзаро Спалланцани экспериментально доказал, что летучие мыши абсолютно слепы.
- 5) Умение великолепно ориентироваться в пространстве связано у летучих мышей с их способностью излучать и принимать ультразвуковые волны.

Ответ:

Для ответов на задания 20–25 используйте БЛАНК ОТВЕТОВ № 2. Запишите сначала номер задания (20, 21 и т.д.), а затем ответ на него. Полный ответ на задания 20, 21 и 22 должен содержать не только ответ на вопрос, но и его развёрнутое, логически связанное обоснование.

20 Может ли летучая мышь, посылая сигнал частотой 80 кГц, обнаружить мошку размером 1 мм? Скорость звука в воздухе принять равной $320 \frac{\text{м}}{\text{с}}$.
Ответ поясните.

21 Два тела, имеющие одинаковую температуру и массу – одно медное, другое свинцовое – упали на Землю с одинаковой высоты. Какое из тел нагрелось при ударе о Землю до более высокой температуры? Почему? Изменением внутренней энергии Земли и сопротивлением воздуха пренебречь.

22

Аккомодация глаза рыбы основана на том, что хрусталик глаза имеет способность перемещаться вперёд-назад относительно глазного дна. Куда смещается хрусталик (по направлению к предмету или по направлению к главному дну) в случае, когда рыба приближается к рассматриваемому предмету? Ответ поясните.

Для заданий 23–25 необходимо записать полное решение, включающее запись краткого условия задачи (Дано), запись формул, применение которых необходимо и достаточно для решения задачи, а также математические преобразования и расчёты, приводящие к числовому ответу.

23

Меняя электрическое напряжение на участке цепи, состоящем из никелинового проводника длиной 5 м, полученные данные измерений силы тока и напряжения ученик записал в таблицу.

U , В	12	9,6	6	4,8	3	1,5
I , А	2,4	1,92	1,2	0,96	0,6	0,3

Чему равна площадь поперечного сечения проводника?

24

Ударная часть молота массой 10 т свободно падает с высоты 2,5 м на стальную деталь массой 200 кг. Сколько ударов сделал молот, если деталь нагрелась на 20 °С? На нагревание детали расходуется 25% механической энергии молота.

25

Имеются два электрических нагревателя мощностью по 800 Вт каждый. Сколько времени потребуется для нагревания 1 л воды на 80 °С, если нагреватели будут включены параллельно? Потерями энергии пренебречь.



Не забудьте перенести все ответы в бланки ответов № 1 и № 2 в соответствии с инструкцией по выполнению работы. Проверьте, чтобы каждый ответ был записан рядом с номером соответствующего задания.

Номер комплекта оборудования, используемого при
проведении экзамена по ФИЗИКЕ

№ КИМ	№ комплекта оборудования	№ места участника <i>(заполняется вручную)</i>
	2	

100balnik.ru.com

НОМЕР КИМ**Инструкция по выполнению работы**

На выполнение экзаменационной работы по физике отводится 3 часа (180 минут). Экзаменационная работа включает в себя 25 заданий.

Ответы к заданиям 1, 2, 4, 11–14, 16, 18 и 19 записываются в виде последовательности цифр. Ответом к заданиям 3 и 15 является одна цифра, которая соответствует номеру правильного ответа. Ответы к заданиям 5–10 записываются в виде целого числа или конечной десятичной дроби с учётом указанных в ответе единиц. Ответ запишите в поле ответа в тексте работы, а затем перенесите в бланк ответов № 1. Единицы измерения в ответе указывать не надо.

К заданиям 17, 20–25 следует дать развёрнутый ответ. Задания выполняются на бланке ответов № 2. Запишите сначала номер задания, а затем ответ на него. Ответы записывайте чётко и разборчиво. Задание 17 экспериментальное, и для его выполнения необходимо воспользоваться лабораторным оборудованием.

При вычислениях разрешается использовать линейку и непрограммируемый калькулятор.

Все бланки заполняются яркими чёрными чернилами. Допускается использование гелевой или капиллярной ручки.

При выполнении заданий можно пользоваться черновиком. **Записи в черновике, а также в тексте контрольных измерительных материалов не учитываются при оценивании работы.**

Баллы, полученные Вами за выполненные задания, суммируются. Постарайтесь выполнить как можно больше заданий и набрать наибольшее количество баллов.

После завершения работы проверьте, чтобы ответ на каждое задание в бланках ответов № 1 и № 2 был записан под правильным номером.

Желаем успеха!

Ниже приведены справочные данные, которые могут понадобиться Вам при выполнении работы.

Десятичные приставки		
Наименование	Обозначение	Множитель
гига	Г	10^9
мега	М	10^6
кило	к	10^3
гекто	г	10^2
санти	с	10^{-2}
милли	м	10^{-3}
микро	мк	10^{-6}
нано	н	10^{-9}

Константы	
ускорение свободного падения на Земле	$g = 10 \frac{\text{м}}{\text{с}^2}$
гравитационная постоянная	$G = 6,7 \cdot 10^{-11} \frac{\text{Н} \cdot \text{м}^2}{\text{кг}^2}$
скорость света в вакууме	$c = 3 \cdot 10^8 \frac{\text{м}}{\text{с}}$
элементарный электрический заряд	$e = 1,6 \cdot 10^{-19} \text{ Кл}$

Плотность			
бензин	$710 \frac{\text{кг}}{\text{м}^3}$	древесина (сосна)	$400 \frac{\text{кг}}{\text{м}^3}$
спирт	$800 \frac{\text{кг}}{\text{м}^3}$	парафин	$900 \frac{\text{кг}}{\text{м}^3}$
керосин	$800 \frac{\text{кг}}{\text{м}^3}$	лёд	$900 \frac{\text{кг}}{\text{м}^3}$
масло машинное	$900 \frac{\text{кг}}{\text{м}^3}$	алюминий	$2700 \frac{\text{кг}}{\text{м}^3}$
вода	$1000 \frac{\text{кг}}{\text{м}^3}$	мрамор	$2700 \frac{\text{кг}}{\text{м}^3}$
молоко цельное	$1030 \frac{\text{кг}}{\text{м}^3}$	цинк	$7100 \frac{\text{кг}}{\text{м}^3}$
вода морская	$1030 \frac{\text{кг}}{\text{м}^3}$	сталь, железо	$7800 \frac{\text{кг}}{\text{м}^3}$
глицерин	$1260 \frac{\text{кг}}{\text{м}^3}$	медь	$8900 \frac{\text{кг}}{\text{м}^3}$
ртуть	$13\,600 \frac{\text{кг}}{\text{м}^3}$	свинец	$11\,350 \frac{\text{кг}}{\text{м}^3}$

Удельная			
теплоёмкость воды	$4200 \frac{\text{Дж}}{\text{кг} \cdot ^\circ\text{C}}$	теплота парообразования воды	$2,3 \cdot 10^6 \frac{\text{Дж}}{\text{кг}}$
теплоёмкость спирта	$2400 \frac{\text{Дж}}{\text{кг} \cdot ^\circ\text{C}}$	теплота парообразования спирта	$9,0 \cdot 10^5 \frac{\text{Дж}}{\text{кг}}$
теплоёмкость льда	$2100 \frac{\text{Дж}}{\text{кг} \cdot ^\circ\text{C}}$	теплота плавления свинца	$2,5 \cdot 10^4 \frac{\text{Дж}}{\text{кг}}$
теплоёмкость алюминия	$920 \frac{\text{Дж}}{\text{кг} \cdot ^\circ\text{C}}$	теплота плавления стали	$7,8 \cdot 10^4 \frac{\text{Дж}}{\text{кг}}$
теплоёмкость стали	$500 \frac{\text{Дж}}{\text{кг} \cdot ^\circ\text{C}}$	теплота плавления олова	$5,9 \cdot 10^4 \frac{\text{Дж}}{\text{кг}}$
теплоёмкость цинка	$400 \frac{\text{Дж}}{\text{кг} \cdot ^\circ\text{C}}$	теплота плавления льда	$3,3 \cdot 10^5 \frac{\text{Дж}}{\text{кг}}$
теплоёмкость меди	$400 \frac{\text{Дж}}{\text{кг} \cdot ^\circ\text{C}}$	теплота сгорания спирта	$2,9 \cdot 10^7 \frac{\text{Дж}}{\text{кг}}$
теплоёмкость олова	$230 \frac{\text{Дж}}{\text{кг} \cdot ^\circ\text{C}}$	теплота сгорания керосина	$4,6 \cdot 10^7 \frac{\text{Дж}}{\text{кг}}$
теплоёмкость свинца	$130 \frac{\text{Дж}}{\text{кг} \cdot ^\circ\text{C}}$	теплота сгорания бензина	$4,6 \cdot 10^7 \frac{\text{Дж}}{\text{кг}}$
теплоёмкость бронзы	$420 \frac{\text{Дж}}{\text{кг} \cdot ^\circ\text{C}}$		

Температура плавления		Температура кипения	
свинца	327 °C	воды	100 °C
олова	232 °C	спирта	78 °C
льда	0 °C		

Удельное электрическое сопротивление, $\frac{\text{Ом} \cdot \text{мм}^2}{\text{м}}$ (при 20 °C)			
серебро	0,016	никелин	0,4
медь	0,017	нихром (сплав)	1,1
алюминий	0,028	фехраль	1,2
железо	0,10		

Нормальные условия: давление 10^5 Па, температура 0 °C



Ответом к заданиям 1, 2, 4, 11–14, 16, 18 и 19 является последовательность цифр. Последовательность цифр записывайте без пробелов, запятых и других дополнительных символов. Ответом к заданиям 3 и 15 является одна цифра, которая соответствует номеру правильного ответа. Ответом к заданиям 5–10 является число. Единицы измерения в ответе указывать не надо. Ответ запишите в поле ответа в тексте работы, а затем перенесите в БЛАНК ОТВЕТОВ № 1 справа от номера соответствующего задания, начиная с первой клеточки. Каждый символ пишите в отдельной клеточке в соответствии с приведёнными в бланке образцами. Ответы на задания 17, 20–25 запишите на БЛАНКЕ ОТВЕТОВ № 2.

- 1 Установите соответствие между физическими величинами и приборами, предназначенными для их измерения. К каждой позиции первого столбца подберите соответствующую позицию из второго столбца и запишите в таблицу выбранные цифры под соответствующими буквами.

ФИЗИЧЕСКИЕ ВЕЛИЧИНЫ

- А) сила электрического тока
 Б) электрическое напряжение
 В) электрический заряд

ПРИБОРЫ

- 1) омметр
 2) вольтметр
 3) амперметр
 4) электрометр
 5) манометр

Ответ:

А	Б	В

- 2 Установите соответствие между формулами для расчёта физических величин и названиями этих величин. В формулах использованы обозначения: I – сила тока; R – сопротивление проводника; t – время. К каждой позиции первого столбца подберите соответствующую позицию из второго столбца и запишите в таблицу выбранные цифры под соответствующими буквами.

ФОРМУЛЫ

- А) It
 Б) IR

ФИЗИЧЕСКИЕ ВЕЛИЧИНЫ

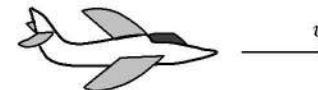
- 1) напряжение на концах проводки
 2) электрический заряд, проходящий через поперечное сечение проводника
 3) работа электрического тока
 4) мощность электрического тока на проводнике

Ответ:

А	Б

3

С летящего самолёта (см. рисунок) через грузовой люк сбрасывают груз.



Сразу после сбрасывания груз продолжает двигаться по направлению движения самолёта. Какое явление объясняет это движение?

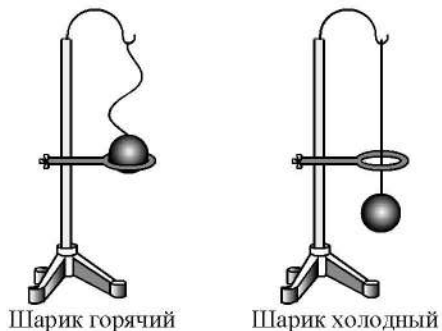
- 1) тяготение
 2) реактивное движение
 3) инерция
 4) сопротивление воздуха

Ответ:



4 Прочитайте текст и вставьте на места пропусков слова (словосочетания) из приведённого списка.

Нагретый шарик застревает в металлическом кольце. После остывания шарик проскальзывает сквозь кольцо (см. рисунок).



В процессе охлаждения стального шарика наблюдается явление (А) _____, связанное с изменением (Б) _____ частиц. При этом масса шарика (В) _____, а объём шарика (Г) _____.

Список слов и словосочетаний:

- 1) теплопроводность
- 2) тепловое расширение/сжатие
- 3) размер
- 4) скорость теплового движения
- 5) увеличивается
- 6) уменьшается
- 7) не изменяется

Запишите в таблицу выбранные цифры под соответствующими буквами.

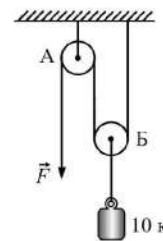
Ответ:

А	Б	В	Г

5 Время свободного падения камня из состояния покоя равно 2 с. Какое расстояние пролетел камень за это время? Сопротивлением движению пренебречь

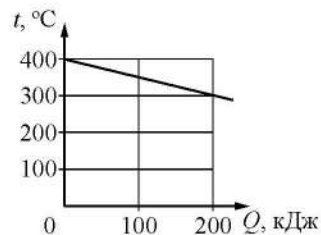
Ответ: _____ м.

6 Чему равен модуль силы \vec{F} , которую нужно приложить к концу лёгкой нерастяжимой нити, перекинутой через блоки, чтобы уравновесить груз массой 10 кг, подвешенный к оси блока Б (см. рисунок)? Нить и блоки А и Б считать невесомыми, трением пренебречь.



Ответ: _____ Н.

7 На рисунке представлен график зависимости температуры t твёрдого тела от отданного им количества теплоты Q . Чему равна масса охлаждаемого тела, если известно, что его удельная теплоёмкость равна $500 \frac{\text{Дж}}{\text{кг} \cdot ^\circ\text{C}}$?



Ответ: _____ кг.



- 8) Металлический шарик 1, укрепленный на длинной изолирующей ручке и имеющий заряд $q = 2,4$ нКл, приводят поочередно в соприкосновение с двумя такими же изолированными незаряженными шариками: 2 и 3, расположенными на изолирующих подставках (см. рисунок).



Какой заряд в результате останется на шарике 1?

Ответ: _____ нКл.

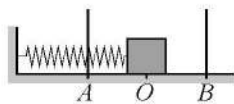
- 9) Луч света падает на плоское зеркало. Угол между падающим и отраженным лучами равен 140° . Чему равен угол отражения?

Ответ: _____ градусов.

- 10) Изотоп золота ${}_{79}^{179}\text{Au}$ претерпевает α -распад. Чему равно зарядовое число ядра, полученного в результате этого распада?

Ответ: _____.

- 11) Пружинный маятник совершает незатухающие гармонические колебания между точками A и B (см. рисунок). Точка O соответствует положению равновесия маятника. Как изменяются скорость бруска и потенциальная энергия пружины маятника при переходе из точки O в точку A ?



Для каждой величины определите соответствующий характер изменения:

- 1) увеличивается
- 2) уменьшается
- 3) не изменяется

Запишите в таблицу выбранные цифры для каждой физической величины. Цифры в ответе могут повторяться.

Скорость бруска	Потенциальная энергия пружины

- 12) Предмет, находящийся на расстоянии $2F$ от собирающей линзы с фокусным расстоянием F , удаляют от линзы на расстояние $3F$. Как при этом меняются оптическая сила линзы и размер изображения предмета?

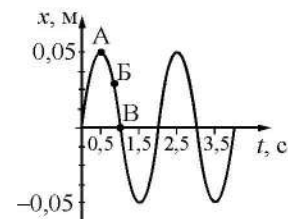
Для каждой величины определите соответствующий характер изменения:

- 1) увеличивается
- 2) уменьшается
- 3) не изменяется

Запишите в таблицу выбранные цифры для каждой физической величины. Цифры в ответе могут повторяться.

Оптическая сила линзы	Размер изображения предмета

- 13) На рисунке представлен график гармонических колебаний математического маятника.



Используя данные графика, выберите из предложенного перечня **два** верных утверждения. Укажите их номера.

- 1) Точка В соответствует максимальному смещению маятника из положения равновесия.
- 2) Частота колебаний маятника равна $0,5$ Гц.
- 3) При переходе из состояния, соответствующего точке А, в состояние, соответствующее точке В, потенциальная энергия маятника уменьшается.
- 4) В начальный момент времени кинетическая энергия маятника равна нулю.
- 5) Амплитуда колебаний маятника равна $0,1$ м.

Ответ:

--	--



- 14 В справочнике физических свойств различных материалов представлена следующая таблица.


Вещество	Плотность в твёрдом состоянии, $\frac{\text{г}}{\text{см}^3}$	Удельное электрическое сопротивление (при 20 °С), $\frac{\text{Ом} \cdot \text{мм}^2}{\text{м}}$
Алюминий	2,7	0,028
Железо	7,8	0,1
Константан (сплав)	8,8	0,5
Латунь	8,4	0,07
Медь	8,9	0,017
Никелин (сплав)	8,8	0,4
Нихром (сплав)	8,4	1,1
Серебро	10,5	0,016

Используя данные таблицы, выберите из предложенного перечня *два* верных утверждения. Укажите их номера.

- 1) При последовательном включении проводников из железа и никелина, имеющих одинаковые размеры, потребляемая мощность у никелина в 4 раза больше, чем у железа.
- 2) При равных размерах проводник из серебра имеет наименьшую массу по сравнению с проводниками из других перечисленных в таблице металлов.
- 3) При замене спирали электроплитки с никелиновой на нихромовую такого же размера электрическое сопротивление спирали увеличится.
- 4) Проводники из константана и никелина при одинаковых размерах имеют одинаковые электрические сопротивления.
- 5) При равных размерах проводник из латуни имеет меньшую массу и меньшее электрическое сопротивление по сравнению с проводником из меди.

Ответ:

- 15 Запишите результат измерения атмосферного давления с помощью барометра-анероида (см. рисунок), учитывая, что погрешность измерения равна цене деления.

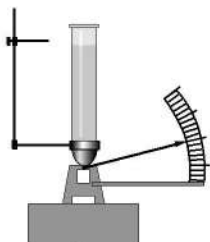


- 1) (750 ± 5) Па
- 2) (755 ± 1) Па
- 3) (107 ± 1) кПа
- 4) $(100,7 \pm 0,1)$ кПа

Ответ:

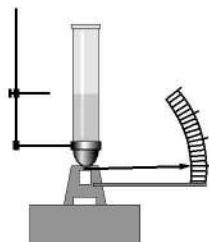


- 16 Учитель провёл опыты с прибором, предложенным Паскалем. В сосуды, дно которых имеет одинаковую площадь и затянута одинаковой резиновой плёнкой, наливается жидкость. Дно сосудов при этом прогибается, и его движение передаётся стрелке. Отклонение стрелки характеризует силу, с которой жидкость давит на дно сосуда. Описание действий учителя и наблюдаемые показания прибора представлены на рисунке.



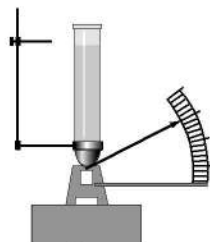
Опыт 1.

В сосуд наливают жидкость 1. Высота столба жидкости равна h_1 .



Опыт 2.

В сосуд наливают жидкость 1. Высота столба жидкости $h_2 < h_1$.



Опыт 3.

В сосуд наливают жидкость 2. Высота столба жидкости равна h_1 .

Из предложенного перечня выберите **два** утверждения, соответствующих проведённым опытам. Укажите их номера.

- 1) Сила давления жидкости на дно сосуда зависит от формы сосуда.
- 2) Сила давления жидкости на дно сосуда не зависит от вида жидкости.
- 3) Сила давления жидкости зависит от высоты столба жидкости.
- 4) Сила давления жидкости на дно сосуда зависит от площади дна сосуда.
- 5) Сила давления жидкости принимает минимальное значение в опыте 2.

Ответ:

--	--

Для ответа на задание 17 используйте БЛАНК ОТВЕТОВ № 2. Запишите сначала номер задания, а затем ответ к нему.

- 17 Используя источник тока, вольтметр, амперметр, ключ, реостат, соединительные провода и резистор, обозначенный R_1 , соберите экспериментальную установку для определения работы электрического тока на резисторе R_1 . При помощи реостата установите в цепи силу тока 0,4 А. Определите работу электрического тока за 10 минут. Абсолютная погрешность измерения силы тока равна $\pm 0,02$ А, абсолютная погрешность измерения напряжения равна $\pm 0,1$ В.

В бланке ответов № 2:

- 1) нарисуйте электрическую схему эксперимента;
- 2) запишите формулу для расчёта работы электрического тока;
- 3) укажите результаты измерения напряжения и силы тока с учётом абсолютных погрешностей измерений;
- 4) запишите значение работы электрического тока.

- 18 Установите соответствие между техническими устройствами и физическими явлениями, лежащими в основе их работы. К каждой позиции первого столбца подберите соответствующую позицию из второго столбца и запишите в таблицу выбранные цифры под соответствующими буквами.

ТЕХНИЧЕСКИЕ
УСТРОЙСТВА

- А) электрическая плита
Б) прожектор

ФИЗИЧЕСКИЕ
ЯВЛЕНИЯ

- 1) тепловое действие электрического тока
- 2) магнитное действие электрического тока
- 3) отражение света
- 4) преломление света

Ответ:

А	Б

Прочитайте текст и выполните задания 19 и 20.**Сейсмические методы исследования**

Механические волны, распространяющиеся в Земле от очагов землетрясений или каких-нибудь мощных взрывов, называются сейсмическими волнами.

Для исследования землетрясений и внутреннего строения Земли наибольший интерес представляют два вида сейсмических волн: продольные (волны сжатия) и поперечные. В отличие от продольных волн, поперечные волны не распространяются внутри жидкостей и газов. Скорость этих волн в одном и том же веществе разная: продольные распространяются быстрее поперечных. Например, на глубине 500 км скорость поперечных сейсмических волн равна примерно $5 \frac{\text{км}}{\text{с}}$, а скорость продольных волн – около $10 \frac{\text{км}}{\text{с}}$.

Распространяясь из очага землетрясения, первыми на сейсмическую станцию приходят продольные волны, а спустя некоторое время – поперечные. Зная скорость распространения сейсмических волн в земной коре и время запаздывания поперечной волны, можно определить расстояние до центра землетрясения. Для более точных измерений используют данные нескольких сейсмических станций. Ежегодно на земном шаре регистрируют сотни тысяч землетрясений.

Сейсмические волны используются для исследования глубоких слоёв Земли. Когда сейсмические волны проходят через среду, плотность и состав которой изменяются, то скорости волн также меняются, что проявляется в преломлении волн. (На границе двух сред также наблюдается отражение.) В более плотных слоях Земли скорость волн возрастает; соответственно возрастает угол преломления. Характер преломления сейсмических волн позволяет исследовать плотность и внутреннее строение Земли. Отсутствие поперечных волн, прошедших через центральную область Земли, позволило английскому сейсмологу Олдгеми сделать вывод о существовании жидкого ядра Земли.

Сейсмический метод отражённых волн используется для поиска полезных ископаемых (например, месторождений нефти и газа). Этот метод основан на отражении искусственно созданной сейсмической волны на границе пород с разными плотностями. В скважине, пробуренной в исследуемом районе, взрывают небольшой заряд. Возникающая сейсмическая волна распространяется по всем направлениям. Достигнув границ исследуемой породы, волна отражается и возвращается обратно к земной поверхности, где её «ловит» специальный прибор (сейсмоприемник).



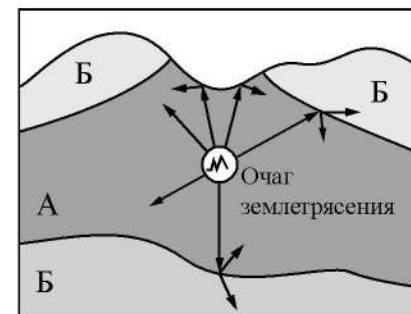
- 19 Выберите два верных утверждения, которые соответствуют содержанию текста. Запишите в ответ их номера.

- 1) Все сейсмические волны распространяются с одинаковой скоростью.
- 2) Скорость распространения сейсмической волны зависит от плотности и состава среды.
- 3) На границе двух сред с разной плотностью сейсмическая волна частично отражается, частично преломляется.
- 4) Продольная сейсмическая волна может распространяться только в твёрдом теле.
- 5) Сейсмические волны относятся к низкочастотным радиоволнам.

Ответ:

Для ответов на задания 20–25 используйте БЛАНК ОТВЕТОВ № 2. Запишите сначала номер задания (20, 21 и т.д.), а затем ответ на него. Полный ответ на задания 20, 21 и 22 должен содержать не только ответ на вопрос, но и его развёрнутое, логически связанное обоснование.

- 20 На рисунке схематически изображено распространение сейсмической волны от очага землетрясения. Какой из слоёв (А или Б) имеет большую плотность? Ответ поясните.



- 21 Отрицательно заряженная эбонитовая палочка притягивает подвешенную на нити лёгкую гильзу из алюминиевой фольги. Имеет ли гильза электрический заряд? Ответ поясните.

- 22 В жаркий день туристы налили холодную воду из колодца в две одинаковые пластиковые бутылки. Одну из них несли в полиэтиленовом пакете, а другую – в рюкзаке, завернутую в толстый шерстяной свитер. Вода в какой бутылке нагреется быстрее? Ответ поясните.

Для заданий 23–25 необходимо записать полное решение, включающее запись краткого условия задачи (Дано), запись формул, применение которых необходимо и достаточно для решения задачи, а также математические преобразования и расчёты, приводящие к числовому ответу.

23 Какое количество теплоты необходимо, чтобы нагреть 1 л воды от 20 °С до 100 °С? Вода нагревается в алюминиевой кастрюле массой 200 г. Тепловыми потерями пренебречь.

24 Конькобежец массой 80 кг, стоя на коньках на льду, бросает в горизонтальном направлении предмет со скоростью $20 \frac{\text{м}}{\text{с}}$ и откатывается в обратном направлении на 40 см. Найдите массу предмета, если коэффициент трения коньков о лёд равен 0,02.

25 Две спирали электроплитки сопротивлением по 10 Ом каждая соединены параллельно и включены в сеть с напряжением 220 В. Вода массой 1 кг, налитая в алюминиевую кастрюлю массой 300 г, закипела через 37 с. Чему равна начальная температура воды и кастрюли? Потерями энергии на нагревание окружающего воздуха пренебречь.



Не забудьте перенести все ответы в бланки ответов № 1 и № 2 в соответствии с инструкцией по выполнению работы. Проверьте, чтобы каждый ответ был записан рядом с номером соответствующего задания.

Номер комплекта оборудования, используемого при
проведении экзамена по ФИЗИКЕ

№ КИМ	№ комплекта оборудования	№ места участника <i>(заполняется вручную)</i>
	3	

100balnik.ru.com

НОМЕР КИМ**Инструкция по выполнению работы**

На выполнение экзаменационной работы по физике отводится 3 часа (180 минут). Экзаменационная работа включает в себя 25 заданий.

Ответы к заданиям 1, 2, 4, 11–14, 16, 18 и 19 записываются в виде последовательности цифр. Ответом к заданиям 3 и 15 является одна цифра, которая соответствует номеру правильного ответа. Ответы к заданиям 5–10 записываются в виде целого числа или конечной десятичной дроби с учётом указанных в ответе единиц. Ответ запишите в поле ответа в тексте работы, а затем перенесите в бланк ответов № 1. Единицы измерения в ответе указывать не надо.

К заданиям 17, 20–25 следует дать развернутый ответ. Задания выполняются на бланке ответов № 2. Запишите сначала номер задания, а затем ответ на него. Ответы записывайте чётко и разборчиво. Задание 17 экспериментальное, и для его выполнения необходимо воспользоваться лабораторным оборудованием.

При вычислениях разрешается использовать линейку и непрограммируемый калькулятор.

Все бланки заполняются яркими чёрными чернилами. Допускается использование гелевой или капиллярной ручки.

При выполнении заданий можно пользоваться черновиком. **Записи в черновике, а также в тексте контрольных измерительных материалов не учитываются при оценивании работы.**

Баллы, полученные Вами за выполненные задания, суммируются. Постарайтесь выполнить как можно больше заданий и набрать наибольшее количество баллов.

После завершения работы проверьте, чтобы ответ на каждое задание в бланках ответов № 1 и № 2 был записан под правильным номером.

Желаем успеха!

Ниже приведены справочные данные, которые могут понадобиться Вам при выполнении работы.

Десятичные приставки		
Наименование	Обозначение	Множитель
гига	Г	10^9
мега	М	10^6
кило	к	10^3
гекто	г	10^2
санти	с	10^{-2}
милли	м	10^{-3}
микро	мк	10^{-6}
нано	н	10^{-9}

Константы	
ускорение свободного падения на Земле	$g = 10 \frac{\text{м}}{\text{с}^2}$
гравитационная постоянная	$G = 6,7 \cdot 10^{-11} \frac{\text{Н} \cdot \text{м}^2}{\text{кг}^2}$
скорость света в вакууме	$c = 3 \cdot 10^8 \frac{\text{м}}{\text{с}}$
элементарный электрический заряд	$e = 1,6 \cdot 10^{-19} \text{ Кл}$

Плотность			
бензин	$710 \frac{\text{кг}}{\text{м}^3}$	древесина (сосна)	$400 \frac{\text{кг}}{\text{м}^3}$
спирт	$800 \frac{\text{кг}}{\text{м}^3}$	парафин	$900 \frac{\text{кг}}{\text{м}^3}$
керосин	$800 \frac{\text{кг}}{\text{м}^3}$	лёд	$900 \frac{\text{кг}}{\text{м}^3}$
масло машинное	$900 \frac{\text{кг}}{\text{м}^3}$	алюминий	$2700 \frac{\text{кг}}{\text{м}^3}$
вода	$1000 \frac{\text{кг}}{\text{м}^3}$	мрамор	$2700 \frac{\text{кг}}{\text{м}^3}$
молоко цельное	$1030 \frac{\text{кг}}{\text{м}^3}$	цинк	$7100 \frac{\text{кг}}{\text{м}^3}$
вода морская	$1030 \frac{\text{кг}}{\text{м}^3}$	сталь, железо	$7800 \frac{\text{кг}}{\text{м}^3}$
глицерин	$1260 \frac{\text{кг}}{\text{м}^3}$	медь	$8900 \frac{\text{кг}}{\text{м}^3}$
ртуть	$13\,600 \frac{\text{кг}}{\text{м}^3}$	свинец	$11\,350 \frac{\text{кг}}{\text{м}^3}$

Удельная			
теплоёмкость воды	$4200 \frac{\text{Дж}}{\text{кг} \cdot ^\circ\text{C}}$	теплота парообразования воды	$2,3 \cdot 10^6 \frac{\text{Дж}}{\text{кг}}$
теплоёмкость спирта	$2400 \frac{\text{Дж}}{\text{кг} \cdot ^\circ\text{C}}$	теплота парообразования спирта	$9,0 \cdot 10^5 \frac{\text{Дж}}{\text{кг}}$
теплоёмкость льда	$2100 \frac{\text{Дж}}{\text{кг} \cdot ^\circ\text{C}}$	теплота плавления свинца	$2,5 \cdot 10^4 \frac{\text{Дж}}{\text{кг}}$
теплоёмкость алюминия	$920 \frac{\text{Дж}}{\text{кг} \cdot ^\circ\text{C}}$	теплота плавления стали	$7,8 \cdot 10^4 \frac{\text{Дж}}{\text{кг}}$
теплоёмкость стали	$500 \frac{\text{Дж}}{\text{кг} \cdot ^\circ\text{C}}$	теплота плавления олова	$5,9 \cdot 10^4 \frac{\text{Дж}}{\text{кг}}$
теплоёмкость цинка	$400 \frac{\text{Дж}}{\text{кг} \cdot ^\circ\text{C}}$	теплота плавления льда	$3,3 \cdot 10^5 \frac{\text{Дж}}{\text{кг}}$
теплоёмкость меди	$400 \frac{\text{Дж}}{\text{кг} \cdot ^\circ\text{C}}$	теплота сгорания спирта	$2,9 \cdot 10^7 \frac{\text{Дж}}{\text{кг}}$
теплоёмкость олова	$230 \frac{\text{Дж}}{\text{кг} \cdot ^\circ\text{C}}$	теплота сгорания керосина	$4,6 \cdot 10^7 \frac{\text{Дж}}{\text{кг}}$
теплоёмкость свинца	$130 \frac{\text{Дж}}{\text{кг} \cdot ^\circ\text{C}}$	теплота сгорания бензина	$4,6 \cdot 10^7 \frac{\text{Дж}}{\text{кг}}$
теплоёмкость бронзы	$420 \frac{\text{Дж}}{\text{кг} \cdot ^\circ\text{C}}$		

Температура плавления		Температура кипения	
свинца	327 °С	воды	100 °С
олова	232 °С	спирта	78 °С
льда	0 °С		

Удельное электрическое сопротивление, $\frac{\text{Ом} \cdot \text{мм}^2}{\text{м}}$ (при 20 °С)			
серебро	0,016	никелин	0,4
медь	0,017	нихром (сплав)	1,1
алюминий	0,028	фехраль	1,2
железо	0,10		

Нормальные условия: давление 10^5 Па, температура 0 °С



Ответом к заданиям 1, 2, 4, 11–14, 16, 18 и 19 является последовательность цифр. Последовательность цифр записывайте без пробелов, запятых и других дополнительных символов. Ответом к заданиям 3 и 15 является одна цифра, которая соответствует номеру правильного ответа. Ответом к заданиям 5–10 является число. Единицы измерения в ответе указывать не надо. Ответ запишите в поле ответа в тексте работы, а затем перенесите в БЛАНК ОТВЕТОВ № 1 справа от номера соответствующего задания, начиная с первой клеточки. Каждый символ пишите в отдельной клеточке в соответствии с приведёнными в бланке образцами. Ответы на задания 17, 20–25 запишите на БЛАНКЕ ОТВЕТОВ № 2.

- 1** Установите соответствие между физическими величинами и приборами, предназначенными для измерения этих величин. К каждой позиции первого столбца подберите соответствующую позицию из второго столбца и запишите в таблицу выбранные цифры под соответствующими буквами.

ФИЗИЧЕСКИЕ ВЕЛИЧИНЫ

- А) электрический заряд
Б) электрическое напряжение
В) электрическое сопротивление

ПРИБОРЫ

- 1) реостат
2) амперметр
3) омметр
4) вольтметр
5) электрометр

Ответ:

А	Б	В

- 2** Тело падает вертикально вниз из состояния покоя. Установите соответствие между формулами для расчёта физических величин и названиями этих величин. В формулах использованы обозначения: m – масса тела; g – ускорение свободного падения; t – время движения. К каждой позиции первого столбца подберите соответствующую позицию из второго столбца и запишите в таблицу выбранные цифры под соответствующими буквами.

ФОРМУЛЫ

- А) mg
Б) gt

ФИЗИЧЕСКИЕ ВЕЛИЧИНЫ

- 1) сила тяжести, действующая на тело
2) ускорение тела
3) скорость тела в момент времени t
4) путь, пройденный телом за время t

Ответ:

А	Б

3

Летними ночами при понижении температуры на листьях растений образуется роса. Какое явление вызывает образования росы?



- 1) броуновское движение
2) конденсация водяного пара
3) испарение воды
4) диффузия жидкостей

Ответ:



4 Прочитайте текст и вставьте на места пропусков слова (словосочетания) из приведённого списка.

Возьмём две одинаковые стеклянные банки и одну из них закутаем в шерстяной шарф (см. рисунок). Нальём в обе банки одинаковое количество холодной воды и поставим банки в тёплое помещение. Если через некоторое время измерить температуру воды в обеих банках, то мы обнаружим, что температура воды в банке с шарфом (А) _____, чем в другой банке. Это объясняется тем, что шерстяные, меховые, пуховые изделия являются (Б) _____ и (В) _____ охлаждение воды. Стекло же является (Г) _____.



Список слов и словосочетаний:


- 1) выше
- 2) ниже
- 3) замедляют
- 4) ускоряют
- 5) хороший проводник тепла
- 6) плохой проводник тепла
- 7) электрический проводник

Запишите в таблицу выбранные цифры под соответствующими буквами.

А	Б	В	Г

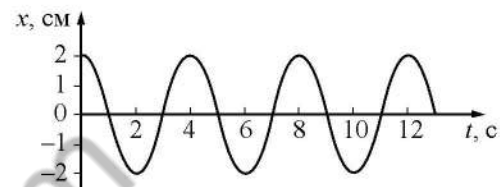
Ответ:

5 Нить, привязанная одним концом к вбитому в стену гвоздю, разорвётся, если другой её конец тянуть с силой не менее 50 Н. С какой наименьшей силой F надо растягивать эту же нить в разные стороны, чтобы она порвалась?



Ответ: _____ Н.

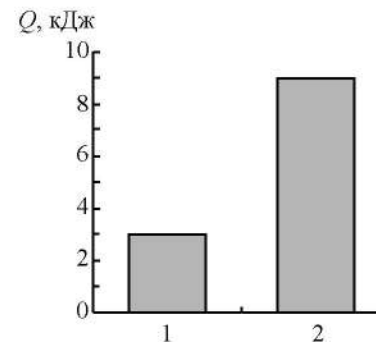
6 На рисунке представлен график зависимости смещения груза x от времени t при колебаниях маятника.



Чему равна частота колебаний маятника?

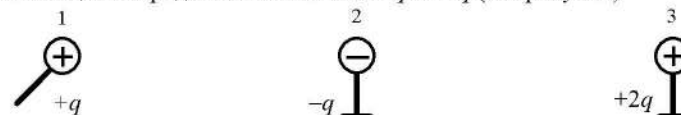
Ответ: _____ Гц.

7 На диаграмме для двух веществ приведены значения количества теплоты, необходимого для плавления 500 г вещества, нагретого до температуры плавления. Во сколько раз удельная теплота плавления второго вещества больше удельной теплоты плавления первого вещества?



Ответ: в _____ раз(а).

8 Металлический шарик 1, укрепленный на длинной изолирующей ручке и имеющий заряд $q = 1,4$ нКл, приводят поочередно в соприкосновение с двумя такими же шариками: 2 и 3, расположенными на изолирующих подставках и имеющими заряды соответственно $-q$ и $+2q$ (см. рисунок).

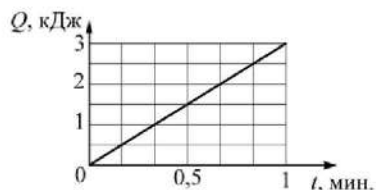


Какой заряд в результате останется на шарике 1?

Ответ: _____ нКл.



- 9 На рисунке показан график зависимости количества теплоты Q , выделяемого на резисторе, от времени t . Чему равна сила тока, протекающего через резистор, если известно, что электрическое сопротивление резистора равно 2 Ом ?



Ответ: _____ А.

- 10 Чему равно зарядовое число ядра, из которого после двух последовательных α -распадов образуется ядро цезия $^{140}_{58}\text{Ce}$?

Ответ: _____.

- 11 Спиртовой термометр выносят из тени на солнечную сторону. Как при этом меняется внутренняя энергия спирта и его объём?

Для каждой величины определите соответствующий характер изменения:

- 1) увеличивается
- 2) уменьшается
- 3) не изменяется

Запишите в таблицу выбранные цифры для каждой физической величины. Цифры в ответе могут повторяться.

Внутренняя энергия спирта	Объём спирта

- 12 Предмет, находящийся на расстоянии $0,2F$ от собирающей линзы, фокусное расстояние которой F , удаляют от линзы на расстояние $0,6F$. Как при этом изменяются фокусное расстояние линзы и расстояние от линзы до изображения предмета?

Для каждой величины определите соответствующий характер изменения:

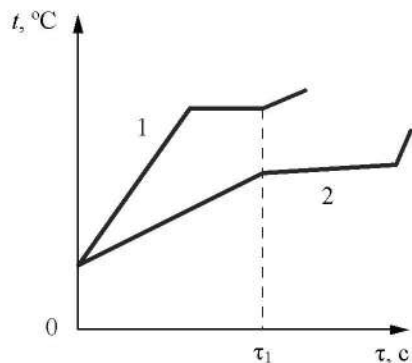
- 1) увеличивается
- 2) уменьшается
- 3) не изменяется

Запишите в таблицу выбранные цифры для каждой физической величины. Цифры в ответе могут повторяться.

Фокусное расстояние линзы	Расстояние от линзы до изображения предмета



- 13 На рисунке приведены графики зависимости температуры t от времени τ двух веществ одинаковой массы, находившихся первоначально в жидком состоянии, получающих одинаковое количество теплоты в единицу времени.



Из приведённых ниже утверждений выберите **два** верных и запишите их номера.

- 1) Удельная теплоёмкость вещества 1 в жидком состоянии больше, чем вещества 2.
- 2) В течение промежутка времени $0-\tau_1$ оба вещества находились только в жидком состоянии.
- 3) Вещество 1 полностью переходит в газообразное состояние, когда начинается кипение вещества 2.
- 4) Температура кипения вещества 1 выше, чем вещества 2.
- 5) Удельная теплота кипения вещества 1 больше, чем вещества 2.

Ответ:

- 14 В справочнике физических свойств различных материалов представлена следующая таблица.


Вещество	Плотность в твёрдом состоянии, $\frac{\text{г}}{\text{см}^3}$	Удельное электрическое сопротивление (при 20 °С), $\frac{\text{Ом} \cdot \text{мм}^2}{\text{м}}$
Алюминий	2,7	0,028
Железо	7,8	0,1
Константан (сплав)	8,8	0,5
Латунь	8,4	0,07
Медь	8,9	0,017
Никелин (сплав)	8,8	0,4
Нихром (сплав)	8,4	1,1
Серебро	10,5	0,016

Используя данные таблицы, выберите из предложенного перечня **два** верных утверждения. Укажите их номера.

- 1) При параллельном включении проводников из железа и никелина, имеющих одинаковые размеры, потребляемая мощность у никелина в 4 раза больше, чем у железа.
- 2) При замене спирали электроплитки с никелиновой на константановую такого же размера электрическое сопротивление спирали не изменится.
- 3) Проводники из константана и никелина при одинаковых размерах имеют одинаковые массы.
- 4) При равных размерах проводник из латуни имеет меньшую массу, но большее электрическое сопротивление по сравнению с проводником из меди.
- 5) При равных размерах проводник из нихрома имеет наибольшую массу.

Ответ:

- 15 Для измерения силы тока, проходящего через лампу, и электрического напряжения на лампе ученик собрал электрическую цепь, представленную на рисунке.



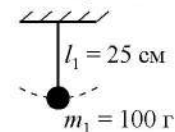
Какие измерительные приборы включены в электрическую цепь правильно?

- 1) И амперметр, и вольтметр включены правильно
- 2) Только вольтметр
- 3) Только амперметр
- 4) И амперметр, и вольтметр включены неправильно

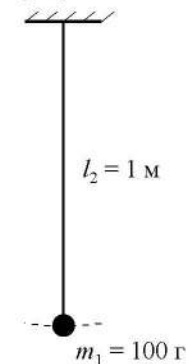
Ответ:



- 16 Ученик провёл измерения периода колебаний физического маятника для двух случаев. Результаты опытов представлены на рисунке.



Опыт 1.
 $T_1 = 1 \text{ с}$



Опыт 2.
 $T_2 = 2 \text{ с}$

Выберите из предложенного перечня **два** утверждения, которые соответствуют результатам проведённых измерений. Укажите их номера.

- 1) Период колебаний маятника на Луне будет меньше, чем на Земле.
- 2) Период колебаний маятника зависит от географической широты местности.
- 3) Период колебаний маятника зависит от длины нити.
- 4) Период колебаний маятника не зависит от массы груза.
- 5) При увеличении длины нити в 4 раза период колебаний увеличивается в 2 раза.

Ответ:



Прочитайте текст и выполните задания 19 и 20.

Приливы и отливы на Земле

Наша планета постоянно находится в гравитационном поле, которое создают Луна и Солнце. Это является причиной уникального явления, выраженного в приливах и отливах на Земле. Приливы и отливы – это изменения уровня воды морских стихий и Мирового океана. Характер образования приливов и отливов уже достаточно изучен: постепенно поднимается уровень воды, достигая своей наивысшей точки (уровень «полная вода»); далее вода начинает спадать (процесс «отлив»); в течение примерно шести часов вода продолжает уходить и достигает минимальной своей точки (уровень «малая вода»). На рисунке схематично представлено образование приливов и отливов.



Основное влияние на образование приливов и отливов оказывает Луна благодаря своему близкому положению относительно Земли. Наиболее близкая к Луне точка земной поверхности подвержена лунному тяготению примерно на 6% больше, чем наиболее удалённая.

В течение суток (лунных) бывают две полные и две малые воды. Период равен половине лунных суток и составляет в среднем 12 часов 25 минут. Лунными сутками принято называть время оборота Луны вокруг нашей планеты; они чуть длиннее привычных для нас двадцати четырех часов. Каждый день приливы и отливы сдвигаются на пятьдесят минут. Этот временной промежуток необходим волне, чтобы «догнать» Луну, перемещающуюся за земные сутки по небосводу на тринадцать градусов.

Наблюдение процесса прилива в одном и том же месте на протяжении месяца показывает, что уровни малых и полных вод зависят от фазы Луны: в полнолуние и новолуние уровни отдаляются друг от друга, обеспечивая максимальную амплитуду прилива. Здесь сказывается влияние Солнца.

Для ответа на задание 17 используйте БЛАНК ОТВЕТОВ № 2. Запишите сначала номер задания, а затем ответ к нему.

- 17) Используя источник тока, вольтметр, амперметр, ключ, реостат, соединительные провода и резистор, обозначенный R_2 , соберите экспериментальную установку для определения работы электрического тока на резисторе R_2 . При помощи реостата установите в цепи силу тока 0,6 А. Определите работу электрического тока за 8 минут. Абсолютная погрешность измерения силы тока равна $\pm 0,02$ А, абсолютная погрешность измерения напряжения равна $\pm 0,2$ В.

В бланке ответов № 2:

- нарисуйте электрическую схему эксперимента;
- запишите формулу для расчёта работы электрического тока;
- укажите результаты измерения напряжения и силы тока с учётом абсолютных погрешностей измерений;
- запишите значение работы электрического тока.

- 18) Установите соответствие между научными открытиями и именами учёных, которым эти открытия принадлежат. К каждой позиции первого столбца подберите соответствующую позицию из второго столбца.

НАУЧНЫЕ ОТКРЫТИЯ

- температурная шкала
- полярное сияние

УЧЁНЫЕ

- Г. Галилей
- Б.Б. Голицын
- М.В. Ломоносов
- А. Цельсий

Ответ:

А	Б



Из-за огромной массы Солнца сила гравитационного притяжения между Солнцем и Землёй почти в 200 раз больше силы притяжения между Землёй и Луной, но из-за значительной удалённости это действие очень мало различается для разных областей Земли. Амплитуда солнечных приливов практически вдвое меньше, чем у приливно-отливных процессов спутника Земли. В том случае, когда все три небесных тела – Земля, Луна и Солнце – располагаются на одной прямой (а это как раз и происходит в новолуние и в полнолуние), происходит складывание лунных и солнечных приливов.

Энергия приливной волны невероятно велика, поэтому уже много лет разрабатываются проекты по строительству электростанций в районах с большой амплитудой движения водных масс. В России таких электростанций уже несколько. Первая была построена в Белом море.

19 Выберите **два** верных утверждения, которые соответствуют содержанию текста. Запишите в ответ их номера.

- 1) Наибольшее влияние на образование приливов и отливов на Земле оказывает Солнце, так как притяжение между Солнцем и Землёй почти в 200 раз больше притяжения между Землёй и Луной.
- 2) Лунные сутки равны времени полного оборота Земли вокруг своей оси.
- 3) Луна очень мала, поэтому практически не оказывает гравитационного действия на Землю.
- 4) Лунные сутки составляют примерно 24 ч 50 мин.
- 5) Сила притяжения со стороны Луны более заметно меняется от участка к участку земной поверхности по сравнению с силой притяжения со стороны Солнца.

Ответ:

--	--

Для ответов на задания 20–25 используйте БЛАНК ОТВЕТОВ № 2. Запишите сначала номер задания (20, 21 и т.д.), а затем ответ на него. Полный ответ на задания 20, 21 и 22 должен содержать не только ответ на вопрос, но и его развёрнутое, логически связанное обоснование.

20 Сколько раз в месяц из-за сложения лунного и солнечного приливов возникают приливы, отличающиеся резким перепадом между крайними точками: самые высокие полные воды и самые низкие малые воды? Ответ поясните.

21 Три сплошных шара одинакового размера – свинцовый, медный и деревянный – подняты на одну и ту же высоту над горизонтальной поверхностью стола. Какой из шаров обладает наибольшей потенциальной энергией относительно поверхности стола? Ответ поясните.

22

Медную и алюминиевую ложки одинаковой массы, имеющие комнатную температуру, опустили в кипяток. Равное ли количество теплоты они получат от воды? Почему?

Для заданий 23–25 необходимо записать полное решение, включающее запись краткого условия задачи (Дано), запись формул, применение которых необходимо и достаточно для решения задачи, а также математические преобразования и расчёты, приводящие к числовому ответу.

23

Чему равна масса паров спирта, если при их конденсации при температуре кипения и при последующем охлаждении до 28 °С выделяется количество теплоты, равное 20400 Дж?

24

Металлический шар упал с высоты $h = 26$ м на свинцовую пластину массой $m_2 = 1$ кг и остановился. При этом пластина нагрелась на 3,2 °С. Чему равна масса шара, если на нагревание пластины пошло 80% выделившегося при ударе количества теплоты? Начальная скорость шара равна нулю. Спротивлением воздуха пренебречь.

25

Чему равна масса воды, которую нагревают от 20 до 100 °С с помощью электронагревателя мощностью 500 Вт в течение 35 мин., если известно, что КПД нагревателя равен 64%?



Не забудьте перенести все ответы в бланки ответов № 1 и № 2 в соответствии с инструкцией по выполнению работы. Проверьте, чтобы каждый ответ был записан рядом с номером соответствующего задания.

Номер комплекта оборудования, используемого при
проведении экзамена по ФИЗИКЕ

№ КИМ	№ комплекта оборудования	№ места участника <i>(заполняется вручную)</i>
	3	

100balnik.ru.com

НОМЕР КИМ**Инструкция по выполнению работы**

На выполнение экзаменационной работы по физике отводится 3 часа (180 минут). Экзаменационная работа включает в себя 25 заданий.

Ответы к заданиям 1, 2, 4, 11–14, 16, 18 и 19 записываются в виде последовательности цифр. Ответом к заданиям 3 и 15 является одна цифра, которая соответствует номеру правильного ответа. Ответы к заданиям 5–10 записываются в виде целого числа или конечной десятичной дроби с учётом указанных в ответе единиц. Ответ запишите в поле ответа в тексте работы, а затем перенесите в бланк ответов № 1. Единицы измерения в ответе указывать не надо.

К заданиям 17, 20–25 следует дать развёрнутый ответ. Задания выполняются на бланке ответов № 2. Запишите сначала номер задания, а затем ответ на него. Ответы записывайте чётко и разборчиво. Задание 17 экспериментальное, и для его выполнения необходимо воспользоваться лабораторным оборудованием.

При вычислениях разрешается использовать линейку и непрограммируемый калькулятор.

Все бланки заполняются яркими чёрными чернилами. Допускается использование гелевой или капиллярной ручки.

При выполнении заданий можно пользоваться черновиком. **Записи в черновике, а также в тексте контрольных измерительных материалов не учитываются при оценивании работы.**

Баллы, полученные Вами за выполненные задания, суммируются. Постарайтесь выполнить как можно больше заданий и набрать наибольшее количество баллов.

После завершения работы проверьте, чтобы ответ на каждое задание в бланках ответов № 1 и № 2 был записан под правильным номером.

Желаем успеха!

Ниже приведены справочные данные, которые могут понадобиться Вам при выполнении работы.

Десятичные приставки		
Наименование	Обозначение	Множитель
гига	Г	10^9
мега	М	10^6
кило	к	10^3
гекто	г	10^2
санти	с	10^{-2}
милли	м	10^{-3}
микро	мк	10^{-6}
нано	н	10^{-9}

Константы	
ускорение свободного падения на Земле	$g = 10 \frac{\text{м}}{\text{с}^2}$
гравитационная постоянная	$G = 6,7 \cdot 10^{-11} \frac{\text{Н} \cdot \text{м}^2}{\text{кг}^2}$
скорость света в вакууме	$c = 3 \cdot 10^8 \frac{\text{м}}{\text{с}}$
элементарный электрический заряд	$e = 1,6 \cdot 10^{-19} \text{ Кл}$

Плотность			
бензин	$710 \frac{\text{кг}}{\text{м}^3}$	древесина (сосна)	$400 \frac{\text{кг}}{\text{м}^3}$
спирт	$800 \frac{\text{кг}}{\text{м}^3}$	парафин	$900 \frac{\text{кг}}{\text{м}^3}$
керосин	$800 \frac{\text{кг}}{\text{м}^3}$	лёд	$900 \frac{\text{кг}}{\text{м}^3}$
масло машинное	$900 \frac{\text{кг}}{\text{м}^3}$	алюминий	$2700 \frac{\text{кг}}{\text{м}^3}$
вода	$1000 \frac{\text{кг}}{\text{м}^3}$	мрамор	$2700 \frac{\text{кг}}{\text{м}^3}$
молоко цельное	$1030 \frac{\text{кг}}{\text{м}^3}$	цинк	$7100 \frac{\text{кг}}{\text{м}^3}$
вода морская	$1030 \frac{\text{кг}}{\text{м}^3}$	сталь, железо	$7800 \frac{\text{кг}}{\text{м}^3}$
глицерин	$1260 \frac{\text{кг}}{\text{м}^3}$	медь	$8900 \frac{\text{кг}}{\text{м}^3}$
ртуть	$13\,600 \frac{\text{кг}}{\text{м}^3}$	свинец	$11\,350 \frac{\text{кг}}{\text{м}^3}$

Удельная			
теплоёмкость воды	$4200 \frac{\text{Дж}}{\text{кг} \cdot ^\circ\text{C}}$	теплота парообразования воды	$2,3 \cdot 10^6 \frac{\text{Дж}}{\text{кг}}$
теплоёмкость спирта	$2400 \frac{\text{Дж}}{\text{кг} \cdot ^\circ\text{C}}$	теплота парообразования спирта	$9,0 \cdot 10^5 \frac{\text{Дж}}{\text{кг}}$
теплоёмкость льда	$2100 \frac{\text{Дж}}{\text{кг} \cdot ^\circ\text{C}}$	теплота плавления свинца	$2,5 \cdot 10^4 \frac{\text{Дж}}{\text{кг}}$
теплоёмкость алюминия	$920 \frac{\text{Дж}}{\text{кг} \cdot ^\circ\text{C}}$	теплота плавления стали	$7,8 \cdot 10^4 \frac{\text{Дж}}{\text{кг}}$
теплоёмкость стали	$500 \frac{\text{Дж}}{\text{кг} \cdot ^\circ\text{C}}$	теплота плавления олова	$5,9 \cdot 10^4 \frac{\text{Дж}}{\text{кг}}$
теплоёмкость цинка	$400 \frac{\text{Дж}}{\text{кг} \cdot ^\circ\text{C}}$	теплота плавления льда	$3,3 \cdot 10^5 \frac{\text{Дж}}{\text{кг}}$
теплоёмкость меди	$400 \frac{\text{Дж}}{\text{кг} \cdot ^\circ\text{C}}$	теплота сгорания спирта	$2,9 \cdot 10^7 \frac{\text{Дж}}{\text{кг}}$
теплоёмкость олова	$230 \frac{\text{Дж}}{\text{кг} \cdot ^\circ\text{C}}$	теплота сгорания керосина	$4,6 \cdot 10^7 \frac{\text{Дж}}{\text{кг}}$
теплоёмкость свинца	$130 \frac{\text{Дж}}{\text{кг} \cdot ^\circ\text{C}}$	теплота сгорания бензина	$4,6 \cdot 10^7 \frac{\text{Дж}}{\text{кг}}$
теплоёмкость бронзы	$420 \frac{\text{Дж}}{\text{кг} \cdot ^\circ\text{C}}$		

Температура плавления		Температура кипения	
свинца	327 °С	воды	100 °С
олова	232 °С	спирта	78 °С
льда	0 °С		

Удельное электрическое сопротивление, $\frac{\text{Ом} \cdot \text{мм}^2}{\text{м}}$ (при 20 °С)			
серебро	0,016	никелин	0,4
медь	0,017	нихром (сплав)	1,1
алюминий	0,028	фехраль	1,2
железо	0,10		

Нормальные условия: давление 10^5 Па, температура 0 °С



Ответом к заданиям 1, 2, 4, 11–14, 16, 18 и 19 является последовательность цифр. Последовательность цифр записывайте без пробелов, запятых и других дополнительных символов. Ответом к заданиям 3 и 15 является одна цифра, которая соответствует номеру правильного ответа. Ответом к заданиям 5–10 является число. Единицы измерения в ответе указывать не надо. Ответ запишите в поле ответа в тексте работы, а затем перенесите в БЛАНК ОТВЕТОВ № 1 справа от номера соответствующего задания, начиная с первой клеточки. Каждый символ пишите в отдельной клеточке в соответствии с приведёнными в бланке образцами. Ответы на задания 17, 20–25 запишите на БЛАНКЕ ОТВЕТОВ № 2.

1 Установите соответствие между физическими величинами и приборами, предназначенными для измерения этих величин. К каждой позиции первого столбца подберите соответствующую позицию из второго столбца и запишите в таблицу выбранные цифры под соответствующими буквами.

ФИЗИЧЕСКИЕ ВЕЛИЧИНЫ

- А) температура
- Б) сила
- В) атмосферное давление

ПРИБОРЫ

- 1) калориметр
- 2) барометр
- 3) термометр
- 4) спидометр
- 5) динамометр

Ответ:

А	Б	В

2 Установите соответствие между формулами для расчёта физических величин при равномерном движении тела по окружности и названиями этих величин. В формулах использованы обозначения: R – радиус окружности; T – период обращения.

К каждой позиции первого столбца подберите соответствующую позицию из второго столбца и запишите в таблицу выбранные цифры под соответствующими буквами.

ФОРМУЛЫ

- А) $\frac{2\pi R}{T}$
- Б) $\frac{1}{T}$

ФИЗИЧЕСКИЕ ВЕЛИЧИНЫ

- 1) центростремительное ускорение
- 2) линейная скорость
- 3) пройденный путь
- 4) частота обращения

Ответ:

А	Б

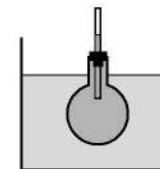
3 Собаки или кошки, промокшие под дождем, начинают встряхиваться, чтобы высушить шерсть. При этом с шерсти во все стороны летят капли воды. Какое явление наблюдается в этом случае?

- 1) испарение
- 2) электризация
- 3) инерция
- 4) конвекция

Ответ:

4 Прочитайте текст и вставьте на места пропусков слова (словосочетания) из приведённого списка.

В процессе нагревания колбы с жидкостью, помещённой в сосуд с горячей водой, наблюдали повышение уровня жидкости в трубке (см. рисунок).



В процессе нагревания жидкости в колбе наблюдается явление (А) _____, которое связано с увеличением (Б) _____ молекул. При этом масса жидкости (В) _____, а объём жидкости (Г) _____.

Список слов и словосочетаний:

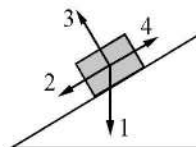
- 1) испарение
- 2) тепловое расширение
- 3) размер
- 4) скорость теплового движения
- 5) увеличивается
- 6) уменьшается
- 7) не изменяется

Запишите в таблицу выбранные цифры под соответствующими буквами.

Ответ:

А	Б	В	Г

- 5 В инерциальной системе отсчёта брусок из состояния покоя начинает скользить с ускорением вниз по наклонной плоскости (см. рисунок). Какому из векторов 1–4 сонаправлена равнодействующая сил, действующих на брусок?

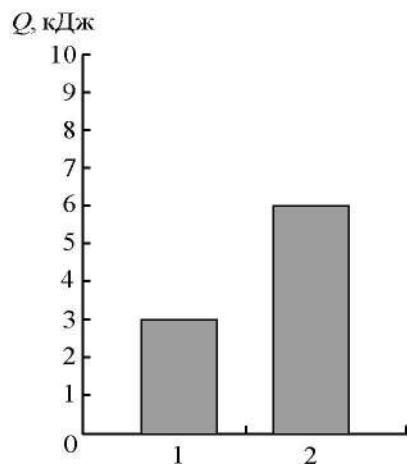


Ответ: _____.

- 6 Груз массой 2 кг упал из состояния покоя с высоты 4 м от пола на стол высотой 1 м, стоящий на полу. Чему равна работа силы тяжести при падении груза?

Ответ: _____ Дж.

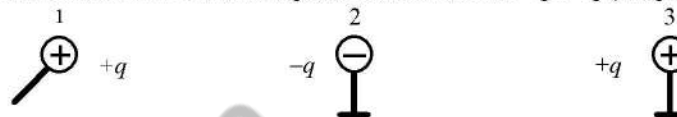
- 7 На диаграмме для образцов одинаковой массой из двух веществ приведены значения количества теплоты, необходимого для их перехода из жидкого состояния в газообразное при температуре кипения. Во сколько раз удельная теплота парообразования второго вещества больше удельной теплоты парообразования первого вещества?



Ответ: в _____ раз(а).



- 8 Металлический шарик 1, укрепленный на длинной изолирующей ручке и имеющий заряд $q = +1,6$ нКл, приводят поочередно в соприкосновение с двумя такими же шариками: 2 и 3, расположенными на изолирующих подставках и имеющими заряды соответственно $-q$ и $+q$ (см. рисунок).



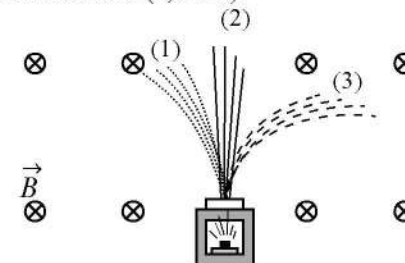
Какой заряд в результате останется на шарике 2?

Ответ: _____ нКл.

- 9 На какую длину волны нужно настроить радиоприёмник, чтобы услышать радиостанцию, которая вещает на частоте 500 кГц?

Ответ: _____ м.

- 10 Контейнер с радиоактивным веществом помещают в магнитное поле (см. рисунок), в результате чего пучок радиоактивного излучения распадается на три компоненты (1, 2 и 3).

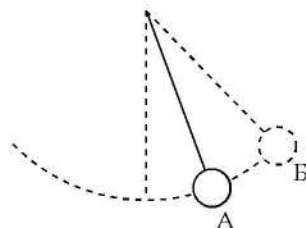


Какая из компонент соответствует α -излучению?

Ответ: _____.



- 11 Математический маятник совершает незатухающие гармонические колебания (см. рисунок). Как изменятся полная механическая энергия и потенциальная энергия маятника при переходе из точки А в точку В?



Для каждой величины определите соответствующий характер изменения:

- 1) увеличивается
- 2) уменьшается
- 3) не изменяется

Запишите в таблицу выбранные цифры для каждой физической величины. Цифры в ответе могут повторяться.

Полная механическая энергия маятника	Потенциальная энергия маятника

- 12 Красный луч света переходит из воздуха в воду. Как изменяются при этом скорость распространения светового луча и частота световой волны?

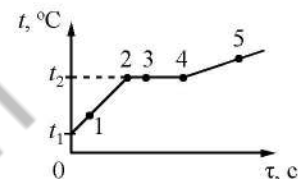
Для каждой величины определите соответствующий характер изменения:

- 1) увеличивается
- 2) уменьшается
- 3) не изменяется

Запишите в таблицу выбранные цифры для каждой физической величины. Цифры в ответе могут повторяться.

Скорость распространения света	Частота световой волны

- 13 На рисунке представлен график зависимости температуры t от времени τ , полученный при равномерном нагревании вещества нагревателем постоянной мощности. Первоначально вещество находилось в твёрдом состоянии.



Используя данные графика, выберите из предложенного перечня **два** верных утверждения. Укажите их номера.

- 1) Точка 2 на графике соответствует твёрдому состоянию вещества.
- 2) Внутренняя энергия вещества при переходе из состояния 3 в состояние 4 не изменяется.
- 3) Удельная теплоёмкость вещества в твёрдом состоянии больше удельной теплоёмкости этого вещества в жидком состоянии.
- 4) Испарение вещества происходит только в состоянии, соответствующем точке 5.
- 5) Температура t_2 равна температуре кристаллизации данного вещества.

Ответ:



14 В таблице указаны некоторые характеристики планет Солнечной системы.

Все параметры в таблице, кроме плотности, указаны в отношении к аналогичным данным Земли.


Планета	Диаметр, относительно Земли	Масса, относительно Земли	Орбитальный радиус, относительно Земли	Период обращения, земных лет	Сутки, относительно Земли	Плотность, $\frac{\text{кг}}{\text{м}^3}$	Спутники
Планеты земной группы							
Меркурий	0,382	0,06	0,38	0,241	58,6	5427	Нет
Венера	0,949	0,82	0,72	0,615	243	5243	Нет
Земля	1,0	1,0	1,0	1,0	1,0	5515	1
Марс	0,53	0,11	1,52	1,88	1,03	3933	2
Планеты-гиганты							
Юпитер	11,2	318	5,20	11,86	0,414	1326	67
Сатурн	9,41	95	9,54	29,46	0,426	687	62
Уран	3,98	14,6	19,22	84,01	0,718	1270	27
Нептун	3,81	17,2	30,06	164,79	0,671	1638	13

Используя данные таблицы, выберите из предложенного перечня *два* верных утверждения. Укажите их номера.

- 1) По мере удаления от Солнца масса планет увеличивается.
- 2) Время, проходимое планетой по её орбите, характеризует сутки на данной планете.
- 3) Для планет-гигантов характерно наличие большого количества спутников.
- 4) Самый маленький период обращения вокруг своей оси имеет Венера.
- 5) Плотность планет земной группы больше плотности планет-гигантов.

Ответ:

15 Запишите результат измерения электрического напряжения (см. рисунок), учитывая, что погрешность измерения равна цене деления вольтметра.

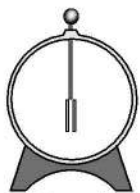


- 1) $(2,4 \pm 0,2)$ В
- 2) $(2,4 \pm 0,1)$ В
- 3) $(4,4 \pm 0,1)$ В
- 4) $(4,8 \pm 0,2)$ В

Ответ:



- 16 Учитель на уроке, используя палочку, кусок ткани и электроскоп, последовательно провёл опыты по электризации. Условия проведения опытов и показания электроскопа представлены на рисунке.



Опыт 1.

Палочку и ткань в исходном состоянии поочередно поднесли к электроскопу




Опыт 2.

Палочку потёрли о ткань, дотронулись палочкой до электроскопа и убрали её



Опыт 3.

Палочку вновь поднесли, не дотрагиваясь, к заряженному палочкой электроскопу



Опыт 4.

Ткань поднесли, не дотрагиваясь, к заряженному палочкой электроскопу

Выберите из предложенного перечня **два** утверждения, которые соответствуют результатам проведённых экспериментальных наблюдений. Укажите их номера.

- 1) Палочка и ткань электризуются при трении.
- 2) При трении палочка и ткань приобретают равные по величине заряды.
- 3) Электризация связана с перемещением электронов с одного тела на другое.
- 4) При трении палочка и ткань приобретают разные по знаку заряды.
- 5) Угол расхождения лепестков электроскопа зависит от степени наэлектризованности палочки.

Ответ:

--	--

Для ответа на задание 17 используйте БЛАНК ОТВЕТОВ № 2. Запишите сначала номер задания, а затем ответ к нему.

- 17 Используя источник тока, вольтметр, амперметр, ключ, реостат, соединительные провода, резистор, обозначенный R_3 , соберите экспериментальную установку для исследования зависимости силы электрического тока в резисторе от напряжения на его концах. Абсолютную погрешность измерения силы тока принять равной $\pm 0,02$ А, напряжения – $\pm 0,1$ В.

В бланке ответов:

- 1) нарисуйте электрическую схему эксперимента;
- 2) установив с помощью реостата поочередно силу тока в цепи, равную 0,1 А, 0,2 А и 0,3 А, и измерив в каждом случае значение электрического напряжения на концах резистора, укажите результаты измерения силы тока и напряжения с учётом абсолютной погрешности измерения для трёх случаев в виде таблицы (или графика);
- 3) сформулируйте вывод о зависимости силы электрического тока в резисторе от напряжения на его концах.

- 18 Установите соответствие между научными открытиями и именами учёных, которым эти открытия принадлежат. К каждой позиции первого столбца подберите соответствующую позицию из второго столбца.

НАУЧНЫЕ ОТКРЫТИЯ

УЧЁНЫЕ

- А) тепловое действие тока
Б) период колебаний пружинного маятника

- 1) Дж. Джоуль
2) Г.Х. Эрстед
3) Х. Гюйгенс
4) А. Беккерель

Ответ:

А	Б



Прочитайте текст и выполните задания 19 и 20.

Сейсмические волны

При землетрясении или крупном взрыве в коре и толще Земли возникают механические волны, которые называются сейсмическими. Эти волны распространяются в Земле и могут быть зарегистрированы при помощи специальных приборов – сейсмографов.

Действие сейсмографа основано на том принципе, что груз свободно подвешенного маятника при землетрясении остаётся практически неподвижным относительно Земли. На рисунке представлена схема сейсмографа. Маятник подвешен к стойке, прочно закреплённой в грунте, и соединён с пером, чертящим непрерывную линию на бумажной ленте равномерно вращающегося барабана. При колебаниях почвы стойка и барабан также приходят в колебательное движение, и на бумаге появляется график волнового движения.



Различают несколько типов сейсмических волн, из них для изучения внутреннего строения Земли наиболее важны продольная волна P и поперечная волна S . Продольная волна характеризуется тем, что колебания частиц среды происходят в направлении распространения волны; эти волны возникают и в твёрдых телах, и в жидкостях, и в газах. Поперечные механические волны не распространяются ни в жидкостях, ни в газах.

Скорость распространения продольной волны примерно в два раза превышает скорость распространения поперечной волны и составляет несколько километров в секунду. Когда волны P и S проходят через среду, плотность и состав которой изменяются, то скорости волн также меняются, что проявляется в преломлении волн. В более плотных слоях Земли скорость волн возрастает. Характер преломления сейсмических волн позволяет исследовать внутреннее строение Земли.

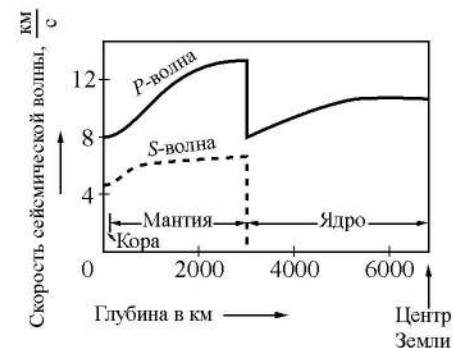
19 Выберите два верных утверждения, которые соответствуют содержанию текста. Запишите в ответ их номера.

- 1) При землетрясении груз маятника сейсмографа остаётся неподвижным относительно стойки сейсмографа.
- 2) Сейсмограф, установленный на некотором расстоянии от эпицентра землетрясения, сначала зафиксирует сейсмическую волну P , а затем волну S .
- 3) Сейсмическая волна P является механической продольной волной.
- 4) Сейсмические волны относятся к радиоволнам.
- 5) Сейсмические волны, независимо от их типа, распространяются с одинаковой скоростью в твёрдых телах, в жидкостях и в газах.

Ответ:

Для ответов на задания 20–25 используйте БЛАНК ОТВЕТОВ № 2. Запишите сначала номер задания (20, 21 и т.д.), а затем ответ на него. Полный ответ на задания 20, 21 и 22 должен содержать не только ответ на вопрос, но и его развёрнутое, логически связанное обоснование.

20 На рисунке представлены графики зависимости скоростей сейсмических волн от глубины погружения в недра Земли. График для какой из волн (P или S) указывает на то, что ядро Земли находится не в твёрдом состоянии? Ответ поясните.



21 Ведро с водой свободно падает дном вниз. В боковых стенках и дне ведра имеются отверстия. Будет ли выливаться вода через эти отверстия при падении ведра? Сопротивлением воздуха пренебречь. Ответ поясните.

- 22 Зимой на улице металл на ощупь холоднее дерева. Каким будет казаться на ощупь металл по сравнению с деревом на солнце в летнюю жару? Ответ поясните.

Для заданий 23–25 необходимо записать полное решение, включающее запись краткого условия задачи (Дано), запись формул, применение которых необходимо и достаточно для решения задачи, а также математические преобразования и расчёты, приводящие к числовому ответу.

- 23 Смешали две порции воды: 400 г при температуре $t_1 = 25$ °С и 100 г при $t_2 = 100$ °С. Определите температуру получившейся смеси. Теплообменом с окружающей средой пренебречь.

- 24 Медный шар, в котором имеется воздушная полость, опущен в керосин. Наружный объём шара $0,1$ м³. Найдите объём воздушной полости, если шар плавает на поверхности керосина, погрузившись в него на $0,89$ своего объёма.

- 25 Имеются два одинаковых электрических нагревателя. При параллельном соединении они нагревают 2 л воды на 80 °С за 7 мин. Чему равна мощность каждого нагревателя? Потерями энергии пренебречь.



Не забудьте перенести все ответы в бланки ответов № 1 и № 2 в соответствии с инструкцией по выполнению работы. Проверьте, чтобы каждый ответ был записан рядом с номером соответствующего задания.

Номер комплекта оборудования, используемого при
проведении экзамена по ФИЗИКЕ

№ КИМ	№ комплекта оборудования	№ места участника <i>(заполняется вручную)</i>
	3	

100balnik.ru.com