

Контрольная работа по ФИЗИКЕ
для обучающихся 9-х классов, осваивающих
образовательные программы основного общего образования

Вариант № 7

Инструкция по выполнению работы

На выполнение контрольной работы по физике отводится 3 часа (180 минут). Контрольная работа включает в себя 25 заданий.

Ответы к заданиям 1, 2, 4, 11–14, 16, 18 и 19 записываются в виде последовательности цифр. Ответом к заданиям 3 и 15 является одна цифра, которая соответствует номеру правильного ответа. Ответы к заданиям 5–10 записываются в виде целого числа или конечной десятичной дроби с учётом указанных в ответе единиц. Ответ запишите в поле ответа в тексте работы, а затем перенесите в бланк ответов № 1. Единицы измерения в ответе указывать не надо.

К заданиям 17, 20–25 следует дать развёрнутый ответ. Задания выполняются на бланке ответов № 2. Запишите сначала номер задания, а затем ответ на него. Ответы записывайте чётко и разборчиво. Задание 17 экспериментальное, и для его выполнения необходимо воспользоваться лабораторным оборудованием.

При вычислениях разрешается использовать линейку и непрограммируемый калькулятор.

Все бланки заполняются яркими чёрными чернилами. Допускается использование гелевой или капиллярной ручки.

При выполнении заданий можно пользоваться черновиком. **Записи в черновике, а также в тексте контрольной работы не учитываются при оценивании работы.**

Баллы, полученные Вами за выполненные задания, суммируются. Постарайтесь выполнить как можно больше заданий и набрать наибольшее количество баллов.

После завершения работы проверьте, чтобы ответ на каждое задание в бланках ответов № 1 и № 2 был записан под правильным номером.

Желаем успеха!

Ниже приведены справочные данные, которые могут понадобиться Вам при выполнении работы.

Десятичные приставки		
Наименование	Обозначение	Множитель
гига	Г	10^9
мега	М	10^6
кило	к	10^3
гекто	Г	10^2
санти	с	10^{-2}
милли	м	10^{-3}
микро	мк	10^{-6}
нано	н	10^{-9}

Константы	
ускорение свободного падения на Земле	$g = 10 \frac{\text{м}}{\text{с}^2}$
гравитационная постоянная	$G = 6,7 \cdot 10^{-11} \frac{\text{Н} \cdot \text{м}^2}{\text{кг}^2}$
скорость света в вакууме	$c = 3 \cdot 10^8 \frac{\text{м}}{\text{с}}$
элементарный электрический заряд	$e = 1,6 \cdot 10^{-19} \text{ Кл}$

Плотность			
бензин	$710 \frac{\text{кг}}{\text{м}^3}$	древесина (сосна)	$400 \frac{\text{кг}}{\text{м}^3}$
спирт	$800 \frac{\text{кг}}{\text{м}^3}$	парафин	$900 \frac{\text{кг}}{\text{м}^3}$
керосин	$800 \frac{\text{кг}}{\text{м}^3}$	лёд	$900 \frac{\text{кг}}{\text{м}^3}$
масло машинное	$900 \frac{\text{кг}}{\text{м}^3}$	алюминий	$2700 \frac{\text{кг}}{\text{м}^3}$
вода	$1000 \frac{\text{кг}}{\text{м}^3}$	мрамор	$2700 \frac{\text{кг}}{\text{м}^3}$
молоко цельное	$1030 \frac{\text{кг}}{\text{м}^3}$	цинк	$7100 \frac{\text{кг}}{\text{м}^3}$
вода морская	$1030 \frac{\text{кг}}{\text{м}^3}$	сталь, железо	$7800 \frac{\text{кг}}{\text{м}^3}$

глицерин	$1260 \frac{\text{кг}}{\text{м}^3}$	медь	$8900 \frac{\text{кг}}{\text{м}^3}$
ртуть	$13\,600 \frac{\text{кг}}{\text{м}^3}$	свинец	$11\,350 \frac{\text{кг}}{\text{м}^3}$

Удельная

теплоёмкость воды	$4200 \frac{\text{Дж}}{\text{кг} \cdot ^\circ\text{C}}$	теплота парообразования воды	$2,3 \cdot 10^6 \frac{\text{Дж}}{\text{кг}}$
теплоёмкость спирта	$2400 \frac{\text{Дж}}{\text{кг} \cdot ^\circ\text{C}}$	теплота парообразования спирта	$9,0 \cdot 10^5 \frac{\text{Дж}}{\text{кг}}$
теплоёмкость льда	$2100 \frac{\text{Дж}}{\text{кг} \cdot ^\circ\text{C}}$	теплота плавления свинца	$2,5 \cdot 10^4 \frac{\text{Дж}}{\text{кг}}$
теплоёмкость алюминия	$920 \frac{\text{Дж}}{\text{кг} \cdot ^\circ\text{C}}$	теплота плавления стали	$7,8 \cdot 10^4 \frac{\text{Дж}}{\text{кг}}$
теплоёмкость стали	$500 \frac{\text{Дж}}{\text{кг} \cdot ^\circ\text{C}}$	теплота плавления олова	$5,9 \cdot 10^4 \frac{\text{Дж}}{\text{кг}}$
теплоёмкость цинка	$400 \frac{\text{Дж}}{\text{кг} \cdot ^\circ\text{C}}$	теплота плавления льда	$3,3 \cdot 10^5 \frac{\text{Дж}}{\text{кг}}$
теплоёмкость меди	$400 \frac{\text{Дж}}{\text{кг} \cdot ^\circ\text{C}}$	теплота сгорания спирта	$2,9 \cdot 10^7 \frac{\text{Дж}}{\text{кг}}$
теплоёмкость олова	$230 \frac{\text{Дж}}{\text{кг} \cdot ^\circ\text{C}}$	теплота сгорания керосина	$4,6 \cdot 10^7 \frac{\text{Дж}}{\text{кг}}$
теплоёмкость свинца	$130 \frac{\text{Дж}}{\text{кг} \cdot ^\circ\text{C}}$	теплота сгорания бензина	$4,6 \cdot 10^7 \frac{\text{Дж}}{\text{кг}}$
теплоёмкость бронзы	$420 \frac{\text{Дж}}{\text{кг} \cdot ^\circ\text{C}}$		

Температура плавления		Температура кипения при нормальном атмосферном давлении	
свинца	327 °C	воды	100 °C
олова	232 °C	спирта	78 °C
льда	0 °C		

Удельное электрическое сопротивление, $\frac{\text{Ом} \cdot \text{мм}^2}{\text{м}}$ (при 20 °C)			
серебро	0,016	никелин	0,4
медь	0,017	нихром (сплав)	1,1
алюминий	0,028	фехраль	1,2
железо	0,10		

Нормальные условия: давление – 10^5 Па, температура – 0 °C

Ответом к заданиям 1, 2, 4, 11–14, 16, 18 и 19 является последовательность цифр. Последовательность цифр записывайте без пробелов, запятых и других дополнительных символов. Ответом к заданиям 3 и 15 является одна цифра, которая соответствует номеру правильного ответа. Ответом к заданиям 5–10 является число. Единицы измерения в ответе указывать не надо. Ответ запишите в поле ответа в тексте работы, а затем перенесите в БЛАНК ОТВЕТОВ № 1 справа от номера соответствующего задания, начиная с первой клеточки. Каждый символ пишите в отдельной клеточке в соответствии с приведёнными в бланке образцами. Ответы на задания 17, 20–25 запишите на БЛАНКЕ ОТВЕТОВ № 2.

1 Установите соответствие между физическими величинами и единицами этих величин в Международной системе единиц (СИ). К каждой позиции первого столбца подберите соответствующую позицию из второго столбца и запишите в таблицу выбранные цифры под соответствующими буквами.

ФИЗИЧЕСКИЕ ВЕЛИЧИНЫ

- А) электрическое напряжение
- Б) электрическое сопротивление
- В) электрический заряд

ЕДИНИЦЫ

- 1) ом (1 Ом)
- 2) кулон (1 Кл)
- 3) джоуль (1 Дж)
- 4) паскаль (1 Па)
- 5) вольт (1 В)

Ответ:

А	Б	В

2 Первоначально покоящееся тело начинает двигаться равноускоренно. Установите соответствие между формулами для расчёта физических величин и названиями этих величин. В формулах использованы обозначения: a – ускорение тела; t – время движения. К каждой позиции первого столбца подберите соответствующую позицию из второго столбца и запишите в таблицу выбранные цифры под соответствующими буквами.

ФОРМУЛЫ

- А) $\frac{at^2}{2}$
- Б) at

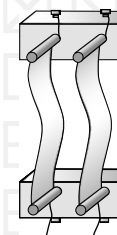
ФИЗИЧЕСКИЕ ВЕЛИЧИНЫ

- 1) равнодействующая сил, действующих на тело
- 2) средняя скорость
- 3) скорость тела в момент времени t
- 4) путь, пройденный телом за время t

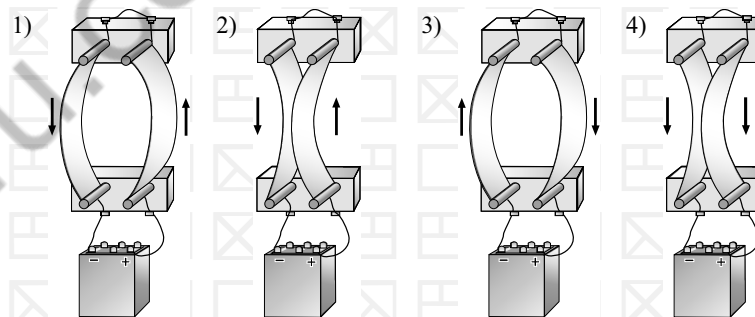
Ответ:

А	Б

3 Два параллельно расположенных проводника подключили последовательно к источнику тока.



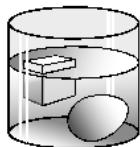
На каком рисунке верно изображены направление электрического тока и взаимодействие проводников?



Ответ:

4 Прочитайте текст и вставьте на места пропусков слова (словосочетания) из приведённого списка.

Сплошной кубик из льда и сырое яйцо опустили в жидкость (см. рисунок).



На кубик и яйцо со стороны жидкости действует (А) _____.
 Для кубика выталкивающая сила (Б) _____ силу тяжести,
 а плотность кубика (В) _____ плотности жидкости. Для яйца
 сила тяжести (Г) _____ выталкивающей силы.

Список слов и словосочетаний:

- 1) сила тяжести
- 2) архимедова сила
- 3) атмосферное давление
- 4) больше
- 5) меньше
- 6) уравнивает
- 7) превышает

Запишите в таблицу выбранные цифры под соответствующими буквами.

Ответ:

А	Б	В	Г

5 Радиус окружности, по которой движется тело, уменьшили в 2 раза, его линейную скорость тоже уменьшили в 2 раза. Во сколько раз уменьшилось центростремительное ускорение тела?

Ответ: в _____ раз(а).

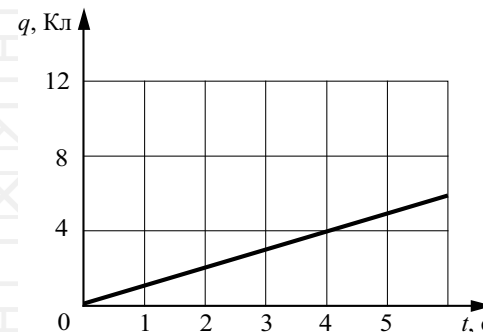
6 Мяч массой 200 г подбросили с поверхности Земли вертикально вверх. В результате мяч поднялся на высоту 3 м, а затем упал обратно на землю. Чему равна работа силы тяжести на всём пути мяча?

Ответ: _____ Дж.

7 КПД тепловой машины равен 25%. Какую работу совершила машина, если при сгорании топлива выделилось количество теплоты, равное 4 МДж?

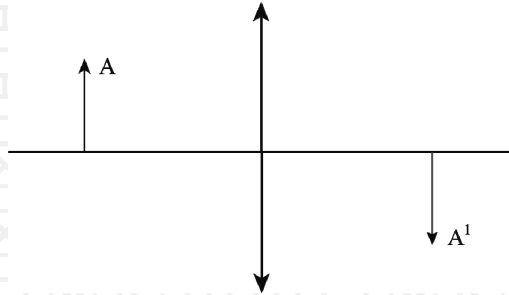
Ответ: _____ кДж.

8 По проводнику течёт постоянный электрический ток. На рисунке отображена зависимость величины заряда q , проходящего через проводник, от времени t . Чему равна сила электрического тока в проводнике?



Ответ: _____ А.

- 9 В собирающей линзе оптической силой 5 дптр изображение A^1 предмета A действительное и равно по высоте предмету (см. рисунок). На каком расстоянии от линзы находится предмет A ?

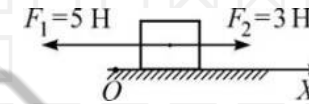


Ответ: _____ м.

- 10 Сколько электронов содержит нейтральный атом изотопа титана ${}^{50}_{22}\text{Ti}$?

Ответ: _____.

- 11 На покоящееся тело, находящееся на гладкой горизонтальной плоскости, начинают действовать две горизонтальные силы, лежащие на одной прямой (см. рисунок). Определите, как изменяются со временем модуль ускорения тела и модуль скорости тела.



Для каждой величины определите соответствующий характер изменения:

- 1) увеличивается
- 2) уменьшается
- 3) не изменяется

Запишите в таблицу выбранные цифры для каждой физической величины. Цифры в ответе могут повторяться.

Модуль ускорения тела	Модуль скорости тела

12 В процессе трения о шерстяную ткань эбонитовая палочка приобрела отрицательный заряд. Как при этом изменилось количество заряженных частиц на палочке и шерсти при условии, что обмен атомами при трении не происходил?

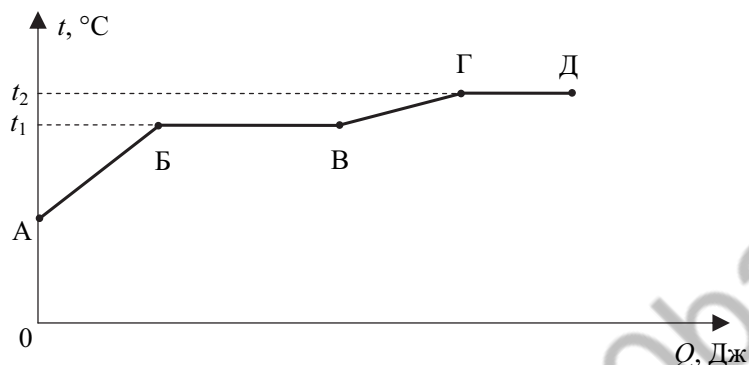
Для каждой величины определите соответствующий характер изменения:

- 1) увеличилась
- 2) уменьшилась
- 3) не изменилась

Запишите в таблицу выбранные цифры для каждой физической величины. Цифры в ответе могут повторяться.

Количество протонов в материале палочки	Количество электронов на шерсти

13 На рисунке представлен график зависимости температуры некоторого вещества от полученного количества теплоты. Первоначально вещество находилось в твёрдом состоянии.



Используя данные графика, выберите из предложенного перечня **два** верных утверждения. Укажите их номера.

- 1) Удельная теплоёмкость вещества в твёрдом состоянии меньше удельной теплоёмкости вещества в жидком состоянии.
- 2) Температура плавления вещества равна t_1 .
- 3) Точка Б соответствует состоянию, при котором вещество находится в жидком состоянии.
- 4) В процессе перехода из состояния Б в состояние В внутренняя энергия вещества не изменяется.
- 5) Участок графика ВГ соответствует процессу кипения вещества.

Ответ:

14 На рисунке представлен фрагмент Периодической системы химических элементов Д.И. Менделеева.

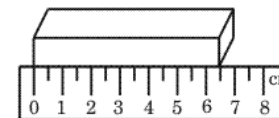
79 Au Золото 197	80 Hg Ртуть 200,61	81 Tl Таллий 204,37	82 Pb Свинец 207,19	83 Bi Висмут 209	84 Po Полоний [210]	85 At Астат [210]	86 Rn Радон [222]
------------------------	--------------------------	---------------------------	---------------------------	------------------------	---------------------------	-------------------------	-------------------------

Используя таблицу, из предложенного перечня выберите **два** верных утверждения. Укажите их номера.

- 1) В результате бета-распада ядра висмута образуется ядро свинца.
- 2) В результате альфа-распада ядра полония образуется ядро висмута.
- 3) Ядро ртути-200 содержит 120 нейтронов.
- 4) Нейтральный атом свинца содержит 207 электронов.
- 5) При захвате ядром золота нейтрона зарядовое число ядра не изменится.

Ответ:

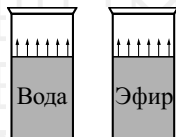
15 Длину бруска измеряют с помощью линейки (см. рисунок). Запишите результат измерения, учитывая, что погрешность измерения равна половине цены деления шкалы линейки.



- 1) 6,5 см
- 2) $(6,5 \pm 0,5)$ см
- 3) $(6,0 \pm 0,5)$ см
- 4) $(6,50 \pm 0,25)$ см

Ответ:

- 16** В два одинаковых цилиндрических сосуда налили равное количество воды и эфира, находящихся при комнатной температуре (см. рисунок). В результате наблюдений было отмечено, что эфир испарился в несколько раз быстрее, чем вода.



Выберите из предложенного перечня *два* утверждения, которые соответствуют результатам проведённых экспериментальных наблюдений. Укажите их номера.

- 1) Процесс испарения воды можно наблюдать при комнатной температуре.
- 2) Скорость испарения жидкости увеличивается с увеличением её температуры.
- 3) Скорость испарения жидкости зависит от площади её поверхности.
- 4) Скорость испарения жидкости зависит от рода жидкости.
- 5) При наличии ветра испарение воды происходит быстрее.

Ответ:

--	--

Для ответа на задание 17 используйте БЛАНК ОТВЕТОВ № 2. Запишите сначала номер задания, а затем ответ к нему.

- 17** Используя источник тока, вольтметр, амперметр, ключ, реостат, соединительные провода и резистор, обозначенный R_2 , соберите экспериментальную установку для определения мощности, выделяемой на резисторе R_2 при силе тока $0,7$ А. Абсолютная погрешность измерения силы тока равна $\pm 0,1$ А, абсолютная погрешность измерения напряжения равна $\pm 0,2$ В.

В бланке ответов № 2:

- 1) нарисуйте электрическую схему эксперимента;
- 2) запишите формулу для расчёта мощности электрического тока;
- 3) укажите результаты измерения напряжения и силы тока с учётом абсолютных погрешностей измерений;
- 4) запишите значение мощности электрического тока.

- 18** Установите соответствие между техническими устройствами и физическими явлениями, лежащими в основе их работы. К каждой позиции первого столбца подберите соответствующую позицию из второго столбца и запишите в таблицу выбранные цифры под соответствующими буквами.

ТЕХНИЧЕСКИЕ УСТРОЙСТВА	ФИЗИЧЕСКИЕ ЯВЛЕНИЯ
А) проекционный аппарат Б) электрическая плита	1) тепловое действие электрического тока 2) магнитное действие электрического тока 3) отражение света 4) преломление света

Ответ:

А	Б

Прочитайте текст и выполните задания 19 и 20.

Молния и гром

Атмосферное электричество образуется и концентрируется в облаках – образованиях из мелких частиц воды, находящейся в жидком или твёрдом состоянии. При дроблении водяных капель и кристаллов льда, при столкновениях их с ионами атмосферного воздуха крупные капли и кристаллы приобретают избыточный отрицательный заряд, а мелкие – положительный. Восходящие потоки воздуха в грозовом облаке поднимают мелкие капли и кристаллы к вершине облака, крупные капли и кристаллы опускаются к его основанию.

Заряженные облака наводят на земной поверхности под собой противоположный по знаку заряд. Внутри облака и между облаком и Землёй создаётся сильное электрическое поле, которое способствует ионизации воздуха и возникновению искровых разрядов (молний) как внутри облака, так и между облаком и поверхностью Земли.

Гром возникает вследствие резкого расширения воздуха при быстром повышении температуры в канале разряда молнии.

Вспышку молнии мы видим практически одновременно с разрядом, так как скорость распространения света очень велика ($3 \cdot 10^8 \frac{\text{м}}{\text{с}}$). Разряд молнии длится всего 0,1–0,2 с.

Звук распространяется значительно медленнее. В воздухе его скорость равна примерно $330 \frac{\text{м}}{\text{с}}$. Чем дальше от нас произошёл разряд молнии, тем длиннее пауза между вспышкой света и громом. Гром от очень далёких молний вообще не доходит: звуковая энергия рассеивается и поглощается по пути. Такие молнии называют зарницами. Как правило, гром слышен на расстоянии до 15–20 км; таким образом, если наблюдатель видит молнию, но не слышит грома, то гроза находится на расстоянии более 20 км.

Гром, сопровождающий молнию, может длиться в течение нескольких секунд. Существует две причины, объясняющие, почему вслед за короткой молнией слышатся более или менее долгие раскаты грома. Во-первых, молния имеет очень большую длину (она измеряется километрами), поэтому звук от разных её участков доходит до наблюдателя в разные моменты времени. Во-вторых, происходит отражение звука от облаков и туч – возникает эхо. Отражением звука от облаков объясняется происходящее иногда усиление громкости звука в конце грозовых раскатов.

19

Выберите два верных утверждения, которые соответствуют содержанию текста. Запишите в ответ их номера.

- 1) Громкость звука всегда ослабевает в конце грозовых раскатов.
- 2) Воспринимаемый человеком интервал времени между молнией и сопровождающим её грозовым раскатом никогда не бывает более 1 мин.
- 3) Для того чтобы оценить, приближается к нам гроза или нет, необходимо измерить время между двумя вспышками молнии.
- 4) Гром объясняется резким перепадом давления воздуха при быстром повышении температуры в канале разряда молнии.
- 5) Молнии приводят к резкому возрастанию заряда, наведенного на поверхности земли.

Ответ:

Для ответов на задания 20–25 используйте БЛАНК ОТВЕТОВ № 2. Запишите сначала номер задания (20, 21 и т.д.), а затем ответ на него. Полный ответ на задания 20, 21 и 22 должен содержать не только ответ на вопрос, но и его развёрнутое, логически связанное обоснование.

- 20 Молнии могут проходить в самих облаках – внутриоблачные молнии, а могут ударять в землю – наземные молнии. В случае механизма электризации, описанного в тексте, как направлен (сверху вниз или снизу вверх) электрический ток разряда наземной молнии? Ответ поясните.
- 21 На столе лежит стопка книг. Что легче: вытянуть нижнюю книгу, придерживая (но не поднимая) остальные, или привести в движение всю стопку, потянув за нижнюю книгу? Ответ поясните.
- 22 Может ли в безоблачную погоду возникнуть эхо в степи? Ответ поясните.

Для заданий 23–25 необходимо записать полное решение, включающее запись краткого условия задачи (Дано), запись формул, применение которых необходимо и достаточно для решения задачи, а также математические преобразования и расчёты, приводящие к числовому ответу.

- 23 Брусок массой 100 г покоится на горизонтальной поверхности. Какую силу, направленную горизонтально, нужно приложить к бруску, чтобы он мог двигаться с ускорением $2 \frac{M}{c}$? Коэффициент трения между бруском и поверхностью равен 0,1.
- 24 Металлический шар упал с высоты $h = 26$ м на свинцовую пластину массой $m_2 = 1$ кг и остановился. При этом пластина нагрелась на $3,2$ °С. Чему равна масса шара, если на нагревание пластины пошло 80% выделившегося при ударе количества теплоты? Начальная скорость шара равна нулю. Сопротивлением воздуха пренебречь.
- 25 Три лампы мощностью $P_1 = 50$ Вт, $P_2 = 50$ Вт, $P_3 = 25$ Вт, рассчитанные на напряжение 110 В, соединены последовательно и подключены к источнику напряжением 220 В. Определите мощность, выделяющуюся на третьей лампе.



Не забудьте перенести все ответы в бланки ответов № 1 и № 2 в соответствии с инструкцией по выполнению работы. Проверьте, чтобы каждый ответ был записан рядом с номером соответствующего задания.