

**Проверочная работа
по ХИМИИ**

8 класс

Вариант 1

Инструкция по выполнению работы

Проверочная работа включает в себя девять заданий. На её выполнение отводится 90 минут.

При выполнении работы разрешается использовать следующие дополнительные материалы:

- Периодическая система химических элементов Д.И. Менделеева;
- таблица растворимости кислот, солей и оснований в воде;
- ряд активности металлов / электрохимический ряд напряжений;
- непрограммируемый калькулятор.

Оформляйте ответы в тексте работы в соответствии с инструкциями, приведёнными к каждому заданию. В случае записи неверного ответа зачеркните его и запишите рядом новый.

При выполнении заданий Вы можете использовать черновик. Записи в черновике проверяться и оцениваться не будут.

Советуем выполнять задания в том порядке, в котором они даны. Для экономии времени пропускайте задание, которое не удаётся выполнить сразу, и переходите к следующему. Если после выполнения всей работы у Вас останется время, Вы сможете вернуться к пропущенным заданиям.

Баллы, полученные Вами за выполненные задания, суммируются. Постарайтесь выполнить как можно больше заданий и набрать наибольшее количество баллов.

Желаем успеха!

Таблица для внесения баллов участника

Номер задания	1.1	1.2	2.1	2.2	3.1	3.2	4.1	4.2	4.3	4.4	5.1	5.2	6.1	6.2	6.3	6.4	6.5
Баллы																	
Номер задания	7.1	7.2	7.3 (1)	7.3 (2)	8	9	Сумма баллов	Отметка за работу									
Баллы																	

Периодическая система химических элементов Д.И. Менделеева

		Г р у п п ы										
		I	II	III	IV	V	VI	VII	VIII			
		(H)										
1	Н 1,008 Водород											He 4,00 Гелий
	2	Li 6,94 Литий	4	5	6	7	8	9				Ne 20,18 Неон
3	Na 22,99 Натрий	11	12	13	14	15	16	17				Ar 39,95 Аргон
	4	K 39,10 Калий	19	20	21	22	23	24	25	26	27	28
5	Cu 63,55 Медь	29	30	31	32	33	34	35				Kr 83,80 Криптон
	Rb 85,47 Рубидий	37	38	39	40	41	42	43	44	45	46	
6	Ag 107,87 Серебро	47	48	49	50	51	52	53				Xe 131,29 Ксенон
	Cs 132,91 Цезий	55	56	57	72	73	74	75	76	77	78	
7	Au 196,97 Золото	79	80	81	82	83	84	85				Rn [222] Радон
	Fr [223] Франций	87	88	89	104	105	106	107	108	109	110	
8	Rg [280] Рентгений	111	112	113	114	115	116	117				Og [294] Оганесон
	Ra 226 Радий	88	89	90	104	105	106	107	108	109	110	

* Лантаноиды

58	Pr 141 Празеодим	60	61	62	63	64	65	66	67	68	69	70	71
Ce 140 Церий	Nd 144 Неодим	Pm [145] Прометий	Sm 150 Самарий	Eu 152 Европий	Gd 157 Гадолиний	Tb 159 Тербий	Dy 162,5 Диспрозий	Ho 165 Гольмий	Er 167 Эрбий	Tm 169 Тулий	Yb 173 Иттербий	Lu 175 Лютеций	

** АКТИНОИДЫ

90	Th 232 Торий	91	92	93	94	95	96	97	98	99	100	101	102	103
Pa 231 Протактиний	U 238 Уран	Np 237 Нептуний	Pu [244] Плутоний	Am [243] Америций	Cm [247] Кюрий	Bk [247] Берклий	Cf [251] Калифорний	Es [252] Эйнштейний	Fm [257] Фермий	Md [258] Менделеевий	No [259] Нобелий	Lr [262] Лоуренсий		

РЯД АКТИВНОСТИ МЕТАЛЛОВ / ЭЛЕКТРОХИМИЧЕСКИЙ РЯД НАПРЯЖЕНИЙ

Li Rb K Ba Sr Ca Na Mg Al Mn Zn Cr Fe Cd Co Ni Sn Pb (H) Sb Bi Cu Hg Ag Pt Au



активность металлов уменьшается

РАСТВОРИМОСТЬ КИСЛОТ, СОЛЕЙ И ОСНОВАНИЙ В ВОДЕ

	H ⁺	Li ⁺	K ⁺	Na ⁺	NH ₄ ⁺	Ba ²⁺	Ca ²⁺	Mg ²⁺	Sr ²⁺	Al ³⁺	Cr ³⁺	Fe ²⁺	Fe ³⁺	Ni ²⁺	Co ²⁺	Mn ²⁺	Zn ²⁺	Ag ⁺	Hg ²⁺	Pb ²⁺	Sn ²⁺	Cu ²⁺	
OH ⁻		Р	Р	Р	Р	Р	М	Н	М	Н	Н	Н	Н	Н	Н	Н	Н	Н	-	-	Н	Н	Н
F ⁻	Р	М	Р	Р	Р	М	Н	Н	Н	М	Н	Н	Н	Р	Р	Р	Р	Р	Р	-	Н	Р	Р
Cl ⁻	Р	Р	Р	Р	Р	Р	Р	Р	Р	Р	Р	Р	Р	Р	Р	Р	Р	Р	Н	Р	М	Р	Р
Br ⁻	Р	Р	Р	Р	Р	Р	Р	Р	Р	Р	Р	Р	Р	Р	Р	Р	Р	Р	Н	М	М	Р	Р
I ⁻	Р	Р	Р	Р	Р	Р	Р	Р	Р	Р	?	Р	?	Р	Р	Р	Р	Р	Н	Н	Н	М	?
S ²⁻	Р	Р	Р	Р	Р	-	-	-	Н	-	-	Н	-	Н	Н	Н	Н	Н	Н	Н	Н	Н	Н
HS ⁻	Р	Р	Р	Р	Р	Р	Р	Р	Р	?	?	?	?	?	?	?	?	?	?	?	?	?	?
SO ₃ ²⁻	Р	Р	Р	Р	Р	Н	Н	М	Н	?	-	Н	?	Н	Н	?	М	Н	Н	Н	Н	?	?
HSO ₃ ⁻	Р	?	Р	Р	Р	Р	Р	Р	Р	?	?	?	?	?	?	?	?	?	?	?	?	?	?
SO ₄ ²⁻	Р	Р	Р	Р	Р	Н	М	Р	Н	Р	Р	Р	Р	Р	Р	Р	Р	М	-	-	Н	Р	Р
HSO ₄ ⁻	Р	Р	Р	Р	Р	?	?	?	-	?	?	?	?	?	?	?	?	?	?	?	?	?	?
NO ₃ ⁻	Р	Р	Р	Р	Р	Р	Р	Р	Р	Р	Р	Р	Р	Р	Р	Р	Р	Р	Р	Р	Р	-	Р
NO ₂ ⁻	Р	Р	Р	Р	Р	Р	Р	Р	Р	?	?	?	?	?	?	?	?	?	М	?	?	?	?
PO ₄ ³⁻	Р	Н	Р	Р	-	Н	Н	Н	Н	Н	Н	Н	Н	Н	Н	Н	Н	Н	Н	Н	Н	Н	Н
HPO ₄ ²⁻	Р	?	Р	Р	Р	Н	Н	М	Н	?	?	Н	?	?	?	?	?	?	?	?	М	Н	?
H ₂ PO ₄ ⁻	Р	Р	Р	Р	Р	Р	Р	Р	Р	?	?	Р	?	?	?	?	Р	Р	Р	?	-	?	?
CO ₃ ²⁻	Р	Р	Р	Р	Р	Н	Н	Н	Н	?	?	Н	-	Н	Н	Н	Н	Н	Н	Н	Н	?	Н
HCO ₃ ⁻	Р	Р	Р	Р	Р	Р	Р	Р	Р	?	?	Р	?	?	?	?	?	?	?	?	?	?	?
CH ₃ COO ⁻	Р	Р	Р	Р	Р	Р	Р	Р	Р	-	Р	Р	-	Р	Р	Р	Р	Р	Р	Р	Р	-	Р
SiO ₃ ²⁻	Н	Н	Р	Р	?	Н	Н	Н	Н	?	?	Н	?	?	?	?	Н	Н	?	?	Н	?	?

“Р” – растворяется (> 1 г на 100 г H₂O)

“М” – мало растворяется (от 0,1 г до 1 г на 100 г H₂O)

“Н” – не растворяется (меньше 0,01 г на 1000 г воды)

“-” – в водной среде разлагается

“?” – нет достоверных сведений о существовании соединений

1

Предметом изучения химии являются вещества.

1.1. Внимательно рассмотрите предложенные рисунки. Укажите номер рисунка, на котором изображён объект, содержащий индивидуальное химическое вещество.

СТАЛЬ



Рис. 1



Рис. 2



Рис. 3

Индивидуальное химическое вещество содержится в объекте, изображённом на рисунке:

1.2. Какие вещества содержатся в объектах, изображённых на остальных рисунках? Приведите по ОДНОМУ примеру.

Для каждого вещества укажите его химическое название и формулу.

Рис. 1: _____ (название) _____ (формула).

Рис. 2: _____ (название) _____ (формула).

Рис. 3: _____ (название) _____ (формула).

2 Превращение одних веществ в другие называется химической реакцией.

2.1. Из представленных ниже рисунков выберите тот, на котором изображено протекание химической реакции.

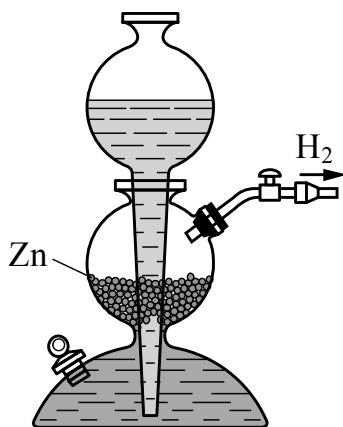


Рис. 1



Рис. 2

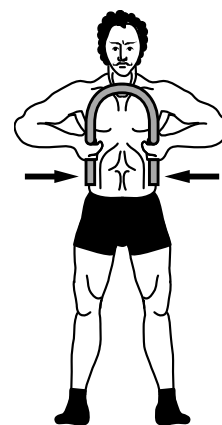


Рис. 3

Протекание химической реакции изображено на рисунке:

Объясните сделанный Вами выбор: _____

2.2. Укажите один ЛЮБОЙ признак протекания этой химической реакции:

3 В таблице приведены названия и химические формулы некоторых газообразных веществ.

№	Название вещества	Формула	Молярная масса, г/моль
1	Аммиак	NH_3	
2	Угарный газ	CO	
3	Углекислый газ	CO_2	

3.1. Используя предложенные Вам справочные материалы, вычислите молярные массы каждого из газов и запишите полученные данные в таблицу.

3.2. Какой из приведённых в таблице газов имеет при заданных условиях такую же плотность, как и азот N_2 , молярная масса которого равна 28 г/моль? Укажите номер вещества.

Ответ:

Объясните свой выбор: _____

4

Даны два химических элемента: **А** и **Б**. Известно, что в атоме элемента **А** содержится 12 протонов, а в атоме элемента **Б** – 17 электронов.

4.1. Используя Периодическую систему химических элементов Д.И. Менделеева, определите химические элементы **А** и **Б**.

4.2. Укажите номер периода и номер группы в Периодической системе химических элементов Д.И. Менделеева, в которых расположен каждый элемент.

4.3. Установите, металлом или неметаллом являются простые вещества, образованные этими химическими элементами.

4.4. Составьте формулы высших оксидов, которые образуют элементы **А** и **Б**.

Ответы запишите в таблицу.

Элемент	Название химического элемента	Номер		Металл или неметалл	Формула высшего оксида
		периода	группы		
А					
Б					

5

Учащийся Иван сделал один глоток (20 г) сливового сока.

5.1. Используя данные приведённой ниже таблицы, определите, какую массу углеводов получил при этом организм юноши. Ответ подтвердите расчётом.

Содержание углеводов в некоторых соках

Сок	Лимонный	Яблочный	Апельсиновый	Гранатовый	Сливовый
Массовая доля углеводов, %	2,5	9,1	12,8	14,5	16,1

Решение: _____

Ответ: _____

5.2. Какую долю суточной физиологической нормы (400 г) составляет потреблённое Иваном количество углеводов? Ответ подтвердите расчётом.

Решение: _____

Ответ: _____

6

Имеется следующий перечень химических веществ: иод, хлор, вода, гидроксид кальция, фосфорная кислота, иодид натрия, хлорид натрия, фосфат кальция. Используя этот перечень, выполните задания 6.1–6.5.

6.1. Напишите химические формулы каждого из указанных веществ.

Иод – _____. Хлор – _____. Вода – _____. Хлорид натрия – _____.

Гидроксид кальция – _____. Фосфорная кислота – _____.

Иодид натрия – _____. Фосфат кальция – _____.

6.2. Какое из веществ, упоминаемых в перечне, соответствует следующему описанию: «Чёрно-серые кристаллы с металлическим блеском; при нагревании образуют фиолетовые пары с резким запахом»?

Ответ: _____

6.3. Из приведённого перечня веществ выберите ЛЮБОЕ соединение, содержащее атомы кислорода (кроме воды). Запишите его химическую формулу и укажите, к какому классу веществ оно относится.

Соединение – _____. Класс веществ – _____.

6.4. Из приведённого перечня веществ выберите ЛЮБОЕ соединение, состоящее из атомов ТРЁХ элементов. Вычислите массовую долю кислорода в этом соединении.

Вещество – _____.

Решение: _____

Ответ: _____

6.5. Вычислите массу 0,25 моль фосфата кальция.

Решение: _____

Ответ: _____

7

Ниже даны описания двух химических превращений с участием веществ, перечень которых был приведён в задании 6:

(1) гидроксид кальция + фосфорная кислота \rightarrow фосфат кальция + вода;

(2) хлор + иодид натрия \rightarrow хлорид натрия + иод.

7.1. Составьте уравнения указанных реакций, используя химические формулы веществ из п. 6.1.

(1) _____

(2) _____

7.2. В зависимости от числа и состава веществ, вступающих в химическую реакцию и образующихся в результате неё, различают реакции соединения, разложения, замещения и обмена. Выберите любую реакцию (1) или (2) и укажите её тип.

Реакция:

Тип – _____.

Объясните свой ответ: _____

7.3. Из приборов, изображённых на рисунках, выберите тот, с помощью которого можно выделить фосфат кальция из его смеси с водой.

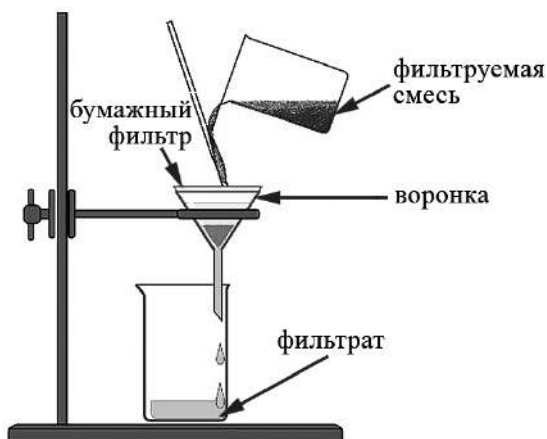


Рис. 1



Рис. 2

Выделить фосфат кальция из его смеси с водой можно с помощью прибора, изображённого на рисунке:

Какой метод разделения веществ при этом используется?

Ответ: метод _____.

Почему прибор, изображённый на другом рисунке, не может быть использован для выделения фосфата кальция?

Объяснение: _____

8

Установите соответствие между названием химического вещества и областью его применения. К каждому элементу первого столбца подберите соответствующий элемент из второго столбца.

НАЗВАНИЕ ВЕЩЕСТВА

- А) гидроксид лития
 Б) углекислый газ
 В) водород
 Г) карбонат кальция

ОБЛАСТЬ ПРИМЕНЕНИЯ

- 1) основной компонент школьного мела
 2) жидкость для полива растений
 3) электролит в щелочных аккумуляторах
 4) в производстве газированных напитков
 5) компонент ракетного топлива

Запишите в таблицу выбранные цифры под соответствующими буквами.

Ответ:

А	Б	В	Г

9

Из приведённого списка выберите верные суждения о правилах поведения в химической лаборатории и обращения с химическими веществами в быту. В ответе запишите цифры, под которыми они указаны. (В задании может быть несколько верных суждений.)

- Полиэтиленовые пакеты легко разрушаются под действием атмосферных явлений и поэтому не представляют угрозы для окружающей среды.
- Попадание на кожу препаратов бытовой химии, содержащих щёлочь, приводит к появлению ожогов, поэтому с ними надо работать в резиновых перчатках.
- В химической лаборатории наличие кислоты в анализируемом растворе можно определять на вкус.
- Тонкостенная фарфоровая чашка может быть использована для выпаривания растворов.

Ответ: _____.

Система оценивания проверочной работы по химии

Правильный ответ на каждое из заданий 1.1, 6.2, 6.3 оценивается 1 баллом.

Полный правильный ответ на каждое из заданий 8 и 9 оценивается 2 баллами. Если в ответе допущена одна ошибка (в том числе написана лишняя цифра, или не написана одна необходимая цифра), выставляется 1 балл; если допущено две или более ошибки – 0 баллов.

Полный правильный ответ на задание 3.1 оценивается 3 баллами. Если в ответе допущена одна ошибка (неправильно заполнена одна клетка таблицы), выставляется 2 балла; если допущено две ошибки (неправильно заполнены две клетки таблицы), выставляется 1 балл, если все клетки таблицы заполнены неправильно – 0 баллов.

№ задания	Ответ
8	3451
9	24

1

1.1	3
-----	---

1.2

Содержание верного ответа и указания по оцениванию (допускаются иные формулировки ответа, не искажающие его смысла)	Баллы
В правильном ответе для рис. 1 и 2 должны быть приведены <u>примеры веществ с указанием их названий и формул</u> , например: для рис. 1: железо Fe; для рис. 2: вода H ₂ O. Для рис. 3 должны быть указаны название и формула индивидуального химического вещества: хлорид натрия NaCl. Для рис. 1 и 2 могут быть приведены другие примеры веществ и соответствующие им формулы. <i>При оценивании в качестве правильного ответа принимается только название вещества с соответствующей формулой; указание только названия или только формулы вещества не засчитывается в качестве правильного ответа</i>	
Правильно указаны названия и формулы веществ для трёх рисунков	3
Правильно указаны названия и формулы веществ для любых двух рисунков	2
Правильно указаны название и формула вещества только для одного любого рисунка	1
Ответ неправильный	0
<i>Максимальный балл</i>	3

2

2.1

Содержание верного ответа и указания по оцениванию (допускаются иные формулировки ответа, не искажающие его смысла)	Баллы
Правильный ответ должен содержать следующие <u>элементы</u> : 1) <u>указание рисунка</u> : 1; 2) <u>объяснение выбора</u> , например: потому что при растворении цинка в кислоте в аппарате Киппа образуются новые химические вещества. (Может быть дано иное объяснение выбора рисунка.)	
Правильно указан рисунок и дано объяснение	1
Правильно указан только рисунок. ИЛИ Рисунок не указан / указан неправильно независимо от наличия объяснений. ИЛИ Ответ неправильный	0
<i>Максимальный балл</i>	<i>1</i>

2.2

Содержание верного ответа и указания по оцениванию (допускаются иные формулировки ответа, не искажающие его смысла)	Баллы
В правильном ответе должен быть указан <u>признак</u> протекания химической реакции из п. 2.1, например: выделение газа. Может быть указан иной признак	
Признак протекания химической реакции из п. 2.1 указан правильно	1
Ответ неправильный ИЛИ отсутствует	0
<i>Максимальный балл</i>	<i>1</i>

3

3.1	$M(\text{NH}_3) = 17 \text{ г/моль}; M(\text{CO}) = 28 \text{ г/моль}; M(\text{CO}_2) = 44 \text{ г/моль}$
-----	--

3.2

Содержание верного ответа и указания по оцениванию (допускаются иные формулировки ответа, не искажающие его смысла)	Баллы
Правильный ответ должен содержать следующие <u>элементы</u> : 1) <u>указание газа</u> : угарный газ (2); 2) <u>объяснение выбора</u> , например: угарный газ имеет такую же плотность, как и азот, потому что их молярные массы равны: $M(\text{CO}) = M(\text{N}_2) = 28 \text{ г/моль}$. (Объяснение может быть сформулировано иначе.)	
Правильно указан газ и дано объяснение	2
Правильно указан газ	1
Газ не указан / указан неправильно независимо от наличия объяснения. ИЛИ Ответ неправильный	0
<i>Максимальный балл</i>	<i>2</i>

4

Содержание верного ответа и указания по оцениванию (допускаются иные формулировки ответа, не искажающие его смысла)					Баллы
Правильный ответ должен содержать заполненную <u>таблицу</u> :					
Элемент	Название химического элемента	Номер		Металл или неметалл	Формула высшего оксида
		периода	группы		
А	Магний	3	II	Металл	MgO
Б	Хлор	3	VII	Неметалл	Cl ₂ O ₇
Определение химических элементов					2
Правильно записаны названия элементов А и Б					2
Правильно записано название только одного элемента					1
Ответ неправильный					0
Определение номера периода и номера группы в Периодической системе					2
Правильно указаны номер периода и номер группы для двух элементов					2
Правильно указаны номер периода и номер группы для одного любого элемента					1
Ответ неправильный					0
Указание, металлом или неметаллом являются простые вещества					1
Правильно указано, металлом или неметаллом являются простые вещества, образованные химическими элементами А и Б					1
Дано верное указание только для одного элемента. ИЛИ Ответ неправильный					0
Запись формул высших оксидов					2
Правильно записаны формулы высших оксидов, которые образуют оба элемента					2
Правильно записана формула высшего оксида, который образует один из элементов					1
Ответ неправильный					0
<i>Максимальный балл</i>					7

5

5.1

Содержание верного ответа и указания по оцениванию (допускаются иные формулировки ответа, не искажающие его смысла)	Баллы
Должен быть приведён расчёт и дан правильный ответ: $m(\text{углеводов}) = 20 \text{ г} \times 0,161 = 3,22 \text{ г}$	
Дан расчёт, обоснованно приведший к правильному ответу	1
Расчёт не привёл к правильному ответу. ИЛИ Расчёт отсутствует / проведён неправильно независимо от наличия правильного ответа. ИЛИ Ответ неправильный	0
<i>Максимальный балл</i>	<i>1</i>

5.2

Содержание верного ответа и указания по оцениванию (допускаются иные формулировки ответа, не искажающие его смысла)	Баллы
Должен быть приведён расчёт и дан правильный ответ: $\alpha = 3,22 \text{ г} / 400 \text{ г} = 0,00805$ (или $\approx 0,8\%$)	
Дан расчёт, обоснованно приведший к правильному ответу	1
Расчёт не привёл к правильному ответу. ИЛИ Расчёт отсутствует / проведён неправильно независимо от наличия правильного ответа. ИЛИ Ответ неправильный	0
<i>Максимальный балл</i>	<i>1</i>

6

6.1

Содержание верного ответа и указания по оцениванию (допускаются иные формулировки ответа, не искажающие его смысла)	Баллы
Правильный ответ должен содержать следующие элементы: 1) формулы простых веществ: иод – I ₂ ; хлор – Cl ₂ ; 2) формулы сложных веществ: вода – H ₂ O; хлорид натрия – NaCl; гидроксид кальция – Ca(OH) ₂ ; фосфорная кислота – H ₃ PO ₄ ; иодид натрия – NaI; фосфат кальция – Ca ₃ (PO ₄) ₂	
Запись формул простых веществ, а также воды и хлорида натрия	1
Правильно записаны формулы четырёх указанных веществ	1
При записи формул этих веществ допущена одна ошибка или более	0
Запись формул гидроксида кальция, фосфорной кислоты, иодида натрия и фосфата кальция	2
Правильно записаны формулы четырёх указанных веществ	2
Правильно записаны формулы только трёх веществ	1
Правильно записаны формулы только двух веществ. ИЛИ Правильно записана формула только одного вещества. ИЛИ Ответ неправильный	0
<i>Максимальный балл</i>	3

6.2	иод ИЛИ I ₂
6.3	гидроксид кальция Ca(OH) ₂ – основание ИЛИ фосфорная кислота H ₃ PO ₄ – кислота ИЛИ фосфат кальция Ca ₃ (PO ₄) ₂ – (средняя) соль

6.4

Содержание верного ответа и указания по оцениванию (допускаются иные формулировки ответа, не искажающие его смысла)	Баллы
Вещества, состоящие из атомов трёх элементов, – гидроксид кальция, фосфорная кислота и фосфат кальция. Если выбран гидроксид кальция, то $\omega(\text{O в Ca(OH)}_2) = (2 \times 16) / (40 + 2 \times 16 + 2 \times 1) = 0,432$ (или 43,2%). Если выбрана фосфорная кислота, то $\omega(\text{O в H}_3\text{PO}_4) = (4 \times 16) / (3 \times 1 + 31 + 4 \times 16) = 0,653$ (или 65,3%). Если выбран фосфат кальция, то $\omega(\text{O в Ca}_3(\text{PO}_4)_2) = (8 \times 16) / (3 \times 40 + 2 \times 31 + 8 \times 16) = 0,413$ (или 41,3%)	
Правильно выбрано соединение и вычислена в нём массовая доля кислорода	1
Правильно только выбрано соединение. ИЛИ Соединение не выбрано / выбрано неправильно независимо от наличия расчётов. ИЛИ Ответ неправильный	0
<i>Максимальный балл</i>	1

6.5

Содержание верного ответа и указания по оцениванию (допускаются иные формулировки ответа, не искажающие его смысла)	Баллы
Должен быть приведён расчёт и дан правильный ответ: масса фосфата кальция: $m(\text{Ca}_3(\text{PO}_4)_2) = 0,25 \text{ моль} \times 310 \text{ г/моль} = 77,5 \text{ г}$	
Дан расчёт, обоснованно приведший к правильному ответу	1
Расчёт не привёл к правильному ответу. ИЛИ Расчёт отсутствует / проведён неправильно независимо от наличия правильного ответа. ИЛИ Ответ неправильный	0
<i>Максимальный балл</i>	<i>1</i>

7

7.1

Содержание верного ответа и указания по оцениванию (допускаются иные формулировки ответа, не искажающие его смысла)	Баллы
Уравнения реакций: (1) $3\text{Ca}(\text{OH})_2 + 2\text{H}_3\text{PO}_4 = \text{Ca}_3(\text{PO}_4)_2 + 6\text{H}_2\text{O}$; (2) $\text{Cl}_2 + 2\text{NaI} = 2\text{NaCl} + \text{I}_2$	
Правильно составлены уравнения двух реакций	2
Правильно составлено уравнение только одной любой реакции	1
Ответ неправильный	0
<i>Максимальный балл</i>	<i>2</i>

7.2

Содержание верного ответа и указания по оцениванию (допускаются иные формулировки ответа, не искажающие его смысла)	Баллы
В правильном ответе должна быть <u>выбрана реакция, указан её тип и приведено объяснение</u> , например: реакция (1) – реакция обмена (два сложных вещества (гидроксид кальция и фосфорная кислота) обмениваются своими составными частями (ионами), в результате чего образуются два других сложных вещества – фосфат кальция и вода), ИЛИ реакция (2) – реакция замещения (атомы простого вещества (хлора) замещают атомы одного из химических элементов (иода) в составе сложного вещества (иодид натрия))	
Правильно указан тип выбранной реакции, приведено объяснение	1
Реакция не выбрана. ИЛИ Тип выбранной реакции не указан / указан неправильно независимо от наличия объяснения. ИЛИ Ответ неправильный	0
<i>Максимальный балл</i>	<i>1</i>

7.3

Содержание верного ответа и указания по оцениванию (допускаются иные формулировки ответа, не искажающие его смысла)	Баллы
Правильный ответ должен содержать следующие <u>элементы</u> : 1) <u>номер рисунка</u> : рис. 1; 2) <u>метод</u> : фильтрование; 3) <u>объяснение</u> , например: делительная воронка (рис. 2) используется для разделения двух несмешивающихся жидкостей, а взвесь фосфата кальция в воде представляет собой смесь жидкого и твёрдого веществ. (Может быть дано иное объяснение.)	
1. Указание номера рисунка и метода	1
Правильно указаны номер рисунка и метод	1
Правильно указан только номер рисунка / метод. ИЛИ Номер рисунка не указан / указан неправильно независимо от указания метода	0
2. Объяснение	1
Дано корректное объяснение	1
Ответ неправильный	0
<i>Максимальный балл</i>	2

Система оценивания выполнения всей работы

Максимальный балл за выполнение работы – **36** баллов.

Рекомендуемая таблица перевода баллов в отметки по пятибалльной шкале

Отметка по пятибалльной шкале	«2»	«3»	«4»	«5»
Первичные баллы	0–9	10–18	19–27	28–36