

**Проверочная работа
по ИСТОРИИ**

8 класс

Вариант 2

Инструкция по выполнению работы

На выполнение работы по истории даётся 90 минут. Работа включает в себя 13 заданий. Часть 1 работы посвящена истории России и истории зарубежных стран (история Нового времени), в части 2 предложено задание по истории Вашего родного края.

Ответы на задания запишите в поля ответов в тексте работы. В случае записи неверного ответа зачеркните его и запишите рядом новый.

При необходимости можно пользоваться черновиком. Записи в черновике проверяться и оцениваться не будут.

Советуем выполнять задания в том порядке, в котором они даны. В целях экономии времени пропускайте задание, которое не удаётся выполнить сразу, и переходите к следующему. Если после выполнения всей работы у Вас останется время, то Вы сможете вернуться к пропущенным заданиям.

Желаем успеха!

Таблица для внесения баллов участника

Номер задания	1	2	3	4	5	6	7	8	9	10	11	12	13	Сумма баллов	Отметка за работу
Баллы															

Часть 1

В этой части работы даны задания по истории России и истории зарубежных стран в Новое время.

1) Расположите в хронологической последовательности исторические события. Запишите цифры, которыми обозначены исторические события, в правильной последовательности в таблицу.

- 1) проведение секуляризации церковных земель
- 2) перенос столицы из Москвы в Санкт-Петербург
- 3) ссылка А.Д. Меншикова

Ответ:

--	--	--

2) Запишите термин, о котором идёт речь.

Захваты политической власти в России в XVIII в., ставшие возможными из-за отсутствия чёткого порядка престолонаследия, сопровождающиеся борьбой придворных группировок и совершаемые с помощью гвардейских полков.

Ответ: _____.

Рассмотрите изображение и выполните задания 3, 4.



3) Назовите российского монарха в период, когда была выпущена данная монета.

Ответ: _____.

4

Укажите название победного для российского флота морского сражения, произошедшего в год, когда была выпущена эта монета.

Ответ: _____.

Прочтите отрывок из исторического источника и выполните задание 5.

«Когда императрица победоносно возвратилась в город и удалилась затем в свою спальню, капитан Орлов упал к её ногам и сказал: “Я вижу вас императрицей самодержицей; моё отечество освобождено из цепей, и оно будет счастливо под вашим управлением...”»

Для поездки в Ропшу с Петром III императрица назначила капитана Алексея Орлова, князя Бярятинского и трёх других офицеров. Они выбрали 100 человек из различных гвардейских полков. Данные им приказания гласили сделать жизнь этому государю столь приятной, насколько они могли, и доставлять ему для его забавы всё, чего он ни пожелает. Предполагалось из этого места перевести его в Шлиссельбург, а через некоторое время, в зависимости от обстоятельств, отправить его с его фаворитами в Гольштейн, до такой степени его личность представлялась мало опасной».

5

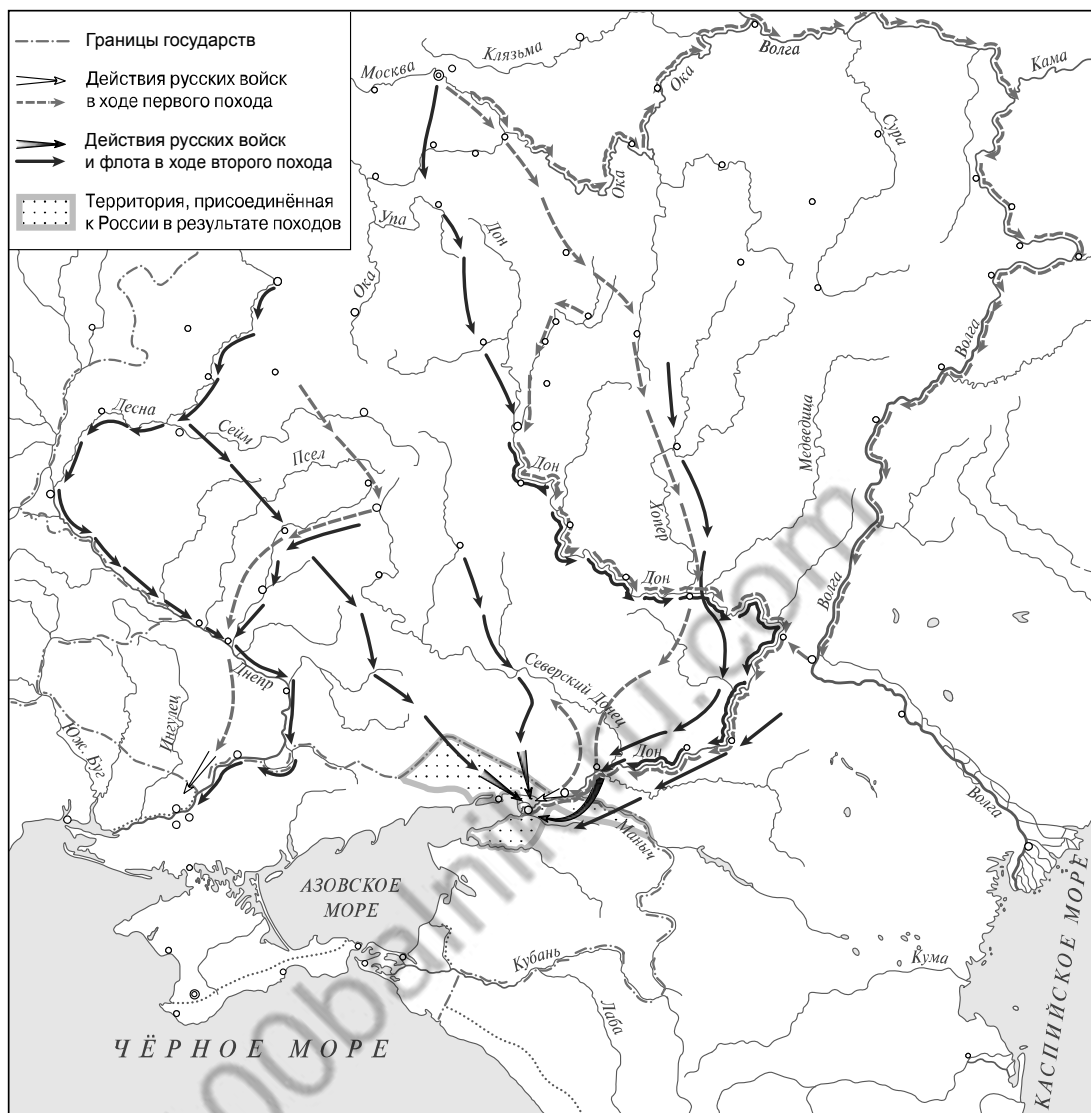
Укажите с точностью до десятилетия период, когда произошли описываемые события.

Ответ: _____

Какова дальнейшая судьба упомянутого в отрывке государя?

Ответ: _____

Рассмотрите карту и выполните задания 6, 7.



6 Назовите российского монарха, который был участником обозначенных на карте походов русских войск.

Ответ: _____.

7 Подпишите на карте города Азов и Воронеж.




Ознакомьтесь с приведённым перечнем и изображениями памятников культуры и выполните задания 8, 9.

- 1) «История о великом князе Московском»
- 2) «Гистория свейской войны»
- 3) «Чтение о Борисе и Глебе»
- 4)



5)



8

Какие из приведённых памятников культуры были созданы в XVIII в.? Выберите **два** памятника культуры и запишите в таблицу цифры, под которыми они указаны.

Ответ:

--	--

9

Создателем какого из приведённых памятников культуры является М.В. Ломоносов? Укажите порядковый номер этого памятника культуры.

Ответ:

10

Какой из приведённых исторических фактов можно использовать для аргументации следующей точки зрения: «Пётр I старался обеспечить армию и государственный аппарат пополнением за счёт дворянских детей»? Укажите порядковый номер этого факта в списке.

- 1) издание указа о единонаследии
- 2) введение паспортной системы
- 3) учреждение шляхетского кадетского корпуса

Ответ:

Объясните, как с помощью выбранного Вами факта можно аргументировать данную точку зрения.

Ответ:

100balnik.ru.com

В приведённом ниже списке указаны фамилии четырёх исторических деятелей. Выберите из них ОДНОГО исторического деятеля, а затем выполните задания 11, 12. Перед выполнением каждого из заданий 11, 12 укажите букву, которой выбранный исторический деятель обозначен в списке. Указанные в заданиях 11, 12 буквы должны быть одинаковыми.

Список исторических деятелей

А) А.Н. Радищев

Б) Феофан Прокопович

В) А.В. Суворов

Г) Вольтер

11 Выбранный исторический деятель: (укажите букву в перечне).

Укажите одно любое историческое событие (процесс), в котором участвовал исторический деятель. Приведите два исторических факта, связанных с участием выбранного Вами исторического деятеля в этом событии (процессе).

Событие (процесс): _____

Факты, связанные с участием в событии (процессе) исторического деятеля: _____

12 Выбранный исторический деятель: (укажите букву в перечне).

Используя знание исторических фактов, объясните, почему событие (процесс), в котором участвовал этот исторический деятель, имело большое значение (важные последствия) для истории нашей страны и/или истории зарубежных стран.

Ответ: _____

Часть 2

Вспомните важнейшие события истории Вашего региона или населённого пункта и выполните задание.

13

Напишите небольшой рассказ на тему «Мои земляки – выдающиеся исторические деятели». В рассказе необходимо назвать не менее двух исторических деятелей, жизнь которых связана с Вашим регионом, и охарактеризовать участие этих деятелей в важных исторических процессах (событиях, явлениях), происходивших в нашей стране.

Ответ: _____

100balnik.ru.com

Система оценивания проверочной работы по истории

Каждое из заданий 1, 2, 3, 4, 6, 8, 9 считается выполненным верно, если правильно указаны цифра, последовательность цифр или слово (словосочетание).

Полный правильный ответ на каждое из заданий 1, 2, 3, 4, 6, 9 оценивается 1 баллом; неполный, неверный ответ или его отсутствие – 0 баллов.

За верный ответ на задание 8 выставляется 2 балла. Если в ответе допущена одна ошибка (в том числе написана лишняя цифра или не написана одна необходимая цифра), выставляется 1 балл; если допущены две или более ошибки – 0 баллов.

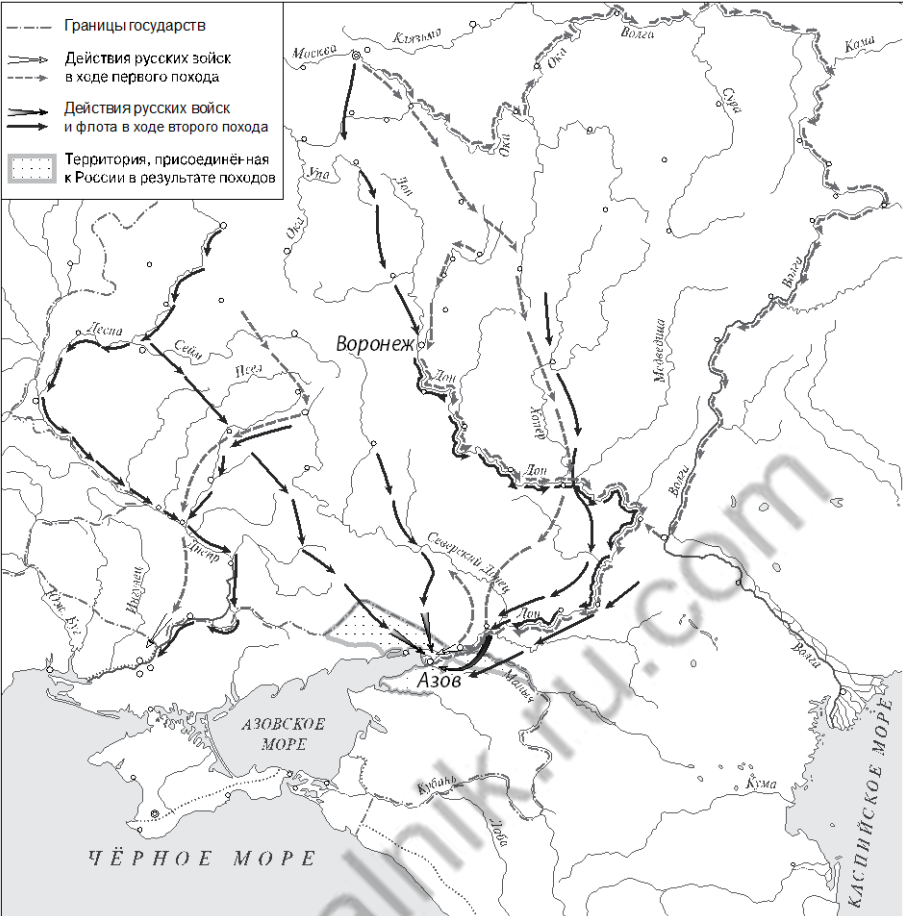
№ задания	Ответ
1	231
2	дворцовые перевороты
3	Пётр Первый
4	Гангутское
6	Пётр Первый
8	24
9	4

Критерии оценивания заданий с развернутым ответом

5

Содержание верного ответа и указания по оцениванию (допускаются иные формулировки ответа, не искажающие его смысла)	Баллы
Правильный ответ должен содержать следующие <u>элементы</u> : 1) <u>период</u> – 1760-е гг.; 2) <u>ответ на вопрос</u> – через несколько дней император был убит охранявшими его гвардейцами	
Правильно указан период и дан ответ на вопрос	2
Правильно указан только период. ИЛИ Правильно дан только ответ на вопрос	1
Ответ неправильный	0
<i>Максимальный балл</i>	2

7

Содержание верного ответа и указания по оцениванию	Баллы
 <p>В обозначении объектов на контурной карте допустимы небольшие отклонения, связанные с недостаточной аккуратностью участников ВПР</p>	
<p>Правильно подписаны Азов и Воронеж</p>	2
<p>Правильно подписан только Азов. ИЛИ Правильно подписан только Воронеж</p>	1
<p>Оба объекта подписаны неправильно. ИЛИ Задание не выполнено</p>	0
<p>Максимальный балл</p>	2

10

Содержание верного ответа и указания по оцениванию (допускаются иные формулировки ответа, не искажающие его смысла)	Баллы
<p>Правильный ответ должен содержать следующие элементы:</p> <p>1) <u>порядковый номер факта</u> – 1; (При оценивании в качестве правильного принимается также указание факта, а не его номера.)</p> <p>2) <u>объяснение</u>, например: по указу о единонаследии имение наследовал один из сыновей, а остальные должны были поступить на службу – гражданскую или военную. (Может быть приведено иное, близкое по смыслу объяснение.)</p>	
Правильно указан порядковый номер факта и приведено объяснение	3
<p>Правильно указан порядковый номер факта. Объяснение содержит неточность(-и), существенно не искажающую(-ие) содержание ответа.</p> <p>ИЛИ Правильно указан порядковый номер факта. Дано неполное объяснение, в котором пропущено(-ы) положение(-я), которое(-ые) важно(-ы) для объяснения</p>	2
<p>Правильно указан порядковый номер факта. Объяснение сформулировано на уровне обыденных представлений, без привлечения исторических фактов.</p> <p>ИЛИ Правильно указан только порядковый номер факта. Вместо объяснения приведены рассуждения общего характера, не соответствующие требованию задания.</p> <p>ИЛИ Правильно указан только порядковый номер факта</p>	1
<p>Порядковый номер факта указан неправильно / не указан независимо от наличия объяснения.</p> <p>ИЛИ Задание не выполнено</p>	0
<i>Максимальный балл</i>	3

11

Содержание верного ответа и указания по оцениванию (допускаются иные формулировки ответа, не искажающие его смысла)	Баллы
<p>Правильный ответ должен содержать следующие <u>элементы</u>:</p> <p>1) <u>событие (процесс)</u>, например: А – оппозиционная деятельность в период правления Екатерины II; Б – церковная реформа Петра I; В – русско-турецкая война 1787–1791 гг.; Г – развитие идей Просвещения в Европе;</p> <p>2) <u>факты</u>, например:</p> <ul style="list-style-type: none"> – А.Н. Радищев написал книгу «Путешествие из Петербурга в Москву», в которой заявил, что «самодержавство есть наипротивнейшее человеческому естеству состояние»; А.Н. Радищев был приговорён судом к казни, заменённой императрицей на 10-летнюю ссылку в Сибирь; – Феофан Прокопович является автором «Духовного регламента»; Феофан Прокопович в проповедях провозглашал верховенство светской власти над церковной и идею служения всех подданных государству; – А.В. Суворов командовал русскими войсками в сражении при Рымнике; русские войска под командованием А.В. Суворова взяли неприступную крепость Измаил; – Вольтер был сторонником просвещённой монархии; наиболее справедливый общественный строй Вольтер связывал со свободой, равенством, собственностью. (Могут быть приведены другие факты.) 	
Правильно указано событие (процесс); верно приведены два исторических факта, связанных с участием выбранного исторического деятеля в этом событии (процессе)	3
Правильно указано событие (процесс); верно приведён один исторический факт, связанный с участием выбранного исторического деятеля в этом событии (процессе)	2
Правильно указано только событие (процесс); исторические факты, связанные с участием выбранного исторического деятеля в этом событии (процессе), не приведены / приведены неправильно	1
Событие (процесс) указано неправильно / не указано. ИЛИ Приведены рассуждения общего характера, не соответствующие требованию задания	0
<i>Максимальный балл</i>	3

12

Содержание верного ответа и указания по оцениванию (допускаются иные формулировки ответа, не искажающие его смысла)	Баллы
<p>В ответе должно быть дано <u>объяснение</u>, например:</p> <ul style="list-style-type: none"> – оппозиционное движение в период правления Екатерины II впервые в России сумело подняться до идеи свержения самодержавия; одним из последствий стало появление цензуры в России (указ Екатерины II от 16 сентября 1796 г.) (А); – церковная реформа Петра I полностью подчинила церковь государству (Б); – Османская империя признала все завоевания России в Северном Причерноморье, что окончательно закрепило Крым в составе Российской империи (В); – идеи мыслителя широко распространялись не только во Франции, но и в других странах, на них воспитывались будущие участники Французской революции (Г). <p>Может быть дано иное объяснение</p>	
Дано объяснение значимости события (процесса) с опорой на исторические факты	2
<p>Объяснение значимости события (процесса) содержит неточность(-и), существенно не искажающую(-ие) ответа.</p> <p>ИЛИ Дано неполное объяснение значимости выбранного события (процесса), отражающее только его второстепенные последствия для истории нашей страны и/или истории зарубежных стран</p>	1
<p>Объяснение значимости выбранного события (процесса) сформулировано в общей форме или на уровне обыденных представлений, без привлечения исторических фактов.</p> <p>ИЛИ Приведены рассуждения общего характера, не соответствующие требованию задания.</p> <p>ИЛИ Объяснение значимости выбранного события (процесса) не дано</p>	0
<i>Максимальный балл</i>	2

13

Содержание верного ответа и указания по оцениванию	Баллы
В ответе верно указаны два исторических деятеля, правильно охарактеризовано участие этих деятелей в важных исторических процессах (событиях, явлениях), происходивших в нашей стране	4
В ответе верно указаны два исторических деятеля, при характеристике участия этих деятелей в важных исторических процессах (событиях, явлениях), происходивших в нашей стране, допущена(-ы) неточность(-и), существенно не искажающая(-ие) ответа	3
В ответе верно указаны один-два исторических деятеля, правильно охарактеризовано участие одного из этих деятелей в важном(-ых) историческом(-их) процессе(-ах) (событии(-ях), явлении(-ях)), происходившем(-их) в нашей стране	2
В ответе верно указаны один-два исторических деятеля, правильно охарактеризовано участие одного из этих деятелей в важном(-ых) историческом(-их) процессе(-ах) (событии(-ях), явлении(-ях)), происходившем(-их) в нашей стране; при характеристике участия деятеля в важном(-ых) историческом(-их) процессе(-ах) (событии(-ях), явлении(-ях)), происходившем(-их) в нашей стране, допущена(-ы) неточность(-и), существенно не искажающая(-ие) ответа	1
В ответе верно указаны только один-два исторических деятеля, характеристика участия этих деятелей в важных исторических процессах (событиях, явлениях), происходивших в нашей стране, не дана / дана неправильно. ИЛИ Приведены рассуждения общего характера, не соответствующие требованию задания. ИЛИ Ответ неправильный	0
<i>Максимальный балл</i>	4

Система оценивания выполнения всей работы

Максимальный балл за выполнение работы – 24.

Рекомендации по переводу первичных баллов в отметки по пятибалльной шкале

Отметка по пятибалльной шкале	«2»	«3»	«4»	«5»
Первичные баллы	0–6	7–11	12–17	18–24