

**Проверочная работа
по ИСТОРИИ**

8 класс

Вариант 1

Инструкция по выполнению работы

На выполнение работы по истории даётся 90 минут. Работа включает в себя 13 заданий. Часть 1 работы посвящена истории России и истории зарубежных стран (история Нового времени), в части 2 предложено задание по истории Вашего родного края.

Ответы на задания запишите в поля ответов в тексте работы. В случае записи неверного ответа зачеркните его и запишите рядом новый.

При необходимости можно пользоваться черновиком. Записи в черновике проверяться и оцениваться не будут.

Советуем выполнять задания в том порядке, в котором они даны. В целях экономии времени пропускайте задание, которое не удаётся выполнить сразу, и переходите к следующему. Если после выполнения всей работы у Вас останется время, то Вы сможете вернуться к пропущенным заданиям.

Желаем успеха!

Таблица для внесения баллов участника

Номер задания	1	2	3	4	5	6	7	8	9	10	11	12	13	Сумма баллов	Отметка за работу
Баллы															

Часть 1

В этой части работы даны задания по истории России и истории зарубежных стран в Новое время.

1) Расположите в хронологической последовательности исторические события. Запишите цифры, которыми обозначены исторические события, в правильной последовательности в таблицу.

- 1) восстание под предводительством Е.И. Пугачёва
- 2) учреждение Верховного тайного совета
- 3) битва при Лесной

Ответ:

--	--	--

2) Заполните пропуск в предложении.

Порядок работы в созданных Петром I коллегиях и других органах власти, обязанности чиновников были определены «_____ регламентом».

Ответ: _____.

Рассмотрите изображение и выполните задания 3, 4.



3) Укажите фамилию исторического деятеля, изображённого на картине.

Ответ: _____.

4

Укажите название административного центра губернии, где родился этот исторический деятель.

Ответ: _____.

Прочтите отрывок из исторического источника и выполните задание 5.

«...Уведомившись рано утром, что для сопровождения меня на аудиенцию великий канцлер Головкин прислал ко мне лишь секретаря, я, ввиду отсутствия в данном случае всякой торжественности, предпочёл отправиться на аудиенцию один... Затем секретарь уехал. Спустя некоторое время отправился и я в Преображенскую слободу, или предместье, где находился царь в своём убогом доме. У дверей, лишь только я прибыл, встретил меня секретарь и повёл на так называемый Головкинский двор, находящийся шагах во ста от царского домика. Когда граф Головкин прислал мне сказать, что пора на аудиенцию, я поехал на царское подворье в экипаже, а секретарь предшествовал мне пешком. Как я вошёл в комнату, смежную с царскою, граф Головкин вышел ко мне туда, встретил меня и ввёл к царю. Не будучи ещё готов, царь стоял полуодетый, в ночном колпаке; ибо о церемониях он не заботится и не придаёт им никакого значения».

5

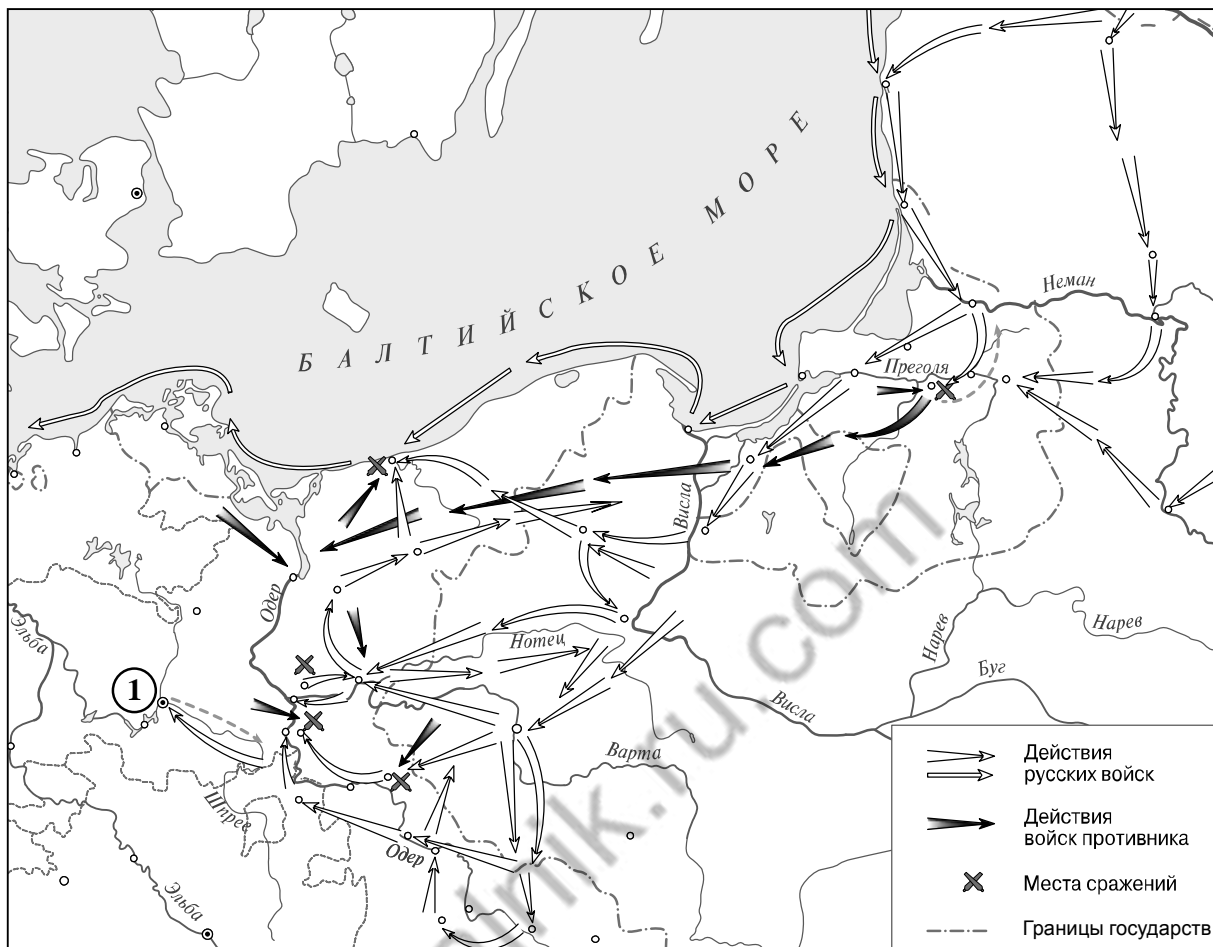
Назовите царя, о котором идёт речь.

Ответ: _____

Назовите соправителя этого царя в первые годы его царствования.

Ответ: _____

Рассмотрите карту и выполните задания 6, 7.



6



Укажите название города, обозначенного на карте цифрой «1».

Ответ: _____.

7

Подпишите на карте территории Речи Посполитой и Восточной Пруссии.

Ознакомьтесь с приведённым перечнем и изображениями памятников культуры и выполните задания 8, 9.

- 1) «Гистория Свейской войны»
- 2) «Сказание об осаде Троице-Сергиева монастыря»
- 3) «Хожение за три моря»
- 4)  5) 

8

Какие из приведённых памятников культуры были созданы в XVIII в.? Выберите **два** памятника культуры и запишите в таблицу цифры, под которыми они указаны.

Ответ:

<input type="text"/>	<input type="text"/>
----------------------	----------------------

9

В создании какого из приведённых памятников культуры принимал участие Д. Трезини? Укажите порядковый номер этого памятника культуры.

Ответ:

10

Какой из приведённых исторических фактов можно использовать для аргументации следующей точки зрения: «Пётр I предотвратил дробление крупной земельной собственности»? Укажите порядковый номер этого факта в списке.

- 1) издание манифеста о вольности дворянской
- 2) издание жалованной грамоты дворянству
- 3) издание указа о единонаследии

Ответ:

Объясните, как с помощью выбранного Вами факта можно аргументировать данную точку зрения.

Ответ: _____

100balnik.ru.com

В приведённом ниже списке указаны фамилии четырёх исторических деятелей. Выберите из них ОДНОГО исторического деятеля, а затем выполните задания 11, 12. Перед выполнением каждого из заданий 11, 12 укажите букву, которой выбранный исторический деятель обозначен в списке. Указанные в заданиях 11, 12 буквы должны быть одинаковыми.

Список исторических деятелей

А) Н.И. Новиков

Б) Э.И. Бирон

В) П.А. Румянцев

Г) Наполеон Бонапарт

11 Выбранный исторический деятель: (укажите букву в перечне).

Укажите одно любое историческое событие (процесс), в котором участвовал исторический деятель. Приведите два исторических факта, связанных с участием выбранного Вами исторического деятеля в этом событии (процессе).

Событие (процесс): _____

Факты, связанные с участием в событии (процессе) исторического деятеля: _____

12 Выбранный исторический деятель: (укажите букву в перечне).

Используя знание исторических фактов, объясните, почему событие (процесс), в котором участвовал этот исторический деятель, имело большое значение (важные последствия) для истории нашей страны и/или истории зарубежных стран.

Ответ: _____

Система оценивания проверочной работы по истории

Каждое из заданий 1, 2, 3, 4, 6, 8, 9 считается выполненным верно, если правильно указаны цифра, последовательность цифр или слово (словосочетание).

Полный правильный ответ на каждое из заданий 1, 2, 3, 4, 6, 9 оценивается 1 баллом; неполный, неверный ответ или его отсутствие – 0 баллов.

За верный ответ на задание 8 выставляется 2 балла. Если в ответе допущена одна ошибка (в том числе написана лишняя цифра или не написана одна необходимая цифра), выставляется 1 балл; если допущены две или более ошибки – 0 баллов.

№ задания	Ответ
1	321
2	Генеральным
3	Ломоносов
4	Архангельск
6	Берлин
8	14
9	4

Критерии оценивания заданий с развернутым ответом

5

Содержание верного ответа и указания по оцениванию (допускаются иные формулировки ответа, не искажающие его смысла)	Баллы
Правильный ответ должен содержать следующие <u>элементы</u> : 1) <u>царь</u> – Пётр I; 2) <u>соправитель</u> – Иван V (Иван Алексеевич)	
Правильно названы царь и соправитель	2
Правильно назван только царь. ИЛИ Правильно назван только соправитель	1
Ответ неправильный	0
<i>Максимальный балл</i>	2

7

Содержание верного ответа и указания по оцениванию	Баллы
 <p>В обозначении объектов на контурной карте допустимы небольшие отклонения, связанные с недостаточной аккуратностью участников ВПр</p>	
<p>Правильно подписаны территории Речи Посполитой и Восточной Пруссии</p>	<p>2</p>
<p>Правильно подписана только территория Речи Посполитой.</p>	<p>1</p>
<p>ИЛИ Правильно подписана только территория Восточной Пруссии</p>	<p>1</p>
<p>Оба объекта подписаны неправильно. ИЛИ Задание не выполнено</p>	<p>0</p>
<p style="text-align: right;"><i>Максимальный балл</i></p>	<p>2</p>

10

Содержание верного ответа и указания по оцениванию (допускаются иные формулировки ответа, не искажающие его смысла)	Баллы
<p>Правильный ответ должен содержать следующие элементы:</p> <p>1) <u>порядковый номер факта</u> – 3; (При оценивании в качестве правильного принимается также указание факта, а не его номера.)</p> <p>2) <u>объяснение</u>, например: по указу о единонаследии недвижимость не подлежала разделу и в соответствии с духовной грамотой передавалась одному из сыновей, в случае отсутствия наследника мужского пола – дочери. (Может быть приведено иное, близкое по смыслу объяснение.)</p>	
Правильно указан порядковый номер факта и приведено объяснение	3
<p>Правильно указан порядковый номер факта. Объяснение содержит неточность(-и), существенно не искажающую(-ие) содержание ответа.</p> <p>ИЛИ Правильно указан порядковый номер факта. Дано неполное объяснение, в котором пропущено(-ы) положение(-я), которое(-ые) важно(-ы) для объяснения</p>	2
<p>Правильно указан порядковый номер факта. Объяснение сформулировано на уровне обыденных представлений, без привлечения исторических фактов.</p> <p>ИЛИ Правильно указан только порядковый номер факта. Вместо объяснения приведены рассуждения общего характера, не соответствующие требованию задания.</p> <p>ИЛИ Правильно указан только порядковый номер факта</p>	1
<p>Порядковый номер факта указан неправильно / не указан независимо от наличия объяснения.</p> <p>ИЛИ Задание не выполнено</p>	0
<i>Максимальный балл</i>	3

11

Содержание верного ответа и указания по оцениванию (допускаются иные формулировки ответа, не искажающие его смысла)	Баллы
<p>Правильный ответ должен содержать следующие <u>элементы</u>:</p> <p>1) <u>событие (процесс)</u>, например: А – распространение идей Просвещения в России в последней четверти XVIII в.; Б – правление Анны Иоанновны; В – русско-турецкая война 1768–1774 гг.; Г – Французская революция XVIII в.</p> <p>2) <u>факты</u>, например:</p> <ul style="list-style-type: none"> – Н.И. Новиков выпускал сатирические журналы «Трутень» и «Живописец»; Н.И. Новиков был последовательным противником крепостного права; – Э.И. Бирон был фаворитом императрицы Анны Иоанновны; Э.И. Бирон, сосредоточив в своих руках большую власть, не занимал высоких государственных постов; – П.А. Румянцев командовал русскими войсками в сражении у реки Ларги; П.А. Румянцев подписал Кючук-Кайнарджийский мир с Османской империей; – Наполеон Бонапарт помог республиканским войскам освободить Тулон от англичан; Наполеон командовал военными силами Франции в период Директории. <p>(Могут быть приведены другие факты.)</p>	
Правильно указано событие (процесс); верно приведены два исторических факта, связанных с участием выбранного исторического деятеля в этом событии (процессе)	3
Правильно указано событие (процесс); верно приведён один исторический факт, связанный с участием выбранного исторического деятеля в этом событии (процессе)	2
Правильно указано только событие (процесс); исторические факты, связанные с участием выбранного исторического деятеля в этом событии (процессе), не приведены / приведены неправильно	1
Событие (процесс) указано неправильно / не указано. ИЛИ Приведены рассуждения общего характера, не соответствующие требованию задания	0
<i>Максимальный балл</i>	3

12

Содержание верного ответа и указания по оцениванию (допускаются иные формулировки ответа, не искажающие его смысла)	Баллы
<p>В ответе должно быть дано <u>объяснение</u>, например:</p> <ul style="list-style-type: none"> – распространение идей Просвещения способствовало развитию общественной мысли, литературы, публицистики, повысило роль печати в общественной жизни (А); – став самодержавной правительницей благодаря поддержке рядового дворянства, Анна Иоанновна стала проводить политику расширения привилегий этого сословия. Этого направления внутренней политики придерживались и её преемники (Б); – значение войны состоит в том, победа в ней России вынудила Турцию признать независимость Крымского ханства и право русского флота на беспрепятственный проход через черноморский проливы в Средиземное море (В); – идеи Французской революции XVIII в., провозгласившей принципы всеобщих свободы и равенства, повлияли на дальнейшее развитие не только Европы, но и других континентов (Г). <p>Может быть дано иное объяснение</p>	
Дано объяснение значимости события (процесса) с опорой на исторические факты	2
<p>Объяснение значимости события (процесса) содержит неточность(-и), существенно не искажающую(-ие) ответа.</p> <p>ИЛИ Дано неполное объяснение значимости выбранного события (процесса), отражающее только его второстепенные последствия для истории нашей страны и/или истории зарубежных стран</p>	1
<p>Объяснение значимости выбранного события (процесса) сформулировано в общей форме или на уровне обыденных представлений, без привлечения исторических фактов.</p> <p>ИЛИ Приведены рассуждения общего характера, не соответствующие требованию задания.</p> <p>ИЛИ Объяснение значимости выбранного события (процесса) не дано</p>	0
<i>Максимальный балл</i>	2

13

Содержание верного ответа и указания по оцениванию	Баллы
В ответе верно указаны два названия населённых пунктов или улиц, находящихся в регионе, правильно охарактеризована связь этих названий с историческими процессами (событиями, явлениями), происходившими в регионе	4
В ответе верно указаны два названия населённых пунктов или улиц, находящихся в регионе, при указании связи этих названий с историческими процессами (событиями, явлениями), происходившими в регионе, допущена(-ы) неточность(-и), существенно не искажающая(-ие) ответа	3
В ответе верно указаны одно-два названия населённых пунктов или улиц, находящихся в регионе, правильно охарактеризована связь одного из этих названий с историческим(-и) процессом(-ами) (событием(-ями), явлением(-ями)), происходившим(-и) в регионе	2
В ответе верно указаны одно-два названия населённых пунктов или улиц, находящихся в регионе, правильно охарактеризована связь одного из этих названий с историческим(-и) процессом(-ами) (событием(-ями), явлением(-ями)), происходившим(-и) в регионе; при указании связи этого названия с историческими процессами (событиями, явлениями), происходившими в регионе, допущена(-ы) неточность(-и), существенно не искажающая(-ие) ответа	1
В ответе верно указаны только одно-два названия населённых пунктов или улиц, находящихся в регионе, связь этих названий с историческими процессами (событиями, явлениями), происходившими в регионе, не охарактеризована / охарактеризована неправильно. ИЛИ Приведены рассуждения общего характера, не соответствующие требованию задания. ИЛИ Ответ неправильный	0
<i>Максимальный балл</i>	4

Система оценивания выполнения всей работы

Максимальный балл за выполнение работы – **24**.

Рекомендации по переводу первичных баллов в отметки по пятибалльной шкале

Отметка по пятибалльной шкале	«2»	«3»	«4»	«5»
Первичные баллы	0–6	7–11	12–17	18–24