

**Проверочная работа  
по ГЕОГРАФИИ**

**6 КЛАСС**

**Вариант 1**

**Инструкция по выполнению работы**


На выполнение работы по географии даётся 60 минут. Работа включает в себя 10 заданий.

Ответы на задания запишите в поля ответов в тексте работы. В случае записи неверного ответа зачеркните его и запишите рядом новый.

При выполнении работы не разрешается пользоваться учебником, рабочими тетрадями, атласом и другим справочным материалом.

При необходимости можно пользоваться черновиком. Записи в черновике проверяться и оцениваться не будут. Для выполнения заданий с использованием карт Вам потребуются линейка и карандаш.

Советуем выполнять задания в том порядке, в котором они даны. В целях экономии времени пропускайте задание, которое не удаётся выполнить сразу, и переходите к следующему. Если после выполнения всей работы у Вас останется время, то Вы сможете вернуться к пропущенным заданиям.

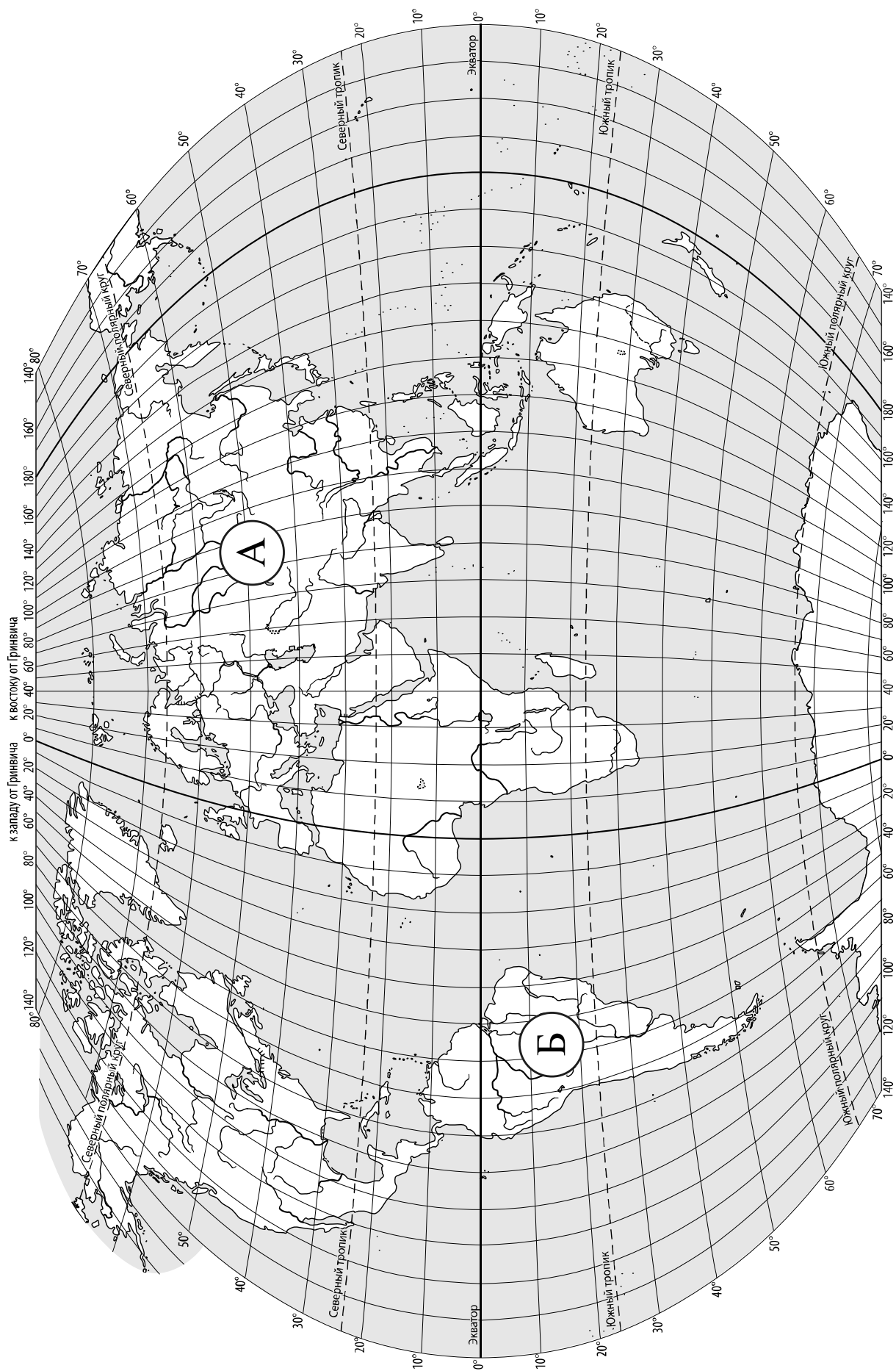
Значком  отмечены задания, ответы на которые записываются на карте, приведённой на странице 2.

***Желаем успеха!***

*Таблица для внесения баллов участника*

Номер задания	1.1	1.2	2.1К1	2.1К2	2.2	3.1	3.2	3.3	4.1	4.2	4.3	5.1	5.2	6.1	6.2К1	6.2К2
Баллы																

Номер задания	7	8.1	8.2	9К1	9К2	9К3	10.1	10.2К1	10.2К2	Сумма баллов	Отметка за работу
Баллы											



**Задание 1 выполняется с использованием карты мира, приведённой на странице 2.**

1

Рассмотрите карту мира. На ней буквами А и Б отмечены два материка.

1.1. Запишите названия материков в соответствующее поле.

Название материка (А) :


Название материка (Б) :




\_\_\_\_\_

\_\_\_\_\_

1.2. С каким из названных Вами материков связаны открытия путешественников и исследователей, изображённых на портретах? Укажите название материка.



*Афанасий Никитин*



*П.П. Семёнов-Тян-Шанский*

Ответ. \_\_\_\_\_



Подпишите на карте океаны, омывающие берега указанного Вами материка.



**Задание 2 выполняется с использованием карты мира, приведённой на странице 2.**

2

2.1. Поставьте точки на карте по приведённым ниже координатам. Обозначьте эти точки соответственно цифрами 1 и 2.



Точка 1 –  $26^{\circ}$  с. ш.  $10^{\circ}$  в. д.

Точка 2 –  $46^{\circ}$  с. ш.  $10^{\circ}$  в. д.

В каком направлении от точки 1 расположена точка 2?

Ответ. \_\_\_\_\_

2.2. Точка 2 расположена на территории крупного географического объекта. Прочитайте текст, рассмотрите фотографию и укажите название этого географического объекта.

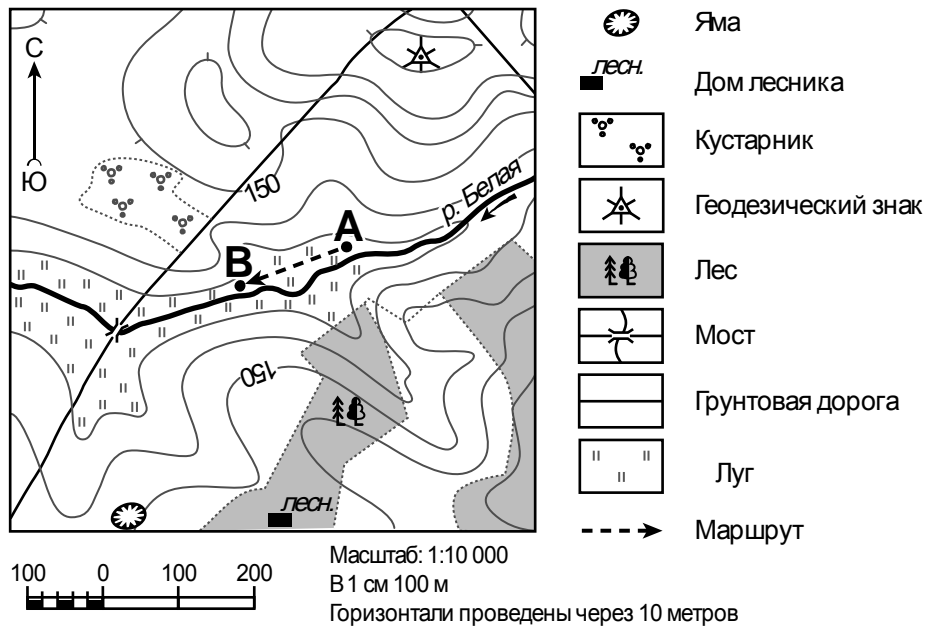
Горная система в Европе, вытянутая на 1200 км по территории восьми стран. Средняя высота её невелика – 2500 м над уровнем моря; высочайшая вершина – г. Монблан (4807 м). Вершины гор покрыты ледниками. Здесь берут начало реки Рейн, Рона, По. Многочисленны озёра ледникового происхождения: Женевское, Боденское, Комо. В горах ярко выражена высотная поясность, горные леса сменяются красочными альпийскими лугами. Здесь издавна развивался туризм, сейчас горы являются популярным центром горнолыжного спорта.



Ответ. \_\_\_\_\_

**Задание 3** выполняется с использованием приведённого ниже фрагмента топографической карты.

3



3.1. На каком берегу реки Белой находится лес?

Ответ. \_\_\_\_\_

□

В каком направлении от ямы расположен геодезический знак?

Ответ. \_\_\_\_\_

□

3.2. Какова протяжённость проложенного на карте маршрута А–В? Для выполнения задания используйте линейку. Расстояние измеряйте по центрам точек.

Ответ. \_\_\_\_\_

3.3. Какой из изображённых на фотографиях объектов может быть сооружён на территории, по которой проходит маршрут А – В? Запишите в ответе **номер** фотографии. Обоснуйте свой ответ.



1 – санный спуск



2 – сенокос

□

Ответ. Объект: \_\_\_\_\_


\_\_\_\_\_

\_\_\_\_\_

4


4.1. Разница во времени между городами Калининградом и Томском составляет **+5 часов**. На рисунках представлены показания часов в этих городах в тот момент, когда в Калининграде **2 часа дня**. Запишите под каждым рисунком, как отображается то же самое время на электронных часах в этих городах.

**КАЛИНИНГРАД**



\_\_\_\_\_

**ТОМСК**



\_\_\_\_\_

4.2. Анна живёт в Калининграде. Что она делает в указанное Вами время? Используйте для ответа приведённый режим дня школьника.

Ответ. \_\_\_\_\_

4.3. Что в это же время делает её сверстница Мария, которая живёт в Томске, если она соблюдает тот же режим дня, что и Анна?

Ответ. \_\_\_\_\_

Обоснуйте свой ответ. Укажите, чем обусловлена разница во времени в разных частях Земли.

Ответ. \_\_\_\_\_

**РЕЖИМ ДНЯ ШКОЛЬНИКА**

<b>7.00</b>	<i>Подъём</i>
<b>7.05 – 7.20</b>	<i>Утренняя зарядка</i>
<b>7.20 – 7.30</b>	<i>Гигиенические процедуры</i>
<b>7.30 – 8.00</b>	<i>Завтрак</i>
<b>8.00 – 8.15</b>	<i>Дорога в школу</i>
<b>8.30 – 13.10</b>	<i>Уроки в школе</i>
<b>13.15 – 13.30</b>	<i>Дорога домой</i>
<b>13.45 – 14.15</b>	<i>Обед</i>
<b>14.15 – 16.15</b>	<i>Занятия в кружках/секциях</i>
<b>16.30 – 16.45</b>	<i>Полдник</i>
<b>16.45 – 18.15</b>	<i>Выполнение домашних заданий</i>
<b>18.15 – 19.15</b>	<i>Прогулка на свежем воздухе</i>
<b>19.30 – 20.00</b>	<i>Ужин</i>
<b>20.00 – 21.30</b>	<i>Свободное время (чтение книг, просмотр телепередач, настольные игры)</i>
<b>21.30 – 22.00</b>	<i>Гигиенические процедуры и подготовка ко сну</i>
<b>22.00 – 7.00</b>	<i>Ночной сон</i>

5

5.1. Установите соответствие между географическими особенностями и природными зонами, для которых они характерны: для этого к каждой позиции первого столбца подберите соответствующую позицию из второго столбца.

**ГЕОГРАФИЧЕСКИЕ ОСОБЕННОСТИ**

**ПРИРОДНЫЕ ЗОНЫ**

- |   |  |
|---|--|
| <p>А) произрастание ели, сосны, берёзы, осины, дуба</p> <p>Б) продолжительное засушливое лето, малоснежная зима с позёмками и метелями</p> <p>В) переходная зона от тайги к зоне широколиственных лесов</p> <p>Г) умеренно холодная, снежная зима и тёплое лето</p> <p>Д) преобладание плодородных почв – чернозёмов</p> <p>Е) безлесное пространство, покрытое травянистой растительностью</p> | <p>1) степь</p> <p>2) смешанные леса</p> |
|---|--|

Запишите в таблицу выбранные цифры под соответствующими буквами.

Ответ:

А	Б	В	Г	Д	Е

5.2. Определите, в какой из указанных природных зон могла быть сделана каждая фотография. Подпишите названия природных зон.

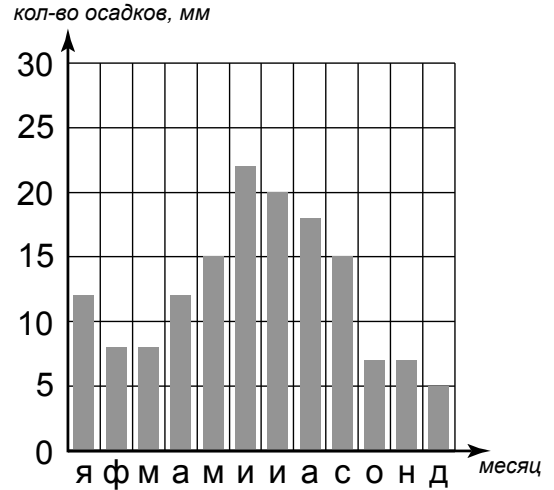


А – \_\_\_\_\_

Б – \_\_\_\_\_

6

На метеорологической станции города N в течение года наблюдали за количеством осадков. По результатам наблюдений метеорологи построили диаграмму выпадения осадков по месяцам. Рассмотрите диаграмму выпадения осадков и ответьте на вопросы.



6.1. В каком месяце выпало больше всего осадков?

Ответ. \_\_\_\_\_

На какие три месяца приходилось наименьшее количество осадков?

Ответ. \_\_\_\_\_

6.2. На каком рисунке знаками отображена погода в тот день, когда шёл дождь? Укажите букву, которой обозначен этот рисунок. Составьте описание погоды в этот день по условным обозначениям на указанном Вами рисунке.

А				+24 °C	82%
Б				+15 °C	58%
В				+19 °C	61%

Ответ. Рисунок: \_\_\_\_\_

---



---



---



---

7

Прочитайте текст и выполните задание.

(1) Движущаяся вода, будь то небольшой ручей или крупная река, выполняет большую работу по формированию рельефа земной поверхности. (2) Рыхлые осадочные породы разрушаются и размываются временными потоками дождевых и талых снеговых вод, и образуются овраги. (3) Быстрые горные реки могут «стачивать» прочные породы, образуя каньоны. (4) Каньоны представляют собой глубокие русла рек, по краям которых высятся отвесные скалы. (5) Когда вода вымывает или растворяет горные породы, образуются пещеры – естественные пустоты в верхней толще земной коры. (6) Наиболее крупные пещеры – это сложные системы проходов, протяжённость которых может достигать десятков километров.

По каким предложениям можно сделать вывод о результатах работы текучих вод? Запишите номера предложений.

Ответ. \_\_\_\_\_



8

8.1. Используя приведённую ниже таблицу, выполните задания.

**Численность и показатели рождаемости и смертности населения, 2016 г.**

№	Страна	Численность населения, млн человек	Показатели рождаемости и смертности, на 1000 жителей	
			рождаемость	смертность
1	Кения	45	23	7
2	Греция	11	8	10
3	Канада	36	10	9
4	Австралия	25	12	7

Расположите страны в порядке **уменьшения** численности населения, начиная со страны с самой большой численностью. Запишите в ответе последовательность порядковых номеров этих стран.

Ответ. \_\_\_\_\_

В какой стране показатель рождаемости меньше, чем показатель смертности? Запишите в ответе название страны.

Ответ. \_\_\_\_\_

В каких странах показатели смертности одинаковы? Запишите в ответе названия стран.

Ответ. \_\_\_\_\_


8.2. Фотографии, представленные ниже, сделаны в странах, указанных в таблице. Запишите под каждой фотографией название соответствующей **страны**.



А – \_\_\_\_\_



Б – \_\_\_\_\_



В – \_\_\_\_\_



Г – \_\_\_\_\_

9

Рассмотрите фотографию с изображением опасного явления природы. Запишите его название.



Ответ. Природное явление – \_\_\_\_\_

Составьте краткое описание этого природного явления. Поясните, чем опасно это явление для людей.

Ответ. \_\_\_\_\_

\_\_\_\_\_

\_\_\_\_\_

\_\_\_\_\_

\_\_\_\_\_

\_\_\_\_\_

\_\_\_\_\_

\_\_\_\_\_

\_\_\_\_\_

10

10.1. Запишите название региона: республики, или области, или края, или автономного округа, или города федерального значения, в котором Вы живёте.

Ответ. \_\_\_\_\_

Как называется главный город Вашего региона? / Как называется населённый пункт / округ / муниципальный район города, в котором Вы живёте или расположена Ваша школа?

Ответ. \_\_\_\_\_

10.2. Какие полезные ископаемые добываются на территории Вашего региона? Составьте краткое описание одного из этих полезных ископаемых.

Ответ. \_\_\_\_\_

\_\_\_\_\_

\_\_\_\_\_

\_\_\_\_\_

\_\_\_\_\_

\_\_\_\_\_

\_\_\_\_\_

\_\_\_\_\_

\_\_\_\_\_

\_\_\_\_\_

\_\_\_\_\_

\_\_\_\_\_

### Система оценивания проверочной работы

Полный правильный ответ на каждое из заданий 1.1, 2.2, 3.2, 4.1, 4.2 и 5.2 оценивается 1 баллом. Если в ответе допущена хотя бы одна ошибка (один из элементов ответа записан неправильно или не записан), выставляется 0 баллов.

Полный правильный ответ на каждое из заданий 5.1, 7 и 8.2 оценивается 2 баллами. Если в ответе допущена одна ошибка или в ответах на задания 5.1 и 8.2 перепутаны местами две цифры / два названия стран выставляется 1 балл; если допущено две или более ошибки – 0 баллов.

Номер задания	Правильный ответ
7	235,253,325,352,532,523

1

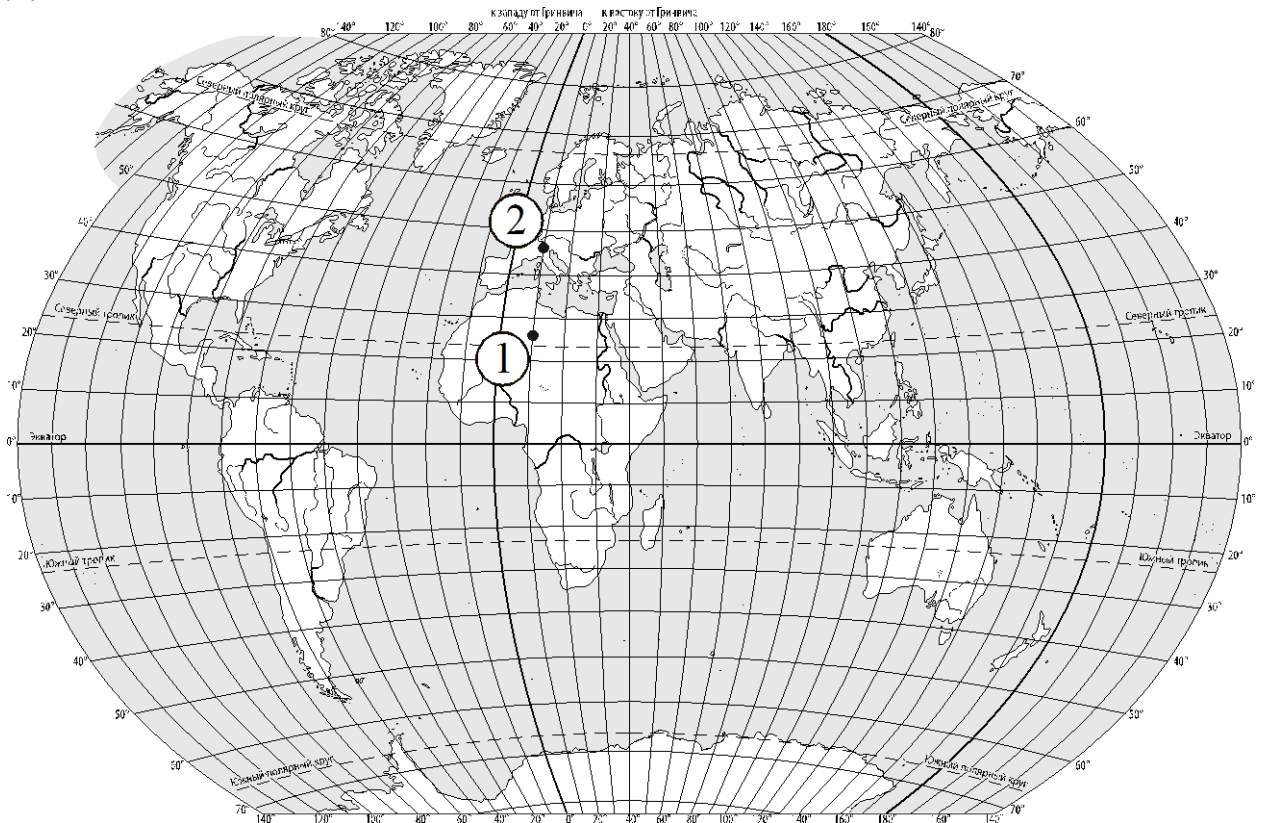
1.1	А – Евразия Б – Южная Америка
-----	----------------------------------

1.2.

Содержание верного ответа и указания по оцениванию	Баллы
Правильный ответ должен содержать следующие <u>элементы</u> : 1) <u>название материка</u> : Евразия; 2) <u>подписи океанов на карте</u> : Индийский, Тихий, Атлантический, Северный Ледовитый	
Правильно указано название материка, подписаны четыре океана	2
Правильно указано название материка, подписаны два-три океана	1
Правильно указано название материка, подписан только один океан. ИЛИ Правильно указано только название материка, ни один океан не подписан / не подписан правильно. ИЛИ Название материка не указано / указано неправильно независимо от наличия/отсутствия подписей океанов	0
<i>Максимальный балл</i>	2

2

2.1.



Содержание верного ответа, критерии и указания по оцениванию		Баллы
<b>K1</b>	<b>Отметка двух точек на карте</b>	<b>1</b>
	Две точки на карте отмечены правильно. <i>Допускается погрешность <math>\pm 1^\circ</math></i>	1
	На карте правильно отмечена только одна точка. ИЛИ Точки не отмечены / отмечены неправильно	0
	<i>Если по критерию K1 выставлен 0 баллов, то по критерию K2 выставляется 0 баллов</i>	
<b>K2</b>	<b>Указание направления</b>	<b>1</b>
	Направление указано правильно: в северном направлении / на север	1
	Направление не указано / указано неправильно	0
<i>Максимальный балл</i>		2

<b>2.2</b>	горы Альпы
------------	------------

3

## 3.1.

Содержание верного ответа и указания по оцениванию	Баллы
Правильный ответ должен содержать <u>ответы на два вопроса</u> : 1) на левом берегу; 2) в северо-восточном направлении / на северо-восток	
Правильно даны ответы на два вопроса	2
Правильно дан ответ только на один любой вопрос	1
Ответы на вопросы не даны / даны неправильно	0
<i>Максимальный балл</i>	2

<b>3.2</b>	150 метров (допускается погрешность $\pm 10$ метров)
------------	---

## 3.3.

Содержание верного ответа и указания по оцениванию	Баллы
Правильный ответ должен содержать следующие <u>элементы</u> : 1) <u>указание объекта</u> : 2 – сенокос; 2) <u>обоснование</u> , например: Маршрут проложен по берегу реки с луговой растительностью, что необходимо для сенокоса, а для санного спуска нужен склон. <i>Обоснование может быть приведено в иной, близкой по смыслу формулировке</i>	
Правильно указан объект, дано обоснование	2
Правильно указан только объект	1
Объект указан неправильно независимо от наличия/отсутствия обоснования. ИЛИ Ответ неправильный	0
<i>Максимальный балл</i>	2

4

<b>4.1</b>	14.00; 19.00
<b>4.2</b>	Анна обедает

## 4.3.

Содержание верного ответа и указания по оцениванию	Баллы
<p>Правильный ответ должен содержать следующие <u>элементы</u>:</p> <p>1) <u>ответ на вопрос</u>: Мария гуляет на свежем воздухе;</p> <p>2) <u>обоснование</u>, например: когда в Калининграде 14 часов, в Томске уже 19 часов, поэтому, когда Анна обедает, Мария уже гуляет;</p> <p>3) <u>указание того, чем обусловлена разница во времени</u>, например: разница во времени обусловлена вращением Земли вокруг своей оси.  <i>Обоснование и/или указание может быть приведено в иной, близкой по смыслу формулировке</i></p>	
Правильно дан ответ на вопрос, представлены обоснование и указание	3
Правильно даны ответ на вопрос и обоснование, указание не дано / дано неправильно. ИЛИ Правильно даны ответ на вопрос и указание, обоснование не дано / дано неправильно	2
Правильно дан только ответ на вопрос.	1
Ответ на вопрос не дан / дан неправильно независимо от наличия/отсутствия других элементов ответа. ИЛИ Ответ неправильный	0
<i>Максимальный балл</i>	3

5

<b>5.1</b>	212211
<b>5.2</b>	А – смешанные леса Б – степь

6

## 6.1.

Содержание верного ответа и указания по оцениванию	Баллы
Правильный ответ должен содержать <u>ответы на два вопроса</u> : 1) в июне; 2) с октября по декабрь / октябрь, ноябрь, декабрь	
Правильно даны ответы на два вопроса	2
Правильно дан ответ только на один любой вопрос	1
Ответы на вопросы не даны / ответы на два вопроса даны неправильно	0
<i>Максимальный балл</i>	2

## 6.2.

	Содержание верного ответа, критерии и указания по оцениванию	Баллы
<b>К1</b>	<b>Указание рисунка</b>	<b>1</b>
	Правильно указан рисунок: А	1
	Рисунок не указан / указан неправильно	0
	<i>Если по критерию К1 выставлен 0 баллов, то по критерию К2 выставляется 0 баллов</i>	
<b>К2</b>	<b>Описание погоды</b>	<b>2</b>
	Правильно представлено описание погоды с учётом всех показателей, отображённых на рисунке знаками, например: в этот день была сплошная облачность, шёл дождь, дул северо-западный ветер, температура воздуха была плюс 24 градуса, влажность воздуха – 82%. <i>Описание может быть приведено в иной, близкой по смыслу формулировке</i>	2
	При описании погоды с учётом показателей, отображённых на рисунке знаками, допущена одна ошибка / не учтён любой один из показателей	1
	В описании погоды допущено две или более ошибки. ИЛИ В описании погоды не учтены два или более показателя. ИЛИ Описание погоды не представлено	0
	<i>Максимальный балл</i>	3

8

## 8.1

Содержание верного ответа и указания по оцениванию	Баллы
Правильный ответ должен содержать следующие <u>элементы</u> : 1) <u>последовательность номеров стран</u> : 1342; 2) <u>ответ на первый вопрос</u> : в Греции; 3) <u>ответ на второй вопрос</u> : в Кении и Австралии	
Правильно указана последовательность номеров стран и даны ответы на два вопроса	2
Правильно указана последовательность номеров стран и дан ответ на один любой вопрос. ИЛИ Правильно даны только ответы на два вопроса	1
Правильно указана только последовательность номеров стран. ИЛИ Правильно дан ответ только на один любой вопрос. ИЛИ Ответ неправильный	0
<i>Максимальный балл</i>	2

<b>8.2</b>	А – Греция Б – Канада В – Кения Г – Австралия
------------	--

9

Содержание верного ответа и указания к оцениванию	Баллы
<b>К1</b> <b>Указание опасного явления природы</b>	<b>1</b>
Правильно определено опасное явление природы: <u>смерч/торнадо</u> . <i>При оценивании как правильный ответ засчитывается любое допустимое название данного явления</i>	1
Опасное явление природы не определено / определено неправильно	0
<i>Если по критерию К1 выставлен 0 баллов, то по всем остальным критериям оценивания выставляется 0 баллов</i>	
<b>К2</b> <b>Описание этого природного явления</b>	<b>1</b>
<i>При оценивании в качестве правильного может быть принято описание природного явления в любом объёме</i>	
Описание содержит основные сведения о природном явлении. Фактических ошибок нет	1
В описании допущены фактические ошибки. ИЛИ Приведены рассуждения общего характера, не содержащие сведений о природном явлении. ИЛИ Описание не представлено	0
<b>К3</b> <b>Пояснение, чем опасно это явление для людей</b>	<b>1</b>
Правильно пояснено, чем опасно это явление для людей	1
Пояснение о том, чем опасно это явление для людей, отсутствует. ИЛИ Ответ неправильный	0
<i>Максимальный балл</i>	3



10

## 10.1.

Указания к оцениванию		Баллы
Правильно указаны название региона и его главный город / населённый пункт / округ / муниципальный район города		1
Правильно указано только название региона. ИЛИ Правильно указан только главный город региона / населённый пункт / округ / муниципальный район города. ИЛИ Ответ неправильный		0
<i>Максимальный балл</i>		<i>1</i>

## 10.2.

Критерии и указания к оцениванию		Баллы
<b>K1</b>	<b>Указание полезных ископаемых на территории региона</b>	<b>1</b>
	Правильно указаны полезные ископаемые, которые добываются на территории региона. <i>При оценивании как правильный ответ засчитывается указание любого количества объектов (одного и более)</i>	1
	Полезные ископаемые, которые добываются на территории региона, не указаны / указаны неправильно	0
	<i>Если по критерию K1 выставлен 0 баллов, то по критерию K2 выставляется 0 баллов</i>	
<b>K2</b>	<b>Описание одного из полезных ископаемых</b>	<b>2</b>
	Описание содержит основные сведения о полезном ископаемом. Фактических ошибок нет	2
	Описание содержит основные сведения о полезном ископаемом. Допущено не более двух фактических ошибок	1
	Приведены сведения, не соответствующие требованию задания	0
<i>Максимальный балл</i>		<i>3</i>

**Система оценивания выполнения всей работы**

Максимальный балл за выполнение работы – 37.

*Рекомендации по переводу первичных баллов в отметки по пятибалльной шкале*

Отметка по пятибалльной шкале	«2»	«3»	«4»	«5»
Первичные баллы	0–9	10–21	22–30	31–37