

**Проверочная работа
по МАТЕМАТИКЕ**

4 КЛАСС

Вариант 2

Инструкция по выполнению работы

На выполнение работы по математике даётся 45 минут. Работа содержит 12 заданий.

В заданиях, после которых есть поле со словом «Ответ», запиши ответ в указанном месте.

В заданиях 5 (пункт 2) и 11 нужно сделать чертёж или рисунок. В задании 10 нужно записать ответ, заполнив приведённую форму.

В заданиях, после которых есть поле со словами «Решение» и «Ответ», запиши решение и ответ в указанном месте.

Если ты хочешь изменить ответ, то зачеркни его и запиши рядом новый.

При выполнении работы нельзя пользоваться учебниками, рабочими тетрадями, справочниками, калькулятором.

При необходимости можно пользоваться черновиком. Записи в черновике проверяться и оцениваться не будут.

Советуем выполнять задания в том порядке, в котором они даны. Для экономии времени пропускай задание, которое не удаётся выполнить сразу, и переходи к следующему. Постарайся выполнить как можно больше заданий.

Желаем успеха!

Таблица для внесения баллов участника

Номер задания	1	2	3	4	5(1)	5(2)	6(1)	6(2)	7	8	9(1)	9(2)	10	11	12	Сумма баллов	Отметка за работу
Баллы																	

6

Семья ходила за грибами. В таблице показано, кто сколько и каких грибов нашёл. Используя эти данные, ответь на вопросы.

	Лисички	Сыроежки	Маслята
Папа	15	6	0
Мама	7	12	8
Сын	9	8	13
Дочь	3	15	7

1) Сколько сыроежек нашла дочь?

Ответ:

2) Кто нашёл грибов больше всех?

Ответ:

7

Найди значение выражения $(245 + 186) \cdot 13 + 63$.

Ответ:

8 Объём бочки 200 л. В пустую бочку вылили 11 десятилитровых и 6 двенадцатилитровых вёдер воды. Сколько ещё литров воды может поместиться в бочке?

Запиши решение и ответ.

Решение.	
Ответ:	

9 Маша решила заняться изучением английского языка. В первый день она занималась 40 мин., а в каждый последующий день тратила на занятия на 5 мин. меньше, чем в предыдущий день. Когда в очередной день она занималась всего 15 мин., мама попросила её уделять занятиям больше времени, и каждый следующий день Маша занималась английским языком на 5 мин. больше, чем в предыдущий день.

1) Сколько минут занималась английским языком Маша на четвёртый день занятий?

Ответ:	
--------	--

2) Сколько всего минут Маша потратила на изучение английского языка в первую неделю занятий?

Ответ:	
--------	--

10

Данила написал сочинение о торговом центре около его дома и нарисовал план торгового центра.

Около нашего дома недавно открылся новый торговый центр. Он небольшой, но очень удобный. В нём есть всё самое необходимое. Если войти в него с улицы, то сразу справа находится магазин «Продукты». Слева от входа находится терминал, в котором мама обычно пополняет себе и мне транспортные карты.

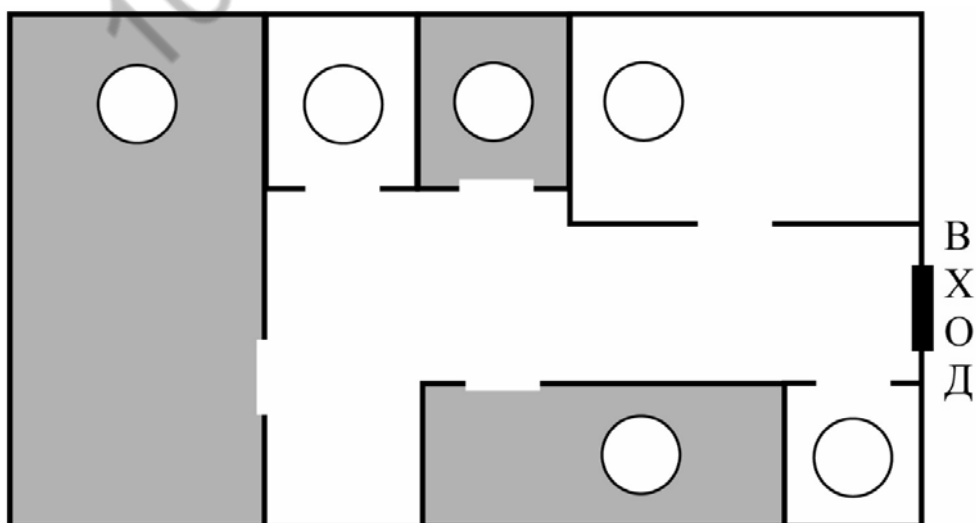
Рядом с терминалом расположен магазин «Зоотовары». Раз в неделю, по выходным, папа покупает в нём большую упаковку корма для нашей собаки Дуси и мячики, с которыми она любит гулять, но часто теряет их.

Самое большое помещение в торговом центре занимает магазин «Спорттовары». Он такой большой, потому что, кроме спортивной одежды и обуви, там есть роликовые коньки, лыжи и даже велосипеды с самокатами. Год назад мне родители купили здесь новый самокат.

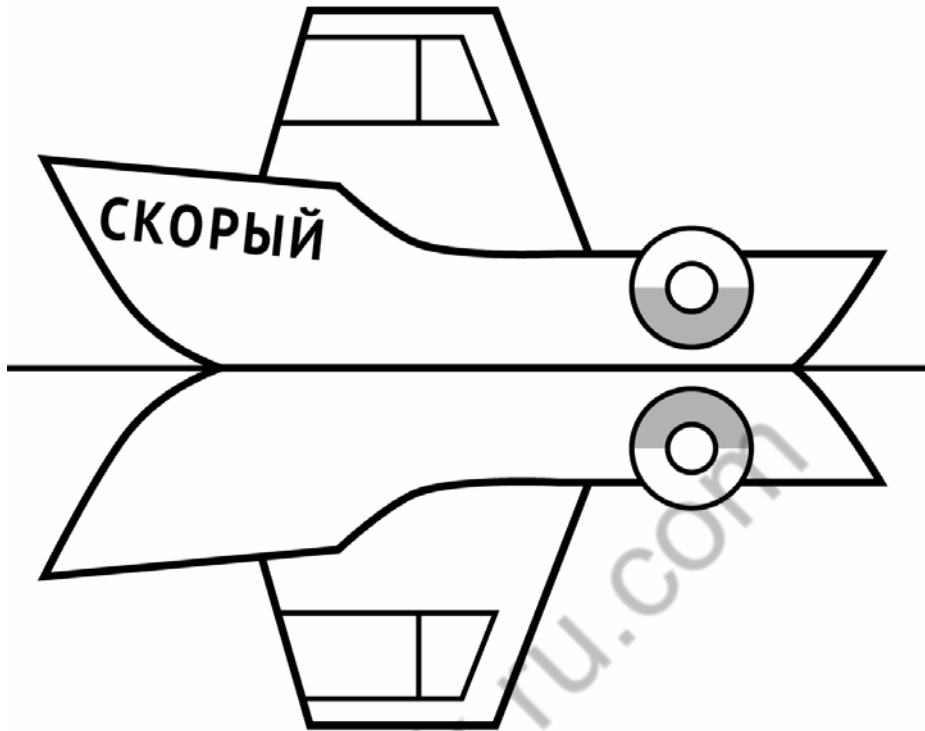
Между спортивным магазином и продуктовым находятся два небольших отдела. Это аптека и магазин «Всё для рукоделия». Аптека расположена ближе к продуктивному магазину, а товары для рукоделия — ближе к спортивным товарам. Моя старшая сестра увлекается вязанием и часто заходит сюда за спицами и пряжей.

Рассмотри план торгового центра. Пользуясь описанием, которое дал Данила, отметь на плане цифрами шесть объектов.

1. Терминал.
2. Магазин «Продукты».
3. Аптека.
4. Магазин «Зоотовары».
5. Магазин «Спорттовары».
6. Магазин «Всё для рукоделия».



- 11 На рисунке изображён катер и его отражение в воде. На борту катера написано название «СКОРЫЙ». Напиши название катера на отражении в воде.



- 12 В коробке лежат синие, красные и зелёные карандаши. Всего их 20 штук. Синих карандашей в 8 раз больше, чем зелёных, а красных меньше, чем синих. Сколько в коробке красных карандашей?

Запиши решение и ответ.

Решение.

Ответ:

Система оценивания проверочной работы

Оценивание отдельных заданий

Номер задания	1	2	3	4	5.1	5.2	6.1	6.2	7	8	9.1	9.2	10	11	12	Итого
Балл	1	1	2	1	1	1	1	1	1	2	1	1	2	2	2	20

Ответы

Номер задания	Правильный ответ
1	72
2	8
4	15 ч 25 мин (Допускается любая иная форма указания времени)
7	5666

Решения и указания к оцениванию

3

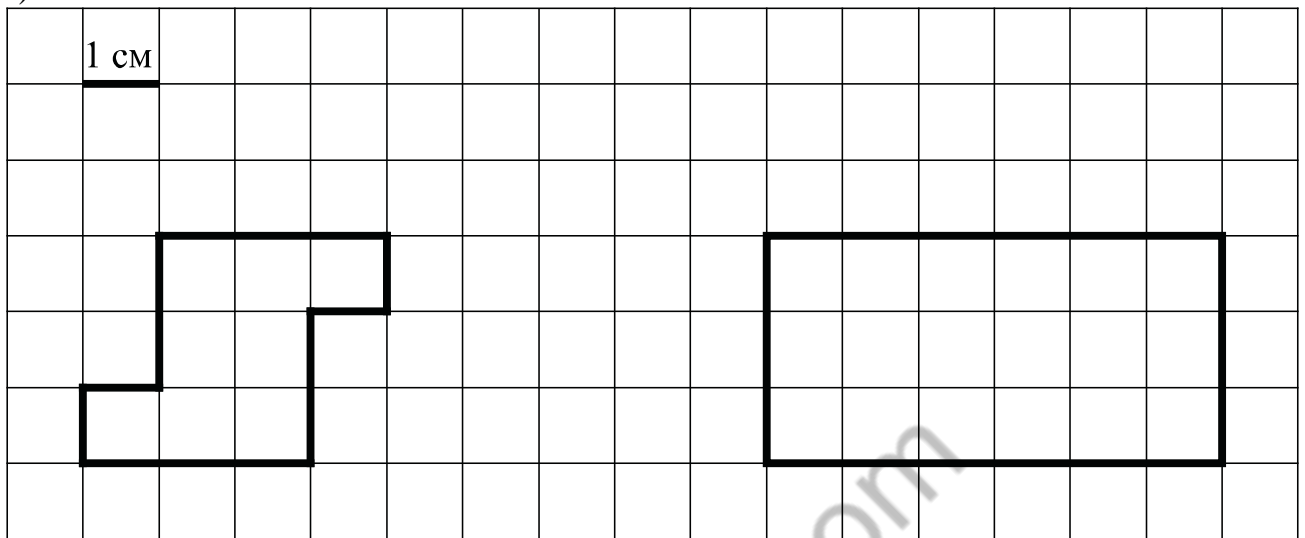
Решение и указания к оцениванию	Баллы
<p>Решение. Три куста чёрной смородины стоят $250 \cdot 3 = 750$ рублей. Стоимость всей покупки $750 + 490 = 1240$ рублей.</p> <p>Допускается другая последовательность действий, обоснованно приводящая к верному ответу.</p> <p>Ответ: 1240 руб.</p>	
Выполнены необходимые вычисления и/или рассуждения, приводящие к ответу, получен верный ответ	2
Выполнены все необходимые вычисления и/или рассуждения, приводящие к ответу, но допущена одна вычислительная ошибка, из-за которой получен неверный ответ	1
Решение не соответствует ни одному из критериев, перечисленных выше	0
<i>Максимальный балл</i>	2

5

Ответ:

1) 14 см

2)



Должно быть зачтено любое другое решение, удовлетворяющее условию.

6

Ответ:

1) 15

2) Сын

8

Указания к оцениванию	Баллы
<p>Решение: 11 десятилитровых вёдер содержат $10 \cdot 11 = 110$ л воды. 6 двенадцатилитровых вёдер содержат $12 \cdot 6 = 72$ л воды. Общий объём вылитой воды равен $110 + 72 = 182$ л. В бочке может ещё поместиться $200 - 182 = 18$ л воды.</p> <p>Допускается другая последовательность действий, обоснованно приводящих к верному ответу.</p> <p>Ответ: 18</p>	
Приведены все необходимые преобразования и/или рассуждения, приводящие к ответу, получен верный ответ	2
Приведены все необходимые преобразования и/или рассуждения, приводящие к ответу, но допущена одна арифметическая ошибка, не нарушающая общей логики решения, в результате чего получен неверный ответ	1
Не приведены необходимые преобразования и/или рассуждения. ИЛИ Приведены неверные рассуждения. ИЛИ В рассуждениях и преобразованиях допущено более одной арифметической ошибки	0
<i>Максимальный балл</i>	2

9

- Ответ:
 1) 25 мин.
 2) 185 мин.

10

Ответ и указания к оцениванию		Баллы
<p>Ответ:</p> 		
Все объекты торгового центра обозначены верно (написаны цифры или названия объектов)		2
Верно обозначено четыре или пять объектов		1
Все иные ситуации, не предусмотренные критериями выставления 2 и 1 балла		0
<i>Максимальный балл</i>		2

11

Ответ и указания к оцениванию		Баллы
<p>Ответ:</p> 		
На рисунке все буквы нарисованы в правильном порядке и в правильном расположении		2
На рисунке буквы нарисованы в правильном порядке и в правильном расположении, но есть одна неверно изображённая буква		1
Приведён ответ, не соответствующий критериям на 1 или 2 балла, ИЛИ ответ отсутствует		0
<i>Максимальный балл</i>		2

12

Указания к оцениванию	Баллы
<p>Решение.</p> <p>Если в коробке зелёных карандашей 3 или больше, то синих карандашей 24 или больше. Тогда всего в коробке больше 20 карандашей. Этот случай невозможен.</p> <p>Если в коробке 1 зелёный карандаш, тогда синих карандашей 8, а красных 11. Получилось, что красных карандашей больше, чем синих, поэтому этот случай тоже невозможен.</p> <p>Если в коробке 2 зелёных карандаша, то синих 16, а красных 2. Этот случай единственный возможный.</p> <p>Допускается другая последовательность действий и рассуждений, обоснованно приводящая к верному ответу.</p> <p>Ответ: 2.</p>	
Проведены необходимые рассуждения и вычисления, получен верный ответ	2
Проведены необходимые рассуждения, но допущена одна ошибка, не нарушающая логики решения, в результате получен неверный ответ ИЛИ подбором найден верный ответ, но не показано, что другие варианты невозможны	1
Не проведены необходимые рассуждения или вычисления ИЛИ допущено более одной ошибки	0
<i>Максимальный балл</i>	2

Система оценивания выполнения всей работы

Максимальный балл за выполнение работы — 20.

Рекомендации по переводу первичных баллов в отметки по пятибалльной шкале

Отметка по пятибалльной шкале	«2»	«3»	«4»	«5»
Первичные баллы	0–5	6–9	10–14	15–20