

ВСЕРОССИЙСКАЯ ПРОВЕРОЧНАЯ РАБОТА**ХИМИЯ
11 КЛАСС****Вариант 2****Инструкция по выполнению работы**

Проверочная работа включает в себя 15 заданий. На выполнение работы по химии отводится 1 час 30 минут (90 минут).

Оформляйте ответы в тексте работы согласно инструкциям к заданиям. В случае записи неверного ответа зачеркните его и запишите рядом новый.

При выполнении работы разрешается использовать следующие дополнительные материалы:

- Периодическая система химических элементов Д.И. Менделеева;
- таблица растворимости солей, кислот и оснований в воде;
- электрохимический ряд напряжений металлов;
- непрограммируемый калькулятор.

При выполнении заданий Вы можете использовать черновик. Записи в черновике проверяться и оцениваться не будут.

Советуем выполнять задания в том порядке, в котором они даны. Для экономии времени пропускайте задание, которое не удаётся выполнить сразу, и переходите к следующему. Если после выполнения всей работы у Вас останется время, Вы сможете вернуться к пропущенным заданиям.

Баллы, полученные Вами за выполненные задания, суммируются. Постарайтесь выполнить как можно больше заданий и набрать наибольшее количество баллов.

Желаем успеха!

Таблица для внесения баллов участника

Номер задания	1	2	3	4	5	6	7	8	9	10	11	12	13	14	15	Сумма баллов	Отметка за работу
Баллы																	

1

Из курса химии Вам известны следующие **способы** разделения смесей: *отстаивание, фильтрование, дистилляция (перегонка), действие магнитом, выпаривание, кристаллизация*. На рис. 1–2 изображены два примера использования некоторых из перечисленных способов.

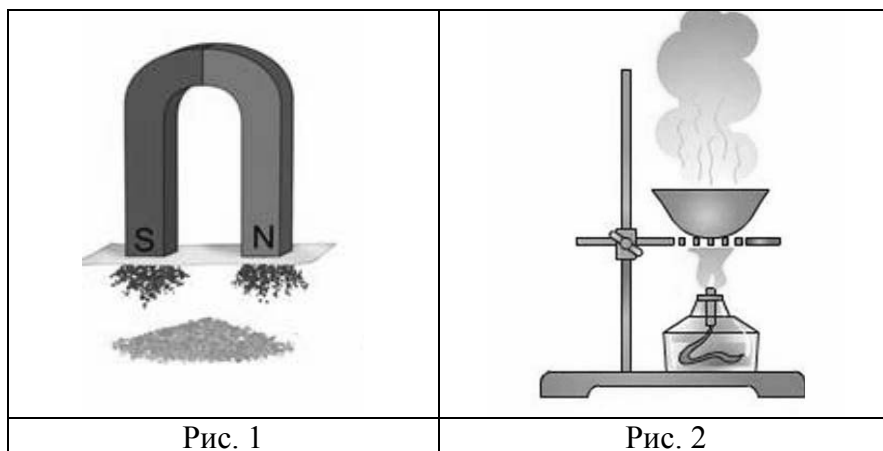


Рис. 1

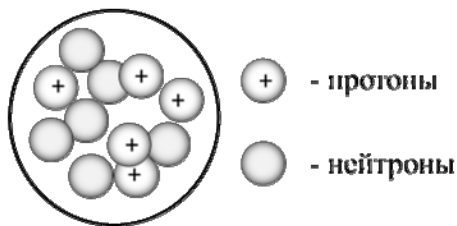
Рис. 2

1. Определите названия способов, которые представлены на каждом из рисунков.
2. Предложите составы двух смесей (каждая из двух веществ), разделить которые можно с помощью этих способов. Используйте вещества из списка: сульфат калия, железные опилки, растительное масло, вода, алюминиевые стружки, крахмал.

Ответ запишите в таблицу:

Номер рисунка	Способ разделения смеси	Вещества-компоненты смеси
1		
2		

2 На рисунке изображена модель ядра атома некоторого химического элемента.



Ознакомьтесь с предложенной моделью и выполните следующие задания:

- 1) запишите символ химического элемента, которому соответствует данная модель атома;
- 2) запишите число электронов в атоме этого элемента и номер группы в Периодической системе химических элементов Д.И. Менделеева, в которой расположен этот элемент;
- 3) определите, к металлам или неметаллам относится простое вещество, которое образует этот элемент.

Ответы запишите в таблицу.

Символ химического элемента	Число электронов	№ группы	Простое вещество

3 Периодическая система химических элементов Д.И. Менделеева – богатое хранилище информации о химических элементах, их свойствах и свойствах их соединений. Так, например, известно, что с увеличением порядкового номера химического элемента кислотные свойства высших гидроксидов в периодах усиливаются, а в группах ослабевают. Учитывая эти закономерности, расположите в порядке усиления кислотных свойств их высших гидроксидов следующие элементы: углерод, бор, бериллий, азот. В ответе запишите символы элементов в нужной последовательности.

Ответ: _____

4

В приведённой ниже таблице перечислены характерные свойства веществ, которые имеют молекулярное и ионное строение.

Характерные свойства веществ	
Молекулярного строения	Ионного строения
<ul style="list-style-type: none">• при обычных условиях могут находиться в жидком, либо в газообразном, либо в твёрдом агрегатных состояниях;• имеют низкие значения температур кипения и плавления;• имеют низкую теплопроводность;• могут обладать запахом	<ul style="list-style-type: none">• при обычных условиях, как правило, твёрдые;• хрупкие;• тугоплавкие;• нелетучие;• в расплавах и растворах проводят электрический ток;• не обладают запахом

Используя данную информацию, определите, какое строение имеют вещества сероводород H_2S и хлорид натрия NaCl .

1) сероводород H_2S _____

2) хлорид натрия NaCl _____

Прочитайте следующий текст и выполните задания 5–7.

Химический элемент сера является шестнадцатым по распространённости элементом в земной коре. В природе сера встречается как в самородном виде, так и в составе различных минералов, таких как HgS – киноварь, ZnS – сфалерит или цинковая обманка, CuS – ковеллин и др. Серу получают главным образом путём выплавки самородной серы непосредственно в местах её залегания под землёй. Её залежам почти всегда сопутствуют скопления ядовитых газов — соединений серы.

Сера химически активна и при нагревании реагирует со многими простыми и сложными веществами. При взаимодействии серы с металлами (Cu , Al) образуются сульфиды. Реагируя с водородом, она образует сероводород. При комнатной температуре сера взаимодействует со фтором, при этом образуется фторид серы(VI). Также она взаимодействует с концентрированными растворами щелочей (KOH), с некоторыми солями и кислотами-окислителями (HNO_3 , H_2SO_4). При горении серы на воздухе образуется оксид серы(IV) (SO_2). Оксид серы(VI) (SO_3) напрямую из серы не получается. Его получают каталитическим окислением оксида серы(IV). Оба оксида серы проявляют кислотный характер и взаимодействуют со щелочами и с основными оксидами с образованием солей.

Сера находит широкое применение в промышленности, сельском хозяйстве, строительстве, медицине. Так, её используют для вулканизации каучука, как фунгицид для борьбы с грибковыми заболеваниями растений, в производстве серобитумных композиций, сера входит в состав различных пиротехнических смесей. Примерно половина производимой серы идет на производство серной кислоты.

5

Сложные неорганические вещества условно можно распределить, то есть классифицировать, по четырём группам, как показано на схеме. В эту схему для каждой из четырёх групп *впишите* по одной химической формуле веществ, из тех, о которых говорится в приведённом выше тексте.



6

1. Составьте уравнение реакции оксида серы(IV) с кислородом.

Ответ: _____

2. Укажите, к какому типу (соединения, разложения, замещения, обмена) относится эта реакция.

Ответ: _____

7

1. Составьте молекулярное уравнение упомянутой в тексте реакции между оксидом серы(IV) и гидроксидом калия.

Ответ: _____

2. Назовите продукты этой реакции.

Ответ: _____

8

При исследовании минерализации бутилированной воды в ней были обнаружены следующие анионы: PO_4^{3-} , NO_3^- , HCO_3^- . Для проведения качественного анализа к этой воде добавили раствор HCl .

1. Какие изменения в растворе можно наблюдать при проведении данного опыта (концентрация веществ достаточная для проведения анализа)?

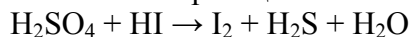
Ответ: _____

2. Запишите сокращённое ионное уравнение произошедшей химической реакции.

Ответ: _____

9

Дана схема окислительно-восстановительной реакции.



1. Составьте электронный баланс этой реакции.

Ответ: _____

2. Укажите окислитель и восстановитель.

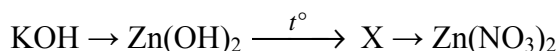
Ответ: _____

3. Расставьте коэффициенты в уравнении реакции.

Ответ: _____

10

Дана схема превращений:




Напишите молекулярные уравнения реакций, с помощью которых можно осуществить указанные превращения.

1) _____

2) _____

3) _____

Для выполнения заданий 11–13 используйте вещества, структурные формулы которых приведены в перечне:



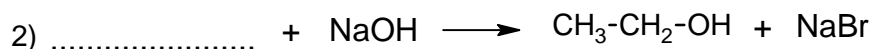
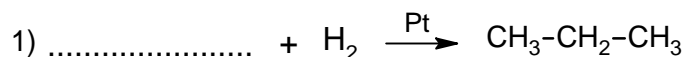
11

Из приведённого перечня выберите вещества, которые соответствуют указанным в таблице классам/группам органических соединений. Запишите в таблицу номера, под которыми указаны эти соединения.

Алкен	Спирт

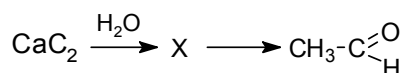
12

В предложенные схемы химических реакций впишите структурные формулы пропущенных веществ, выбрав их из приведённого выше перечня. Расставьте коэффициенты в полученных схемах, чтобы получились уравнения химических реакций.



13

Уксусный альдегид – летучая жидкость с фруктовым запахом. Его используют в производстве уксусной кислоты, некоторых полимеров. В лабораторных условиях уксусный альдегид можно получить в соответствии с приведённой схемой превращений:



Впишите в заданную схему превращений структурную формулу вещества X, выбрав его из предложенного выше перечня. Запишите уравнения двух реакций, с помощью которых можно осуществить эти превращения. При написании уравнений реакций используйте структурные формулы органических веществ.

Ответ:

1) _____

2) _____

Запишите название вещества X.

Ответ: _____

14

Одним из важных понятий в экологии и химии является «предельно допустимая концентрация» (ПДК). ПДК — это такая концентрация вещества в окружающей среде, которая при повседневном воздействии в течение длительного времени не оказывает прямого или косвенного неблагоприятного влияния на настоящее или будущее поколение, не снижает работоспособности человека, не ухудшает его самочувствия и условий жизни.

ПДК хлора в воздухе составляет $0,03 \text{ мг/м}^3$.

В помещении столовой площадью 32 м^2 с высотой потолка 3 м 10 см при влажной уборке с использованием хлорсодержащих дезинфицирующих средств в воздух выделилось $3,6 \text{ мг}$ хлора. Определите, превышает ли концентрация хлора в воздухе данного помещения значение ПДК. Предложите способ, позволяющий снизить концентрацию хлора в помещении.

Ответ: _____

15

Для обработки ожоговых поверхностей кожи используют 2%-ный раствор перманганата калия. Рассчитайте, сколько грамм раствора нужной концентрации можно получить из 5 грамм этой соли, и массу воды, которая потребуется для приготовления этого раствора. Запишите подробное решение задачи.

Ответ: _____

Ответы и критерии оценивания проверочной работы по химии

1	Содержание верного ответа и указания по оцениванию (допускаются иные формулировки ответа, не искажающие его смысла)			Баллы
	Номер рисунка	Способ разделения смеси	Вещества - компоненты смеси	
	1	Действие магнитом	Железные опилки и крахмал (или железные опилки и алюминиевые стружки)	
	2	Выпаривание	Вода и сульфат калия	
Ответ правильный и полный, содержит все названные выше элементы				2
Допущена ошибка в одном из элементов ответа				1
Допущено две и более ошибки				0
<i>Максимальный балл</i>				2

2	Содержание верного ответа и указания по оцениванию (допускаются иные формулировки ответа, не искажающие его смысла)				Баллы
	Символ химического элемента	Число электронов	№ группы	Простое вещество	
	В	5	III	Неметалл	
Ответ правильный и полный, содержит все названные выше элементы					2
Допущена ошибка в одном из элементов ответа					1
Допущено две и более ошибки, или ответ отсутствует					0
<i>Максимальный балл</i>					2

3	Содержание верного ответа и указания по оцениванию (допускаются иные формулировки ответа, не искажающие его смысла)	Баллы
	Записан ряд химических элементов: Be → B → C → N (или Be, B, C, N)	
Указана правильная последовательность символов		1
Последовательность символов записана неверно		0
<i>Максимальный балл</i>		1

4	Содержание верного ответа и указания по оцениванию (допускаются иные формулировки ответа, не искажающие его смысла)	Баллы
	Элементы ответа: 1) Сероводород имеет молекулярное строение. 2) Хлорид натрия имеет ионное строение	
Ответ правильный и полный, содержит все названные выше элементы		2
Допущена ошибка в одном из элементов ответа		1
Все элементы ответа записаны неверно		0
<i>Максимальный балл</i>		2

5

Содержание верного ответа и указания по оцениванию (допускаются иные формулировки ответа, не искажающие его смысла)	Баллы
Элементы ответа: Оксид: SO_2 или SO_3 ; Основание: KOH ; Кислота HNO_3 или H_2SO_4 ; Соль: ZnS или HgS , или CuS	
Ответ правильный и полный, содержит все названные выше элементы	2
Правильно заполнены три ячейки схемы	1
Допущено две и более ошибки	0
<i>Максимальный балл</i>	2

6

Содержание верного ответа и указания по оцениванию (допускаются иные формулировки ответа, не искажающие его смысла)	Баллы
Элементы ответа: 1) $2\text{SO}_2 + \text{O}_2 = 2\text{SO}_3$ 2) реакция соединения	
Ответ правильный и полный, содержит все названные выше элементы	2
Ответ включает один из названных выше элементов	1
Все элементы ответа записаны неверно	0
<i>Максимальный балл</i>	2

7

Содержание верного ответа и указания по оцениванию (допускаются иные формулировки ответа, не искажающие его смысла)	Баллы
Элементы ответа: 1) $\text{SO}_2 + 2\text{KOH} = \text{K}_2\text{SO}_3 + \text{H}_2\text{O}$ 2) сульфит калия и вода	
Ответ правильный и полный, содержит все названные выше элементы	2
Ответ включает один из названных выше элементов	1
Все элементы ответа записаны неверно	0
<i>Максимальный балл</i>	2

8

Содержание верного ответа и указания по оцениванию (допускаются иные формулировки ответа, не искажающие его смысла)	Баллы
Элементы ответа: 1) наблюдается выделение (бесцветного) газа 2) $\text{H}^+ + \text{HCO}_3^- = \text{CO}_2\uparrow + \text{H}_2\text{O}$	
Ответ правильный и полный, содержит все названные выше элементы	2
Допущена ошибка в одном из элементов ответа	1
Все элементы ответа записаны неверно	0
<i>Максимальный балл</i>	2

9

Содержание верного ответа и указания по оцениванию (допускаются иные формулировки ответа, не искажающие его смысла)	Баллы
Элементы ответа: 1) Составлен электронный баланс: $\begin{array}{l} 4 \quad \quad 2\text{I}^{-1} - 2\bar{e} \rightarrow \text{I}_2^0 \\ 1 \quad \quad \text{S}^{+6} + 8\bar{e} \rightarrow \text{S}^{-2} \end{array}$ 2) Указано, что иод в степени окисления -1 (или HI) является восстановителем, а сера в степени окисления $+6$ (или H_2SO_4) – окислителем. 3) Составлено уравнение реакции: $\text{H}_2\text{SO}_4 + 8\text{HI} = 4\text{I}_2 + \text{H}_2\text{S} + 4\text{H}_2\text{O}$	
Ответ правильный и полный, включает в себя все названные выше элементы	3
Допущена ошибка в одном из элементов ответа	2
Допущены ошибки в двух элементах ответа	1
Все элементы ответа записаны неверно	0
<i>Максимальный балл</i>	3

10

Содержание верного ответа и указания по оцениванию (допускаются иные формулировки ответа, не искажающие его смысла)	Баллы
Написаны уравнения реакций, соответствующие схеме превращений: 1) $2\text{KOH} + \text{ZnSO}_4 = \text{Zn}(\text{OH})_2 + 2\text{K}_2\text{SO}_4$ 2) $\text{Zn}(\text{OH})_2 \xrightarrow{t^\circ} \text{ZnO} + \text{H}_2\text{O}$ 3) $\text{ZnO} + 2\text{HNO}_3 = \text{Zn}(\text{NO}_3)_2 + \text{H}_2\text{O}$	
Правильно записаны три уравнения реакций	3
Правильно записаны два уравнения реакций	2
Правильно записано одно уравнение реакции	1
Все уравнения записаны неверно или ответ отсутствует	0
<i>Максимальный балл</i>	3

11

Содержание верного ответа и указания по оцениванию (допускаются иные формулировки ответа, не искажающие его смысла)	Баллы
25	
Записана правильная последовательность цифр	2
В последовательности цифр допущена одна ошибка	1
Последовательность цифр записана неверно	0
<i>Максимальный балл</i>	2

12	Содержание верного ответа и указания по оцениванию (допускаются иные формулировки ответа, не искажающие его смысла)	Баллы
	<p>Элементы ответа:</p> <p>1) $\text{CH}\equiv\text{C}-\text{CH}_3 + 2\text{H}_2 \xrightarrow{\text{Pt}} \text{CH}_3-\text{CH}_2-\text{CH}_3$</p> <p>2) $\text{CH}_3-\text{CH}_2-\text{Br} + \text{NaOH} \longrightarrow \text{CH}_3-\text{CH}_2-\text{OH} + \text{NaBr}$</p>	
	Правильно записаны два уравнения реакций	2
	Правильно записано одно уравнение реакции	1
	Все уравнения записаны неверно	0
	<i>Максимальный балл</i>	2

13	Содержание верного ответа и указания по оцениванию (допускаются иные формулировки ответа, не искажающие его смысла)	Баллы
	<p>Элементы ответа:</p> <p>Написаны уравнения реакций, соответствующие схеме:</p> <p>1) $\text{CaC}_2 + 2\text{H}_2\text{O} \longrightarrow \text{CH}\equiv\text{CH} + \text{Ca}(\text{OH})_2$</p> <p>2) $\text{CH}\equiv\text{CH} + \text{H}_2\text{O} \longrightarrow \text{CH}_3-\overset{\text{O}}{\underset{\text{H}}{\text{C}}}$</p> <p>3) Записано название вещества X: этин или ацетилен</p>	
	Правильно записаны все элементы ответа	3
	Правильно записаны два элемента ответа	2
	Правильно записан один элемент ответа	1
	Все элементы ответа записаны неверно	0
	<i>Максимальный балл</i>	3

14	Содержание верного ответа и указания по оцениванию (допускаются иные формулировки ответа, не искажающие его смысла)	Баллы
	<p>Элементы ответа:</p> <p>1) Определён объём помещения и определена концентрация хлора в нём: V (помещения) = $32 \cdot 3,1 = 99,2 \text{ м}^3$ Содержание хлора = $3,6 / 99,2 = 0,036 \text{ мг/м}^3$</p> <p>2) Сформулирован вывод о превышении ПДК; Значение ПДК хлора в помещении превышает показатель $0,03 \text{ мг/м}^3$;</p> <p>3) Сформулировано одно предложение по снижению содержания хлора в помещении.</p> <p>Возможные варианты: замена хлорсодержащих дезинфицирующих средств на средства, не содержащие хлора, уменьшение количества используемых хлорсодержащих дезинфицирующих средств; регулярное проветривание (вентиляция) помещения</p>	
	Ответ правильный и полный, содержит все названные выше элементы	3
	Правильно записаны два из названных выше элементов ответа	2
	Правильно записан один из названных выше элементов ответа	1
	Все элементы ответа записаны неверно	0
	<i>Максимальный балл</i>	3

15

Содержание верного ответа и указания по оцениванию (допускаются иные формулировки ответа, не искажающие его смысла)		
Элементы ответа: 1) Рассчитана масса раствора перманганата калия: $m(\text{раствора}) = 5 / 0,02 = 250 \text{ г}$ 2) Рассчитана масса воды: $m(\text{воды}) = 250 - 5 = 245 \text{ г}$		
Ответ правильный и полный, содержит все названные выше элементы		2
Допущена ошибка в одном из элементов ответа		1
Все элементы ответа записаны неверно		0
<i>Максимальный балл</i>		2

Система оценивания выполнения всей работы

Максимальный балл за выполнение работы – 33.

Рекомендуемая шкала перевода суммарного балла за выполнение ВПр в отметку по пятибалльной шкале

Отметка по пятибалльной шкале	«2»	«3»	«4»	«5»
Суммарный балл	0–10	11–19	20–27	28–33