

ВСЕРОССИЙСКАЯ ПРОВЕРОЧНАЯ РАБОТА**ФИЗИКА****11 КЛАСС****Вариант 1****Инструкция по выполнению работы**

Проверочная работа включает в себя 18 заданий. На выполнение работы по физике отводится 1 час 30 минут (90 минут).

Оформляйте ответы в тексте работы согласно инструкциям к заданиям. В случае записи неверного ответа зачеркните его и запишите рядом новый.

При выполнении работы разрешается использовать калькулятор и линейку.

При выполнении заданий Вы можете использовать черновик. Записи в черновике проверяться и оцениваться не будут.

Советуем выполнять задания в том порядке, в котором они даны. Для экономии времени пропускайте задание, которое не удаётся выполнить сразу, и переходите к следующему. Если после выполнения всей работы у Вас останется время, Вы сможете вернуться к пропущенным заданиям.

Баллы, полученные Вами за выполненные задания, суммируются. Постарайтесь выполнить как можно больше заданий и набрать наибольшее количество баллов.

Желаем успеха!

Таблица для внесения баллов участника

Номер задания	1	2	3	4	5	6	7	8	9	10	11	12	13	14	15	16	17	18	Сумма баллов	Отметка за работу
Баллы																				

Ниже приведены справочные данные, которые могут понадобиться Вам при выполнении работы.

Десятичные приставки

Наименование	Обозначение	Множитель	Наименование	Обозначение	Множитель
гига	Г	10^9	сантиметры	см	10^{-2}
мега	М	10^6	миллиметры	мм	10^{-3}
кило	к	10^3	микрометры	мкм	10^{-6}
гекто	г	10^2	нанометры	нм	10^{-9}
деци	д	10^{-1}	пикометры	пм	10^{-12}

Константы

ускорение свободного падения на Земле

$$g = 10 \text{ м/с}^2$$

гравитационная постоянная

$$G = 6,7 \cdot 10^{-11} \text{ Н} \cdot \text{м}^2 / \text{кг}^2$$

универсальная газовая постоянная

$$R = 8,31 \text{ Дж}/(\text{моль} \cdot \text{К})$$

скорость света в вакууме

$$c = 3 \cdot 10^8 \text{ м/с}$$

коэффициент пропорциональности в законе Кулона

$$k = 9 \cdot 10^9 \text{ Н} \cdot \text{м}^2 / \text{Кл}^2$$

модуль заряда электрона

$$e = 1,6 \cdot 10^{-19} \text{ Кл}$$

(элементарный электрический заряд)

постоянная Планка

$$h = 6,6 \cdot 10^{-34} \text{ Дж} \cdot \text{с}$$

1 Прочитайте перечень понятий, с которыми Вы встречались в курсе физики:

абсолютно твёрдое тело, фарада, точечный электрический заряд, паскаль, частота колебаний, градус Цельсия, нерастяжимая нить.

Выделите среди этих понятий две группы по выбранному Вами признаку. В каждой группе должно быть не менее двух понятий. Запишите в таблицу название каждой группы и понятия, входящие в эту группу.

Название группы понятий	Перечень понятий

2 Выберите **два** верных утверждения о физических явлениях, величинах и закономерностях. Запишите в ответе их номера.

- 1) Тело движется ускоренно под действием силы трения покоя, сообщаемое этой силой ускорение сонаправлено силе трения покоя.
- 2) Для конденсации жидкости ей необходимо сообщить некоторое количество теплоты.
- 3) При размыкании цепи, содержавшей катушку с железным сердечником, по которой шёл постоянный ток, наблюдается явление самоиндукции.
- 4) Просветление линз и объективов базируется на законах геометрической оптики.
- 5) Фотоны обладают ненулевой массой и могут двигаться в вакууме со скоростями, меньшими или равными 300 000 км/с.

Ответ:

--	--

3 Вертолёт поднимается вертикально с постоянной скоростью. Что представляет собой траектория точки на краю лопасти винта вертолѐта в системе отсѐта, связанной с Землѐй?

Ответ: _____

4 В калориметр с горячей водой температурой 70 °С погрузили стальной цилиндр, взятый при температуре 20 °С. В результате в калориметре установилась температура 60 °С. Затем вместо стального цилиндра в калориметр с той же массой горячей воды той же температуры погрузили свинцовый цилиндр такой же массы, взятый при температуре 20 °С. Удельная теплоёмкость свинца меньше удельной теплоёмкости стали. Какая температура установится в калориметре со свинцовым цилиндром (выше, ниже или равная 60 °С)?

Ответ: _____

5

Узкий пучок белого света после прохождения через стеклянную призму даёт на экране спектр. Запишите цвета спектра в правильной последовательности: **синий, фиолетовый, зелёный, голубой**.

Ответ: _____

6

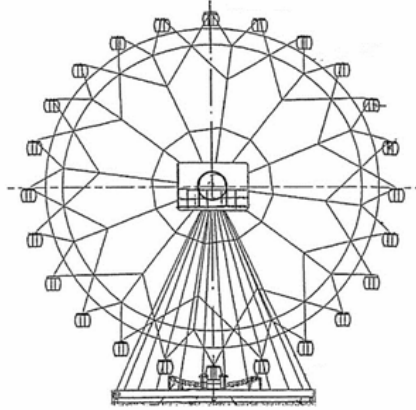
Связанная система элементарных частиц содержит 17 электронов, 20 нейтронов и 17 протонов. Используя фрагмент Периодической системы элементов Д.И. Менделеева, определите ионом или нейтральным атомом какого элемента является эта система.

7 N 14,0067 Азот	8 O 15,9994 Кислород	9 F 18,9984 Фтор	10 Ne 20,183 Неон
15 P 30,9738 Фосфор	16 S 32,064 Сера	17 Cl 35,453 Хлор	18 Ar 39,948 Аргон
23 V 50,942 Ванадий	24 Cr 51,996 Хром	25 Mn 54,938 Марганец	26 Fe 55,847 Железо

Ответ: _____.

7

Турист находится в кабинке равномерно вращающегося колеса обозрения, которое опускает его от верхней точки к нижней (см. рисунок). Как при этом меняются полная механическая энергия туриста и модуль его импульса? Потенциальная энергия отсчитывается от нижнего положения кабинки.



Для каждой величины определите соответствующий характер изменения:

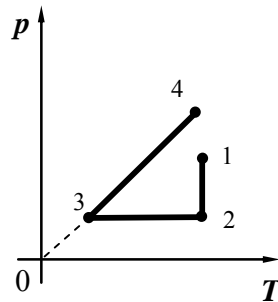
- 1) увеличивается
- 2) уменьшается
- 3) не изменяется

Запишите в таблицу выбранные цифры для каждой физической величины. Цифры в ответе могут повторяться.

Полная механическая энергия туриста	Модуль импульса туриста

8

На графике представлена зависимость давления разреженного воздуха от его температуры. Масса воздуха оставалась неизменной.



Выберите **два** верных утверждения, соответствующих данным графика. Запишите в ответе их номера.

- 1) В процессе 1–2 наблюдалось изотермическое расширение воздуха.
- 2) В процессе 1–2 внутренняя энергия воздуха увеличивалась.
- 3) В процессе 2–3 объём воздуха уменьшался.
- 4) В процессе 2–3 газу сообщали некоторое количество теплоты.
- 5) В процессе 3–4 объём воздуха увеличивался пропорционально увеличению температуры.

Ответ:

--	--

9

В мастерской Ивана Петровича электрическая линия для розеток оснащена автоматическим выключателем, который размыкает линию, если потребляемая включенными приборами суммарная электрическая мощность превышает 5,5 кВт. Напряжение электрической сети 220 В.

В таблице представлены электрические приборы, используемые в мастерской, и потребляемый ими электрический ток при напряжении 220 В.

<i>Электрические приборы</i>	<i>Потребляемый электрический ток, А (при напряжении сети 220 В)</i>
Электрический рубанок	3,6
Электрическая ударная дрель	6,0
Электрический лобзик	2,8
Шлифовальная машина	8,8
Циркулярная пила	7,3
Торцовочная пила	10,0

В мастерской работает шлифовальная машина. Можно ли дополнительно к шлифовальной машине включить в сеть торцовочную пилу? Запишите решение и ответ.

Решение: _____

Ответ: _____

10

Ученик исследовал зависимость силы трения бруска по поверхности стола от массы бруска с грузами. В эксперименте брусок перемещали равномерно и прямолинейно по горизонтальной поверхности с помощью динамометра. В таблице представлены результаты измерений массы бруска с грузами и силы трения с учётом погрешностей измерений.

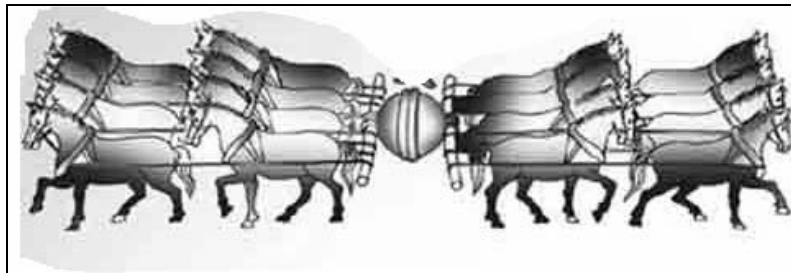
№ опыта	Масса бруска, кг	Сила трения, Н
1	$0,150 \pm 0,005$	$0,60 \pm 0,05$
2	$0,250 \pm 0,005$	$0,95 \pm 0,05$
3	$0,350 \pm 0,005$	$1,45 \pm 0,05$

Каков приблизительно коэффициент трения скольжения бруска по поверхности, на которой проводился эксперимент?

Ответ: _____

11

В 1654 г. бургомистр города Магдебурга, немецкий физик Отто фон Герике проделал опыт, поразивший его современников. Для этого он использовал два металлических полушария диаметром около 14 дюймов (это приблизительно 35,5 см). Полушария плотно прижали, между ними поместили кожаное кольцо, не оставившее между полушариями даже малейшей щели. Затем с помощью насоса откачали воздух из пространства между полушариями. Две восьмёрки лошадей тянули в разные стороны, пытаясь разъединить полушария, но это им не удалось (см. рисунок).

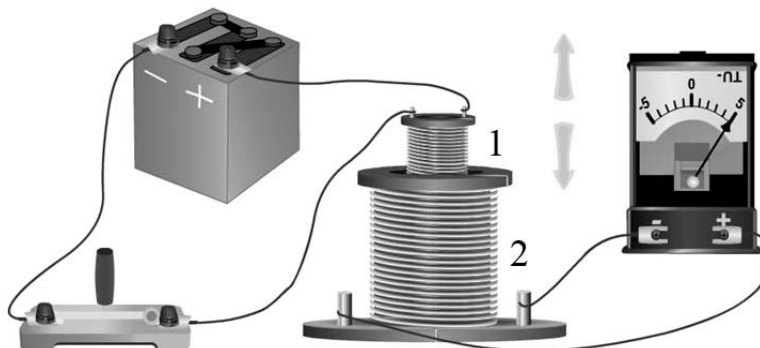


Какой вывод следует из этого опыта?

Ответ: _____

12

На рисунке представлена установка по исследованию явления электромагнитной индукции. В катушку индуктивности 2 вносят катушку 1, по которой протекает постоянный ток. При этом в обмотке катушки 2 возникает индукционный ток, который фиксируется амперметром (на шкале которого «0» посередине). В установке можно изменять ЭДС источника тока.



Вам необходимо исследовать, зависит ли направление индукционного тока, возникающего в катушке 2, от величины модуля вектора магнитной индукции, пронизывающего катушку 2. Имеется следующее оборудование:

- две катушки;
- амперметр (на шкале которого «0» посередине);
- источник тока;
- ключ;
- соединительные провода.

В ответе:

1. Опишите экспериментальную установку.
2. Опишите порядок действий при проведении исследования.



Ответ: _____

13

Установите соответствие между примерами проявления физических явлений и физическими явлениями. Для каждого примера из первого столбца подберите соответствующее физическое явление из второго столбца.

**ПРИМЕРЫ ПРОЯВЛЕНИЯ
ФИЗИЧЕСКИХ ЯВЛЕНИЙ**

- А) изменение направления скорости движения ионов в масс-спектрографе
- Б) возникновение тока в замкнутой катушке в процессе внесения в неё постоянного магнита

ФИЗИЧЕСКИЕ ЯВЛЕНИЯ

- 1) электромагнитная индукция
- 2) действие магнитного поля на проводник с током
- 3) действие магнитного поля на движущиеся заряженные частицы
- 4) действие электрического поля на заряженные частицы

Запишите в таблицу выбранные цифры под соответствующими буквами.

Ответ:

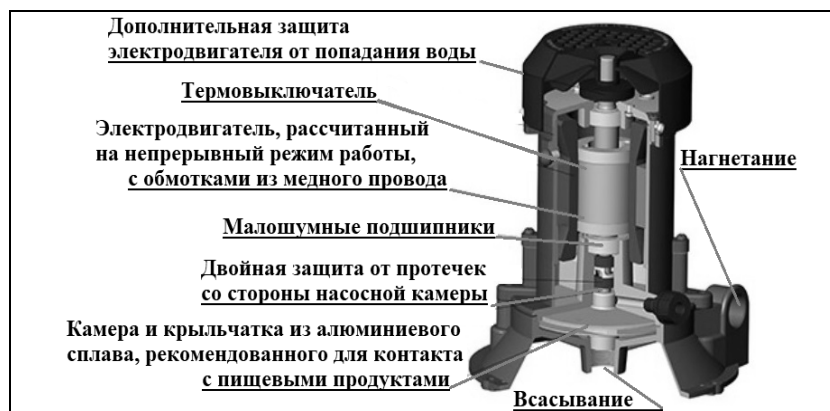
А	Б

Прочитайте фрагмент технического описания центробежного насоса и выполните задания 14 и 15.

Центробежный насос

Центробежный насос состоит из двух основных частей: электродвигателя и камеры с крыльчаткой. Крыльчатка, вращаясь с частотой 2800 об/мин. (около 47 Гц), отбрасывает воду к периферии камеры, где расположен нагнетательный патрубок (трубка). При этом создаётся разрежение по центру, где расположен всасывающий патрубок, соединённый трубой с артезианской скважиной. Насос рассчитан на глубину всасывания до 8 м.

Насос способен работать длительное время благодаря наличию специальной защиты от перегрева. Максимальный создаваемый напор воды – 20 м, производительность – 2,9 м³/ч. Насос относится к классу экономичного оборудования, потребляемая мощность – 370 Вт, напряжение – 220 В. Для круглогодичного забора воды насос помещают в утеплённый приямок, заглубленный ниже уровня промерзания грунта.



Правила монтажа и эксплуатации

1. Монтаж осуществляется при плюсовой температуре воздуха.
2. Запрещается эксплуатация без устройства заземления¹.
3. Нельзя прикасаться к корпусу работающего насоса.
4. Необходимо предохранять электродвигатель от попадания в него воды.

¹Заземление устраивают, используя стальной провод большого сечения, один конец которого присоединяют к насосу, а другой – к железной трубе, заглублённой до уровня верхних грунтовых вод.

14 Почему нельзя эксплуатировать насос при отрицательных температурах?

Ответ: _____

15 Почему заземление выполняют в виде стального провода большого сечения?

Ответ: _____

Прочитайте текст и выполните задания 16, 17 и 18.

Инфразрение

У холоднокровных животных возможно существование инфраглаза. Тепловые «глаза» змеи, получившие название «лицевые ямки», представляют собой специализированные органы, чувствительные к инфракрасному излучению внешних объектов. Лицевые ямки, как правило, расположены впереди и чуть ниже обоих глаз змеи, а их число зависит от вида змеи и может достигать 26 (у питона).

Наиболее изучены лицевые ямки гремучей змеи. Чувствительность лицевой ямки такова, что она может обнаружить человеческую руку или живую мышь на расстоянии 0,5 м. Змея производит бросок тогда, когда температура чувствительной мембраны лицевой ямки повышается всего лишь на 0,003 °С.

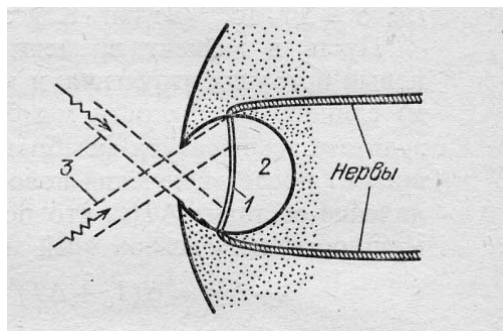


Рис. Разрез «лицевой ямки» змеи: 1 – термочувствительная мембрана; 2 – воздушная полость (3 – инфракрасное излучение)

Глаз-термометр, в отличие от глаза, реагирующего на видимый свет, не содержит линзы и своей конструкцией напоминает камеру-обскуру (см. рис.). Диаметр термочувствительной мембраны, как правило, более чем в 2 раза превышает диаметр внешнего отверстия лицевой ямки. Это обеспечивает частичную фокусировку изображения на поверхности мембраны.

Однако каждая такая ямка обладает лишь примитивной фокусирующей способностью: она даёт возможность различать два отдельных инфракрасных источника только тогда, когда угол между направлениями на них составляет 30–60°. В то же время использование змеей одновременно нескольких таких ямок, имеющих различные перекрывающиеся друг друга зоны обзора, позволяет значительно лучше локализовать направление на цель после обработки мозгом информации от всех терморепцепторов.

16 Вставьте в предложение пропущенные слова (словосочетания), используя информацию из текста.

«Инфраглаз» змеи частично фокусирует _____ за счёт того, что диаметр внешнего отверстия лицевой ямки _____ диаметра термочувствительной мембраны.

17 Какому элементу глаза человека соответствует термочувствительная мембрана инфраглаза?

Ответ: _____

18 Объясните, почему инфразрением могут обладать только холоднокровные животные?

Ответ: _____

