

ВСЕРОССИЙСКАЯ ПРОВЕРОЧНАЯ РАБОТА**ФИЗИКА****11 КЛАСС****Вариант 2****Инструкция по выполнению работы**

Проверочная работа включает в себя 18 заданий. На выполнение работы по физике отводится 1 час 30 минут (90 минут).

Оформляйте ответы в тексте работы согласно инструкциям к заданиям. В случае записи неверного ответа зачеркните его и запишите рядом новый.

При выполнении работы разрешается использовать калькулятор и линейку.

При выполнении заданий Вы можете использовать черновик. Записи в черновике проверяться и оцениваться не будут.

Советуем выполнять задания в том порядке, в котором они даны. Для экономии времени пропускайте задание, которое не удаётся выполнить сразу, и переходите к следующему. Если после выполнения всей работы у Вас останется время, Вы сможете вернуться к пропущенным заданиям.

Баллы, полученные Вами за выполненные задания, суммируются. Постарайтесь выполнить как можно больше заданий и набрать наибольшее количество баллов.

Желаем успеха!

Таблица для внесения баллов участника

Номер задания	1	2	3	4	5	6	7	8	9	10	11	12	13	14	15	16	17	18	Сумма баллов	Отметка за работу
Баллы																				

Ниже приведены справочные данные, которые могут понадобиться Вам при выполнении работы.

Десятичные приставки

Наименование	Обозначение	Множитель	Наименование	Обозначение	Множитель
гига	Г	10^9	сантиметры	см	10^{-2}
мега	М	10^6	миллиметры	мм	10^{-3}
кило	к	10^3	микрометры	мкм	10^{-6}
гекто	г	10^2	нанометры	нм	10^{-9}
деци	д	10^{-1}	пикометры	пм	10^{-12}

Константы

ускорение свободного падения на Земле

$$g = 10 \text{ м/с}^2$$

гравитационная постоянная

$$G = 6,7 \cdot 10^{-11} \text{ Н} \cdot \text{м}^2 / \text{кг}^2$$

универсальная газовая постоянная

$$R = 8,31 \text{ Дж}/(\text{моль} \cdot \text{К})$$

скорость света в вакууме

$$c = 3 \cdot 10^8 \text{ м/с}$$

коэффициент пропорциональности в законе Кулона

$$k = 9 \cdot 10^9 \text{ Н} \cdot \text{м}^2 / \text{Кл}^2$$

модуль заряда электрона

$$e = 1,6 \cdot 10^{-19} \text{ Кл}$$

(элементарный электрический заряд)

постоянная Планка

$$h = 6,6 \cdot 10^{-34} \text{ Дж} \cdot \text{с}$$

1 Прочитайте перечень понятий, с которыми Вы встречались в курсе физики:

генри, давление, кипение, интерференция, кулон, литр, инерция.

Выделите среди этих понятий две группы по выбранному Вами признаку. В каждой группе должно быть не менее двух понятий. Запишите в таблицу название каждой группы и понятия, входящие в эту группу.

Название группы понятий	Перечень понятий

2 Выберите **два** верных утверждения о физических явлениях, величинах и закономерностях. Запишите в ответе их номера.

- 1) Одна и та же сила сообщает телу большей массы меньшее ускорение.
- 2) В системе Солнце – Земля Солнце излучает только тогда, когда в данной местности день, Земля – когда ночь.
- 3) Силой Ампера называют силу, с которой магнитное поле действует на проводник с током.
- 4) Явление дифракции не может наблюдаться для электромагнитных волн длинноволновой части радиодиапазона.
- 5) Период полураспада урана 4,5 млрд лет, что превышает примерно в миллион раз возраст Земли.

Ответ:

--	--

3 Что произойдёт с мячом, неподвижно лежащим на полу вагона движущегося поезда, если поезд повернёт налево?

Ответ: _____

4 Твёрдый нафталин медленно нагревали в сосуде на спиртовке. В таблице приведены результаты измерений его температуры с течением времени.

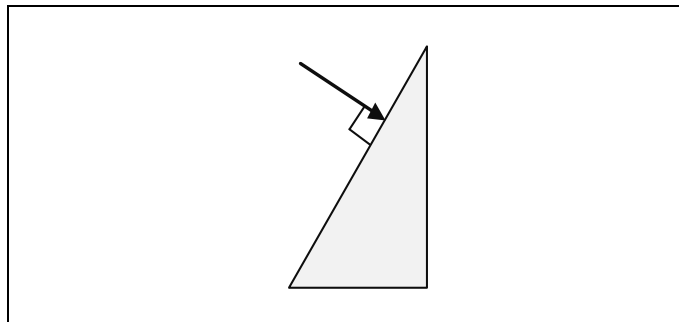
Время, мин.	0	2	4	6	8	10	12	14
Температура, °С	70	76	80	80	80	82	88	95

В каком(-их) агрегатном(-ых) состоянии(-ях) находился нафталин через 10 мин. после начала измерений температуры?

Ответ: _____

5

На одну из граней стеклянной призмы из воздуха падает луч света (см. рисунок, вид сбоку). Изобразите примерный ход луча в призме и после выхода света из стекла в воздух.



6

Какая частица X образуется в ядерной реакции ${}^6_3\text{Li} + {}^1_1\text{p} \longrightarrow X + {}^3_2\text{He}$?

Ответ: _____

7

В термос с водой комнатной температуры положили несколько кубиков льда ($t_{\text{льда}} = 0\text{ }^\circ\text{C}$), после чего термос плотно закрыли. Считая термос идеальным теплоизолятором, укажите, как в пределах нескольких минут изменяются температура воды и масса льда?

Для каждой величины определите соответствующий характер изменения:

- 1) увеличивается
- 2) уменьшается
- 3) не изменяется

Запишите в таблицу выбранные цифры для каждой физической величины. Цифры в ответе могут повторяться.

Температура воды	Масса льда

8

В катушку 2, замкнутую на гальванометр, вносят нижний торец катушки 1, подключённой к источнику тока (рис. 1). При движении катушки 1 в катушке 2 наблюдают возникновение индукционного тока, который фиксируется гальванометром. Изменяя направление и скорость движения катушки 1, получают график зависимости индукционного тока в катушке 2 от времени (рис. 2).

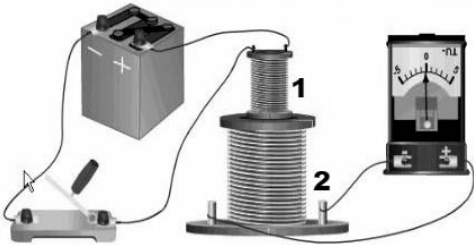


Рис.1

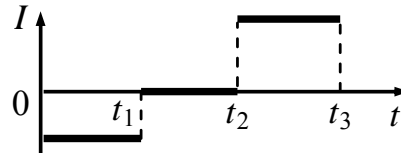


Рис. 2

Выберите **два** верных утверждения, соответствующих данным графика. Запишите в ответе их номера.

- 1) В промежутке времени от t_1 до t_2 катушка 1 покоится относительно катушки 2.
- 2) В промежутке времени от 0 до t_1 катушка 1 движется относительно катушки 2 равноускоренно.
- 3) В промежутке времени от t_2 до t_3 катушку 1 не перемещают относительно катушки 2.
- 4) В промежутке времени от t_2 до t_3 катушка 1 движется относительно катушки 2 с большей скоростью, чем в промежутке от 0 до t_1 .
- 5) В промежутке времени от t_2 до t_3 катушку 1 вносят в катушку 2 нижним торцом.

Ответ:

--	--

9

В таблице приведена верхняя граница частот, воспринимаемых органом слуха некоторых животных.

Животные	Верхняя граница частоты, кГц
Лягушки	30
Тюлени	55
Летучие мыши	150
Дельфины	200

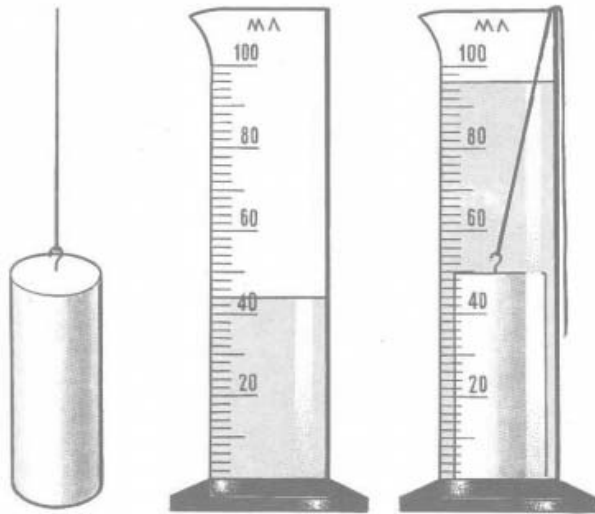
Кто из указанных животных воспринимает ультразвуковой сигнал с длиной волны 2,5 мм? Скорость звука в воздухе принять равной 340 м/с. Запишите решение и ответ.

Решение: _____

Ответ: _____

10

С помощью мензурки измеряли объём тела. Погрешность измерений объёма тела равна цене деления шкалы мензурки (см. рисунок).

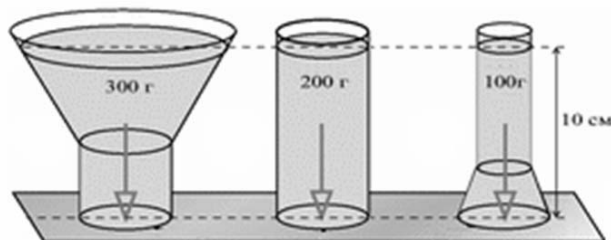


Запишите в ответе объём тела с учётом погрешности измерений.

Ответ: _____ см³.

11

В середине 17 в. Б. Паскаль проделал следующий опыт, известный как «гидростатический парадокс»: прямой цилиндр, а также расширяющийся и сужающийся сосуды (см. рисунок) создают равное давление на свои донья, если плотность и высота налитой в них жидкости одинаковы.



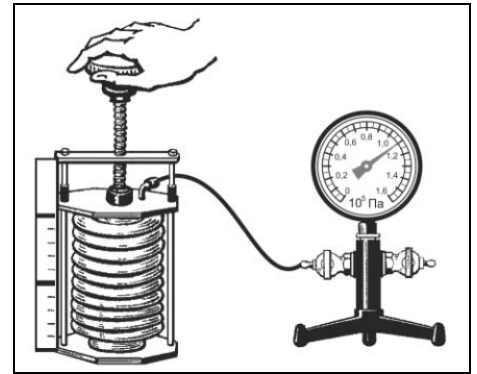
В чём заключается собственно парадокс?

Ответ: _____

12

Вам необходимо исследовать, как меняется давление воздуха при изменении его объёма, если другие параметры воздуха остаются неизменными. Имеется следующее оборудование (см. рисунок):

- сильфон (прибор, при помощи которого можно изменять объём воздуха; сильфон подключается к манометру);
- манометр;
- сосуд с водой;
- горелка.



В ответе:

1. Опишите экспериментальную установку.
2. Опишите порядок действий при проведении исследования.



Ответ: _____

13

Для каждого примера проявления физических явлений из первого столбца подберите соответствующее название физического явления из второго столбца. Запишите в таблицу выбранные цифры под соответствующими буквами.

ПРИМЕРЫ

- А) При ускорении поезда мячик начинает катиться против направления движения поезда.
- Б) Струя воды отклоняется, притягиваясь к заряженной пластмассовой расчёске.

ФИЗИЧЕСКИЕ ЯВЛЕНИЯ

- 1) электризация тела при трении
- 2) электризация тела через влияние
- 3) инерция
- 4) гравитация



Ответ:

А	Б

Прочитайте фрагмент технического описания пылесоса и выполните задания 14 и 15.

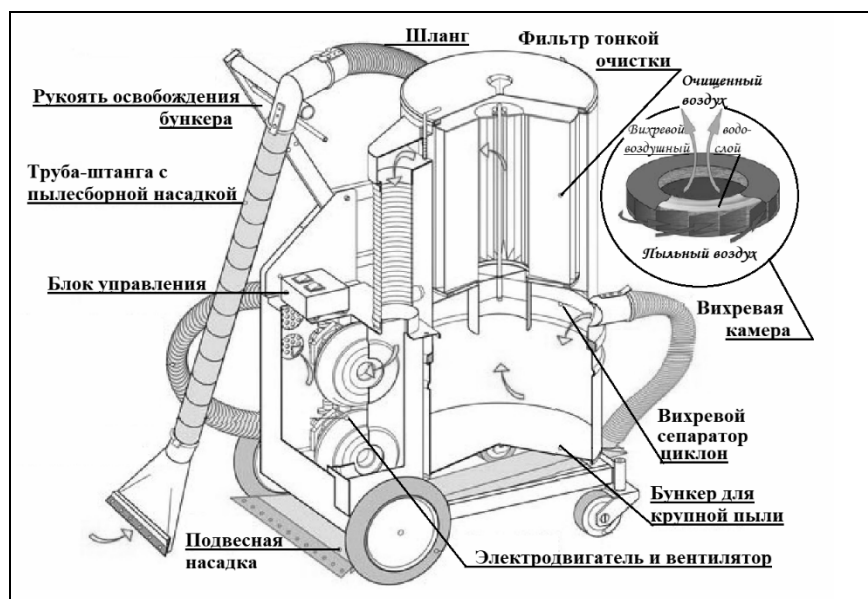
Пылесос

Устройство пылесоса с момента его изобретения в 1860-х гг. осталось в основном прежним. Электровентилятор, создавая разрежение в камере, засасывает через шланг с насадками пыль вместе с воздухом. Затем пропускает воздух с пылью через несколько пылеуловителей (фильтров), и выталкивает воздух наружу.

В промышленных пылесосах крупный мусор, попадая из шланга в камеру-бункер, где скорость воздушного потока ниже, оседает на дно. Более мелкие частицы, вовлекаясь в спиралевидное движение в сепараторе-циклоне, относятся на периферию. При этом фильтры тонкой очистки, выполненные из пористого материала, способны задерживать частицы пыли размером меньше микрона.

В ряде моделей перед фильтром размещают вихревую камеру с пенным водо-воздушным слоем, обеспечивающим улавливание пыли за счёт её смачивания. В таких пылесосах есть специальный бункер с водой.

Современные пылесосы (мощностью до 3 кВт) – сложные приборы, они оснащены системой автоматики, которая может, например, реагируя на уменьшение разрежения в камере, сигнализировать о заполнении бункера, мешка фильтра и т.п.



Правила эксплуатации

1. Не оставляйте включённый пылесос без присмотра.
2. Не отсоединяйте пылесос от сети, держась за кабель.
3. Не трогайте влажными руками вилку или пылесос.
4. Не допускайте контакта волос, одежды, пальцев с отверстиями в корпусе пылесоса.
5. Не используйте пылесос для сбора воды и горючих веществ (бензин, керосин).

14

Почему пылесосы с вихревой камерой требуют не только очистки бункера, но и замены воды?

Ответ: _____

15

Почему нельзя собирать разлитый бензин пылесосом?




Ответ: _____

Прочитайте текст и выполните задания 16, 17 и 18.

Гамма-излучение

Гамма-излучение было открыто в начале XX в. при изучении радиоактивного излучения радия. Гамма-излучение – широкий диапазон электромагнитного спектра, поскольку он не ограничен со стороны высоких энергий. Мягкое гамма-излучение с энергией от 100 кэВ образуется при энергетических переходах внутри атомных ядер. Более жёсткое, с энергией от 10 МэВ, – при ядерных реакциях. Существуют космические гамма-лучи, которые почти полностью задерживаются атмосферой Земли, поэтому наблюдать их можно только из космоса.



На рисунке – фотография неба в гамма-лучах с энергией 100 МэВ. Обзор в диапазоне жёсткого гамма-излучения выполнен космической гамма-обсерваторией «Комптон», которая была запущена по программе NASA «Великие обсерватории» и с 1991 по 2000 г. вела наблюдения в диапазоне от жёсткого рентгена до жёсткого гамма-излучения. На фотографии отчётливо видна плоскость Галактики, где излучение формируется в основном остатками сверхновых. Яркие источники вдали от плоскости Галактики имеют в основном внегалактическое происхождение.

Гамма-кванты сверхвысоких энергий (от 100 ГэВ) рождаются при столкновении заряженных частиц, разогнанных мощными электромагнитными полями космических объектов или земных ускорителей элементарных частиц. В атмосфере они разрушают ядра атомов, порождая каскады частиц, летящих с околосветовой скоростью. При торможении эти частицы испускают свет, который наблюдают с помощью специальных телескопов на Земле.

Где и как образуются гамма-лучи ультравысоких энергий (от 100 ТэВ¹), пока не вполне ясно. Земным технологиям такие энергии недоступны. Самые энергичные наблюдаемые кванты (10^{20} – 10^{21} эВ), приходят из космоса крайне редко – примерно один квант в 100 лет на квадратный километр.

Гамма-кванты негативно воздействуют на организм человека и являются мутагенным фактором. Обладая высокой проникающей способностью, они ионизируют и разрушают молекулы, которые, в свою очередь, начинают ионизировать следующую порцию молекул. Происходит трансформация клеток и появление мутированных клеток, которые не способны исполнять возложенные на них функции.

Несмотря на опасность таких лучей, их используют в различных областях, соблюдая необходимые меры защиты, например для стерилизации продуктов, обработки медицинского инструментария и техники, контроля над внутренним состоянием ряда изделий, а также для культивирования растений.



В последнем случае мутации сельскохозяйственных культур позволяют использовать их для выращивания на территории стран, изначально к этому не приспособленных. Применяются гамма-лучи и при лечении различных онкологических заболеваний. Метод получил название лучевой терапии.

$$1 \text{ ТэВ} = 10^{12} \text{ эВ}; 1 \text{ эВ} = 1,6 \cdot 10^{-19} \text{ Дж.}$$

16

Вставьте в предложение пропущенные слова (сочетания слов), используя информацию из текста.

Земные организмы защищены от воздействия космических гамма-квантов, так как они задерживаются _____. Для наблюдения этого гамма-излучения используют гамма-телескопы, расположенные _____.

17

Энергия кванта определяется по формуле $E = h\nu$. Оцените частоту гамма-излучения, образующегося при энергетических переходах внутри атомных ядер.

Ответ: _____

18

Почему гамма излучение используют для стерилизации продуктов и медицинских инструментов?

Ответ: _____

