

ВСЕРОССИЙСКАЯ ПРОВЕРОЧНАЯ РАБОТА**БИОЛОГИЯ
11 КЛАСС****Вариант 1****Инструкция по выполнению работы**

Проверочная работа состоит из одной части и включает в себя 14 заданий. На выполнение работы по биологии отводится 1 час 30 минут (90 минут).

Ответом к заданиям является последовательность цифр, число, слово (словосочетание) или короткий свободный ответ, который записывается в отведённом для этого месте работы. В случае записи неверного ответа зачеркните его и запишите рядом **новый**.

При выполнении заданий Вы можете пользоваться черновиком. Записи в черновике не учитываются при оценивании работы. Советуем выполнять задания в том порядке, в котором они даны. Для экономии времени пропускайте задание, которое не удаётся выполнить сразу, и переходите к следующему. Если после выполнения всей работы у Вас останется время, Вы сможете вернуться к пропущенным заданиям.

Баллы, полученные Вами за выполненные задания, суммируются.

Постарайтесь выполнить как можно больше заданий и набрать наибольшее количество баллов.

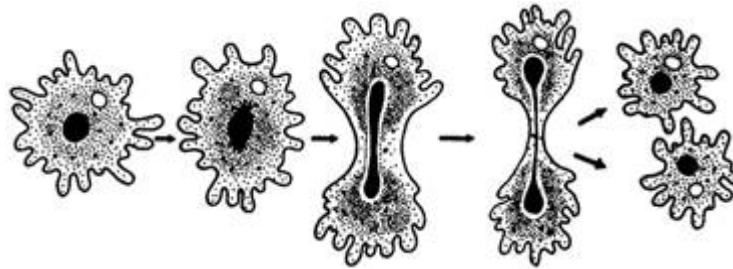
Желаем успеха!

Таблица для внесения баллов участника

Номер задания	1.1	1.2	2.1	2.2	2.3	3	4	5	6.1	6.2	7	8	9	10.1	10.2	11.1	11.2	12.1	12.2	
Баллы																				

Номер задания	12.3	13	14	Сумма баллов	Отметка за работу
Баллы					

- 1 На рисунке изображён пример, иллюстрирующий присущее всем живым организмам свойство воспроизведения себе подобных, обеспечивающее непрерывность и преемственность жизни.



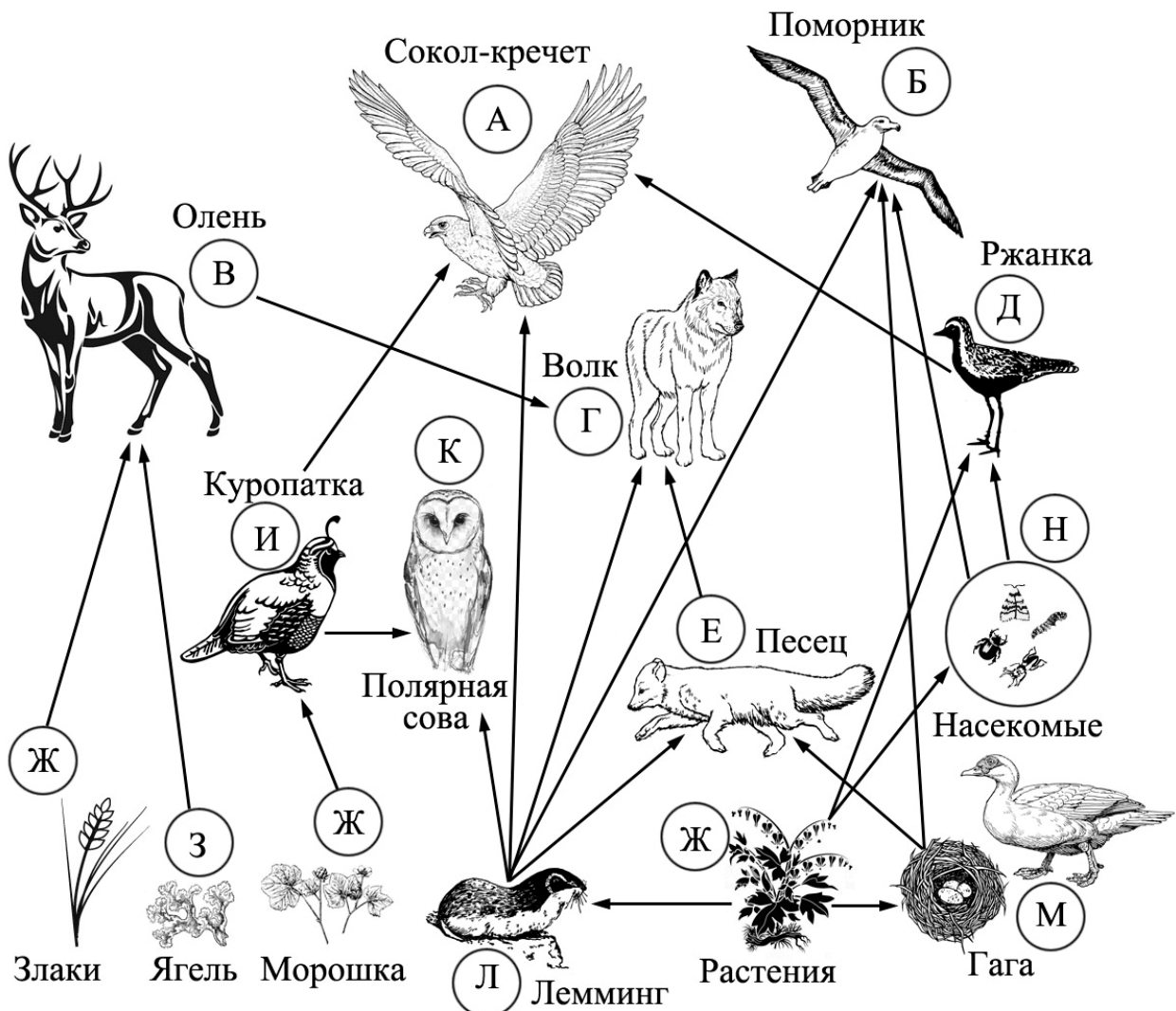
1.1. Какой тип размножения амёбы – половой или бесполой – иллюстрирует данный процесс?

Ответ: _____

1.2. Приведите пример аналогичного явления у растений.

Ответ: _____

- 2 Изучите фрагмент экосистемы тундры, представленный на рисунке, и выполните задания.



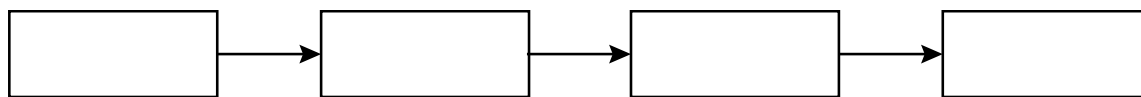
2.1. Выберите из приведённого ниже списка два понятия, которые можно использовать для экологического описания лемминга.

- 1) детритофаг
- 2) холоднокровное животное
- 3) консумент II или III порядка
- 4) консумент I порядка
- 5) растительноядное животное

Ответ:

--	--

2.2. Составьте пищевую цепь из четырёх организмов, в которую входит ржанка, начиная с продуцентов. В ответе запишите последовательность букв.

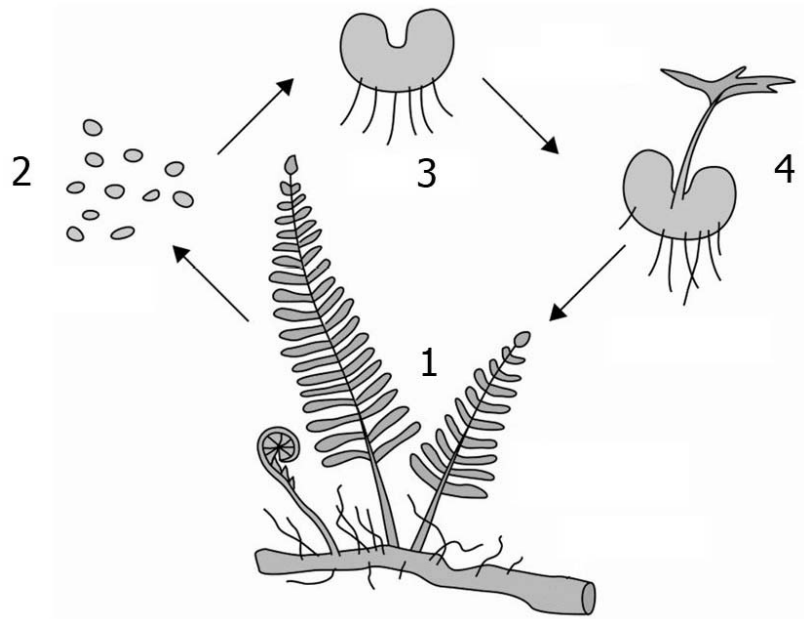


2.3. Правило гласит: «Не более 10% энергии поступает от каждого предыдущего трофического уровня к последующему». Рассчитайте величину энергии (в кДж), которая переходит на уровень песка при чистой годовой первичной продукции экосистемы, составляющей 470 000 кДж. Поясните свои расчёты.

Ответ:

3

Рассмотрите рисунок, на котором представлена схема жизненного цикла папоротника. Какие клетки продуцирует стадия, обозначенная цифрой 3?

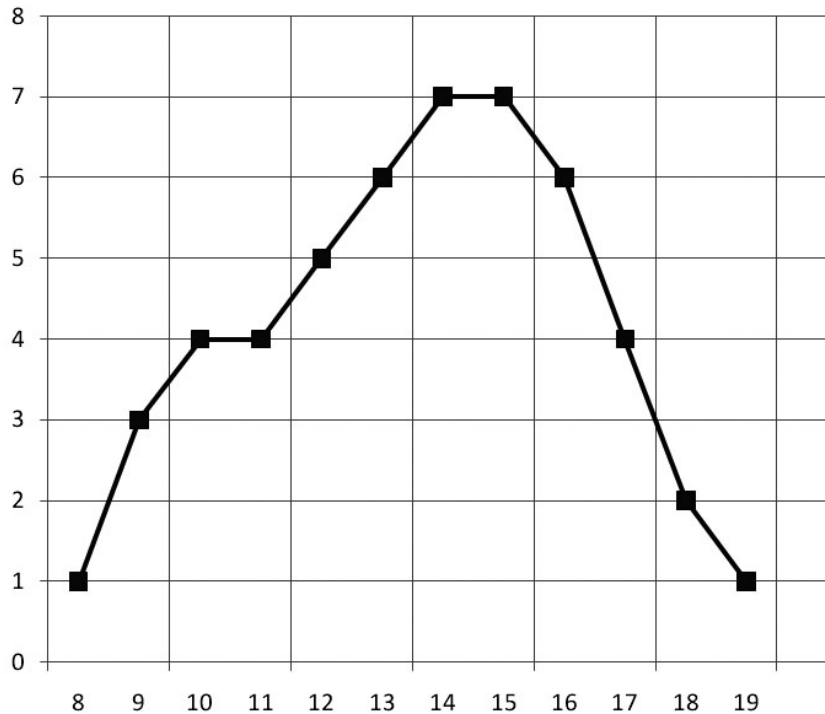


□

Ответ: _____

4

Михаил изучал вариации длины семян у тыквы. По результатам измерений длины различных семян Михаил построил график (по оси x отложена длина семян (в мм), а по оси y – частота встречаемости семян (в усл. ед.)).



Какая длина семян у наибольшего числа растений?

Ответ: _____

5

Установите последовательность соподчинения элементов биологических систем, начиная с наибольшего.

Элементы:

- 1) мышечная клетка
- 2) гладкая мышечная ткань
- 3) человек
- 4) большой круг кровообращения
- 5) аорта
- 6) кровеносная система

Запишите в таблицу соответствующую последовательность цифр.

Ответ:

--	--	--	--	--	--

6

6.1. Витамин А – важный витамин, необходимый для нормальной жизнедеятельности организма человека. Он стимулирует рост, развитие организма, является основой формирования родопсина, основного зрительного пигмента. При недостатке витамина А ухудшается зрение, состояние кожи человека, замедляется рост, снижается иммунная реакция. Для того чтобы организм не испытывал проблем, человеку в сутки необходимо примерно 70–90 мг витамина А.

Продукты	Содержание витамина А, мг/100 г продукта	Продукты	Содержание витамина А, мг/100 г продукта
Печень куриная	12	Сметана 30%	0,23
Икра красная	0,45	Брынза	0,12
Сыр плавленый	0,15	Сыр	0,3
Кефир жирный	0,02	Мясо куриное	0,09
Простокваша	0,02	Ацидофилин	0,02
Мясо кролика	0,01	Рыбий жир	19
Треска	0,01	Какао порошок	0,02
Творог жирный	0,1	Молоко сгущённое с сахаром	0,04

Используя данные таблицы, рассчитайте количество витамина А, которое человек получил во время завтрака, если в его рационе было 150 г жирного творога, 45 г сыра и 170 г какао. Ответ округлите до десятых.

Ответ: _____

6.2. К какой группе относят витамин А по растворимости в разных веществах?

Ответ: _____

7

Определите происхождение болезней, приведённых в списке. Запишите номер названия каждой болезни из списка в соответствующую ячейку таблицы. В ячейках таблицы может быть записано несколько номеров.

Список болезней человека:

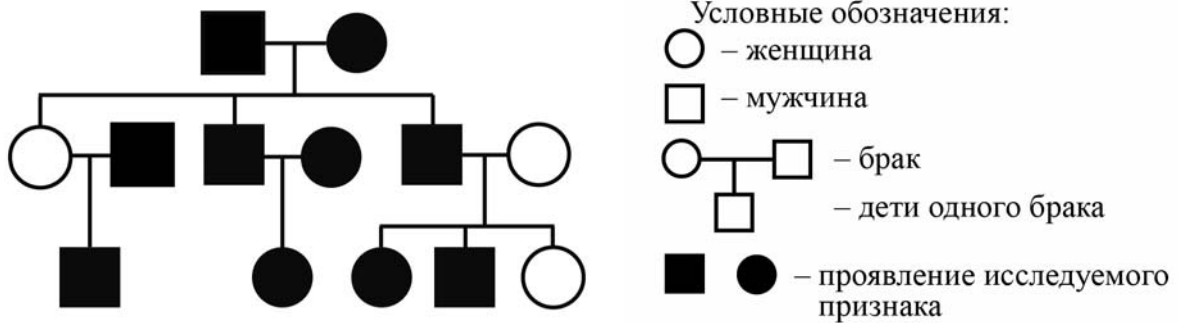
- 1) пневмония
- 2) амнезия
- 3) гепатит С
- 4) синдром Дауна
- 5) мочекаменная болезнь

Наследственное заболевание	Приобретённое заболевание	
	Инфекционное	Неинфекционное

8

В медицинской генетике широко используется **генеалогический метод**. Он основан на составлении родословной человека и изучении наследования того или иного признака. В подобных исследованиях используются определённые обозначения. Изучите фрагмент родословного древа одной семьи, у некоторых членов которой полидактилия.

Фрагмент родословного древа семьи



Используя предложенную схему, определите, доминантным или рецессивным является данный признак, и сцеплен ли он с половыми хромосомами.

Ответ: _____

9

Селекционер скрестил растения чистой линии кукурузы с окрашенными семенами и растения чистой линии кукурузы с неокрашенными семенами. В результате скрещивания получилось гибридное потомство с окрашенными семенами. Определите генотипы исходных растений и полученного гибридного потомства по указанному признаку.

Ответы занесите в таблицу.

Генотип исходного растения с окрашенными семенами	Генотип исходного растения с неокрашенными семенами	Генотип полученного гибридного потомства с окрашенными семенами

10

Полина решила сдать кровь в качестве донора. При заборе крови ей определили группу, и выяснилось, что у Полины первая группа. Полина знает, что у её матери вторая группа крови.

		Группа крови отца				
		I (0)	II (A)	III (B)	IV (AB)	
Группа крови матери	I (0)	I (0)	I (0) II (A)	I (0) III (B)	II (A) III (B)	Группа крови ребенка
	II (A)	I (0) II (A)	I (0) II (A)	любая	II (A) III (B) IV (AB)	
	III (B)	I (0) III (B)	любая	I (0) III (B)	II (A) III (B) IV (AB)	
	IV (AB)	II (A) III (B)	II (A) III (B) IV (AB)	II (A) III (B) IV (AB)	II (A) III (B) IV (AB)	

10.1. Какой группы может быть кровь у отца Полины?



Ответ: _____

10.2. Руководствуясь правилами переливания крови, определите, может ли Полина быть донором крови для своего отца.

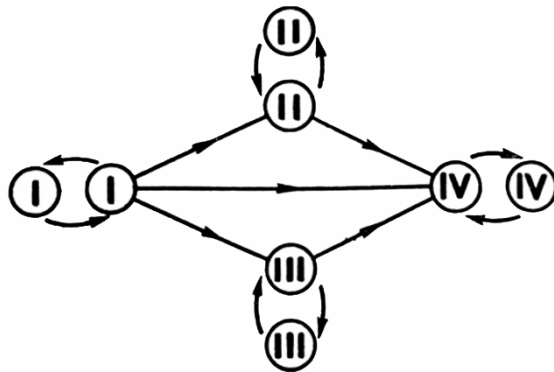


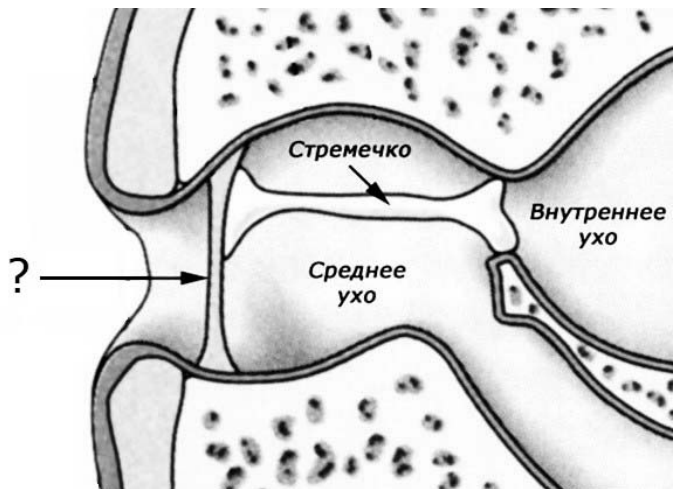
Рис. Правила переливания крови



Ответ: _____

11

При выходе позвоночных животных на сушу их орган слуха в ходе эволюции начал постепенно усложняться.



11.1. К какому классу (классам) относятся животные, имеющие ухо, схема строения которого изображена на рисунке?

Ответ: _____

11.2. Как называется структура уха, обозначенная вопросительным знаком? Какие отделы органа слуха разделяет данная структура?

Ответ: _____

12

Фрагмент иРНК имеет следующую последовательность:

УУЦУУАЦЦЦАУЦГЦ

Определите последовательность участка ДНК, послужившего матрицей для синтеза этой молекулы РНК, и последовательность белка, которая кодируется этим фрагментом иРНК. При выполнении задания воспользуйтесь правилом комплементарности и таблицей генетического кода.

Таблица генетического кода (иРНК)

Первое основание	Второе основание				Третье основание
	У	Ц	А	Г	
У	Фен	Сер	Тир	Цис	У
	Фен	Сер	Тир	Цис	Ц
	Лей	Сер	—	—	А
	Лей	Сер	—	Три	Г
Ц	Лей	Про	Гис	Арг	У
	Лей	Про	Гис	Арг	Ц
	Лей	Про	Глн	Арг	А
	Лей	Про	Глн	Арг	Г
А	Иле	Тре	Асн	Сер	У
	Иле	Тре	Асн	Сер	Ц
	Иле	Тре	Лиз	Арг	А
	Мет	Тре	Лиз	Арг	Г
Г	Вал	Ала	Асп	Гли	У
	Вал	Ала	Асп	Гли	Ц
	Вал	Ала	Глу	Гли	А
	Вал	Ала	Глу	Гли	Г

Правила пользования таблицей

Первый нуклеотид в триплете берётся из левого вертикального ряда; второй – из верхнего горизонтального ряда и третий – из правого вертикального. Там, где пересекутся линии, идущие от всех трёх нуклеотидов, и находится искомая аминокислота.

Ответ:

12.1 ДНК: _____

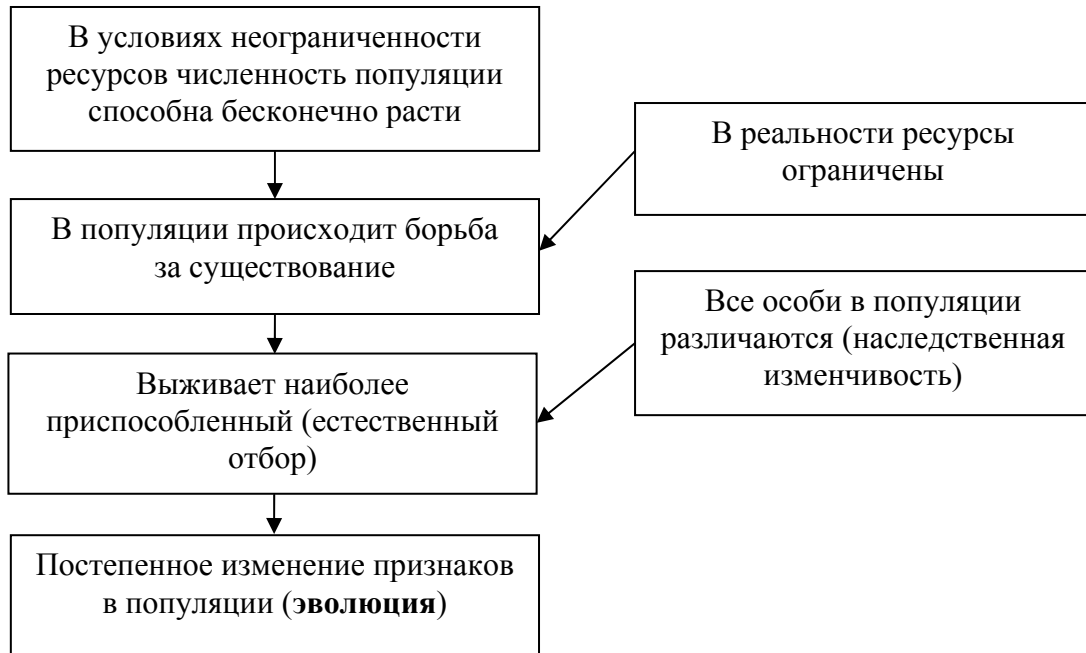
12.2 Белок: _____

12.3. При расшифровке генома ржи было установлено, что во фрагменте молекулы ДНК доля аденина составляет 30%. Пользуясь правилом Чаргаффа, описывающим количественные соотношения между различными типами азотистых оснований в ДНК ($G + T = A + C$), рассчитайте долю нуклеотидов с гуанином в этой пробе (в %).

Ответ: _____

13

Современную эволюционную теорию, согласно учению Дарвина, можно представить в виде следующей схемы.




Объясните, руководствуясь этой схемой, образование плодов с крючками у предковых форм современного репейника.



Ответ: _____

14

На рисунке изображён плезиозавр – вымершее животное, обитавшее примерно 200–67 млн лет назад.



Используя фрагмент геохронологической таблицы, установите эру и периоды, в которых обитал данный организм, а также установите родственную ему группу животных.

Геохронологическая таблица

ЭРА		Период и продолжительность (в млн лет)	Животный и растительный мир
Название и продолжительность (в млн лет)	Начало (млн лет назад)		
Кайнозойская, 67	67	Антропоген, 1,5	Появление и развитие человека. Формирование существующих растительных сообществ. Животный мир принял современный облик
		Неоген, 23,5	Господство млекопитающих и птиц
		Палеоген, 42	Появление хвостатых лемуринов, позднее – парапитеков, дриопитеков. Бурный расцвет насекомых. Продолжается вымирание крупных пресмыкающихся. Исчезают многие группы головоногих моллюсков. Господство покрытосеменных растений
Мезозойская, 163	230	Мел, 70	Появление высших млекопитающих и настоящих птиц, хотя зубастые птицы ещё распространены. Преобладают костистые рыбы. Сокращение многообразия папоротников и голосеменных растений. Появление и распространение покрытосеменных растений
		Юра, 58	Появление первых птиц, примитивных млекопитающих, расцвет динозавров. Господство голосеменных. Процветание головоногих моллюсков
		Триас, 35	Начало расцвета пресмыкающихся. Появление костистых рыб

Палеозойская, 295	Нет точных данных	Пермь, 55	Вымирание трилобитов. Возникновение зверозубых пресмыкающихся. Исчезновение каменноугольных лесов
		Карбон, 63	Расцвет земноводных. Появление первых пресмыкающихся. Характерно разнообразие насекомых. Расцвет гигантских хвощей, плаунов, древовидных папоротников
		Девон, 60	Быстрая эволюция рыб. В позднем девоне многие группы древних рыб вымерли. Суша подверглась нашествию множества членистоногих. Появились первые земноводные. Появились споровые хвощи и плауны
		Силур, 25	Происходит активное рифостроительство. Распространены ракоскорпионы. Растения заселяют берега водоёмов
		Ордовик, 42	Множество бесчелюстных рыб. Появляются различные виды водорослей. В конце появляются первые наземные растения
		Кембрий, 56	В ходе грандиозного эволюционного взрыва возникло большинство современных типов животных. В океанах и морях многообразие водорослей

Эра: _____

Периоды: _____



Ближайшие родственники среди современных животных: _____