

**Проверочная работа
по БИОЛОГИИ**

6 КЛАСС

Вариант 2

Инструкция по выполнению работы

На выполнение работы по биологии отводится 45 минут. Работа включает в себя 10 заданий.

Ответы на задания запишите в поля ответов в тексте работы. В случае записи неверного ответа зачеркните его и запишите рядом новый.

При выполнении работы не разрешается пользоваться учебником, рабочими тетрадями и другим справочным материалом. Разрешается использовать линейку.

При необходимости можно пользоваться черновиком. Записи в черновике проверяться и оцениваться не будут.

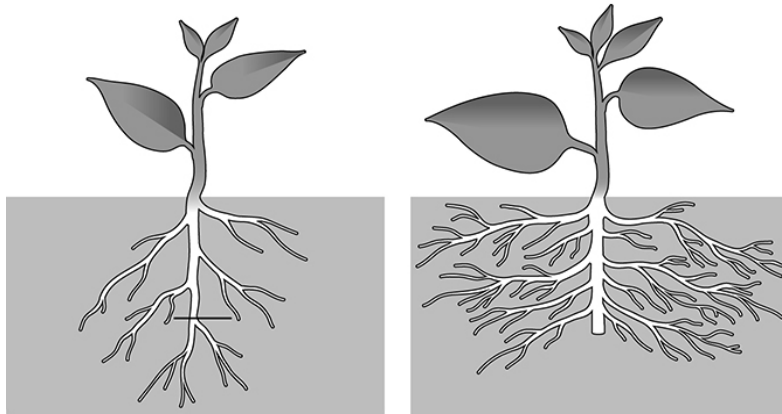
Советуем выполнять задания в том порядке, в котором они даны. В целях экономии времени пропускайте задание, которое не удаётся выполнить сразу, и переходите к следующему. Если после выполнения всей работы у Вас останется время, то Вы сможете вернуться к пропущенным заданиям.

Желаем успеха!

Таблица для внесения баллов участника

Номер задания	1.1	1.2	1.3	2.1	2.2	3.1	3.2	3.3	3.4	4	5.1	5.2	5.3	6	7	8.1	8.2	8.3	
Баллы																			
Номер задания	9	10.1	10.2	Сумма баллов	Отметка за работу														
Баллы																			

1 На представленном ниже рисунке ученик увидел один из агротехнических приёмов. Рассмотрите рисунок и ответьте на вопросы.



1.1. Как называют данный агротехнический приём?

Ответ. _____

1.2. Какой метод позволил учёным установить эффективность данного приёма?

Ответ. _____

1.3. Рост каких корней усиливается?

Ответ. _____

2 В приведённой ниже таблице между позициями первого и второго столбцов имеется взаимосвязь.

Целое	Часть
Проводящая ткань	...
Покровная ткань	Кожица

2.1. Какое понятие следует вписать на место пропуска в этой таблице?

- 1) камбий
- 2) ситовидные трубки
- 3) устьица
- 4) древесинные волокна

Ответ.

2.2. Какую функцию выполняет камбий у стеблей растений?

Ответ. _____

3

3.1. Рассмотрите рисунок растительной клетки (рис. 1). Какая структура клетки обозначена на рисунке буквой А?

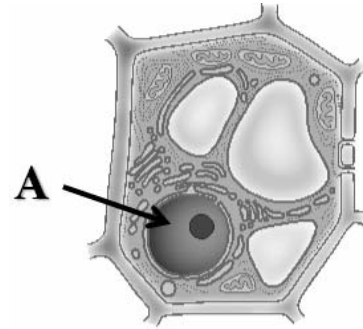


Рис. 1

Ответ. _____

3.2. Каково значение этой структуры в жизнедеятельности клетки?

Ответ. _____

3.3. Олеся рассмотрела срез молодого древесного стебля под микроскопом и сделала микрофотографию (рис. 2). Что она обозначила на фотографии цифрой 1?

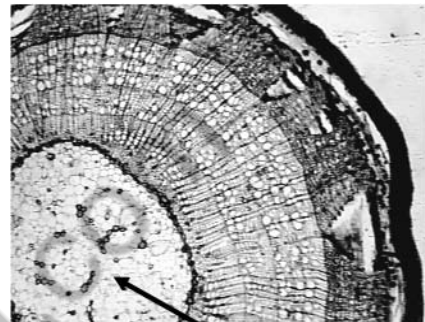


Рис. 2

Ответ. _____

3.4. К какому типу ткани относятся обозначенные цифрой 1 клетки?

Ответ. _____

4

Выберите из предложенного списка и вставьте в текст пропущенные слова, используя для этого их цифровые обозначения. Впишите номера выбранных слов на места пропусков в тексте.

ИСПАРИЕНИЕ ВОДЫ РАСТЕНИЕМ

Поглощённый _____ (А) почвенный раствор, состоящий из воды и минеральных веществ, по особым клеткам – _____ (Б) поступает в лист. Здесь часть воды используется в процессе фотосинтеза, а часть, перейдя в газообразное состояние, испаряется через устьица. Этот процесс имеет название _____ (В). Минеральные соли остаются в листьях, накапливаются и вызывают ежегодное отмирание листьев – листопад.

Список слов:

- 1) корень
- 2) стебель
- 3) сосуд
- 4) транспирация
- 5) устьица
- 6) фотосинтез

Запишите в таблицу выбранные цифры под соответствующими буквами.

Ответ.

А	Б	В

5

Рассмотрите изображение цветка и выполните задания.



5.1. Покажите стрелками и подпишите на рисунке *пыльник*, *рыльце*, *цветковые плёнки*.

5.2. Какие особенности характерны для пыльцы ветроопыляемой ржи? Укажите одну из них.

Ответ. _____

5.3. Какие половые клетки образуются в пыльнике цветка?

Ответ. _____

6

Что из перечисленного относят к вегетативным органам?

- 1) цветок
- 2) плод
- 3) лист
- 4) семя

Ответ.

7

Используя приведённую ниже таблицу, ответьте на вопросы.

Календарь средних сроков цветения растений

Растение	Месяц							
	Апрель	Май	Июнь	Июль	Август	Сентябрь	Октябрь	Ноябрь
Нарцисс								
Маргаритка								
Астра								
Бархатец								

Цветение какого растения из перечисленных в таблице продолжается более трёх месяцев?

Ответ. _____

Какое растение из перечисленных в таблице способно к повторному цветению?

Ответ. _____

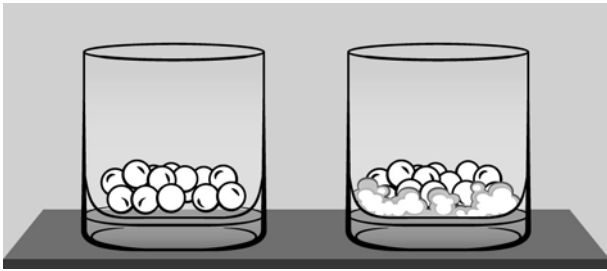
Какие два растения из перечисленных в таблице зацветают раньше остальных?

 Ответ. _____


8

Известно, что для прорастания семян необходимы определённые условия. Фёдор решил выяснить роль одного из таких условий, проведя следующий опыт. Он взял два прозрачных стеклянных стакана, положил в каждый из них по несколько одинаковых семян гороха. В один из стаканов он положил кусочки мокрой ваты, чтобы семена были постоянно влажными. Оба стакана Фёдор поставил на стол и стал наблюдать. Через некоторое время он заметил, что семена в стакане с мокрой ватой набухли и стали крупнее, тогда как в другом стакане их размеры не изменились.

На момент начала опыта



На момент окончания опыта



8.1. Влияние какого условия на прорастание семян изучал Фёдор?

Ответ. _____

8.2. Сформулируйте вывод о влиянии этого условия на прорастание семян.

Ответ. _____

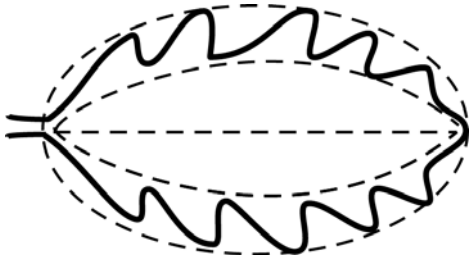


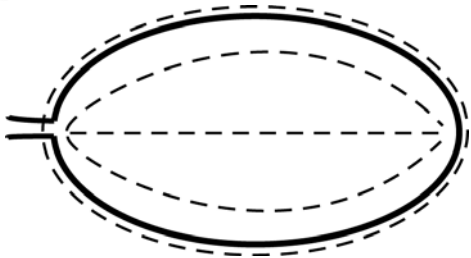
8.3. Какое дополнительное условие опыта, проводимого Фёдором, является необходимым для прорастания семян? Обоснуйте свой ответ.

Ответ. _____


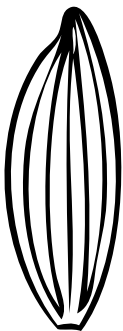


9

Рассмотрите изображение молодого листа монстеры и опишите его по следующему плану: форма листа, жилкование листа, тип листа по соотношению длины и ширины листовой пластинки (без черешка) и по расположению наиболее широкой части. Используйте при выполнении задания линейку и карандаш.

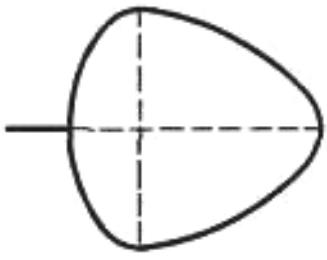

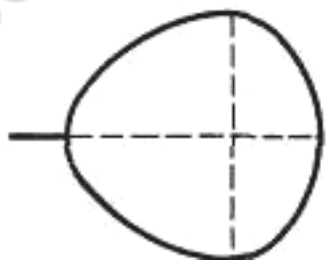
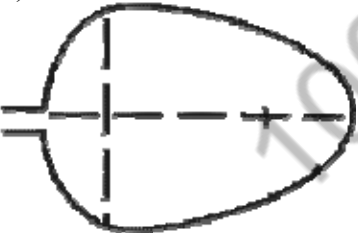

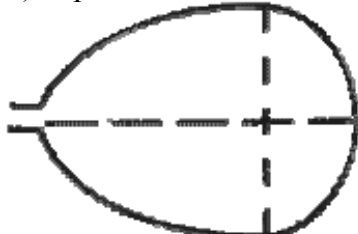
**А. Форма листа**

1) перисто-лопастная 	2) перисто-раздельная 
3) перисто-рассечённая 	4) цельная 

Б. Жилкование листа

			
1) параллельное	2) дуговидное	3) пальчатое	4) перисто-сетчатое

В. Тип листа по соотношению длины и ширины листовой пластинки (без черешка) и по расположению наиболее широкой части

Длина равна ширине или немного её превышает.		
1) широкояйцевидный 	2) округлый 	3) обратно-широкояйцевидный 
Длина превышает ширину в 1,5–2 раза.		
4) яйцевидный 	5) овальный 	6) обратно-яйцевидный 

Впишите в таблицу **номера** выбранных ответов под соответствующими буквами.

Ответ.












А	Б	В

10

Растения по-разному относятся к свету, теплу и влаге, и это учитывается цветоводами при разведении различных растений.





10.1. Опишите особенности растений бегонии и замиокулькаса, которые необходимо учитывать при их разведении в домашних условиях, используя для этого таблицу условных обозначений.

Условные обозначения:

1) Выносливость			3) Требуемый режим полива				
	выносливое	капризное		сухая земля	увлажнённая земля	постоянно влажная земля	вода в поддоне
2) Требуемая влажность воздуха			4) Отношение к свету				
	не требует опрыскивания	регулярное опрыскивание		прямые лучи	рассеянный свет	полутень	тень

Характеристики:



1)	2)	3)	4)
			

Бегония:





1) _____

2) _____

3) _____

4) _____



1)	2)	3)	4)
			

Замиокулькас:

1) _____

2) _____

3) _____

4) _____

10.2. По каким позициям из приведённых в описании эти растения имеют одинаковые характеристики?

Ответ. _____

Система оценивания проверочной работы

Правильный ответ на каждое из заданий 1.1, 1.2, 1.3, 2.1, 3.1, 3.2, 3.3, 3.4, 5.3, 6, 8.1 оценивается 1 баллом.

Полный правильный ответ на задания 4 и 9 оценивается 2 баллами. Если в ответе допущена одна ошибка (в том числе написана лишняя цифра или не написана одна необходимая цифра), выставляется 1 балл; если допущено две или более ошибки – 0 баллов.

Номер задания	Правильный ответ
4	134
6	3
9	444

1	1.1	пикировка
	1.2	эксперимент
	1.3	боковых

2	2.1	2
	2.2	

Содержание верного ответа и указания к оцениванию (допускаются иные формулировки ответа, не искажающие его смысла)	Баллы
Правильный ответ должен содержать <u>указание функции</u> , например: увеличение надземных размеров растения ИЛИ увеличение стеблей в диаметре	
Правильно указана функция	1
Ответ неправильный	0
<i>Максимальный балл</i>	
	<i>1</i>

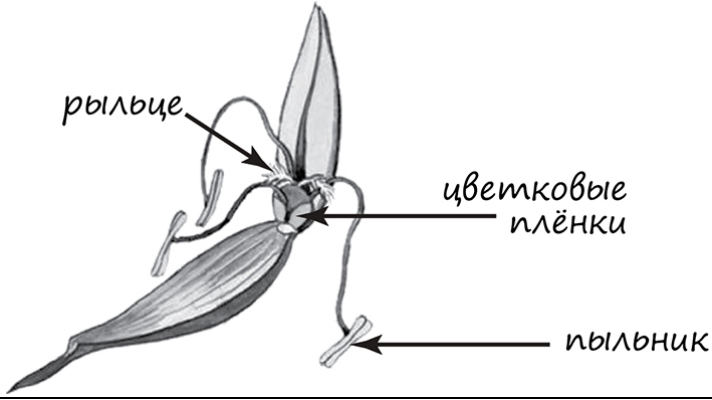
3	3.1	ядро
	3.3	сердцевина
	3.4	запасаящая / основная запасаящая / основная паренхима

3.2

Содержание верного ответа и указания к оцениванию (допускаются иные формулировки ответа, не искажающие его смысла)	Баллы
Правильный ответ должен содержать <u>указание функции</u> , например: регулирует все процессы жизнедеятельности клетки ИЛИ хранит наследственную информацию	
Правильно указана функция	1
Ответ неправильный	0
<i>Максимальный балл</i>	
	<i>1</i>

5

5.1

Содержание верного ответа и указания по оцениванию	Баллы
	
Верно подписаны три части цветка	2
Верно подписаны только две части цветка	1
Верно подписана только одна часть цветка. ИЛИ Ответ неправильный	0
<i>Максимальный балл</i>	2

5.2

Содержание верного ответа и указания к оцениванию (допускаются иные формулировки ответа, не искажающие его смысла)	Баллы
Правильный ответ должен содержать <u>указание особенности</u> , например: пыльца должна быть очень мелкой, ИЛИ пыльцы должно быть очень много, ИЛИ пыльца сухая	
Правильно указана особенность	1
Ответ неправильный	0
<i>Максимальный балл</i>	1

5.3

мужские ИЛИ спермии

7

Содержание верного ответа и указания по оцениванию	Баллы
Правильный ответ должен содержать <u>ответы на три вопроса</u> : 1) бархатец; 2) маргаритка; 3) нарцисс и маргаритка	
Правильно даны ответы на три вопроса	2
Правильно даны ответы на любые два вопроса	1
Правильно дан ответ только на один любой вопрос. ИЛИ Ответ неправильный	0
<i>Максимальный балл</i>	2

8

8.1	наличие влаги / воды
-----	----------------------

8.2

Содержание верного ответа и указания к оцениванию (допускаются иные формулировки ответа, не искажающие его смысла)	Баллы
Правильный ответ должен содержать <u>вывод</u> , например: наличие влаги/воды влияет на набухание и прорастание семян гороха. ИЛИ Без влаги/воды семена гороха не набухнут (не прорастут)	
Сделан правильный вывод	1
Ответ неправильный	0
<i>Максимальный балл</i>	<i>1</i>

8.3

Содержание верного ответа и указания по оцениванию	Баллы
Правильный ответ должен содержать следующие <u>элементы</u> : 1) <u>ответ на вопрос (условие опыта)</u> : тепло; 2) <u>обоснование</u> , например: при низкой температуре органические вещества в клетках не взаимодействуют друг с другом. ИЛИ 1) <u>ответ на вопрос (условие опыта)</u> : положительная температура; 2) <u>обоснование</u> , например: при отрицательной температуре вода превращается в лёд. ИЛИ 1) <u>ответ на вопрос (условие опыта)</u> : наличие воздуха/кислорода; 2) <u>обоснование</u> , например: во время прорастания семена активно дышат, поглощая кислород и выделяя углекислый газ. ИЛИ При наличии всех факторов необходимо, чтобы клетки семени были живыми. Элементы ответа могут быть приведены в иных, близких по смыслу формулировках	
Правильно дан ответ на вопрос и приведено обоснование	2
Правильно дан только ответ на вопрос	1
Ответ неправильный	0
<i>Максимальный балл</i>	<i>2</i>

10

10.1

Содержание верного ответа и указания по оцениванию	Баллы
<p>Правильный ответ должен содержать следующие <u>условия выращивания растений</u>: <u>бегония</u>: 1) выносливое; 2) требует регулярного опрыскивания; 3) увлажнённая земля; 4) рассеянный свет; <u>замиокулькас</u>: 1) выносливое; 2) не требует опрыскивания; 3) сухая земля; 4) рассеянный свет. Условия могут быть приведены в более развёрнутых формулировках</p>	
Правильно указаны по четыре условия для выращивания каждого из растений	2
Правильно указаны два-три условия для выращивания одного растения и два-четыре условия для выращивания другого растения. ИЛИ Правильно указаны четыре условия для выращивания только одного из растений	1
Все комбинации элементов, не соответствующие указаниям по выставлению 2 и 1 балла. ИЛИ Ответ неправильный	0
<i>Максимальный балл</i>	2

10.2

Содержание верного ответа и указания по оцениванию	Баллы
<p>Правильный ответ должен содержать указание следующих <u>позиций</u>, по которым <u>растения имеют одинаковые характеристики</u>: 1) бегония и замиокулькас – выносливые растения ИЛИ выносливость ИЛИ пункт 1; 2) для выращивания предпочитают рассеянный свет ИЛИ отношение к свету ИЛИ пункт 4</p>	
Правильно указаны две позиции	2
Правильно указана только одна позиция	1
Ответ неправильный	0
<i>Максимальный балл</i>	2

Система оценивания выполнения всей работы

Максимальный балл за выполнение работы – **28**.

Рекомендации по переводу первичных баллов в отметки по пятибалльной шкале

Отметка по пятибалльной шкале	«2»	«3»	«4»	«5»
Первичные баллы	0–11	12–17	18–23	24–28