



ВСЕРОССИЙСКАЯ ОЛИМПИАДА ШКОЛЬНИКОВ
ПО ИСТОРИИ 2020–2021 г.
МУНИЦИПАЛЬНЫЙ ЭТАП. 7 КЛАСС

Критерии

1. Кто является автором произведения, фрагмент из которого приведён ниже?

«Имя отца отечества было поднесено ему всем народом, внезапно и единодушно. Первыми это сделали плебеи, отправив к нему посольство в Анций, а после его отказа – приветствуя его в Риме при входе в театр, огромной толпою в лавровых венках; вслед за ними и сенат высказал свою волю, но не в декрете и не общим криком, а в выступлении Валерия Мессалы. По общему поручению он сказал так: “Да сопутствует счастье и удача тебе и дому твоему, Цезарь Август! Такими словами молимся мы о вековечном благоденствии и ликовании всего государства: ныне сенат в согласии с римским народом поздравляет тебя отцом отечества”».

- | | |
|----------------------------------|---------------------------|
| 1) Джованни Пико делла Мирандола | 4) Анна Комнина |
| 2) Мартин Лютер | 5) Гай Светоний Транквилл |
| 3) Карл Лысый | 6) Пипин Короткий |

Ответ: 5.

Максимум за задание – 1 балл.

2. Ознакомьтесь с фрагментом сочинения византийского историка Прокопия Кесарийского и выберите из приведённого ниже списка название труда, из которого этот фрагмент был взят.

«Причина же заключается в том, что, пока были живы вершители этих дел, я не мог описывать их должным образом. Ибо невозможно было мне укрыться от множества соглядатаев, а если бы я был изобличён, не избежать мне было бы самой жалкой смерти. Ибо даже на самых близких родственников я не мог положиться. Более того, я был вынужден скрывать причины и многих из тех событий, которые были изображены мной в прежнем повествовании».

- | | |
|--------------------------------|-------------------|
| 1) «Тайная история» | 4) «О постройках» |
| 2) «Война кошек и мышей» | 5) «Физиолог» |
| 3) «Записки о галльской войне» | 6) «История войн» |

Ответ: 1.

Максимум за задание – 1 балл.

3. Ознакомьтесь с фрагментом источника и укажите **фамилию** его автора без дополнительных знаков и символов.

Внимание! Ответы с орфографическими ошибками не засчитываются.

«...Папа не хочет и не может прощать какие-либо наказания, кроме тех, что он наложил либо своей властью, либо по церковному праву... Папа не имеет власти отпустить ни одного греха, не объявляя и не подтверждая отпущение именем Господа; кроме того, он даёт отпущение только в определённых ему случаях. Если он пренебрегает этим, то грех пребывает и далее... Поэтому ошибаются те проповедники индульгенций, которые объявляют, что посредством папских индульгенций человек избавляется от всякого наказания и спасается».

Ответ: Лютер.

Максимум за задание – 1 балл.

4. Прочитайте текст и выберите суждения, которые ему соответствуют.

«Высокие договаривающиеся стороны через вышепоименованных представителей условились и согласились во избежание сомнений и споров относительно островов и земель... чтобы была проведена прямая линия от полюса до полюса, то есть от полюса арктического до полюса антарктического с севера на юг, в 370 лигах к западу от островов Зелёного Мыса... и чтобы всё, что уже открыто или будет открыто королём Португалии или его кораблями... принадлежало названному сеньору – королю Португалии и его преемникам на веки вечные, и чтобы все острова и материи, как открытые, так и те, что будут открыты королём и королевой Кастилии и Арагона или их кораблями к западу от названной линии, на севере и на юге, принадлежали означенным сеньорам – королю и королеве и их преемникам на веки вечные».

- 1) В тексте упоминается страна, правитель которой решительно отверг проект морского путешествия, составленный Христофором Колумбом.
- 2) Падение Византийской империи стало непосредственной причиной составления источника, к которому относится приведённый текст.
- 3) На момент составления текста этого источника королева Кастилии и Леона Изабелла I была ещё жива.
- 4) Этот текст был составлен буквально через несколько лет после падения последнего исламского государства на Пиренейском полуострове – Гранадского эмирата.
- 5) Этот текст был создан задолго до первой экспедиции Христофора Колумба и никак не связан с её результатами и открытиями.
- 6) Итогом создания этого текста стало начало Реформации.

Ответ: 1, 3, 4.

За каждый верный ответ – 1 балл, за каждый неверный вычитается 1 балл. Максимум за задание - 3 балла.

5. Ниже представлен список утверждений. Выберите из них верные утверждения, относящиеся к истории Древнего Рима.

- 1) С одним из правителей связана легенда о Минотавре.
- 2) Некоторые цари имели этрусское происхождение.
- 3) По преданию, один из правителей поджёг столицу государства.
- 4) С одним из правителей связана история с разрубленной Суассонской чашей.
- 5) Один из правителей запретил поклонение языческим богам.
- 6) Один из правителей способствовал перемещению резиденции римских пап в Авиньон.

Ответ: 2, 3, 5.

За каждый верный ответ – 1 балл, за каждый неверный вычитается 1 балл. Максимум за задание - 3 балла.

6. Соотнесите описание события и век, в котором оно произошло.

ВЕКА

- А) XI век
- Б) XII век
- В) XIII век
- Г) XIV век
- Д) XV век
- Е) XVI век

СОБЫТИЯ

- 1) Московский князь, вернувшийся из ханского плена и отправившийся на богомолье в Троице-Сергиев монастырь, был схвачен людьми своего двоюродного брата, отвезён в Москву и ослеплён.
- 2) Из-за вражды византийских императоров, которые привлекли на свою сторону христианских рыцарей из западной Европы, произошло разорение рыцарями Константинополя. Византийская империя временно перестала существовать.
- 3) Город, некогда бывший столицей Древнерусского государства, был взят войсками хана Батыея и подвергнут разорению. Были разрушены многие храмы, в том числе основанная князем Владимиром Святым Десятинная церковь.
- 4) Московский князь принял участие в подавлении антиордынского восстания в Твери, чем обеспечил себе ярлык на великое княжение и поддержку ордынского хана. Это событие стало ключевым в процессе противостояния Московского и Тверского княжеств.

- 5) На церковном соборе был осуждён и сожжён как еретик чешский проповедник Ян Гус, что стало прямой предпосылкой начала так называемых «гуситских войн».
- 6) Принятие этого документа происходило на фоне ожесточённой борьбы английской знати за свои права. Важнейшей его частью стала следующая статья: «Ни один свободный человек не будет арестован, или заключён в тюрьму, или лишён владения, или объявлен стоящим вне закона, или изгнан, или каким-либо иным способом обездолен, и мы не пойдём на него и не пошлём на него иначе, как по законному приговору равных его пэров и по закону страны».
- 7) Эта эпидемия стала одной из наиболее серьёзных в истории человечества. По подсчётам разных историков, до половины населения Европы погибло в ходе эпидемии.
- 8) Крестьяне, или «славные малые Жаки», как называли их люди знатные, грабили дворянские поместья и требовали короля, который смог бы победить Англию в затянувшейся войне.
- 9) Объединённые польско-литовские войска нанесли сокрушительное поражение Тевтонскому ордену, а значительную роль в этой победе сыграли входящие в состав литовского войска ратники из русских княжеств.

Ответ:

Век	XIII век (В)	XIV век (Г)	XV век (Д)
Событие	236	478	159

За каждое верное соотнесение – 1 балл.

Максимум за задание – 9 баллов.

7. Выберите из приведённого ниже списка краткое обоснование ряда (что объединяет большинство перечисленных элементов с исторической точки зрения).

А) Александр Невский Б) Юрий Данилович В) Иван Калита Г) Симеон Гордый

Обоснования:

- 1) тверские князья, боровшиеся с московскими князьями за ханские ярлыки на великое Владимирское княжение
- 2) московские князья начала – середины XIV века, обладавшие ярлыком на великое Владимирское княжение
- 3) московские князья, воевавшие с Великим княжеством Литовским
- 4) московские князья, породнившиеся с ханами Золотой Орды

Ответ: 2.

Максимум за задание – 3 балла.

8. Укажите, какой из элементов является лишним по данному основанию.

Ответ: А.

Максимум за задание – 1 балл.

9. Выберите из приведённого ниже списка краткое обоснование ряда (что объединяет большинство перечисленных элементов с исторической точки зрения).

А) Филипп II Август Б) Ричард I Львиное Сердце В) Фридрих I Барбаросса
Г) Алексей I Комнин

Обоснования:

- 1) потомки Карла Великого
- 2) предводители I крестового похода
- 3) лидеры III крестового похода
- 4) монархи, принимавшие участие в Реконкисте

Ответ: 3.

Максимум за задание – 3 балла.

10. Укажите, какой из элементов является лишним по данному основанию.

Ответ: Г.

Максимум за задание – 1 балл.

11. Определите пропущенные в тексте названия, имена и годы, обозначенные порядковыми номерами. Также даются пояснения о характере требуемой вставки. Варианты ответов даны в единственном числе, именительном падеже. Выберите нужные вставки из приведённого ниже списка.

Внимание! Среди ответов есть «лишние».

Иван III вступил на престол в (1 – год) году, после смерти отца – великого князя (2 – имя и прозвище). Наиболее известным сюжетом из истории его правления является присоединение мятежного «Господина Великого Новгорода» к Московскому княжеству. Стремление к независимости со стороны Новгорода, а также деятельность «антимосковского» боярского клана во главе с посадницей (3 – имя и фамилия) привело к военному конфликту между Новгородом и Москвой, одним из наиболее видных событий которого стала битва на реке (4 – название реки) в 1471 году. Силы вечевой республики были разгромлены, а уже в (5 – год) году Новгород был взят московскими войсками и присоединён к Москве. Во взятии города принимала участие артиллерия, созданная специально для великого князя итальянским инженером и архитектором (6 – имя и фамилия), который, помимо этого, стал автором обновлённого Успенского собора в Москве. За

годы «новгородской кампании» Иван III успел жениться во второй раз – в 1472 году, на **(7 – имя и фамилия)**, дочери последнего императора Византии. Следом за Новгородом в **(8 – год)** году покорилось Москве и **(9 – название княжества)** княжество. Это некогда могучее княжество, правители которого боролись с московскими князьями за **(10 – название ордынской грамоты)** на великое княжение, было вынуждено подчиниться Москве в результате измены бояр и бегства местного князя в Литву. Это десятилетие было отмечено и другим, не менее важным событием – прекращением зависимости Москвы от Орды, что традиционно связывается с так называемым «стоянием на реке **(11 – название реки)**» осенью **(12 – год)** года. Важным событием в истории Московского княжества стало принятие Судебника **(13 – год)** года, в котором впервые на столь высоком уровне регламентировались правила крестьянского перехода. Теперь крестьянину для перехода от одного землевладельца к другому требовалось уплатить особую пошлину – **(14 – название налога)** в размере одного **(15 – название денежной единицы)** серебром. В этой мере, во многом ограничивавшей крестьянский переход, многие историки видели и продолжают видеть истоки крепостного права.

Список ответов для пропусков

Варианты ответов для пропусков 1, 5, 8, 12, 13	Варианты ответов для пропусков 2, 3, 6, 7	Варианты ответов для пропусков 4, 9, 10, 11, 14, 15
1449	Алевиз Новый	алтын
1462	Аристотель Фиораванти	баскак
1463	Бон Фрязин	вассал
1464	Василий Тёмный	Волга
1474	Дмитрий Донской	златник
1478	Иван Красный	Москва
1479	Мария Борисовна	Ока
1480	Марфа Борецкая	отправное
1485	Пётр Фрязин	подымное
1487	Софья Витовтовна	пожилое
1497	Софья Палеолог	Ростовское
1500	Ульяна Микулинская	рубль
1503	Феофан Грек	Рязанское
		Тверское
		Угра
		Шелонь
		ярлык

Ответ

1	1462
2	Василий Тёмный
3	Марфа Борецкая
4	Шелонь
5	1478
6	Аристотель Фиораванти
7	Софья Палеолог
8	1485
9	Тверское
10	ярлык
11	Угра
12	1480
13	1497
14	пожилое
15	рубль

Максимум за задание – 15 баллов.

12. Перед вами ряд изображений, связанных с событиями отечественной и всемирной истории с древнейших времён до начала XVI века. Соотнесите изображения с конкретной страной, к истории которой оно относится.


Список государств: Вавилонское царство, Афинский полис, Древний Рим, Византийская империя, Священная Римская империя, Древнерусское государство, Франция, Московское княжество, Англия.

1



3

2



4

Всероссийская олимпиада школьников по истории 2020–2021 уч. г.
Муниципальный этап. 7 класс. Критерии



5




6




7



8



9



10



11



12

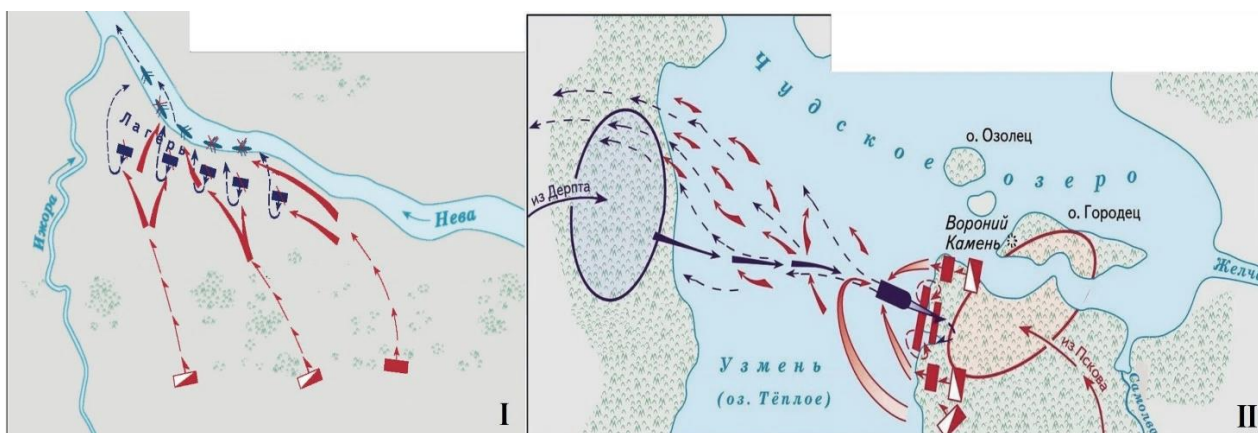


Ответ:

ЦИФРОВЫЕ ОБОЗНАЧЕНИЯ ИЗОБРАЖЕНИЙ	ГОСУДАРСТВА, К ИСТОРИИ КОТОРЫХ ОТНОСЯТСЯ ИЗОБРАЖЕНИЯ
1	Афинский полис
2	Афинский полис
3	Московское княжество
4	Вавилонское царство
5	Древнерусское государство
6	Древний Рим
7	Священная Римская империя
8	Англия
9	Московское княжество
10	Византийская империя
11	Франция
12	Древний Рим

**По 1 баллу за каждое верное соотнесение.
Максимум за задание – 12 баллов.**

13. Перед вами карты, посвящённые двум знаковым для истории России сражениям. Ознакомьтесь с ними и выберите верные утверждения из предложенных.



1) В сражениях, изображённых на схемах, командовал князь, представленный на картине.



2) Предысторию сражения, показанного на схеме II, отражает следующий фрагмент исторического источника: «Вот уже заскрипели телеги, идут враги на Русскую землю! То не серые волки были – пришли поганые враги, хотят пройти войной всю Русскую землю. То Мамай пришёл на Русскую землю и воинов своих привёл».

3) Ближайшим последствием сражений, изображённых на схемах I и II, стали события, описанные в источнике: «И начали они биться, и погналы новгородцы москвичей за Шелонь-реку, но ударил на новгородцев засадный полк, и погубило новгородцев много, а иные побежали, а других похватали, а прочих в плен увели и много зла причинили...»


4) Представленная ниже юбилейная монета связана с годовщиной сражения, изображённого на схеме II.



5) Событие, описанное в историческом источнике, произошло спустя сто сорок лет после битвы, изображённой на схеме I: «И вот двинулась великая рать, все силы вражеские. А с нашей стороны – князь великий, испросив благословения у преподобного Сергия, изготовив полки, пошёл против поганых врагов со всею ратью своею».

6) В приведённом фрагменте источника речь идёт о сражении, изображённом на схеме II: «И помчались вслед за безбожным царём, и едва смогли догнать его в Суздальской земле. И внезапно напали на отдыхавшее войско вражеское, и начали сечь без милости, и внесли смятение во все их полки. Евпатий так бился беспощадно, что и мечи притупились, и выхватывал он мечи вражеские, и рубился ими, на полном скаку сражался с сильными полками и бил их беспощадно. И сражался с войсками вражескими так храбро и мужественно, что и сам царь испугался.»


7) На марке изображён правитель, младший сын князя, командовавшего русскими войсками в битве, изображённой на схеме I.



8) В приведённом фрагменте источника речь идёт о сражении, изображённом на схеме II: «Когда взошло солнце, сошлись противники. И была сеча жестокая, и стоял треск от ломающихся копий и звон от ударов мечей, и

казалось, что двинулось замёрзшее озеро, и не было видно льда, ибо покрылось оно кровью...»

9) Исторический деятель, представленный на изображении, был потомком князя, принимавшего участие в битве, изображённой на схеме I.



Ответ: 1, 4, 5, 7, 8.

За каждый верно выбранный/верно невыбранный пункт – 1 балл. За каждый неверный вычитается 1 балл.

Максимум за задание - 9 баллов.

14–19. Ознакомьтесь с фрагментом исторического источника и выполните задания.

(1) ...А достойный похвал великий князь Дмитрий, прадед твой, какое мужество и храбрость показал за Доном над теми же окаянными сыродцами – сам он впереди бился и не щадил жизни своей ради избавления христиан. (2) И видел милосердный человеколюбивый Бог твёрдое его намерение, что хочет он не только до крови, но и до смерти страдать за веру и за святые церкви, за вручённое ему Богом словесное стадо Христовых овец, как истинный пастырь, уподобиться древним мученикам. (3) Ибо святые мученики ради любви Божией на страдания и раны как на пир шли, а святые на смерть. Так и этот боголюбивый и крепкий смерть за приобретение считал. Он не усомнился, не убоился вражеского множества, не обратился вспять, не сказал в сердце своём: «У меня жена, и дети, и богатство многое; если и возьмут мою землю, поселюсь где-нибудь в другом месте». (4) Но без сомнения устремился он на подвиг, и вперёд выехал, лицом к лицу встретил окаянного разумного волка Мамай, чтобы вырвать из его пасти словесное стадо Христовых овец. (5) Поэтому, за его отвагу, всемилостивый Бог не замедлил, не задержался, не вспомнил его прежних грехов, но быстро послал ему свою помощь – ангелов и святых мучеников, помогать ему против его врагов. (6) Поэтому он, пошедший на подвиг Господа ради, и донныне

похваляем и славим не только людьми, но и Богом... (7) Так и теперь, если последуешь примеру прародителя твоего, великого и достойного похвал Димитрия, и так же постарайся избавить стадо Христово от мысленного волка, то Господь Бог, увидев твоё дерзновение, так же поможет тебе и покорит врагов твоих под ноги твои. И здоров и невредим победоносцем будешь перед Богом, который сохранит тебя, и покроет Господь главу твою своею сенью в день брани.

14. Приведённый фрагмент исторического источника адресован князю. Из предложенных ниже вариантов выберите описание его деда.

- 1) Этот князь был старшим сыном Даниила Московского. Благодаря женитьбе на сестре ордынского хана он смог получить ярлык на великое княжение. Впоследствии князь был убит в Орде своим соперником, тверским князем Дмитрием Грозные Очи.
- 2) Этот князь начал править в Москве в совсем юном возрасте; многие решения за него принимал своеобразный «регентский совет», возглавляемый митрополитом Алексием. Упустив великое княжение в начале своего правления, князь вскоре сумел его вернуть. Этот князь впоследствии прославился в качестве талантливого полководца, под руководством которого русские войска в нескольких битвах одержали верх над ордынцами.
- 3) Этот князь был сыном Даниила Московского. Он прославился своей осторожной политикой в отношении Орды, которая позволила ему сначала заполучить ярлык на великое княжение. Князь принимал активное участие в подавлении антиордынского восстания в Твери, присоединил Галич, Углич и Белоозеро к Московскому княжеству.
- 4) Среди заслуг князя стоит выделить присоединение к Московскому княжеству Суздальско-Нижегородского княжения, оборону Москвы от нашествий Тамерлана и Едигея. Князь завещал все свои владения (и в том числе великое княжение) своему сыну в обход своего брата, что стало причиной кровопролитной войны среди Московских князей.

Ответ: 4.

Максимум за задание – 2 балла.

15. Выберите из приведённого ниже списка утверждения, относящиеся к истории правления отца князя, которому был адресован приведённый источник.

- 1) На свадьбе этого князя разразился скандал из-за драгоценного пояса, украденного у предка князя.

- 2) Этот князь является рекордсменом по количеству поездок в Золотую Орду.
- 3) Правление этого князя – время активной деятельности Феофана Грека.
- 4) Этот князь является участником битвы на реке Калке.
- 5) В правление этого князя был подписан Яжелбицкий мирный договор, расширявший власть Московского князя на северо-западе Руси.
- 6) Этот князь присоединил к территориям Московского княжества Коломну.

Ответ: 1, 5.

За каждый правильный ответ – 1 балл, за неверный вычитается 1 балл.

Отрицательного балла нет.

Максимум за задание - 2 балла.

16. Укажите цифровое обозначение смыслового фрагмента текста, который помог вам определить предков адресата¹ источника.

Ответ: 1.

Максимум за задание – 1 балл.

17. Выберите изображение, которое связано с событием, ставшим поводом для написания приведённого документа.



¹ Адресат – человек, который является получателем чего-либо (например, письма). – *Прим. сост.*



Ответ: 3.

Максимум за задание – 2 балла.

18. Укажите год, когда произошло событие, ставшее поводом для создания этого текста. В ответе запишите год без дополнительных символов и знаков.

Ответ: 1480.

Максимум за задание – 2 балла.

19. Выберите из приведённого ниже списка вариант ответа, в котором указаны только верные суждения, связанные с предложенным для анализа текстом.

А. Из содержания текста и аргументации автора следует, что его автор принадлежал к духовенству.

Б. Этот текст был создан автором в попытке убедить московского князя оказать сопротивление хану Золотой Орды.

В. Автором этого источника является Сергей Радонежский.

Г. Представленный источник является одним из первых образцов русской публицистики.

Д. Автор этого источника доказывает, что победа в битве зависит от силы войска и степени оснащения оружием.

Е. Приведённый источник адресован Дмитрию Донскому.

Варианты ответа:

1) АБГ

2) АГД

3) ВГД

4) АБЕ

5) ВГЕ

Ответ: 1.

Максимум за задание – 2 балла.