

### Задание 1

Вам предложены четыре изображения различных форм рельефа, образовавшихся в результате экзогенных процессов. Задача - назвать эти формы рельефа, указать их происхождение и ответить на дополнительные вопросы.

1)



Название формы рельефа:

Происхождение формы рельефа:

В честь какого известнякового плато было дано название процесса, повлиявшего на образование данной формы рельефа? В каком государстве оно расположено?



2)

Название формы рельефа:

Происхождение формы рельефа:

В каком субъекте РФ можно встретить наибольшее количество данных форм рельефа? Почему?



3)

Название формы рельефа:

Происхождение формы рельефа:

Какое название носит данная форма рельефа в РФ, обладающая наибольшей высотой? В каком субъекте она расположена?





4)

Название формы рельефа:

Происхождение формы рельефа:

Назовите две формы рельефа аналогичного происхождения:

## Задание 2

На конференции по новым компьютерным технологиям и защите компьютерных программ собрались учёные из разных стран мира. Восемь из них, выступавших в одной секции, разговорились между собой и выяснили, что все они родились на островах. По рассказу каждого учёного определите, на каком острове кто родился и ответьте на дополнительные вопросы.

**Учёный 1:** Я родился на острове, который является крупнейшим в мире производителем ванили - ингредиента, без которого нельзя представить современную кондитерскую промышленность. Также мой родной остров является единственным домом для уникального семейства обезьян – лемуров.

**Остров:**

**Учёный 2:** Я родилась на единственном острове мира, который разделён сразу между тремя государствами. Мой родной остров - один из крупнейших в мире по площади и пересекается экватором.

**Остров:**

**Учёный 3:** Я родился на острове, который разделен между двумя государствами. Символом моего родного острова являются великаны и лепреконы. На моём острове нет змей, по легенде они были изгнаны святым, являющимся покровителем острова.

**Остров:**

**Учёный 4:** Я родился на острове, который является крупнейшим по площади в своей стране. На языке страны-южного соседа мой остров называется Карафутто. Вместе с соседним архипелагом мой родной остров формируют единый субъект федерации - область.

**Остров:**

**Учёный 5:** Я родилась на острове, который ранее носил другое название. Мой остров славится выращиванием растения, которое используется для производства всемирно популярного напитка. Он располагается недалеко от берега одной из крупнейших стран мира по численности населения и омывается водами крупнейшего залива в мире.

**Остров:**

**Учёный 6:** Я родилась на острове, который является крупнейшим по площади в своём море. Остров славится выращиванием сахарного тростника. К северу от острова располагается государство, которое входит в топ-5 и по численности населения, и по площади, а мой родной язык - испанский.

**Остров:**

**Учёный 7:** Я родилась на острове, который принадлежит одной из самых популярных стран мира для туристов. Форма полуострова, на котором расположена страна, известна во всём мире. Также на моём острове расположен самый высокий действующий вулкан Европы.

**Остров:**

**Учёный 8:** Я родился на острове, на котором много вулканов и гейзеров, потому что мой остров располагается на стыке литосферных плит. Несмотря на название, среднегодовая температура на моём острове - около +4 - +5 градусов Цельсия.

**Остров:**

**Учёный 9:** Я родилась на острове, который отличается ото всех остальных родных островов участников конференции уникальным местоположением. Водоём, омывающий берега моего острова, является самым глубоким среди аналогичных ему в мире и одним из самых старых. На берегах моего острова можно увидеть уникального тюленя - нерпу.

**Остров:**

**Учёный 10:** Я родилась на острове, на котором живут сумчатые. На моём родном острове сейчас весна. Остров получил название в честь известного нидерландского мореплавателя, который изучал континент и острова недалеко от моего родного.

**Остров:**

Учёные с каких двух островов родились в одной стране?

В чём уникальность родного острова учёного 9?

Каким напитком славится остров учёного 5?

Какие страны располагаются на острове учёного 3?

Как раньше назывался остров учёного 2?

Какой стране принадлежит остров учёного 7?

На стыке каких литосферных плит располагается остров учёного 8?

Какой остров - самый северный?

Какой остров - самый южный?

Жители родных островов учёного 3 и учёного 10 говорят на одном языке, являющимся государственным на этих островах. На каком?

### Задание 3

Путешественница Аня посетила несколько стран мира: *Австралию, Белоруссию, Индию, Канаду, Киргизию, Монголию, Норвегию, Сербию, ЮАР и Японию*. После посещения Аня на память оставила себе банкноты стран, в которых она была.

Определите, какой стране соответствует привезённая Аней каждая банкнота. Что помогло вам понять это?





Страна 1 –

Что помогло определить? –




Страна 2 –

Что помогло определить? –



Страна 3 –

Что помогло определить? –




Страна 4 –

Что помогло определить? –




Страна 5 –

Что помогло определить? –



Страна 6 –

Что помогло определить? –





Страна 7 –

Что помогло определить? –



Страна 8 –

Что помогло определить? –



Страна 9 –

Что помогло определить? –



Страна 10 –

Что помогло определить? –

## Задание 4

Определите страну мира по описанию и ответьте на вопросы.

Эта страна является одной из немногих, расположенных в двух частях света. Большая часть располагается на втором по площади материке, в то время как полуостров, принадлежащий данному государству, располагается на крупнейшем по площади материке.

Территория, на которой располагается страна, заселена с древнейших времен. Люди селились здесь в долине самой длинной, но не самой полноводной реки континента. Самая длинная река континента – главная река страны – образуется от слияния двух рек, одна из которых вытекает из самого большого по площади озера континента. За пределами долины этой великой реки жить достаточно сложно, поскольку большую часть территории страны занимает одна из крупнейших пустынь планеты.

Искомая страна омывается водами двух морей двух океанов. В одно из морей впадает самая длинная река континента, другое море носит титул самого солёного моря Мирового океана. Моря соединяются каналом, который оказал огромное влияние на мировую торговлю.

Искомое государство граничит с несколькими странами мира. Официальный язык и государственная религия западного соседа – такие же, что и в искомой стране. Южный сосед до 2011 года был самой большой страной континента по площади, однако распался на два государства. Восточный сосед расположен в другой части света.

Одним из важнейших источников дохода искомой страны является туризм. Самым известным туристическим символом государства являются некие сооружения, которые воздвигались как гробницы.

<b>Искомая страна</b>	
<b>Столица искомой страны</b>	
<b>Части света, в которых она расположена</b>	
<b>Полуостров, который упоминается в задании</b>	
<b>Самая длинная река континента – главная река страны</b>	
<b>Самая полноводная река континента, на котором располагается большая часть искомой страны</b>	
<b>Самое большое по площади озеро континента, на котором располагается большая часть искомой страны</b>	

<b>Моря, омывающие берега искомой страны</b>	
<b>Пустыня, занимающая большую часть территории искомой страны</b>	
<b>Западный сосед</b>	
<b>Официальный язык искомой страны и западного соседа</b>	
<b>Официальная религия искомой страны и западного соседа</b>	
<b>На какие два государства распался южный сосед?</b>	
<b>Самое большое по площади государство континента, на котором располагается большая часть искомой страны</b>	
<b>Восточный сосед</b>	

### Тестовый тур

1. Для какого из этих населенных пунктов характерен максимум осадков в августе?

- А) Волгоград
- Б) Охотск
- В) Ялта
- Г) Дербент



2. В какой из стран можно застать полярный день и полярную ночь?

- А) Эстония
- Б) Финляндия
- В) Ирландия
- Г) Белоруссия

3. Выберите верное утверждение про самый большой регион России по площади:

- А) Омывается водами двух океанов
- Б) Граничит по суше с другим государством
- В) Расположен в трёх часовых поясах
- Г) Не имеет на своей территории гор выше 2000 м

4. Какая из этих крайних точек частей света севернее:

- А) Крайняя северная точка Австралии
- Б) Крайняя восточная точка Южной Америки
- В) Крайняя западная точка Африки
- Г) Крайняя южная точка Евразии

5. На высоте примерно от 10 до 50 км над уровнем моря располагается:

- А) Тропосфера
- Б) Стратосфера
- В) Мезосфера
- Г) Термосфера

6. Процесс оподзоливания изучает:

- А) океанология
- Б) гляциология
- В) почвоведение
- Г) лимнология

7. Линии, соединяющие точки с одинаковым значением атмосферного давления, называют:

- А) изобарами
- Б) изобазами
- В) изоанемонами
- Г) изохронами

8. Влажные экваториальные леса нельзя встретить на территории:

- А) Малайзии
- Б) Перу
- В) Филиппин
- Г) Узбекистана

9. В Атлантический океан не впадает река:

- А) Неман
- Б) Нил
- В) Индигирка
- Г) Оранжевая

10. Дэвид Ливингстон занимался изучением:

- А) Африки
- Б) Австралии
- В) Северной Америки
- Г) Южной Америки

11. Ближайшая к Солнцу точка орбиты Земли называется:

- А) Афелий
- Б) Перигелий
- В) Сизигий
- Г) Терминатор

12. Максимальная среднегодовая амплитуда температуры будет отмечаться в:

- А) Сингапуре
- Б) Осло
- В) Улан-Баторе
- Г) Париже

13. Два океана соединяет пролив:

- А) Дрейка
- Б) Дарданеллы
- В) Скагеррак
- Г) Ла-Манш

14. Самый длинный световой день в году в Московской области отмечается в:

- А) мае
- Б) июне
- В) июле
- Г) августе

15. Купец Афанасий Никитин отправился в путь из:

- А) Москвы
- Б) Ярославля
- В) Твери
- Г) Костромы

16. Ветра, которые дуют в Северном полушарии круглый год между тропиками с северо-востока, называют:

- А) Пассаты
- Б) Муссоны
- В) Бризы
- Г) Бора

17. Обитатели морского дна Мирового океана называются

- А) зоопланктоном
- Б) фитопланктоном
- В) nekтоном
- Г) бентосом

18. Какое из этих озёр глубже:

- А) Ладожское
- Б) Гурон
- В) Танганьика
- Г) Балхаш

19. Оловянная руда называется:

- А) Пирит
- Б) Касситерит
- В) Халькопирит



Г) Андезит

20. Гейзеры нельзя встретить в:

А) США

Б) Новой Зеландии

В) Белоруссии

Г) Кении

### Задание 1

1)

Название формы рельефа: **карстовая воронка (1,5 балла)**

Происхождение формы рельефа: **карстовое (1,5 балла)**

В честь какого известнякового плато было дано название процесса, повлиявшего на образование данной формы рельефа? В каком государстве оно расположено? **Плато Карст (1 балл), Словения (1 балл)**

2)

Название формы рельефа: **булгуннях/пинго/бугор пучения/гидролакколит (любой из вариантов, засчитывать один, 1,5 балла)**

Происхождение формы рельефа: **криогенное/мерзлотное (1,5 балла)**

В каком субъекте РФ можно встретить наибольшее количество данных форм рельефа? Почему? **Республика Саха (Якутия) (1 балл). Зона резко континентального климата, наличие многолетней мерзлоты - по 0,5 балла за причину (засчитываются и другие имеющие здравый смысл объяснения, но за пункт не больше 1 балла)**

3)

Название формы рельефа: **бархан (1,5 балла)**

Происхождение формы рельефа: **эоловое / засчитывать ответы по слову «ветер», например «под действием сил ветра» (1,5 балла)**

Какое название носит данная форма рельефа в РФ, обладающая наибольшей высотой? В каком субъекте она расположена? **Сарыкум(Сары-Кум) - 1 балл, Республика Дагестан – 1 балл**

4)

Название формы рельефа: **друмлины / оз (1,5 балла)**

Происхождение формы рельефа: **ледниковое (1,5 балла)**

Назовите две формы рельефа аналогичного происхождения: **Озы – 1 балл, камы – 1 балл (Засчитываются и любые другие ледниковые формы рельефа, но только две)**

**Итого 20 баллов**

### Задание 2

На конференции по новым компьютерным технологиям и защите компьютерных программ собрались учёные из разных стран мира. Восемь из них, выступавших в одной секции, разговорились между собой и выяснили, что все они родились на островах. По рассказу каждого учёного определите, на каком острове кто родился и ответьте на дополнительные вопросы.

**Учёный 1: Мадагаскар (1 балл)**

**Учёный 2: Калимантан (1 балл)**

**Учёный 3: Ирландия (1 балл)**

**Учёный 4: Сахалин (1 балл)**

**Учёный 5: Шри-Ланка (1 балл)**

**Учёный 6: Куба (1 балл)**

**Учёный 7: Сицилия (1 балл)**

**Учёный 8: Исландия (1 балл)**

**Учёный 9: Ольхон (зачёт: любой остров Байкала) (1 балл)**

**Учёный 10: Тасмания (1 балл)**

Учёные с каких двух островов родились в одной стране? **Ольхон и Сахалин (1 балл, только за указание двух островов)**

В чём уникальность родного острова учёного 9? **Не морской / озёрный (по смыслу) (1 балл)**

Каким напитком славится остров учёного 5? **Чай (1 балл)**

Какие страны располагаются на острове учёного 3? **Ирландия и Соединённое Королевство (зачёт: Северная Ирландия, Великобритания НЕ зачёт, только за указание двух стран) (1 балл)**

Как раньше назывался остров учёного 2? **Борнео (1 балл)**

Какой стране принадлежит остров учёного 7? **Италия (1 балл)**

На стыке каких литосферных плит располагается остров учёного 8? **Северо-Американской и Евразийской (1 балл)**

Какой остров - самый северный? **Исландия (1 балл)**

Какой остров - самый южный? **Тасмания (1 балл)**

Жители родных островов учёного 3 и учёного 10 говорят на одном языке, являющимся государственным на этих островах. На каком? **Английском (1 балл)**

**Итого 20 баллов**

**Задание 3**

Страна 1 – **Сербия (1 балл)**

Что помогло определить? – **Надписи на кириллице, название валюты «динар», портрет Николы Теслы (любой иной ответ по смыслу, достаточно одного ответа) (1 балл)**

Страна 2 – **ЮАР (1 балл)**



Что помогло определить? – изображение носорога, название валюты «ранд» (любой иной ответ по смыслу, достаточно одного ответа) (1 балл)

Страна 3 – Австралия (1 балл)

Что помогло определить? – портрет Королевы Елизаветы, надписи на английском (любой иной ответ по смыслу, достаточно одного ответа) (1 балл)

Страна 4 – Япония (1 балл)

Что помогло определить? – профиль Фудзиямы, название валюты «иена» (любой иной ответ по смыслу, достаточно одного ответа) (1 балл)

Страна 5 – Белоруссия (1 балл)

Что помогло определить? – надписи на кириллице, название валюты «рубль», изображение библиотеки в Минске (любой иной ответ по смыслу, достаточно одного ответа) (1 балл)

Страна 6 – Норвегия (1 балл)

Что помогло определить? – изображение рыбы – промысла норвежцев, название валюты «крона» (любой иной ответ по смыслу, достаточно одного ответа) (1 балл)

Страна 7 – Индия (1 балл)

Что помогло определить? – очки Махатмы Ганди, изображение Красного форта, надписи на хинди, название валюты «рупия» (любой иной ответ по смыслу, достаточно одного ответа) (1 балл)

Страна 8 – Канада (1 балл)

Что помогло определить? – надписи на английском и на французском, профиль кленового листа, изображение страны (любой иной ответ по смыслу, достаточно одного ответа) (1 балл)

Страна 9 – Киргизия (1 балл)

Что помогло определить? – название валюты «сом», надписи на кириллице, изображение местного жителя в традиционном одеянии (любой иной ответ по смыслу, достаточно одного ответа) (1 балл)

Страна 10 – Монголия (1 балл)

Что помогло определить? – надписи на старомонгольском, портрет Чингисхана (любой иной ответ по смыслу, достаточно одного ответа) (1 балл)

**Итого 20 баллов**

#### **Задание 4**

<b>Искомая страна</b>	<b>Египет (2 балла)</b>
<b>Столица искомой страны</b>	<b>Каир (1 балл)</b>
<b>Части света, в которых она расположена</b>	<b>Африка и Азия (по 1 баллу за каждую)</b>
<b>Полуостров, который упоминается в задании</b>	<b>Синайский (2 балла)</b>
<b>Самая длинная река континента – главная</b>	<b>Нил (1 балл)</b>

река страны	
Самая полноводная река континента, на котором располагается большая часть искомой страны	Конго (1 балл)
Самое большое по площади озеро континента, на котором располагается большая часть искомой страны	Виктория (1 балл)
Моря, омывающие берега искомой страны	Средиземное и Красное (по 1 баллу за каждое)
Пустыня, занимающая большую часть территории искомой страны	Сахара (1 балл)
Западный сосед	Ливия (1 балл)
Официальный язык искомой страны и западного соседа	Арабский (1 балл)
Официальная религия искомой страны и западного соседа	Ислам (1 балл)
На какие два государства распался южный сосед?	Судан и Южный Судан (по 1 баллу за каждую)
Самое большое по площади государство континента, на котором располагается большая часть искомой страны	Алжир (1 балл)
Восточный сосед	Израиль (ответ «Палестина» засчитывать) (1 балл)

**Итого 20 баллов**

#### Тестовый тур

1	Б	6	В	11	Б	16	А
2	Б	7	А	12	В	17	Г
3	В	8	Г	13	А	18	В
4	В	9	В	14	Б	19	Б
5	Б	10	А	15	В	20	В

**Итого 20 баллов**