



Вариант 3

Инструкция по выполнению работы

Экзаменационная работа состоит из двух частей, включающих в себя 26 заданий. Часть 1 содержит 20 заданий, часть 2 содержит 6 заданий с развёрнутым ответом.

На выполнение экзаменационной работы по математике отводится 3 часа 55 минут (235 минут).

Ответы к заданиям 7 и 15 запишите в бланк ответов № 1 в виде одной цифры, которая соответствует номеру правильного ответа.

Для остальных заданий части 1 ответом является число или последовательность цифр. Ответ запишите в поле ответа в тексте работы, а затем перенесите в бланк ответов № 1. Если получилась обыкновенная дробь, ответ запишите в виде десятичной.

Решения заданий части 2 и ответы к ним запишите на бланке ответов № 2. Задания можно выполнять в любом порядке. Текст задания переписывать не надо, необходимо только указать его номер.

Все бланки заполняются яркими чёрными чернилами. Допускается использование гелевой или капиллярной ручки.

Сначала выполняйте задания части 1. Начать советуем с тех заданий, которые вызывают у Вас меньше затруднений, затем переходите к другим заданиям. Для экономии времени пропускайте задание, которое не удаётся выполнить сразу, и переходите к следующему. Если у Вас останется время, Вы сможете вернуться к пропущенным заданиям.

При выполнении части 1 все необходимые вычисления, преобразования выполняйте в черновике. **Записи в черновике, а также в тексте контрольных измерительных материалов не учитываются при оценивании работы.**

Если задание содержит рисунок, то на нём непосредственно в тексте работы можно выполнять необходимые Вам построения. Рекомендуем внимательно читать условие и проводить проверку полученного ответа.

При выполнении работы Вы можете воспользоваться справочными материалами, выданными вместе с вариантом КИМ, и линейкой.

Баллы, полученные Вами за выполненные задания, суммируются. Постарайтесь выполнить как можно больше заданий и набрать наибольшее количество баллов.

Для прохождения аттестационного порога необходимо набрать не менее 8 баллов, из которых не менее 2 баллов должны быть получены за решение заданий по геометрии (задания 16–20, 24–26).

После завершения работы проверьте, чтобы ответ на каждое задание в бланках ответов № 1 и № 2 был записан под правильным номером.

Желаем успеха!

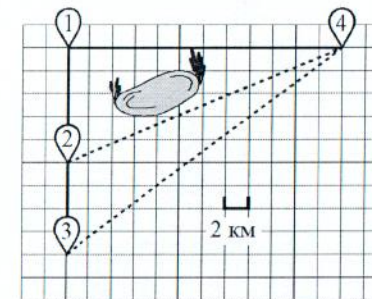
Часть 1

Ответами к заданиям 1–20 являются число или последовательность цифр, которые следует записать в БЛАНК ОТВЕТОВ №1 справа от номера соответствующего задания, начиная с первой клеточки. Если ответом является последовательность цифр, то запишите её без пробелов, запятых и других дополнительных символов. Каждый символ пишите в отдельной клеточке в соответствии с приведёнными в бланке образцами.

Прочитайте внимательно текст и выполните задания 1–5.

Гриша летом отдыхает у бабушки в деревне Грушевка. В понедельник они собираются съездить на велосипедах в село Абрамово на ярмарку. Из деревни Грушевка в село Абрамово можно проехать по прямой лесной дорожке. Есть более длинный путь: по прямолинейному шоссе через деревню Таловка до деревни Новая, где нужно повернуть под прямым углом направо на другое шоссе, ведущее в село Абрамово. Есть и третий маршрут: в деревне Таловка можно свернуть на прямую тропинку в село Абрамово, которая идёт мимо пруда.

Лесная дорожка и тропинка образуют с шоссе прямоугольные треугольники.



По шоссе Гриша с бабушкой едут со скоростью 15 км/ч, а по лесной дорожке и тропинке — со скоростью 12 км/ч. На плане изображено взаимное расположение населённых пунктов, длина стороны каждой клетки равна 2 км.



- 1 Пользуясь описанием, определите, какими цифрами на плане обозначены населённые пункты.
Заполните таблицу, в бланк ответов перенесите последовательность трёх цифр без пробелов, запятых и других дополнительных символов.

Насел. пункты	д. Новая	с. Абрамово	д. Таловка
Цифры			

- 2 Сколько километров проедут Гриша с дедушкой от деревни Таловка до села Абрамово, если они поедут по шоссе через деревню Новая?

Ответ: _____.

- 3 Найдите расстояние от деревни Грушёвка до села Абрамово по прямой. Ответ дайте в километрах.

Ответ: _____.

- 4 Сколько минут затратят на дорогу из деревни Грушёвка в село Абрамово Гриша с дедушкой, если они поедут сначала по шоссе, а затем свернут в Таловке на прямую тропинку, которая проходит мимо пруда?

Ответ: _____.

- 5 В таблице указана стоимость (в рублях) некоторых продуктов в четырёх магазинах, расположенных в деревне Грушёвка, селе Абрамово, деревне Таловка и деревне Новая.

Наименование продукта	д. Грушёвка	с. Абрамово	д. Таловка	д. Новая
Молоко (1 л)	32	33	31	34
Хлеб (1 батон)	24	21	26	20
Сыр «Российский» (1 кг)	320	310	330	300
Говядина (1 кг)	390	360	370	420
Картофель (1 кг)	10	18	15	12

Гриша с дедушкой хотят купить 4 л молока, 5 батончиков хлеба и 2 кг говядины. В каком магазине такой набор продуктов будет стоить дешевле всего? В ответ запишите стоимость данного набора в этом магазине.

Ответ: _____.

- 6 Найдите значение выражения $\frac{1}{5} + \frac{53}{50}$.

Ответ: _____.

- 7 Между какими числами заключено число $\sqrt{73}$?

1) 8 и 9 2) 72 и 74 3) 24 и 26 4) 4 и 5

Ответ:

- 8 Найдите значение выражения $\frac{1}{5^{-8}} \cdot \frac{1}{5^6}$.

Ответ: _____.

- 9 Решите уравнение $x^2 - 6x + 5 = 0$.

Если уравнение имеет более одного корня, в ответ запишите меньший из корней.

Ответ: _____.

- 10 Родительский комитет закупил 20 пазлов для подарков детям в связи с окончанием учебного года, из них 11 с машинами и 9 с видами городов. Подарки распределяются случайным образом между 20 детьми, среди которых есть Илюша. Найдите вероятность того, что Илюше достанется пазл с машиной.

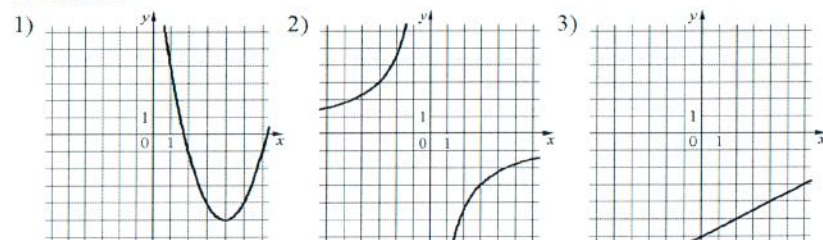
Ответ: _____.



11 Установите соответствие между функциями и их графиками.
ФУНКЦИИ

А) $y = \frac{1}{2}x - 6$ Б) $y = x^2 - 8x + 11$ В) $y = -\frac{9}{x}$

ГРАФИКИ



В таблице под каждой буквой укажите соответствующий номер.

Ответ:

А	Б	В

12 Последовательность (c_n) задана условиями:
 $c_1 = -5, c_{n+1} = c_n - 2$.

Найдите c_7 .

Ответ: _____.

13 Найдите значение выражения $\left(\frac{1}{2a} + \frac{1}{6a}\right) \cdot \frac{a^2}{5}$ при $a = -4,8$.

Ответ: _____.

14 Чтобы перевести значение температуры по шкале Цельсия в шкалу Фаренгейта, пользуются формулой $t_F = 1,8t_C + 32$, где t_C — температура в градусах Цельсия, t_F — температура в градусах Фаренгейта. Скольким градусам по шкале Фаренгейта соответствует 20 градусов по шкале Цельсия?

Ответ: _____.

15 Укажите решение системы неравенств

$$\begin{cases} x + 1,8 \leq 0, \\ x + 0,5 \leq -0,5. \end{cases}$$



Ответ:

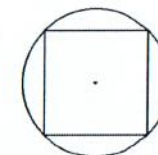
16 В треугольнике ABC угол C равен 90° , $\cos B = \frac{7}{9}$, $AB = 54$.
Найдите BC .

Ответ: _____.



17 Сторона квадрата равна $8\sqrt{2}$. Найдите радиус окружности, описанной около этого квадрата.

Ответ: _____.




18 Сумма двух углов равнобедренной трапеции равна 220° . Найдите меньший угол этой трапеции. Ответ дайте в градусах.

Ответ: _____.



19 На клетчатой бумаге с размером клетки 1×1 изображён параллелограмм. Найдите его площадь.

Ответ: _____.



20 Какие из следующих утверждений верны?

- 1) Две прямые, перпендикулярные третьей прямой, перпендикулярны.
- 2) В любой прямоугольной трапеции есть два равных угла.
- 3) Все диаметры окружности равны между собой.

В ответ запишите номера выбранных утверждений без пробелов, запятых и других дополнительных символов.

Ответ: _____.



Не забудьте перенести все ответы в бланк ответов № 1 в соответствии с инструкцией по выполнению работы. Проверьте, чтобы каждый ответ был записан в строке с номером соответствующего задания.