

25. Среди участников заседания Государственного совета на известной картине Ильи Ефимовича Репина изображён один из знаменитых российских географов XIX века ...


- А) Николай Михайлович Пржевальский;
- Б) Пётр Петрович Семёнов-Тян-Шанский;
- В) Дмитрий Николаевич Анучин;
- Г) Чокан Чингисович Валиханов;
- Д) Пётр Александрович Чихачёв.

26. Единственная европейская страна, имеющая сухопутную границу с африканской страной.

- А) Турция;
- Б) Италия;
- В) Испания;
- Г) Португалия;
- Д) Греция.

27. До XIX века эта красивая птица обитала почти исключительно в тропической и субтропической Евразии. Сейчас в Европе она встречается почти до Полярного круга и Урала.

- А) вяхирь;
- Б) кольчатая горлица;
- В) обыкновенная горлица;
- Г) сизый голубь;
- Д) странствующий голубь.



28. Какая группа насекомых обычно живёт большими семьями и распространена в тёплых частях Евразии, а некоторые их виды могут быть серьёзными вредителями?

- А) жуки;
- Б) бабочки;
- В) тараканы;
- Г) термиты;
- Д) ногохвостки.

29. Когда-то этот вид псовых встречался только в южных частях Евразии, но в последние десятилетия освоил значительную часть Европы вплоть до Балтийского моря.



30. У одной из самых красивых деревень Франции Ле-Бо два века назад была впервые найдена горная порода, из которой сейчас добывают ...

- А) алюминий;
- Б) железо;
- В) бор;
- Г) никель;
- Д) золото.



Новосибирский центр продуктивного обучения

9–11 классы

Человек и природа

МЕЖДУНАРОДНЫЙ ИГРОВОЙ КОНКУРС

www.konkurs-chip.ru

22 октября 2020 года

Задания, оцениваемые в 3 балла

1. Какое из морей не омывает азиатскую часть Евразии?

- А) Карское;
- Б) Японское;
- В) Аравийское;
- Г) Северное;
- Д) Берингово.

2. Какая страна выделена на карте Евразии?

- А) Швеция;
- Б) Финляндия;
- В) Норвегия;
- Г) Дания;
- Д) Эстония.



3. Сухопутная граница между Евразией и Африкой проходит по ... перешейку.

- А) Суэцкому;
- Б) Панамскому;
- В) Перекопскому;
- Г) Карельскому;
- Д) Коринфскому.



4. В прибрежных районах Средиземного и в меньшей степени Чёрного моря последние века широко распространены своеобразные экосистемы ...

- А) степей;
- Б) лугов;
- В) широколиственных лесов;
- Г) тундр;
- Д) маквиса.


5. На картине Николая Константиновича Рериха изображена самая высокая вершина Алтайских гор.

- А) Белуха;
- Б) Эльбрус;
- В) Казбек;
- Г) Мунку-Сардык;
- Д) Ключевская сопка.

6. Волга впадает в Каспийское море, а Колыма — в ...

- А) Баренцево море;
- Б) Карское море;
- В) море Лаптевых;
- Г) Восточно-Сибирское море;
- Д) море Бофорта.

7. Мезенская роспись приведена на картинке ...



Время, отведённое на выполнение заданий, – 45 минут.



8. По берегам многочисленных каналов в Нидерландах часто можно увидеть вот такие суда. Это ...


- А) плавающие жилые дома;
- Б) баржи для перевозки грузов;
- В) прогулочные лодки;
- Г) плавающие оранжереи;
- Д) домики для ловли рыбы.

9. В Евразии проживает ...

- А) менее 2 миллиардов человек;
- Б) от 2 до 3 миллиардов человек;
- В) от 3 до 4 миллиардов человек;
- Г) от 4 до 5 миллиардов человек;
- Д) более 5 миллиардов человек.


10. Что является причиной возникновения изображённого на фотографии явления на полуострове Камчатка?

- А) Поток горячей воды из-под земли в результате гниения органики глубоко под землей.
- Б) Перепад давления и выдавливание воды на поверхность.
- В) Проявление поздних стадий вулканической деятельности.
- Г) Хозяйственная деятельность человека.
- Д) Горение мусорной свалки.



..... Задания, оцениваемые в 4 балла

11. Этот красивый минерал добывают исключительно в Сибири.



12. Берега Евразии не граничат с этим морем.

- А) Красное море;
- Б) Жёлтое море;
- В) Белое море;
- Г) Чёрное море;
- Д) Коралловое море.



13. В широколиственном буковом лесу царит жёлто-зелёный сумрак, так как листва основной лесообразующей породы интенсивно поглощает солнечные лучи ...

- А) всего спектра;
- Б) в жёлто-зелёной части спектра;
- В) в красной и сине-фиолетовой части спектра;
- Г) в красной части спектра;
- Д) в фиолетовой части спектра.

14. Гербы многих стран – производителей хлопка – включают изображения хлопчатника. Но на гербе основного производителя хлопка это растение отсутствует. Это страна ...

- А) Индия;
- Б) Пакистан;
- В) Узбекистан;
- Г) Туркменистан;
- Д) Таджикистан.



15. Это поселение России расположено в Западном полушарии.


- А) Верхоянск;
- Б) Тикси;
- В) Билибино;
- Г) Омсукчан;
- Д) Уэлен.

16. У фиалок, наряду с обычными, развиваются клейстогамные цветки, которые ...


- А) образуют клейкую пыльцу, распространяемую опылителями;
- Б) служат для вегетативного размножения;
- В) образуют клейкие семена, распространяемые животными;
- Г) самоопыляются при закрытом венчике;
- Д) развиваются непосредственно на стебле.

17. В конце XIX века Василий Иванович Суриков написал картину с видом на родной город ...

- А) Петербург;
- Б) Красноярск;
- В) Новосибирск;
- Г) Москву;
- Д) Омск.



18. Это животное является национальным символом Китая.



19. В строке Александра Сергеевича Пушкина «Меж нив золотых и пажитей зелёных» пажить — это ...

- А) пустошь;
- Б) поле сельскохозяйственных культур;
- В) пастбище;
- Г) залежь;
- Д) заросли пажитника.

20. Какая страна Евразии полностью располагается в Западном полушарии?

- А) Дания;
- Б) Россия;
- В) Нидерланды;
- Г) Франция;
- Д) Ирландия.

..... Задания, оцениваемые в 5 баллов

21. Полярная ночь не бывает ...

- А) полной;
- Б) астрономической;
- В) военной;
- Г) навигационной;
- Д) гражданской.

22. Названия многих химических элементов «географические». Это не относится к элементу ...

- А) индий;
- Б) скандий;
- В) галлий;
- Г) германий;
- Д) европий.

23. С точки зрения биолога – это ...

- А) капуста огородная;
- Б) горчица сарептская;
- В) репа;
- Г) рапс;
- Д) горчица чёрная.



24. Основное место обитания этого грызуна арктическая и субарктическая тундра.

