

## Модель 1

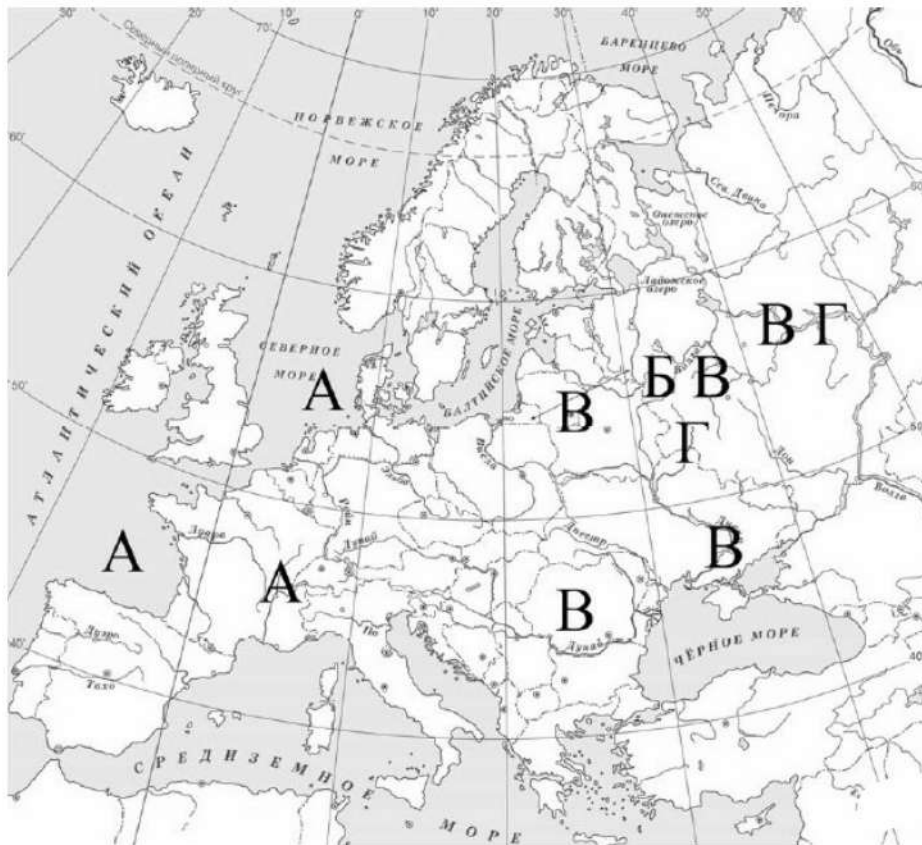
1. Заштрихуйте на контурной карте один четырёхугольник, образованный градусной сеткой, в котором полностью или частично происходило выбранное Вами событие (процесс).



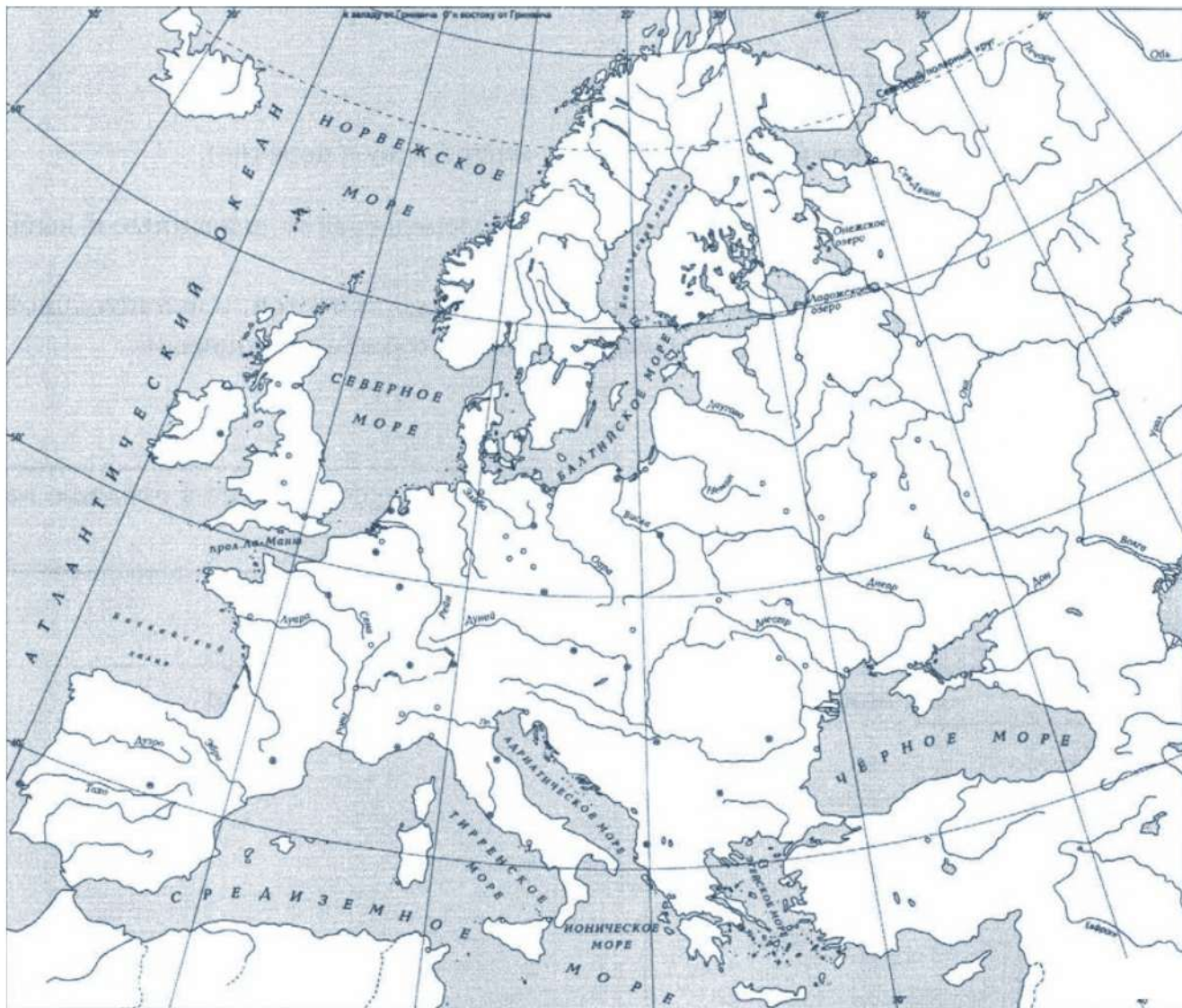
### Перечень событий (процессов)

- |  |   |
|--|---|
| А) Столетняя война                         | Б) Образование Древнерусского государства               |
| В) Монгольское нашествие на Русь в XIII в. | Г) Борьба Руси против монгольского владычества в XIV в. |

Пояснение.



2. Заштрихуйте на контурной карте один четырёхугольник, образованный градусной сеткой, в котором полностью или частично происходило выбранное Вами событие (процесс).

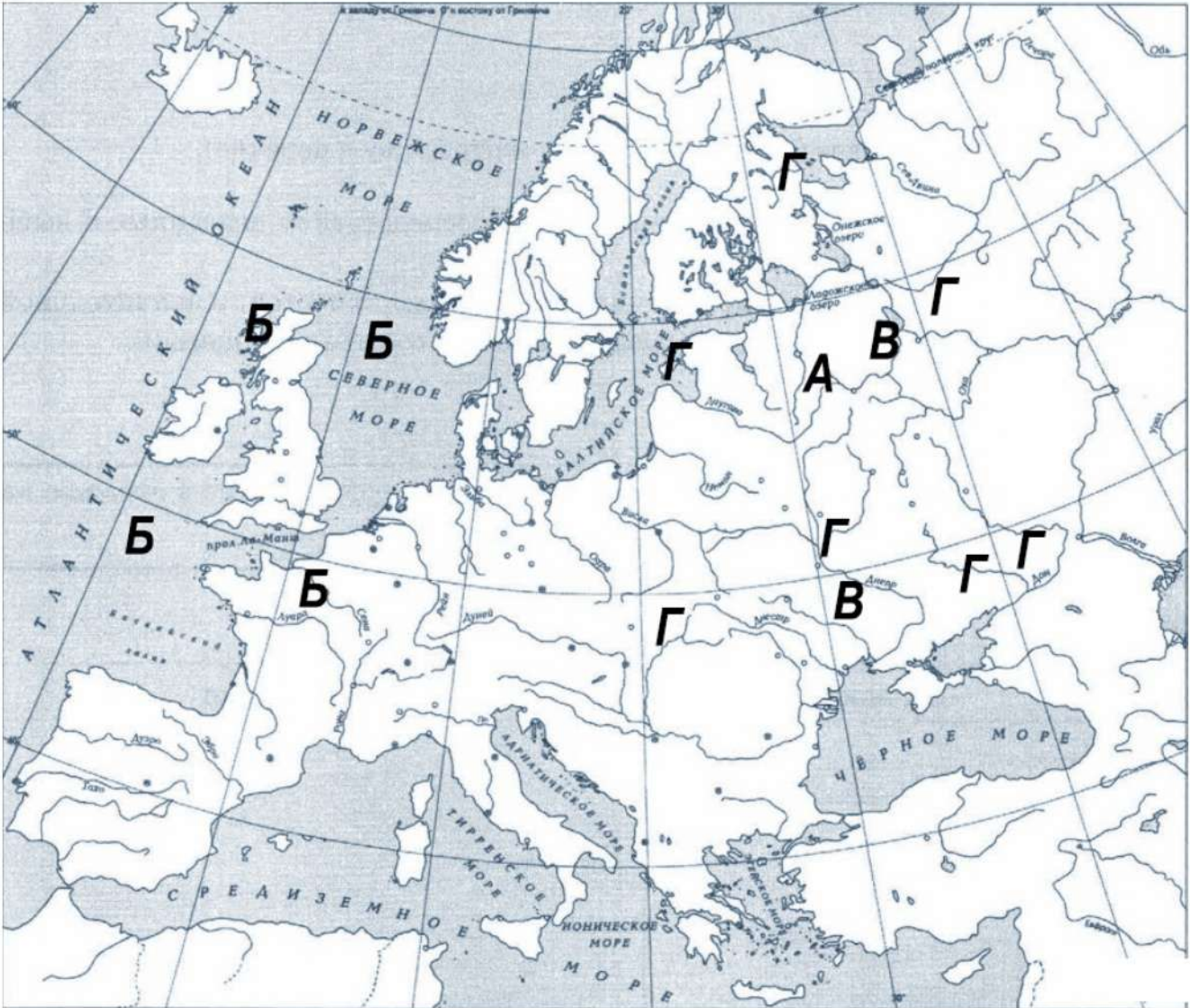


**Перечень событий (процессов)**

- А) присоединение Новгорода к Московскому княжеству      Б) битва при Гастингсе  
В) принятие христианства на Руси      Г) первый письменный сборник законов

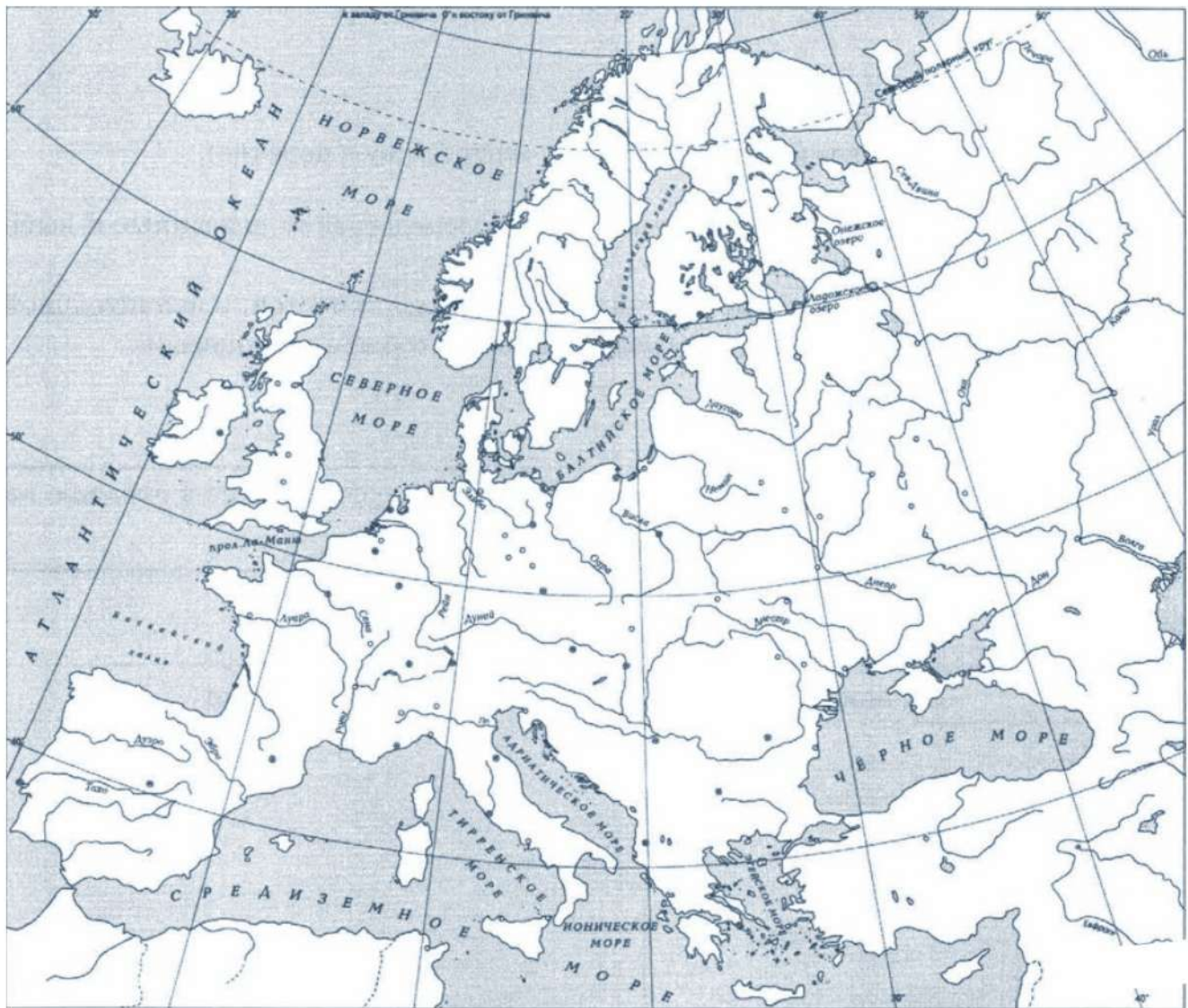


Пояснение.



3. Заштрихуйте на контурной карте один четырёхугольник, образованный градусной сеткой, в котором полностью или частично происходило выбранное Вами событие (процесс).

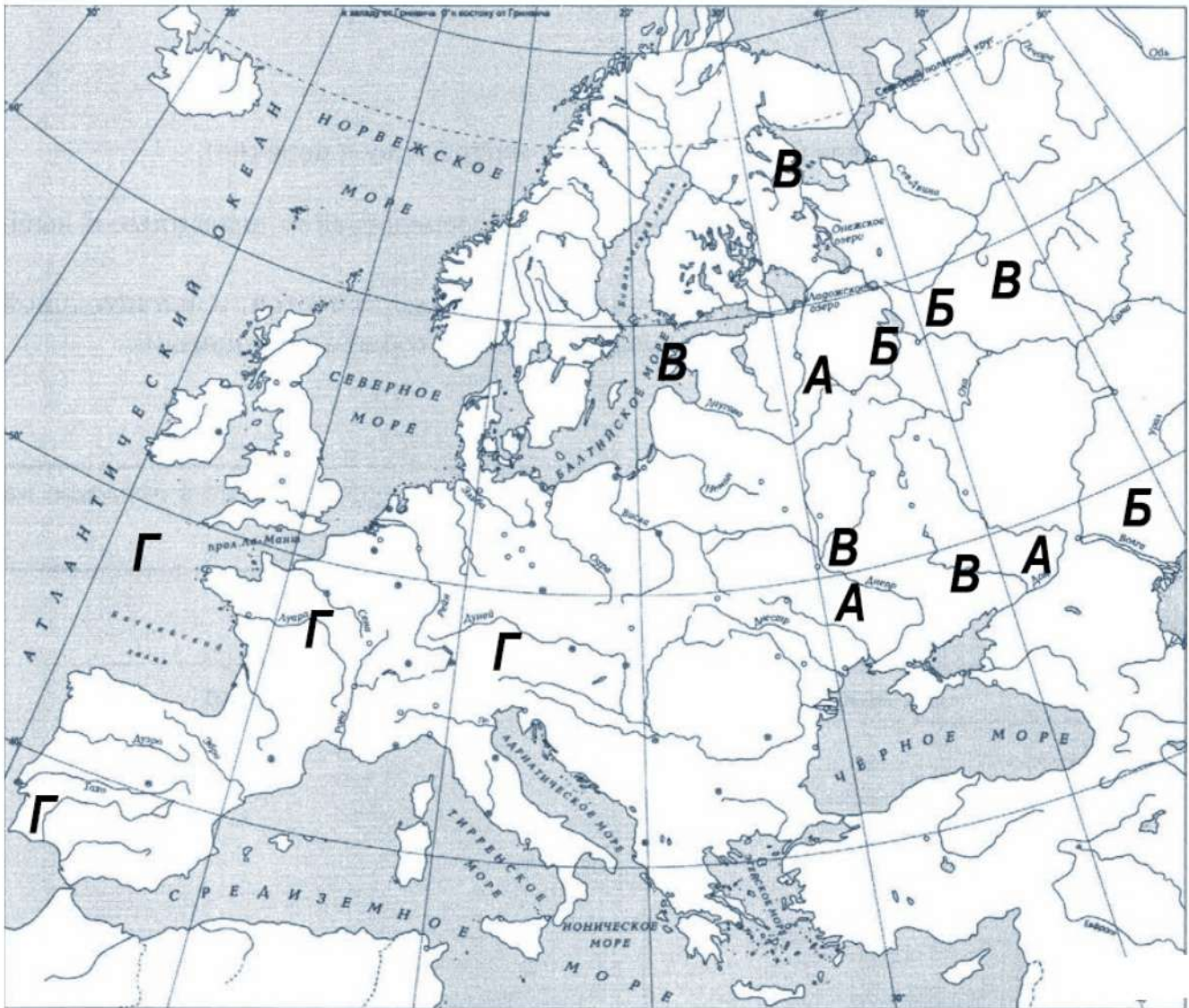




**Перечень событий (процессов)**

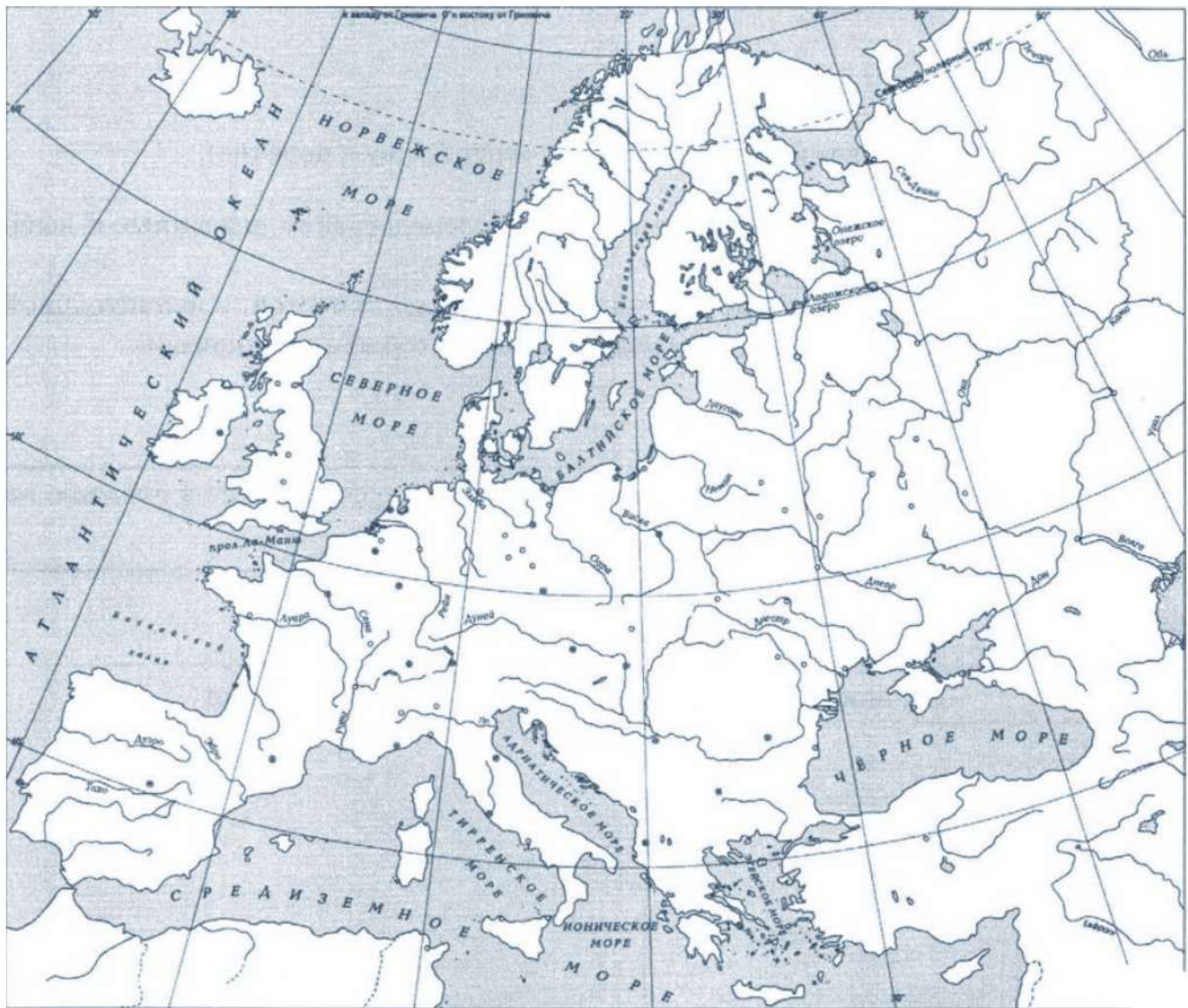
- А) борьба Руси с печенегами в X в.      Б) борьба с Золотой Ордой  
В) призвание варягов                      Г) казнь еретиков

Пояснение.



4. Заштрихуйте на контурной карте один четырёхугольник, образованный градусной сеткой, в котором полностью или частично происходило выбранное Вами событие (процесс).





**Перечень событий (процессов)**

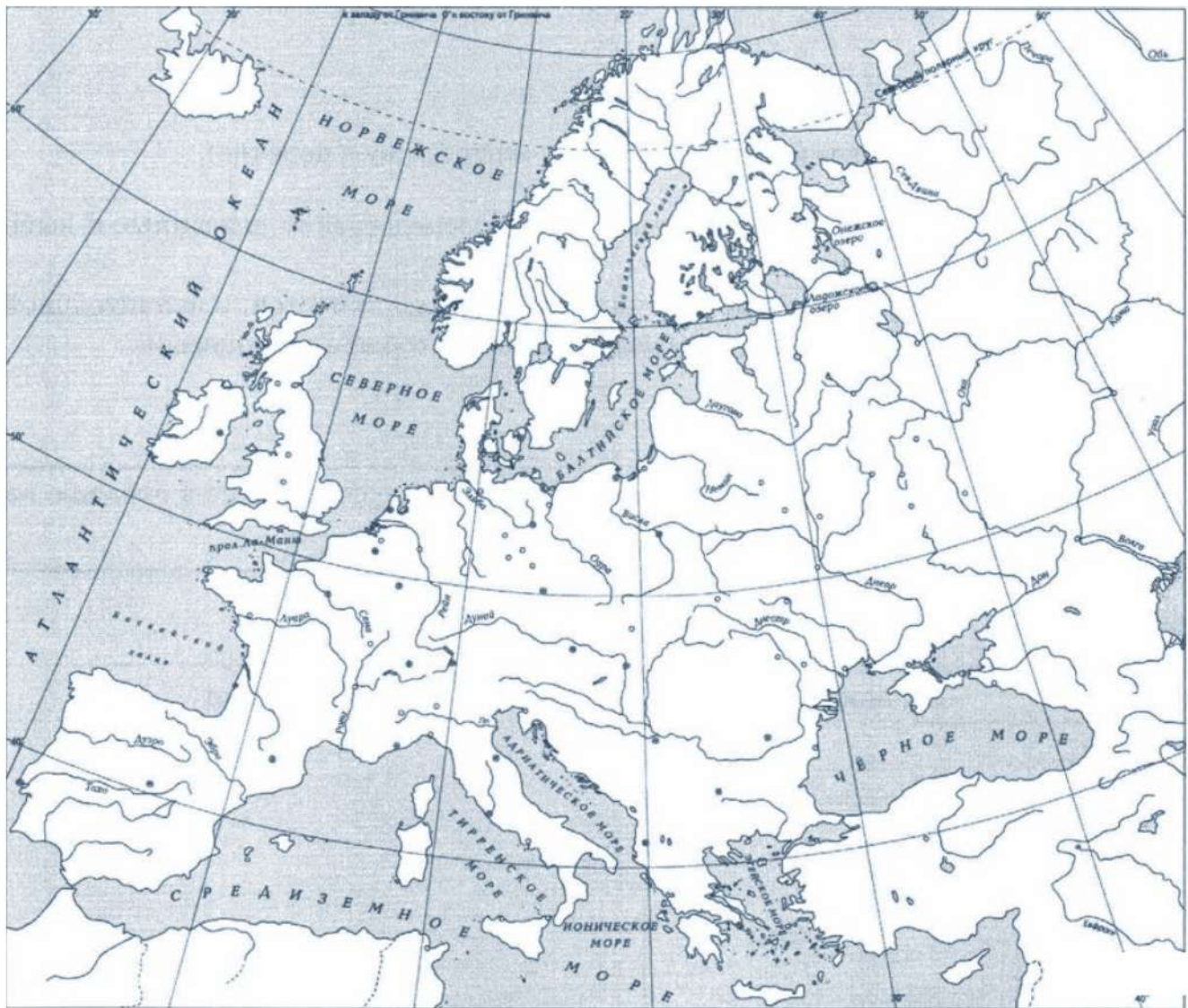
- |  |                                       |
|--|---------------------------------------|
| А) Крестовые походы  | Б) нашествие Батые на Русь            |
| В) процесс создания централизованного Русского государства | Г) феодальная раздробленность на Руси |



Пояснение.



5. Заштрихуйте на контурной карте один четырёхугольник, образованный градусной сеткой, в котором полностью или частично происходило выбранное Вами событие (процесс).

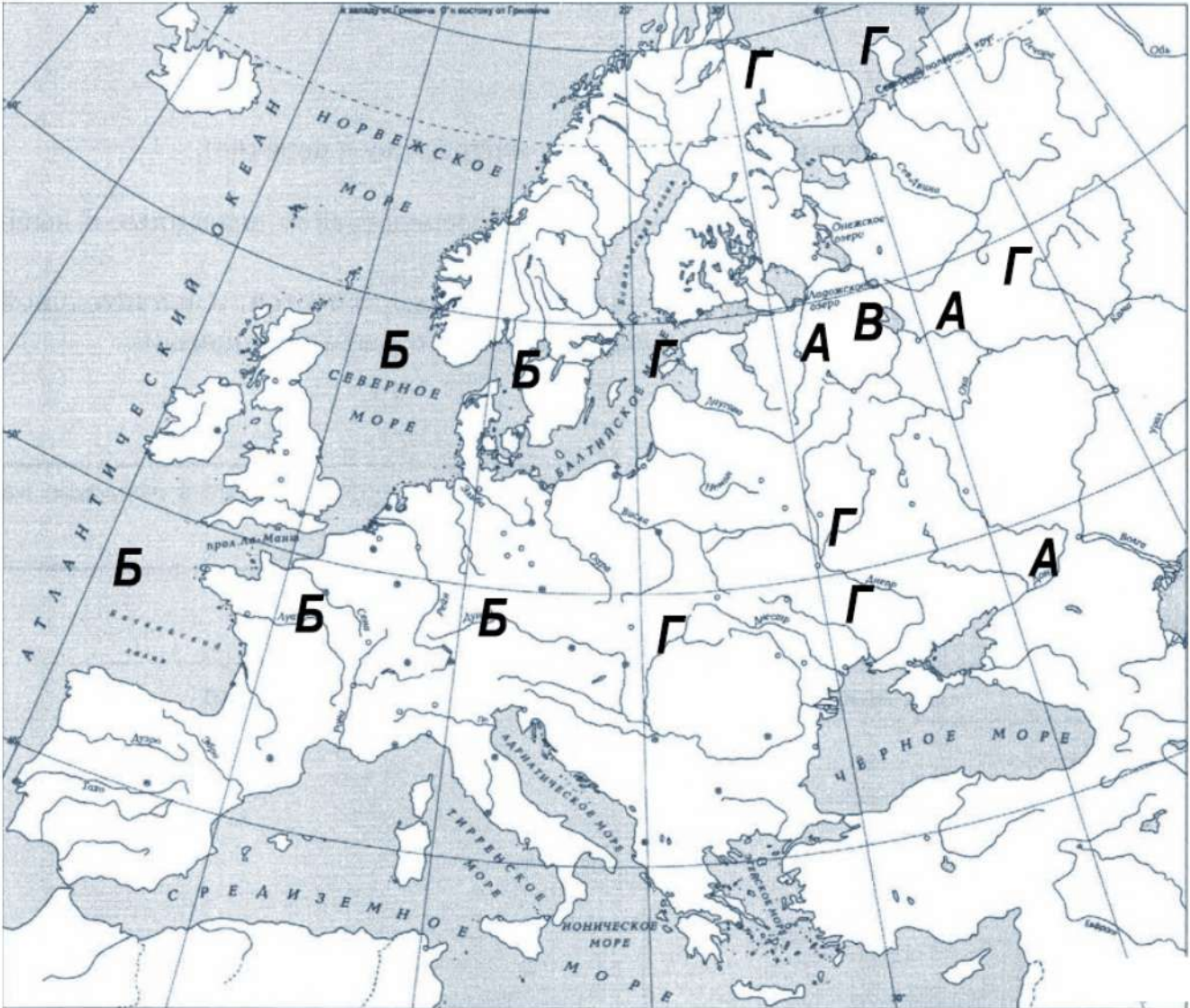


Перечень событий (процессов)

- |  |                                       |
|--|---------------------------------------|
| А) Стояние на Угре   | Б) появление государства у Франков    |
| В) Борьба между Тверью и Москвой за первенство в Северо-Восточной Руси | Г) феодальная раздробленность на Руси |

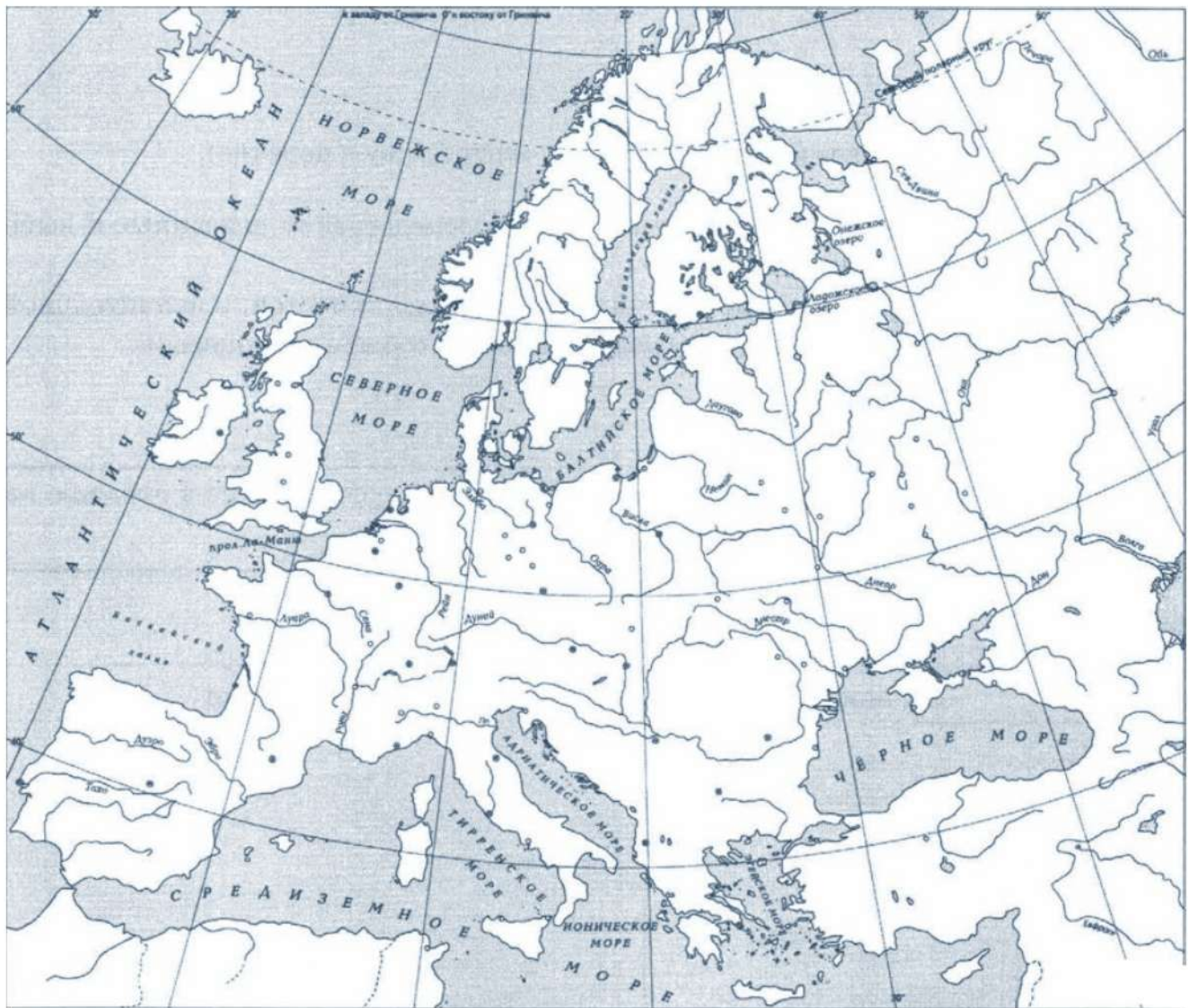


Пояснение.



6. Заштрихуйте на контурной карте один четырёхугольник, образованный градусной сеткой, в котором полностью или частично происходило выбранное Вами событие (процесс).

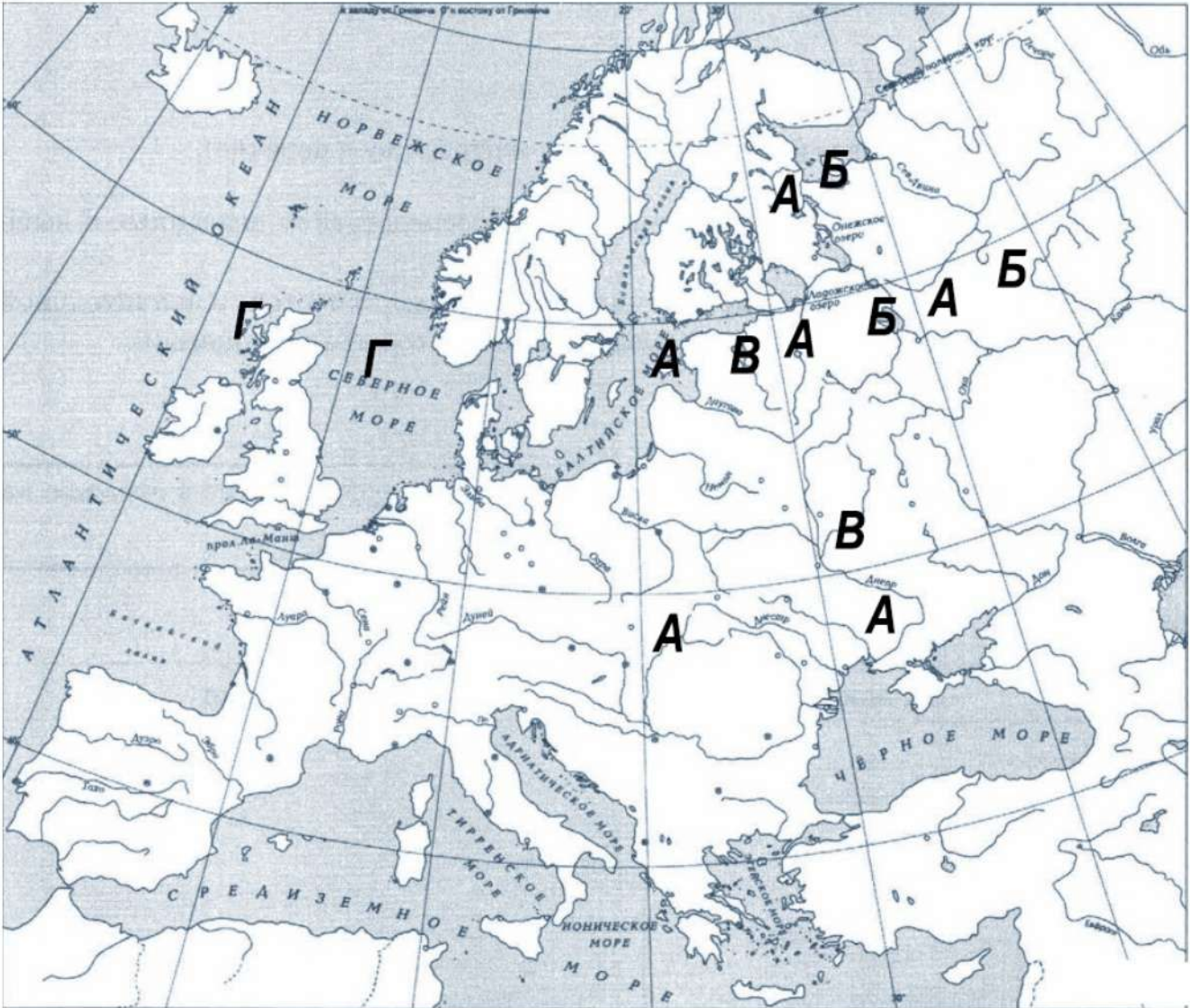




**Перечень событий (процессов)**

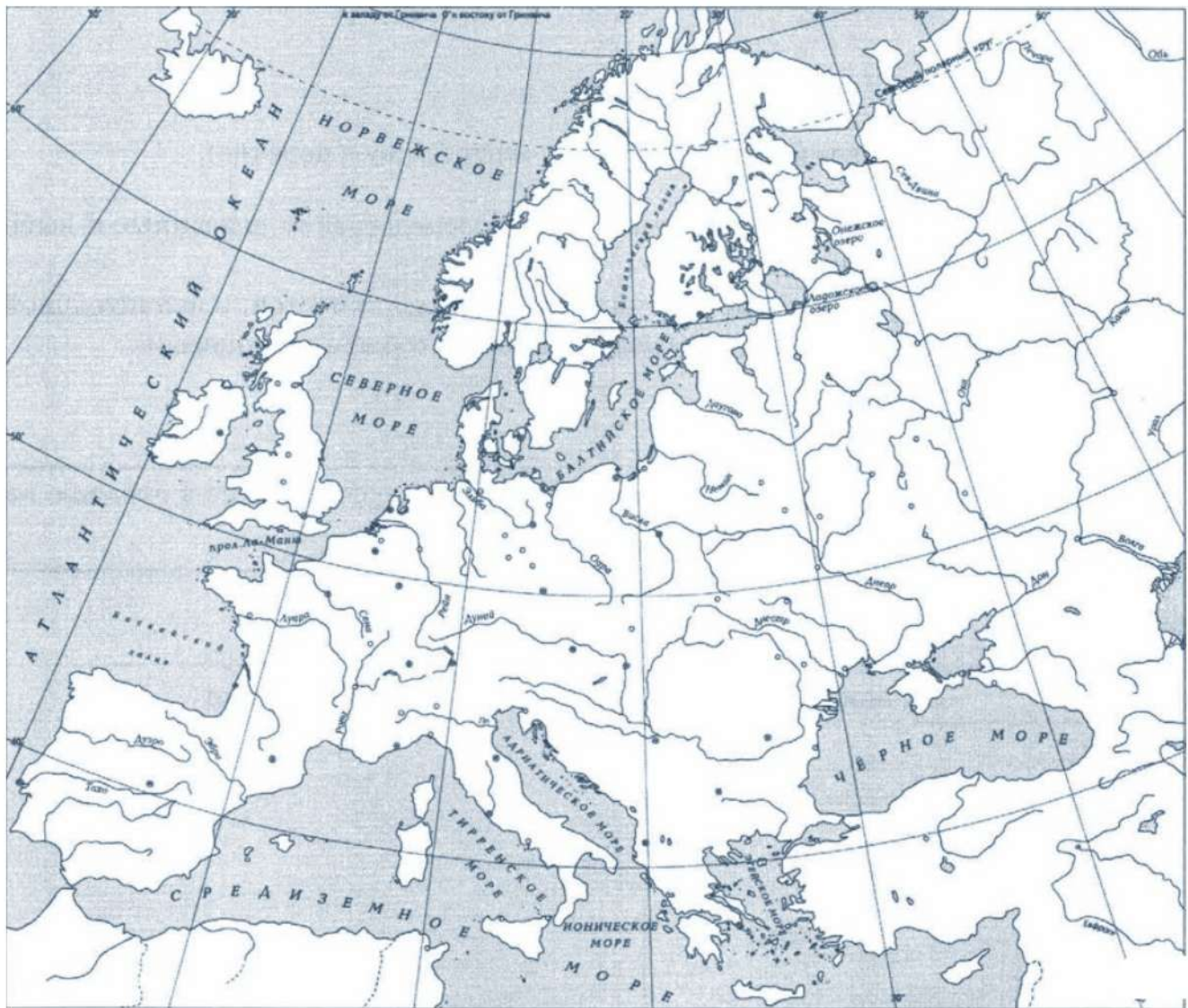
- А) Правление Ярослава Мудрого      Б) рост влияния Москвы в XIV в.  
В) борьба Руси с крестоносцами      Г) появление парламентаризма в Англии

Пояснение.



7. Заштрихуйте на контурной карте один четырёхугольник, образованный градусной сеткой, в котором полностью или частично происходило выбранное Вами событие (процесс).



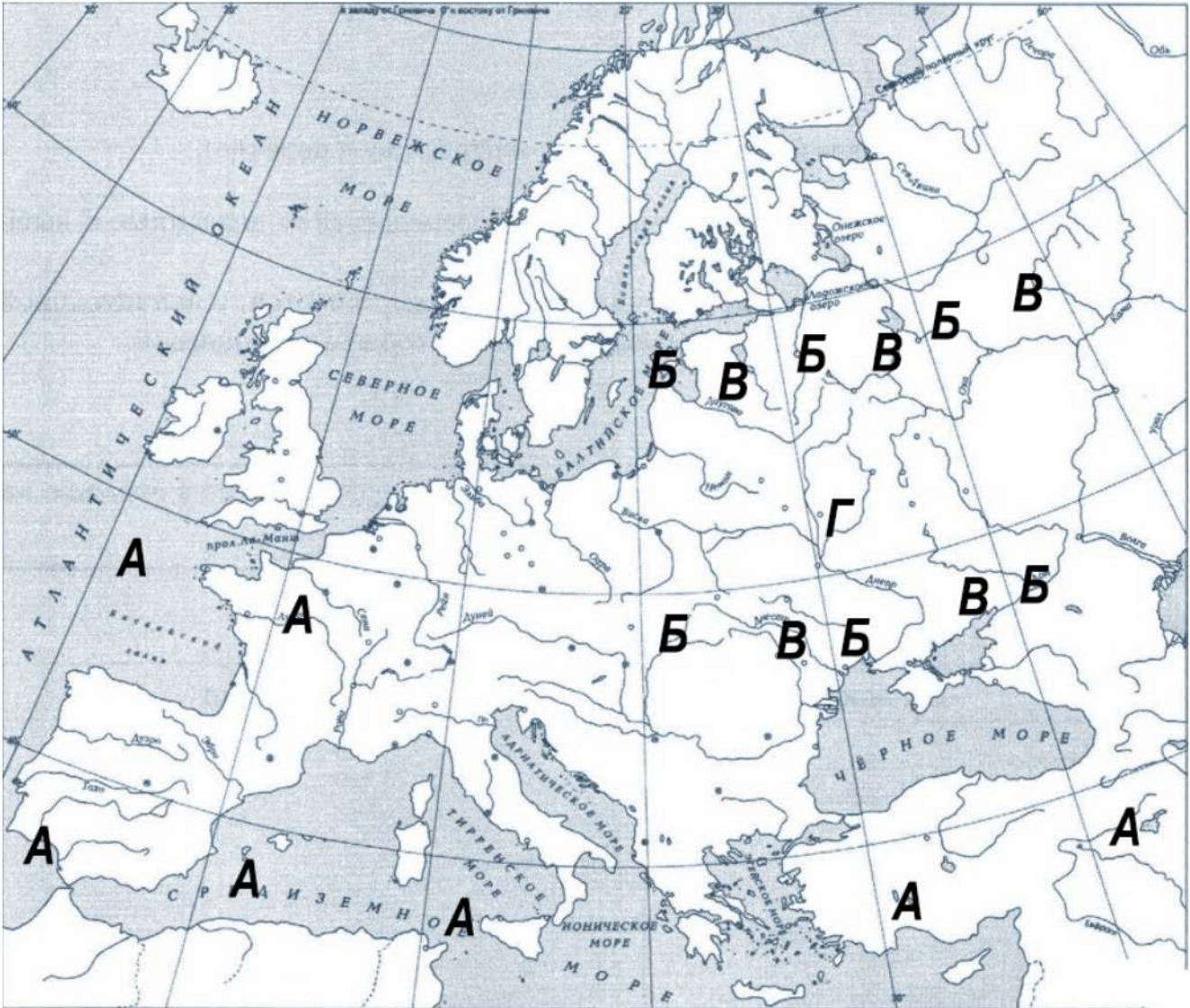


Перечень событий (процессов)

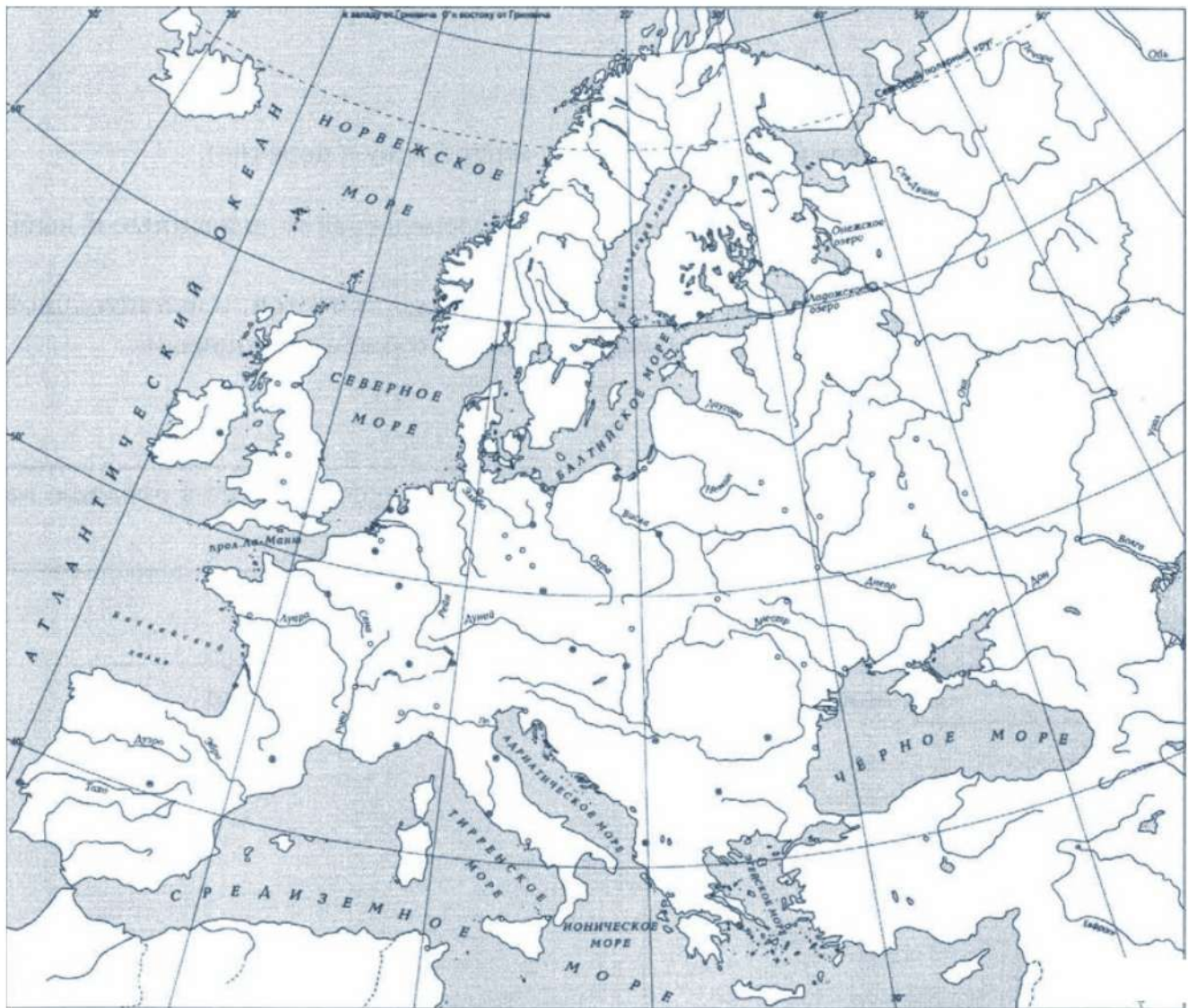
- |                                       |   |
|---------------------------------------|---|
| А) арабские завоевания в VII-VIII вв. | Б) военные походы русских князей на Царьград    |
| В) вторая усьобица на Руси            | Г) рост влияния Москвы в первой половине XIV в. |



Пояснение.



8. Заштрихуйте на контурной карте один четырёхугольник, образованный градусной сеткой, в котором полностью или частично происходило выбранное Вами событие (процесс).

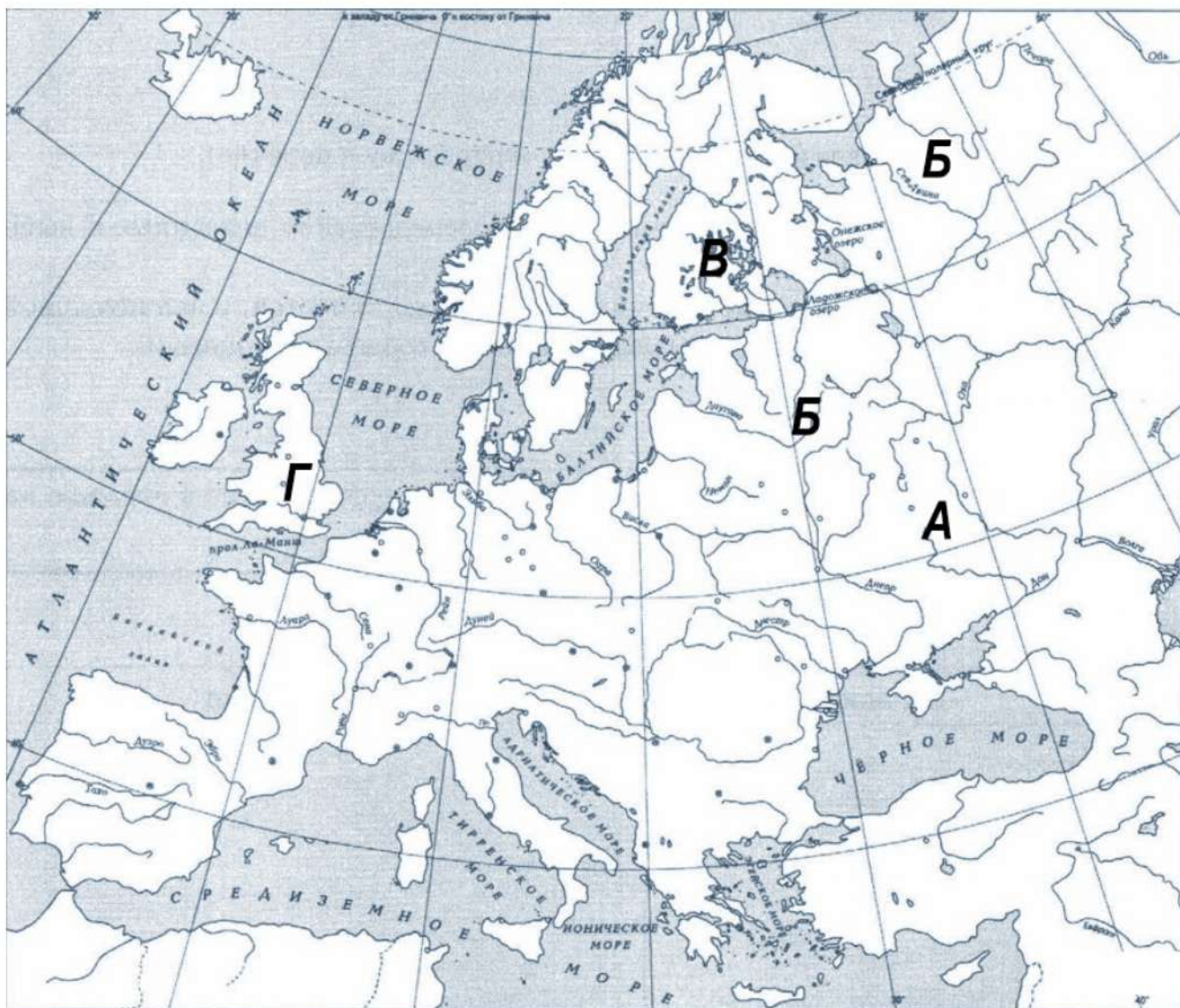


**Перечень событий (процессов)**

- А) освобождение от Орды      Б) присоединение Новгорода к Москве  
В) отражение шведской агрессии      Г) восстание Уота Тайлера

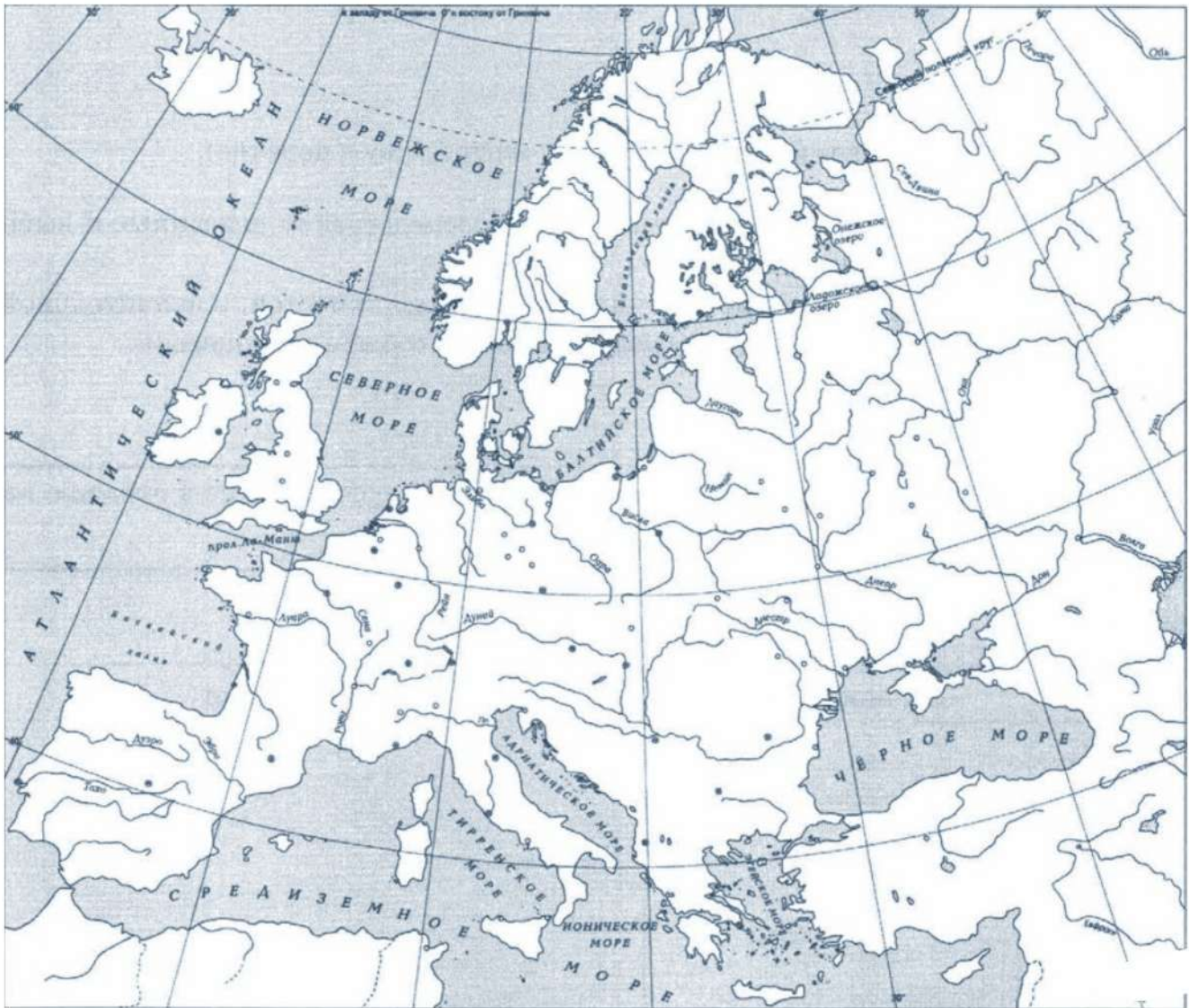


**Пояснение.**



9. Заштрихуйте на контурной карте один четырёхугольник, образованный градусной сеткой, в котором полностью или частично происходило выбранное Вами событие (процесс).





**Перечень событий (процессов)**

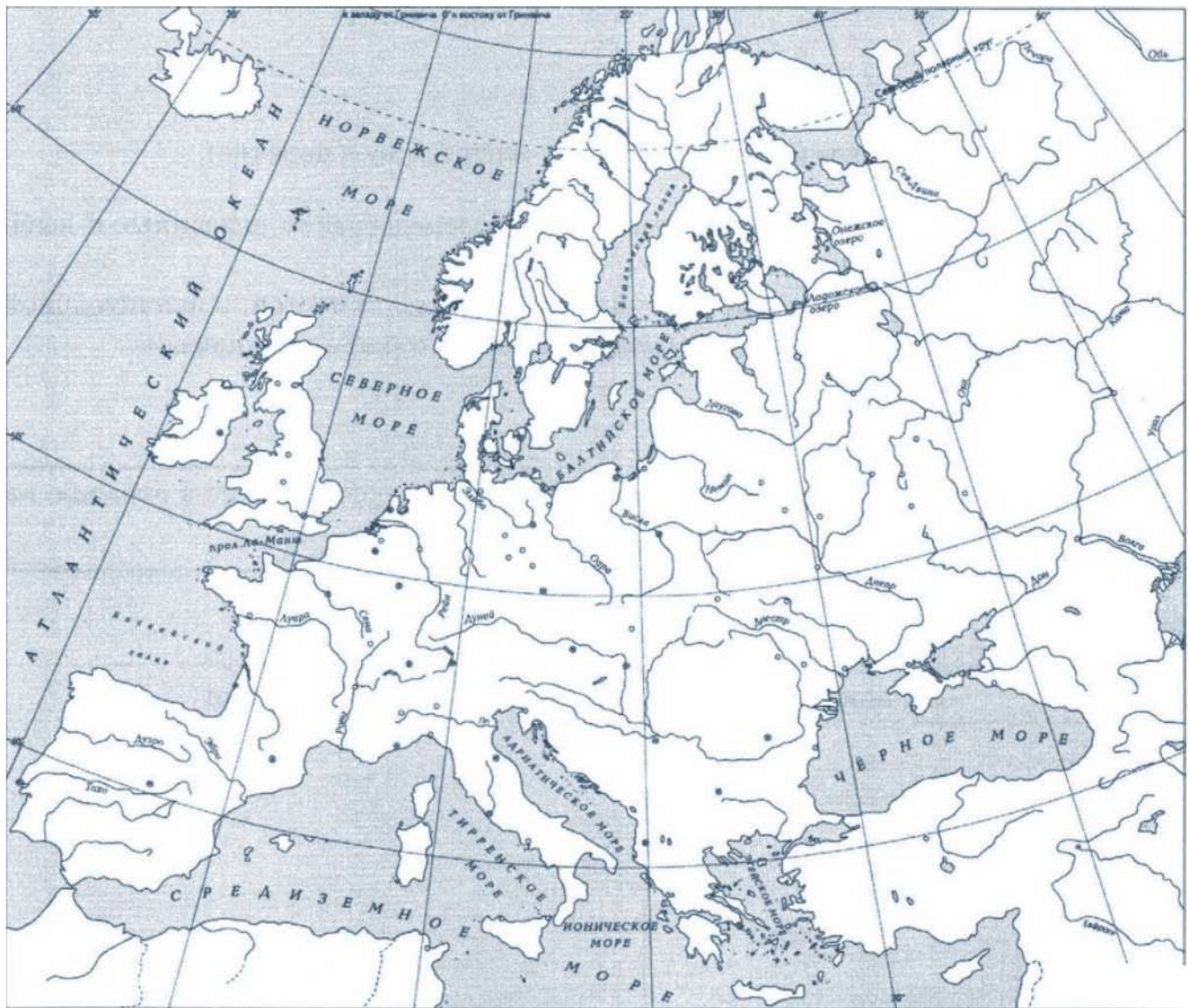
- |                                     |  |
|-------------------------------------|--|
| А) образование русского государства | Б) Победа над Мамаем в Куликовской битве |
| В) Гуситское движение               | Г) Принятие христианства на Руси         |

**Пояснение.**



10. Заштрихуйте на контурной карте один четырёхугольник, образованный градусной сеткой, в котором полностью или частично происходило выбранное Вами событие (процесс).



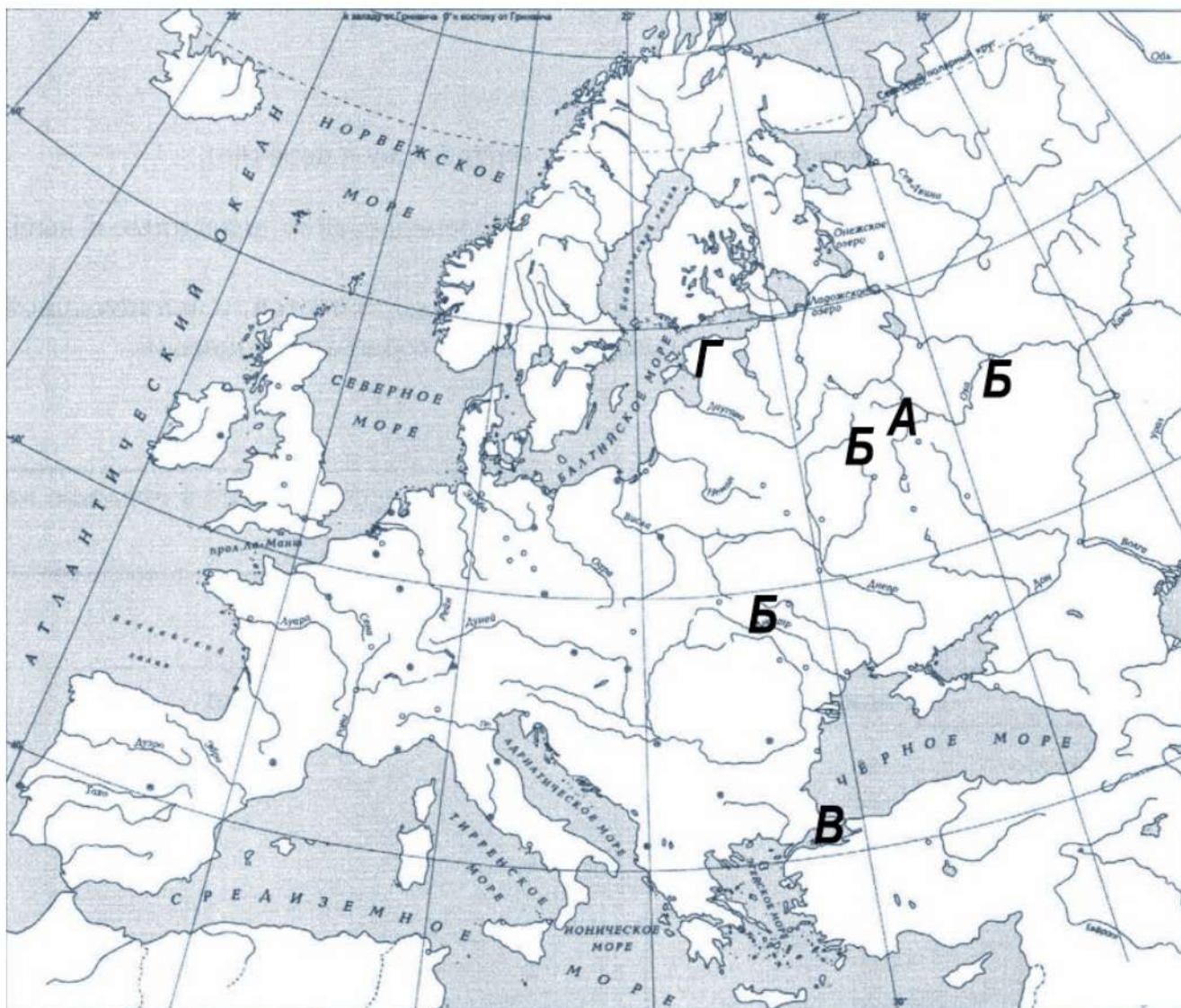


**Перечень событий (процессов)**

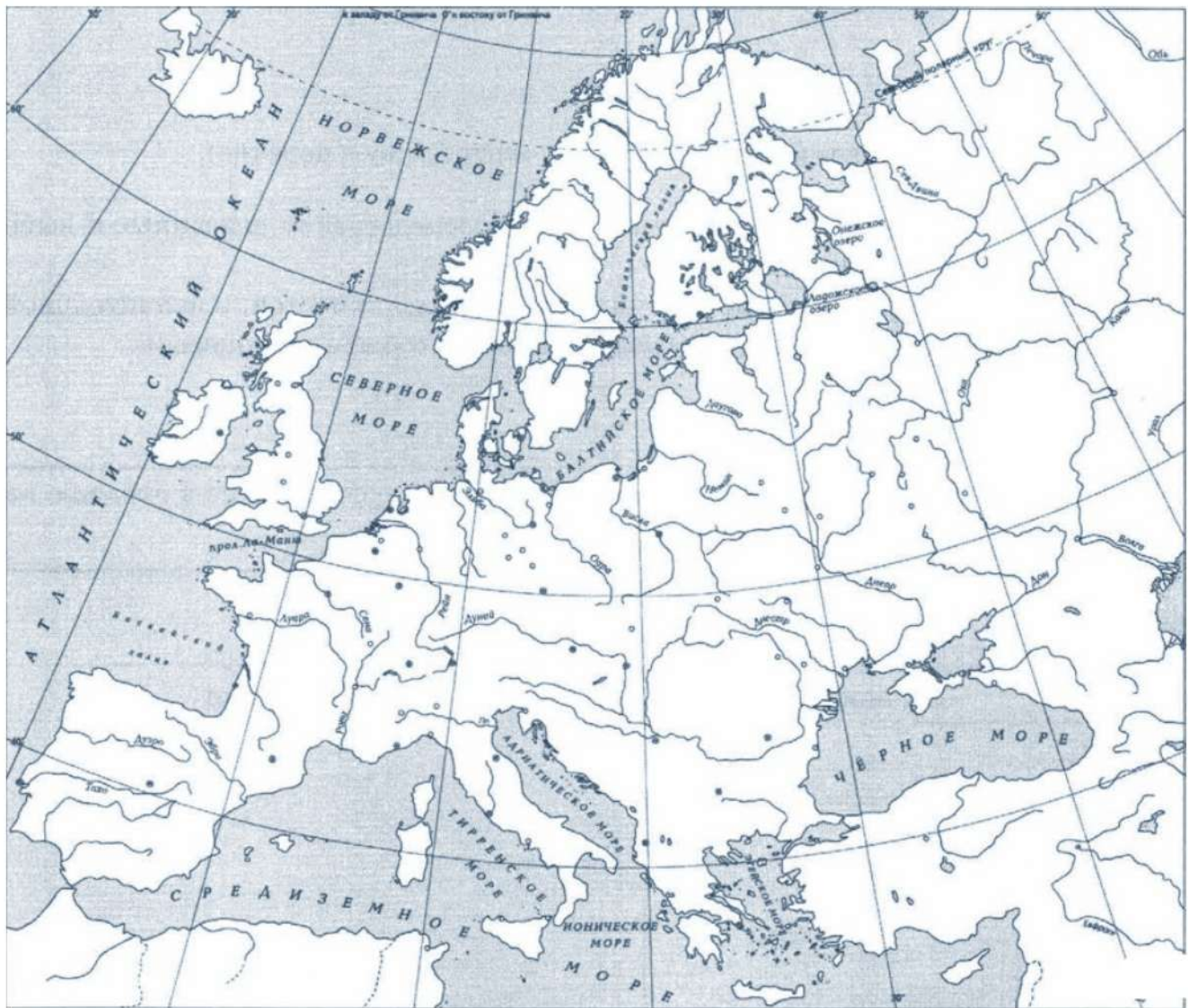
- А) возвышение Москвы                      Б) монгольское нашествие на Русь  
В) падение Византийской империи        Г) разгром крестоносцев на Чудском озере



Пояснение.



11. Заштрихуйте на контурной карте один четырёхугольник, образованный градусной сеткой, в котором полностью или частично происходило выбранное Вами событие (процесс).

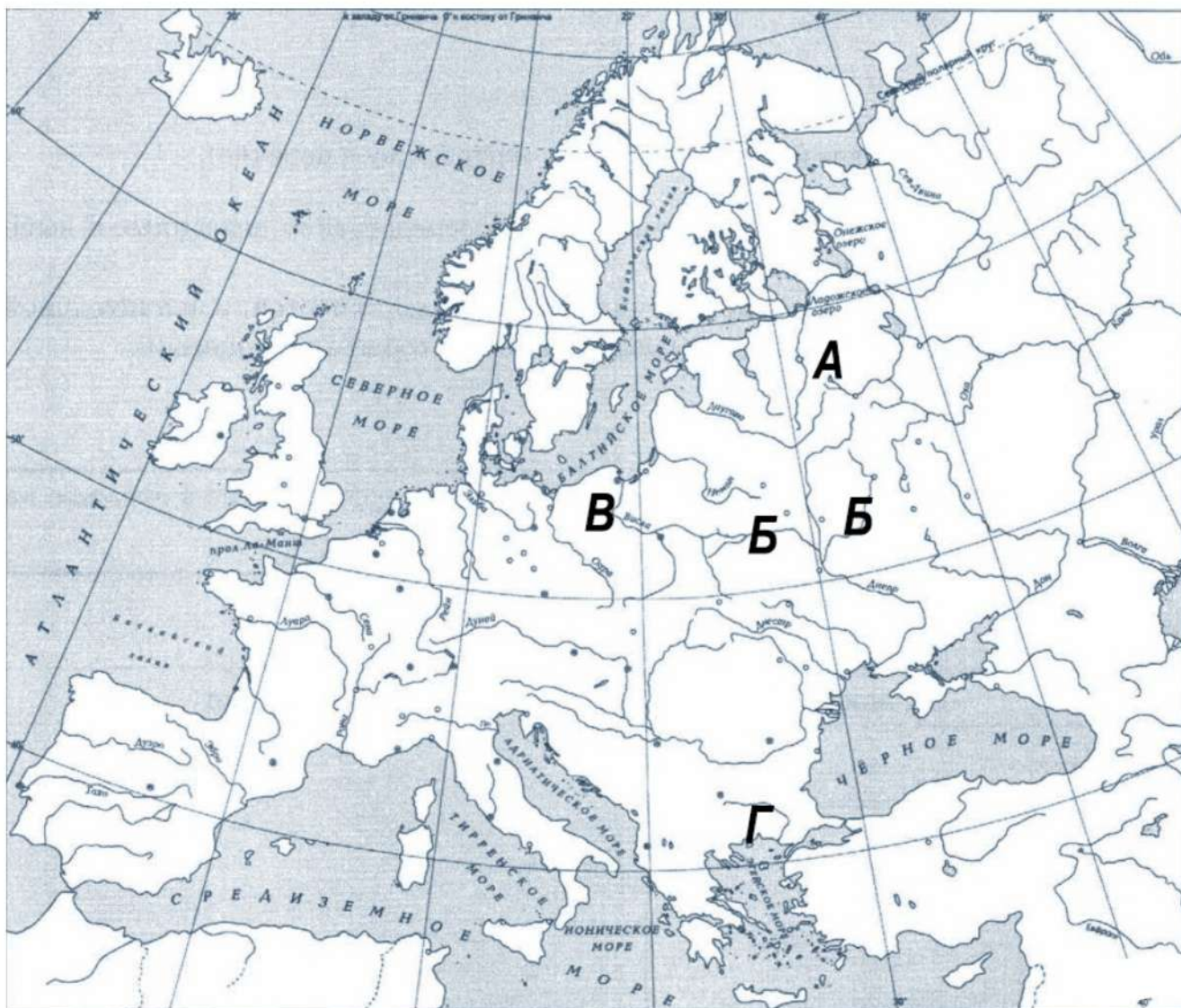


**Перечень событий (процессов)**

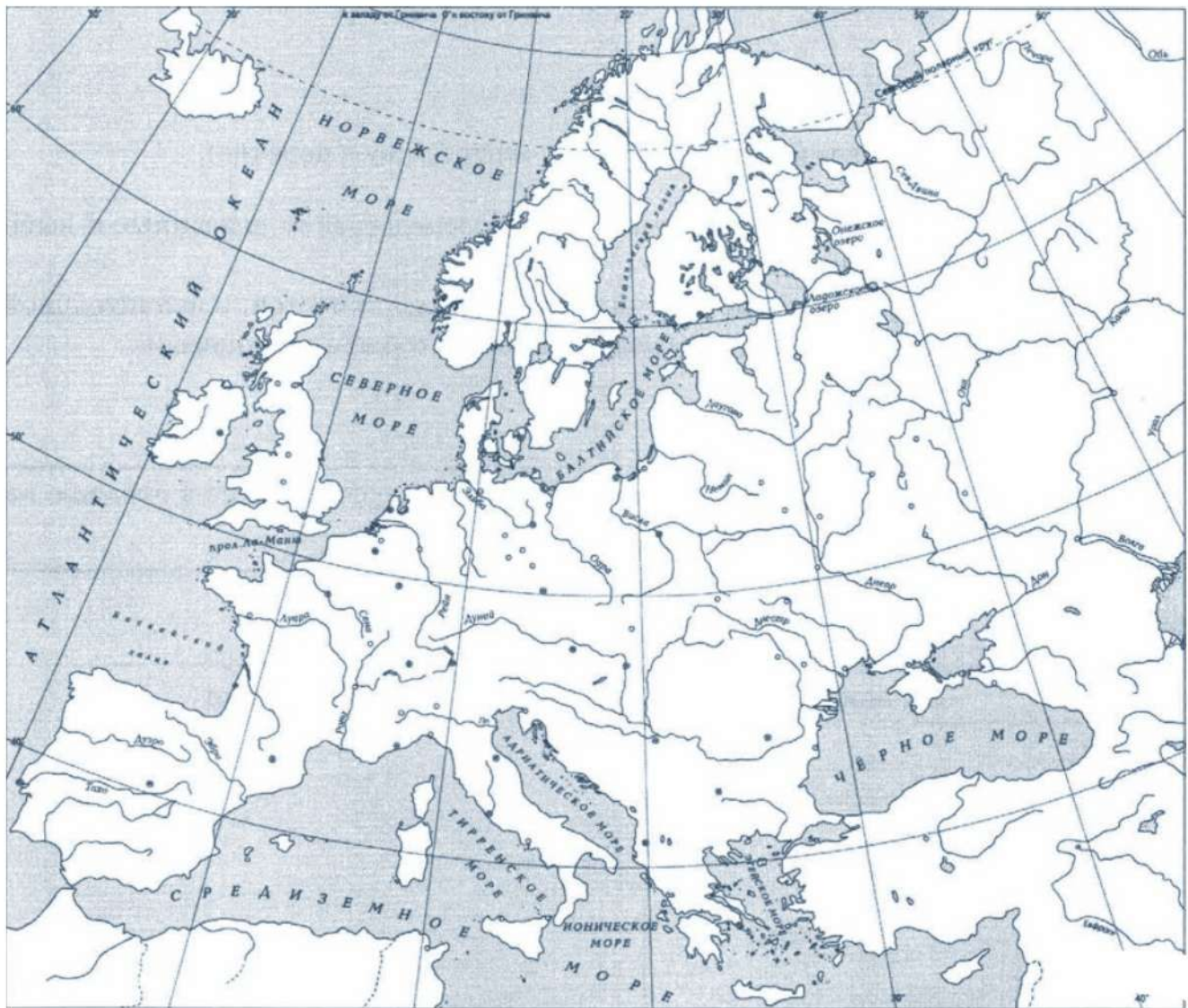
- А) борьба Северо-Западной Руси против крестоносцев      Б) правление Ярослава Мудрого  
В) Грюнвальдская битва      Г) четвертый крестовый поход



Пояснение.



12. Заштрихуйте на контурной карте один четырёхугольник, образованный градусной сеткой, в котором полностью или частично происходило выбранное Вами событие (процесс).

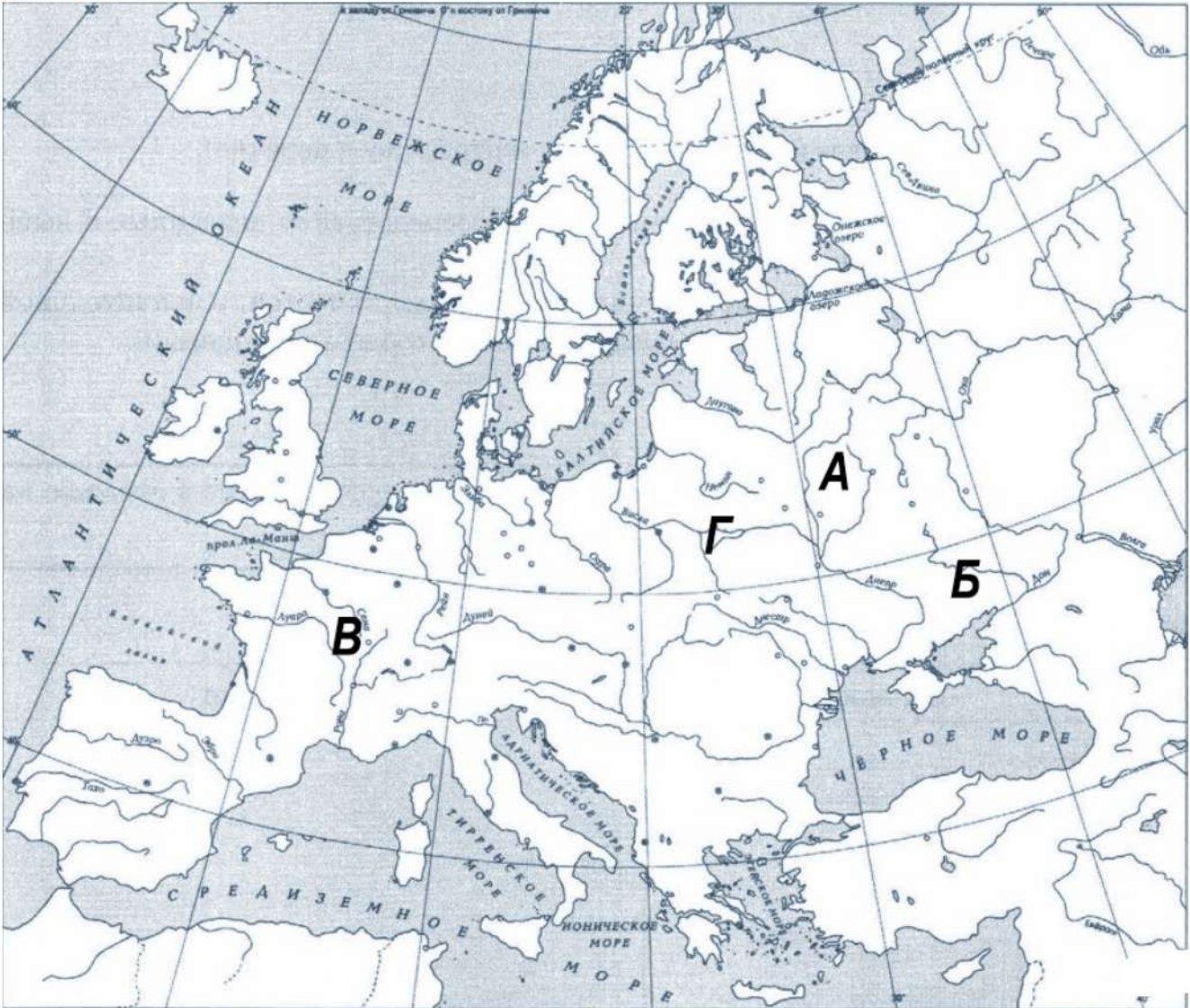


**Перечень событий (процессов)**

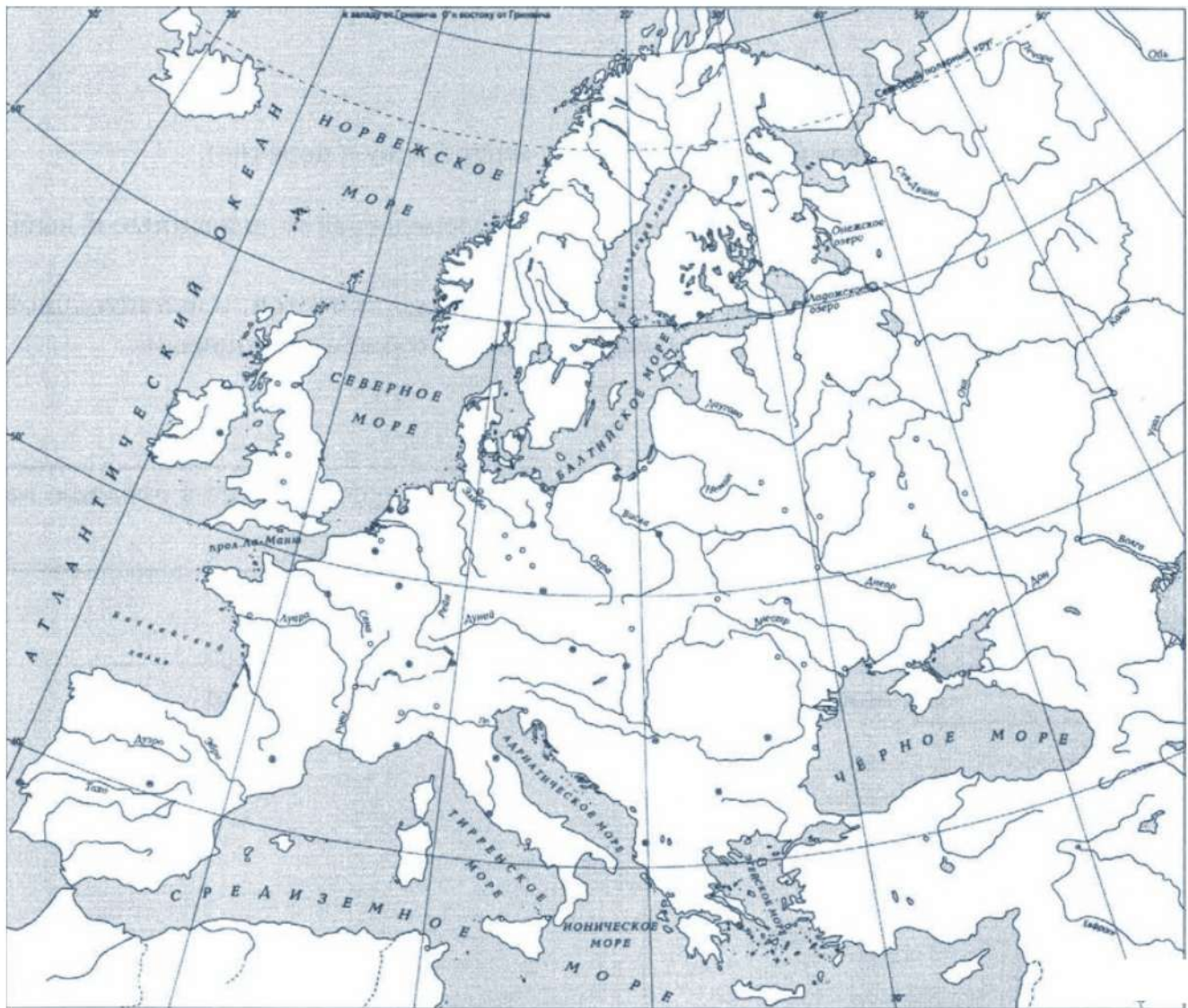
- |   |                          |
|---|--------------------------|
| А) правление Ивана Калиты                     | Б) битва на Калке        |
| В) первый созыв Генеральных штатов во Франции | Г) съезд князей в Любече |



Пояснение.



13. Заштрихуйте на контурной карте один четырёхугольник, образованный градусной сеткой, в котором полностью или частично происходило выбранное Вами событие (процесс).

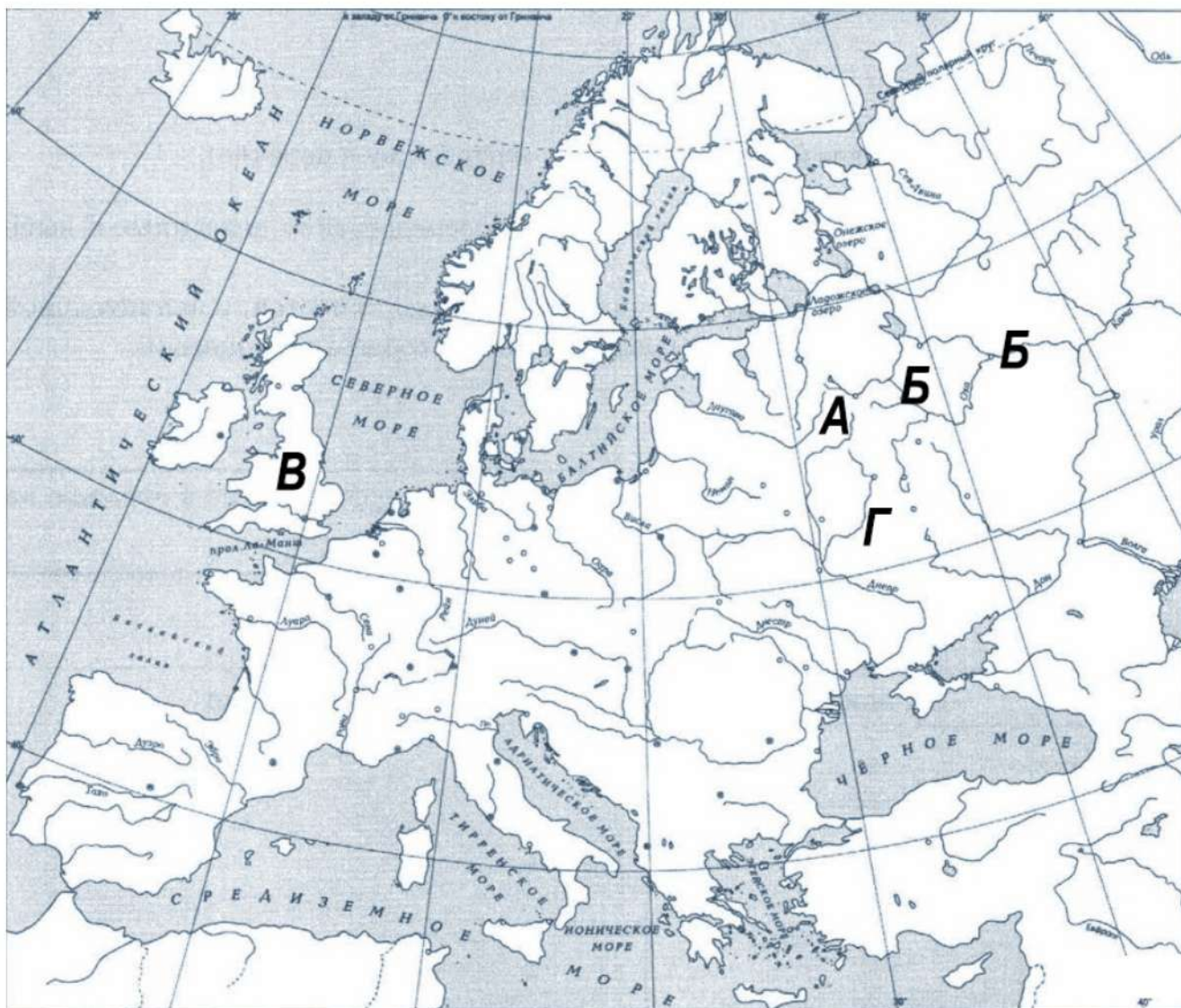


**Перечень событий (процессов)**

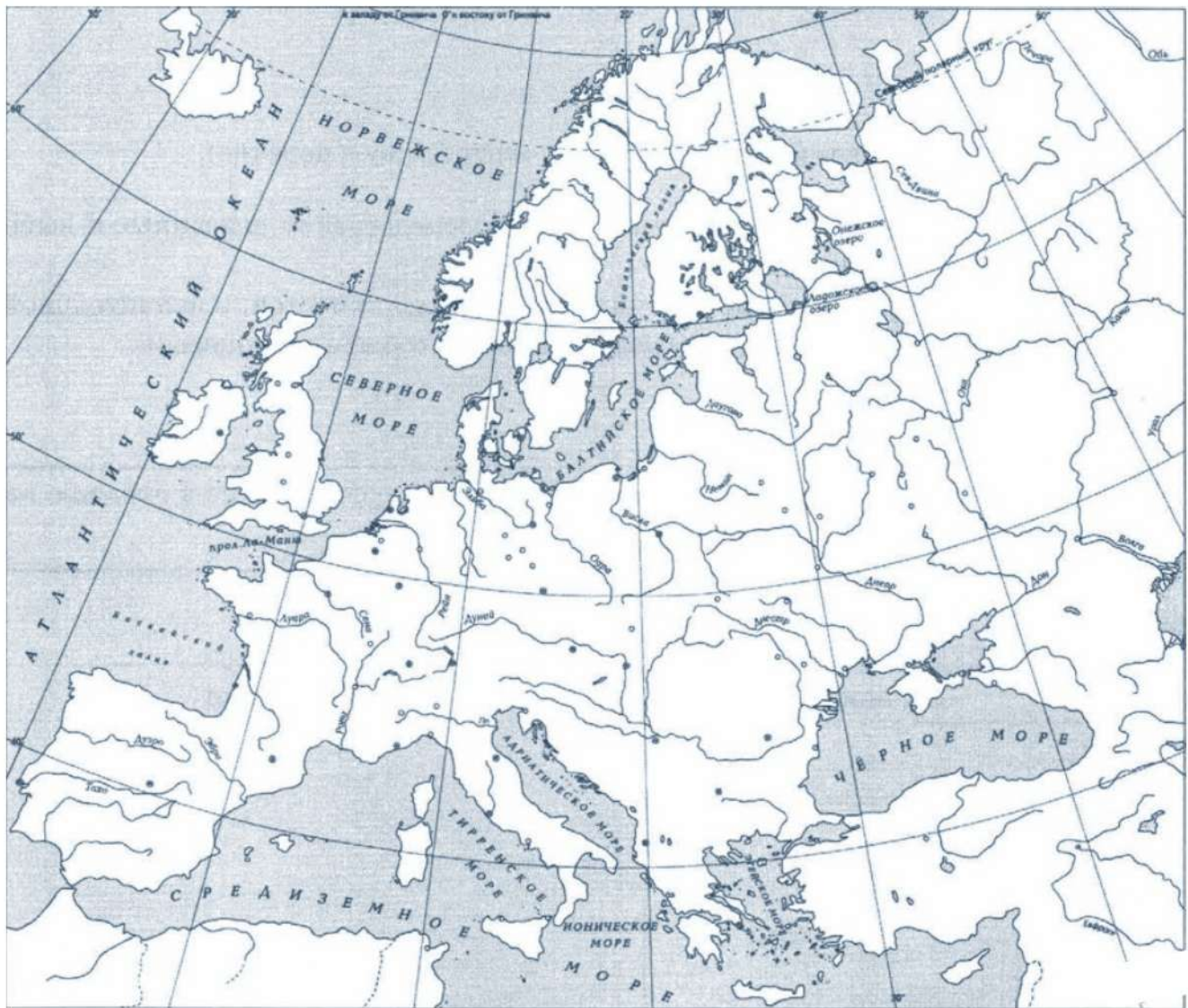
- |   |   |
|---|---|
| А) образование древнерусского государства | Б) правление Андрея Боголюбского          |
| В) Великая хартия вольностей              | Г) освобождение от ордынского владычества |



Пояснение.



14. Заштрихуйте на контурной карте один четырёхугольник, образованный градусной сеткой, в котором полностью или частично происходило выбранное Вами событие (процесс).

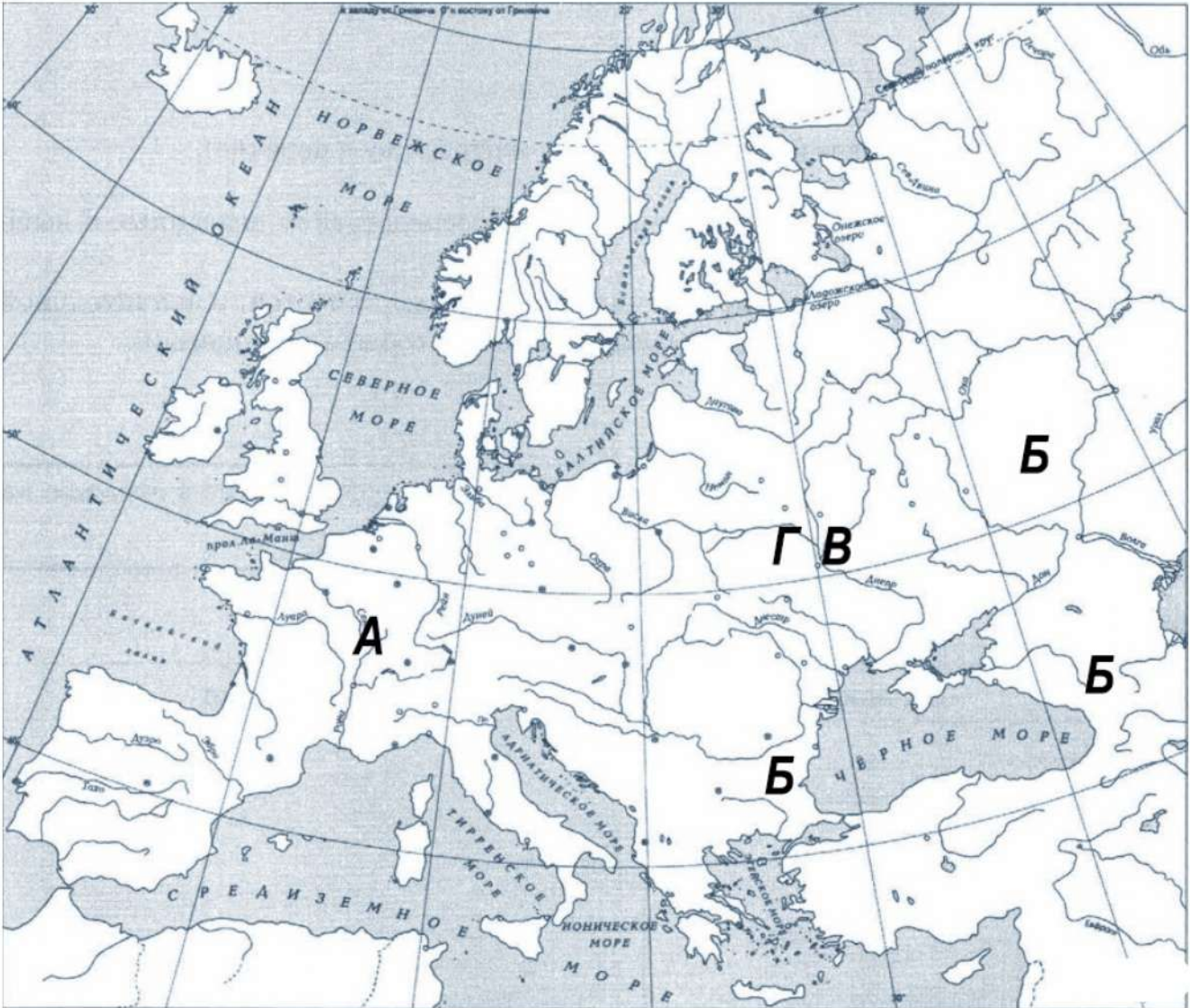


Перечень событий (процессов)

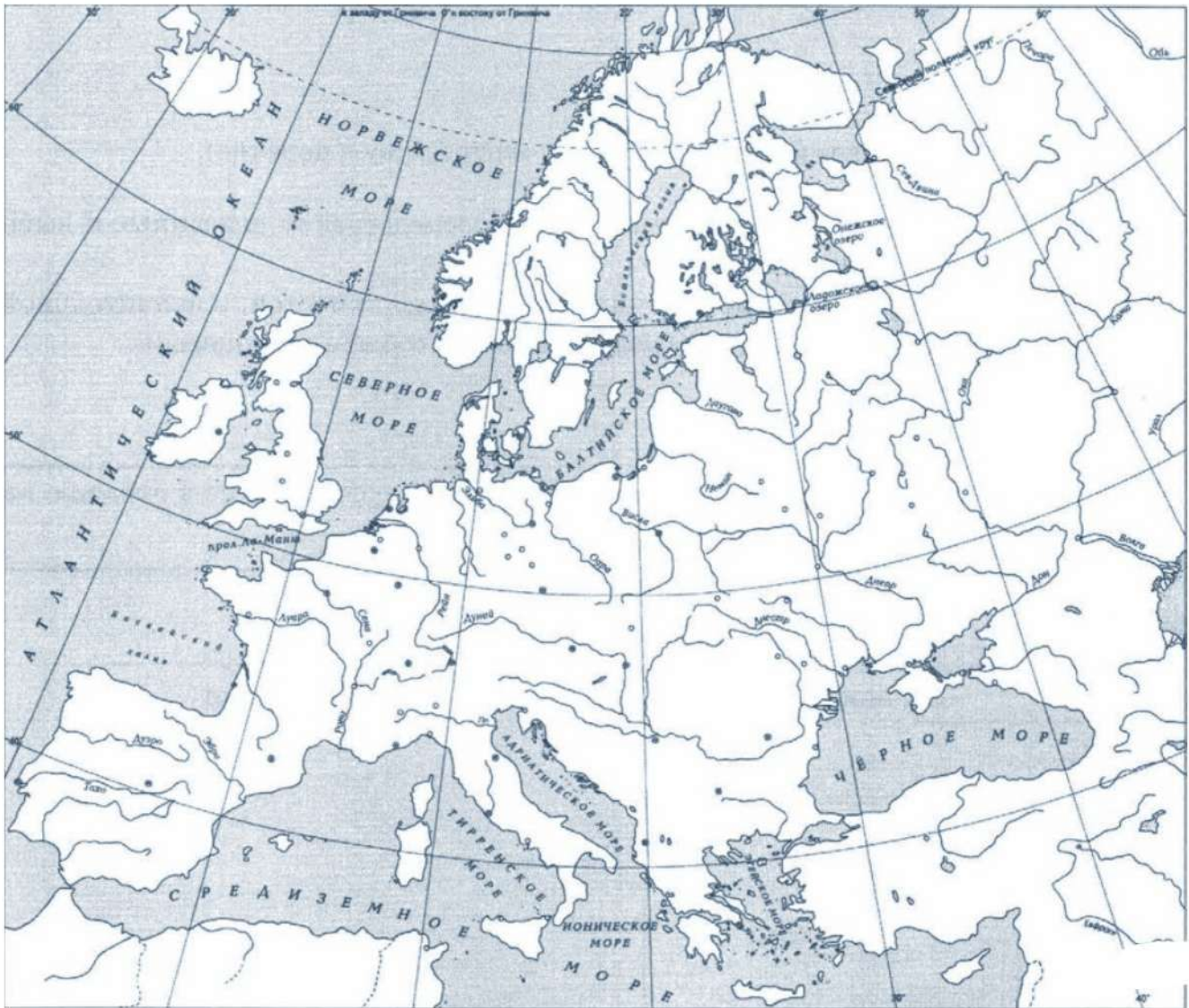
- |                                    |                      |
|------------------------------------|----------------------|
| А) Жакерия во Франции              | Б) походы Святослава |
| В) Русская правда Ярослава Мудрого | Г) княжение Ольги    |



Пояснение.



15. Заштрихуйте на контурной карте один четырёхугольник, образованный градусной сеткой, в котором полностью или частично происходило выбранное Вами событие (процесс).

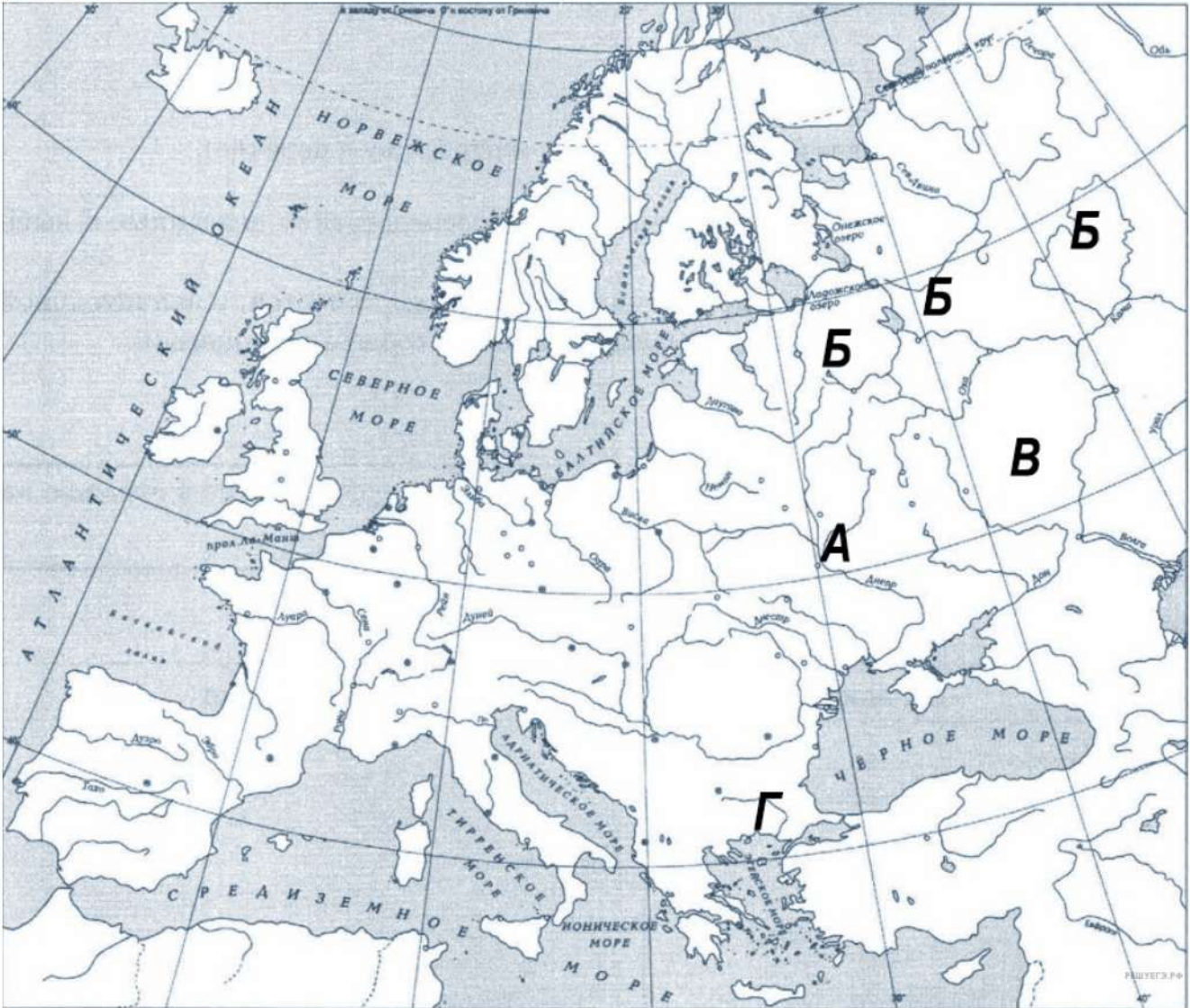


**Перечень событий (процессов)**

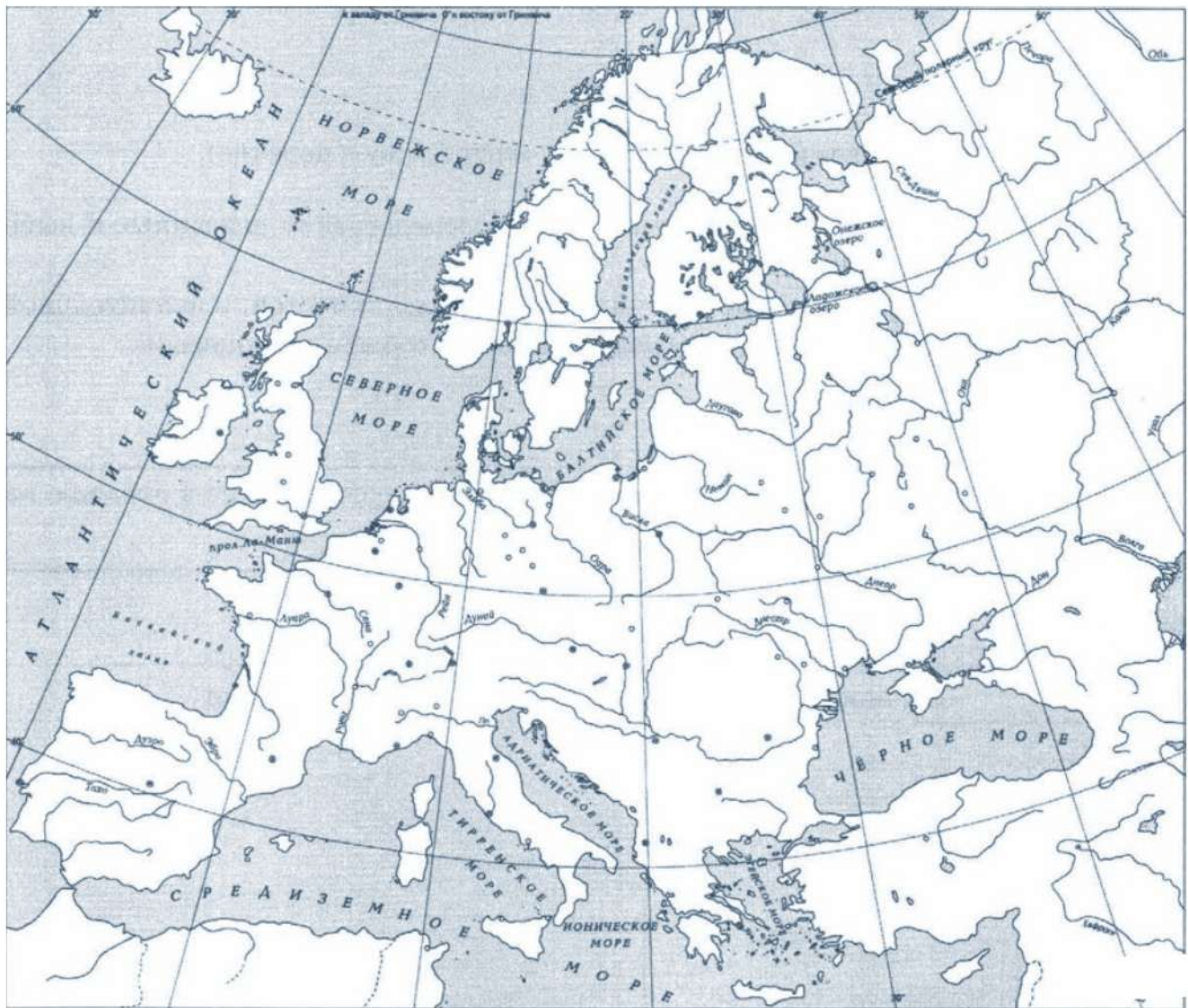
- А) правление Владимира Всеволодовича Мономаха      Б) присоединение Новгорода к Москве  
В) Борьба с Золотой Ордой      Г) Крестовые походы



**Пояснение.**



**16.** Заштрихуйте на контурной карте один четырёхугольник, образованный градусной сеткой, в котором полностью или частично происходило выбранное Вами событие (процесс).

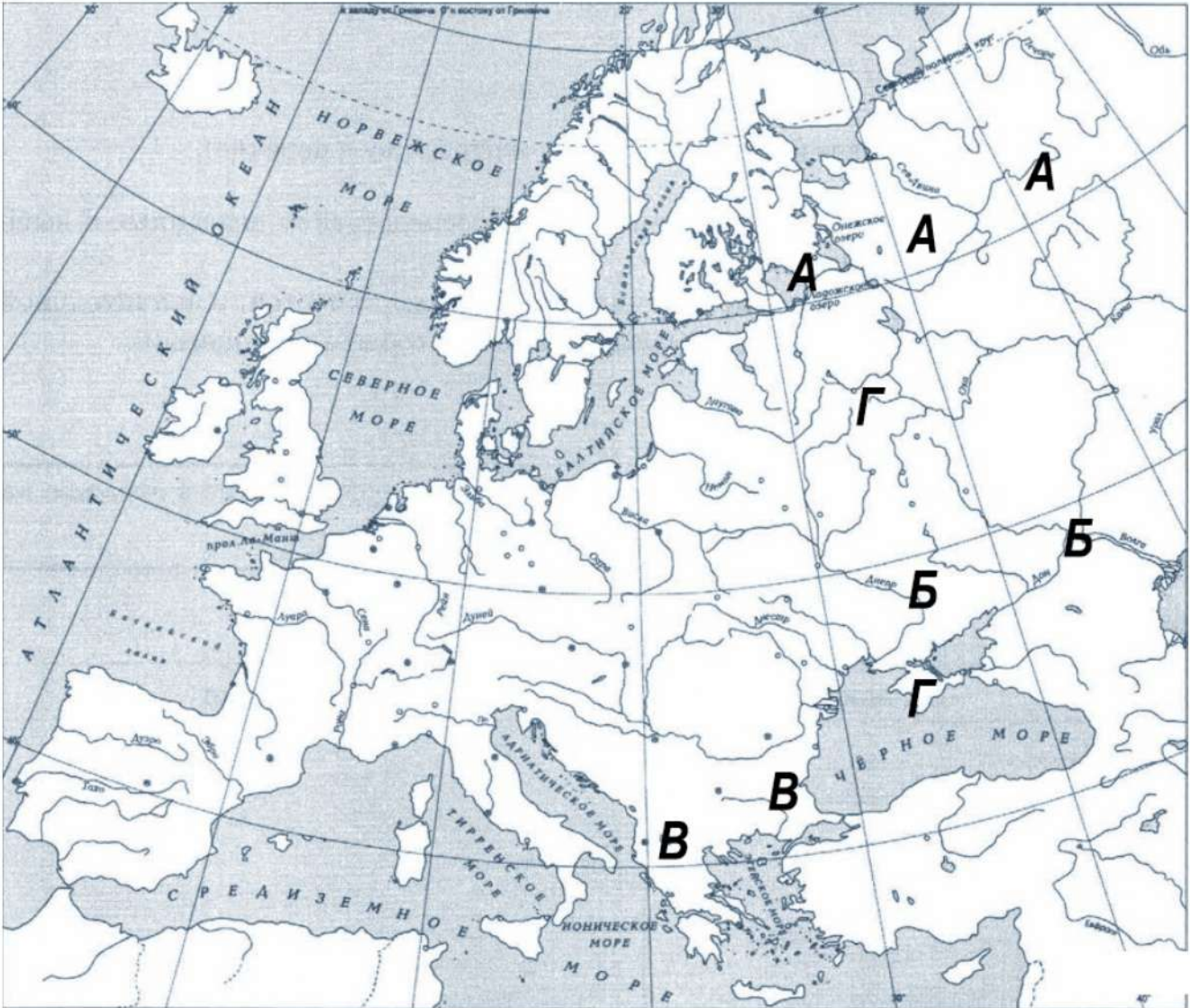


Перечень событий (процессов)

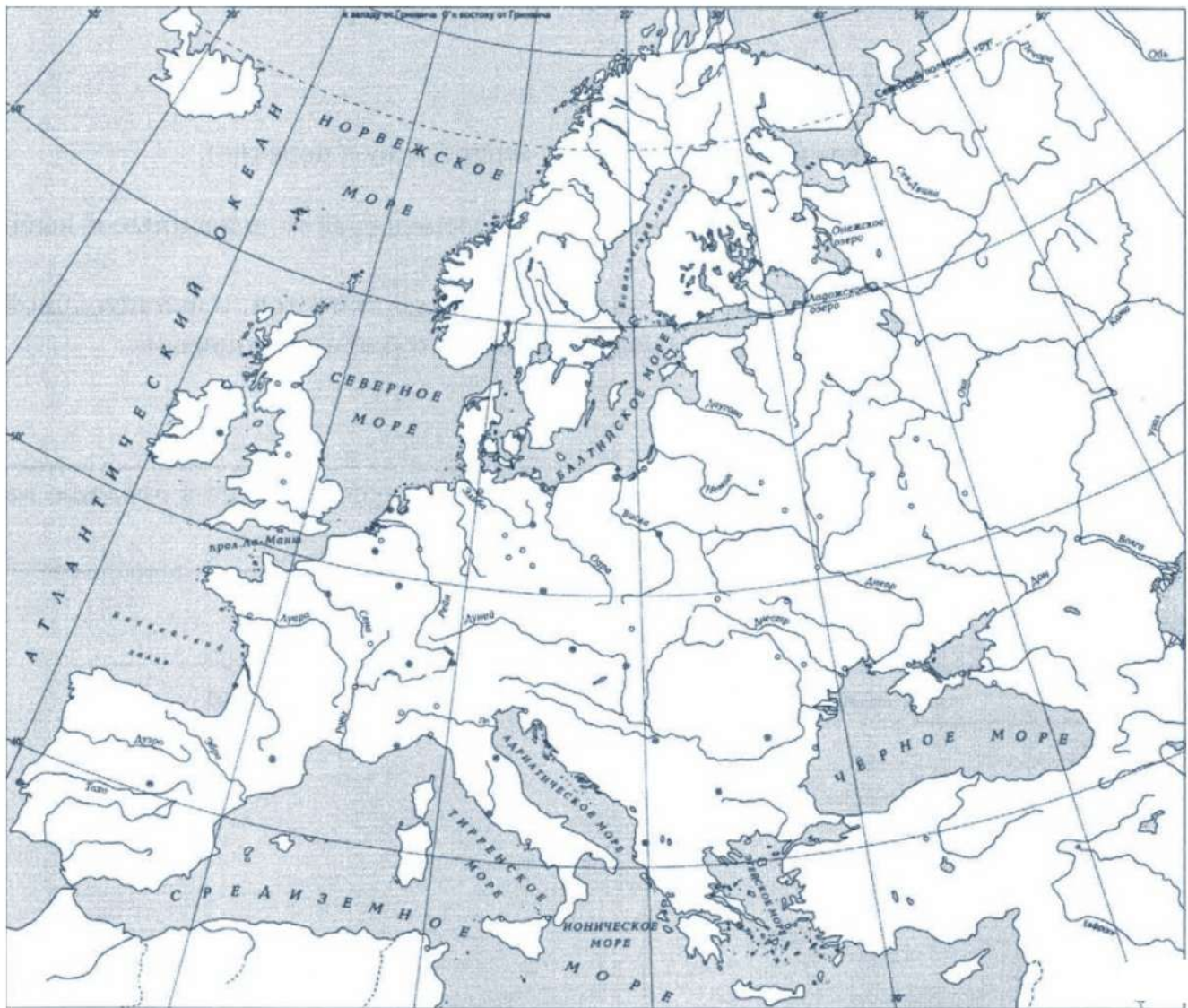
- |                                 |  |
|---------------------------------|--|
| А) правление Ивана III Великого | Б) поход новгород-северского князя Игоря против половцев |
| В) правление Юстиниана          | Г) строительство белокаменного Московского Кремля        |



Пояснение.



17. Заштрихуйте на контурной карте один четырёхугольник, образованный градусной сеткой, в котором полностью или частично происходило выбранное Вами событие (процесс).

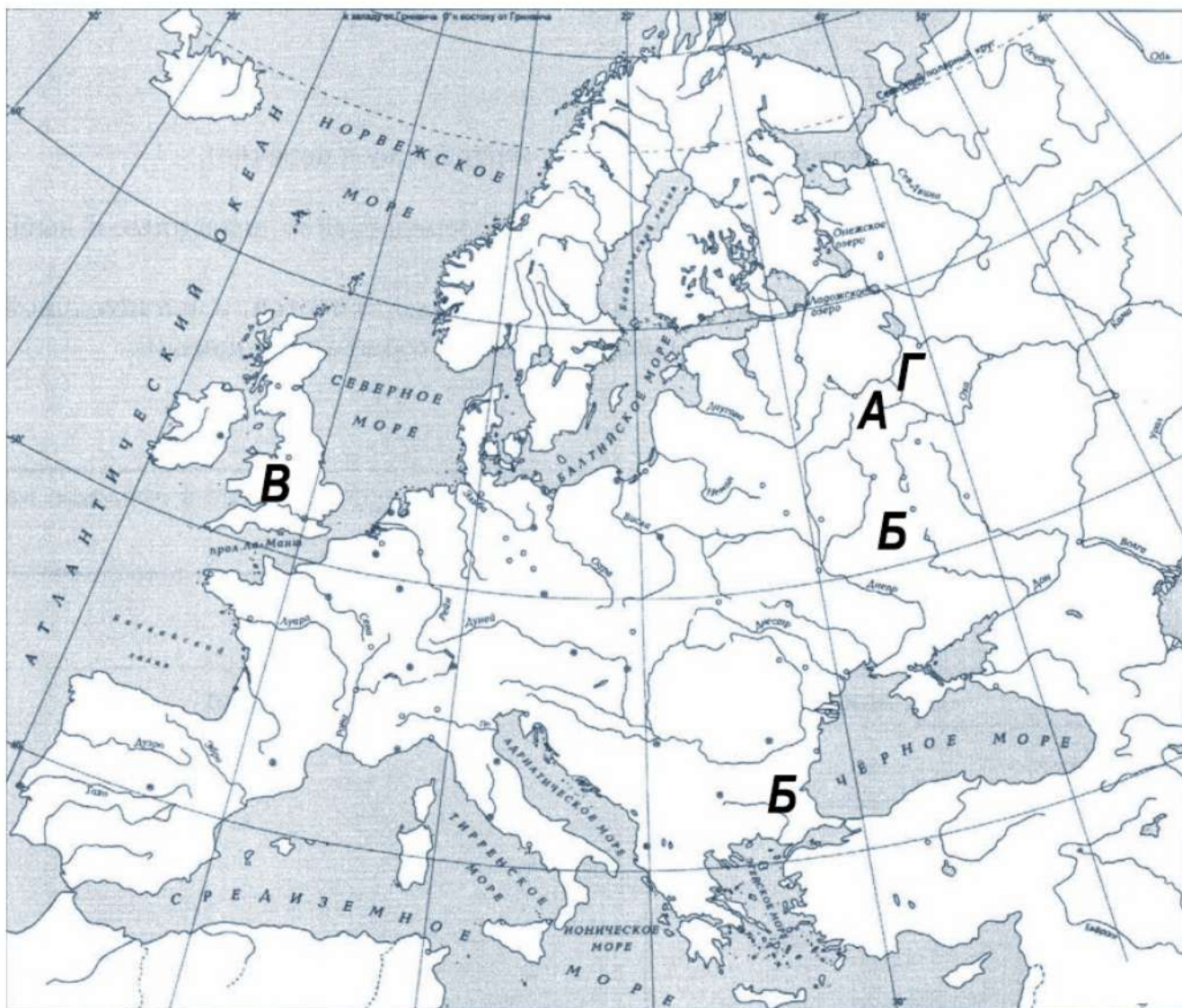


**Перечень событий (процессов)**

- |                                   |                              |
|-----------------------------------|------------------------------|
| А) введение пожилого и Юрьева дня | Б) походы князя Олега Вещего |
| В) битва при Гастингсе            | Г) правление Василия II      |



Пояснение.



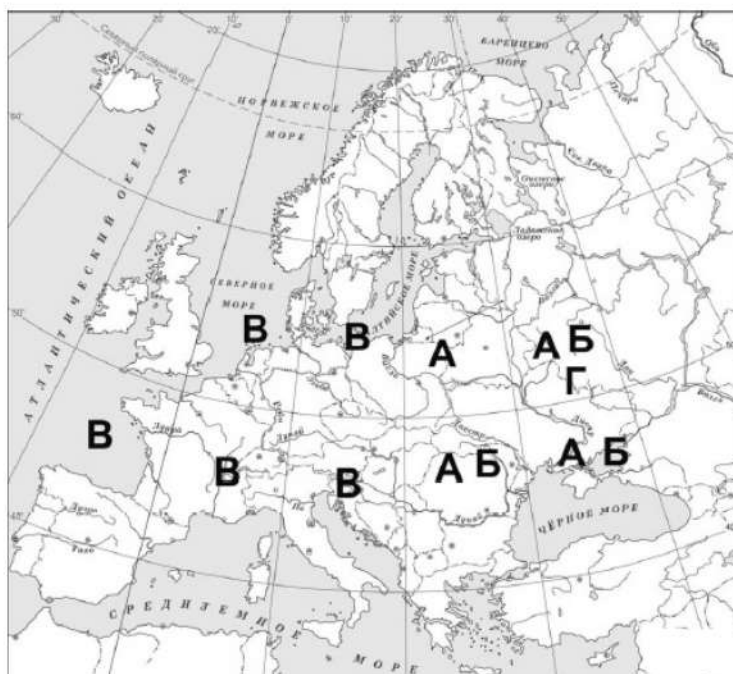
18. Заштрихуйте на контурной карте один четырёхугольник, образованный градусной сеткой, в котором полностью или частично происходило выбранное Вами событие (процесс).



**Перечень событий (процессов)**

- |  |  |
|--|--|
| А) внутренняя политика первых русских князей     | Б) русско-византийские войны                         |
| В) возникновение и распад империи Карла Великого | Г) окончательная ликвидация зависимости Руси от Орды |

**Пояснение.**





19. Заштрихуйте на контурной карте один четырёхугольник, образованный градусной сеткой, в котором полностью или частично происходило выбранное Вами событие (процесс).



**Перечень событий (процессов)**

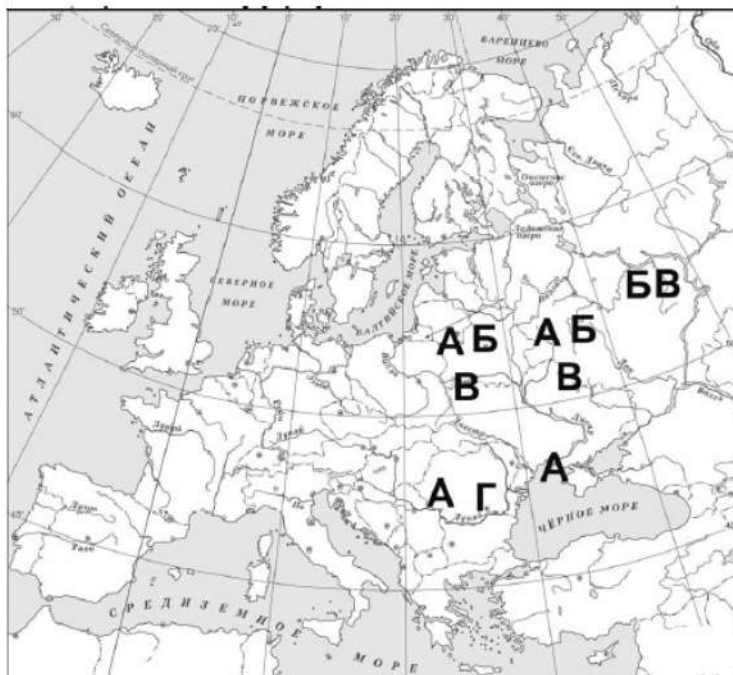
А) внутренняя политика киевского князя в 1019–1054 гг.

В) ордынское владычество на Руси

Б) политическое развитие русских земель с республиканской формой правления в XII–XV вв.

Г) падение Византийской империи

**Пояснение.**



20. Заштрихуйте на контурной карте один четырёхугольник, образованный градусной сеткой, в котором полностью или частично происходило выбранное Вами событие (процесс).



**Перечень событий (процессов)**

- |  |  |
|--|--|
| А) борьба Руси с половцами                             | Б) формирование Древнерусского государства |
| В) политика московских князей в первой половине XIV в. | Г) объединение Франции в XII–XV вв.        |

**Пояснение.**





21. Заштрихуйте на контурной карте один четырёхугольник, образованный градусной сеткой, в котором полностью или частично происходило выбранное Вами событие (процесс).



**Перечень событий (процессов)**

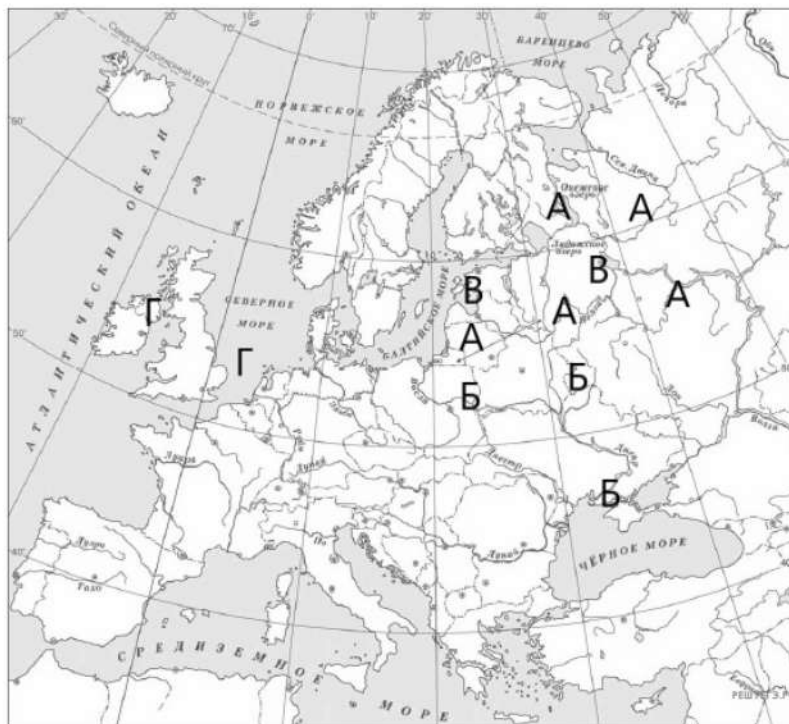
А) объединение русских княжеств и земель во второй половине XV в.

Б) принятие Русью христианства

В) защита русских земель от вторжений с северо-запада в XIII в.

Г) деятельность английского парламента в XIII–XIV вв.

**Пояснение.**



22. Заштрихуйте на контурной карте один четырёхугольник, образованный градусной сеткой, в котором полностью или частично происходило выбранное Вами событие (процесс).



**Перечень событий (процессов)**

- |   |                      |
|---|----------------------|
| А) каменное строительство в Москве во второй половине XV в. | Б) Куликовская битва |
| В) внешняя политика первых русских князей в 882–972 гг.     | Г) Гуситские войны   |

**Пояснение.**





23. Заштрихуйте на контурной карте один четырёхугольник, образованный градусной сеткой, в котором полностью или частично происходило выбранное Вами событие (процесс).



**Перечень событий (процессов)**

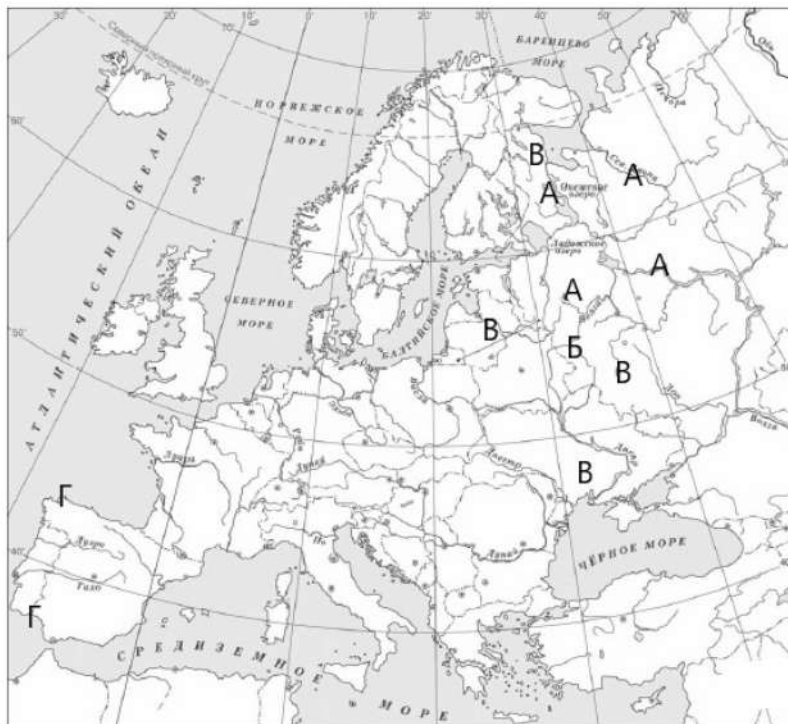
А) политическое развитие Северо-Восточной Руси во второй половине XII в.

Б) набег орднцев на Русь в 1382 г.

В) сбор налогов с населения Руси в X в.

Г) Реконкиста и образование централизованных государств на Пиренейском полуострове

**Пояснение.**



24. Заштрихуйте на контурной карте один четырёхугольник, образованный градусной сеткой, в котором полностью или частично происходило выбранное Вами событие (процесс).



**Перечень событий (процессов)**

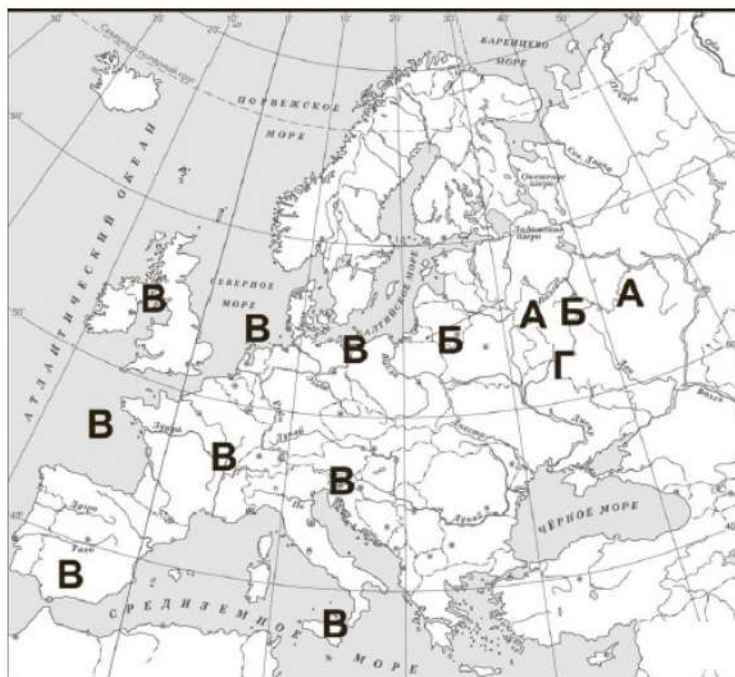
А) внутренняя и внешняя политика русских земель и княжеств во II половине XIV в.

Б) развитие законодательства в Древнерусском государстве

В) развитие науки и техники в Западной и Центральной Европе в XV в.

Г) окончательная ликвидация зависимости Руси от Орды

**Пояснение.**





25. Заштрихуйте на контурной карте один четырёхугольник, образованный градусной сеткой, в котором полностью или частично происходило выбранное Вами событие (процесс).



**Перечень событий (процессов)**

А) внешняя политика первых русских князей в 882–972 гг.

Б) поддержка Русской Православной Церковью процесса объединения русских земель в XIV в.

В) возникновение и становление английского парламентаризма

Г) укрепление великокняжеской власти во II половине XV в.

**Пояснение.**



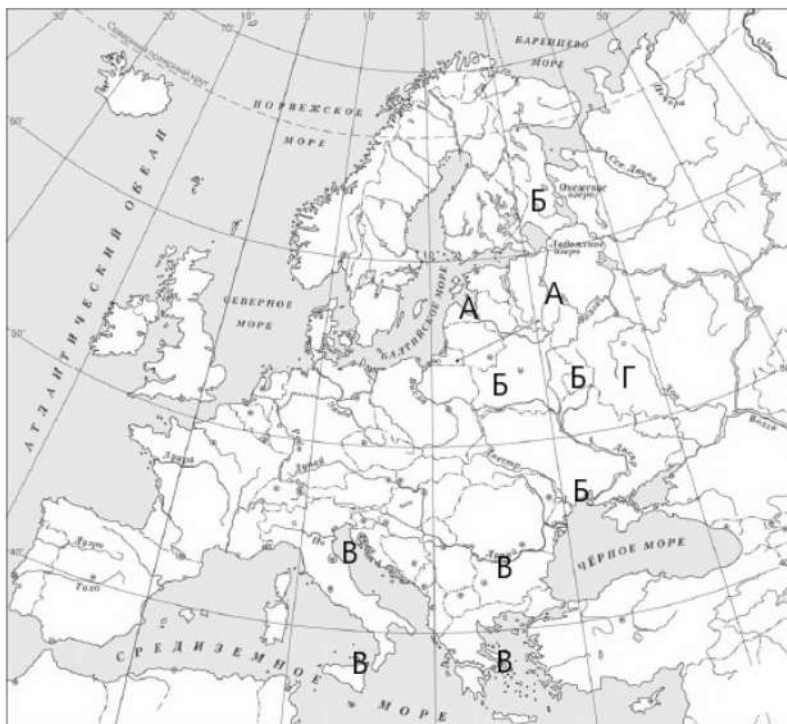
26. Заштрихуйте на контурной карте один четырёхугольник, образованный градусной сеткой, в котором полностью или частично происходило выбранное Вами событие (процесс).



**Перечень событий (процессов)**

- |   |                                |
|---|--------------------------------|
| А) защита русских земель от вторжений с северо-запада в XIII в. | Б) принятие Русью христианства |
| В) Четвёртый Крестовый поход                                    | Г) Куликовская битва           |

**Пояснение.**





27. Заштрихуйте на контурной карте один четырёхугольник, образованный градусной сеткой, в котором полностью или частично происходило выбранное Вами событие (процесс).



**Перечень событий (процессов)**

А) ликвидация независимости боярских республик во второй половине XV — начале XVI в.

Б) создание Франкской империи

В) взаимоотношения Руси и Золотой Орды в XIII в.

Г) формирование Древнерусского государства

**Пояснение.**



28. Заштрихуйте на контурной карте один четырёхугольник, образованный градусной сеткой, в котором полностью или частично происходило выбранное Вами событие (процесс).



**Перечень событий (процессов)**

А) борьба чешского народа с господством католической церкви

Б) борьба за власть между сыновьями Владимира Святого

В) развитие Древнерусского государства в X в.

Г) борьба за первенство в Северо-Восточной Руси в XIV в.

**Пояснение.**





29. Заштрихуйте на контурной карте один четырёхугольник, образованный градусной сеткой, в котором полностью или частично происходило выбранное Вами событие (процесс).



**Перечень событий (процессов)**

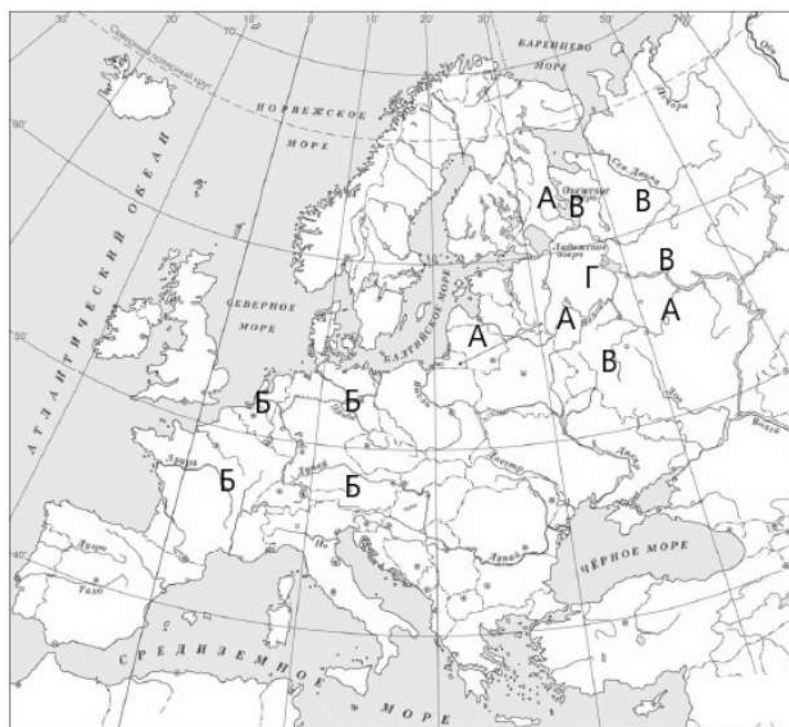
А) разделение Древнерусского государства на отдельные княжества и земли

Б) образование Франкского государства

В) формирование единого Русского государства в 1462–1505 гг.

Г) борьба за первенство в Северо-Восточной Руси в XIV в.

**Пояснение.**



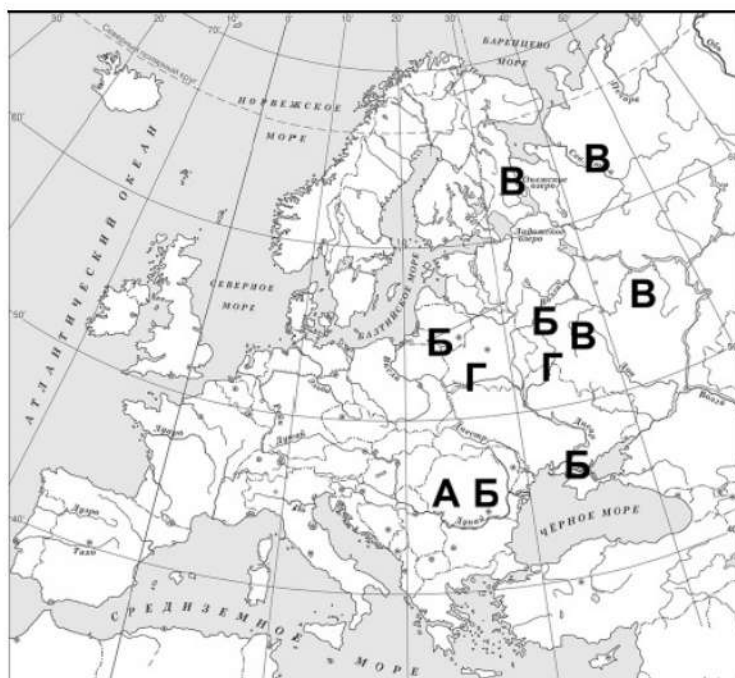
30. Заштрихуйте на контурной карте один четырёхугольник, образованный градусной сеткой, в котором полностью или частично происходило выбранное Вами событие (процесс).



**Перечень событий (процессов)**

- |  |   |
|--|---|
| А) падение Византийской империи  | Б) формирование Древнерусского государства                      |
| В) политическое развитие Северо-Восточной Руси во второй половине XII в. | Г) защита русских земель от вторжений с северо-запада в XIII в. |

**Пояснение.**





31. Заштрихуйте на контурной карте один четырёхугольник, образованный градусной сеткой, в котором полностью или частично происходило выбранное Вами событие (процесс).



**Перечень событий (процессов)**

- |  |  |
|--|--|
| А) русско-византийские войны                                       | Б) Гуситские войны   |
| В) нашествие монголов на русские земли и княжества в 1237–1240 гг. | Г) политическое развитие Северо-Восточной Руси во второй половине XII в. |

**Пояснение.**



32. Заштрихуйте на контурной карте один четырёхугольник, образованный градусной сеткой, в котором полностью или частично происходило выбранное Вами событие (процесс).



**Перечень событий (процессов)**

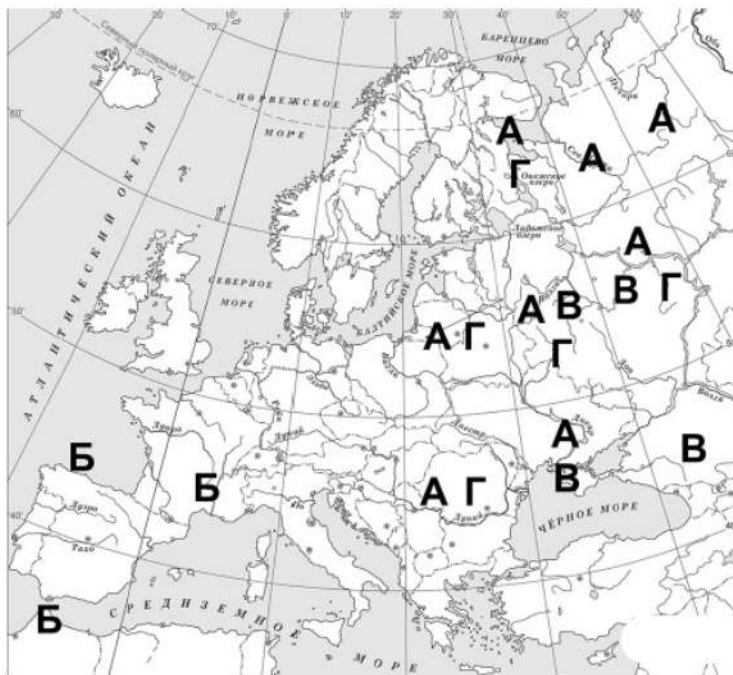
А) ордынское владычество в русских землях и княжествах

Б) Реконкиста и образование централизованных государств на Пиренейском полуострове

В) борьба русских княжеств с кочевниками в XII в.

Г) сбор налогов с населения Руси в X в.

**Пояснение.**





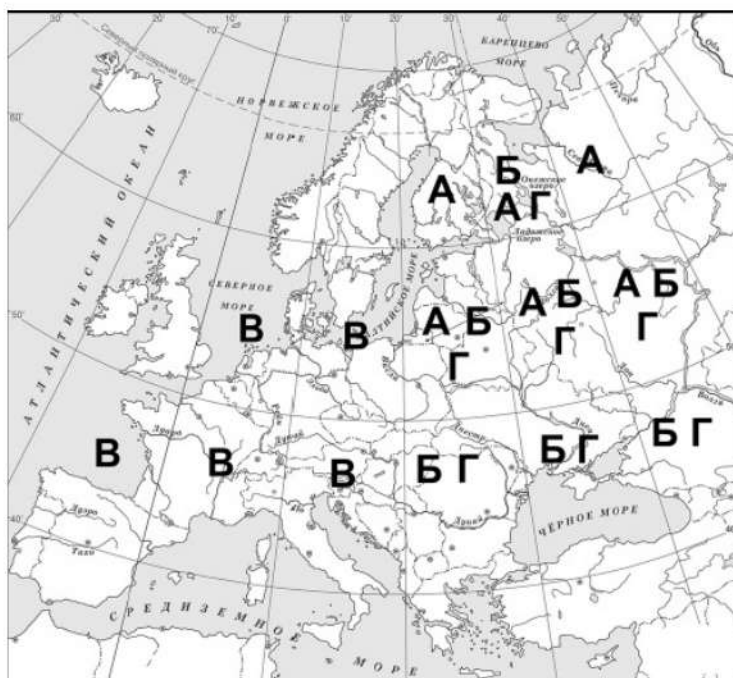
33. Заштрихуйте на контурной карте один четырёхугольник, образованный градусной сеткой, в котором полностью или частично происходило выбранное Вами событие (процесс).



**Перечень событий (процессов)**

- |  |   |
|--|---|
| А) политическое развитие русских земель с республиканской формой правления в XII–XIV вв. | Б) создание письменного законодательства государства Русь |
| В) возникновение Франкской империи   | Г) принятие Русью христианства                            |

**Пояснение.**



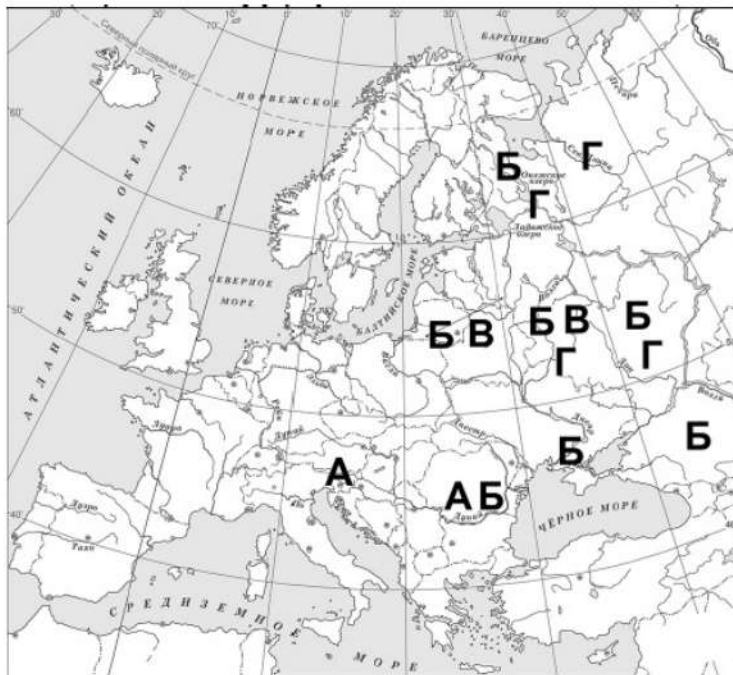
34. Заштрихуйте на контурной карте один четырёхугольник, образованный градусной сеткой, в котором полностью или частично происходило выбранное Вами событие (процесс).



**Перечень событий (процессов)**

- |   |  |
|---|--|
| А) Четвёртый Крестовый поход                                    | Б) борьба за власть на Руси после смерти князя Владимира Святославича    |
| В) защита русских земель от вторжений с северо-запада в XIII в. | Г) политическое развитие Северо-Восточной Руси во второй половине XII в. |

**Пояснение.**





35. Заштрихуйте на контурной карте один четырёхугольник, образованный градусной сеткой, в котором полностью или частично происходило выбранное Вами событие (процесс).



**Перечень событий (процессов)**

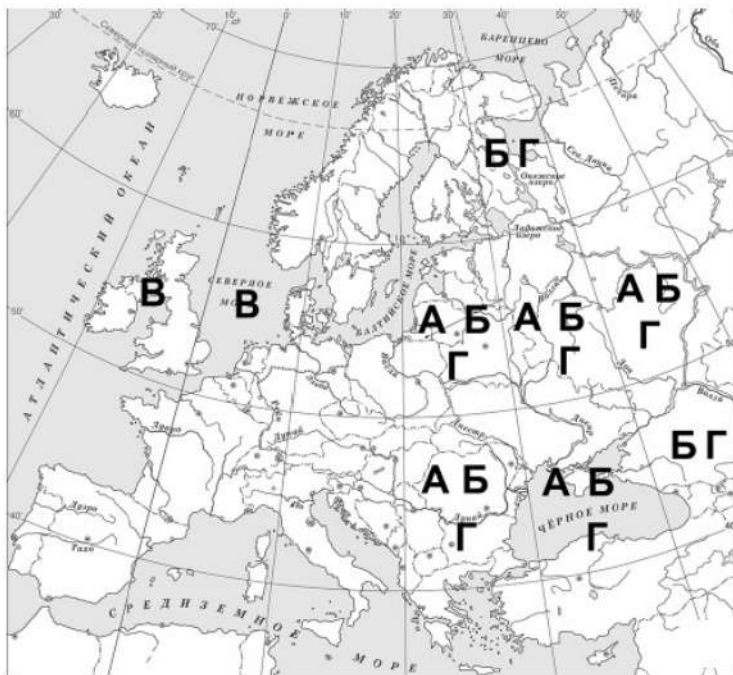
А) нашествие монголов на русские земли и княжества в 1237–1240 гг.

Б) политическое развитие Древнерусского государства в 1019–1054 гг.

В) деятельность английского парламента в XIII–XIV вв.

Г) принятие Русью христианства

**Пояснение.**



36. Заштрихуйте на контурной карте один четырёхугольник, образованный градусной сеткой, в котором полностью или частично происходило выбранное Вами событие (процесс).



**Перечень событий (процессов)**

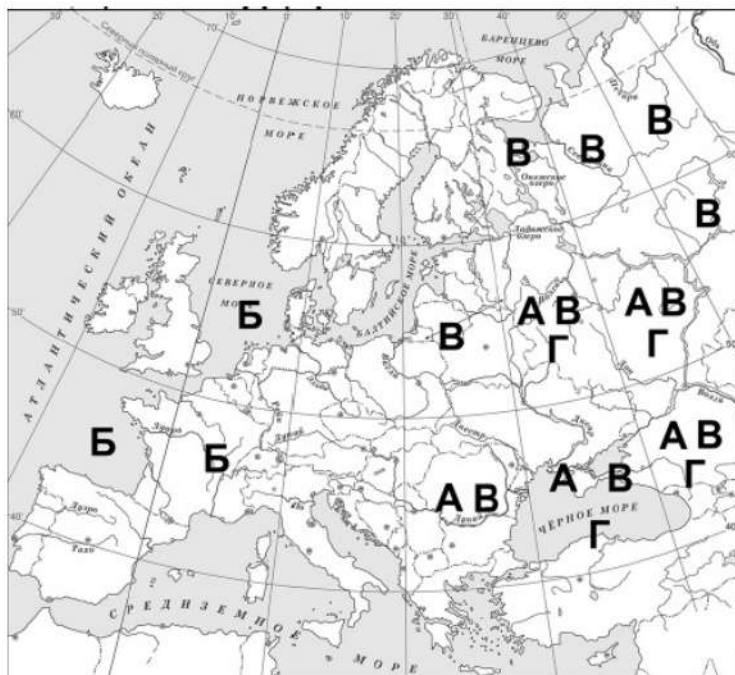
А) внешняя политика первых русских князей в 882–972 гг.

Б) объединение Франции в XII–XV вв.

В) взаимоотношения русских земель и княжеств с Золотой Ордой в XIII в.

Г) борьба Руси с половцами в XI–XII вв.

**Пояснение.**





37. Заштрихуйте на контурной карте один четырёхугольник, образованный градусной сеткой, в котором полностью или частично происходило выбранное Вами событие (процесс).



**Перечень событий (процессов)**

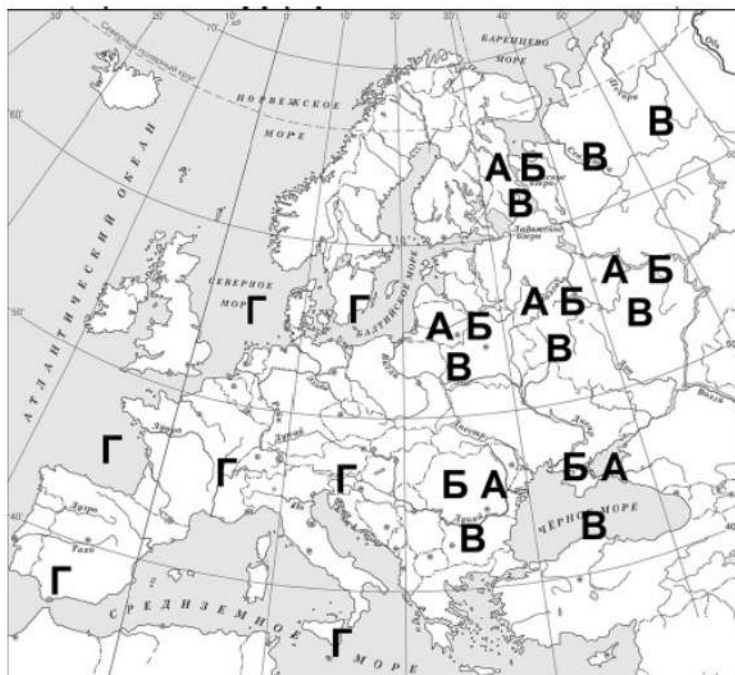
А) формирование территории Древнерусского государства

Б) развитие законодательства в Древнерусском государстве

В) установление зависимости русских земель и княжеств от Орды

Г) развитие науки и техники в Западной и Центральной Европе в XV в.

**Пояснение.**



38. Заштрихуйте на контурной карте один четырёхугольник, образованный градусной сеткой, в котором полностью или частично происходило выбранное Вами событие (процесс).



**Перечень событий (процессов)**

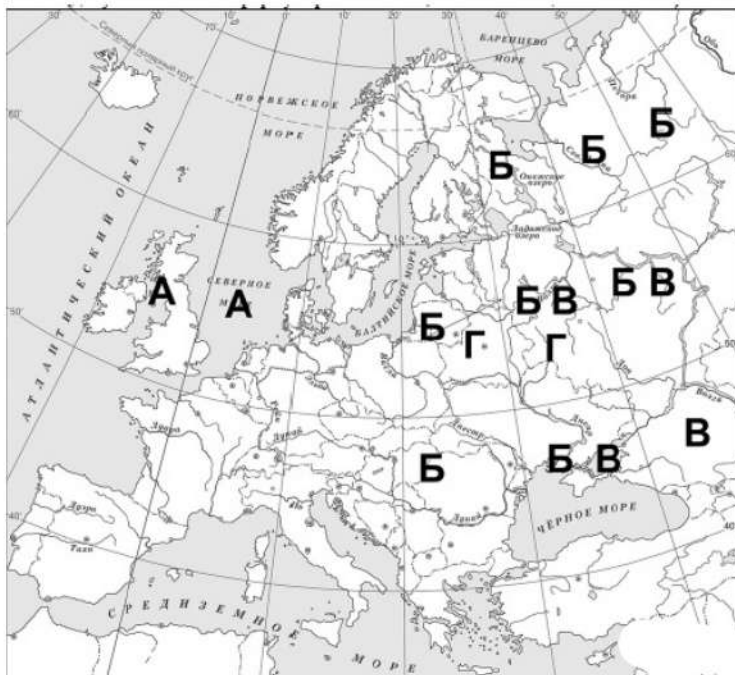
А) возникновение и становление английского парламентаризма

Б) ордынское владычество в русских землях и княжествах

В) борьба русских князей с половцами в XII в.

Г) защита русских земель от вторжений с северо-запада в XIII в.

**Пояснение.**





39. Заштрихуйте на контурной карте один четырёхугольник, образованный градусной сеткой, в котором полностью или частично происходило выбранное Вами событие (процесс).



**Перечень событий (процессов)**

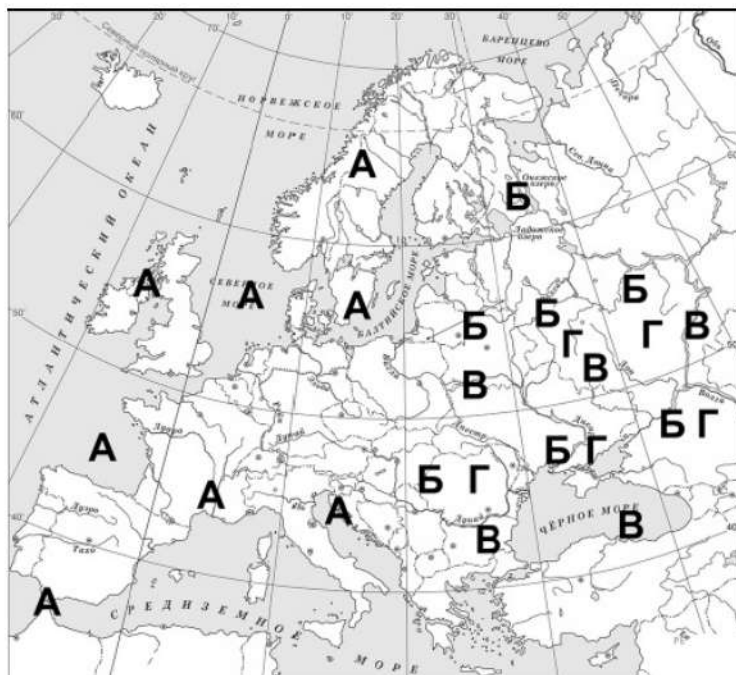
А) борьба католической церкви с еретиками в XI–XIII вв.

Б) внутренняя политика киевского князя в 1019–1054 гг.

В) нашествие монголов на русские земли и княжества в 1237–1240 гг.

Г) внешняя политика первых русских князей в 882–972 гг.

Пояснение.



40. Заштрихуйте на контурной карте один четырёхугольник, образованный градусной сеткой, в котором полностью или частично происходило выбранное Вами событие (процесс).



**Перечень событий (процессов)**

- |   |  |
|---|--|
| А) распространение христианской веры в государстве Русь в XI в. | Б) внутренняя политика князей государства Русь (882–972 гг.) |
| В) оборона северо-западных границ русских земель в XIII в.      | Г) участие Франции в Столетней войне                         |

Пояснение.





41. Заштрихуйте на контурной карте один четырёхугольник, образованный градусной сеткой, в котором полностью или частично происходило выбранное Вами событие (процесс).



**Перечень событий (процессов)**

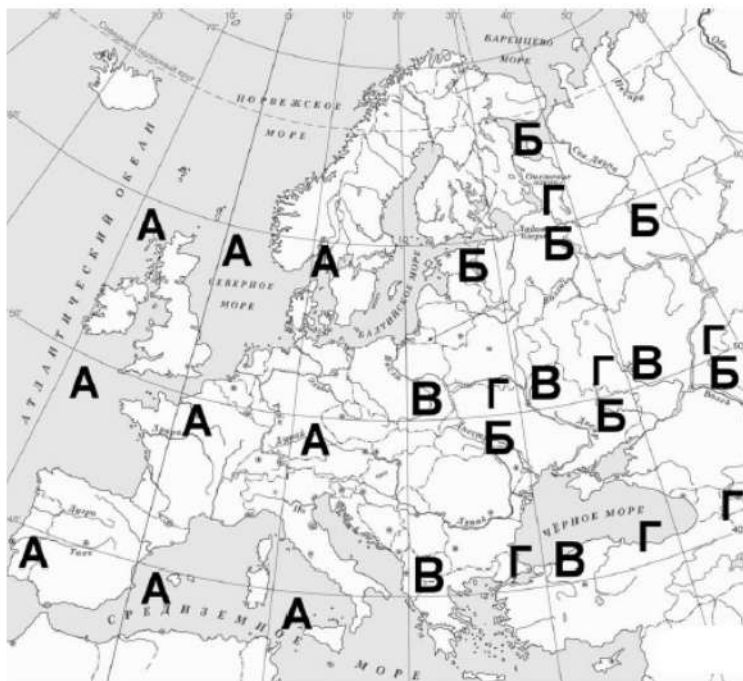
А) образование варварских королевств

Б) борьба за власть между сыновьями Владимира Святого

В) нашествие монголов на русские земли и княжества в 1237–1240 гг.

Г) внешняя политика древнерусских князей в X–XI вв.

**Пояснение.**



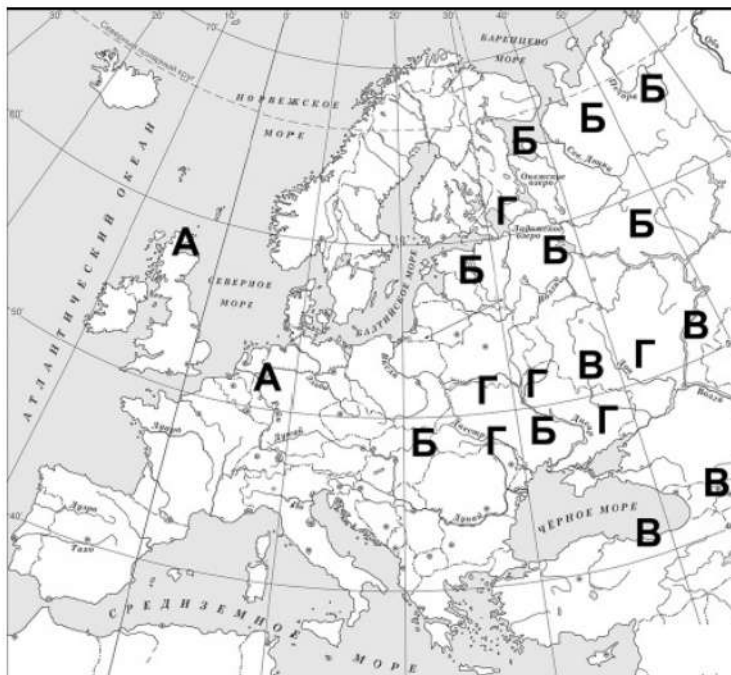
42. Заштрихуйте на контурной карте один четырёхугольник, образованный градусной сеткой, в котором полностью или частично происходило выбранное Вами событие (процесс).



**Перечень событий (процессов)**

- |   |   |
|---|---|
| А) война Алой и Белой розы                        | Б) ордынское владычество в русских землях и княжествах        |
| В) борьба русских княжеств с кочевниками в XII в. | Г) формирование территории Древнерусского государства в IX в. |

**Пояснение.**





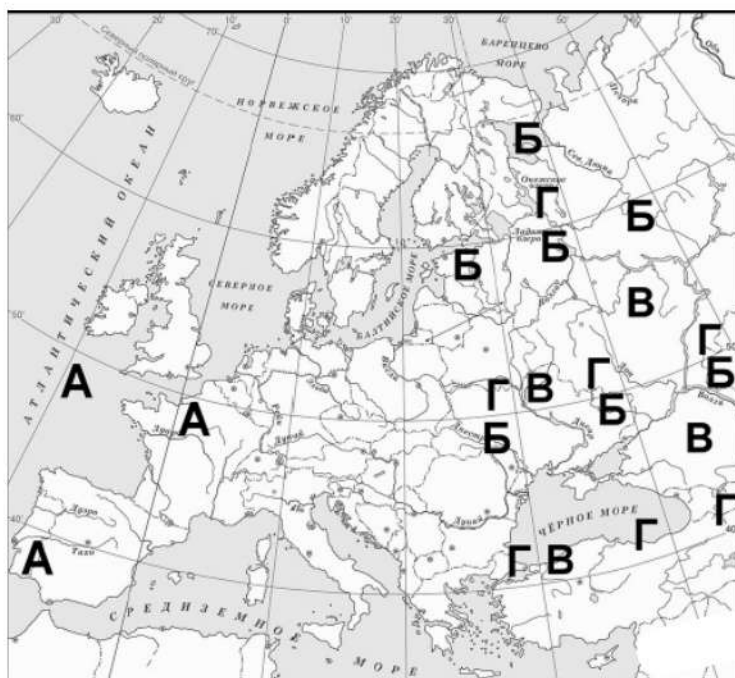
43. Заштрихуйте на контурной карте один четырёхугольник, образованный градусной сеткой, в котором полностью или частично происходило выбранное Вами событие (процесс).



**Перечень событий (процессов)**

- |   |   |
|---|---|
| А) образование Испанского королевства             | Б) крещение Руси  |
| В) борьба русских княжеств с кочевниками в XII в. | Г) формирование законодательства Древнерусского государства в XI в. |

**Пояснение.**



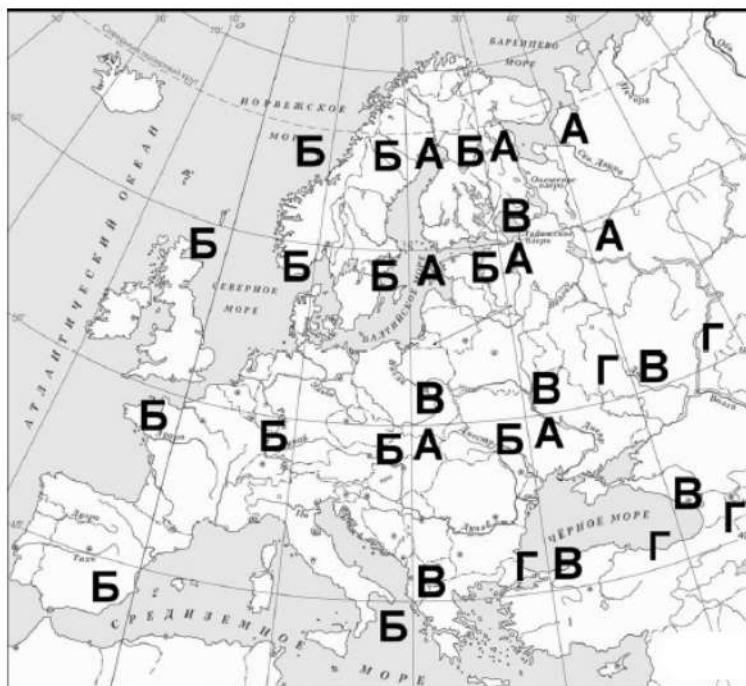
44. Заштрихуйте на контурной карте один четырёхугольник, образованный градусной сеткой, в котором полностью или частично происходило выбранное Вами событие (процесс).



**Перечень событий (процессов)**

- |  |   |
|--|---|
| А) распад Древнерусского государства на отдельные земли и княжества      | Б) борьба католической церкви с еретиками в Европе        |
| В) распространение христианской веры в Древнерусском государстве в XI в. | Г) внешняя политика князей государства Русь (882–972 гг.) |

Пояснение.



45. Заштрихуйте на контурной карте один четырёхугольник, образованный градусной сеткой, в котором полностью или частично происходило выбранное Вами событие (процесс).



**Перечень событий (процессов)**

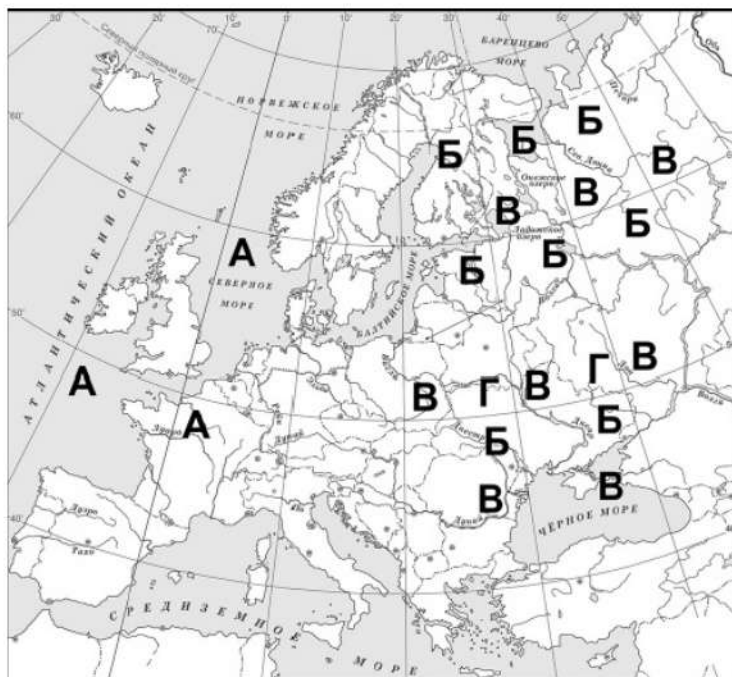
А) усиление королевской власти во Франции в XIII–XV вв.

Б) убицы между русскими князьями в конце XI–XII вв.

В) установление ордынской зависимости русских земель

Г) борьба с экспансией крестоносцев на северо-западных границах русских земель

**Пояснение.**





46. Заштрихуйте на контурной карте один четырёхугольник, образованный градусной сеткой, в котором полностью или частично происходило выбранное Вами событие (процесс).



**Перечень событий (процессов)**

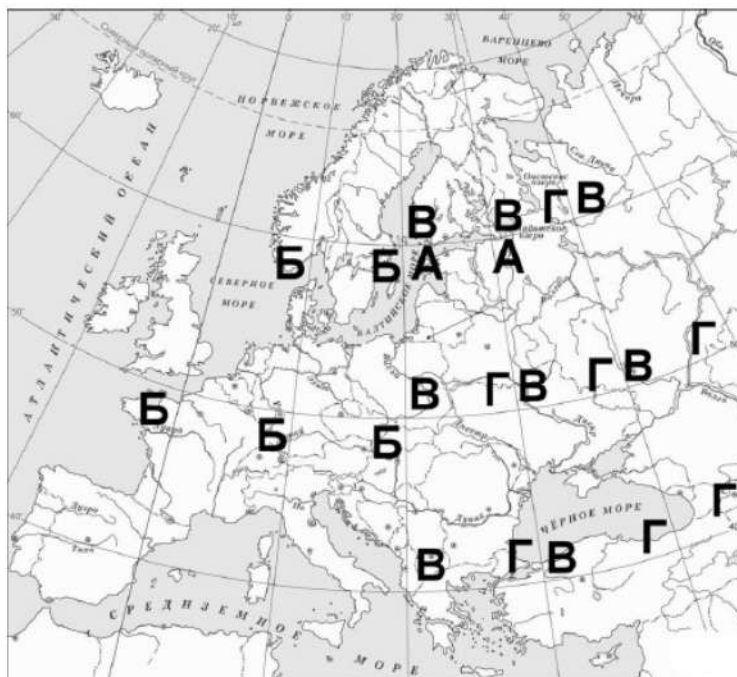
А) политическое развитие русских земель с республиканской формой правления в XII — первой трети XIII в.

Б) борьба чешского народа с господством католической церкви

В) внутренняя политика древнерусских князей в X в.

Г) нашествие монголов на Северо-Восточную Русь в 1237–1238 гг.

**Пояснение.**



47. Заштрихуйте на контурной карте один четырёхугольник, образованный градусной сеткой, в котором полностью или частично происходило выбранное Вами событие (процесс).



**Перечень событий (процессов)**

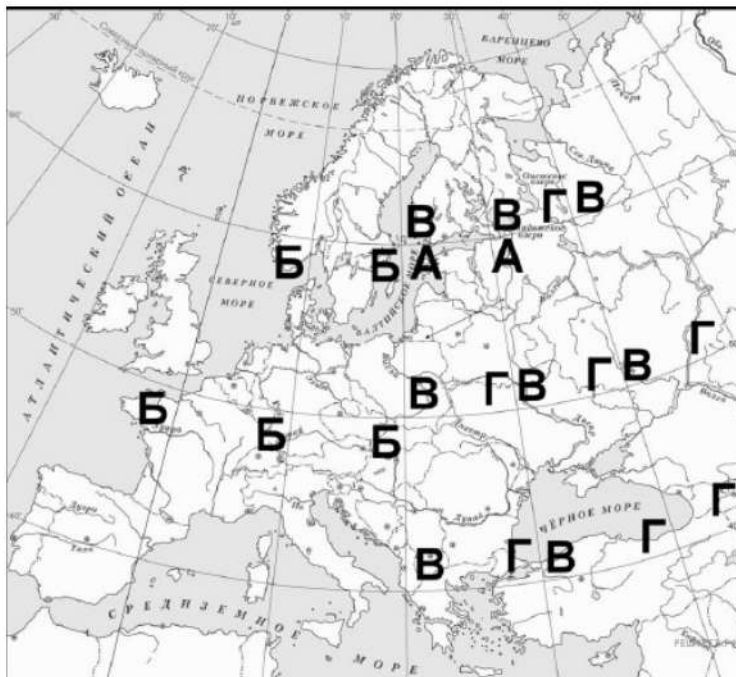
А) защита русских земель от вторжений с северо-запада в XIII в.

Б) образование Франкского государства

В) разделение Древнерусского государства на отдельные княжества и земли

Г) распространение христианской веры в государстве Русь в XI в.

**Пояснение.**



48. Заштрихуйте на контурной карте один четырёхугольник, образованный градусной сеткой, в котором полностью или частично происходило выбранное Вами событие (процесс).



**Перечень событий (процессов)**

- |   |  |
|---|--|
| А) развитие Северо-Восточной Руси в период политической раздробленности   | Б) внутренняя политика киевского князя в 1019–1054 гг. |
| В) борьба русских князей с половцами в конце XI — первой половине XII вв. | Г) усиление Византийской империи в VI в.               |

**Пояснение.**





49. Заштрихуйте на контурной карте один четырёхугольник, образованный градусной сеткой, в котором полностью или частично происходило выбранное Вами событие (процесс).



**Перечень событий (процессов)**

А) установление зависимости русских земель и княжеств от монгольских ханов

Б) внешняя политика русских князей в 879–945 гг.

В) арабские завоевания VII–VIII вв.

Г) борьба за власть на Руси после смерти князя Владимира Святославича

**Пояснение.**

