

## Модель 1

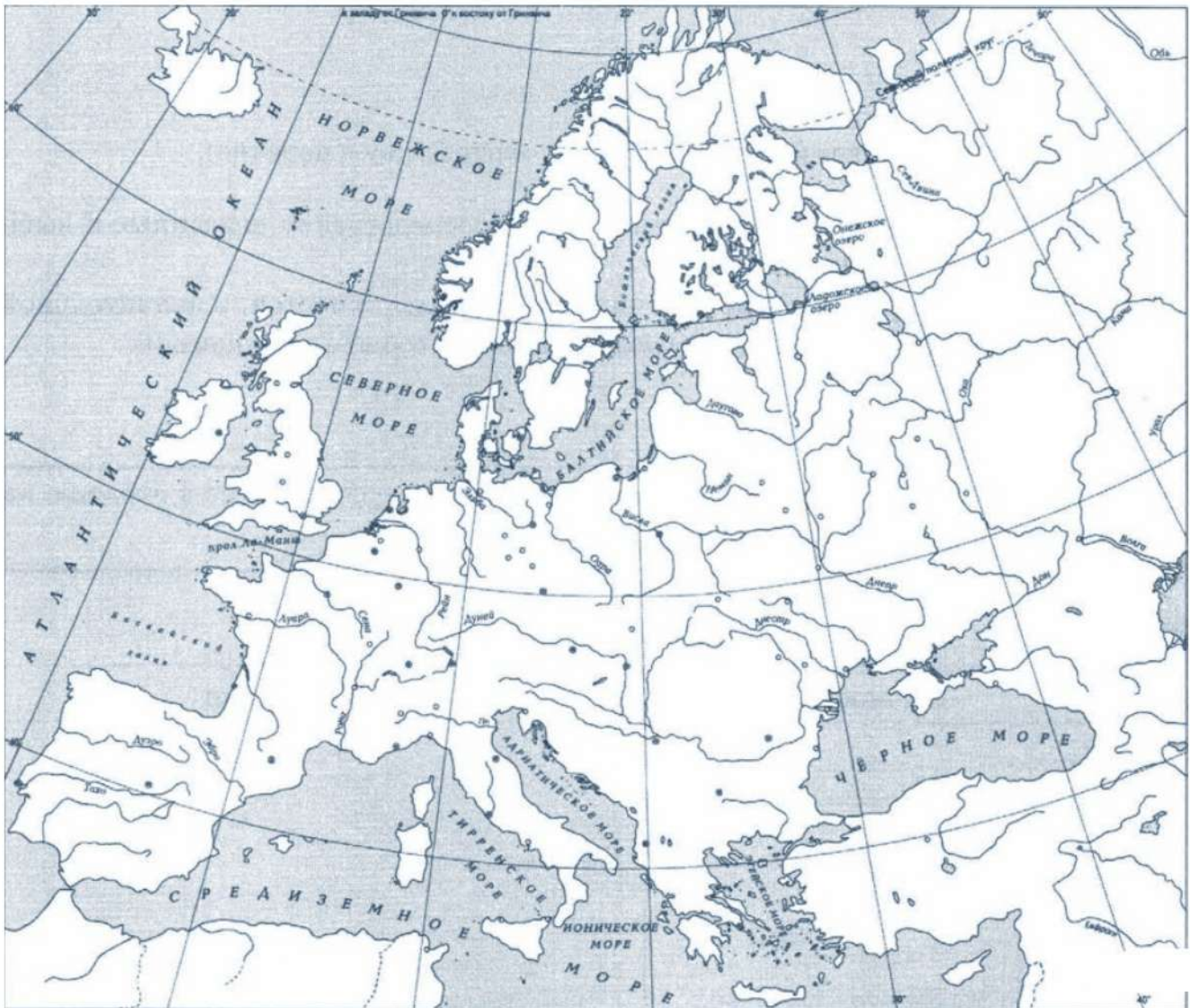
1. Заштрихуйте на контурной карте один четырёхугольник, образованный градусной сеткой, в котором полностью или частично происходило выбранное Вами событие (процесс).



### Перечень событий (процессов)

- |  |   |
|--|---|
| А) Столетняя война                         | Б) Образование Древнерусского государства               |
| В) Монгольское нашествие на Русь в XIII в. | Г) Борьба Руси против монгольского владычества в XIV в. |

2. Заштрихуйте на контурной карте один четырёхугольник, образованный градусной сеткой, в котором полностью или частично происходило выбранное Вами событие (процесс).



**Перечень событий (процессов)**

- |  |                                      |
|--|--------------------------------------|
| А) присоединение Новгорода к Московскому княжеству | Б) битва при Гастинге                |
| В) принятие христианства на Руси                   | Г) первый письменный сборник законов |

3. Заштрихуйте на контурной карте один четырёхугольник, образованный градусной сеткой, в котором полностью или частично происходило выбранное Вами событие (процесс).



Перечень событий (процессов)

- |                                    |                           |
|------------------------------------|---------------------------|
| А) борьба Руси с печенегами в X в. | Б) борьба с Золотой Ордой |
| В) призвание варягов               | Г) казнь еретиков         |

4. Заштрихуйте на контурной карте один четырёхугольник, образованный градусной сеткой, в котором полностью или частично происходило выбранное Вами событие (процесс).



**Перечень событий (процессов)**

- |  |                                       |
|--|---------------------------------------|
| А) Крестовые походы  | Б) нашествие Батые на Русь            |
| В) процесс создания централизованного Русского государства | Г) феодальная раздробленность на Руси |

5. Заштрихуйте на контурной карте один четырёхугольник, образованный градусной сеткой, в котором полностью или частично происходило выбранное Вами событие (процесс).



**Перечень событий (процессов)**

- |  |                                       |
|--|---------------------------------------|
| А) Стояние на Угре   | Б) появление государства у Франков    |
| В) Борьба между Тверью и Москвой за первенство в Северо-Восточной Руси | Г) феодальная раздробленность на Руси |

6. Заштрихуйте на контурной карте один четырёхугольник, образованный градусной сеткой, в котором полностью или частично происходило выбранное Вами событие (процесс).



**Перечень событий (процессов)**

- |                                |                                       |
|--------------------------------|---------------------------------------|
| А) Правление Ярослава Мудрого  | Б) рост влияния Москвы в XIV в.       |
| В) борьба Руси с крестоносцами | Г) появление парламентаризма в Англии |

7. Заштрихуйте на контурной карте один четырёхугольник, образованный градусной сеткой, в котором полностью или частично происходило выбранное Вами событие (процесс).



Перечень событий (процессов)

- |                                       |   |
|---------------------------------------|---|
| А) арабские завоевания в VII-VIII вв. | Б) военные походы русских князей на Царьград    |
| В) вторая усьобица на Руси            | Г) рост влияния Москвы в первой половине XIV в. |

8. Заштрихуйте на контурной карте один четырёхугольник, образованный градусной сеткой, в котором полностью или частично происходило выбранное Вами событие (процесс).



**Перечень событий (процессов)**

- |                                |                                     |
|--------------------------------|-------------------------------------|
| А) освобождение от Орды        | Б) присоединение Новгорода к Москве |
| В) отражение шведской агрессии | Г) восстание Уота Тайлера           |



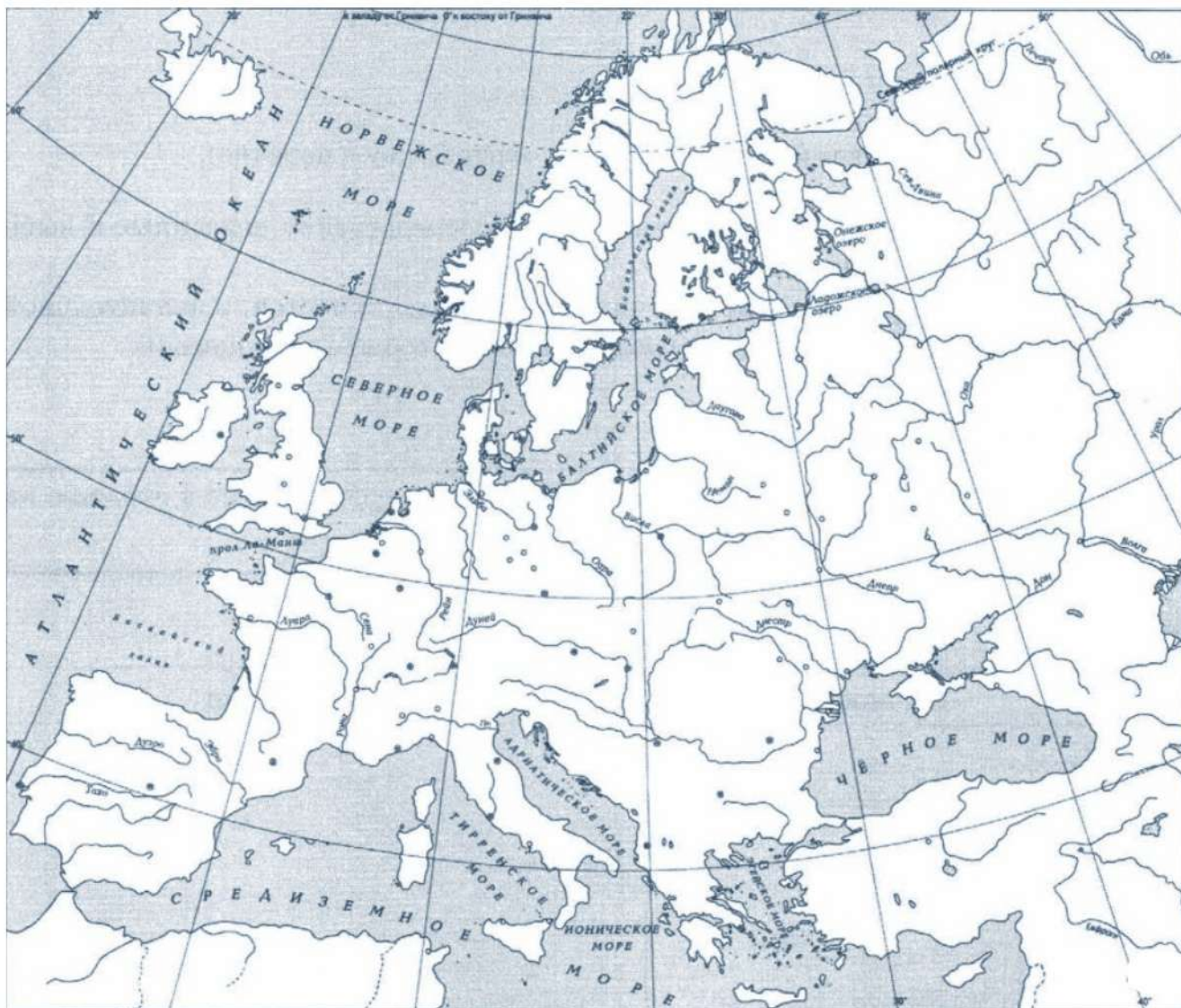
9. Заштрихуйте на контурной карте один четырёхугольник, образованный градусной сеткой, в котором полностью или частично происходило выбранное Вами событие (процесс).



**Перечень событий (процессов)**

- |                                     |  |
|-------------------------------------|--|
| А) образование русского государства | Б) Победа над Мамаем в Куликовской битве |
| В) Гуситское движение               | Г) Принятие христианства на Руси         |

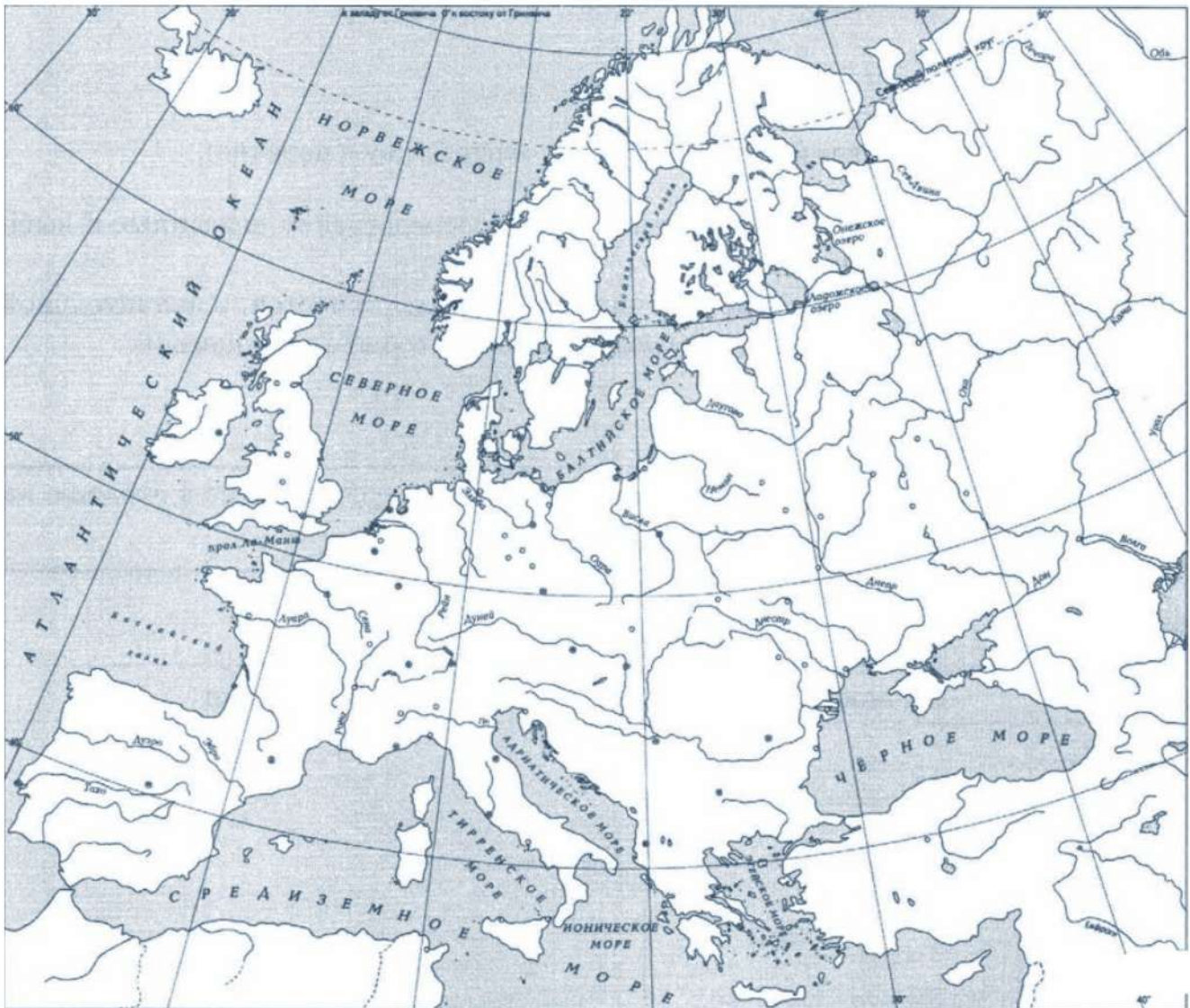
10. Заштрихуйте на контурной карте один четырёхугольник, образованный градусной сеткой, в котором полностью или частично происходило выбранное Вами событие (процесс).



**Перечень событий (процессов)**

- |                                 |  |
|---------------------------------|--|
| А) возвышение Москвы            | Б) монгольское нашествие на Русь         |
| В) падение Византийской империи | Г) разгром крестоносцев на Чудском озере |

11. Заштрихуйте на контурной карте один четырёхугольник, образованный градусной сеткой, в котором полностью или частично происходило выбранное Вами событие (процесс).



**Перечень событий (процессов)**

- |  |                               |
|--|-------------------------------|
| А) борьба Северо-Западной Руси против крестоносцев | Б) правление Ярослава Мудрого |
| В) Грюнвальдская битва                             | Г) четвертый крестовый поход  |

12. Заштрихуйте на контурной карте один четырёхугольник, образованный градусной сеткой, в котором полностью или частично происходило выбранное Вами событие (процесс).



**Перечень событий (процессов)**

- |   |                          |
|---|--------------------------|
| А) правление Ивана Калиты                     | Б) битва на Калке        |
| В) первый созыв Генеральных штатов во Франции | Г) съезд князей в Любече |

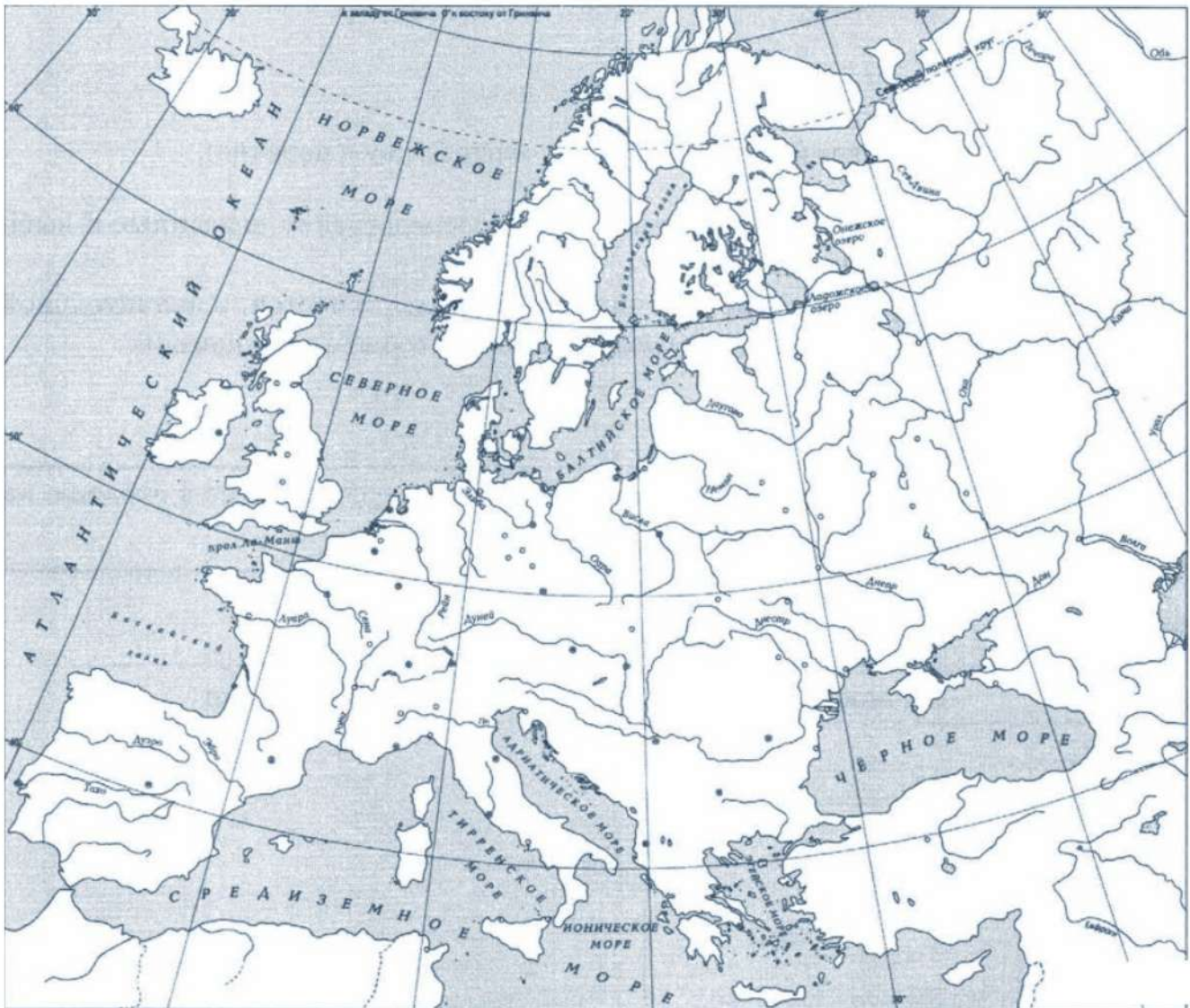
13. Заштрихуйте на контурной карте один четырёхугольник, образованный градусной сеткой, в котором полностью или частично происходило выбранное Вами событие (процесс).



**Перечень событий (процессов)**

- |   |   |
|---|---|
| А) образование древнерусского государства | Б) правление Андрея Боголюбского          |
| В) Великая хартия вольностей              | Г) освобождение от ордынского владычества |

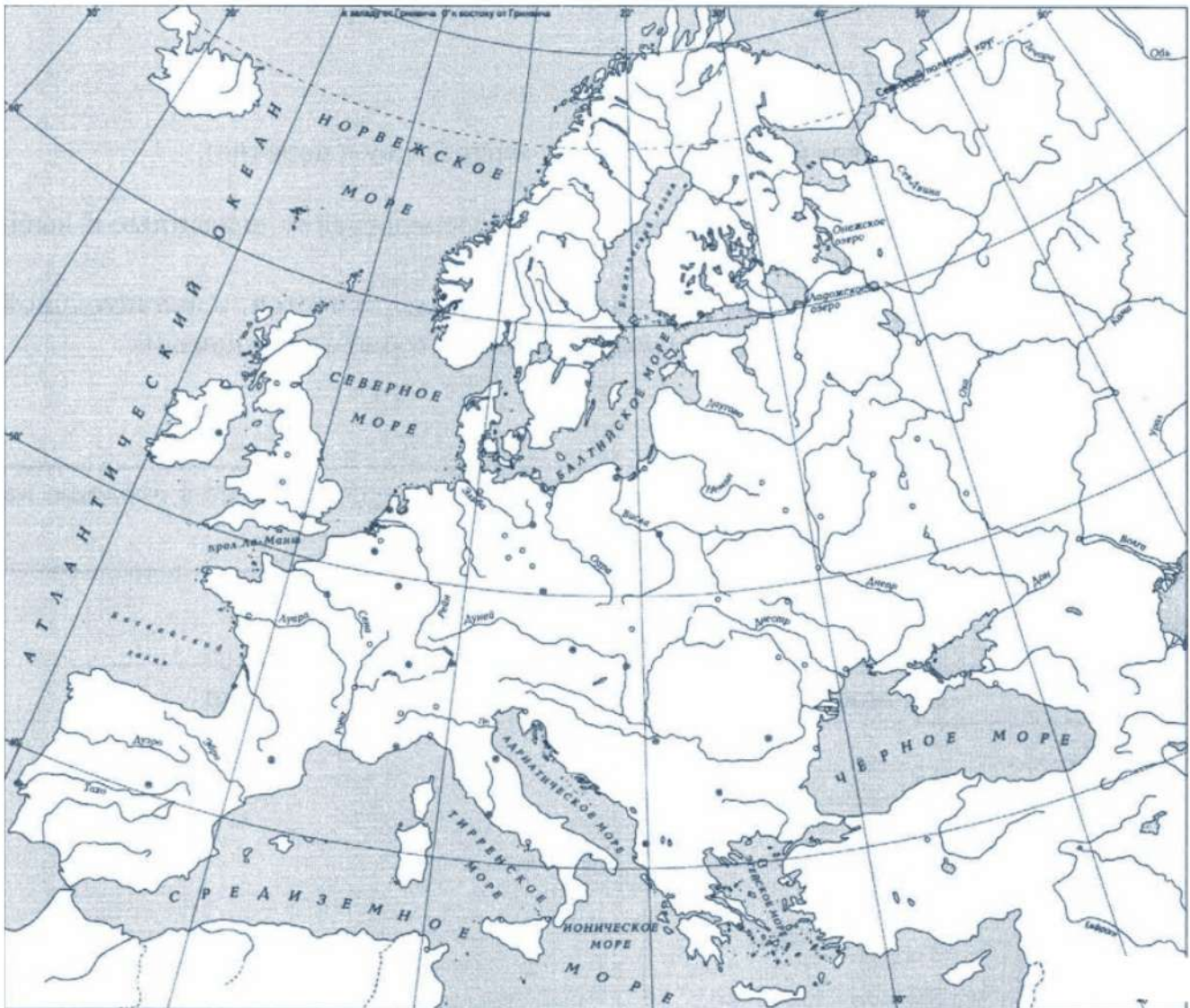
14. Заштрихуйте на контурной карте один четырёхугольник, образованный градусной сеткой, в котором полностью или частично происходило выбранное Вами событие (процесс).



Перечень событий (процессов)

- |                                    |                      |
|------------------------------------|----------------------|
| А) Жакерия во Франции              | Б) походы Святослава |
| В) Русская правда Ярослава Мудрого | Г) княжение Ольги    |

15. Заштрихуйте на контурной карте один четырёхугольник, образованный градусной сеткой, в котором полностью или частично происходило выбранное Вами событие (процесс).



**Перечень событий (процессов)**

- А) правление Владимира Всеволодовича Мономаха      Б) присоединение Новгорода к Москве  
В) Борьба с Золотой Ордой      Г) Крестовые походы

16. Заштрихуйте на контурной карте один четырёхугольник, образованный градусной сеткой, в котором полностью или частично происходило выбранное Вами событие (процесс).



Перечень событий (процессов)

- |                                 |  |
|---------------------------------|--|
| А) правление Ивана III Великого | Б) поход новгород-северского князя Игоря против половцев |
| В) правление Юстиниана          | Г) строительство белокаменного Московского Кремля        |



17. Заштрихуйте на контурной карте один четырёхугольник, образованный градусной сеткой, в котором полностью или частично происходило выбранное Вами событие (процесс).



**Перечень событий (процессов)**

- |                                   |                              |
|-----------------------------------|------------------------------|
| А) введение пожилого и Юрьева дня | Б) походы князя Олега Вещего |
| В) битва при Гастингсе            | Г) правление Василия II      |

18. Заштрихуйте на контурной карте один четырёхугольник, образованный градусной сеткой, в котором полностью или частично происходило выбранное Вами событие (процесс).



**Перечень событий (процессов)**

- |  |  |
|--|--|
| А) внутренняя политика первых русских князей     | Б) русско-византийские войны                         |
| В) возникновение и распад империи Карла Великого | Г) окончательная ликвидация зависимости Руси от Орды |

19. Заштрихуйте на контурной карте один четырёхугольник, образованный градусной сеткой, в котором полностью или частично происходило выбранное Вами событие (процесс).



**Перечень событий (процессов)**

А) внутренняя политика киевского князя в 1019–1054 гг.

В) ордынское владычество на Руси

Б) политическое развитие русских земель с республиканской формой правления в XII–XV вв.

Г) падение Византийской империи

20. Заштрихуйте на контурной карте один четырёхугольник, образованный градусной сеткой, в котором полностью или частично происходило выбранное Вами событие (процесс).



**Перечень событий (процессов)**

- |  |  |
|--|--|
| А) борьба Руси с половцами                             | Б) формирование Древнерусского государства |
| В) политика московских князей в первой половине XIV в. | Г) объединение Франции в XII–XV вв.        |

21. Заштрихуйте на контурной карте один четырёхугольник, образованный градусной сеткой, в котором полностью или частично происходило выбранное Вами событие (процесс).



**Перечень событий (процессов)**

А) объединение русских княжеств и земель во второй половине XV в.

Б) принятие Русью христианства

В) защита русских земель от вторжений с северо-запада в XIII в.

Г) деятельность английского парламента в XIII–XIV вв.

22. Заштрихуйте на контурной карте один четырёхугольник, образованный градусной сеткой, в котором полностью или частично происходило выбранное Вами событие (процесс).



**Перечень событий (процессов)**

- |   |                      |
|---|----------------------|
| А) каменное строительство в Москве во второй половине XV в. | Б) Куликовская битва |
| В) внешняя политика первых русских князей в 882–972 гг.     | Г) Гуситские войны   |

23. Заштрихуйте на контурной карте один четырёхугольник, образованный градусной сеткой, в котором полностью или частично происходило выбранное Вами событие (процесс).



**Перечень событий (процессов)**

А) политическое развитие Северо-Восточной Руси во второй половине XII в.

Б) набег ордынцев на Русь в 1382 г.

В) сбор налогов с населения Руси в X в.

Г) Реконкиста и образование централизованных государств на Пиренейском полуострове

24. Заштрихуйте на контурной карте один четырёхугольник, образованный градусной сеткой, в котором полностью или частично происходило выбранное Вами событие (процесс).



**Перечень событий (процессов)**

А) внутренняя и внешняя политика русских земель и княжеств во II половине XIV в.

В) развитие науки и техники в Западной и Центральной Европе в XV в.

Б) развитие законодательства в Древнерусском государстве

Г) окончательная ликвидация зависимости Руси от Орды



25. Заштрихуйте на контурной карте один четырёхугольник, образованный градусной сеткой, в котором полностью или частично происходило выбранное Вами событие (процесс).



**Перечень событий (процессов)**

А) внешняя политика первых русских князей в 882–972 гг.

В) возникновение и становление английского парламентаризма

Б) поддержка Русской Православной Церковью процесса объединения русских земель в XIV в.

Г) укрепление великокняжеской власти во II половине XV в.

26. Заштрихуйте на контурной карте один четырёхугольник, образованный градусной сеткой, в котором полностью или частично происходило выбранное Вами событие (процесс).



**Перечень событий (процессов)**

- |   |                                |
|---|--------------------------------|
| А) защита русских земель от вторжений с северо-запада в XIII в. | Б) принятие Русью христианства |
| В) Четвёртый Крестовый поход                                    | Г) Куликовская битва           |

27. Заштрихуйте на контурной карте один четырёхугольник, образованный градусной сеткой, в котором полностью или частично происходило выбранное Вами событие (процесс).



**Перечень событий (процессов)**

А) ликвидация независимости боярских республик во второй половине XV — начале XVI в.

Б) создание Франкской империи

В) взаимоотношения Руси и Золотой Орды в XIII в.

Г) формирование Древнерусского государства

28. Заштрихуйте на контурной карте один четырёхугольник, образованный градусной сеткой, в котором полностью или частично происходило выбранное Вами событие (процесс).



**Перечень событий (процессов)**

А) борьба чешского народа с господством католической церкви

В) развитие Древнерусского государства в X в.

Б) борьба за власть между сыновьями Владимира Святого

Г) борьба за первенство в Северо-Восточной Руси в XIV в.

29. Заштрихуйте на контурной карте один четырёхугольник, образованный градусной сеткой, в котором полностью или частично происходило выбранное Вами событие (процесс).



**Перечень событий (процессов)**

А) разделение Древнерусского государства на отдельные княжества и земли

Б) образование Франкского государства

В) формирование единого Русского государства в 1462–1505 гг.

Г) борьба за первенство в Северо-Восточной Руси в XIV в.

30. Заштрихуйте на контурной карте один четырёхугольник, образованный градусной сеткой, в котором полностью или частично происходило выбранное Вами событие (процесс).



**Перечень событий (процессов)**

- |  |   |
|--|---|
| А) падение Византийской империи  | Б) формирование Древнерусского государства                      |
| В) политическое развитие Северо-Восточной Руси во второй половине XII в. | Г) защита русских земель от вторжений с северо-запада в XIII в. |

31. Заштрихуйте на контурной карте один четырёхугольник, образованный градусной сеткой, в котором полностью или частично происходило выбранное Вами событие (процесс).



**Перечень событий (процессов)**

- |  |  |
|--|--|
| А) русско-византийские войны                                       | Б) Гуситские войны   |
| В) нашествие монголов на русские земли и княжества в 1237–1240 гг. | Г) политическое развитие Северо-Восточной Руси во второй половине XII в. |

32. Заштрихуйте на контурной карте один четырёхугольник, образованный градусной сеткой, в котором полностью или частично происходило выбранное Вами событие (процесс).



**Перечень событий (процессов)**

А) ордынское владычество в русских землях и княжествах

В) борьба русских княжеств с кочевниками в XII в.

Б) Реконкиста и образование централизованных государств на Пиренейском полуострове

Г) сбор налогов с населения Руси в X в.



33. Заштрихуйте на контурной карте один четырёхугольник, образованный градусной сеткой, в котором полностью или частично происходило выбранное Вами событие (процесс).



**Перечень событий (процессов)**

- |  |   |
|--|---|
| А) политическое развитие русских земель с республиканской формой правления в XII–XIV вв. | Б) создание письменного законодательства государства Русь |
| В) возникновение Франкской империи   | Г) принятие Русью христианства                            |

34. Заштрихуйте на контурной карте один четырёхугольник, образованный градусной сеткой, в котором полностью или частично происходило выбранное Вами событие (процесс).



**Перечень событий (процессов)**

А) Четвёртый Крестовый поход

В) защита русских земель от вторжений с северо-запада в XIII в.

Б) борьба за власть на Руси после смерти князя Владимира Святославича

Г) политическое развитие Северо-Восточной Руси во второй половине XII в.

35. Заштрихуйте на контурной карте один четырёхугольник, образованный градусной сеткой, в котором полностью или частично происходило выбранное Вами событие (процесс).



**Перечень событий (процессов)**

А) нашествие монголов на русские земли и княжества в 1237–1240 гг.

Б) политическое развитие Древнерусского государства в 1019–1054 гг.

В) деятельность английского парламента в XIII–XIV вв.

Г) принятие Русью христианства

36. Заштрихуйте на контурной карте один четырёхугольник, образованный градусной сеткой, в котором полностью или частично происходило выбранное Вами событие (процесс).



**Перечень событий (процессов)**

- |  |   |
|--|---|
| А) внешняя политика первых русских князей в 882–972 гг.                | Б) объединение Франции в XII–XV вв.     |
| В) взаимоотношения русских земель и княжеств с Золотой Ордой в XIII в. | Г) борьба Руси с половцами в XI–XII вв. |

37. Заштрихуйте на контурной карте один четырёхугольник, образованный градусной сеткой, в котором полностью или частично происходило выбранное Вами событие (процесс).



**Перечень событий (процессов)**

А) формирование территории Древнерусского государства

Б) развитие законодательства в Древнерусском государстве

В) установление зависимости русских земель и княжеств от Орды

Г) развитие науки и техники в Западной и Центральной Европе в XV в.

38. Заштрихуйте на контурной карте один четырёхугольник, образованный градусной сеткой, в котором полностью или частично происходило выбранное Вами событие (процесс).



**Перечень событий (процессов)**

А) возникновение и становление английского парламентаризма

Б) ордынское владычество в русских землях и княжествах

В) борьба русских князей с половцами в XII в.

Г) защита русских земель от вторжений с северо-запада в XIII в.

39. Заштрихуйте на контурной карте один четырёхугольник, образованный градусной сеткой, в котором полностью или частично происходило выбранное Вами событие (процесс).



**Перечень событий (процессов)**

- |  |   |
|--|---|
| А) борьба католической церкви с еретиками в XI–XIII вв.            | Б) внутренняя политика киевского князя в 1019–1054 гг.  |
| В) нашествие монголов на русские земли и княжества в 1237–1240 гг. | Г) внешняя политика первых русских князей в 882–972 гг. |

40. Заштрихуйте на контурной карте один четырёхугольник, образованный градусной сеткой, в котором полностью или частично происходило выбранное Вами событие (процесс).



**Перечень событий (процессов)**

А) распространение христианской веры в государстве Русь в XI в.

Б) внутренняя политика князей государства Русь (882–972 гг.)

В) оборона северо-западных границ русских земель в XIII в.

Г) участие Франции в Столетней войне



41. Заштрихуйте на контурной карте один четырёхугольник, образованный градусной сеткой, в котором полностью или частично происходило выбранное Вами событие (процесс).



**Перечень событий (процессов)**

- |  |   |
|--|---|
| А) образование варварских королевств                               | Б) борьба за власть между сыновьями Владимира Святого |
| В) нашествие монголов на русские земли и княжества в 1237–1240 гг. | Г) внешняя политика древнерусских князей в X–XI вв.   |

42. Заштрихуйте на контурной карте один четырёхугольник, образованный градусной сеткой, в котором полностью или частично происходило выбранное Вами событие (процесс).



**Перечень событий (процессов)**

- |   |   |
|---|---|
| А) война Алой и Белой розы                        | Б) ордынское владычество в русских землях и княжествах        |
| В) борьба русских княжеств с кочевниками в XII в. | Г) формирование территории Древнерусского государства в IX в. |

43. Заштрихуйте на контурной карте один четырёхугольник, образованный градусной сеткой, в котором полностью или частично происходило выбранное Вами событие (процесс).



**Перечень событий (процессов)**

- |   |   |
|---|---|
| А) образование Испанского королевства             | Б) крещение Руси  |
| В) борьба русских княжеств с кочевниками в XII в. | Г) формирование законодательства Древнерусского государства в XI в. |

44. Заштрихуйте на контурной карте один четырёхугольник, образованный градусной сеткой, в котором полностью или частично происходило выбранное Вами событие (процесс).



**Перечень событий (процессов)**

- |  |   |
|--|---|
| А) распад Древнерусского государства на отдельные земли и княжества      | Б) борьба католической церкви с еретиками в Европе        |
| В) распространение христианской веры в Древнерусском государстве в XI в. | Г) внешняя политика князей государства Русь (882–972 гг.) |

45. Заштрихуйте на контурной карте один четырёхугольник, образованный градусной сеткой, в котором полностью или частично происходило выбранное Вами событие (процесс).



**Перечень событий (процессов)**

А) усиление королевской власти во Франции в XIII–XV вв.

Б) убоицы между русскими князьями в конце XI–XII вв.

В) установление ордынской зависимости русских земель

Г) борьба с экспансией крестоносцев на северо-западных границах русских земель

46. Заштрихуйте на контурной карте один четырёхугольник, образованный градусной сеткой, в котором полностью или частично происходило выбранное Вами событие (процесс).



**Перечень событий (процессов)**

А) политическое развитие русских земель с республиканской формой правления в XII — первой трети XIII в.

В) внутренняя политика древнерусских князей в X в.

Б) борьба чешского народа с господством католической церкви

Г) нашествие монголов на Северо-Восточную Русь в 1237–1238 гг.

47. Заштрихуйте на контурной карте один четырёхугольник, образованный градусной сеткой, в котором полностью или частично происходило выбранное Вами событие (процесс).



**Перечень событий (процессов)**

А) защита русских земель от вторжений с северо-запада в XIII в.

Б) образование Франкского государства

В) разделение Древнерусского государства на отдельные княжества и земли

Г) распространение христианской веры в государстве Русь в XI в.

48. Заштрихуйте на контурной карте один четырёхугольник, образованный градусной сеткой, в котором полностью или частично происходило выбранное Вами событие (процесс).



**Перечень событий (процессов)**

- |   |  |
|---|--|
| А) развитие Северо-Восточной Руси в период политической раздробленности   | Б) внутренняя политика киевского князя в 1019–1054 гг. |
| В) борьба русских князей с половцами в конце XI — первой половине XII вв. | Г) усиление Византийской империи в VI в.               |



49. Заштрихуйте на контурной карте один четырёхугольник, образованный градусной сеткой, в котором полностью или частично происходило выбранное Вами событие (процесс).



**Перечень событий (процессов)**

А) установление зависимости русских земель и княжеств от монгольских ханов

Б) внешняя политика русских князей в 879–945 гг.

В) арабские завоевания VII–VIII вв.

Г) борьба за власть на Руси после смерти князя Владимира Святославича