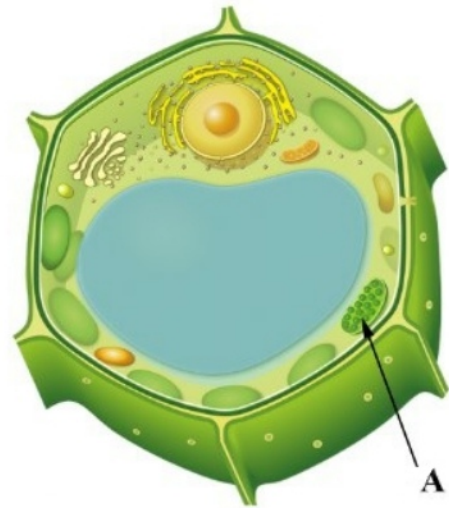
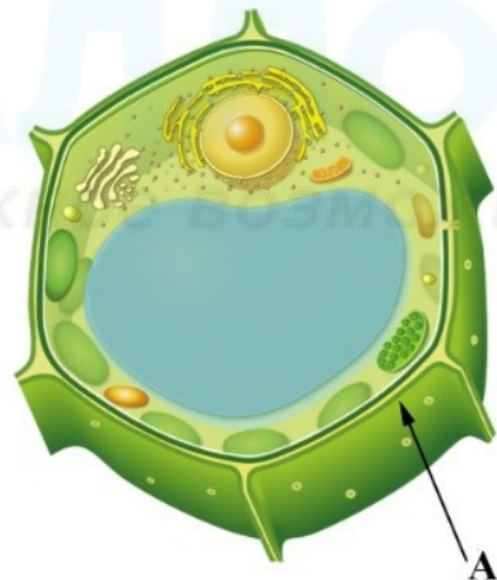


Задания 3.1. Узнавание микроскопического объекта

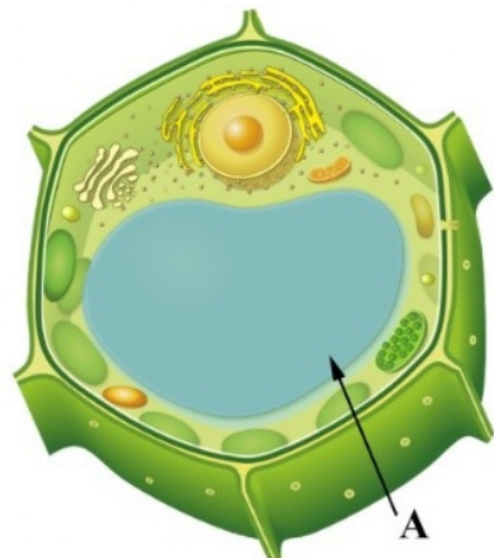
1. Рассмотрите рисунок растительной клетки. Какая структура клетки обозначена на рисунке буквой А?



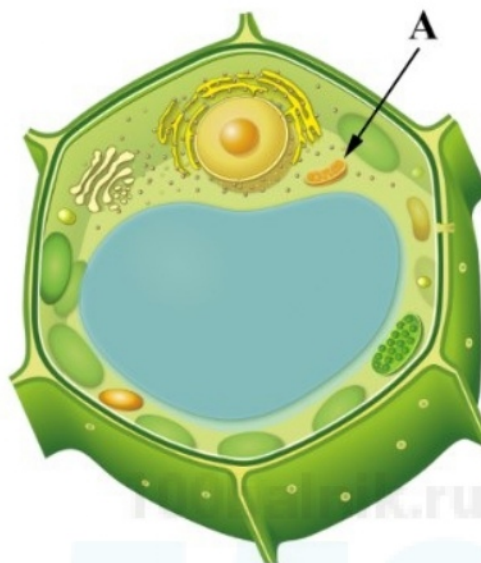
2. Рассмотрите рисунок растительной клетки. Какая структура клетки обозначена на рисунке буквой А?



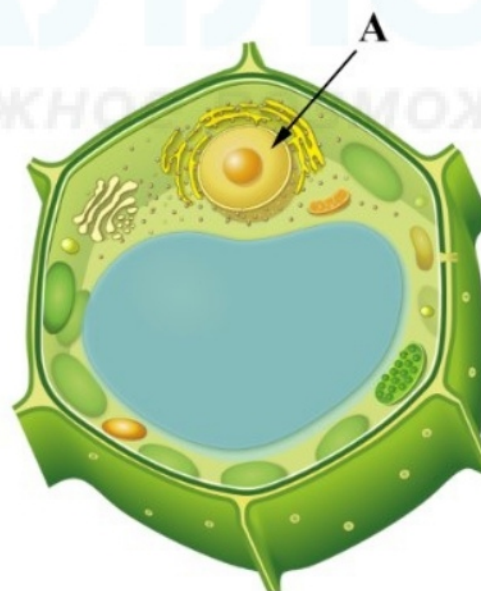
3. Рассмотрите рисунок растительной клетки. Какая структура клетки обозначена на рисунке буквой А?



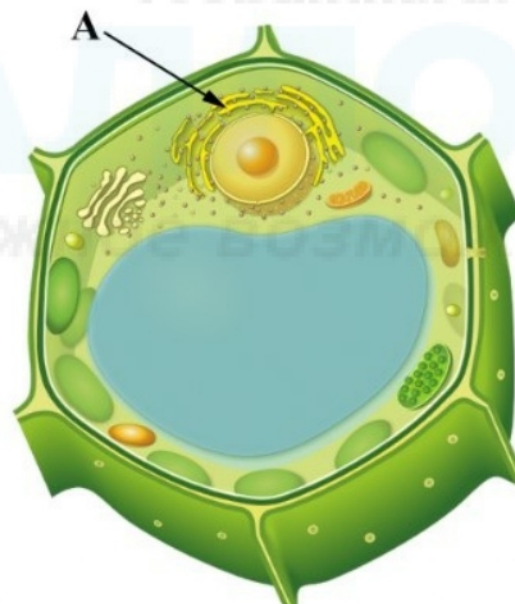
4 . Рассмотрите рисунок растительной клетки. Какая структура клетки обозначена на рисунке буквой А?



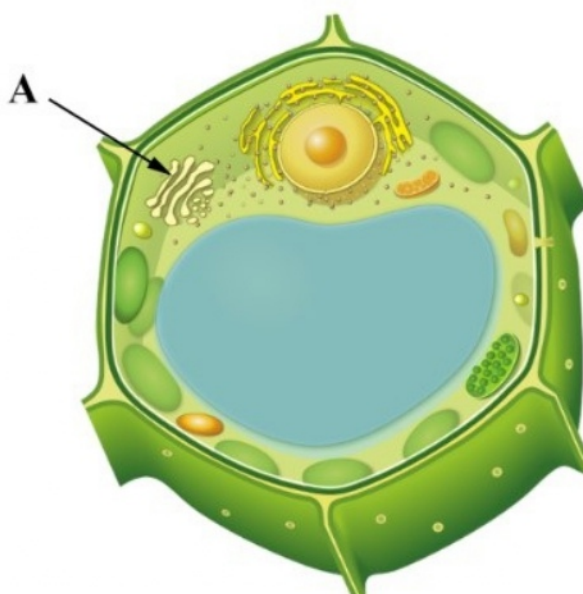
5 . Рассмотрите рисунок растительной клетки. Какая структура клетки обозначена на рисунке буквой А?



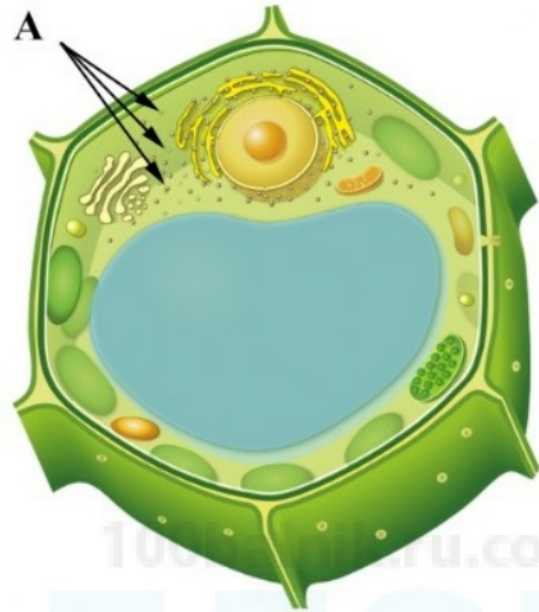
6 . Рассмотрите рисунок растительной клетки. Какая структура клетки обозначена на рисунке буквой А?



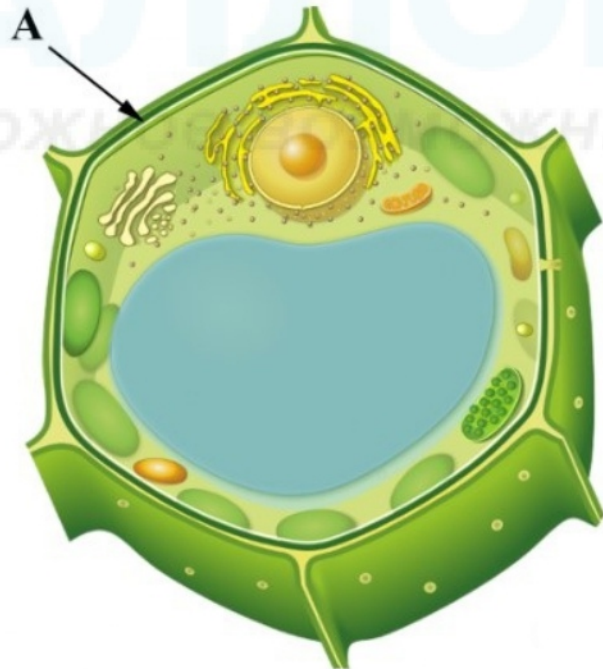
7 . Рассмотрите рисунок растительной клетки. Какая структура клетки обозначена на рисунке буквой А?



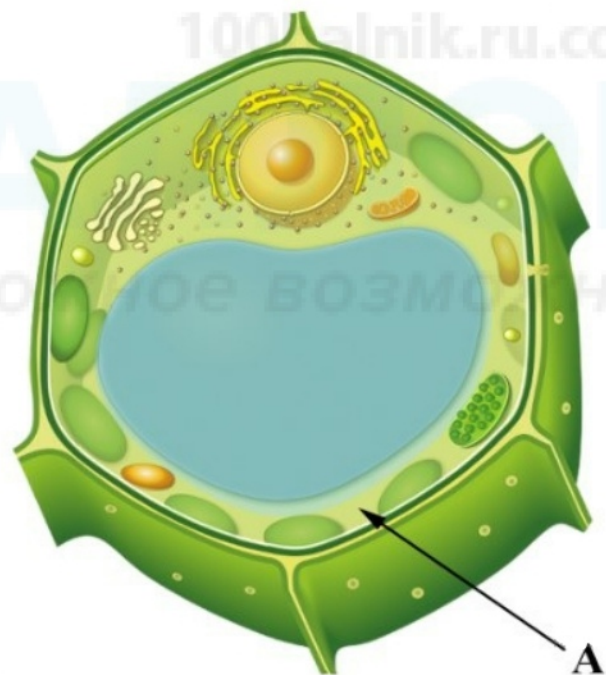
8 . Рассмотрите рисунок растительной клетки. Какие структуры клетки обозначена на рисунке буквой А?



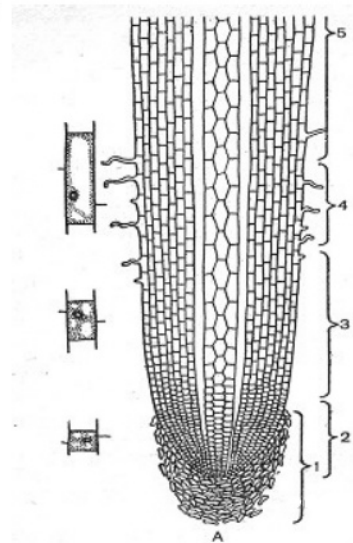
9 . Рассмотрите рисунок растительной клетки. Какая структура клетки обозначена на рисунке буквой А?



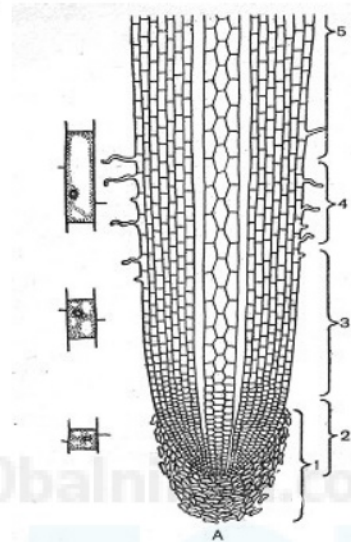
10. Рассмотрите рисунок растительной клетки. Какая структура клетки обозначена на рисунке буквой А?



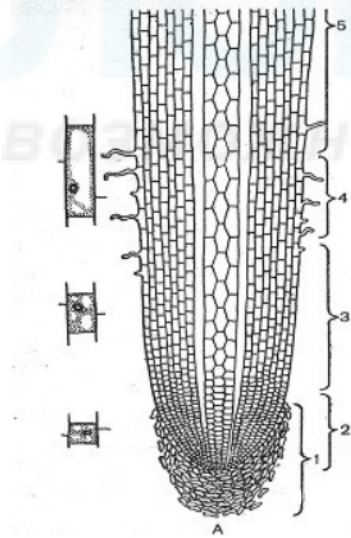
11. Рассмотрите рисунок корня растения. Какая зона корня обозначена на рисунке цифрой 1?



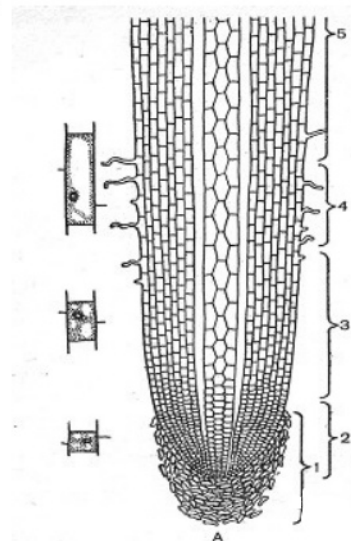
12. Рассмотрите рисунок корня растения. Какая зона корня обозначена на рисунке цифрой 2?



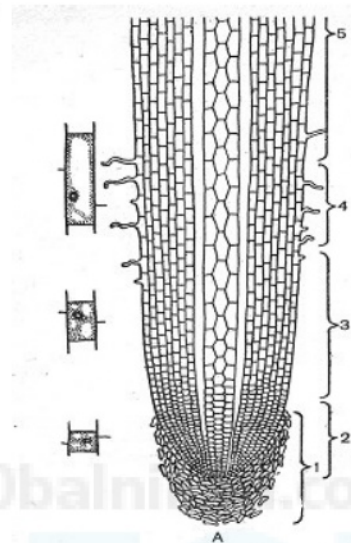
13. Рассмотрите рисунок корня растения. Какая зона корня обозначена на рисунке цифрой 3?



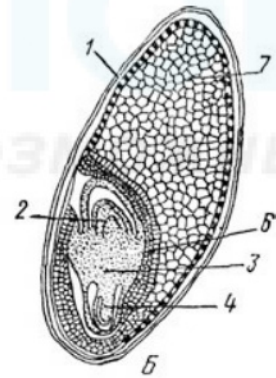
14. Рассмотрите рисунок корня растения. Какая зона корня обозначена на рисунке цифрой 4?



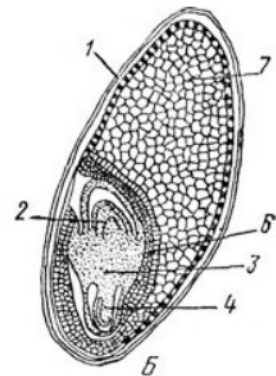
15. Рассмотрите рисунок корня растения. Какая зона корня обозначена на рисунке цифрой 5?



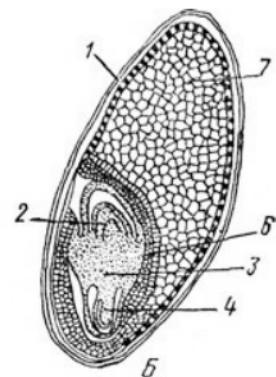
16. Рассмотрите рисунок семени. Какая структура обозначена на рисунке цифрой 1?



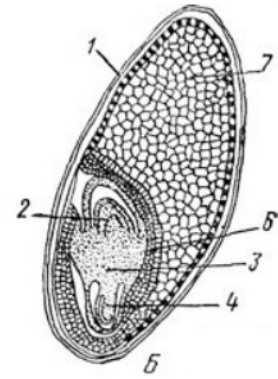
17. Рассмотрите рисунок семени. Какая структура обозначена на рисунке цифрой 7?



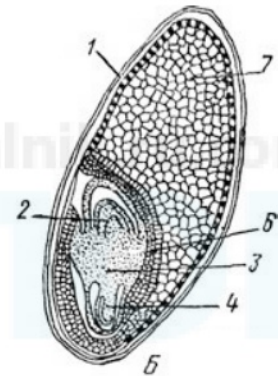
18. Рассмотрите рисунок семени. Какая структура обозначена на рисунке цифрой 2?



19. Рассмотрите рисунок семени. Какая структура обозначена на рисунке цифрой 4?

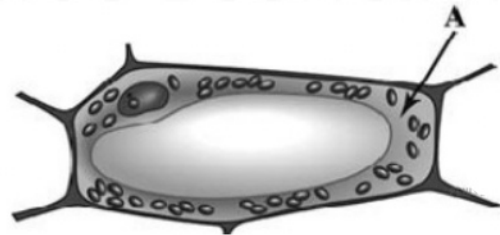


20. Рассмотрите рисунок семени. Какая структура обозначена на рисунке цифрой 3?



21.

Рассмотрите рисунок растительной клетки. Какая структура клетки обозначена на рисунке буквой А?



22.

Рассмотрите рисунок растительной клетки (рис. 1). Какие структуры клетки обозначены на рисунке буквой А?

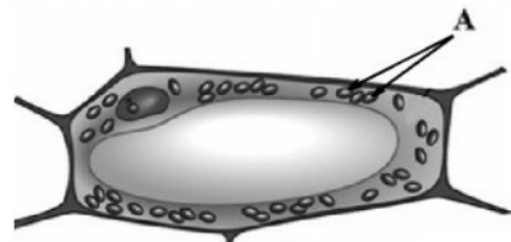


Рис. 1