

Задания 8. История культуры России и зарубежных стран

1. Какие два из представленных изображений являются памятниками культуры России, а какие — памятниками культуры зарубежных стран? Запишите в таблицу порядковые номера соответствующих памятников культуры.

Ответ:

Памятники культуры России		Памятники культуры зарубежных стран	
<input type="text"/>	<input type="text"/>	<input type="text"/>	<input type="text"/>

Рассмотрите изображения памятников культуры и выполните задания 8, 9.

1)



2)



3)



4)



2. Какие два из представленных изображений являются памятниками культуры России, а какие — памятниками культуры зарубежных стран? Запишите в таблицу порядковые номера соответствующих памятников культуры.

Ответ:

Памятники культуры России		Памятники культуры зарубежных стран	
<input type="text"/>	<input type="text"/>	<input type="text"/>	<input type="text"/>

Рассмотрите изображения памятников культуры и выполните задания 8, 9.

1)



2)



3)



4)



3. Какие два из представленных изображений являются памятниками культуры России, а какие — памятниками культуры зарубежных стран? Запишите в таблицу порядковые номера соответствующих памятников культуры.

Ответ:

Памятники культуры России		Памятники культуры зарубежных стран	
<input type="text"/>	<input type="text"/>	<input type="text"/>	<input type="text"/>

Рассмотрите изображения памятников культуры и выполните задания 8, 9.

1)



2)



3)



4)



4. Какие два из представленных изображений являются памятниками культуры России, а какие — памятниками культуры зарубежных стран? Запишите в таблицу порядковые номера соответствующих памятников культуры.

Ответ:

Памятники культуры России		Памятники культуры зарубежных стран	
<input type="text"/>	<input type="text"/>	<input type="text"/>	<input type="text"/>

Рассмотрите изображения памятников культуры и выполните задания 8, 9.

1)



2)



3)



4)



5. Какие два из представленных изображений являются памятниками культуры России, а какие — памятниками культуры зарубежных стран? Запишите в таблицу порядковые номера соответствующих памятников культуры.

Ответ:

Памятники культуры России		Памятники культуры зарубежных стран	
<input type="text"/>	<input type="text"/>	<input type="text"/>	<input type="text"/>

Рассмотрите изображения памятников культуры и выполните задания 8, 9.

1)



2)



3)



4)




6. Какие два из представленных изображений являются памятниками культуры России, а какие — памятниками культуры зарубежных стран? Запишите в таблицу порядковые номера соответствующих памятников культуры.

Ответ:

Памятники культуры России		Памятники культуры зарубежных стран	
<input type="text"/>	<input type="text"/>	<input type="text"/>	<input type="text"/>

Рассмотрите изображения памятников культуры и выполните задания 8, 9.

1)



2)



3)



4)



7. Какие два из представленных изображений являются памятниками культуры России, а какие — памятниками культуры зарубежных стран? Запишите в таблицу порядковые номера соответствующих памятников культуры.

Ответ:

Памятники культуры России		Памятники культуры зарубежных стран	
<input type="text"/>	<input type="text"/>	<input type="text"/>	<input type="text"/>

Рассмотрите изображения памятников культуры и выполните задания 8, 9.



8. Какие два из представленных изображений являются памятниками культуры России, а какие — памятниками культуры зарубежных стран? Запишите в таблицу порядковые номера соответствующих памятников культуры.

Ответ:

Памятники культуры России		Памятники культуры зарубежных стран	
<input type="text"/>	<input type="text"/>	<input type="text"/>	<input type="text"/>

Рассмотрите изображения памятников культуры и выполните задания 8, 9.

1)



2)



3)



4)



9. Какие два из представленных изображений являются памятниками культуры России, а какие — памятниками культуры зарубежных стран? Запишите в таблицу порядковые номера соответствующих памятников культуры.

Ответ:

Памятники культуры России		Памятники культуры зарубежных стран	
<input type="text"/>	<input type="text"/>	<input type="text"/>	<input type="text"/>

Рассмотрите изображения памятников культуры и выполните задания 8, 9.

1)




2)



3)



4)



10. Какие два из представленных изображений являются памятниками культуры России, а какие — памятниками культуры зарубежных стран? Запишите в таблицу порядковые номера соответствующих памятников культуры.

Ответ:

Памятники культуры России		Памятники культуры зарубежных стран	
<input type="text"/>	<input type="text"/>	<input type="text"/>	<input type="text"/>

Рассмотрите изображения памятников культуры и выполните задания 8, 9.

1)



2)



3)



4)



11. Какие два из представленных изображений являются памятниками культуры России, а какие — памятниками культуры зарубежных стран? Запишите в таблицу порядковые номера соответствующих памятников культуры.

Ответ:

Памятники культуры России		Памятники культуры зарубежных стран	
<input type="text"/>	<input type="text"/>	<input type="text"/>	<input type="text"/>

Рассмотрите изображения памятников культуры и выполните задания 8, 9.

1)




2)



3)



4)



12. Какие два из представленных изображений являются памятниками культуры России, а какие — памятниками культуры зарубежных стран? Запишите в таблицу порядковые номера соответствующих памятников культуры.

Ответ:

Памятники культуры России		Памятники культуры зарубежных стран	
<input type="text"/>	<input type="text"/>	<input type="text"/>	<input type="text"/>

Рассмотрите изображения памятников культуры и выполните задания 8, 9.

1)



2)



3)



4)



13. Какие два из представленных изображений являются памятниками культуры России, а какие — памятниками культуры зарубежных стран? Запишите в таблицу порядковые номера соответствующих памятников культуры.

Ответ:


Памятники культуры России		Памятники культуры зарубежных стран	
<input type="text"/>	<input type="text"/>	<input type="text"/>	<input type="text"/>

Рассмотрите изображения памятников культуры и выполните задания 8, 9.

1)



2)



3)



4)



14. Какие два из представленных изображений являются памятниками культуры России, а какие — памятниками культуры зарубежных стран? Запишите в таблицу порядковые номера соответствующих памятников культуры.

Ответ:

Памятники культуры России		Памятники культуры зарубежных стран	
<input type="text"/>	<input type="text"/>	<input type="text"/>	<input type="text"/>

Рассмотрите изображения памятников культуры и выполните задания 8, 9.

1)




2)



3)



4)



15. Какие два из представленных изображений являются памятниками культуры России, а какие — памятниками культуры зарубежных стран? Запишите в таблицу порядковые номера соответствующих памятников культуры.

Ответ:

Памятники культуры России		Памятники культуры зарубежных стран	
<input type="text"/>	<input type="text"/>	<input type="text"/>	<input type="text"/>

Рассмотрите изображения памятников культуры и выполните задания 8, 9.

1)



2)



3)



4)



16. Какие два из представленных изображений являются памятниками культуры России, а какие — памятниками культуры зарубежных стран? Запишите в таблицу порядковые номера соответствующих памятников культуры.

Ответ:

Памятники культуры России		Памятники культуры зарубежных стран	
<input type="text"/>	<input type="text"/>	<input type="text"/>	<input type="text"/>

Рассмотрите изображения памятников культуры и выполните задания 8, 9.


1)



2)



3)



4)



17. Какие два из представленных изображений являются памятниками культуры России, а какие — памятниками культуры зарубежных стран? Запишите в таблицу порядковые номера соответствующих памятников культуры.

Ответ:

Памятники культуры России		Памятники культуры зарубежных стран	
<input type="text"/>	<input type="text"/>	<input type="text"/>	<input type="text"/>

Рассмотрите изображения памятников культуры и выполните задания 8, 9.

1)



2)



3)



4)



18. На каких двух изображениях представлены памятниками культуры России, а на каких — памятники культуры зарубежных стран? Запишите в таблицу порядковые номера соответствующих изображений.

Ответ:

Памятники культуры России		Памятники культуры зарубежных стран	
<input type="text"/>	<input type="text"/>	<input type="text"/>	<input type="text"/>

Рассмотрите изображения памятников культуры и выполните задания 8, 9.



1)



2)



3)



4)

19. На каких двух изображениях представлены памятниками культуры России, а на каких — памятники культуры зарубежных стран? Запишите в таблицу порядковые номера соответствующих изображений.

Ответ:

Памятники культуры России		Памятники культуры зарубежных стран	
<input type="text"/>	<input type="text"/>	<input type="text"/>	<input type="text"/>

Рассмотрите изображения памятников культуры и выполните задания 8, 9.



1)



2)



3)



4)

20. На каких двух изображениях представлены памятниками культуры России, а на каких — памятники культуры зарубежных стран? Запишите в таблицу порядковые номера соответствующих изображений.

Ответ:

Памятники культуры России		Памятники культуры зарубежных стран	
<input type="text"/>	<input type="text"/>	<input type="text"/>	<input type="text"/>

Рассмотрите изображения памятников культуры и выполните задания 8, 9.




1)



2)



3)



4)

21. На каких двух изображениях представлены памятниками культуры России, а на каких — памятники культуры зарубежных стран? Запишите в таблицу порядковые номера соответствующих изображений.

Ответ:

Памятники культуры России		Памятники культуры зарубежных стран	
<input type="text"/>	<input type="text"/>	<input type="text"/>	<input type="text"/>

Рассмотрите изображения памятников культуры и выполните задания 8, 9.



1)



2)



3)



4)

22. На каких двух изображениях представлены памятниками культуры России, а на каких — памятники культуры зарубежных стран? Запишите в таблицу порядковые номера соответствующих изображений.

Ответ:

Памятники культуры России		Памятники культуры зарубежных стран	
<input type="text"/>	<input type="text"/>	<input type="text"/>	<input type="text"/>

Рассмотрите изображения памятников культуры и выполните задания 8, 9.



1)



2)



3)



4)

23. На каких двух изображениях представлены памятниками культуры России, а на каких — памятники культуры зарубежных стран? Запишите в таблицу порядковые номера соответствующих изображений.

Ответ:

Памятники культуры России		Памятники культуры зарубежных стран	
<input type="text"/>	<input type="text"/>	<input type="text"/>	<input type="text"/>

Рассмотрите изображения памятников культуры и выполните задания 8, 9.



1)



2)



3)



4)

24. На каких двух изображениях представлены памятниками культуры России, а на каких — памятники культуры зарубежных стран? Запишите в таблицу порядковые номера соответствующих изображений.

Ответ:

Памятники культуры России		Памятники культуры зарубежных стран	
<input type="text"/>	<input type="text"/>	<input type="text"/>	<input type="text"/>

Рассмотрите изображения памятников культуры и выполните задания 8, 9.



1)



2)



3)



4)

25. На каких двух изображениях представлены памятниками культуры России, а на каких — памятники культуры зарубежных стран? Запишите в таблицу порядковые номера соответствующих изображений.

Ответ:

Памятники культуры России		Памятники культуры зарубежных стран	
<input type="text"/>	<input type="text"/>	<input type="text"/>	<input type="text"/>

Рассмотрите изображения памятников культуры и выполните задания 8, 9.



1)



2)



3)



4)

26. На каких двух изображениях представлены памятниками культуры России, а на каких — памятники культуры зарубежных стран? Запишите в таблицу порядковые номера соответствующих изображений.

Ответ:

Памятники культуры России		Памятники культуры зарубежных стран	
<input type="text"/>	<input type="text"/>	<input type="text"/>	<input type="text"/>

Рассмотрите изображения памятников культуры и выполните задания 8, 9.



1)



2)



3)



4)

27. На каких двух изображениях представлены памятниками культуры России, а на каких — памятники культуры зарубежных стран? Запишите в таблицу порядковые номера соответствующих изображений.

Ответ:

Памятники культуры России		Памятники культуры зарубежных стран	
<input type="text"/>	<input type="text"/>	<input type="text"/>	<input type="text"/>

Рассмотрите изображения памятников культуры и выполните задания 8, 9.



1)



2)



3)



4)

28. На каких двух изображениях представлены памятниками культуры России, а на каких — памятники культуры зарубежных стран? Запишите в таблицу порядковые номера соответствующих изображений.

Ответ:

Памятники культуры России		Памятники культуры зарубежных стран	
<input type="text"/>	<input type="text"/>	<input type="text"/>	<input type="text"/>

Рассмотрите изображения памятников культуры и выполните задания 8, 9.



1)



2)



3)



4)

29. На каких двух изображениях представлены памятниками культуры России, а на каких — памятники культуры зарубежных стран? Запишите в таблицу порядковые номера соответствующих изображений.

Ответ:

Памятники культуры России		Памятники культуры зарубежных стран	
<input type="text"/>	<input type="text"/>	<input type="text"/>	<input type="text"/>

Рассмотрите изображения памятников культуры и выполните задания 8, 9.



1)



2)



3)



4)

30. На каких двух изображениях представлены памятники культуры России, а на каких — памятники культуры зарубежных стран? Запишите в таблицу порядковые номера соответствующих изображений.

Ответ:

Памятники культуры России		Памятники культуры зарубежных стран	
<input type="text"/>	<input type="text"/>	<input type="text"/>	<input type="text"/>

Рассмотрите изображения памятников культуры и выполните задания 8, 9.



31. На каких двух изображениях представлены памятники культуры России, а на каких — памятники культуры зарубежных стран? Запишите в таблицу порядковые номера соответствующих изображений.

Ответ:

Памятники культуры России		Памятники культуры зарубежных стран	
<input type="text"/>	<input type="text"/>	<input type="text"/>	<input type="text"/>

Рассмотрите изображения памятников культуры и выполните задания 8, 9.



32. На каких двух изображениях представлены памятники культуры России, а на каких — памятники культуры зарубежных стран? Запишите в таблицу порядковые номера соответствующих изображений.

Ответ:

Памятники культуры России		Памятники культуры зарубежных стран	
<input type="text"/>	<input type="text"/>	<input type="text"/>	<input type="text"/>

Рассмотрите изображения памятников культуры и выполните задания 8, 9.




33. На каких двух изображениях представлены памятники культуры России, а на каких — памятники культуры зарубежных стран? Запишите в таблицу порядковые номера соответствующих изображений.

Ответ:

Памятники культуры России		Памятники культуры зарубежных стран	
<input type="text"/>	<input type="text"/>	<input type="text"/>	<input type="text"/>

Рассмотрите изображения памятников культуры и выполните задания 8, 9.



34. На каких двух изображениях представлены памятники культуры России, а на каких — памятники культуры зарубежных стран? Запишите в таблицу порядковые номера соответствующих изображений.

Ответ:

Памятники культуры России		Памятники культуры зарубежных стран	
<input type="text"/>	<input type="text"/>	<input type="text"/>	<input type="text"/>

Рассмотрите изображения памятников культуры и выполните задания 8, 9.




35. На каких двух изображениях представлены памятники культуры России, а на каких — памятники культуры зарубежных стран? Запишите в таблицу порядковые номера соответствующих изображений.

Ответ:

Памятники культуры России		Памятники культуры зарубежных стран	
<input type="text"/>	<input type="text"/>	<input type="text"/>	<input type="text"/>

Рассмотрите изображения памятников культуры и выполните задания 8, 9.




36. На каких двух изображениях представлены памятники культуры России, а на каких — памятники культуры зарубежных стран? Запишите в таблицу порядковые номера соответствующих изображений.

Ответ:

Памятники культуры России		Памятники культуры зарубежных стран	
<input type="text"/>	<input type="text"/>	<input type="text"/>	<input type="text"/>

Рассмотрите изображения памятников культуры и выполните задания 8, 9.



37. На каких двух изображениях представлены памятники культуры России, а на каких — памятники культуры зарубежных стран? Запишите в таблицу порядковые номера соответствующих изображений.

Ответ:

Памятники культуры России		Памятники культуры зарубежных стран	
<input type="text"/>	<input type="text"/>	<input type="text"/>	<input type="text"/>

Рассмотрите изображения памятников культуры и выполните задания 8, 9.



38. На каких двух изображениях представлены памятники культуры России, а на каких — памятники культуры зарубежных стран? Запишите в таблицу порядковые номера соответствующих изображений.

Ответ:

Памятники культуры России		Памятники культуры зарубежных стран	
<input type="text"/>	<input type="text"/>	<input type="text"/>	<input type="text"/>

Рассмотрите изображения памятников культуры и выполните задания 8, 9.




39. На каких двух изображениях представлены памятники культуры России, а на каких — памятники культуры зарубежных стран? Запишите в таблицу порядковые номера соответствующих изображений.

Ответ:

Памятники культуры России		Памятники культуры зарубежных стран	
<input type="text"/>	<input type="text"/>	<input type="text"/>	<input type="text"/>

Рассмотрите изображения памятников культуры и выполните задания 8, 9.




40. На каких двух изображениях представлены памятники культуры России, а на каких — памятники культуры зарубежных стран? Запишите в таблицу порядковые номера соответствующих изображений.

Ответ:

Памятники культуры России		Памятники культуры зарубежных стран	
<input type="text"/>	<input type="text"/>	<input type="text"/>	<input type="text"/>

Рассмотрите изображения памятников культуры и выполните задания 8, 9.



41. На каких двух изображениях представлены памятники культуры России, а на каких — памятники культуры зарубежных стран? Запишите в таблицу порядковые номера соответствующих изображений.

Ответ:

Памятники культуры России		Памятники культуры зарубежных стран	
<input type="text"/>	<input type="text"/>	<input type="text"/>	<input type="text"/>

Рассмотрите изображения памятников культуры и выполните задания 8, 9.



42. На каких двух изображениях представлены памятники культуры России, а на каких — памятники культуры зарубежных стран? Запишите в таблицу порядковые номера соответствующих изображений.

Ответ:

Памятники культуры России		Памятники культуры зарубежных стран	
<input type="text"/>	<input type="text"/>	<input type="text"/>	<input type="text"/>

Рассмотрите изображения памятников культуры и выполните задания 8, 9.

1)



2)



3)



4)



43. На каких двух изображениях представлены памятники культуры России, а на каких — памятники культуры зарубежных стран? Запишите в таблицу порядковые номера соответствующих изображений.

Ответ:

Памятники культуры России		Памятники культуры зарубежных стран	
<input type="text"/>	<input type="text"/>	<input type="text"/>	<input type="text"/>

Рассмотрите изображения памятников культуры и выполните задания 8, 9.



44. На каких двух изображениях представлены памятники культуры России, а на каких — памятники культуры зарубежных стран? Запишите в таблицу порядковые номера соответствующих изображений.

Ответ:

Памятники культуры России		Памятники культуры зарубежных стран	
<input type="text"/>	<input type="text"/>	<input type="text"/>	<input type="text"/>

Рассмотрите изображения памятников культуры и выполните задания 8, 9.




45. На каких двух изображениях представлены памятники культуры России, а на каких — памятники культуры зарубежных стран? Запишите в таблицу порядковые номера соответствующих изображений.

Ответ:

Памятники культуры России		Памятники культуры зарубежных стран	
<input type="text"/>	<input type="text"/>	<input type="text"/>	<input type="text"/>

Рассмотрите изображения памятников культуры и выполните задания 8, 9.




46. На каких двух изображениях представлены памятники культуры России, а на каких — памятники культуры зарубежных стран? Запишите в таблицу порядковые номера соответствующих изображений.

Ответ:

Памятники культуры России		Памятники культуры зарубежных стран	
<input type="text"/>	<input type="text"/>	<input type="text"/>	<input type="text"/>

Рассмотрите изображения памятников культуры и выполните задания 8, 9.



47. На каких двух изображениях представлены памятники культуры России, а на каких — памятники культуры зарубежных стран? Запишите в таблицу порядковые номера соответствующих изображений.

Ответ:

Памятники культуры России		Памятники культуры зарубежных стран	
<input type="text"/>	<input type="text"/>	<input type="text"/>	<input type="text"/>

Рассмотрите изображения памятников культуры и выполните задания 8, 9.




48. На каких двух изображениях представлены памятники культуры России, а на каких — памятники культуры зарубежных стран? Запишите в таблицу порядковые номера соответствующих изображений.

Ответ:

Памятники культуры России		Памятники культуры зарубежных стран	
<input type="text"/>	<input type="text"/>	<input type="text"/>	<input type="text"/>

Рассмотрите изображения памятников культуры и выполните задания 8, 9.



49. На каких двух изображениях представлены памятники культуры России, а на каких — памятники культуры зарубежных стран? Запишите в таблицу порядковые номера соответствующих изображений.

Ответ:

Памятники культуры России		Памятники культуры зарубежных стран	
<input type="text"/>	<input type="text"/>	<input type="text"/>	<input type="text"/>

Рассмотрите изображения памятников культуры и выполните задания 8, 9.

1)



2)



3)



4)



50. На каких двух изображениях представлены памятники культуры России, а на каких — памятники культуры зарубежных стран? Запишите в таблицу порядковые номера соответствующих изображений.

Ответ:

Памятники культуры России		Памятники культуры зарубежных стран	
<input type="text"/>	<input type="text"/>	<input type="text"/>	<input type="text"/>


1)



2)



3)



4)



51. На каких двух изображениях представлены памятники культуры России, а на каких — памятники культуры зарубежных стран? Запишите в таблицу порядковые номера соответствующих изображений.

Ответ:

Памятники культуры России		Памятники культуры зарубежных стран	
<input type="text"/>	<input type="text"/>	<input type="text"/>	<input type="text"/>

1)



2)



3)



4)

