

#### Задания 4.2. Вычисление времени в разных частях Земли

1. Настя живёт в Санкт-Петербурге. В Санкт-Петербурге 5 часов вечера. Что она делает в указанное Вами время? Используйте для ответа приведённый режим дня школьника.

Санкт-Петербург



Якутск



#### РЕЖИМ ДНЯ ШКОЛЬНИКА

7.00	Подъём
7.05 – 7.20	Утренняя зарядка
7.20 – 7.30	Гигиенические процедуры
7.30 – 8.00	Завтрак
8.00 – 8.15	Дорога в школу
8.30 – 13.10	Занятия в школе
13.10 – 13.30	Дорога домой
13.45 – 14.15	Обед
14.15 – 16.15	Занятия в кружках/секциях
16.30 – 16.45	Полдник
16.45 – 18.15	Выполнение домашних заданий
18.15 – 19.15	Прогулка на свежем воздухе
19.30 – 20.00	Ужин
20.00 – 21.30	Свободное время (чтение книг, просмотр телепередач, настольные игры)
21.30 – 22.00	Гигиенические процедуры и подготовка ко сну
22.00 – 7.00	Ночной сон

2. Таня живёт в Магадане. Что она делает в указанное Вами время? Используйте для ответа приведённый режим дня школьника.



В ответ запишите занятие из указанного списка.

Задания 4.2 и 4.3 используют в качестве источника информации условие задания 4.1. Используйте условие задания 4.1, чтобы решить текущее задание.

Условие задания 4.1: «Разница во времени между Самарой и Магаданом составляет +7 часов. На рисунке изображены показания часов в Самаре и Магадане в тот момент, когда в Самаре 8 часов утра.»

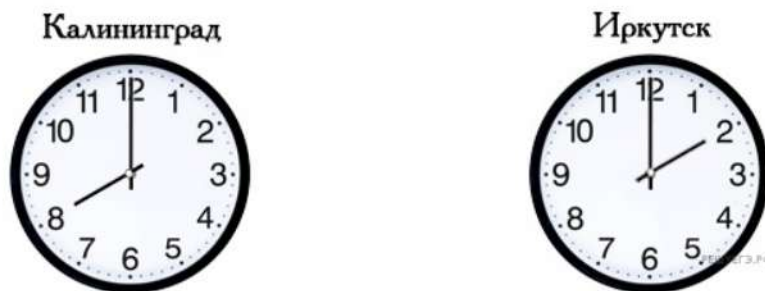
100balnik.com

#### РАСПОРЯДОК ДНЯ

07:00—07:05	Подъём
07:05—07:30	Умывание и уборка постели
07:30—08:00	Завтрак
08:00—08:20	Дорога в школу
08:20—12:30	Занятия
12:30—13:00	Дорога домой
13:00—13:30	Обед
13:30—14:30	Отдых или дневной сон
14:30—15:30	Прогулка или игры дома
15:30—17:00	Домашние занятия
17:00—17:30	Полдник
17:30—19:00	Кружок или компьютер
19:00—19:30	Ужин
19:30—20:30	Свободное время
20:30—21:00	Подготовку ко сну
21:00—07:00	Сон

РЕШЕГЭ.РФ

3. Настя живёт в Калининграде. Сейчас в Калининграде 8 часов утра. Что она делает в указанное время?



Используйте для ответа приведённый режим дня школьника.

В ответ запишите занятие из указанного списка.

Задания 4.2 и 4.3 используют в качестве источника информации условие задания 4.1. Используйте условие задания 4.1, чтобы решить текущее задание.

Условие задания 4.1: «Разница во времени между Калининградом и Иркутском составляет + 6 часов. На рисунке изображены показания часов в Калининграде и Иркутске в тот момент, когда в Калининграде 8 часов утра.»

#### РАСПОРЯДОК ДНЯ

07:00—07:05	Подъём
07:05—07:30	Умывание и уборка постели
07:30—08:00	Завтрак
08:00—08:20	Дорога в школу
08:20—12:30	Занятия
12:30—13:00	Дорога домой
13:00—13:30	Обед
13:30—14:30	Отдых или дневной сон
14:30—15:30	Прогулка или игры дома
15:30—17:00	Домашние занятия
17:00—17:30	Полдник
17:30—19:00	Кружок или компьютер
19:00—19:30	Ужин
19:30—20:30	Свободное время
20:30—21:00	Подготовку ко сну
21:00—07:00	Сон

4. Ира живёт в Санкт-Петербурге. Что она делает в указанное Вами время?

Санкт-Петербург



Владивосток



Используйте для ответа приведённый режим дня школьника.

В ответ запишите занятие из указанного списка.

Задания 4.2 и 4.3 используют в качестве источника информации условие задания 4.1. Используйте условие задания 4.1, чтобы решить текущее задание.

Условие задания 4.1: «Разница во времени между Санкт-Петербургом и Владивостоком составляет + 8 часов. На рисунке изображены показания часов в Санкт-Петербурге и Владивостоке в тот момент, когда в Санкт-Петербурге 10 часов утра.»

#### РАСПОРЯДОК ДНЯ

07:00—07:05	Подъём
07:05—07:30	Умывание и уборка постели
07:30—08:00	Завтрак
08:00—08:20	Дорога в школу
08:20—12:30	Занятия
12:30—13:00	Дорога домой
13:00—13:30	Обед
13:30—14:30	Отдых или дневной сон
14:30—15:30	Прогулка или игры дома
15:30—17:00	Домашние занятия
17:00—17:30	Полдник
17:30—19:00	Кружок или компьютер
19:00—19:30	Ужин
19:30—20:30	Свободное время
20:30—21:00	Подготовку ко сну
21:00—07:00	Сон

5. Света живёт в Москве. Что она делает в указанное Вами время?



Используйте для ответа приведённый режим дня школьника.  
В ответ запишите занятие из указанного списка.

Задания 4.2 и 4.3 используют в качестве источника информации условие задания 4.1. Используйте условие задания 4.1, чтобы решить текущее задание.

Условие задания 4.1: «Разница во времени между Москвой и Северо-Курильском составляет + 9 часов. На рисунке изображены показания часов в Москве и Северо-Курильске в тот момент, когда в Москве 10 часов утра.»

6. Илья живёт в Смоленске. Что он делает в указанное вами время?



Используйте для ответа приведённый режим дня школьника.  
В ответ запишите занятие из указанного списка.

Задания 4.2 и 4.3 используют в качестве источника информации условие задания 4.1. Используйте условие задания 4.1, чтобы решить текущее задание.

Условие задания 4.1: «Разница во времени между Смоленском и Хабаровском составляет + 7 часов. На рисунке изображены показания часов в Смоленске и Хабаровске в тот момент, когда в Смоленске 7 часов утра.»

7. Игорь живёт в Калининграде. Что он делает в указанное вами время?

Калининград



Якутск



Используйте для ответа приведённый режим дня школьника.

В ответ запишите занятие из указанного списка.

Задания 4.2 и 4.3 используют в качестве источника информации условие задания 4.1. Используйте условие задания 4.1, чтобы решить текущее задание.

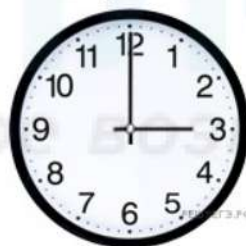
Условие задания 4.1: «Разница во времени между Калининградом и Якутском составляет + 7 часов. На рисунке изображены показания часов в Калининграде и Якутске в тот момент, когда в Калининграде 9 часов утра.»

8. Сергей живёт в Ярославле. Что он делает в указанное вами время?

Ярославль



Норильск



Используйте для ответа приведённый режим дня школьника.

В ответ запишите занятие из указанного списка.

Задания 4.2 и 4.3 используют в качестве источника информации условие задания 4.1. Используйте условие задания 4.1, чтобы решить текущее задание.

Условие задания 4.1: «Разница во времени между Ярославлем и Норильском составляет + 4 часа. На рисунке изображены показания часов в Ярославле и Норильске в тот момент, когда в Ярославле 11 часов утра.»

9. Юра живёт в Новгороде. Что он делает в указанное вами время?



Используйте для ответа приведённый режим дня школьника.  
В ответ запишите занятие из указанного списка.

Задания 4.2 и 4.3 используют в качестве источника информации условие задания 4.1. Используйте условие задания 4.1, чтобы решить текущее задание.

Условие задания 4.1: «Разница во времени между Новгородом и Анадырем составляет + 9 часов. На рисунке изображены показания часов в Новгороде и Анадыре в тот момент, когда в Новгороде 11 часов утра.»

10. Кирилл живёт в Симферополе. В Симферополе 11 часов утра. Что он делает в указанное время?



Используйте для ответа приведённый режим дня школьника.  
В ответ запишите занятие из указанного списка.

Задания 4.2 и 4.3 используют в качестве источника информации условие задания 4.1. Используйте условие задания 4.1, чтобы решить текущее задание.

Условие задания 4.1: «Разница во времени между Симферополем и Анадырем составляет + 9 часов. На рисунке изображены показания часов в Симферополе и Анадыре в тот момент, когда в Симферополе 11 часов утра.»

11. Илья живёт в Симферополе. Что он делает в указанное вами время?



Используйте для ответа приведённый режим дня школьника.  
В ответ запишите занятие из указанного списка.

Задания 4.2 и 4.3 используют в качестве источника информации условие задания 4.1. Используйте условие задания 4.1, чтобы решить текущее задание.

Условие задания 4.1: «Разница во времени между Симферополем и Хабаровском составляет +7 часов. На рисунке изображены показания часов в Симферополе и Хабаровске в тот момент, когда в Севастополе 7 часов утра.»

12. Таня живёт в Туле. Что она делает в указанное Вами время?



Используйте для ответа приведённый режим дня школьника.  
В ответ запишите занятие из указанного списка.

Задания 4.2 и 4.3 используют в качестве источника информации условие задания 4.1. Используйте условие задания 4.1, чтобы решить текущее задание.

Условие задания 4.1: «Разница во времени между Тулой и Магаданом составляет +7 часов. На рисунке изображены показания часов в Туле и Магадане в тот момент, когда в Туле 8 часов утра.»



13. Ира живёт в Калининграде. Сейчас в Калининграде 8 часов утра. Что она делает в указанное время?



Используйте для ответа приведённый режим дня школьника.  
В ответ запишите занятие из указанного списка.

Задания 4.2 и 4.3 используют в качестве источника информации условие задания 4.1. Используйте условие задания 4.1, чтобы решить текущее задание.

Условие задания 4.1: «Разница во времени между Калининградом и Братском составляет + 6 часов. На рисунке изображены показания часов в Калининграде и Братске в тот момент, когда в Калининграде 8 часов утра.»

14. Степан живёт в Брянске. Что он делает в указанное Вами время?



Используйте для ответа приведённый режим дня школьника.  
В ответ запишите занятие из указанного списка.

Задания 4.2 и 4.3 используют в качестве источника информации условие задания 4.1. Используйте условие задания 4.1, чтобы решить текущее задание.

Условие задания 4.1: «Разница во времени между Брянском и Владивостоком составляет + 8 часов. На рисунке изображены показания часов в Брянске и Владивостоке в тот момент, когда в Брянске 10 часов утра.»

15. Надя живёт в Курске. Что она делает в указанное Вами время?



**Петропавловск-Камчатский**



Используйте для ответа приведённый режим дня школьника.

В ответ запишите занятие из указанного списка.


Задания 4.2 и 4.3 используют в качестве источника информации условие задания 4.1. Используйте условие задания 4.1, чтобы решить текущее задание.

Условие задания 4.1: «Разница во времени между городом Курском и городом Петропавловском-Камчатским составляет + 9 часов. На рисунке изображены показания часов в Курске и Петропавловске-Камчатском в тот момент, когда в Курске 10 часов утра.»

16. Игорь живёт в Воронеже. Что он делает в указанное вами время?



**Хабаровск**



Используйте для ответа приведённый режим дня школьника.

В ответ запишите занятие из указанного списка.

Задания 4.2 и 4.3 используют в качестве источника информации условие задания 4.1. Используйте условие задания 4.1, чтобы решить текущее задание.

Условие задания 4.1: «Разница во времени между Воронежем и Хабаровском составляет + 7 часов. На рисунке изображены показания часов в Воронеже и Хабаровске в тот момент, когда в Воронеже 7 часов утра.»

17. Игорь живёт в Калининграде. Сейчас в Калининграде 9 часов утра. Что он делает в указанное время?



Используйте для ответа приведённый режим дня школьника.  
В ответ запишите занятие из указанного списка.

Задания 4.2 и 4.3 используют в качестве источника информации условие задания 4.1.  
Используйте условие задания 4.1, чтобы решить текущее задание.

Условие задания 4.1: «Разница во времени между Калининградом и Тикси составляет +7 часов. На рисунке изображены показания часов в Калининграде и Тикси в тот момент, когда в Калининграде 9 часов утра.»

18. Алексей живёт в Липецке. Что он делает в указанное вами время?



Используйте для ответа приведённый режим дня школьника.  
В ответ запишите занятие из указанного списка.

Задания 4.2 и 4.3 используют в качестве источника информации условие задания 4.1.  
Используйте условие задания 4.1, чтобы решить текущее задание.

Условие задания 4.1: «Разница во времени между Липецком и Хабаровском составляет + 7 часа. На рисунке изображены показания часов в Липецке и Хабаровске в тот момент, когда в Липецке 11 часов утра.»

19. Лариса живёт в Костроме. Что она делает в указанное вами время?



Используйте для ответа приведённый режим дня школьника.  
В ответ запишите занятие из указанного списка.

Задания 4.2 и 4.3 используют в качестве источника информации условие задания 4.1. Используйте условие задания 4.1, чтобы решить текущее задание.

Условие задания 4.1: «Разница во времени между Костромой и Анадырем составляет + 9 часов. На рисунке изображены показания часов в Костроме и Анадыре в тот момент, когда в Костроме 11 часов утра.»

20. Ярослав живёт в Калининграде. Что он делает в указанное вами время?



Используйте для ответа приведённый режим дня школьника.  
В ответ запишите занятие из указанного списка.

Задания 4.2 и 4.3 используют в качестве источника информации условие задания 4.1. Используйте условие задания 4.1, чтобы решить текущее задание.

Условие задания 4.1: «Разница во времени между Калининградом и Анадырем составляет + 10 часов. На рисунке изображены показания часов в Калининграде и Анадыре в тот момент, когда в Калининграде 11 часов утра.»

21. Катя живёт в Рязани. Что она делает в указанное вами время?



Используйте для ответа приведённый режим дня школьника.  
В ответ запишите занятие из указанного списка.

Задания 4.2 и 4.3 используют в качестве источника информации условие задания 4.1.  
Используйте условие задания 4.1, чтобы решить текущее задание.

Условие задания 4.1: «Разница во времени между Рязанью и Якутском составляет + 6 часов.  
На рисунке изображены показания часов в Рязани и Якутске в тот момент, когда в Рязани 8 часов утра.»

100balnik.com

100-БАЛЛОВ  
Делаем невозможное возможным

22. Наталья живёт в Твери. Что она делает в указанное Вами время?



Используйте для ответа приведённый режим дня школьника.  
В ответ запишите занятие из указанного списка.

Задания 4.2 и 4.3 используют в качестве источника информации условие задания 4.1.  
Используйте условие задания 4.1, чтобы решить текущее задание.


Условие задания 4.1: «Разница во времени между городами Тверью и Норильском составляет +4 часа. На рисунках представлены показания часов в этих городах в тот момент, когда в Твери 10 часов утра.»

100balnik.com

#### РАСПОРЯДОК ДНЯ

07:00 — 07:05	Подъём
07:05 — 07:25	Утренняя зарядка
07:25 — 07:35	Гигиенические процедуры
07:35 — 08:05	Завтрак
08:10 — 08:25	Дорога в школу
08:30 — 13:15	Уроки в школе
13:20 — 13:35	Дорога домой
13:45 — 14:15	Обед
14:15 — 16:15	Занятия в кружке/секции
16:30 — 16:45	Полдник
16:45 — 18:15	Выполнение домашних заданий
18:30 — 19:30	Прогулка
19:45 — 20:15	Ужин
20:15 — 21:45	Просмотр телепередач, чтение книг, настольные игры
21:45 — 22:15	Подготовка ко сну
22:15 — 07:00	Ночной сон

23. Инна живёт в Иркутске. Что она делает в указанное Вами время?



Используйте для ответа приведённый режим дня школьника.  
В ответ запишите занятие из указанного списка.

Задания 4.2 и 4.3 используют в качестве источника информации условие задания 4.1. Используйте условие задания 4.1, чтобы решить текущее задание.

Условие задания 4.1: «Разница во времени между городами Иркутском и Вологдой составляет  $-5$  часов. На рисунках представлены показания часов в этих городах в тот момент, когда в Иркутске 8 часов вечера.»

24. Денис живёт в Якутске. В Якутске 3 часа дня. Что он делает в указанное Вами время? Используйте для ответа приведённый режим дня школьника.



Используйте для ответа приведённый режим дня школьника.  
В ответ запишите занятие из указанного списка.

Задания 4.2 и 4.3 используют в качестве источника информации условие задания 4.1. Используйте условие задания 4.1, чтобы решить текущее задание.

Условие задания 4.1: «Разница во времени между городами Екатеринбург и Якутском составляет  $+4$  часа.»

На рисунках представлены показания часов в этих городах в тот момент, когда в Екатеринбурге 11 часов утра. Запишите под каждым рисунком, как отображается то же самое время на электронных часах в этих городах.»

25. Алина живёт в Улан-Удэ. Урок по какому предмету у Алины в школе в указанное Вами время? Используйте для ответа приведённое расписание уроков.



Используйте для ответа приведённый режим дня школьника.

В ответ запишите занятие из указанного списка.

Задания 4.2 и 4.3 используют в качестве источника информации условие задания 4.1. Используйте условие задания 4.1, чтобы решить текущее задание.

Условие задания 4.1: «Разница во времени между городами Улан-Удэ и Томском составляет –2 часа. На рисунках представлены показания часов в этих городах в тот момент, когда в Улан-Удэ 3 часа дня.»

РАСПИСАНИЕ УРОКОВ		
№ урока	Время	Предмет
1 смена		
1	8.30 – 9.15	Русский язык
2	9.25 – 10.10	География
3	10.30 – 11.15	Математика
4	11.35 – 12.20	Физкультура
5	12.30 – 13.15	Иностр. язык
6	13.30 – 14.10	
2 смена		
1	13.30 – 14.10	Русский язык
2	14.30 – 15.15	Биология
3	15.25 – 16.10	Математика
4	16.20 – 17.05	Литература
5	17.15 – 18.00	История



26. Виктория живёт в Калининграде. Что она делает в указанное Вами время? Используйте для ответа приведённый режим дня школьника.



Используйте для ответа приведённый режим дня школьника.

В ответ запишите занятие из указанного списка.

Задания 4.2 и 4.3 используют в качестве источника информации условие задания 4.1. Используйте условие задания 4.1, чтобы решить текущее задание.

Условие задания 4.1: «Разница во времени между городами Калининградом и Тюменью составляет +3 часа. На рисунках представлены показания часов в этих городах в тот момент, когда в Калининграде 2 часа дня.»

27. Вадим живёт в Чите. Что он делает в указанное Вами время? Используйте для ответа приведённый режим дня школьника.




Используйте для ответа приведённый режим дня школьника.

В ответ запишите занятие из указанного списка.

Задания 4.2 и 4.3 используют в качестве источника информации условие задания 4.1. Используйте условие задания 4.1, чтобы решить текущее задание.

Условие задания 4.1: «Разница во времени между городами Читой и Краснодаром составляет -5 часов. На рисунках представлены показания часов в этих городах в тот момент, когда в Чите 9 часов вечера.»

28. Светлана живёт в Ханты-Мансийске. Что она делает в указанное Вами время? Используйте для ответа приведённый режим дня школьника.



Используйте для ответа приведённый режим дня школьника.

В ответ запишите занятие из указанного списка.

Задания 4.2 и 4.3 используют в качестве источника информации условие задания 4.1. Используйте условие задания 4.1, чтобы решить текущее задание.

Условие задания 4.1: «Разница во времени между городами Смоленском и Ханты-Мансийском составляет +2 часа. На рисунках представлены показания часов в этих городах в тот момент, когда в Смоленске 8 часов вечера.»

29. Ирина живёт в Нижнем Новгороде. Урок по какому предмету у Ирины в школе в указанное Вами время? Используйте для ответа приведённое расписание уроков.



Используйте для ответа приведённый режим дня школьника.

В ответ запишите занятие из указанного списка.

Задания 4.2 и 4.3 используют в качестве источника информации условие задания 4.1. Используйте условие задания 4.1, чтобы решить текущее задание.

Условие задания 4.1: «Разница во времени между городами Нижним Новгородом и Иркутском составляет +5 часов. На рисунках представлены показания часов в этих городах в тот момент, когда в Нижнем Новгороде полдень.»

30. Иван живёт в Красноярске. Что он делает в указанное Вами время? Используйте для ответа приведённый режим дня школьника.



Используйте для ответа приведённый режим дня школьника.

В ответ запишите занятие из указанного списка.

Задания 4.2 и 4.3 используют в качестве источника информации условие задания 4.1. Используйте условие задания 4.1, чтобы решить текущее задание.

Условие задания 4.1: «Разница во времени между городами Саратовом и Красноярском составляет +4 часа. На рисунках представлены показания часов в этих городах в тот момент, когда в Саратове 3 часа дня.»

31. Анна живёт в Оренбурге. Урок по какому предмету у Анны в школе в указанное Вами время? Используйте для ответа приведённое расписание уроков.



Используйте для ответа приведённый режим дня школьника.

В ответ запишите занятие из указанного списка.

Задания 4.2 и 4.3 используют в качестве источника информации условие задания 4.1. Используйте условие задания 4.1, чтобы решить текущее задание.

Условие задания 4.1: «Разница во времени между городами Оренбургом и Калининградом составляет -3 часа. На рисунках представлены показания часов в этих городах в тот момент, когда в Оренбурге 4 часа дня.»

32. Елена живёт в Мурманске. Что она делает в указанное Вами время? Используйте для ответа приведённый режим дня школьника.



Используйте для ответа приведённый режим дня школьника.

<b>РЕЖИМ ДНЯ ШКОЛЬНИКА</b>	
7.00	Подъём
7.05 – 7.25	Утренняя зарядка
7.25 – 7.35	Гигиенические процедуры
7.35 – 8.05	Завтрак
8.10 – 8.25	Дорога в школу
8.30 – 13.15	Уроки в школе
13.20 – 13.35	Дорога домой
13.45 – 14.15	Обед
14.15 – 16.15	Занятия в кружке/секции
16.30 – 16.45	Полдник
16.45 – 18.15	Выполнение домашних заданий
18.30 – 19.30	Прогулка
19.45 – 20.15	Ужин
20.15 – 21.45	Просмотр телепередач, чтение книг, настольные игры
21.45 – 22.15	Подготовка ко сну
22.15 – 7.00	Ночной сон

В ответ запишите занятие из указанного списка.

Задания 4.2 и 4.3 используют в качестве источника информации условие задания 4.1. Используйте условие задания 4.1, чтобы решить текущее задание.

Условие задания 4.1: «Разница во времени между городами Мурманском и Астраханью составляет +1 час. На рисунках представлены показания часов в этих городах в тот момент, когда в Мурманске 8 часов вечера.»

33. Анастасия живёт в Воронеже. Что она делает в указанное Вами время?

ВОРОНЕЖ



ПЕТРОПАВЛОВСК-КАМЧАТСКИЙ



Используйте для ответа приведённый режим дня школьника.

РЕЖИМ ДНЯ ШКОЛЬНИКА	
7.00	Подъём
7.05 – 7.25	Утренняя зарядка
7.25 – 7.35	Гигиенические процедуры
7.35 – 8.05	Завтрак
8.10 – 8.25	Дорога в школу
8.30 – 13.15	Уроки в школе
13.20 – 13.35	Дорога домой
13.45 – 14.15	Обед
14.15 – 16.15	Занятия в кружке/секции
16.30 – 16.45	Полдник
16.45 – 18.15	Выполнение домашних заданий
18.30 – 19.30	Прогулка
19.45 – 20.15	Ужин
20.15 – 21.45	Просмотр телепередач, чтение книг, настольные игры
21.45 – 22.15	Подготовка ко сну
22.15 – 7.00	Ночной сон

В ответ запишите занятие из указанного списка.

Задания 4.2 и 4.3 используют в качестве источника информации условие задания 4.1. Используйте условие задания 4.1, чтобы решить текущее задание.

Условие задания 4.1: «Разница во времени между городами Воронежем и Петропавловском-Камчатским составляет +9 часов. На рисунках представлены показания часов в этих городах в тот момент, когда в Воронеже 11 часов утра.»

34. Максим живёт в Калининграде. Что он делает в указанное Вами время?



Используйте для ответа приведённый режим дня школьника.

РЕЖИМ ДНЯ ШКОЛЬНИКА	
7.00	Подъём
7.05 – 7.25	Утренняя зарядка
7.25 – 7.35	Гигиенические процедуры
7.35 – 8.05	Завтрак
8.10 – 8.25	Дорога в школу
8.30 – 13.15	Уроки в школе
13.20 – 13.35	Дорога домой
13.45 – 14.15	Обед
14.15 – 16.15	Занятия в кружке/секции
16.30 – 16.45	Полдник
16.45 – 18.15	Выполнение домашних заданий
18.30 – 19.30	Прогулка
19.45 – 20.15	Ужин
20.15 – 21.45	Просмотр телепередач, чтение книг, настольные игры
21.45 – 22.15	Подготовка ко сну
22.15 – 7.00	Ночной сон

В ответ запишите занятие из указанного списка.

Задания 4.2 и 4.3 используют в качестве источника информации условие задания 4.1. Используйте условие задания 4.1, чтобы решить текущее задание.

Условие задания 4.1: «Разница во времени между городами Магаданом и Калининградом составляет –8 часов. На рисунках представлены показания часов в этих городах в тот момент, когда в Магадане 10 часов вечера.»

35. Татьяна живёт в Ижевске. Урок по какому предмету у Татьяны в указанное Вами время?



Используйте для ответа приведённое расписание уроков.

РАСПИСАНИЕ УРОКОВ		
№ урока	Время	Предмет
1 смена		
1	8.30 – 9.15	Русский язык
2	9.25 – 10.10	География
3	10.30 – 11.15	Математика
4	11.35 – 12.20	Физкультура
5	12.30 – 13.15	Иностр. язык
6	13.30 – 14.10	
2 смена		
1	13.30 – 14.10	Русский язык
2	14.30 – 15.15	Биология
3	15.25 – 16.10	Математика
4	16.20 – 17.05	Литература
5	17.15 – 18.00	История

В ответ запишите занятие из указанного списка.

Задания 4.2 и 4.3 используют в качестве источника информации условие задания 4.1. Используйте условие задания 4.1, чтобы решить текущее задание.

Условие задания 4.1: «Разница во времени между городами Ижевском и Благовещенском составляет +5 часов. На рисунках представлены показания часов в этих городах в тот момент, когда в Ижевске полдень.»

36. Мария живёт в Барнауле. Что она делает в указанное Вами время?



Используйте для ответа приведённый режим дня школьника.

РЕЖИМ ДНЯ ШКОЛЬНИКА	
7.00	Подъём
7.05 – 7.25	Утренняя зарядка
7.25 – 7.35	Гигиенические процедуры
7.35 – 8.05	Завтрак
8.10 – 8.25	Дорога в школу
8.30 – 13.15	Уроки в школе
13.20 – 13.35	Дорога домой
13.45 – 14.15	Обед
14.15 – 16.15	Занятия в кружке/секции
16.30 – 16.45	Полдник
16.45 – 18.15	Выполнение домашних заданий
18.30 – 19.30	Прогулка
19.45 – 20.15	Ужин
20.15 – 21.45	Просмотр телепередач, чтение книг, настольные игры
21.45 – 22.15	Подготовка ко сну
22.15 – 7.00	Ночной сон

В ответ запишите занятие из указанного списка.

Задания 4.2 и 4.3 используют в качестве источника информации условие задания 4.1. Используйте условие задания 4.1, чтобы решить текущее задание.

Условие задания 4.1: «Разница во времени между городами Барнаулом и Волгоградом составляет  $-3$  часа. На рисунках представлены показания часов в этих городах в тот момент, когда в Барнауле 8 часов вечера.»



37. Денис живёт в Братске. Что он делает в указанное Вами время?



Используйте для ответа приведённый режим дня школьника.

РЕЖИМ ДНЯ ШКОЛЬНИКА	
7.00	Подъём
7.05 – 7.20	Утренняя зарядка
7.20 – 7.30	Гигиенические процедуры
7.30 – 8.00	Завтрак
8.00 – 8.15	Дорога в школу
8.30 – 13.10	Уроки в школе
13.10 – 13.30	Дорога домой
13.45 – 14.15	Обед
14.15 – 16.15	Занятия в кружках/секциях
16.30 – 16.45	Полдник
16.45 – 18.15	Выполнение домашних заданий
18.15 – 19.15	Прогулка на свежем воздухе
19.30 – 20.00	Ужин
20.00 – 21.30	Свободное время (чтение книг, просмотр телепередач, настольные игры)
21.30 – 22.00	Гигиенические процедуры и подготовка ко сну
22.00 – 7.00	Ночной сон

В ответ запишите занятие из указанного списка.

Задания 4.2 и 4.3 используют в качестве источника информации условие задания 4.1. Используйте условие задания 4.1, чтобы решить текущее задание.

Условие задания 4.1: «Разница во времени между городами Братском и Липецком составляет –5 часов. На рисунках представлены показания часов в этих городах в тот момент, когда в Братске 7 часов вечера.»

38. Ирина живёт в Самаре. Что она делает в указанное Вами время?



Используйте для ответа приведённый режим дня школьника.

РЕЖИМ ДНЯ ШКОЛЬНИКА	
7.00	Подъём
7.05 – 7.20	Утренняя зарядка
7.20 – 7.30	Гигиенические процедуры
7.30 – 8.00	Завтрак
8.00 – 8.15	Дорога в школу
8.30 – 13.10	Уроки в школе
13.10 – 13.30	Дорога домой
13.45 – 14.15	Обед
14.15 – 16.15	Занятия в кружках/секциях
16.30 – 16.45	Полдник
16.45 – 18.15	Выполнение домашних заданий
18.15 – 19.15	Прогулка на свежем воздухе
19.30 – 20.00	Ужин
20.00 – 21.30	Свободное время (чтение книг, просмотр телепередач, настольные игры)
21.30 – 22.00	Гигиенические процедуры и подготовка ко сну
22.00 – 7.00	Ночной сон

В ответ запишите занятие из указанного списка.

Задания 4.2 и 4.3 используют в качестве источника информации условие задания 4.1. Используйте условие задания 4.1, чтобы решить текущее задание.

Условие задания 4.1: «Разница во времени между городами Самарой и Находкой составляет +6 часов. На рисунках представлены показания часов в этих городах в тот момент, когда в Самаре 11 часов утра.»

39. Светлана живёт в Ростове-на-Дону. Урок по какому предмету у Светланы в школе в указанное Вами время?

РОСТОВ-НА-ДОНУ



НОВОСИБИРСК



Используйте для ответа приведённое расписание уроков.

РАСПИСАНИЕ УРОКОВ		
№ урока	Время	Предмет
1 смена		
1	8.30 – 9.15	Русский язык
2	9.25 – 10.10	География
3	10.30 – 11.15	Математика
4	11.35 – 12.20	Физкультура
5	12.30 – 13.15	Иностр. язык
6	13.30 – 14.10	
2 смена		
1	13.30 – 14.10	Русский язык
2	14.30 – 15.15	Биология
3	15.25 – 16.10	Математика
4	16.20 – 17.05	Литература
5	17.15 – 18.00	История

В ответ запишите занятие из указанного списка.

Задания 4.2 и 4.3 используют в качестве источника информации условие задания 4.1. Используйте условие задания 4.1, чтобы решить текущее задание.

Условие задания 4.1: «Разница во времени между городами Ростовом-на-Дону и Новосибирском составляет +4 часа. На рисунках представлены показания часов в этих городах в тот момент, когда в Ростове-на-Дону час дня.»

40. Денис живёт в Якутске. Что он делает в указанное Вами время?



Используйте для ответа приведённый режим дня школьника.

РЕЖИМ ДНЯ ШКОЛЬНИКА	
7.00	Подъём
7.05 – 7.25	Утренняя зарядка
7.25 – 7.35	Гигиенические процедуры
7.35 – 8.05	Завтрак
8.10 – 8.25	Дорога в школу
8.30 – 13.15	Уроки в школе
13.20 – 13.35	Дорога домой
13.45 – 14.15	Обед
14.15 – 16.15	Занятия в кружке/секции
16.30 – 16.45	Полдник
16.45 – 18.15	Выполнение домашних заданий
18.30 – 19.30	Прогулка
19.45 – 20.15	Ужин
20.15 – 21.45	Просмотр телепередач, чтение книг, настольные игры
21.45 – 22.15	Подготовка ко сну
22.15 – 7.00	Ночной сон

В ответ запишите занятие из указанного списка.

Задания 4.2 и 4.3 используют в качестве источника информации условие задания 4.1. Используйте условие задания 4.1, чтобы решить текущее задание.

Условие задания 4.1: «Разница во времени между городами Екатеринбург и Якутском составляет +4 часа. На рисунках представлены показания часов в этих городах в тот момент, когда в Екатеринбурге 11 часов утра.»

41. Нина живёт в Сургуте. Что она делает в указанное Вами время?



Используйте для ответа приведённый режим дня школьника.

РЕЖИМ ДНЯ ШКОЛЬНИКА	
7.00	Подъём
7.05 – 7.20	Утренняя зарядка
7.20 – 7.30	Гигиенические процедуры
7.30 – 8.00	Завтрак
8.00 – 8.15	Дорога в школу
8.30 – 13.10	Уроки в школе
13.10 – 13.30	Дорога домой
13.45 – 14.15	Обед
14.15 – 16.15	Занятия в кружках/секциях
16.30 – 16.45	Полдник
16.45 – 18.15	Выполнение домашних заданий
18.15 – 19.15	Прогулка на свежем воздухе
19.30 – 20.00	Ужин
20.00 – 21.30	Свободное время (чтение книг, просмотр телепередач, настольные игры)
21.30 – 22.00	Гигиенические процедуры и подготовка ко сну
22.00 – 7.00	Ночной сон

В ответ запишите занятие из указанного списка.

Задания 4.2 и 4.3 используют в качестве источника информации условие задания 4.1. Используйте условие задания 4.1, чтобы решить текущее задание.

Условие задания 4.1: «Разница во времени между городами Сургутом и Санкт-Петербургом составляет –2 часа. На рисунках представлены показания часов в этих городах в тот момент, когда в Сургуте 6 часов вечера.»

42. Артём живёт в Курске. Что он делает в указанное Вами время?



Используйте для ответа приведённый режим дня школьника.

РЕЖИМ ДНЯ ШКОЛЬНИКА	
7.00	Подъём
7.05 – 7.20	Утренняя зарядка
7.20 – 7.30	Гигиенические процедуры
7.30 – 8.00	Завтрак
8.00 – 8.15	Дорога в школу
8.30 – 13.10	Уроки в школе
13.10 – 13.30	Дорога домой
13.45 – 14.15	Обед
14.15 – 16.15	Занятия в кружках/секциях
16.30 – 16.45	Полдник
16.45 – 18.15	Выполнение домашних заданий
18.15 – 19.15	Прогулка на свежем воздухе
19.30 – 20.00	Ужин
20.00 – 21.30	Свободное время (чтение книг, просмотр телепередач, настольные игры)
21.30 – 22.00	Гигиенические процедуры и подготовка ко сну
22.00 – 7.00	Ночной сон

В ответ запишите занятие из указанного списка.

Задания 4.2 и 4.3 используют в качестве источника информации условие задания 4.1. Используйте условие задания 4.1, чтобы решить текущее задание.

Условие задания 4.1: «Разница во времени между городами Курском и Ангарском составляет +5 часов. На рисунках представлены показания часов в этих городах в тот момент, когда в Курске 10 часов утра.»

43. Анна живёт в Уфе. Урок по какому предмету у Анны в школе в указанное Вами время?



Используйте для ответа приведённое расписание уроков.

РАСПИСАНИЕ УРОКОВ		
№ урока	Время	Предмет
1 смена		
1	8.30 – 9.15	Русский язык
2	9.25 – 10.10	География
3	10.30 – 11.15	Математика
4	11.35 – 12.20	Физкультура
5	12.30 – 13.15	Иностр. язык
6	13.30 – 14.10	
2 смена		
1	13.30 – 14.10	Русский язык
2	14.30 – 15.15	Биология
3	15.25 – 16.10	Математика
4	16.20 – 17.05	Литература
5	17.15 – 18.00	История

В ответ запишите занятие из указанного списка.

Задания 4.2 и 4.3 используют в качестве источника информации условие задания 4.1. Используйте условие задания 4.1, чтобы решить текущее задание.

Условие задания 4.1: «Разница во времени между городами Уфой и Казанью составляет –1 час. На рисунках представлены показания часов в этих городах в тот момент, когда в Уфе полдень.»

44. Анна живёт в Челябинске. Что она делает в указанное Вами время?



Используйте для ответа приведённый режим дня школьника.

РЕЖИМ ДНЯ ШКОЛЬНИКА	
7.00	Подъём
7.05 – 7.25	Утренняя зарядка
7.25 – 7.35	Гигиенические процедуры
7.35 – 8.05	Завтрак
8.10 – 8.25	Дорога в школу
8.30 – 13.15	Уроки в школе
13.20 – 13.35	Дорога домой
13.45 – 14.15	Обед
14.15 – 16.15	Занятия в кружке/секции
16.30 – 16.45	Полдник
16.45 – 18.15	Выполнение домашних заданий
18.30 – 19.30	Прогулка
19.45 – 20.15	Ужин
20.15 – 21.45	Просмотр телепередач, чтение книг, настольные игры
21.45 – 22.15	Подготовка ко сну
22.15 – 7.00	Ночной сон

В ответ запишите занятие из указанного списка.

Задания 4.2 и 4.3 используют в качестве источника информации условие задания 4.1. Используйте условие задания 4.1, чтобы решить текущее задание.

Условие задания 4.1: «Разница во времени между городами Челябинском и Хабаровском составляет +5 часов. На рисунках представлены показания часов в этих городах в тот момент, когда в Челябинске 6 часов вечера.»



45. Михаил живёт в Томске. Что он делает в указанное Вами время?



Используйте для ответа приведённый режим дня школьника.

РЕЖИМ ДНЯ ШКОЛЬНИКА	
7.00	Подъём
7.05 – 7.20	Утренняя зарядка
7.20 – 7.30	Гигиенические процедуры
7.30 – 8.00	Завтрак
8.00 – 8.15	Дорога в школу
8.30 – 13.10	Уроки в школе
13.10 – 13.30	Дорога домой
13.45 – 14.15	Обед
14.15 – 16.15	Занятия в кружках/секциях
16.30 – 16.45	Полдник
16.45 – 18.15	Выполнение домашних заданий
18.15 – 19.15	Прогулка на свежем воздухе
19.30 – 20.00	Ужин
20.00 – 21.30	Свободное время (чтение книг, просмотр телепередач, настольные игры)
21.30 – 22.00	Гигиенические процедуры и подготовка ко сну
22.00 – 7.00	Ночной сон

В ответ запишите занятие из указанного списка.

Задания 4.2 и 4.3 используют в качестве источника информации условие задания 4.1. Используйте условие задания 4.1, чтобы решить текущее задание.

Условие задания 4.1: «Разница во времени между городами Томском и Сочи составляет –4 часа. На рисунках представлены показания часов в этих городах в тот момент, когда в Томске 2 часа дня.»

46. Наталья живёт в Твери. Что она делает в указанное Вами время?



Используйте для ответа приведённый режим дня школьника.

РЕЖИМ ДНЯ ШКОЛЬНИКА	
7.00	Подъём
7.05 – 7.25	Утренняя зарядка
7.25 – 7.35	Гигиенические процедуры
7.35 – 8.05	Завтрак
8.10 – 8.25	Дорога в школу
8.30 – 13.15	Уроки в школе
13.20 – 13.35	Дорога домой
13.45 – 14.15	Обед
14.15 – 16.15	Занятия в кружке/секции
16.30 – 16.45	Полдник
16.45 – 18.15	Выполнение домашних заданий
18.30 – 19.30	Прогулка
19.45 – 20.15	Ужин
20.15 – 21.45	Просмотр телепередач, чтение книг, настольные игры
21.45 – 22.15	Подготовка ко сну
22.15 – 7.00	Ночной сон

В ответ запишите занятие из указанного списка.

Задания 4.2 и 4.3 используют в качестве источника информации условие задания 4.1. Используйте условие задания 4.1, чтобы решить текущее задание.

Условие задания 4.1: «Разница во времени между городами Тверью и Норильском составляет +4 часа. На рисунках представлены показания часов в этих городах в тот момент, когда в Твери 10 часов утра.»

47. Анна живёт в Махачкале. Урок по какому предмету у Анны в школе в указанное Вами время?



Используйте для ответа приведённое расписание уроков.


РАСПИСАНИЕ УРОКОВ		
№ урока	Время	Предмет
1 смена		
1	8.30 – 9.15	Русский язык
2	9.25 – 10.10	География
3	10.30 – 11.15	Математика
4	11.35 – 12.20	Физкультура
5	12.30 – 13.15	Иностр. язык
6	13.30 – 14.10	
2 смена		
1	13.30 – 14.10	Русский язык
2	14.30 – 15.15	Биология
3	15.25 – 16.10	Математика
4	16.20 – 17.05	Литература
5	17.15 – 18.00	История

В ответ запишите занятие из указанного списка.

Задания 4.2 и 4.3 используют в качестве источника информации условие задания 4.1. Используйте условие задания 4.1, чтобы решить текущее задание.

Условие задания 4.1: «Разница во времени между городами Махачкалой и Омском составляет +3 часа. На рисунках представлены показания часов в этих городах в тот момент, когда в Махачкале 9 часов утра.»

48. Марина живёт в Саранске. Что она делает в указанное Вами время?



Используйте для ответа приведённый режим дня школьника.



РЕЖИМ ДНЯ ШКОЛЬНИКА	
7.00	Подъём
7.05 – 7.25	Утренняя зарядка
7.25 – 7.35	Гигиенические процедуры
7.35 – 8.05	Завтрак
8.10 – 8.25	Дорога в школу
8.30 – 13.15	Уроки в школе
13.20 – 13.35	Дорога домой
13.45 – 14.15	Обед
14.15 – 16.15	Занятия в кружке/секции
16.30 – 16.45	Полдник
16.45 – 18.15	Выполнение домашних заданий
18.30 – 19.30	Прогулка
19.45 – 20.15	Ужин
20.15 – 21.45	Просмотр телепередач, чтение книг, настольные игры
21.45 – 22.15	Подготовка ко сну
22.15 – 7.00	Ночной сон

В ответ запишите занятие из указанного списка.

Задания 4.2 и 4.3 используют в качестве источника информации условие задания 4.1. Используйте условие задания 4.1, чтобы решить текущее задание.

Условие задания 4.1: «Разница во времени между городами Саранском и Южно-Сахалинском составляет +8 часов. На рисунках представлены показания часов в этих городах в тот момент, когда в Саранске полдень.»

49. Андрей живёт в Анадыре. Что он делает в указанное Вами время?



Используйте для ответа приведённый режим дня школьника.

РЕЖИМ ДНЯ ШКОЛЬНИКА	
7.00	Подъём
7.05 – 7.25	Утренняя зарядка
7.25 – 7.35	Гигиенические процедуры
7.35 – 8.05	Завтрак
8.10 – 8.25	Дорога в школу
8.30 – 13.15	Уроки в школе
13.20 – 13.35	Дорога домой
13.45 – 14.15	Обед
14.15 – 16.15	Занятия в кружке/секции
16.30 – 16.45	Полдник
16.45 – 18.15	Выполнение домашних заданий
18.30 – 19.30	Прогулка
19.45 – 20.15	Ужин
20.15 – 21.45	Просмотр телепередач, чтение книг, настольные игры
21.45 – 22.15	Подготовка ко сну
22.15 – 7.00	Ночной сон

В ответ запишите занятие из указанного списка.

Задания 4.2 и 4.3 используют в качестве источника информации условие задания 4.1. Используйте условие задания 4.1, чтобы решить текущее задание.

Условие задания 4.1: «Разница во времени между городами Анадырем и Новокузнецком составляет –5 часов. На рисунках представлены показания часов в этих городах в тот момент, когда в Анадыре 10 часов вечера.»

50. Иван живёт в Красноярске. Что он делает в указанное Вами время?



Используйте для ответа приведённый режим дня школьника.

РЕЖИМ ДНЯ ШКОЛЬНИКА	
7.00	Подъём
7.05 – 7.25	Утренняя зарядка
7.25 – 7.35	Гигиенические процедуры
7.35 – 8.05	Завтрак
8.10 – 8.25	Дорога в школу
8.30 – 13.15	Уроки в школе
13.20 – 13.35	Дорога домой
13.45 – 14.15	Обед
14.15 – 16.15	Занятия в кружке/секции
16.30 – 16.45	Полдник
16.45 – 18.15	Выполнение домашних заданий
18.30 – 19.30	Прогулка
19.45 – 20.15	Ужин
20.15 – 21.45	Просмотр телепередач, чтение книг, настольные игры
21.45 – 22.15	Подготовка ко сну
22.15 – 7.00	Ночной сон

В ответ запишите занятие из указанного списка.

Задания 4.2 и 4.3 используют в качестве источника информации условие задания 4.1. Используйте условие задания 4.1, чтобы решить текущее задание.

Условие задания 4.1: «Разница во времени между городами Саратовом и Красноярском составляет +4 часа. На рисунках представлены показания часов в этих городах в тот момент, когда в Саратове 3 часа дня.»

51. Ирина живёт в Нижнем Новгороде. Урок по какому предмету у Ирины в школе в указанное Вами время?

НИЖНИЙ НОВГОРОД



ИРКУТСК



Используйте для ответа приведённое расписание уроков.

РАСПИСАНИЕ УРОКОВ		
№ урока	Время	Предмет
1 смена		
1	8.30 – 9.15	Русский язык
2	9.25 – 10.10	География
3	10.30 – 11.15	Математика
4	11.35 – 12.20	Физкультура
5	12.30 – 13.15	Иностр. язык
6	13.30 – 14.10	
2 смена		
1	13.30 – 14.10	Русский язык
2	14.30 – 15.15	Биология
3	15.25 – 16.10	Математика
4	16.20 – 17.05	Литература
5	17.15 – 18.00	История

В ответ запишите занятие из указанного списка.

Задания 4.2 и 4.3 используют в качестве источника информации условие задания 4.1. Используйте условие задания 4.1, чтобы решить текущее задание.

Условие задания 4.1: «Разница во времени между городами Нижним Новгородом и Иркутском составляет +5 часов. На рисунках представлены показания часов в этих городах в тот момент, когда в Нижнем Новгороде полдень.»

52. Татьяна живёт в городе Москве. Что она делает в указанное Вами время?  
Используйте для ответа приведённый режим дня школьника.

**МОСКВА**



**ЧИТА**



Используйте для ответа приведённое расписание уроков.

<b>РЕЖИМ ДНЯ ШКОЛЬНИКА</b>	
7.00	Подъём
7.05 – 7.20	Утренняя зарядка
7.20 – 7.30	Гигиенические процедуры
7.30 – 8.00	Завтрак
8.00 – 8.15	Дорога в школу
8.30 – 13.10	Занятия в школе
13.10 – 13.30	Дорога домой
13.45 – 14.15	Обед
14.15 – 16.15	Занятия в кружках/секциях
16.30 – 16.45	Полдник
16.45 – 18.15	Выполнение домашних заданий
18.15 – 19.15	Прогулка на свежем воздухе
19.30 – 20.00	Ужин
20.00 – 21.30	Свободное время (чтение книг, просмотр телепередач, настольные игры)
21.30 – 22.00	Гигиенические процедуры и подготовка ко сну
22.00 – 7.00	Ночной сон

В ответ запишите занятие из указанного списка.

Задания 4.2 и 4.3 используют в качестве источника информации условие задания 4.1.  
Используйте условие задания 4.1, чтобы решить текущее задание.



53. Иван живёт в городе Новосибирске. Что он делает в указанное Вами время? Используйте для ответа приведённый режим дня школьника.

**НОВОСИБИРСК**



**СОЧИ**



<b>РЕЖИМ ДНЯ ШКОЛЬНИКА</b>	
<b>7.00</b>	<i>Подъём</i>
<b>7.05 – 7.20</b>	<i>Утренняя зарядка</i>
<b>7.20 – 7.30</b>	<i>Гигиенические процедуры</i>
<b>7.30 – 8.00</b>	<i>Завтрак</i>
<b>8.00 – 8.15</b>	<i>Дорога в школу</i>
<b>8.30 – 13.10</b>	<i>Занятия в школе</i>
<b>13.10 – 13.30</b>	<i>Дорога домой</i>
<b>13.45 – 14.15</b>	<i>Обед</i>
<b>14.15 – 16.15</b>	<i>Занятия в кружках/секциях</i>
<b>16.30 – 16.45</b>	<i>Полдник</i>
<b>16.45 – 18.15</b>	<i>Выполнение домашних заданий</i>
<b>18.15 – 19.15</b>	<i>Прогулка на свежем воздухе</i>
<b>19.30 – 20.00</b>	<i>Ужин</i>
<b>20.00 – 21.30</b>	<i>Свободное время (чтение книг, просмотр телепередач, настольные игры)</i>
<b>21.30 – 22.00</b>	<i>Гигиенические процедуры и подготовка ко сну</i>
<b>22.00 – 7.00</b>	<i>Ночной сон</i>

*В ответ запишите занятие из указанного списка.*

*Задания 4.2 и 4.3 используют в качестве источника информации условие задания 4.1. Используйте условие задания 4.1, чтобы решить текущее задание.*