

## Задания 1.2. Проверка знаний о великих открытиях

1. С каким из названных Вами материков связаны открытия путешественников и исследователей, изображённых на портретах? Укажите название материка.

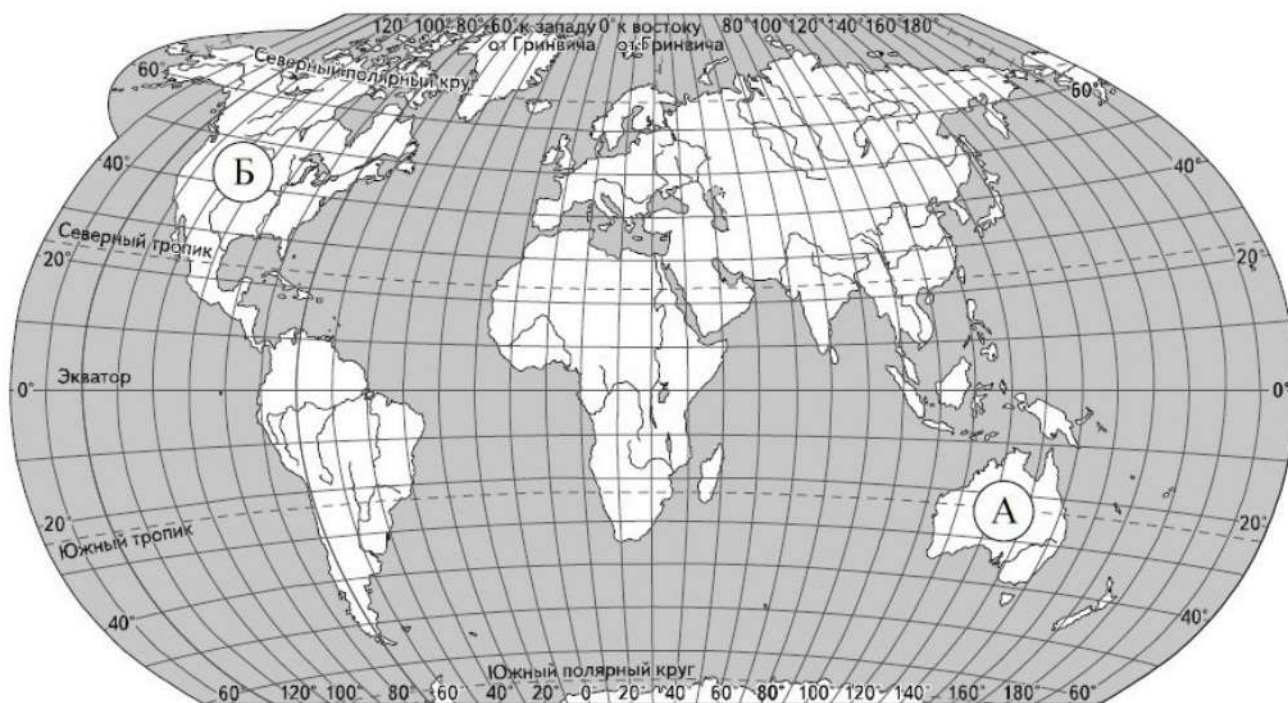


*А. Тасман*



*Н.Н. Миклухо-Маклай*

Подпишите на карте океаны, омывающие берега указанного выше материка.



2. С каким из этих двух материков связаны открытия, совершенные путешественниками и исследователями, изображёнными ниже? Укажите название материка.

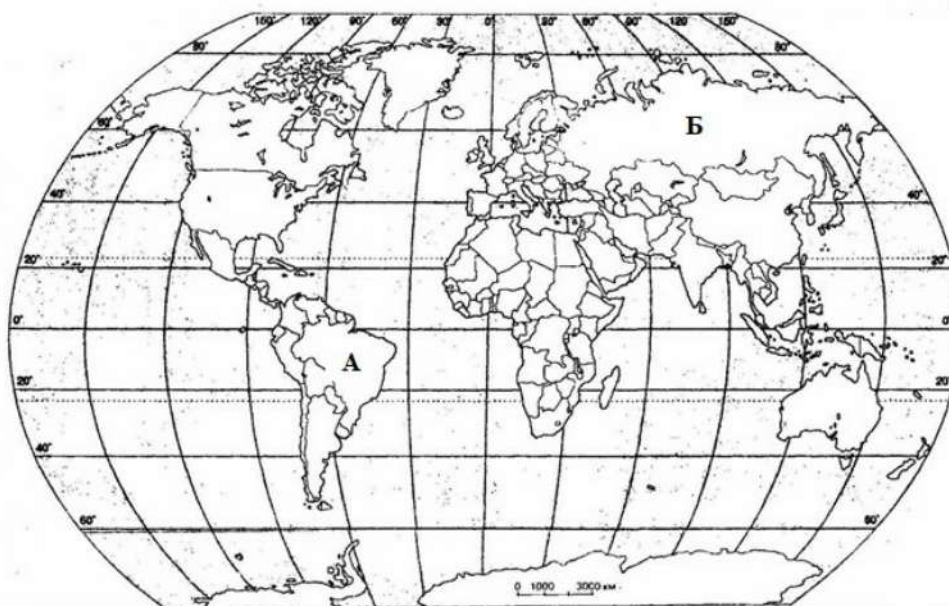


Афанасий Никитин



Н.М. Пржевальский

Подпишите на карте названия океанов, которые омывают берега материка, названного вами.



3. С каким из этих двух материков связаны открытия, совершенные путешественниками и исследователями, изображёнными ниже? Укажите название материка.

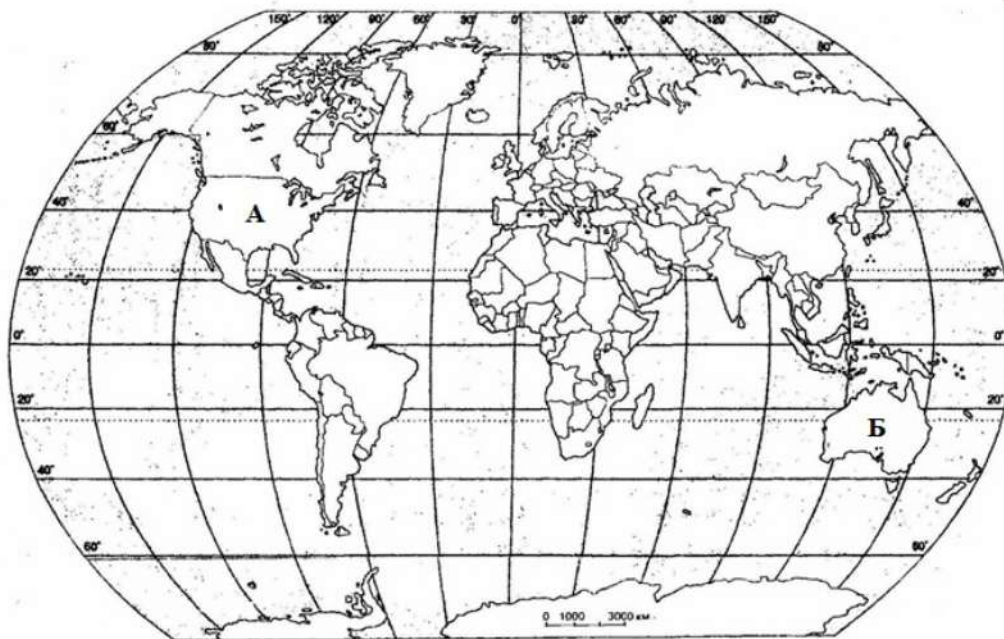


Абель Тасман



Джеймс Кук

Подпишите на карте названия океанов, которые омывают берега материка, названного вами.





4. С каким из этих двух материков связаны открытия, совершенные путешественниками и исследователями, изображёнными ниже? Укажите название материка.

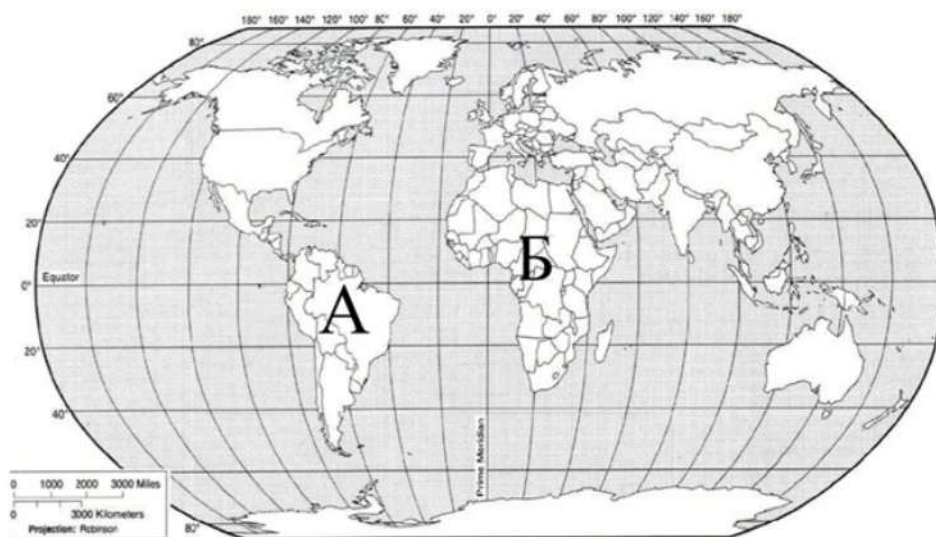


Давид Ливингстон



Джон Спик

Подпишите на карте названия океанов, которые омывают берега материка, названного вами.



5. С каким из этих двух материков связаны открытия, совершенные путешественниками и исследователями, изображёнными ниже? Укажите название материка.

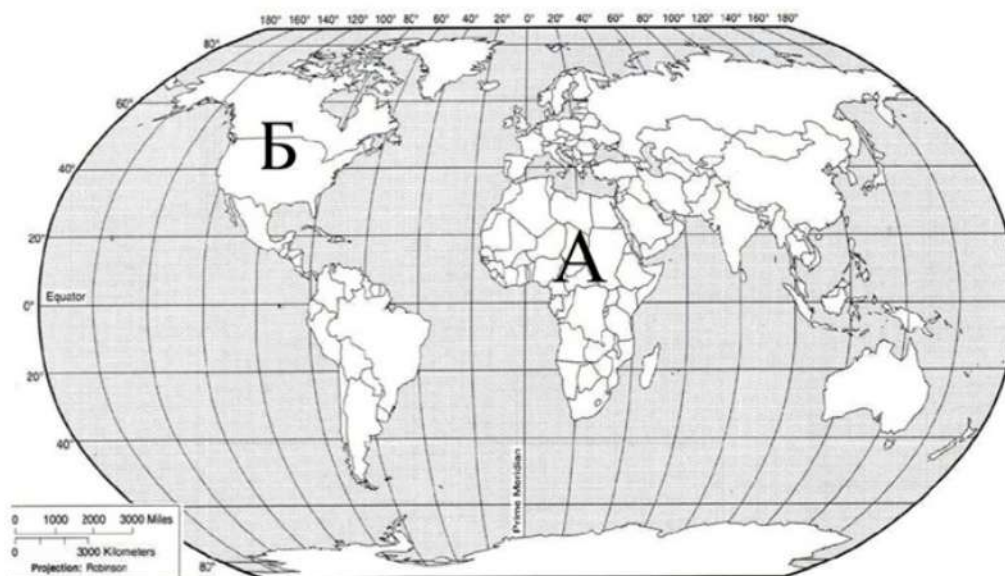


Александр Маккензи



Генри Гудзон

Подпишите на карте названия океанов, которые омывают берега материка, названного вами.



6. С каким из этих двух материков связаны открытия, совершенные путешественниками и исследователями, изображёнными ниже? Укажите название материка.

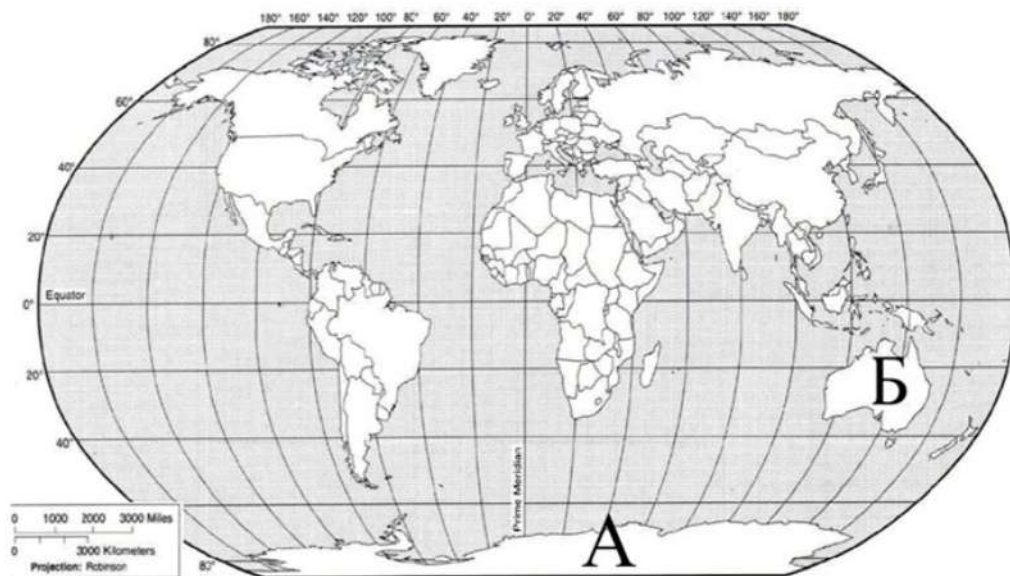


Луис Торрес



Вилем Янзон

Подпишите на карте названия океанов, которые омывают берега материка, названного вами.



7. С каким из этих двух материков связаны открытия, совершенные путешественниками и исследователями, изображёнными ниже? Укажите название материка.

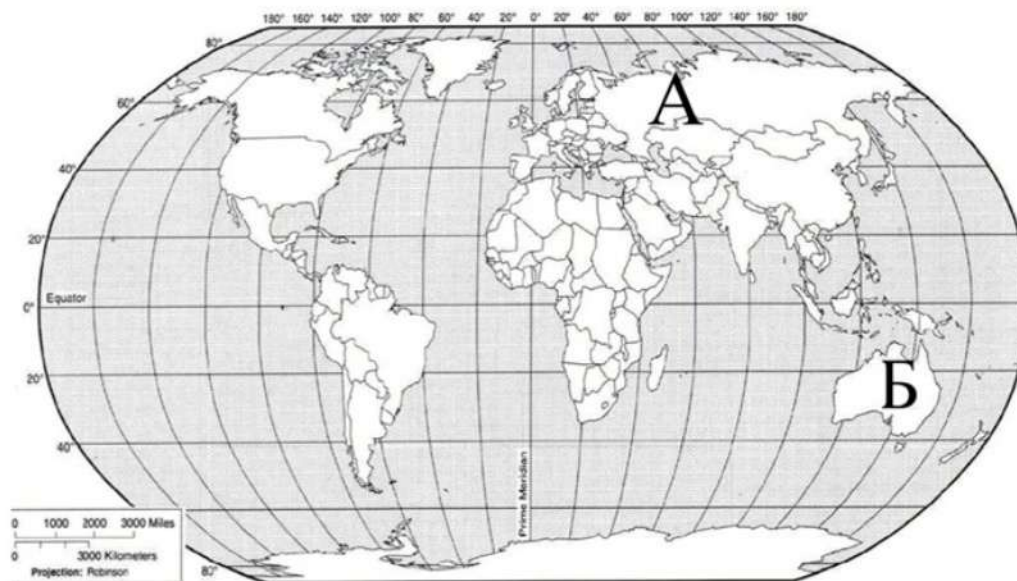


Эратосфен Киренский




Марко Поло

Подпишите на карте названия океанов, которые омывают берега материка, названного вами.






8. С каким из этих двух материков связаны открытия, совершенные путешественниками и исследователями, изображёнными ниже? Укажите название материка.

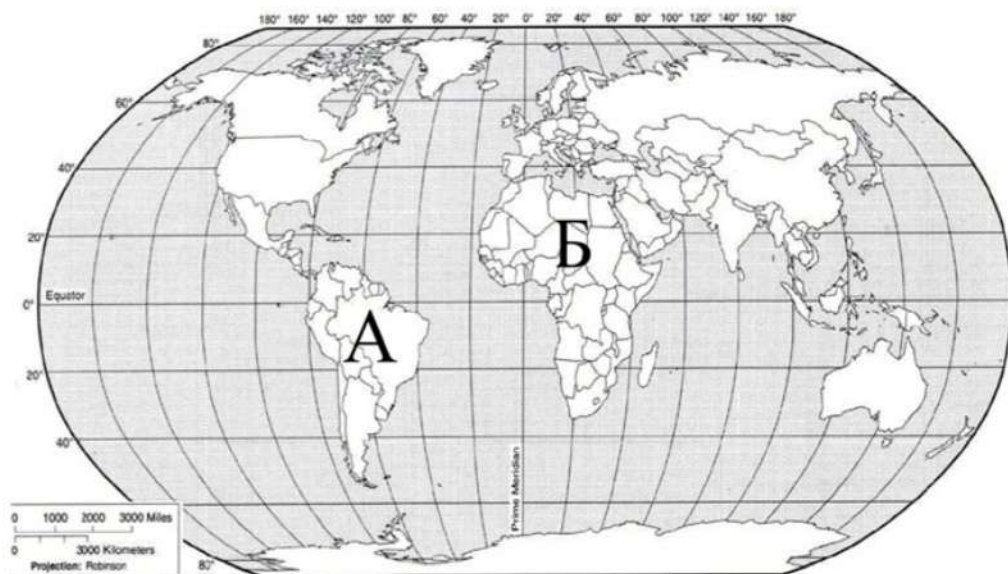


Христофор Колумб



Александр фон Гумбольдт

Подпишите на карте названия океанов, которые омывают берега материка, названного вами.





9. С каким из этих двух материков связаны открытия, совершенные путешественниками и исследователями, изображёнными ниже? Укажите название материка.

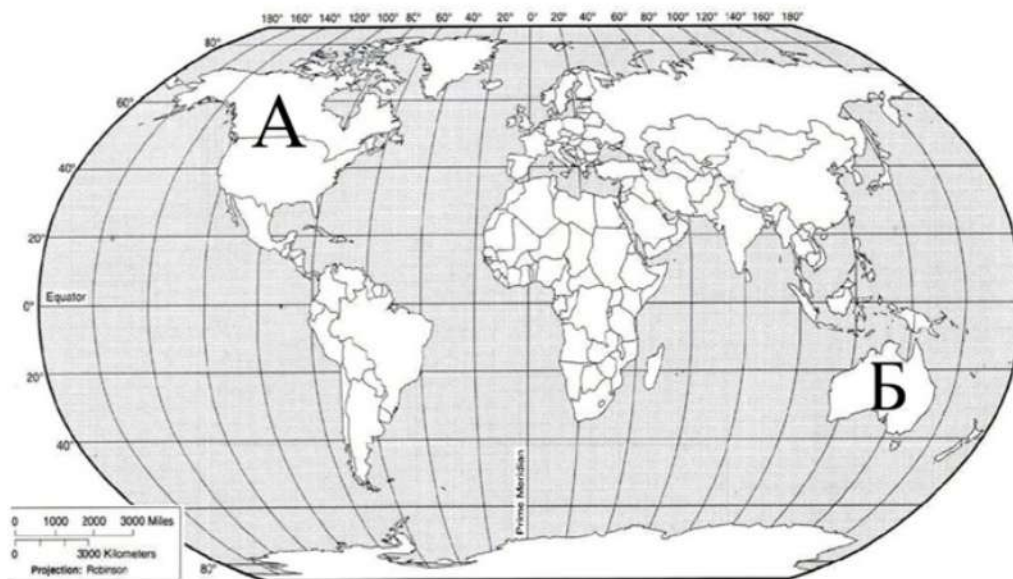


Христофор Колумб



Лейв Эриксон (Счастливым)

Подпишите на карте названия океанов, которые омывают берега материка, названного вами.



10. С каким из этих двух материков связаны открытия, совершенные путешественниками и исследователями, изображёнными ниже? Укажите название материка.



Руаль Амундсен

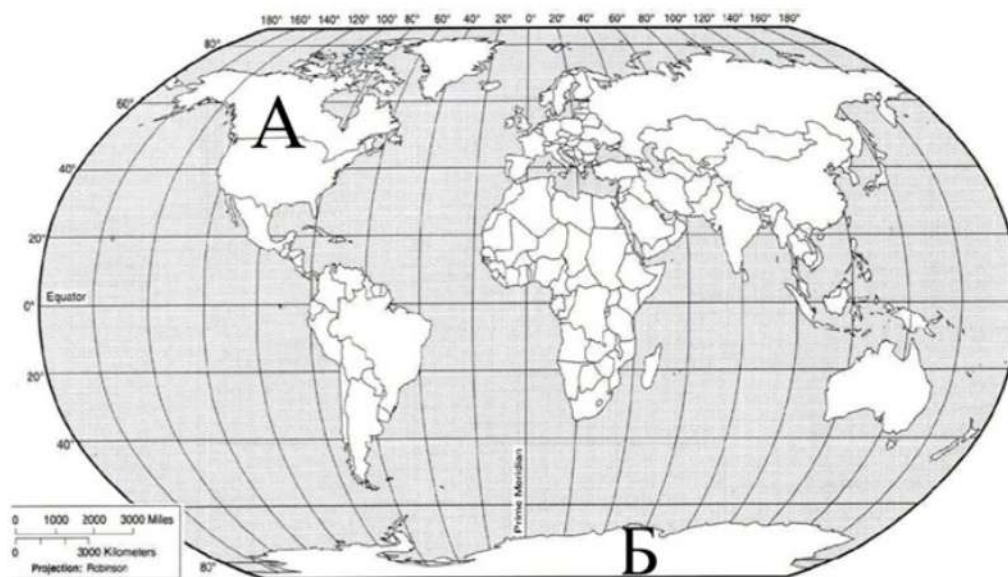


Роберт Скотт



Джеймс Кларк Росс

Подпишите на карте названия океанов, которые не омывают берега материка, названного вами.



11. С каким из этих двух материков связаны открытия, совершенные путешественниками и исследователями, изображёнными ниже? Укажите название материка.



Генрих Барт

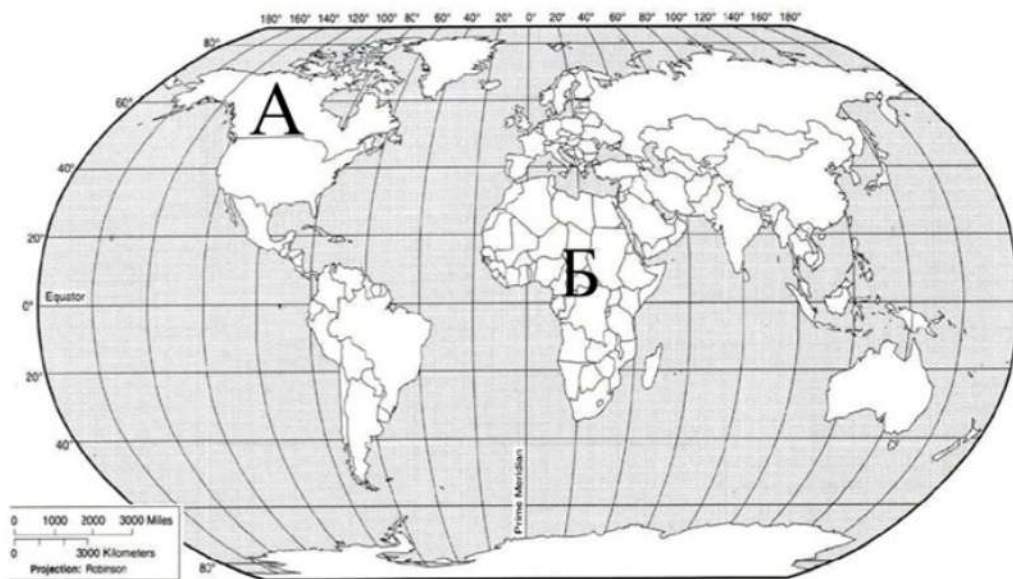


Генри Стенли



Давид Ливингстон

Подпишите на карте названия океанов, которые омывают берега материка, названного вами.





12. С каким из этих двух океанов связаны открытия, совершенные путешественниками и исследователями, изображёнными ниже? Укажите название океана.



Фритъоф Нансен

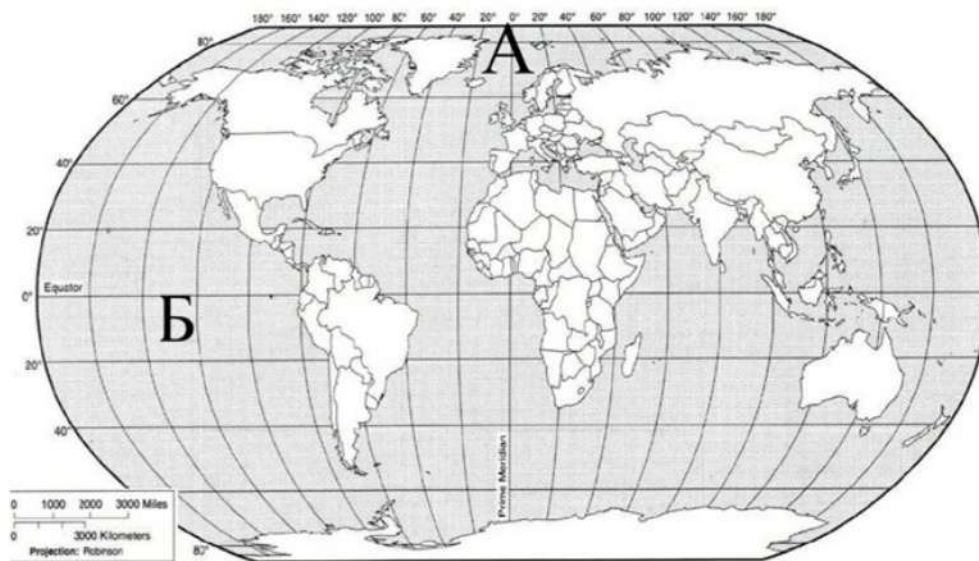


Генри Гудзон




Роберт Пири

Подпишите на карте названия материков, которые омывает океан, названный вами.



13. С каким из этих двух океанов связаны открытия, совершенные путешественниками и исследователями, изображёнными ниже? Укажите название океана.



Тур Хейердал

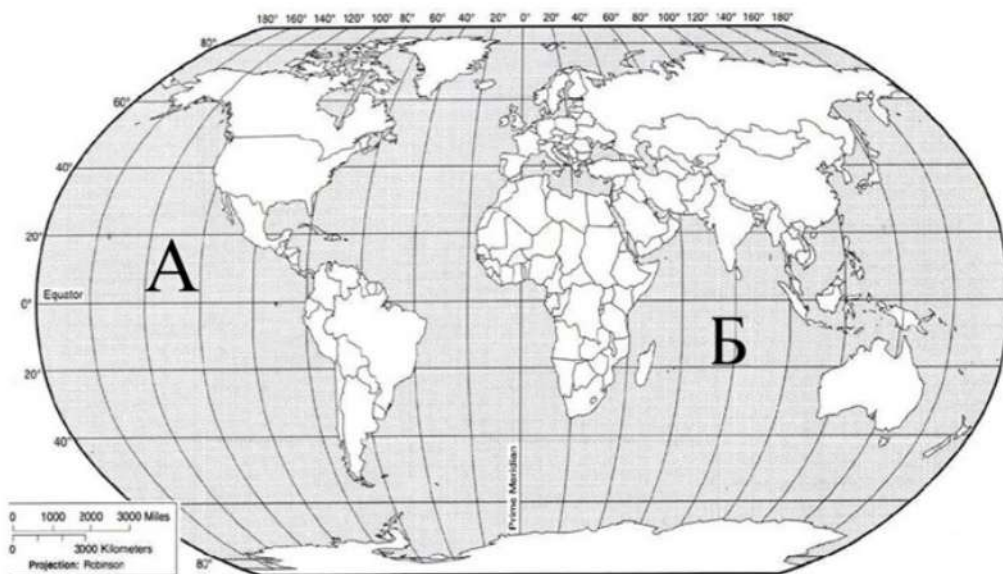


Фернан Магеллан



Джеймс Кук

Подпишите на карте названия материков, которые не омывает океан, названный вами.



14. С каким из этих двух океанов связаны открытия, совершенные путешественниками и исследователями, изображёнными ниже? Укажите название океана.

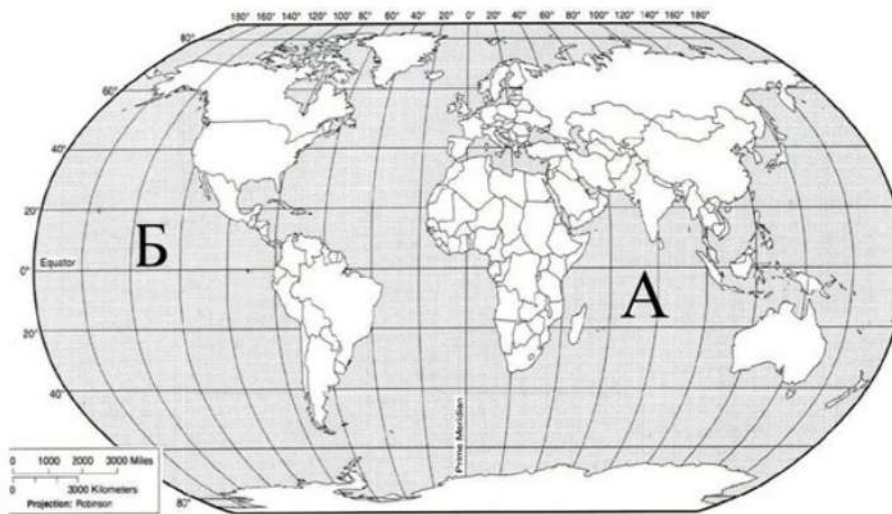


Бартоломеу Диаш



Васко да Гама

Подпишите на карте названия материков, которые омывает океан, названный вами.





15. С каким из этих двух материков связаны открытия, совершенные путешественниками и исследователями, изображёнными ниже? Укажите название материка.



Марко Поло

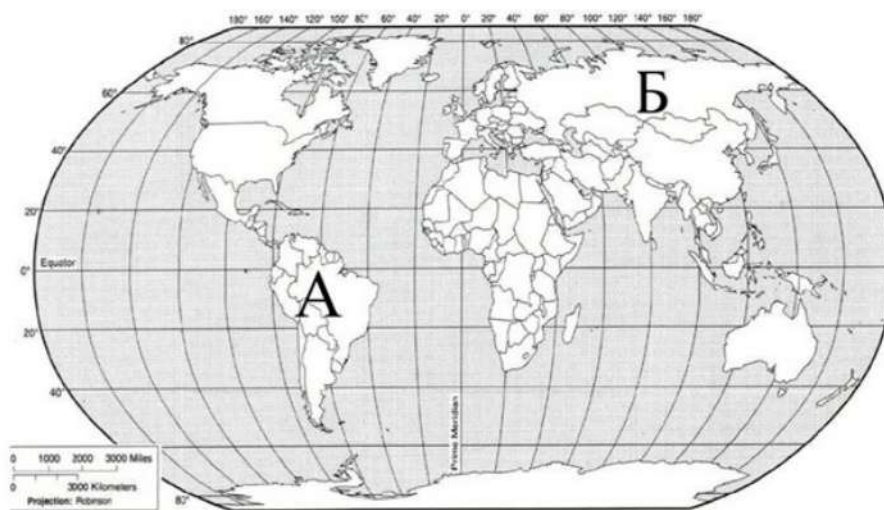


Фридьоф Нансен



Витус Беринг

Подпишите на карте названия океанов, которые омывают берега материка, названного вами.



16. С каким из этих двух материков связаны открытия, совершенные путешественниками и исследователями, изображёнными ниже? Укажите название материка.



Луис Торрес

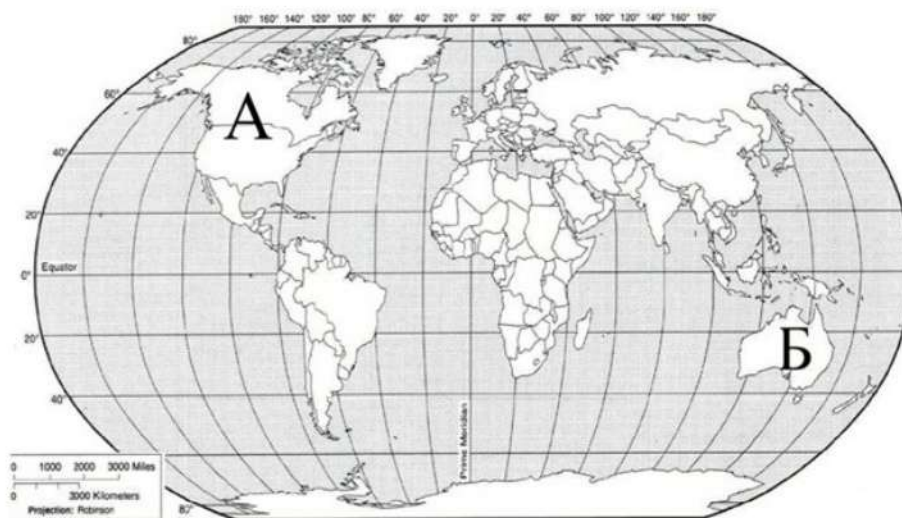


Вилем Янзон



Джеймс Кук

Подпишите на карте названия океанов, которые омывают берега материка, названного вами.



17. С каким из этих двух океанов связаны открытия, совершенные путешественниками и исследователями, изображёнными ниже? Укажите название материка.



Иван Папанин

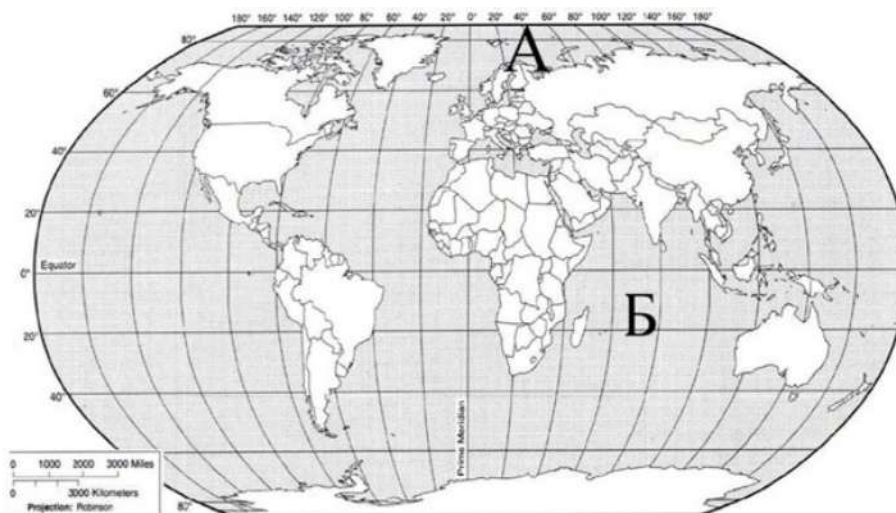


Эдуард Толль



Эрик Норденшельд

Подпишите на карте названия материков, берега которых омывает названный вами океан.





18. С каким из этих двух материков связаны открытия, совершенные путешественниками и исследователями, изображёнными ниже? Укажите название материка.



Ричард Бертон

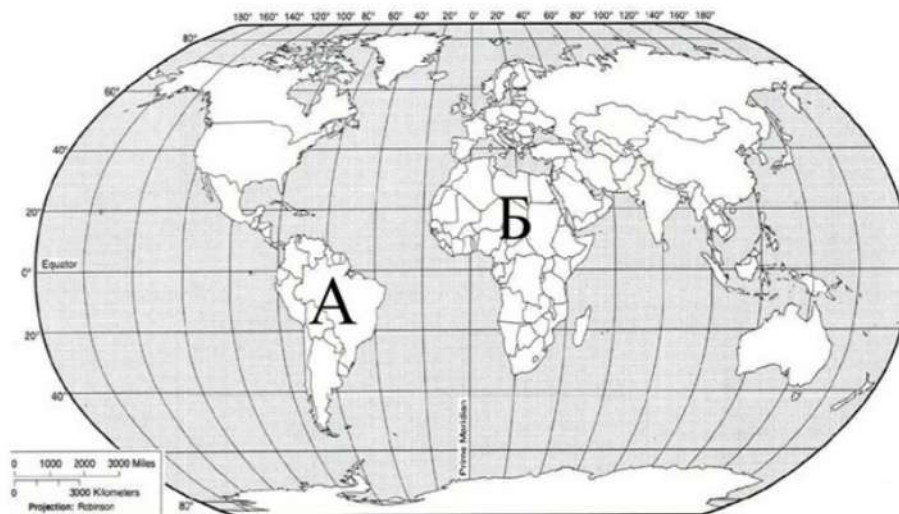


Давид Ливингстон




Генри Стенли

Подпишите на карте названия океанов, которые омывают берега материка, названного вами.



19. С каким из этих двух материков связаны открытия, совершенные путешественниками и исследователями, изображёнными ниже? Укажите название материка.



Джеймс Кук

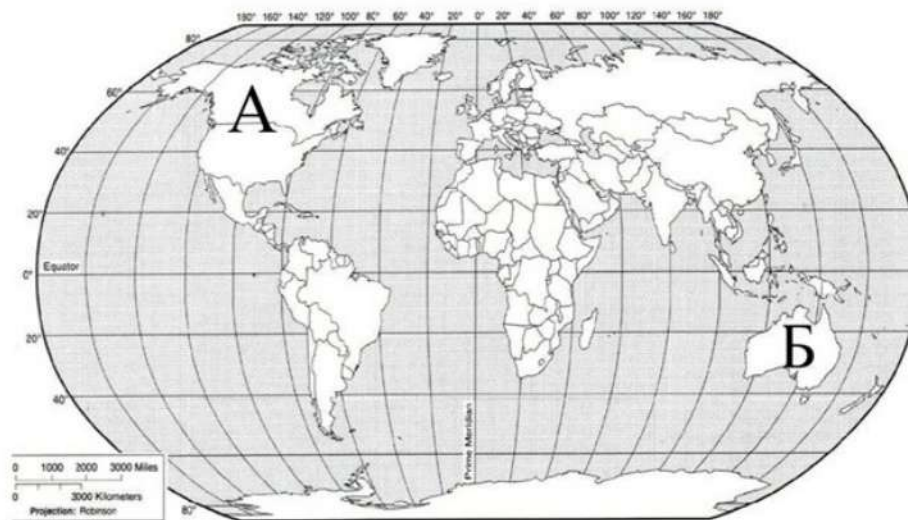


Абел Тасман



Луис Торрес

Подпишите на карте названия океанов, которые омывают берега материка, названного вами.



20. С каким из этих двух материков связаны открытия, совершенные путешественниками и исследователями, изображёнными ниже? Укажите название материка.

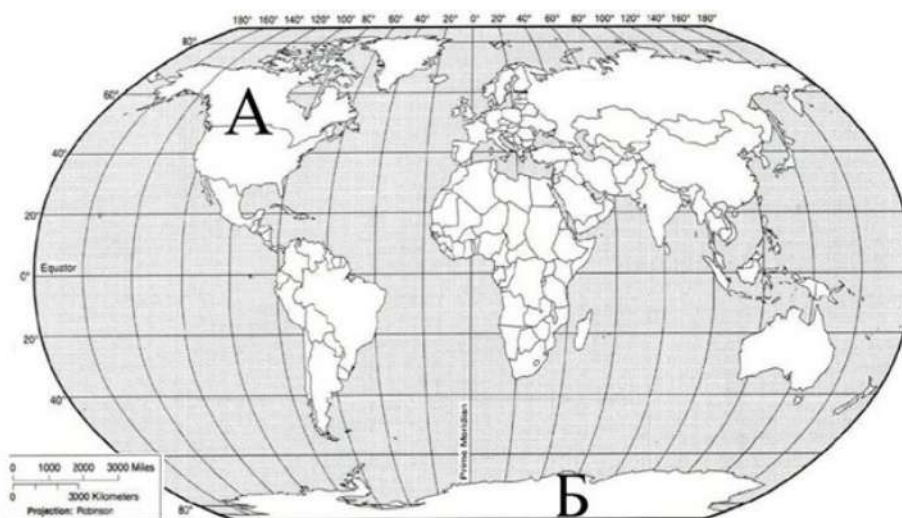


Витус Беринг



Уильям Баффин

Подпишите на карте названия океанов, которые омывают берега материка, названного вами.





21. С каким из этих двух материков связаны открытия, совершенные путешественниками и исследователями, изображёнными ниже? Укажите название материка.



Фаддей Беллинсгаузен

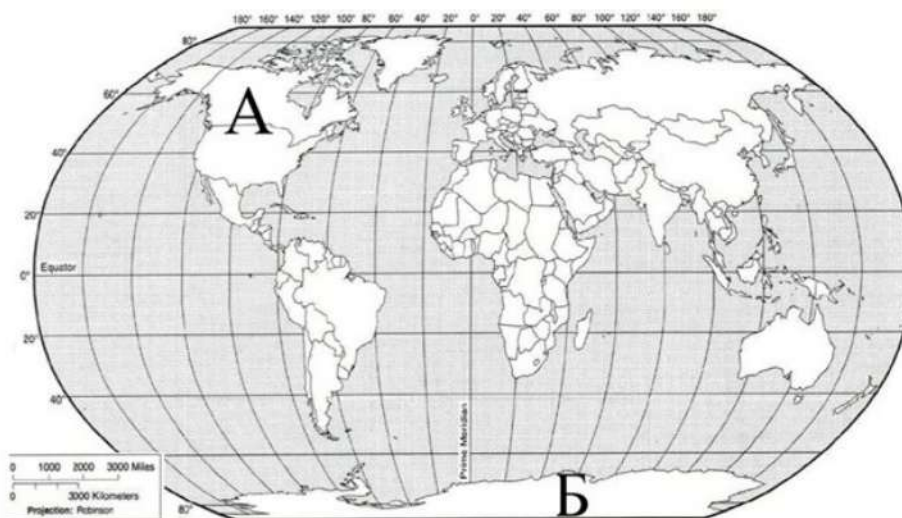


Джеймс Кларк Росс




Джеймс Уэдделл


Подпишите на карте названия океанов, которые не омывают берега материка, названного вами.



22. С каким из названных Вами материков связаны открытия путешественников и исследователей, изображённых на портретах? Укажите название материка.

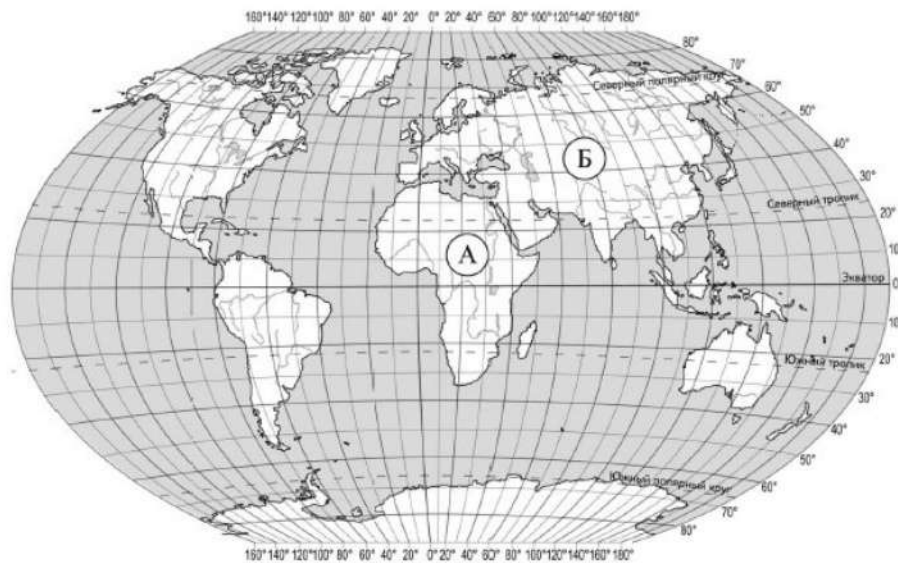


*Афанасий Никитин*



*Марко Поло*

Подпишите на карте океаны, омывающие берега указанного Вами материка.



23. С каким из названных Вами океанов связаны открытия путешественников и исследователей, изображённых на портретах? Укажите название самого большого и самого беспокойного океана, по которому проходили маршруты их экспедиций.



Фернан Магеллан



Френсис Дрейк

Подпишите на карте материи, берега которых омывают воды указанного Вами океана.





24. С каким из названных Вами материков связаны открытия путешественников и исследователей, изображённых на портретах? Укажите название материка.

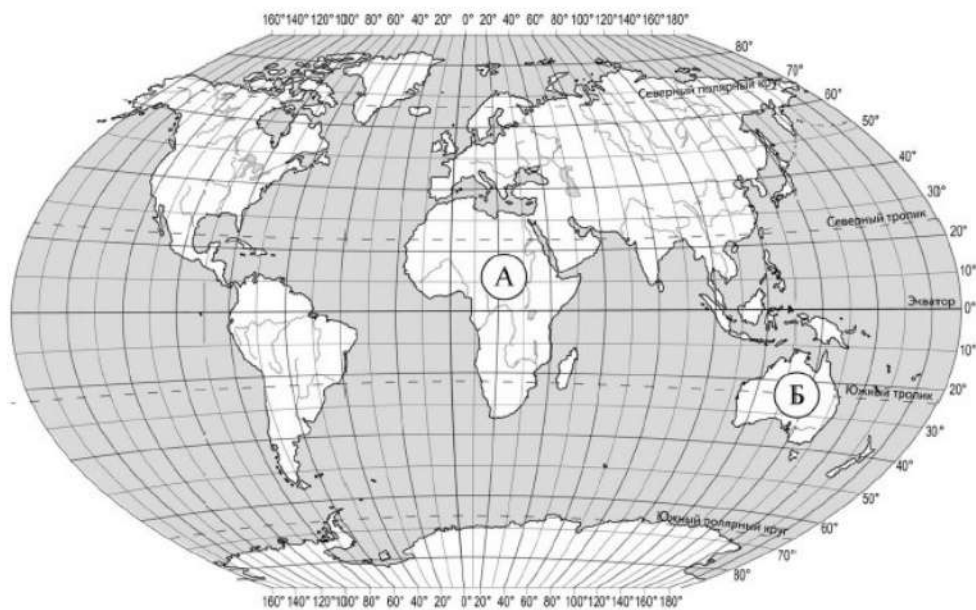


*Абель Тасман*



*Джеймс Кук*

Подпишите на карте океаны, омывающие берега указанного Вами материка.



25. С каким из названных Вами океанов, по которому проходили маршруты экспедиций, открывших морской путь в «Страну пряностей», связаны открытия путешественников и исследователей, изображённых на портретах?

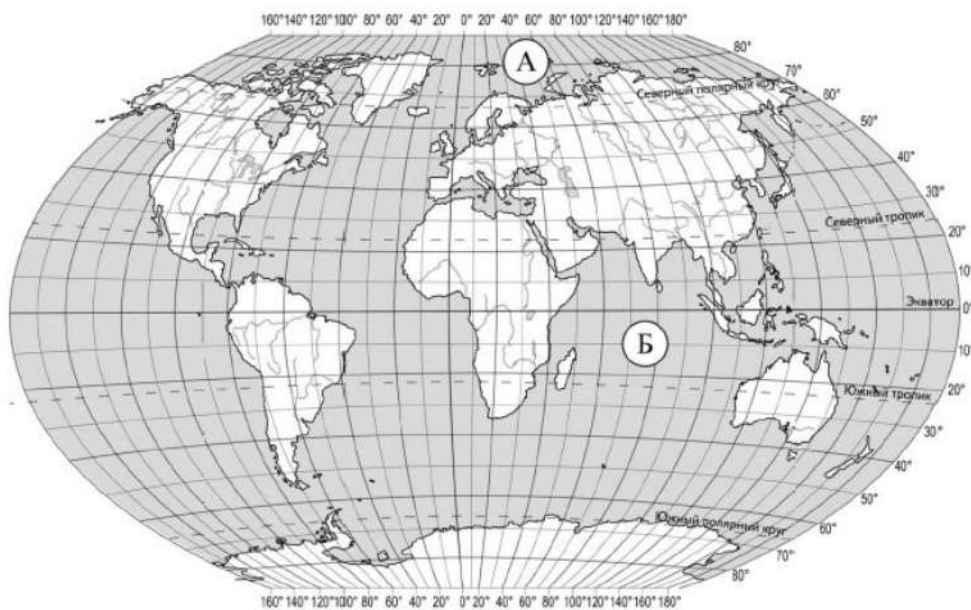


*Васко да Гама*




*Бартоломеу Диаш*

Подпишите на карте материка, берега которых омывают воды указанного Вами океана.



26. С каким из названных Вами материков связаны открытия путешественников и исследователей, изображённых на портретах? Укажите название материка.

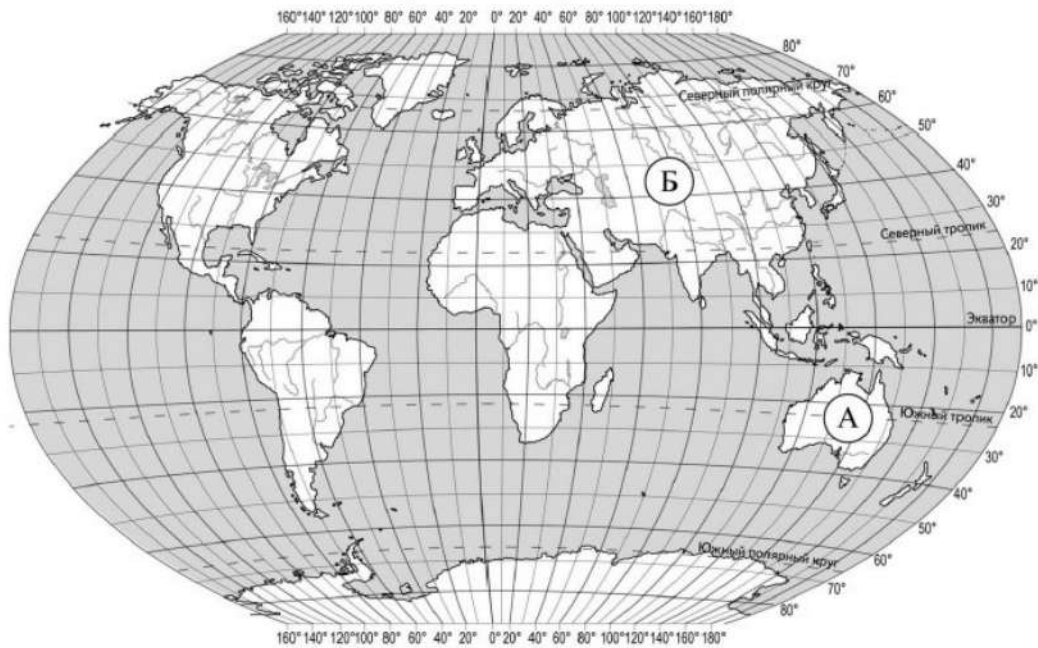


*Афанасий Никитин*



*Н.М. Пржевальский*

Подпишите на карте океаны, омывающие берега указанного Вами материка.





27. С каким из названных Вами океанов, которому дал название Фернан Магеллан во время своего кругосветного плавания, связаны открытия путешественников и исследователей, изображённых на портретах? Укажите название океана.

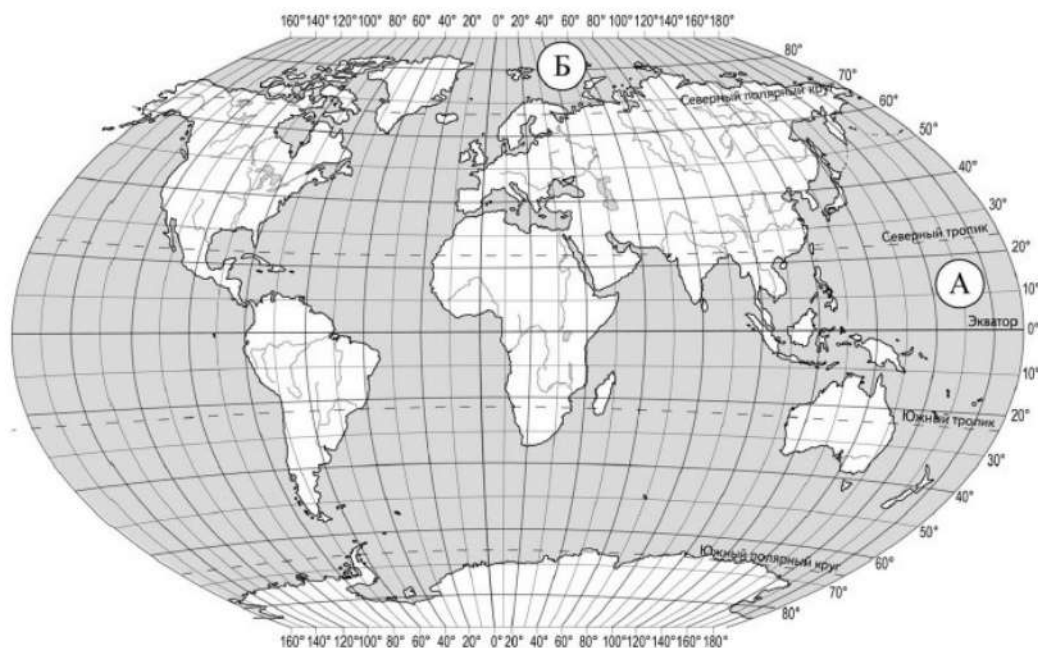


Фернан Магеллан



Джеймс Кук

Подпишите на карте материи, берега которых омывают воды указанного Вами океана.



28. С каким из названных Вами материков связаны открытия путешественников и исследователей, изображённых на портретах? Укажите название материка.

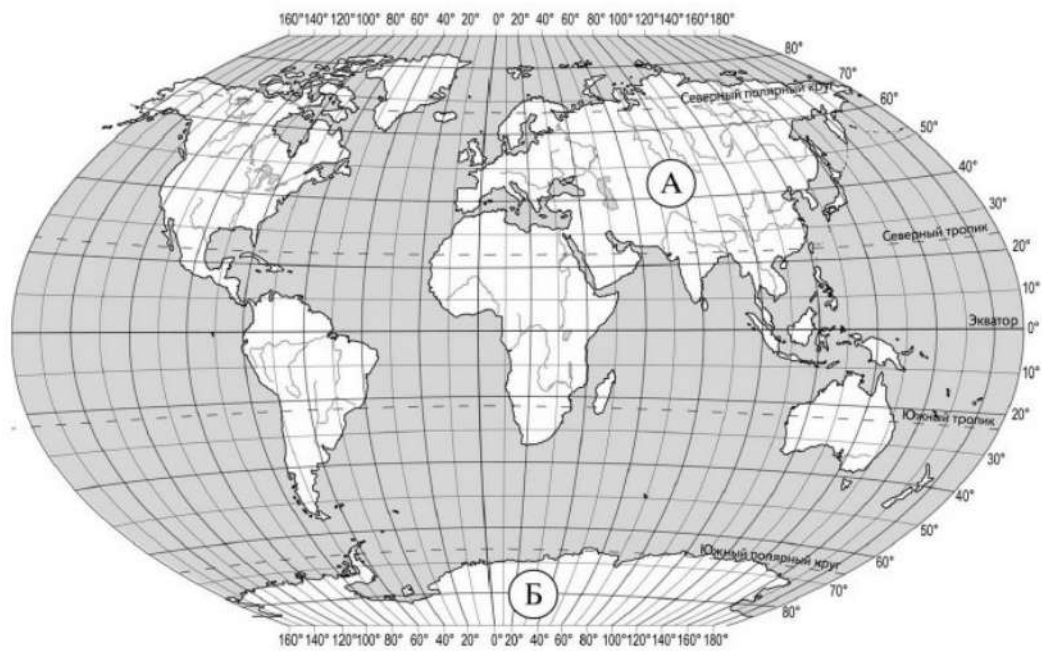


*Руаль Амундсен*



*Роберт Скотт*

Подпишите на карте океаны, омывающие берега указанного Вами материка.



29. С каким из названных Вами океанов связаны походы кораблей, изображённых на рисунках? Укажите название океана.

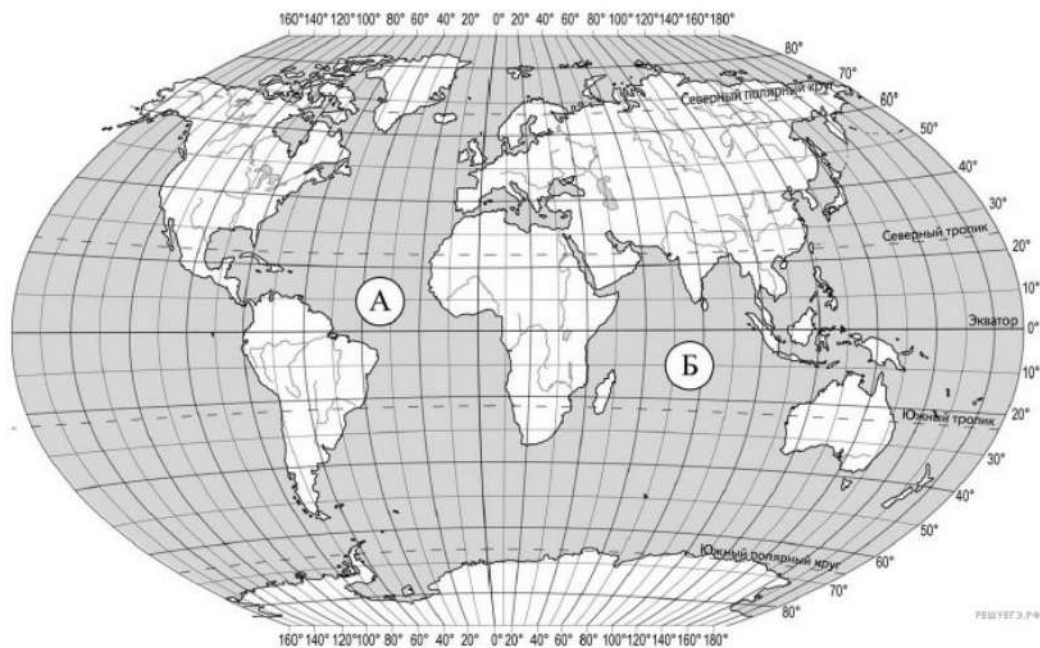


*Корабль викингов*



*Научно-исследовательское судно  
«Челленджер»*

Подпишите на карте материи, берега которых омывают воды указанного Вами океана.





30. С каким из названных Вами материков связаны открытия путешественников и исследователей, изображённых на портретах? Укажите название материка.

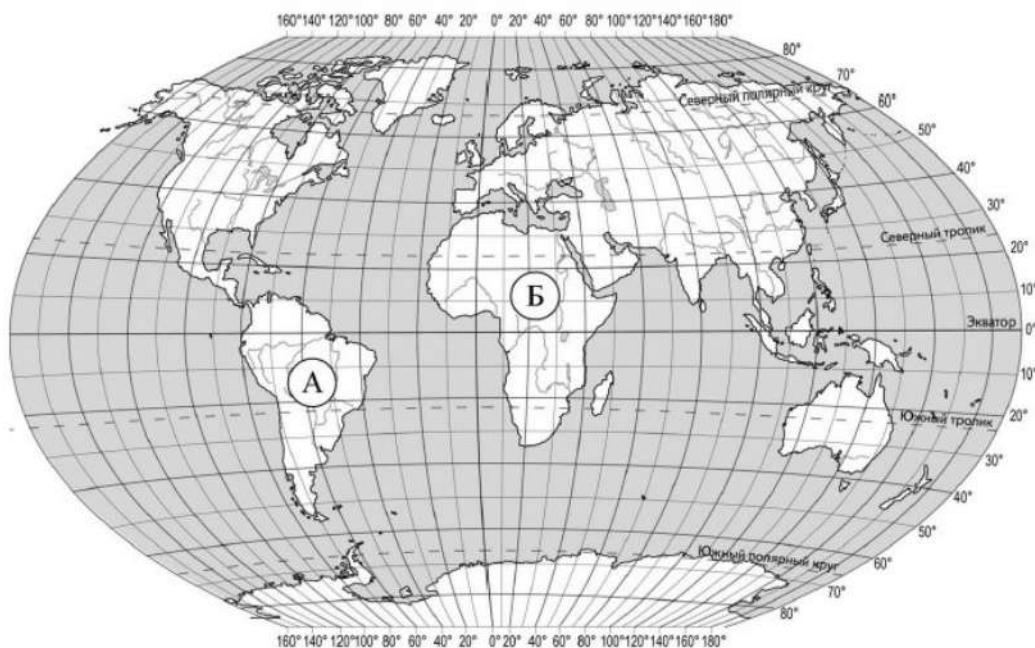


*Васко да Гама*



*Бартоломеу Диаш*

Подпишите на карте океаны, омывающие берега указанного Вами материка.



31. С каким из названных Вами океанов связаны открытия путешественников и первооткрывателей, изображённых на портретах? Укажите название океана, по которому проходили маршруты экспедиций этих путешественников.

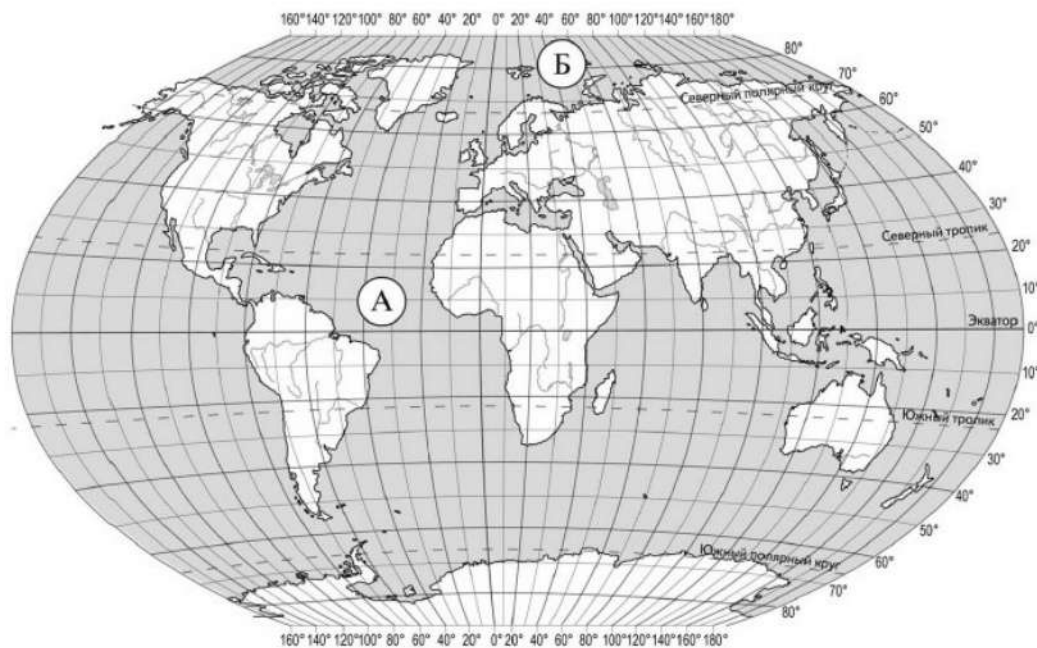


*И.Д. Папанин*




*Фридьоф Нансен*


Подпишите на карте материка, берега которых омывают воды указанного Вами океана.



32. С каким из названных Вами материков связаны открытия путешественников и исследователей, изображённых на портретах? Укажите название материка.

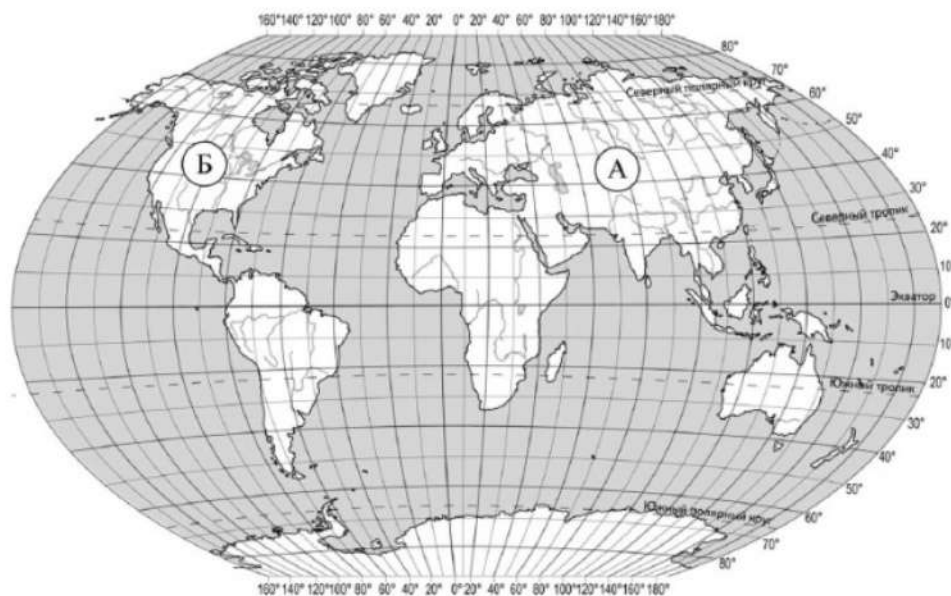


Марко Поло



Афанасий Никитин

Подпишите на карте океаны, омывающие берега указанного Вами материка.



33. С каким из названных Вами океанов связаны открытия путешественников и исследователей, изображённых на портретах? Укажите название самого большого океана, по которому проходили маршруты их экспедиций.



*Фернан Магеллан*



*Френсис Дрейк*

Подпишите на карте материки, берега которых омывают воды указанного Вами океана.





34. С каким из названных Вами материков связаны открытия путешественников и исследователей, изображённых на портретах? Укажите название материка.

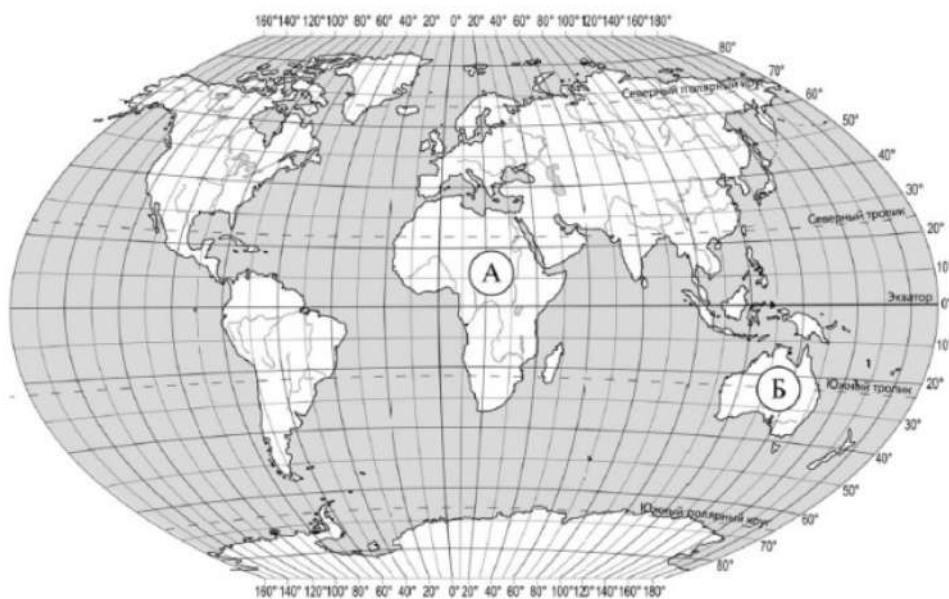


*Абель Тасман*



*Джеймс Кук*

Подпишите на карте океаны, омывающие берега указанного Вами материка.



35. С каким из названных Вами океанов, связаны открытия путешественников и исследователей, изображённых на портретах? Укажите название океана, по которому проходили маршруты их экспедиций.



*Френсис Дрейк*




*Васко да Гама*

Подпишите на карте материка, берега которых омывают воды указанного Вами океана.



36. С каким из названных Вами материков связаны открытия путешественников и исследователей, изображённых на портретах? Укажите название материка.



*Афанасий Никитин*



*Н.М. Пржевальский*

Подпишите на карте океаны, омывающие берега указанного Вами материка.



37. С каким из названных Вами материков связаны открытия путешественников и исследователей, изображённых на портретах? Укажите название материка.

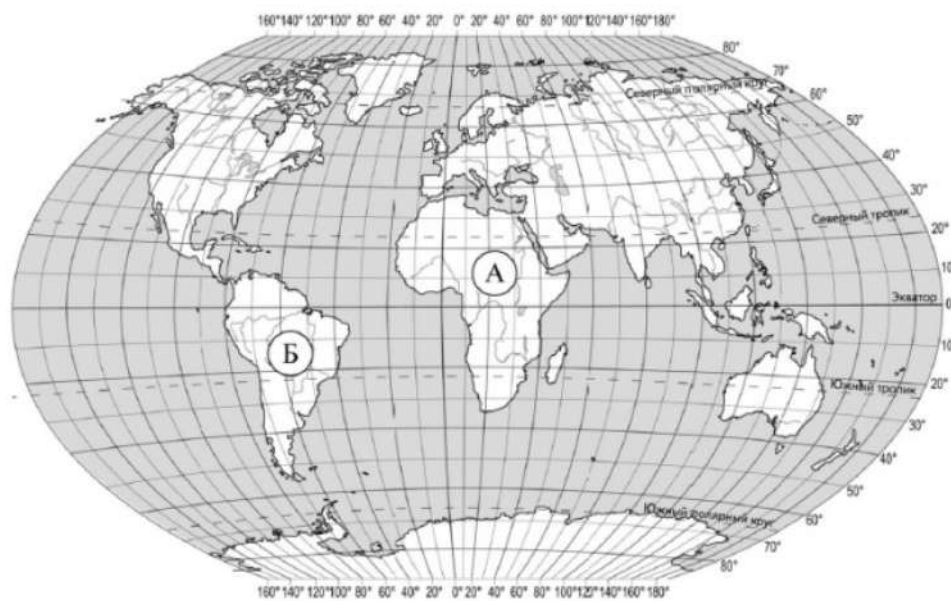


*Христофор Колумб*



*Америго Вестуччи*

Подпишите на карте океаны, омывающие берега указанного Вами материка.





38. С каким из названных Вами океанов связаны открытия путешественников и исследователей, изображённых на портретах? Укажите название самого большого океана, по которому проходили маршруты их экспедиций.



*Витус Беринг*



*Френсис Дрейк*

Подпишите на карте материи, берега которых омывают воды указанного Вами океана.



39. С каким из названных Вами океанов связаны походы кораблей, изображённых на рисунках? Укажите название океана.

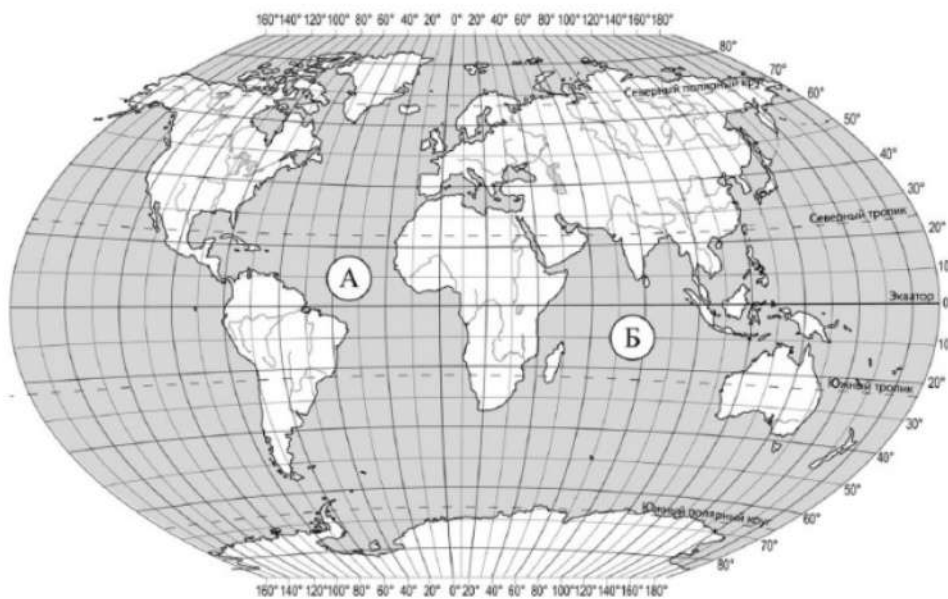


*Витус Беринг*



*Френсис Дрейк*


Подпишите на карте материки, берега которых омывают воды указанного Вами океана.



40. С каким из названных Вами материков связаны открытия путешественников и исследователей, изображённых на портретах? Укажите название материка.

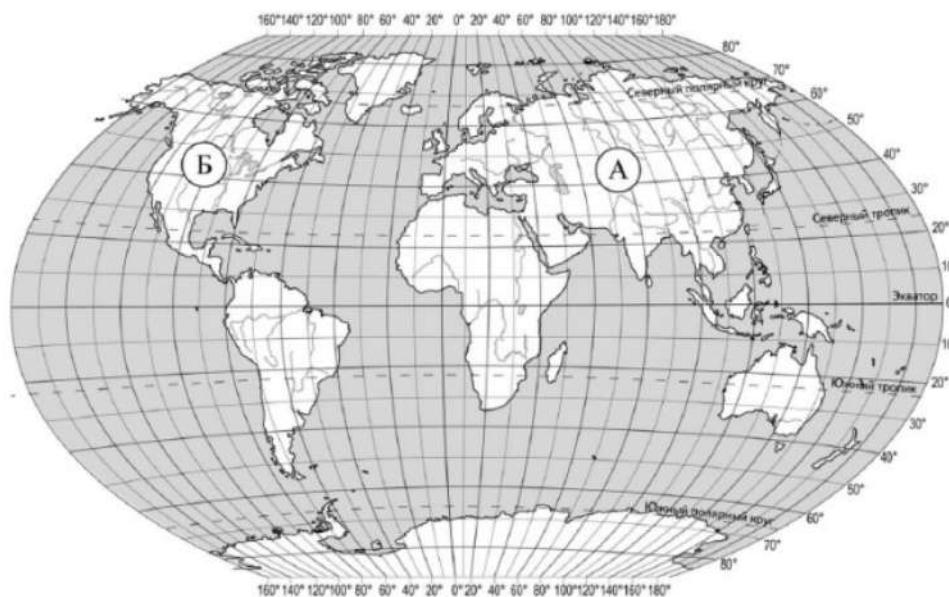


*П.П. Семёнов-Тян-Шанский*



*Марко Поло*

Подпишите на карте океаны, омывающие берега указанного Вами материка.



41. С каким из названных Вами океанов связаны открытия путешественников и исследователей, изображённых на портретах? Укажите название океана, по которому проходили маршруты их экспедиций.

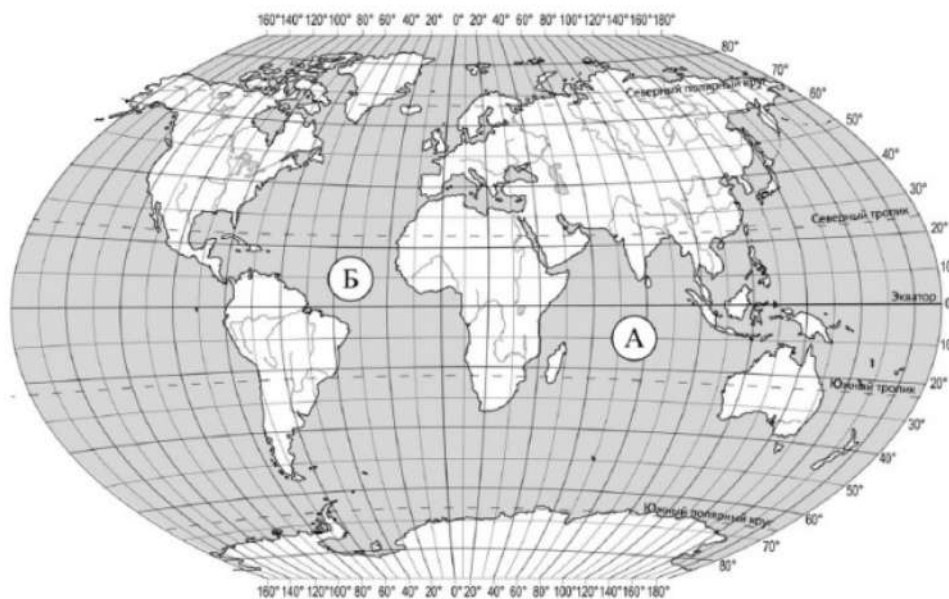


*Христофор Колумб*



*Фернан Магеллан*

Подпишите на карте материи, берега которых омывают воды указанного Вами океана.





42. С каким из названных Вами океанов, по которому проходили маршруты экспедиций, открывших морской путь в «Страну пряностей», связаны открытия путешественников и исследователей, изображённых на портретах?

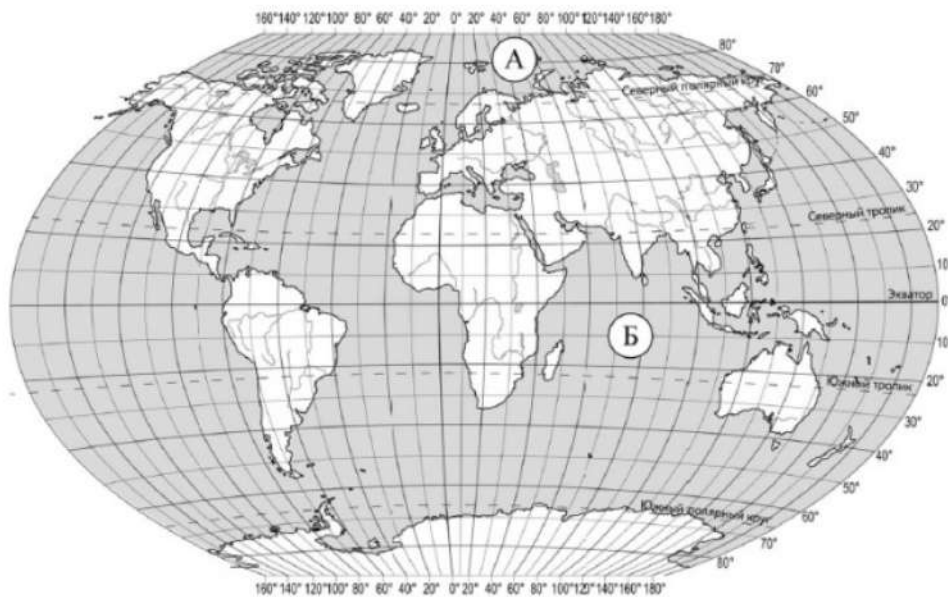


*Васко да Гама*



*Бартоломеу Диаш*

Подпишите на карте материка, берега которых омывают воды указанного Вами океана.



43. С каким из названных Вами океанов связаны открытия путешественников и первооткрывателей, изображённых на портретах? Укажите название океана.



*Х.П. Лантес*



*Д.Я. Лантес*

Подпишите на карте материи, берега которых омывают воды указанного Вами океана.



44. С каким из названных Вами материков связаны открытия путешественников и исследователей, изображённых на портретах? Укажите название материка.



*Джеймс Кук*



*Абель Тасман*

Подпишите на карте океаны, омывающие берега указанного Вами материка.



45. С каким из названных Вами океанов связаны открытия путешественников и первооткрывателей, изображённых на портретах? Укажите название океана, по которому проходили маршруты их экспедиций.



*Америго Веспуччи*



*Христофор Колумб*

Подпишите на карте материка, берега которых омывают воды указанного Вами океана.





46. С каким из названных Вами материков связаны открытия путешественников и исследователей, изображённых на портретах? Укажите название материка.

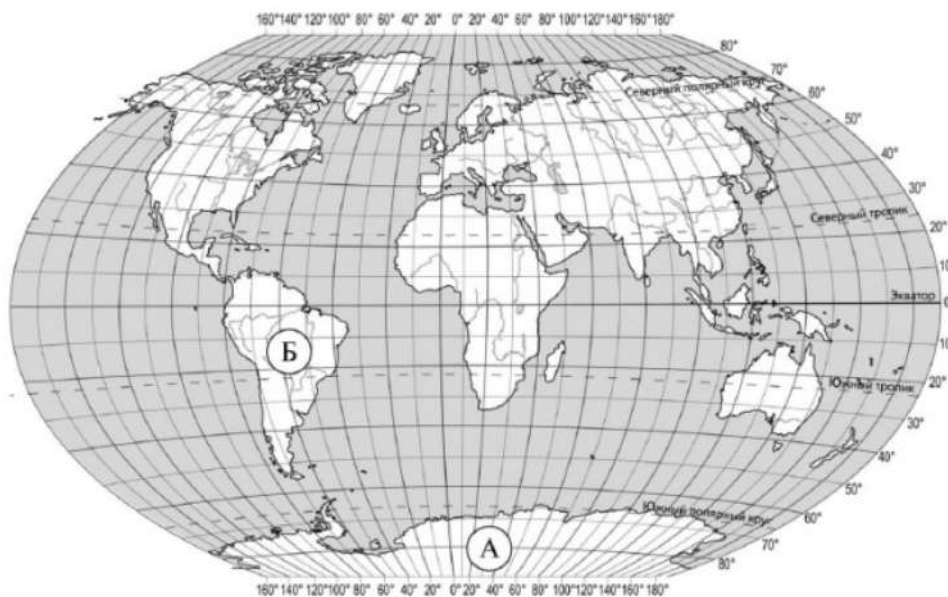


*Ф.Ф. Беллинсгаузен*



*М.П. Лазарев*


Подпишите на карте океаны, омывающие берега указанного Вами материка.



47. С каким из названных Вами океанов, в котором проводились исследования по изучению самого глубокого океанического жёлоба, связаны экспедиции кораблей, представленных на изображениях? Укажите название океана.

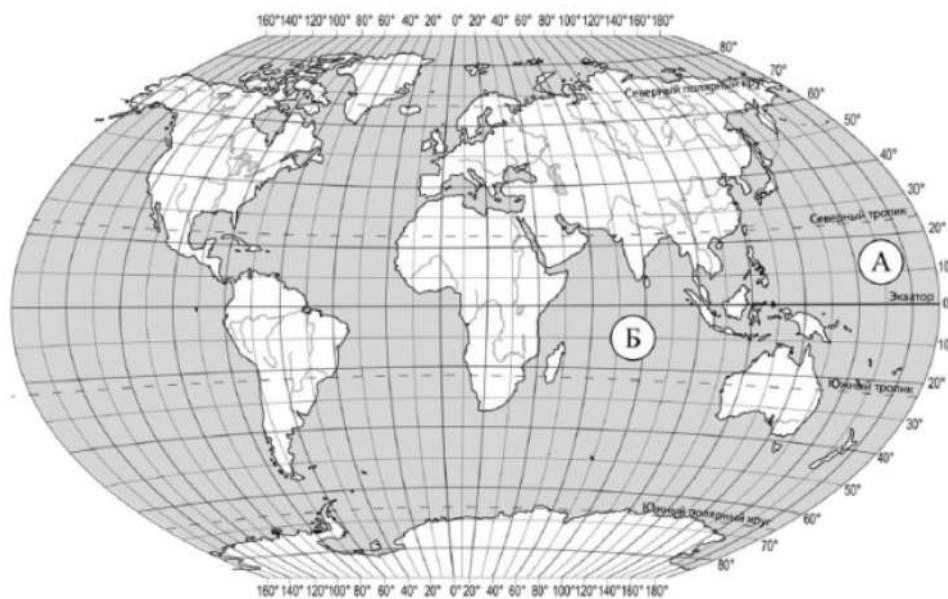


Научно-исследовательское судно «Витязь»




Научно-исследовательское судно «Челленджер»

Подпишите на карте материка, берега которых омывают воды указанного Вами океана.



48. С каким из названных Вами материков связаны открытия путешественников и исследователей, изображённых на портретах? Укажите название материка.



*Афанасий Никитин*



*П.П. Семёнов-Гян-Шанский*

Подпишите на карте океаны, омывающие берега указанного Вами материка.



49. С каким из названных Вами океанов связаны открытия путешественников и исследователей, изображённых на портретах? Укажите название океана.



*И.Д. Папанин*



*О.Ю. Шмидт*

Подпишите на карте материка, берега которых омывают воды указанного Вами океана.





50. С каким из названных Вами материков связаны открытия путешественников и исследователей, изображённых на портретах? Укажите название материка.



*Руаль Амундсен*



*Ф.Ф. Беллинсгаузен*

Подпишите на карте океаны, омывающие берега указанного Вами материка.



51. С каким из названных Вами океанов связаны открытия путешественников и исследователей, изображённых на портретах? Укажите название океана, по которому проходили маршруты их экспедиций.

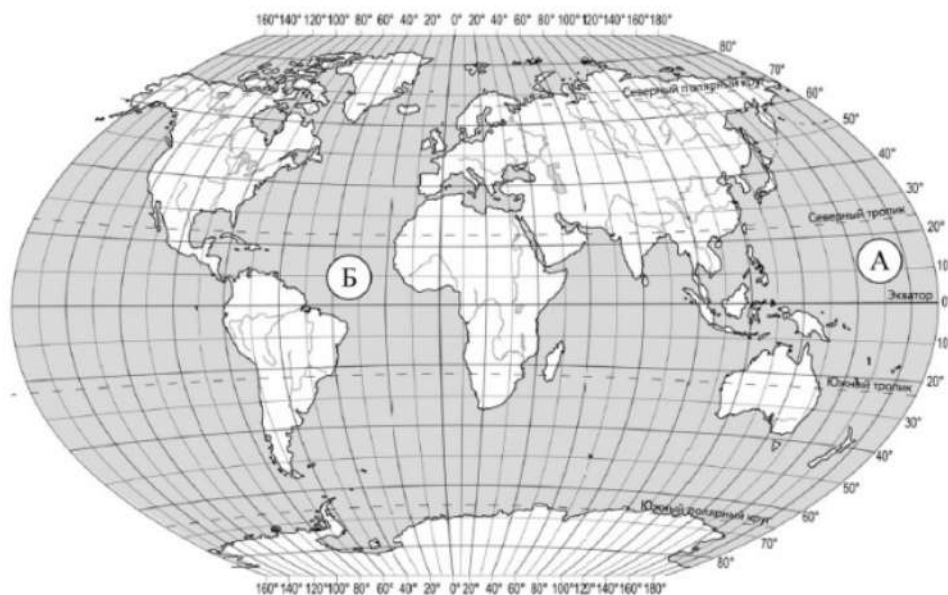


*Бартоломеу Диаш*



*Васко да Гама*

Подпишите на карте материка, берега которых омывают воды указанного Вами океана.



52. С каким из названных Вами материков связаны открытия путешественников и исследователей, изображённых на портретах? Укажите название материка.



*Христофор Колумб*



*Америго Веспуччи*

Подпишите на карте океаны, омывающие берега указанного выше материка.

53. С каким из названных Вами материков связаны открытия путешественников и исследователей, изображённых на портретах? Укажите название материка.



*Семён Дежнёв*



*Витус Беринг*

Подпишите на карте океаны, омывающие берега указанного выше материка.

