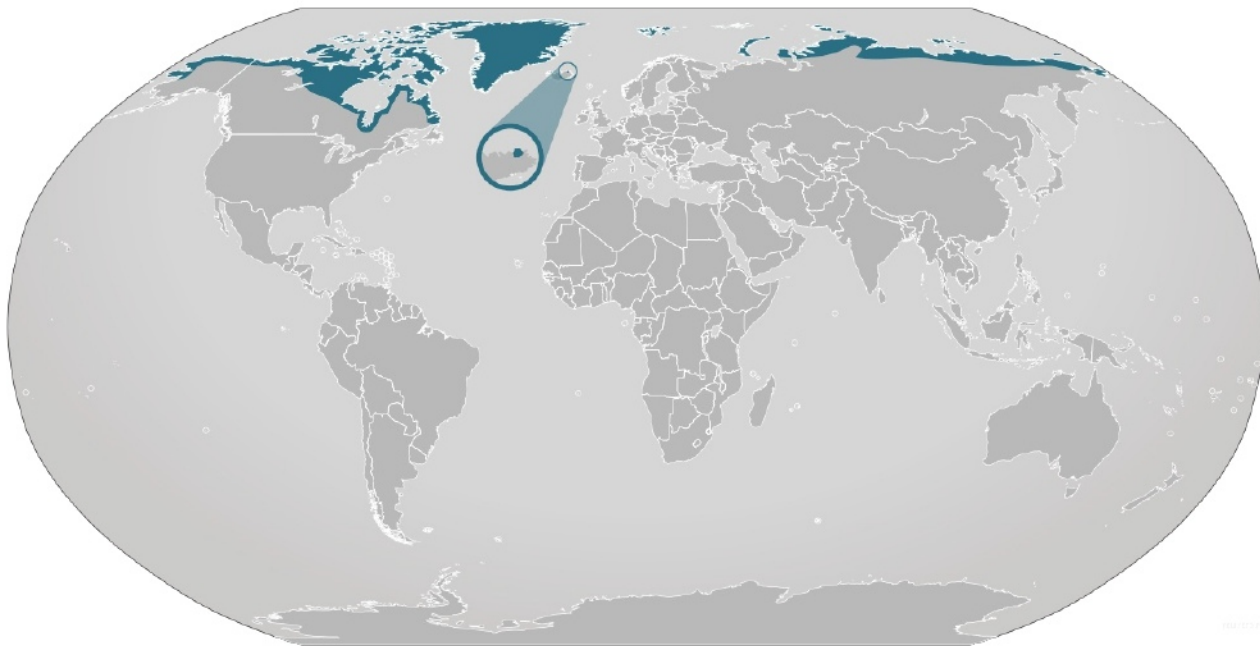


## Модель 2. Работа с географической картой

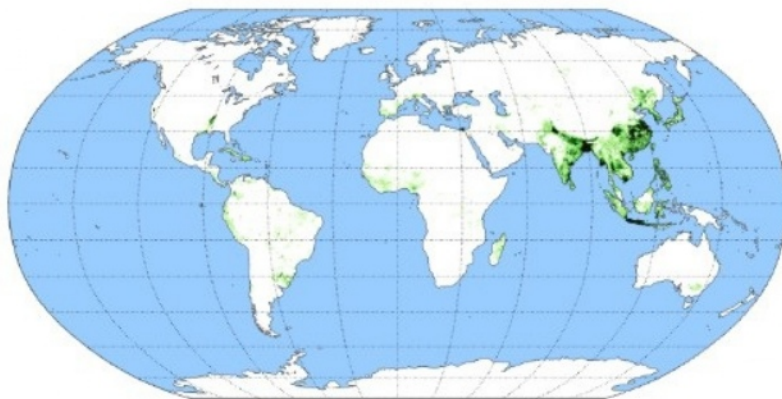
1. В каком полушарии обитает белый медведь?

На карте Земли показаны территории обитания белого медведя.



2. На каких материках восточного полушария растёт рис? В ответе слова запишите по алфавиту без дополнительных знаков.

На карте Земли показаны территории распространения и урожайность риса.



3. Где обитает большой рыжий кенгуру?

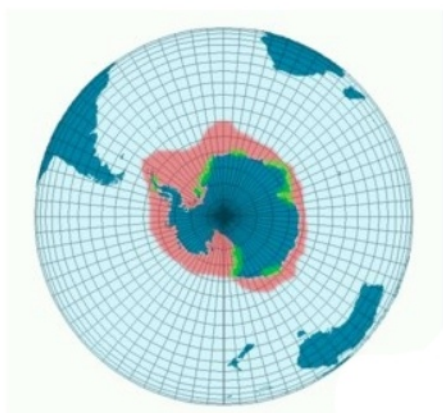
4. На каком материке одногорбый верблюд распространён наиболее широко?

На карте Земли показаны территории обитания одногорбого верблюда.



5. На каком материке обитает императорский пингвин?

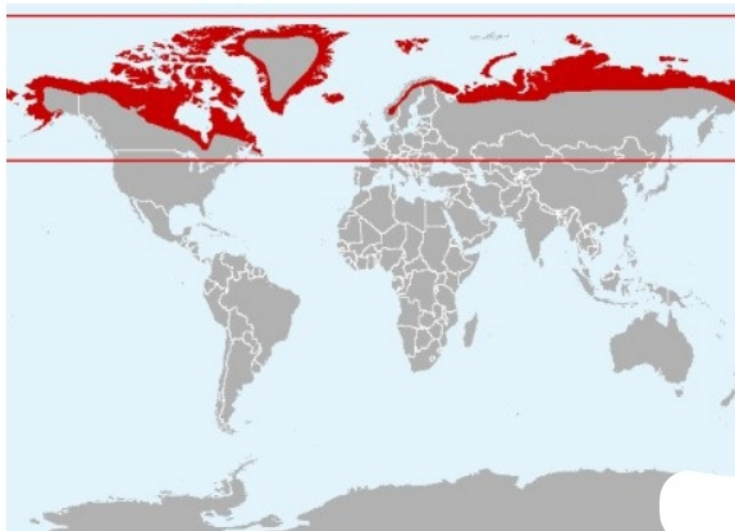
На карте показана территория обитания императорского пингвина.



6. На каком материке обитает чёрный кайман?

7. На каком материке западного полушария обитает обыкновенный песец?

На карте Земли показаны территории обитания обыкновенного песца.



8. На каком самом большом острове обитает овцебык?

На карте Земли показаны территории обитания овцебыка.



9. На каком материке обитает снежный барс?

На карте показана территория обитания снежного барса.



10. В каком океане, который полностью находится в северном полушарии, обитает белуха?

На карте Земли показаны территории обитания белухи.



11. На каком материке западного полушария обитает бурый медведь?

На карте Земли показаны территории обитания бурого медведя.



12. На каком материке отсутствует обыкновенная ласточка?

На карте Земли показаны территории обитания обыкновенной ласточки.



13. На каком материке обитает лама?

На карте Земли показаны территории обитания ламы.



14. На каком из материков выдры наиболее распространены?

15. На каком материке обитает коала?

На карте показана территория обитания коалы.



16. На каком материке восточного полушария обитает соболь?

На карте Земли показаны территории обитания соболя.



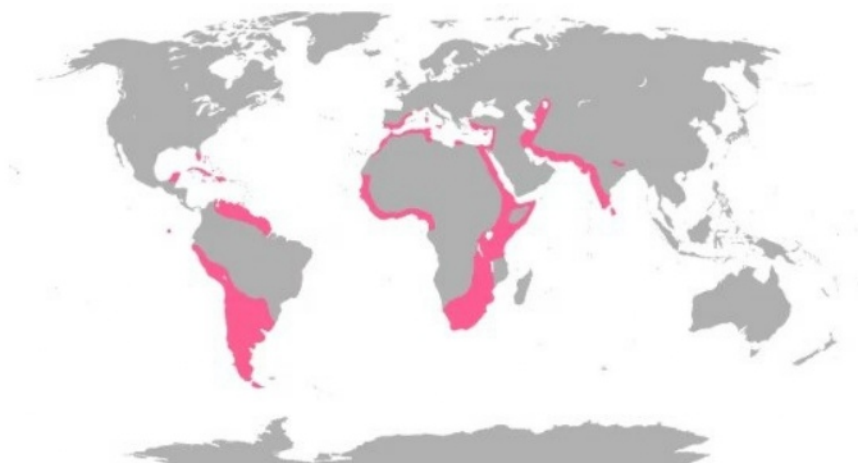
17. На каком материке граница распространения шакала заходит южнее?

На карте Земли показаны территории обитания шакала.



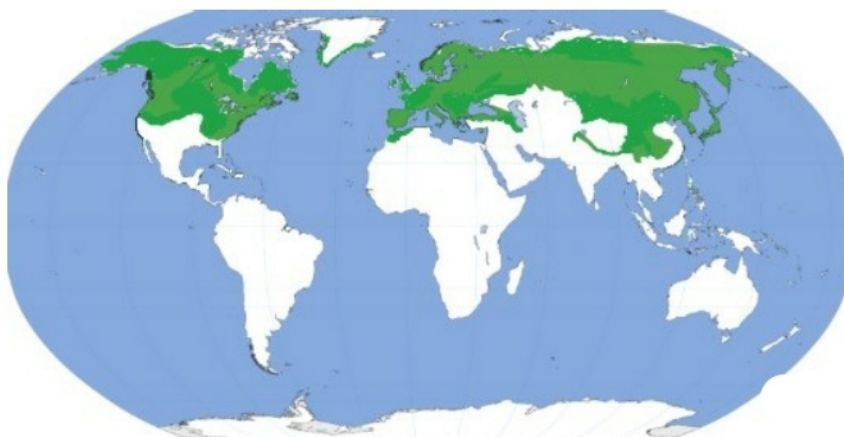
18. На каком материке западного полушария обитает фламинго?

На карте Земли показаны территории обитания фламинго.



19. На каком материке западного полушария растёт берёза?

На карте Земли показаны территории обитания берёзы.



20. На каком самом большом острове обитает полярная сова?

На карте Земли показаны территории обитания полярной совы.

