



ВСЕРОССИЙСКАЯ ОЛИМПИАДА ШКОЛЬНИКОВ
ПО ОБЖ. 2017–2018 уч. г.
МУНИЦИПАЛЬНЫЙ ЭТАП. 10–11 КЛАССЫ

Уважаемый участник!

При выполнении заданий Вам предстоит выполнить определённую работу, которую лучше организовать следующим образом:


- внимательно прочитайте задание;
- если Вы отвечаете на теоретический вопрос или решаете ситуационную задачу, обдумайте и сформулируйте конкретный ответ (ответ должен быть кратким, и его содержание следует вписать в отведённое поле; пишите чётко и разборчиво);
- при ответе на тестовые задания определите верный ответ и обведите кружком букву (буквы), соответствующую(-ие) выбранному Вами ответу.

За каждый правильный ответ Вы можете получить определённое членами жюри количество баллов, не выше указанной максимальной оценки.

Сумма набранных баллов за все решённые вопросы в двух форматах – итог Вашей работы. Максимальное количество баллов – 100.

Задания считаются выполненными, если Вы вовремя сдали их членам жюри.

Желаем успеха!



Тестовые задания

Определите один правильный ответ.
За правильный ответ начисляется 2 балла.

1. Что означает знак международной авиационной аварийной жестовой сигнализации «У стоящего человека правая рука вытянута вверх, левая опущена вдоль туловища»?

- а) Здесь возможна посадка
- б) Всё в порядке
- в) Утвердительный ответ (да)
- г) Двигаться не можем. Остаёмся на месте

2. При сходе с эскалатора вещи пассажира попали в гребёнку эскалатора. Какое действие следует выполнить очевидцу происшествия?

- а) быстро помочь пассажиру освободить зажатые вещи
- б) постараться быстро найти сотрудника метрополитена или полиции и сообщить о происшедшем
- в) незамедлительно остановить эскалатор ручкой «Стоп», находящейся на балюстраде
- г) предупредить пассажиров, находящихся на эскалаторе, о происшедшем

3. На какой из картинок изображен флаг министерства обороны РФ?

а)




б)



в)



г)



4. Кто принимает решение о применении Вооруженными Силами Российской Федерации вооружения с территории Российской Федерации против находящихся за ее пределами террористов?

- а) Президент Российской Федерации
- б) Государственная Дума Федерального Собрания Российской Федерации
- в) Министр обороны Российской Федерации по согласованию с Президентом Российской Федерации
- г) Совет Федерации Федерального Собрания Российской Федерации

5. Укажите государя Руси, который первым начал формировать «полки нового строя».

- а) Михаил Федорович
- б) Алексей Михайлович
- в) Петр I
- г) Софья Алексеевна

6. Укажите смысловое обозначение данного предписывающего знака.

- а) «Защитные перчатки снимать здесь»
- б) «Работать без защитных перчаток»
- в) «Место хранения защитных перчаток»
- г) «Работать в защитных перчатках»




7. Какая из ЧС относится к геофизическим?

- а) сель
- б) засуха
- в) тайфун
- г) землетрясение

8. Как должен поступить гражданин, имеющий законную отсрочку от призыва на военную службу, в случае получения повестки из военного комиссариата?

- а) может не прибывать в военный комиссариат в связи с наличием законной отсрочки от призыва на военную службу
- б) в установленные время и место явиться в военный комиссариат
- в) в письменной форме незамедлительно уведомить военного комиссара о наличии у него законной отсрочки от призыва на военную службу
- г) направить в военный комиссариат любого из своих родителей (своего законного представителя)



9. Укажите отравляющее вещество нервнопаралитического действия?

- а) фосген
- б) синильная кислота
- в) иприт
- г) зоман

10. С помощью какого механизма передачи передаётся корь?

- а) фекально-оральный
- б) кровяной (трансмиссивный)
- в) аэрогенный (респираторный)
- г) контактный



Определите все правильные ответы.

За каждый правильный ответ начисляется 2 балла.

11. Какие военно-административные единицы НЕ являются военными округами ВС РФ в настоящее время?

- а) Восточный военный округ
- б) Западный военный округ
- в) Дальневосточный военный округ
- г) Центральный военный округ
- д) Северный военный округ

12. Что обязаны граждане Российской Федерации в области пожарной безопасности?

- а) принимать участие в установлении причин пожаров в помещениях и строениях, находящихся в их собственности (пользовании)
- б) иметь в помещениях и строениях, находящихся в их собственности (пользовании), первичные средства тушения пожаров и противопожарный инвентарь
- в) тушить пожар в помещениях и строениях, находящихся в их собственности (пользовании), с использованием первичных средств пожаротушения
- г) обеспечивать себя средствами индивидуальной защиты органов дыхания
- д) оказывать содействие пожарной охране при тушении пожаров

13. Какие рода войск входят в состав воздушно-космических сил РФ?


- а) военно-воздушные силы
- б) десантно-штурмовые войска
- в) ракетные войска и артиллерия
- г) космические войска
- д) мотострелковые войска

14. Какую ответственность несут граждане РФ за осуществление экстремистской деятельности?

- а) материальную
- б) гражданскую
- в) уголовную
- г) дисциплинарную
- д) административную

15. Кто обязан оказывать первую помощь пострадавшим?

- а) каждый гражданин, достигший совершеннолетия
- б) учащиеся
- в) работники Государственной противопожарной службы
- г) сотрудники органов внутренних дел
- д) свидетели происшествия



16. Какие из боевых отравляющих веществ относятся к нервнопаралитическим?

- а) АС
- б) СG
- в) GB
- г) VX
- д) СК

17. Укажите номера телефонов экстренных служб оператора «Мегафон».

- а) 01 б) 001 в) 101 г) 112 д) 201

18. Какие из перечисленных признаков являются достоверными при определении вывиха?

- а) изменение длины конечности
- б) наличие отёка
- в) появление боли
- г) деформация в области сустава
- д) присутствие синяка

19. Какие действия запрещается выполнять при ранении живота?

- а) давать пить и предлагать обезболивающий препарат
- б) прикладывать холод к животу
- в) прикрывать рану чистой салфеткой
- г) извлекать из раны инородный предмет
- д) протирать губы влажной салфеткой

20. Укажите явные признаки клинической смерти.

- а) наличие пульса на сонной артерии
- б) отсутствие пульса на запястье
- в) отсутствие дыхания
- г) стридорозное дыхание
- д) отсутствие пульса на сонной артерии






Не забудьте перенести Ваши ответы в таблицу на титульном листе.



Теоретические задания

1. На погонах офицеров, прапорщиков в соответствии с воинским званием размещают пятиконечные звезды.

Укажите (на погонах) в порядке старшинства, как обозначаются воинские звания младшего лейтенанта, капитана, лейтенанта, старшего прапорщика, полковника, подпишите их.







Максимальная оценка за правильно выполненное задание – **10 баллов.**

Не забудьте перенести Ваши ответы в бланк работы.



2. Комбинации знаков безопасности применяются для сообщения необходимой информации людям, находящимся в общественных местах и на производственных объектах, что исключает или снижает воздействие опасных и вредных факторов на их жизнь и здоровье.


Проанализируйте комбинации знаков. Раскройте смысловое значение указанных комбинаций.

А		
Б		
В		
Г		

Максимальная оценка за правильно выполненное задание – **10 баллов**.




3. На рисунке линии и точки изображают один из способов измерения ширины реки.








1. Как называется данный способ?
2. Используя рисунок, дайте описание данного способа.
3. Чему равна ширина реки ВД?

Максимальная оценка за правильно выполненное задание – **10 баллов**.

Не забудьте перенести Ваши ответы в бланк работы.



4. Для предупреждения людей о существующей опасности применяются условные обозначения. Знание условных обозначений помогает людям сохранить жизнь и здоровье. Укажите стрелками соответствие между знаками и их названиями, ответ запишите в таблицу.

А	
Б	
В	
Г	
Д	

Опасно. Ядовитые вещества	1
Опасно. Радиоактивные вещества или ионизирующее излучение	2
Осторожно. Биологическая опасность	3
Пожароопасно. Легко воспламеняющиеся вещества	4
Взрывоопасно	5

А	Б	В	Г	Д

Максимальная оценка за правильно выполненное задание – **10 баллов**.

Не забудьте перенести Ваши ответы в бланк работы.

Максимум за работу 100 баллов.

