

## Входная контрольная работа по МАТЕМАТИКЕ

## Вариант № 4

## Инструкция по выполнению работы

Работа состоит из двух модулей: «Алгебра» и «Геометрия». Всего в работе 26 заданий. Модуль «Алгебра» содержит семнадцать заданий: в части 1 – четырнадцать заданий; в части 2 – три задания. Модуль «Геометрия» содержит девять заданий: в части 1 – шесть заданий; в части 2 – три задания.

На выполнение работы по математике отводится 3 часа 55 минут (235 минут).

Ответы к заданиям 2, 3, 14 запишите в бланк ответов № 1 в виде одной цифры, которая соответствует номеру правильного ответа.

Для остальных заданий части 1 ответом является число или последовательность цифр. Ответ запишите в поле ответа в тексте работы, а затем перенесите в бланк ответов № 1. Если в ответе получена обыкновенная дробь, обратите её в десятичную.

Решения заданий части 2 и ответы к ним запишите на бланке ответов № 2. Задания можно выполнять в любом порядке, начиная с любого модуля. Текст задания переписывать не надо, необходимо только указать его номер.

Сначала выполняйте задания части 1. Начать советуем с тех заданий, которые вызывают у Вас меньше затруднений, затем переходите к другим заданиям. Для экономии времени пропускайте задание, которое не удаётся выполнить сразу, и переходите к следующему. Если у Вас останется время, Вы сможете вернуться к пропущенным заданиям.

При выполнении части 1 все необходимые вычисления, преобразования выполняйте в черновике. Записи в черновике не учитываются при оценивании работы. Если задание содержит рисунок, то на нём непосредственно в тексте работы можно выполнять необходимые Вам построения. Рекомендуем внимательно читать условие и проводить проверку полученного ответа.

При выполнении работы Вы можете воспользоваться справочными материалами, выданными вместе с вариантом.

Баллы, полученные Вами за выполненные задания, суммируются. Постарайтесь выполнить как можно больше заданий и набрать наибольшее количество баллов.

*Желаем успеха!*

## СПРАВОЧНЫЕ МАТЕРИАЛЫ ПО МАТЕМАТИКЕ

## АЛГЕБРА

- Формула корней квадратного уравнения:

$$x = \frac{-b \pm \sqrt{D}}{2a}, \text{ где } D = b^2 - 4ac.$$

- Если квадратный трехчлен  $ax^2 + bx + c$  имеет два корня  $x_1$  и  $x_2$ , то

$$ax^2 + bx + c = a(x - x_1)(x - x_2);$$

если квадратный трехчлен  $ax^2 + bx + c$  имеет единственный корень  $x_0$ , то

$$ax^2 + bx + c = a(x - x_0)^2.$$

- Формула  $n$ -го члена арифметической прогрессии  $(a_n)$ , первый член которой равен  $a_1$  и разность равна  $d$ :

$$a_n = a_1 + d(n - 1).$$

- Формула суммы первых  $n$  членов арифметической прогрессии

$$S_n = \frac{(a_1 + a_n)n}{2}.$$

- Формула  $n$ -го члена геометрической прогрессии  $(b_n)$ , первый член которой равен  $b_1$ , а знаменатель равен  $q$ :

$$b_n = b_1 \cdot q^{n-1}$$

- Формула суммы первых  $n$  членов геометрической прогрессии

$$S_n = \frac{(q^n - 1)b_1}{q - 1}.$$

Таблица квадратов двузначных чисел

		Единицы									
		0	1	2	3	4	5	6	7	8	9
Десятки	1	100	121	144	169	196	225	256	289	324	361
	2	400	441	484	529	576	625	676	729	784	841
	3	900	961	1024	1089	1156	1225	1296	1369	1444	1521
	4	1600	1681	1764	1849	1936	2025	2116	2209	2304	2401
	5	2500	2601	2704	2809	2916	3025	3136	3249	3364	3481
	6	3600	3721	3844	3969	4096	4225	4356	4489	4624	4761
	7	4900	5041	5184	5329	5476	5625	5776	5929	6084	6241
	8	6400	6561	6724	6889	7056	7225	7396	7569	7744	7921
	9	8100	8281	8464	8649	8836	9025	9216	9409	9604	9801

## ГЕОМЕТРИЯ

- Сумма углов выпуклого  $n$ -угольника равна  $180^\circ(n - 2)$ .
- Радиус  $r$  окружности, вписанной в правильный треугольник со стороной  $a$ , равен  $\frac{\sqrt{3}}{6}a$ .
- Радиус  $R$  окружности, описанной около правильного треугольника со стороной  $a$ , равен  $\frac{\sqrt{3}}{3}a$ .
- Для треугольника  $ABC$  со сторонами  $AB = c$ ,  $AC = b$ ,  $BC = a$ :

$$\frac{a}{\sin A} = \frac{b}{\sin B} = \frac{c}{\sin C} = 2R,$$

где  $R$  – радиус описанной окружности.

- Для треугольника  $ABC$  со сторонами  $AB = c$ ,  $AC = b$ ,  $BC = a$ :

$$c^2 = a^2 + b^2 - 2ab \cos C.$$

- Формула длины  $l$  окружности радиуса  $R$ :

$$l = 2\pi R.$$

- Формула длины  $l$  дуги окружности радиуса  $R$ , на которую опирается центральный угол в  $\varphi$  градусов:

$$l = \frac{2\pi R \varphi}{360}.$$

- Формула площади  $S$  параллелограмма со стороной  $a$  и высотой  $h$ , проведённой к этой стороне:  $S = ah$ .

- Формула площади  $S$  треугольника со стороной  $a$  и высотой  $h$ , проведённой к этой стороне:

$$S = \frac{1}{2}ah.$$

- Формула площади  $S$  трапеции с основаниями  $a$ ,  $b$  и высотой  $h$ :

$$S = \frac{a+b}{2}h.$$

- Формула площади  $S$  круга радиуса  $R$ :  $S = \pi R^2$ .

Часть 1

Ответами к заданиям 1–20 являются цифра, число или последовательность цифр, которые следует записать в БЛАНК ОТВЕТОВ № 1 справа от номера соответствующего задания, начиная с первой клеточки. Если ответом является последовательность цифр, то запишите её без пробелов, запятых и других дополнительных символов. Каждый символ пишите в отдельной клеточке в соответствии с приведёнными в бланке образцами.

Модуль «Алгебра»

1. Найдите значение выражения  $\frac{11}{4} + \frac{6}{5}$ .

Ответ: \_\_\_\_\_.

2. В таблице приведены размеры штрафов, установленные на территории России с 1 сентября 2013 года, за превышение максимальной разрешённой скорости, зафиксированное с помощью средств автоматической фиксации.

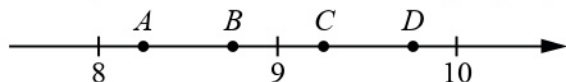
Превышение скорости (в км/ч)	21–40	41–60	61–80	81 и более
Размер штрафа (в руб.)	500	1000	2000	5000

Какой штраф должен заплатить владелец автомобиля, зафиксированная скорость которого составила 182 км/ч на участке дороги с максимальной разрешённой скоростью 100 км/ч?

- 1) 500 рублей    2) 1000 рублей    3) 2000 рублей    4) 5000 рублей

Ответ:

3. На координатной прямой отмечены точки  $A, B, C$ , и  $D$ .



Одна из них соответствует числу  $\frac{107}{13}$ . Какая это точка?

- 1) точка  $A$     2) точка  $B$     3) точка  $C$     4) точка  $D$

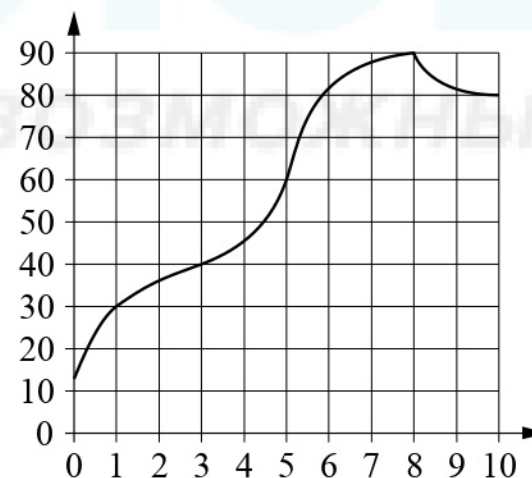
Ответ:

4. Какое из данных ниже чисел является значением выражения  $\frac{(2\sqrt{3})^2}{12}$ ?

- 1) 3    2)  $\frac{1}{2}$     3)  $\frac{3}{2}$     4) 1

Ответ:

5. На графике показано изменение температуры в процессе разогрева двигателя легкового автомобиля. На горизонтальной оси отмечено время в минутах, прошедшее с момента запуска двигателя, на вертикальной оси — температура двигателя в градусах Цельсия. Определите по графику, за сколько минут двигатель нагреется с  $30^\circ\text{C}$  до  $60^\circ\text{C}$ .



Ответ: \_\_\_\_\_.



6. Решите уравнение  $10x^2 = 80x$ .

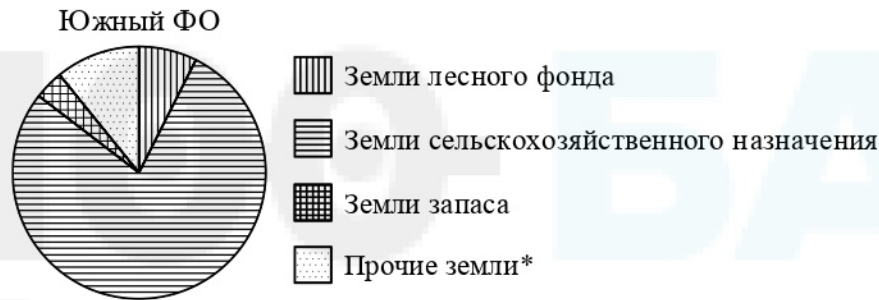
Если уравнение имеет более одного корня, в ответ запишите меньший из корней.

Ответ: \_\_\_\_\_.

7. Поступивший в продажу в феврале мобильный телефон стоил 1800 рублей. В июне он стал стоить 1530 рублей. На сколько процентов снизилась цена на мобильный телефон в период с февраля по июнь?

Ответ: \_\_\_\_\_.

8. На диаграмме показано распределение земель Южного федерального округа по категориям. Определите, земли какой категории преобладают.



\*Прочие земли — это земли поселений; земли промышленности и иного специального назначения; земли особо охраняемых территорий и объектов

- 1) Земли лесного фонда
- 2) Земли сельскохозяйственного назначения
- 3) Земли запаса
- 4) Прочие земли

В ответе запишите номер выбранного варианта ответа.

Ответ: \_\_\_\_\_.

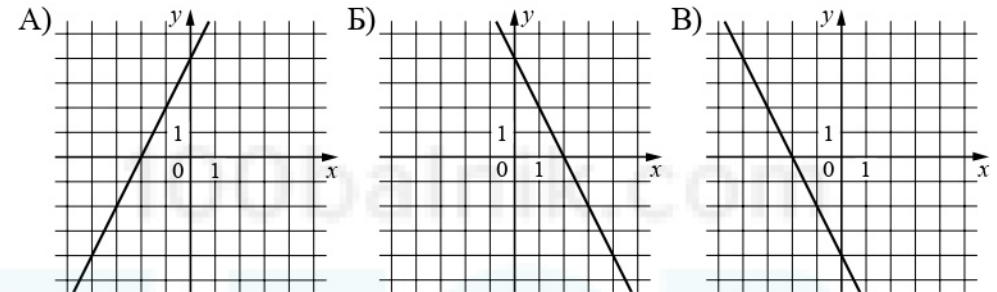
9. Родительский комитет закупил 10 пазлов для подарков детям в связи с окончанием учебного года, из них 4 с машинами и 6 с видами городов. Подарки распределяются случайным образом между 10

детьми, среди которых есть Володя. Найдите вероятность того, что Володе достанется пазл с машиной.

Ответ: \_\_\_\_\_.

10. Установите соответствие между графиками функций и формулами, которые их задают.

ГРАФИКИ



ФОРМУЛЫ

- 1)  $y = 2x + 4$
- 2)  $y = -2x - 4$
- 3)  $y = -2x + 4$

В таблице под каждой буквой укажите соответствующий номер.

Ответ:

А	Б	В

11. Найдите значение выражения  $\frac{a^3 \cdot a^4}{a^8}$  при  $a = \frac{1}{3}$

Ответ: \_\_\_\_\_.

12. Найдите значение выражения  $\frac{c^2 - ac}{a^2} : \frac{c - a}{a}$  при  $a = 5, c = 26$ .

Ответ: \_\_\_\_\_.

13. Мощность постоянного тока (в ваттах) вычисляется по формуле  $P = I^2 R$ , где  $I$  – сила тока (в амперах),  $R$  – сопротивление (в омах). Пользуясь этой формулой, найдите сопротивление  $R$ , если мощность составляет 283,5 Вт, а сила тока равна 4,5 А. Ответ дайте в омах.

Ответ: \_\_\_\_\_.

14. Укажите решение системы неравенств

$$\begin{cases} x + 3,6 \leq 0, \\ x + 2 \leq -1. \end{cases}$$

1)  $(-\infty; -3,6] \cup [-3; +\infty)$       3)  $[-3,6; -3]$

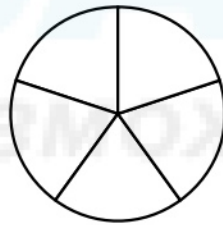
2)  $(-\infty; -3,6]$       4)  $[-3,6; +\infty)$

Ответ:

**Модуль «Геометрия»**

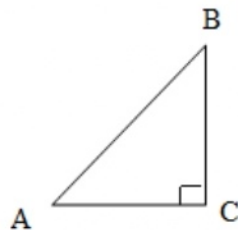
15. На рисунке изображено колесо с пятью спицами.

Сколько спиц в колесе, в котором угол между любыми соседними спицами равен  $15^\circ$ ?



Ответ: \_\_\_\_\_.

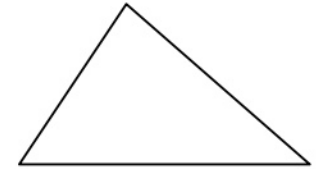
16. В треугольнике  $ABC$  угол  $C$  равен  $90$  градусов,  $AC = 4$ ,  $AB = 20$ . Найдите  $\sin B$ .



Ответ: \_\_\_\_\_.

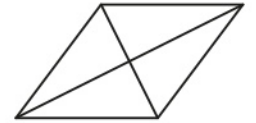
17. В треугольнике два угла равны  $72^\circ$  и  $42^\circ$ . Найдите его третий угол. Ответ дайте в градусах.

Ответ: \_\_\_\_\_.



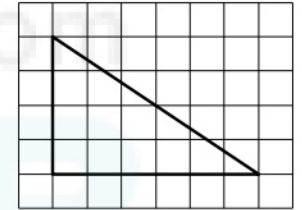
18. Найдите площадь ромба, если его диагонали равны 4 и 6.

Ответ: \_\_\_\_\_.



19. На клетчатой бумаге с размером клетки  $1 \times 1$  изображён прямоугольный треугольник. Найдите длину его большего катета.

Ответ: \_\_\_\_\_.



20. Какое из следующих утверждений верно?

- 1) Средняя линия трапеции равна полусумме её оснований.
- 2) Диагонали любого прямоугольника делят его на четыре равных треугольника.
- 3) Косинус острого угла прямоугольного треугольника равен отношению гипотенузы к прилежащему к этому углу катету.

В ответ запишите номер выбранного утверждения.

Ответ: \_\_\_\_\_.

*Не забудьте перенести все ответы в бланк ответов № 1 в соответствии с инструкцией по выполнению работы.*

## Часть 2

При выполнении заданий 21–26 используйте БЛАНК ОТВЕТОВ №2. Сначала укажите номер задания, а затем запишите его решение и ответ. Пишите чётко и разборчиво.

## Модуль «Алгебра»

21. Решите уравнение  $\frac{1}{(x-1)^2} + \frac{4}{x-1} - 12 = 0$ .

22. Свежие фрукты содержат 95% воды, а высушенные – 22%. Сколько сухих фруктов получится из 858 кг свежих фруктов?

23. Постройте график функции

$$y = \begin{cases} x^2 - 6x + 9 & \text{при } x \geq 2, \\ x - 1 & \text{при } x < 2. \end{cases}$$

Определите, при каких значениях  $m$  прямая  $y = m$  имеет с графиком ровно две общие точки.

## Модуль «Геометрия»

24. В параллелограмме  $ABCD$  сторона  $AB = 25$  см. Высота  $BH$  делит сторону  $AD$  параллелограмма на отрезки  $AH$  и  $HD$  соответственно 7 см и 2 см. Найдите площадь параллелограмма.

25. Биссектриса угла  $A$  параллелограмма  $ABCD$  пересекает сторону  $BC$  в точке  $K$ . Найдите периметр параллелограмма, если  $BK = 10$ ,  $CK = 18$ .

26. В остроугольном треугольнике  $ABC$  проведены высоты  $AA_1$  и  $CC_1$ . Докажите, что углы  $CC_1A_1$  и  $CAA_1$  равны.