

## Входная контрольная работа по МАТЕМАТИКЕ

## Вариант № 2

## Инструкция по выполнению работы

Работа состоит из двух модулей: «Алгебра» и «Геометрия». Всего в работе 26 заданий. Модуль «Алгебра» содержит семнадцать заданий: в части 1 – четырнадцать заданий; в части 2 – три задания. Модуль «Геометрия» содержит девять заданий: в части 1 – шесть заданий; в части 2 – три задания.

На выполнение работы по математике отводится 3 часа 55 минут (235 минут).

Ответы к заданиям 2, 3, 14 запишите в бланк ответов № 1 в виде одной цифры, которая соответствует номеру правильного ответа.

Для остальных заданий части 1 ответом является число или последовательность цифр. Ответ запишите в поле ответа в тексте работы, а затем перенесите в бланк ответов № 1. Если в ответе получена обыкновенная дробь, обратите её в десятичную.

Решения заданий части 2 и ответы к ним запишите на бланке ответов № 2. Задания можно выполнять в любом порядке, начиная с любого модуля. Текст задания переписывать не надо, необходимо только указать его номер.

Сначала выполняйте задания части 1. Начать советуем с тех заданий, которые вызывают у Вас меньше затруднений, затем переходите к другим заданиям. Для экономии времени пропускайте задание, которое не удаётся выполнить сразу, и переходите к следующему. Если у Вас останется время, Вы сможете вернуться к пропущенным заданиям.

При выполнении части 1 все необходимые вычисления, преобразования выполняйте в черновике. Записи в черновике не учитываются при оценивании работы. Если задание содержит рисунок, то на нём непосредственно в тексте работы можно выполнять необходимые Вам построения. Рекомендуем внимательно читать условие и проводить проверку полученного ответа.

При выполнении работы Вы можете воспользоваться справочными материалами, выданными вместе с вариантом.

Баллы, полученные Вами за выполненные задания, суммируются. Постарайтесь выполнить как можно больше заданий и набрать наибольшее количество баллов.

*Желаем успеха!*

## СПРАВОЧНЫЕ МАТЕРИАЛЫ ПО МАТЕМАТИКЕ

## АЛГЕБРА

- Формула корней квадратного уравнения:

$$x = \frac{-b \pm \sqrt{D}}{2a}, \text{ где } D = b^2 - 4ac.$$

- Если квадратный трехчлен  $ax^2 + bx + c$  имеет два корня  $x_1$  и  $x_2$ , то

$$ax^2 + bx + c = a(x - x_1)(x - x_2);$$

если квадратный трехчлен  $ax^2 + bx + c$  имеет единственный корень  $x_0$ , то

$$ax^2 + bx + c = a(x - x_0)^2.$$

- Формула  $n$ -го члена арифметической прогрессии  $(a_n)$ , первый член которой равен  $a_1$  и разность равна  $d$ :

$$a_n = a_1 + d(n - 1).$$

- Формула суммы первых  $n$  членов арифметической прогрессии

$$S_n = \frac{(a_1 + a_n)n}{2}.$$

- Формула  $n$ -го члена геометрической прогрессии  $(b_n)$ , первый член которой равен  $b_1$ , а знаменатель равен  $q$ :

$$b_n = b_1 \cdot q^{n-1}$$

- Формула суммы первых  $n$  членов геометрической прогрессии

$$S_n = \frac{(q^n - 1)b_1}{q - 1}.$$

Таблица квадратов двузначных чисел

		Единицы									
		0	1	2	3	4	5	6	7	8	9
Десятки	1	100	121	144	169	196	225	256	289	324	361
	2	400	441	484	529	576	625	676	729	784	841
	3	900	961	1024	1089	1156	1225	1296	1369	1444	1521
	4	1600	1681	1764	1849	1936	2025	2116	2209	2304	2401
	5	2500	2601	2704	2809	2916	3025	3136	3249	3364	3481
	6	3600	3721	3844	3969	4096	4225	4356	4489	4624	4761
	7	4900	5041	5184	5329	5476	5625	5776	5929	6084	6241
	8	6400	6561	6724	6889	7056	7225	7396	7569	7744	7921
	9	8100	8281	8464	8649	8836	9025	9216	9409	9604	9801

## ГЕОМЕТРИЯ

- Сумма углов выпуклого  $n$ -угольника равна  $180^\circ(n - 2)$ .
- Радиус  $r$  окружности, вписанной в правильный треугольник со стороной  $a$ , равен  $\frac{\sqrt{3}}{6}a$ .
- Радиус  $R$  окружности, описанной около правильного треугольника со стороной  $a$ , равен  $\frac{\sqrt{3}}{3}a$ .
- Для треугольника  $ABC$  со сторонами  $AB = c$ ,  $AC = b$ ,  $BC = a$ :

$$\frac{a}{\sin A} = \frac{b}{\sin B} = \frac{c}{\sin C} = 2R,$$

где  $R$  – радиус описанной окружности.

- Для треугольника  $ABC$  со сторонами  $AB = c$ ,  $AC = b$ ,  $BC = a$ :

$$c^2 = a^2 + b^2 - 2ab \cos C.$$

- Формула длины  $l$  окружности радиуса  $R$ :

$$l = 2\pi R.$$

- Формула длины  $l$  дуги окружности радиуса  $R$ , на которую опирается центральный угол в  $\varphi$  градусов:

$$l = \frac{2\pi R\varphi}{360}.$$

- Формула площади  $S$  параллелограмма со стороной  $a$  и высотой  $h$ , проведённой к этой стороне:  $S = ah$ .
- Формула площади  $S$  треугольника со стороной  $a$  и высотой  $h$ , проведённой к этой стороне:

$$S = \frac{1}{2}ah.$$

- Формула площади  $S$  трапеции с основаниями  $a$ ,  $b$  и высотой  $h$ :

$$S = \frac{a+b}{2}h.$$

- Формула площади  $S$  круга радиуса  $R$ :  $S = \pi R^2$ .

Часть 1

Ответами к заданиям 1–20 являются цифра, число или последовательность цифр, которые следует записать в БЛАНК ОТВЕТОВ № 1 справа от номера соответствующего задания, начиная с первой клеточки. Если ответом является последовательность цифр, то запишите её без пробелов, запятых и других дополнительных символов. Каждый символ пишите в отдельной клеточке в соответствии с приведёнными в бланке образцами.

Модуль «Алгебра»

1. Найдите значение выражения  $\frac{3}{4} + \frac{7}{25}$ .

Ответ: \_\_\_\_\_.

2. В таблице приведены размеры штрафов, установленные на территории России с 1 сентября 2013 года, за превышение максимальной разрешённой скорости, зафиксированное с помощью средств автоматической фиксации.

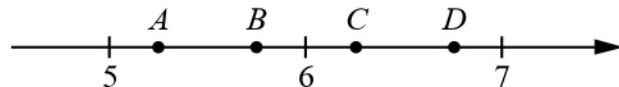
Превышение скорости (в км/ч)	21–40	41–60	61–80	81 и более
Размер штрафа (в руб.)	500	1000	2000	5000

Какой штраф должен заплатить владелец автомобиля, зафиксированная скорость которого составила 82 км/ч на участке дороги с максимальной разрешённой скоростью 40 км/ч?

1) 500 рублей    2) 1000 рублей    3) 2000 рублей    4) 5000 рублей

Ответ:

3. На координатной прямой отмечены точки  $A$ ,  $B$ ,  $C$ , и  $D$ .



Одна из них соответствует числу  $\frac{63}{11}$ . Какая это точка?

1) точка  $A$     2) точка  $B$     3) точка  $C$     4) точка  $D$

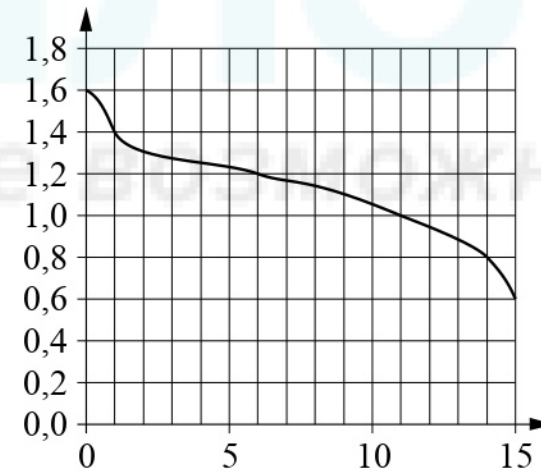
Ответ:

4. Какое из данных ниже чисел является значением выражения  $\frac{(8\sqrt{3})^2}{96}$ ?

1)  $\frac{1}{4}$     2) 2    3)  $\frac{3}{4}$     4) 6

Ответ:

5. При работе фонарика батарейка постепенно разряжается и напряжение в электрической цепи фонарика падает. На графике показана зависимость напряжения в цепи от времени работы фонарика. На горизонтальной оси отмечено время работы фонарика в часах, на вертикальной оси – напряжение в вольтах. Определите по графику, на сколько вольт упадёт напряжение с 6-го по 15-й час работы фонарика.



Ответ: \_\_\_\_\_.

6. Решите уравнение  $7x^2 = 42x$ .

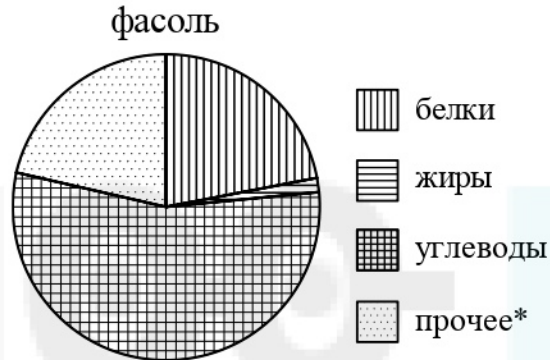
Если уравнение имеет более одного корня, в ответ запишите меньший из корней.

Ответ: \_\_\_\_\_.

7. Поступивший в продажу в апреле мобильный телефон стоил 5000 рублей. В июне он стал стоить 3150 рублей. На сколько процентов снизилась цена на мобильный телефон в период с апреля по июнь?

Ответ: \_\_\_\_\_.

8. На диаграмме показано содержание питательных веществ в фасоли. Определите по диаграмме, содержание каких веществ наименьшее.



\*к прочему относятся вода, витамины и минеральные вещества

1) белки      2) жиры      3) углеводы      4) прочее

В ответе запишите номер выбранного варианта ответа.

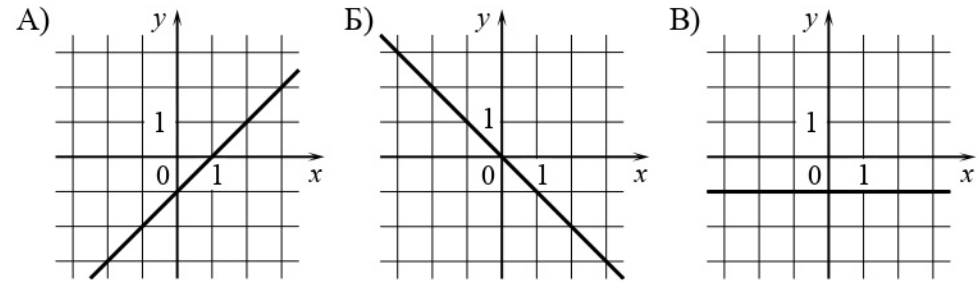
Ответ: \_\_\_\_\_.

9. Родительский комитет закупил 20 пазлов для подарков детям в связи с окончанием учебного года, из них 6 с машинами и 14 с видами городов. Подарки распределяются случайным образом между 20 детьми, среди которых есть Володя. Найдите вероятность того, что Володе достанется пазл с машиной.

Ответ: \_\_\_\_\_.

10. Установите соответствие между графиками функций и формулами, которые их задают.

ГРАФИКИ



ФОРМУЛЫ

1)  $y = -x$       2)  $y = -1$       3)  $y = x - 1$

В таблице под каждой буквой укажите соответствующий номер.

Ответ:

А	Б	В

11. Найдите значения выражения

при  $x = \frac{2}{3}$

$$\frac{x^{13} \cdot x^{14}}{x^{28}}$$

Ответ: \_\_\_\_\_.

12. Найдите значение выражения  $(4 - y)^2 - y(y + 1)$  при  $y = -\frac{1}{9}$ .

Ответ: \_\_\_\_\_.

13. Чтобы перевести значение температуры по шкале Цельсия в шкалу Фаренгейта, пользуются формулой  $t_F = 1,8t_C + 32$ , где  $t_C$  – температура в градусах Цельсия,  $t_F$  – температура в градусах Фаренгейта. Скольким градусам по шкале Фаренгейта соответствует  $-85$  градусов по шкале Цельсия?

Ответ: \_\_\_\_\_.

14. Укажите решение системы неравенств

$$\begin{cases} x + 4 \geq -1, \\ x + 1,4 \geq 0. \end{cases}$$

- 1)  $[-5; +\infty)$                       3)  $[-5; -1,4]$   
 2)  $[-1,4; +\infty)$                     4)  $(-\infty; -5] \cup [-1,4; +\infty)$

Ответ:

**Модуль «Геометрия»**

15. На рисунке изображено колесо с пятью спицами. Сколько спиц в колесе, в котором угол между любыми соседними спицами равен  $40^\circ$ ?



Ответ: \_\_\_\_\_.

16. В треугольнике  $ABC$  угол  $C$  равен  $90^\circ$ ,  $AC = 16$ ,  $AB = 40$ . Найдите  $\sin B$ .

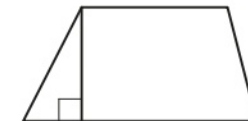


Ответ: \_\_\_\_\_.

17. Один из углов равнобедренного треугольника равен  $98$  градусов. Найдите меньший угол этого треугольника.

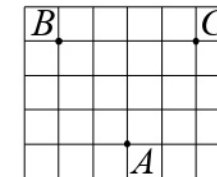
Ответ: \_\_\_\_\_.

18. Основания трапеции равны  $5$  и  $13$ , а высота равна  $9$ . Найдите площадь этой трапеции.



Ответ: \_\_\_\_\_.

19. На клетчатой бумаге с размером клетки  $1 \times 1$  отмечены три точки:  $A$ ,  $B$  и  $C$ . Найдите расстояние от точки  $A$  до середины отрезка  $BC$ .



Ответ: \_\_\_\_\_.

20. Какое из следующих утверждений верно?

- 1) Диагонали прямоугольника точкой пересечения делятся пополам.
- 2) Площадь трапеции равна произведению основания трапеции на высоту.
- 3) Каждая из биссектрис равнобедренного треугольника является его высотой.

В ответ запишите номер выбранного утверждения.

Ответ: \_\_\_\_\_.

**Не забудьте перенести все ответы в бланк ответов № 1 в соответствии с инструкцией по выполнению работы.**

## Часть 2

При выполнении заданий 21–26 используйте БЛАНК ОТВЕТОВ № 2. Сначала укажите номер задания, а затем запишите его решение и ответ. Пишите чётко и разборчиво.

## Модуль «Алгебра»

21. Решите уравнение:

$$\frac{1}{(x-1)^2} + \frac{5}{(x-1)} - 6 = 0$$

22. Свежие фрукты содержат 79% воды, а высушенные – 16%. Сколько сухих фруктов получится из 288 кг свежих фруктов?

23. Постройте график функции

$$y = \begin{cases} x^2 - 4x + 4 & \text{при } x \geq 0, \\ x + 4 & \text{при } x < 0. \end{cases}$$

Определите, при каких значениях  $m$  прямая  $y = m$  не имеет с графиком общих точек.

## Модуль «Геометрия»

24. В параллелограмме  $ABCD$  сторона  $AB = 13$  см. Высота  $BH$  делит сторону  $AD$  параллелограмма на отрезки  $AH$  и  $HD$  соответственно 5 см и 6 см. Найдите площадь параллелограмма.

25. Расстояние от точки пересечения диагоналей ромба до одной из его сторон равно 13, а одна из диагоналей ромба равна 52. Найдите углы ромба.

26. В остроугольном треугольнике  $ABC$  проведены высоты  $BB_1$  и  $CC_1$ . Докажите, что углы  $BB_1C_1$  и  $BCC_1$  равны.