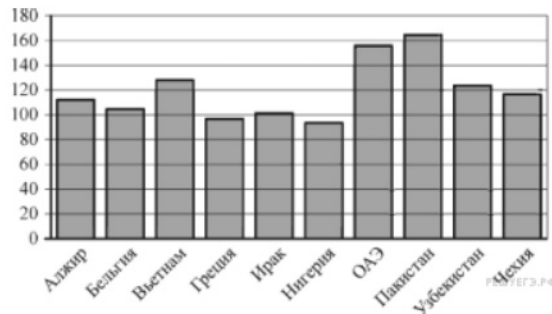


1.

На автозаправке клиент отдал кассиру 1000 рублей и залил в бак 28 литров бензина по цене 28 руб. 50 коп. за литр. Сколько рублей сдачи он должен получить у кассира?


2.

На диаграмме показано распределение выбросов углекислого газа в атмосферу в 10 странах мира (в миллионах тонн) за 2008 год. Среди представленных стран первое место по объёму выбросов занимал Пакистан, десятое место — Нигерия. Какое место среди представленных стран занимала Чехия?



3.

Найдите площадь четырехугольника, изображенного на клетчатой бумаге с размером клетки 1 см × 1 см (см. рис.). Ответ дайте в квадратных сантиметрах.



4.

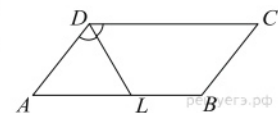
Из районного центра в деревню ежедневно ходит автобус. Вероятность того, что в понедельник в автобусе окажется меньше 20 пассажиров, равна 0,94. Вероятность того, что окажется меньше 15 пассажиров, равна 0,56. Найдите вероятность того, что число пассажиров будет от 15 до 19.

5.

Найдите корень уравнения $\sqrt{3x - 8} = 5$.

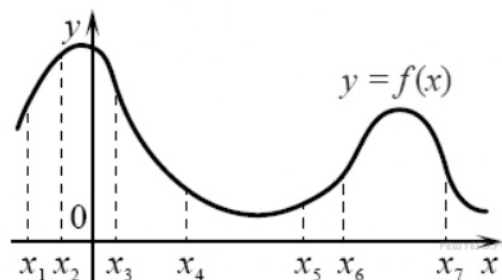
6.

Биссектриса тупого угла параллелограмма делит противоположную сторону в отношении 4 : 3, считая от вершины острого угла. Найдите большую сторону параллелограмма, если его периметр равен 88.



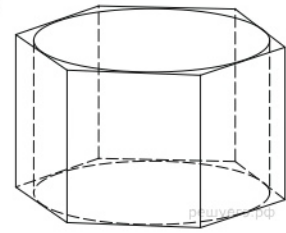
7.

На рисунке изображён график функции $y = f(x)$ и отмечены семь точек на оси абсцисс: $x_1, x_2, x_3, x_4, x_5, x_6, x_7$. В скольких из этих точек производная функции $f(x)$ отрицательна?



8.

Найдите площадь боковой поверхности правильной шестиугольной призмы, описанной около цилиндра, радиус основания которого равен $\sqrt{3}$, а высота равна 2.



9.

Найдите значение выражения $8 \sin \frac{5\pi}{12} \cdot \cos \frac{5\pi}{12}$.

10.

Катер должен пересечь реку шириной $L = 100$ м и со скоростью течения $u = 0,5$ м/с так, чтобы причалить точно напротив места отправления. Он может двигаться с разными скоростями, при этом время в пути, измеряемое в секундах, определяется выражением $t = \frac{L}{u} \operatorname{ctg} \alpha$, где α – острый угол, задающий направление его движения (отсчитывается от берега). Под каким минимальным углом α (в градусах) нужно плыть, чтобы время в пути было не больше 200 с?

11.

Вере надо подписать 640 открыток. Ежедневно она подписывает на одно и то же количество открыток больше по сравнению с предыдущим днем. Известно, что за первый день Вера подписала 10 открыток. Определите, сколько открыток было подписано за четвертый день, если вся работа была выполнена за 16 дней.

12.

Найдите точку минимума функции $y = x^{\frac{3}{2}} - 3x + 1$.

13.

Решите уравнение: $\sqrt{2x^2 - 5x + 12} + 2x^2 = 5x$.

14.

Ребро SA пирамиды $SABC$ перпендикулярно плоскости основания ABC .

а) Докажите, что высота пирамиды, проведенная из точки A , делится плоскостью, проходящей через середины ребер AB , AC и SA , пополам.

б) Найдите расстояние от вершины A до этой плоскости, если $SA = \sqrt{5}$, $AB = AC = 5$, $BC = 2\sqrt{5}$.

15.

Решите неравенство $2^{2x-x^2-1} + \frac{1}{2^{2x-x^2-1}} \leq 2$.

16.

Прямая, проходящая через вершину B прямоугольника $ABCD$ перпендикулярно диагонали AC , пересекает сторону AD в точке M , равноудаленной от вершин B и D .

а) Докажите, что $\angle ABM = \angle DBC = 30^\circ$.

б) Найдите расстояние от центра прямоугольника до прямой CM , если $BC = 9$.

17.

В июле 2016 года планируется взять кредит в банке на пять лет в размере S тыс рублей. Условия его возврата таковы:

- каждый январь долг возрастает на 20% по сравнению с концом предыдущего года;
- с февраля по июнь каждого года необходимо выплатить часть долга;
- в июле 2017, 2018 и 2019 долг остаётся равным S тыс. рублей;
- выплаты в 2020 и 2021 годах равны по 360 тыс. рублей;
- к июлю 2021 долг будет выплачен полностью.

Найдите общую сумму выплат за пять лет.

18.

Найдите все значения a , при каждом из которых наименьшее значение функции

$$f(x) = 4ax + |x^2 - 6x + 5|$$

больше, чем -24 .

19.

В ящике лежат 73 овоща, масса каждого из которых выражается целым числом граммов. В ящике есть хотя бы два овоща различной массы, а средняя масса всех овощей равна 1000 г. Средняя масса овощей, масса каждого из которых меньше 1000 г, равна 988 г. Средняя масса овощей, масса каждого из которых больше 1000 г, равна 1030 г.

а) Могло ли в ящике оказаться поровну овощей массой меньше 1000 г и овощей массой больше 1000 г?

б) Могло ли в ящике оказаться ровно 11 овощей, масса каждого из которых равна 1000 г?

в) Какую наименьшую массу может иметь овощ в этом ящике?

100balnik.com

100-БАЛЛОВ
Делаем невозможное возможным