

Вариант № 175022

1.


Найдите значение выражения  $94 : 2$ .

2.

Найдите значение выражения  $(26 + 18) : 2 - 7$ .

3.

Рассмотри рисунок и ответь на вопрос: сколько рублей надо заплатить за покупку, состоящую из четырёх теннисных ракеток и пяти теннисных мячей?



Запиши решение и ответ.

4.


На рисунке показан календарь на апрель 2013 года. Каким днём недели в 2013 году было 6 мая? Ответ приведите в именительном падеже.

Апрель

пн	вт	ср	чт	пт	сб	вс
1	2	3	4	5	6	7
8	9	10	11	12	13	14
15	16	17	18	19	20	21
22	23	24	25	26	27	28
29	30					

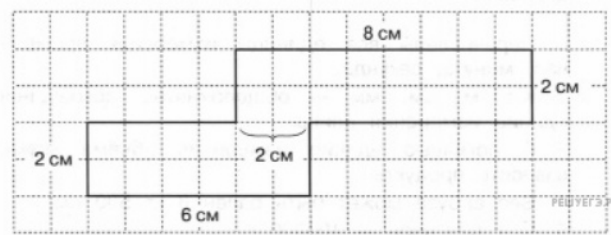
5.

Ширина каждого прямоугольника 10 мм. Длина указана на рисунке. Найди площадь заштрихованной фигуры (в мм<sup>2</sup>).



6.

Найди периметр многоугольника (в см).



7.

Чемпионат по хоккею проходил в четыре круга. Алексей следил за количеством заброшенных шайб своих любимых команд и записывал результаты в таблицу. Используя данные этой таблицы, ответь на вопросы.

Номер игрового круга	«Металлург»	«Салават Юлаев»	«Ак Барс»
Первый круг	32	35	29
Второй круг	40	45	34
Третий круг	37	38	30
Четвёртый круг	44	31	46

Сколько шайб было заброшено командой «Металлург» в четвёртом круге?

8.

Найди значение выражения  $18918 : 6 - 260 \cdot 6$ .

9.

Найди значение выражения  $(165 + 215) \cdot 13 - 35$ .

10.

В коробки разложили 6 кг печенья. В большую коробку помещается 600 г, а в маленькую — 400 г печенья. Было использовано 8 больших коробок. Сколько потребовалось маленьких коробок?

Запиши решение и ответ.

11.

Надежда Викторовна купила себе три шарфика: синий, чёрный и зелёный. Она решила каждый день с понедельника по пятницу ходить на работу в шарфиках разного цвета. Она надевала в понедельник синий шарфик, во вторник чёрный, в среду зелёный, в четверг снова синий, а в пятницу снова чёрный, в понедельник зелёный. И так она чередовала шарфики каждую неделю.

Какой шарфик Надежда Викторовна наденет во вторник на второй неделе?

12.

Надежда Викторовна купила себе три шарфика: синий, чёрный и зелёный. Она решила каждый день с понедельника по пятницу ходить на работу в шарфиках разного цвета. Она надевала в понедельник синий шарфик, во вторник чёрный, в среду зелёный, в четверг снова синий, а в пятницу снова чёрный, в понедельник зелёный. И так она чередовала шарфики каждую неделю.

Сколько раз за первые две недели Надежда Викторовна наденет чёрный шарфик?

13.

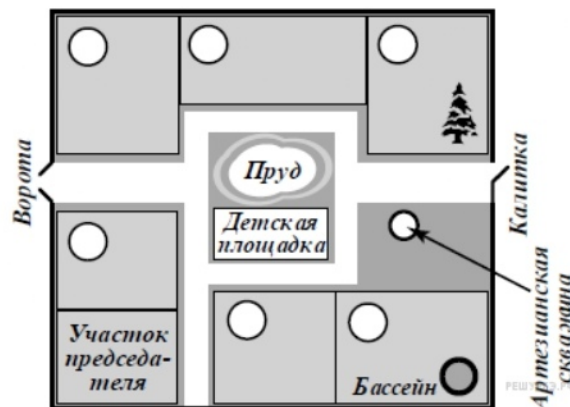
Марина написала сочинение «Наш дачный посёлок».

*Мы в школе недавно проходили, что такое артезианская скважина. Это когда из земли бьёт фонтан воды. Но в нашем посёлке из артезианской скважины вода бьёт не фонтаном, а маленьким фонтанчиком — даже ведро не наполнишь. Если встать около скважины лицом к пруду, то справа будет большая ель на участке Семёна Львовича. Он живёт на даче круглый год. А около самого пруда живёт сосед Семёна Львовича дядя Миша. Отчества дяди Миши я не знаю. Спрошу у бабушки. Наш дом ближе всех к детской площадке, когда я была маленькая, я там играла и качалась на качелях. Наш сосед Иван Михайлович у себя на участке устроил бассейн, и иногда мы туда ходим купаться, когда жарко.*

*Если въехать в наш посёлок через ворота, то справа у ворот дача Елены Сергеевны. Она раньше была актрисой в театре, а теперь на пенсии. Слева от ворот, напротив дома Елены Сергеевны, дача, где живёт Алексей Михайлович. Его участок граничит с дачей дяди Миши, но они почему-то не дружат и часто ссорятся. Мы с бабушкой ни с кем не ссоримся. Мою бабушку все в посёлке уважают. Она врач, и, если что-нибудь случится, все соседи к нам приходят за помощью.*

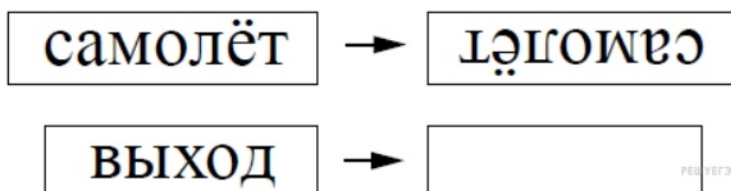
Рассмотри план дачного посёлка и, пользуясь описанием, которое дала Марина, обозначь цифрами на плане шесть участков.

1. Участок, где живёт автор сочинения Марина.
2. Участок Семёна Львовича.
3. Участок, где живёт дядя Миша.
4. Участок Ивана Михайловича.
5. Участок Елены Сергеевны.
6. Участок Алексея Михайловича.



14.

Поверни слово по образцу:



15.

Юра вырезал из бумаги несколько пятиугольников и семиугольников. Всего у вырезанных фигурок 41 вершина. Сколько пятиугольников вырезал Юра?

Запиши решение и ответ.

## Ключ

№ п/п	№ задания	Ответ
1	1116	47
2	935	15
3	270	3850 р.
4	895	понедельник
5	488	700
6	495	32
7	142	44
8	143	1593
9	77	4905
10	929	3 коробки.
11	1596	синий
12	1597	3
13	1045	4.