

## Тренировочная работа в формате ВПР 2019-2020 гг

по ГЕОГРАФИИ  
для 11 класса

Вариант ГГ1910401

### Инструкция по выполнению работы

Тренировочная работа включает в себя 17 заданий. На выполнение работы по географии отводится 1 час 30 минут (90 минут).

Записывайте ответы на задания в отведённом для этого месте в работе. В случае записи неверного ответа зачеркните его и запишите рядом новый.

При выполнении заданий Вы можете использовать необходимые карты атласов.

При выполнении заданий Вы можете использовать черновик. **Записи в черновике проверяться и оцениваться не будут.**

Советуем выполнять задания в том порядке, в котором они даны. Для экономии времени пропускайте задание, которое не удаётся выполнить сразу, и переходите к следующему. Если после выполнения всей работы у Вас останется время, Вы сможете вернуться к пропущенным заданиям.

Баллы, полученные Вами за выполненные задания, суммируются. Постарайтесь выполнить как можно больше заданий и набрать наибольшее количество баллов.

*Желаем успеха!*

- 1 Эффективность работы уличного освещения во многом зависит от продолжительности светового дня. Запишите названия перечисленных городов в порядке увеличения продолжительности светового дня 10 июня, начиная с города с наименьшей продолжительностью светового дня.

Архангельск  
Смоленск  
Новороссийск

Ответ: \_\_\_\_\_

- 2 В Краснодаре запущено производство авиационных аккумуляторных батарей. Карты какого географического района России необходимо выбрать, чтобы найти информацию, необходимую для оценки условий размещения данного предприятия?

Ответ: \_\_\_\_\_

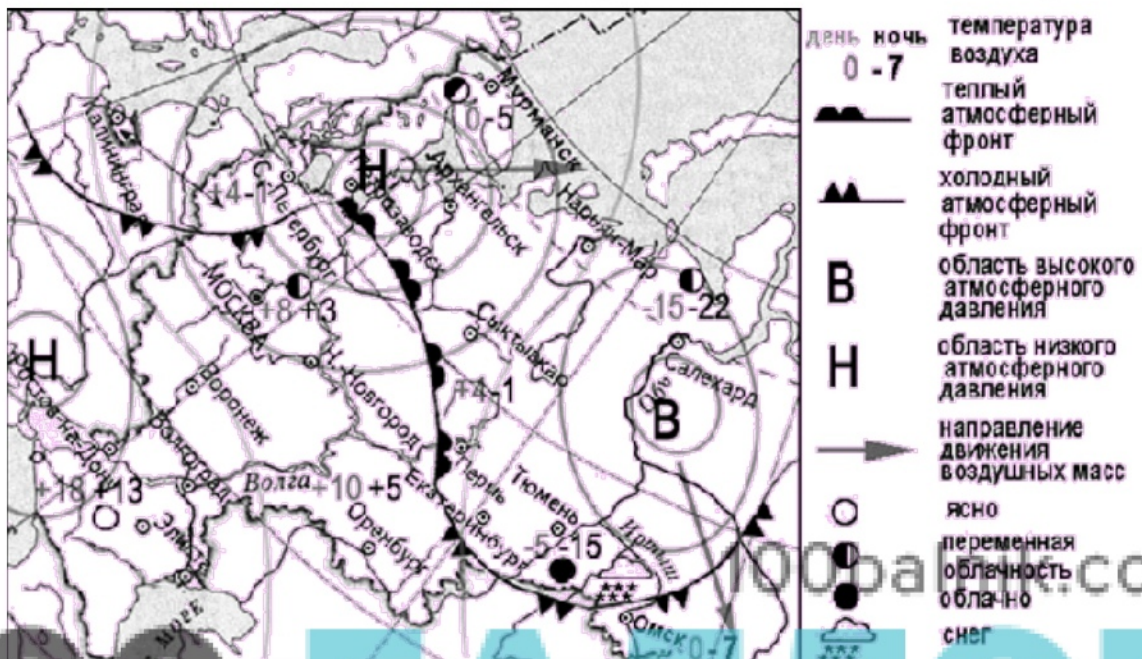
- 3 На металлургических комбинатах полного цикла происходят обогащение железной руды, выплавка чугуна и стали, а также производство проката. В каких трёх из перечисленных регионов работают металлургические комбинаты полного цикла? Запишите цифры, под которыми указаны эти регионы.

- 1) Вологодская область
- 2) Смоленская область
- 3) Липецкая область
- 4) Челябинская область
- 5) Магаданская область
- 6) Иркутская область

Ответ:

*Задания 4–6 выполняются с использованием приведённой ниже карты.*

**Карта прогноза погоды на 15 апреля (на 14 часов московского времени)**



4 С антициклонами обычно связана ясная погода. Назовите один (любой) город из числа показанных на карте, погоду в котором 15 апреля будет определять антициклон.

□ Ответ: \_\_\_\_\_

5 Алексей из Тулы прослушал прогноз погоды по радио: «Завтра, 16 апреля, ожидается переменная облачность, суточная амплитуда температур составит 5 градусов, температура воздуха в течение суток будет положительной, выпадения осадков не ожидается; в дальнейшем возможно похолодание», но не услышал, для его ли города этот прогноз был составлен. С помощью карты определите, для какого из показанных на карте городов был составлен этот прогноз.

□ Ответ: \_\_\_\_\_

6 Прочитайте прогноз погоды на 16 апреля для города Омска: «16 апреля в Омске заметно похолодает, температура днём опустится до минус 5 градусов, ожидается облачная погода, выпадет снег».

Объясните, почему в Омске ожидается выпадение атмосферных осадков.

Ответ: \_\_\_\_\_

\_\_\_\_\_

\_\_\_\_\_

7 Потенциал российских регионов для развития туризма огромен. Каждый из них имеет рекреационные ресурсы, способные привлечь тысячи туристов из России и зарубежных стран. Определите субъект Российской Федерации по описанию его рекреационного потенциала.

«"Янтарное посольство Деда Мороза" открылось в "Парке Янтарного периода" недалеко от курортного города Светлогорска, сообщает корреспондент РИА Новости.

"Все взрослые когда-то были детьми, поэтому наш праздник – для всех без исключения – сегодня мы открываем Янтарное посольство Деда Мороза в канун его дня рождения – такое единственное в мире. Это значит, что Дедушка Мороз навсегда поселится здесь, в «Парке Янтарного периода», – сказал на открытии автор проекта парка.

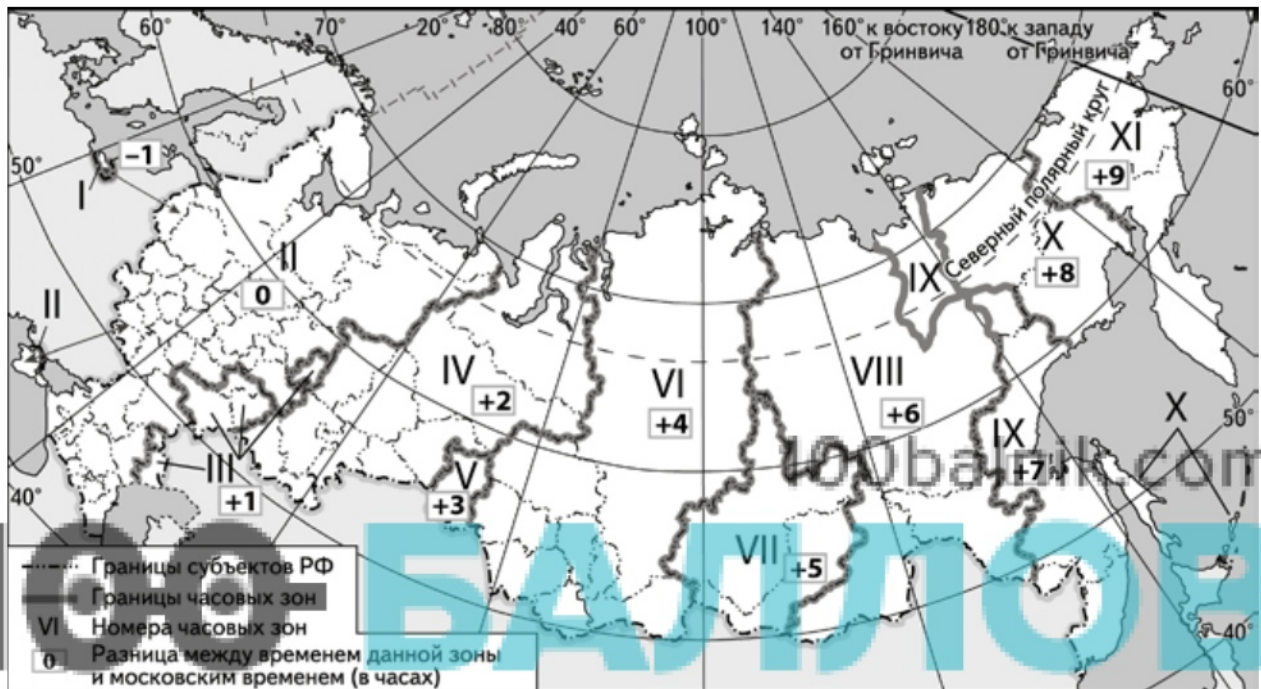
Каждые выходные дети смогут приехать в Янтарную резиденцию Деда Мороза и передать ему письмо со своими пожеланиями. Рядом с посольством расположилась мастерская Деда Мороза, где можно будет научиться рукоделию, поучаствовать в мастер-классах и играх».

*По данным РИА-Новости <https://ria.ru/20191117/1561044743.html>*

Ответ: \_\_\_\_\_

8

10 декабря 2019 г. в 20 часов 45 минут на официальном портале Красноярского края (VI часовая зона) появилась информация о том, что в Москве состоялось заседание Экспертного совета Красноярского экономического форума 2020 года. Используя карту, определите, в каких из перечисленных регионов о данной информации стало известно раньше 17 часов по местному времени. Запишите цифры, под которыми они указаны.



Делаем невозможное возможным

- 1) Рязанская область
- 2) Республика Саха (Якутия)
- 3) Амурская область
- 4) Республика Дагестан
- 5) Республика Тыва
- 6) Республика Ингушетия

Ответ: \_\_\_\_\_.

9 Прочитайте приведённый ниже текст, в котором пропущен ряд слов. Выберите из предлагаемого списка слова, которые необходимо вставить на места пропусков, обозначенных буквами. Обратите внимание на то, что слов в списке больше, чем Вам потребуется для заполнения пропусков. Каждое слово может быть использовано только один раз. Запишите в текст номера выбранных слов.

**Генсек ШОС оценил итоги заседания глав правительств стран организации**

«Определение стратегии экономического и гуманитарного взаимодействия в рамках Шанхайской организации сотрудничества до 2035 г. и принятие программы многостороннего торгово-экономического сотрудничества стали важнейшими итогами прошедшей в Ташкенте встречи глав правительств ШОС», – заявил на брифинге во вторник генеральный секретарь ШОС. Заседание совета глав правительств стран ШОС состоялось в Ташкенте 1-2 ноября. ШОС – \_\_\_\_\_ (А) организация, основанная в 2001 г. лидерами \_\_\_\_\_ (Б), России, Казахстана, Таджикистана, Киргизии и Узбекистана. На саммите ШОС в Астане 9 июня 2017 г. лидеры государств – членов ШОС подписали решение о приёме Индии и Пакистана в организацию. Странами-\_\_\_\_\_ (В) в организации на данный момент являются Афганистан, Белоруссия, Иран и Монголия, странами-партнёрами – Азербайджан, Армения, Камбоджа, Непал, Турция и Шри-Ланка.

*По данным РИА-Новости <https://ria.ru/20191112/1560841719.html>*

Список слов:

- 1) российская
- 2) Китай
- 3) участник
- 4) Бразилия
- 5) международная
- 6) наблюдатель

Запишите в таблицу под каждой буквой номер выбранного Вами слова (словосочетания).

Ответ:

	А	Б	В

- 10 На уроке школьники анализировали статистические данные, приведённые ниже в таблице, в целях сравнения индекса производства по виду экономической деятельности «Добыча полезных ископаемых» отдельных субъектов РФ в период с 2013-го по 2016 г. Ольга указала, что в Псковской области ежегодно происходило увеличение индекса производства по виду экономической деятельности «Добыча полезных ископаемых».

**Индекс производства по виду экономической деятельности «Добыча полезных ископаемых» по субъектам Российской Федерации**  
(в % к предыдущему году)

Субъект Федерации	2013 г.	2014 г.	2015 г.	2016 г.
1) Костромская область	109,4	122,2	95,1	79,0
2) Псковская область	119,9	109,2	111,6	104,7

Правильный ли вывод сделала Ольга? Свой ответ обоснуйте.

Ответ: \_\_\_\_\_

100balnik.com

**100-БАЛЛОВ**  
Делаем невозможное возможным

- 11 Какие из следующих высказываний верны? Запишите цифры, под которыми указаны эти высказывания.

- 1) Наиболее экономически развитые государства мира расположены только в Европе.
- 2) В последние годы темпы роста численности населения Земли существенно сократились.
- 3) Добыча полезных ископаемых открытым способом дешевле, чем подземным.
- 4) Увеличение содержания углекислого газа в атмосфере способствует усилению парникового эффекта.
- 5) Действие муссонов способствует равномерному распределению выпадения осадков в течение года.

Ответ: \_\_\_\_\_

- 12) Уровень экономического развития стран влияет на многие особенности их населения. Установите соответствие между страной и характерной особенностью её населения: к каждому элементу первого столбца подберите соответствующий элемент из второго столбца.

СТРАНА	ОСОБЕННОСТЬ НАСЕЛЕНИЯ
А) Кения	1) высокая (более 30 %) доля детей в общей численности населения
Б) Япония	2) высокая (более 75 лет) средняя ожидаемая продолжительность жизни
В) Монако	

Запишите в таблицу выбранные цифры под соответствующими буквами.

Ответ:
 

А	Б	В

- 13) В настоящее время ресурсобеспеченность стран мира топливными полезными ископаемыми является стратегическим вопросом энергетической безопасности. Учащиеся нашли в Интернете информацию о том, что разведанные запасы угля в США составляют 445 млрд. т, при этом объём ежегодной его добычи – 1020 млн т.

Определите ресурсобеспеченность США углём.

Ответ: \_\_\_\_\_ лет.



**Задания 14–16 выполняются с использованием приведённого ниже текста.**

**Четыре новых производства откроются на «Танеко» до конца года**

Четыре новых высокотехнологичных производства будут запущены до конца года на комплексе нефтеперерабатывающих и нефтехимических заводов «Танеко» в Нижнекамске, сообщил президент Республики Татарстан.

*По данным РИА Новости <https://ria.ru/20190925/1559104894.html>*

**14** Назовите один (любой) субъект РФ, сопредельный с Республикой Татарстан.

Ответ: \_\_\_\_\_

**15** Какая особенность хозяйства будет способствовать высокотехнологичному производству на комплексе нефтеперерабатывающих и нефтехимических заводов?

Ответ: \_\_\_\_\_

**16** Объясните, почему нефтеперерабатывающие и нефтехимические производства тяготеют к потребителю.

Ответ: \_\_\_\_\_  
\_\_\_\_\_  
\_\_\_\_\_  
\_\_\_\_\_

100balnik.com

**100-БАЛЛОВ**  
Делаем невозможное ВОЗМОЖНЫМ



## Тренировочная работа в формате ВПР 2019-2020 гг

по ГЕОГРАФИИ  
для 11 класса

Вариант ГГ1910402

### Инструкция по выполнению работы

Тренировочная работа включает в себя 17 заданий. На выполнение работы по географии отводится 1 час 30 минут (90 минут).

Записывайте ответы на задания в отведённом для этого месте в работе. В случае записи неверного ответа зачеркните его и запишите рядом новый.

При выполнении заданий Вы можете использовать необходимые карты атласов.

При выполнении заданий Вы можете использовать черновик. **Записи в черновике проверяться и оцениваться не будут.**

Советуем выполнять задания в том порядке, в котором они даны. Для экономии времени пропускайте задание, которое не удаётся выполнить сразу, и переходите к следующему. Если после выполнения всей работы у Вас останется время, Вы сможете вернуться к пропущенным заданиям.

Баллы, полученные Вами за выполненные задания, суммируются. Постарайтесь выполнить как можно больше заданий и набрать наибольшее количество баллов.

*Желаем успеха!*

- 1 Затраты на уличное освещение во многом зависят от продолжительности светового дня. Запишите названия перечисленных городов, в порядке уменьшения затрат на уличное освещение 22 декабря, начиная с города, с наибольшими затратами.

Москва  
Нарьян-Мар  
Воронеж

Ответ: \_\_\_\_\_

- 2 Завод по переработке полимеров открылся в Нижнем Новгороде. Карты какого географического района России необходимо выбрать, чтобы найти информацию, необходимую для оценки условий размещения данного предприятия?

Ответ: \_\_\_\_\_

- 3 Поскольку для производства бумаги требуется древесина и много воды, целлюлозно-бумажные комбинаты обычно размещают на берегах больших рек и в районах, обеспеченных лесом. В каких трёх из перечисленных регионов работают целлюлозно-бумажные комбинаты? Запишите в таблицу цифры, под которыми указаны эти регионы.

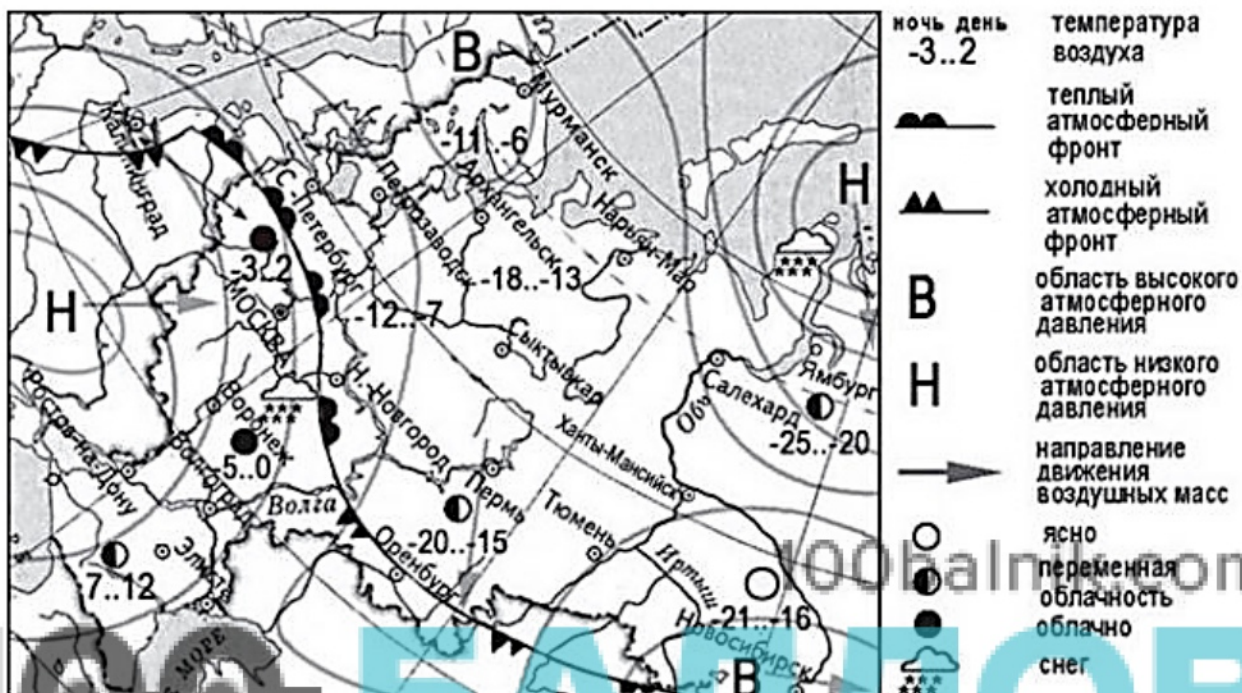
- 1) Республика Коми
- 2) Красноярский край
- 3) Волгоградская область
- 4) Республика Северная Осетия – Алания
- 5) Иркутская область
- 6) Краснодарский край

Ответ: 

--	--	--

Задания 4–6 выполняются с использованием приведённой ниже карты.

Карта прогноза погоды на 25 января



4 С антициклонами обычно связана ясная погода. Назовите один (любой) город из числа показанных на карте, погоду в котором 25 января будет определять антициклон.

Ответ: \_\_\_\_\_

5 Василий из Москвы прослушал прогноз погоды по радио: «Завтра, 26 января ожидается пасмурная погода, суточная амплитуда температур составит 5 градусов, температура воздуха в течение суток незначительно опустится ниже нуля, пройдёт снег», но не услышал, для его ли города этот прогноз был составлен. С помощью карты определите, для какого из показанных на карте городов был составлен этот прогноз.

Ответ: \_\_\_\_\_

- 6 Прочитайте прогноз погоды на 26 января для города Оренбурга: «26 января в Оренбурге заметно похолодает, температура днём опустится до минус 15 градусов, ожидается переменная облачность».

Объясните, почему в Оренбурге ожидается переменная облачность.

Ответ: \_\_\_\_\_

\_\_\_\_\_

\_\_\_\_\_

- 7 Потенциал российских регионов для развития туризма огромен. Каждый из них имеет рекреационные ресурсы, способные привлечь тысячи туристов из России и зарубежных стран. Определите субъект Российской Федерации по описанию его рекреационного потенциала.

«Заповедник "Остров Врангеля" расположен в физико-географической стране "Островная Арктика России", в зоне арктических тундр и полупустынь. Создание обширной охраняемой морской акватории вокруг островов Врангеля и Геральд обеспечило высокий природоохранный статус значительному по размеру району Арктики, имеющему экологическое значение планетарного масштаба. Этот акт имел также большое международное и геополитическое значение и стал существенным вкладом России в обеспечение экологического здоровья Арктики. Исторические объекты на территории заповедника связаны с новейшей историей открытия и освоения острова. Они представлены остатками стоянок первопоселенцев, развалинами избышек промысловиков, следами стоянок экспедиций. Они сохраняют следы прежних подходов к освоению Арктики, применявшихся в начале-середине XX в. и служат выразительной иллюстрацией того, к каким последствиям вели те или иные концепции освоения острова».

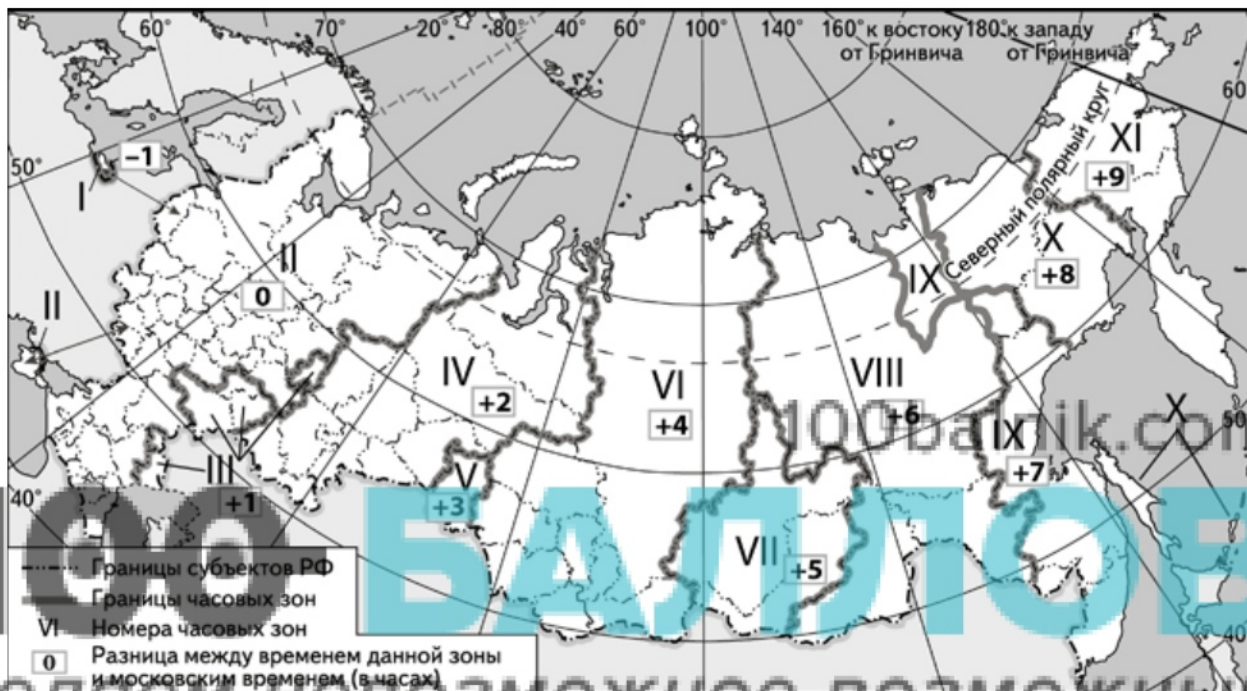
*По данным сайта*

*[http://www.mnr.gov.ru/activity/oopt/ostrov\\_vrangelya\\_gosudarstvennyy\\_prirodnyy\\_zapovednik/](http://www.mnr.gov.ru/activity/oopt/ostrov_vrangelya_gosudarstvennyy_prirodnyy_zapovednik/)*

Ответ: \_\_\_\_\_

8

28 января 2020 г. в 17 часов 22 минуты на официальном сайте XXIX Всемирной зимней универсиады 2019 г. в г. Красноярске (VI часовая зона) появилась информация о том, что на Красноярской ГЭС прошёл фестиваль керлинга Енисейской Сибири. Используя карту, определите, в каких из перечисленных регионов о данной информации стало известно раньше 18 часов по местному времени. Запишите цифры, под которыми они указаны.



- 1) Челябинская область
- 2) Республика Саха (Якутия)
- 3) Приморский край
- 4) Томская область
- 5) Хабаровский край
- 6) Пермский край

Ответ: \_\_\_\_\_.

- 9 Прочитайте приведённый ниже текст, в котором пропущен ряд слов. Выберите из предлагаемого списка слова, которые необходимо вставить на места пропусков, обозначенных буквами. Обратите внимание на то, что слов в списке больше, чем Вам потребуется для заполнения пропусков. Каждое слово может быть использовано только один раз. Запишите в текст номера выбранных слов.

### Крым

Социально-экономическое развитие Крыма и Севастополя должно сравняться со среднероссийскими показателями к 2022 г. Основными направлениями для Крыма являются развитие \_\_\_\_\_ (А) и энергетического комплекса, а также водообеспечение и инженерная инфраструктура. С 2015 г. валовый \_\_\_\_\_ (Б) продукт Крыма увеличился на 55%, Севастополя – на 66%. К 2022 г. поставлена задача удвоения валового регионального продукта и \_\_\_\_\_ (В) в 4,4 раза инвестиций в основной капитал на душу населения. Протяжённость автомобильных автодорог, которая соответствует нормативным требованиям, существенно выросла, а к 2022 г. с учётом реализации нацпроекта, комплексного плана развития магистральной инфраструктуры, количество дорог в Крыму и Севастополе удвоится.

По данным РИА-Новости

<https://crimea.ria.ru/economy/20190204/1116012210.html>

Список слов:

- 1) транспортный
- 2) сельскохозяйственный
- 3) национальный
- 4) региональный
- 5) увеличение
- 6) уменьшение

Запишите в таблицу под каждой буквой номер выбранного Вами слова.

Ответ:

А	Б	В



- 10 На уроке школьники анализировали статистические данные, приведённые ниже в таблице, в целях сравнения индекса производства по виду экономической деятельности «Добыча полезных ископаемых» отдельных субъектов РФ в период с 2013-го по 2016 г. Ольга указала, что в Саратовской области ежегодно происходило увеличение индекса производства по виду экономической деятельности «Добыча полезных ископаемых».

**Индекс производства по виду экономической деятельности «Добыча полезных ископаемых» по субъектам Российской Федерации**  
(в % к предыдущему году)

Субъект Федерации	2013 г.	2014 г.	2015 г.	2016 г.
1) Саратовская область	93,4	95,5	103,4	109,8
2) Самарская область	103,0	102,4	104,9	101,5

Правильный ли вывод сделала Ольга? Свой ответ обоснуйте.

Ответ: \_\_\_\_\_

100balnik.com

**100-БАЛЛОВ**  
Делаем невозможное возможным

- 11 Какие из следующих высказываний верны? Запишите цифры, под которыми указаны эти высказывания.

- 1) Наиболее экономически отсталые государства мира расположены в Африке.
- 2) Лидером по темпам прироста населения в мире является Африка.
- 3) Наибольшая доля парниковых газов в атмосферу поступает благодаря деятельности автомобильного транспорта, тепловой энергетики и металлургии.
- 4) Увеличение содержания кислорода в атмосфере способствует усилению парникового эффекта.
- 5) Действие пассатов способствует распределению осадков в умеренных широтах.

Ответ: \_\_\_\_\_

12

Уровень экономического развития стран влияет на многие особенности их населения. Установите соответствие между страной и характерной особенностью её населения: к каждому элементу первого столбца подберите соответствующий элемент из второго столбца.

СТРАНА	ОСОБЕННОСТЬ НАСЕЛЕНИЯ
А) Польша Б) Венгрия В) Судан	1) низкая (менее 30 %) доля детей в общей численности населения 2) низкая (менее 75 лет) средняя ожидаемая продолжительность жизни

Запишите в таблицу выбранные цифры под соответствующими буквами.

Ответ:

А	Б	В

100balnik.com

13

В настоящее время обеспеченность стран мира топливными полезными ископаемыми является стратегическим вопросом энергетической безопасности. Учащиеся нашли в Интернете информацию о том, что разведанные запасы угля в США составляют 445 млрд т, при этом подушевой показатель ресурсообеспеченности составляет 1324 т / чел. Определите численность населения США.

Ответ: \_\_\_\_\_ лет.

100 БАЛЛОВ  
 Делаем невозможное возможным

**Задания 14–16 выполняются с использованием приведённого ниже текста.**

**В Ленинградской области открылся новый завод по производству растворимого кофе**

В Всеволжском районе Ленинградской области группа компаний «Орими» открыла новый завод по производству растворимого кофе. Сейчас объём производства составляет 4200 тонн кофе в год, дальше увеличится до 8500 тонн. Объём инвестиций составил 6,4 млрд рублей, причём 60% из них – в оборудование и технологии. На заводе будет создано 510 рабочих мест.

*По данным сайта <http://ru-good.ru/category/manufacture/next/4>*

14 Назовите один (любой) субъект РФ, сопредельный с Ленинградской областью.

Ответ: \_\_\_\_\_ 100balnik.com

15 Какая особенность географического положения Ленинградской области будет способствовать работе предприятия по производству растворимого кофе?

Делаем невозможное возможным  
Ответ: \_\_\_\_\_

16 Объясните, какой фактор размещения, кроме относящегося к географическому положению, является определяющим при производстве кофе.

Ответ: \_\_\_\_\_  
\_\_\_\_\_  
\_\_\_\_\_  
\_\_\_\_\_

- 17 В Самарской области состоялось официальное открытие солнечной электростанции мощностью 75 МВт, расположенной рядом с Новокуйбышевском. Она стала самой крупной в Приволжском федеральном округе и одной из двух крупнейших солнечных электростанций в России, сообщает официальный портал областного правительства.

*По данным РИА Новости <https://ria.ru/20190521/1554702415.html>*

Существуют разные точки зрения относительно целесообразности и эффективности использования СЭС. Одни учёные и предприниматели считают их перспективными, а другие указывают на нецелесообразность их использования из-за больших затрат и сложностей в эксплуатации.

Выберите одну из упомянутых выше точек зрения и запишите рассуждения, подтверждающие эту точку зрения.

Ответ: \_\_\_\_\_

100balnik.com

**100-БАЛЛОВ**

**Делаем невозможное возможным**

---



---



---



---



---