

## Тренировочная работа в формате ВПР 2019-2020 гг

по ИСТОРИИ  
для 5 класса

Вариант ИС1950101

### Инструкция по выполнению работы

На выполнение работы по истории даётся 45 минут. Работа состоит из двух частей и включает в себя 8 заданий. Часть 1 работы содержит задания по истории Древнего мира, в части 2 предложены задания по истории родного края.

Ответы на задания запишите в поля ответов в тексте работы. В случае записи неверного ответа зачеркните его и запишите рядом новый.

При выполнении работы не разрешается пользоваться учебником, рабочими тетрадями и другими справочными материалами.

При необходимости можно пользоваться черновиком. Записи в черновике проверяться и оцениваться не будут.

Советуем выполнять задания в том порядке, в котором они даны. В целях экономии времени пропускайте задание, которое не удаётся выполнить сразу, и переходите к следующему. Если после выполнения всей работы у Вас останется время, то Вы сможете вернуться к пропущенным заданиям.

*Желаем успеха!*

## Часть 1

В этой части работы даны задания по истории Древнего мира.

Прочтите перечень из четырёх тем и выполните задания, относящиеся к этому перечню.

## Перечень тем


А) Вавилонское царство  
В) Древний Египет

Б) Древняя Греция  
Г) Древний Китай


- 1) Каждая из иллюстраций, приведённых ниже, относится к одной из указанных в перечне тем. Установите соответствие между темами и иллюстрациями: к каждой теме подберите по одной иллюстрации.



1)



2)



3)



4)

Запишите в таблицу выбранные цифры под соответствующими буквами.

Ответ:

А	Б	В	Г	Д

## Перечень тем

А) Вавилонское царство  
В) Древний Египет

Б) Древняя Греция  
Г) Древний Китай

- 2 Прочтите отрывок из исторического источника и определите, к какой из данных тем он относится. В ответе напишите букву, которой обозначена эта тема.

«Народ хотел поставить во главе полиса человека, который смог бы провести необходимые реформы. Взоры всех обратились на Солона. Богатые поддерживали его как человека зажиточного и осторожного, а бедные знали, что он не принимал участия в несправедливых делах эвпатридов. В 594 г до н. э. Солон избрали архонтом, чтобы он прекратил внутренние раздоры. Солон стал посредником между борющимися партиями и получил право отменять или сохранять старые законы и вводить новые».

Ответ:

*Выберите одну тему из перечня, а затем выполните относящиеся к этому перечню задания только по выбранной Вами теме. Перед выполнением каждого из относящихся к перечню заданий укажите букву, которой обозначена выбранная тема. Указанные в заданиях буквы должны быть одинаковыми.*

- 3 Выбранная тема:  (укажите букву в перечне).

Прочитайте список слов (словосочетаний) и напишите слово (словосочетание), относящееся к выбранной Вами теме.

*Поднебесная, десять заповедей, Циттар, лаконичная речь, Персеполь, Амон-Ра.*

Ответ:

Объясните смысл этого слова (словосочетания).

Ответ:

**Перечень тем**

- А) Вавилонское царство
- В) Древний Египет

- Б) Древняя Греция
- Г) Древний Китай

4

Выбранная тема:  (укажите букву в перечне).

Прочитайте список событий (явлений, процессов) и напишите событие (явление, процесс), которое относится к выбранной Вами теме.

*Троянская война, образование единого государства в долине Нила, изобретение древнейшего алфавита, легенда о принце Гаутаме, жизнь по законам царя Хаммурапи, жизнь по заветам Конфуция.*

Ответ: \_\_\_\_\_

Используя знания по истории, расскажите об этом событии (явлении, процессе). Ваш рассказ должен содержать не менее двух исторических фактов.

Ответ: \_\_\_\_\_

---

---

---

---

---

---

---

---

---

---

---

---

---

---

---

---

---

---

---

---

---

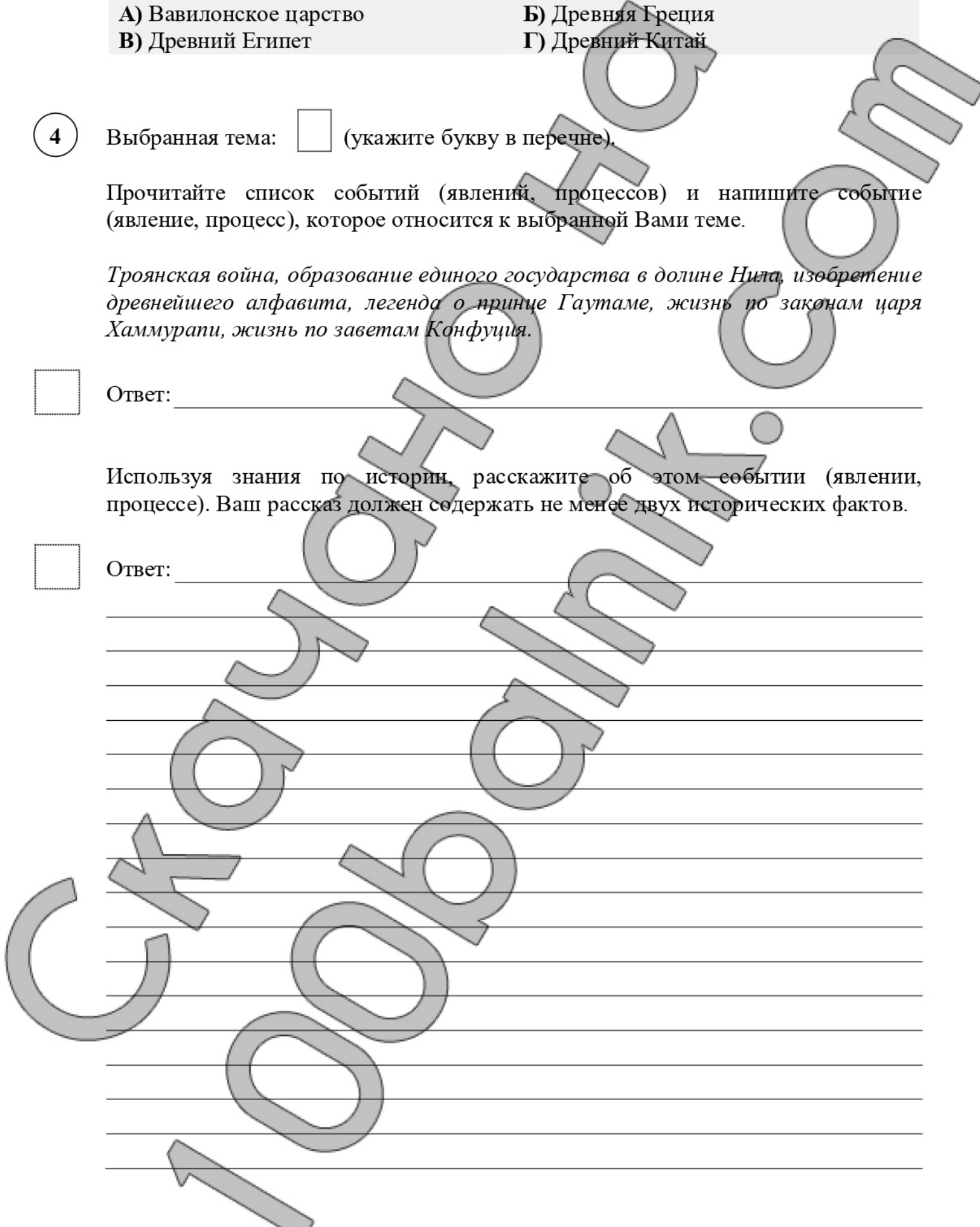
---

---

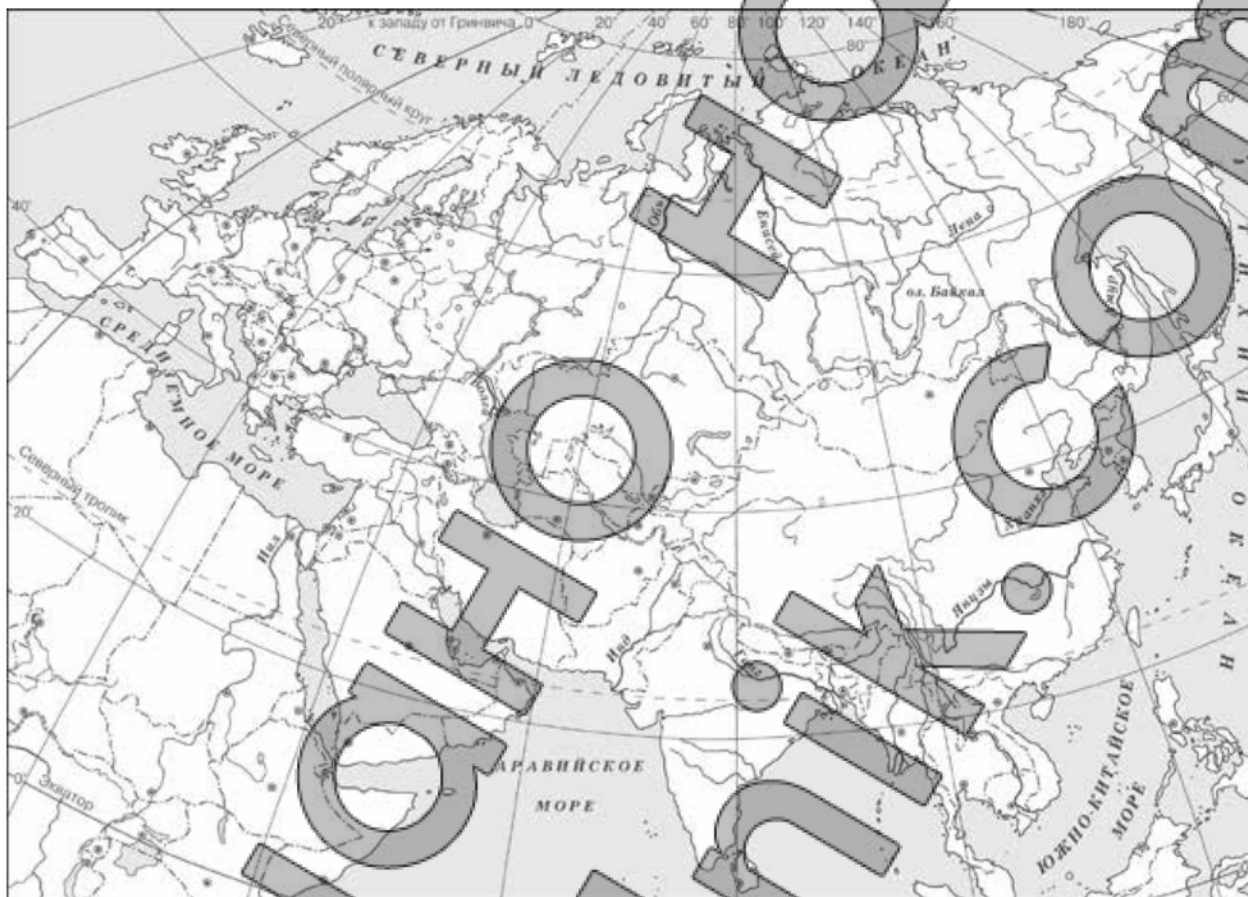
---

---

---



- 5 Заштрихуйте на контурной карте один четырёхугольник, образованный градусной сеткой (параллелями и меридианами), в котором располагался древний город Тир.



- 6 Используя знания исторических фактов, объясните, как природно-климатические условия повлияли на занятия населения страны, одним из крупнейших городов которой был древний город Тир.

Ответ:

---

---

---

---

---

---

---

---

**Часть 2**

**Вспомните важнейшие события истории Вашего региона или населённого пункта и выполните задания 7 и 8.**

7 Укажите одно название улицы любого населённого пункта, находящегося в Вашем регионе, которое носит имя участника Великой Отечественной войны.

Ответ: \_\_\_\_\_

8 Чем известен этот участник Великой Отечественной войны, каков его вклад в Великую Победу?

Ответ: \_\_\_\_\_

\_\_\_\_\_

\_\_\_\_\_

\_\_\_\_\_

\_\_\_\_\_

\_\_\_\_\_

\_\_\_\_\_

\_\_\_\_\_

\_\_\_\_\_

\_\_\_\_\_

\_\_\_\_\_

\_\_\_\_\_

\_\_\_\_\_

\_\_\_\_\_

\_\_\_\_\_

\_\_\_\_\_

\_\_\_\_\_

\_\_\_\_\_

\_\_\_\_\_

\_\_\_\_\_

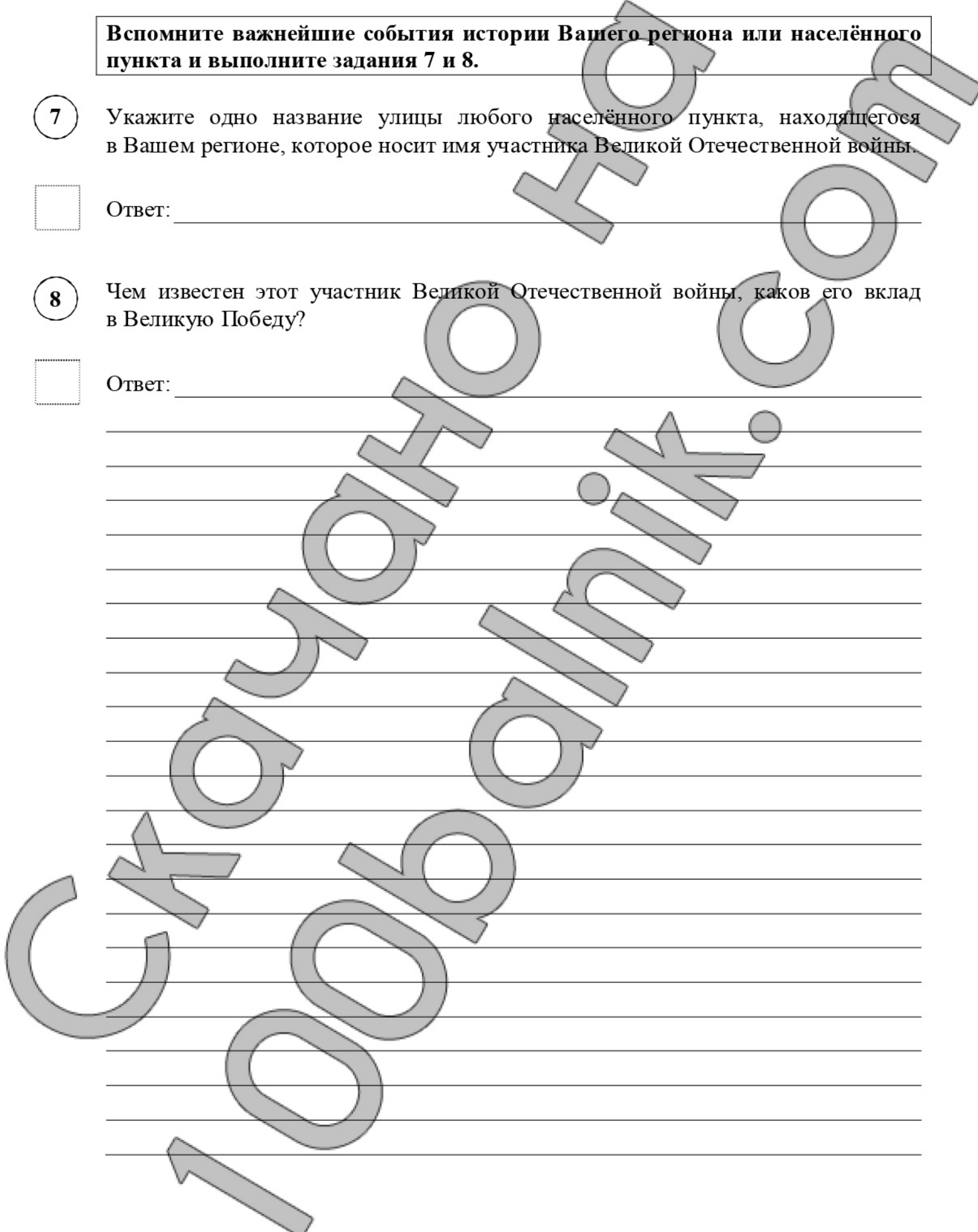
\_\_\_\_\_

\_\_\_\_\_

\_\_\_\_\_

\_\_\_\_\_

\_\_\_\_\_



## Тренировочная работа в формате ВПР 2019-2020 гг

по ИСТОРИИ  
для 5 класса

Вариант ИС1950102

### Инструкция по выполнению работы

На выполнение работы по истории даётся 45 минут. Работа состоит из двух частей и включает в себя 8 заданий. Часть 1 работы содержит задания по истории Древнего мира, в части 2 предложены задания по истории родного края.

Ответы на задания запишите в поля ответов в тексте работы. В случае записи неверного ответа зачеркните его и запишите рядом новый.

При выполнении работы не разрешается пользоваться учебником, рабочими тетрадями и другими справочными материалами.

При необходимости можно пользоваться черновиком. Записи в черновике проверяться и оцениваться не будут.

Советуем выполнять задания в том порядке, в котором они даны. В целях экономии времени пропускайте задание, которое не удаётся выполнить сразу, и переходите к следующему. Если после выполнения всей работы у Вас останется время, то Вы сможете вернуться к пропущенным заданиям.

*Желаем успеха!*

**Часть 1**

**В этой части работы даны задания по истории Древнего мира.**

*Прочтите перечень из четырёх тем и выполните задания, относящиеся к этому перечню.*

**Перечень тем**

- А) Древняя Палестина
- В) Древний Китай

- Б) Древняя Индия
- Г) Ассирийское государство

**1** Каждая из иллюстраций, приведённых ниже, относится к одной из указанных в перечне тем. Установите соответствие между темами и иллюстрациями: к каждой теме подберите по одной иллюстрации.



1)



2)



3)



4)

Запишите в таблицу выбранные цифры под соответствующими буквами.

Ответ:
 

А	Б	В	Г	Д



**Перечень тем**

А) Древняя Палестина  
В) Древний Китай

Б) Древняя Индия  
Г) Ассирийское государство

2

Прочтите отрывок из исторического источника и определите, к какой из данных тем он относится. В ответе напишите букву, которой обозначена эта тема.

«1. Три варны дваждырождённых, придерживающиеся своих обязанностей, пусть изучают [Веду], но из них только брахман может обучать [Веде], а не [члены] других двух [варн]: таково решение.

2. Брахману согласно правилу следует знать средства существования, [предписанные] для других, наставлять других и самому жить соответственно [дхарме].

3. Вследствие своей исключительности, превосходства происхождения, соблюдения ограничительных правил и особенности посвящения брахман – владыка варн.

4. Брахманы, кшатрии и вайшии – три варны дваждырождённых, четвёртая же – шудры – рождённые один раз, пятой же нет».

□ Ответ: □

*Выберите одну тему из перечня, а затем выполните относящиеся к этому перечню задания только по выбранной Вами теме. Перед выполнением каждого из относящихся к перечню заданий укажите букву, которой обозначена выбранная тема. Указанные в заданиях буквы должны быть одинаковыми.*

3

Выбранная тема: □ (укажите букву в перечне).

Прочитайте список слов (словосочетаний) и напишите слово (словосочетание), относящееся к выбранной Вами теме.

*Ганг, илоты, Великий шёлковый путь, Ниневия, Царская дорога, скрижали.*

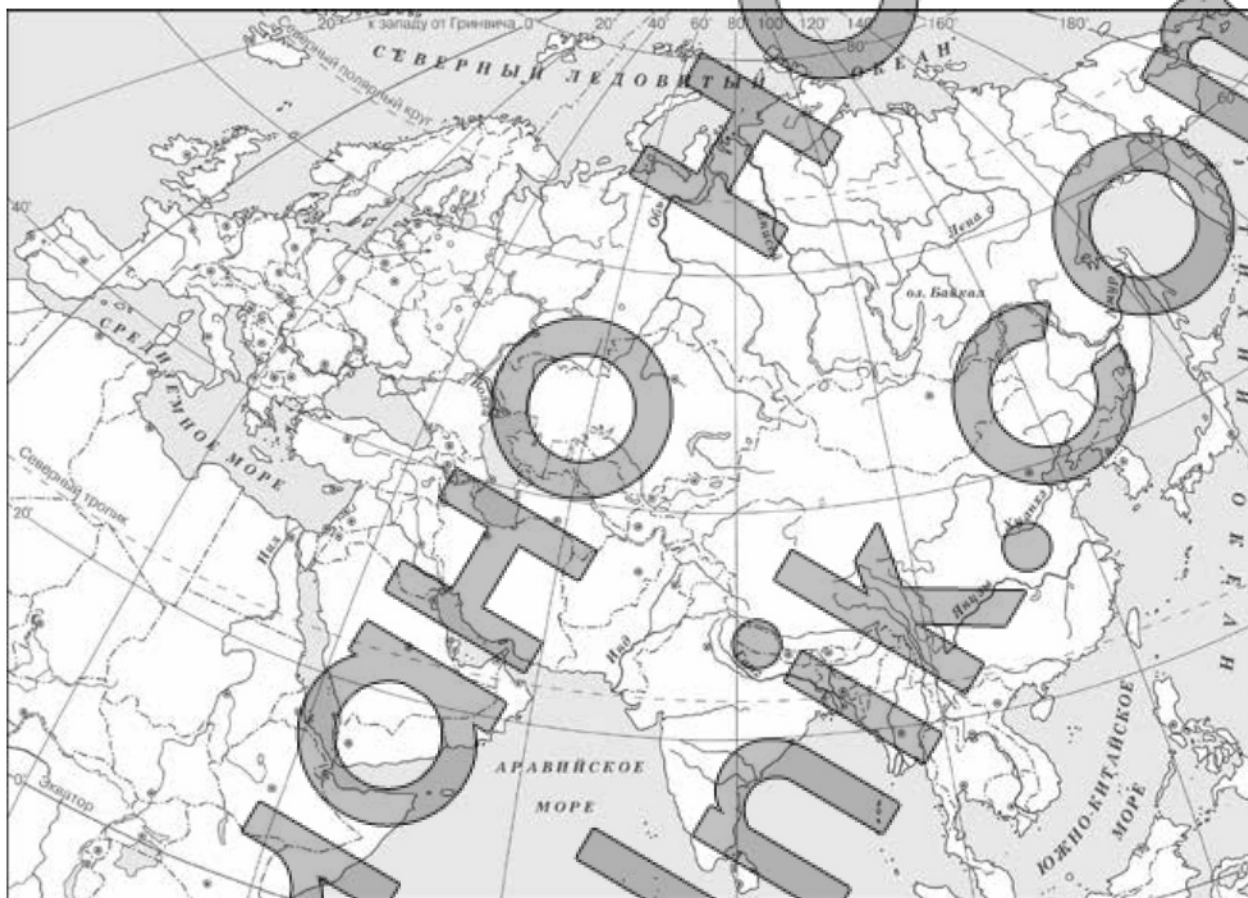
□ Ответ: \_\_\_\_\_

Объясните смысл этого слова (словосочетания).

□ Ответ: \_\_\_\_\_



- 5 Заштрихуйте на контурной карте один четырёхугольник, образованный градусной сеткой (параллелями и меридианами), в котором располагался древний город Мемфис.



- 6 Используя знания исторических фактов, объясните, как природно-климатические условия повлияли на занятия населения страны, одним из крупнейших городов которой был древний город Мемфис.



Ответ:

---



---



---



---



---



---

**Часть 2**

**Вспомните важнейшие события истории Вашего региона или населённого пункта и выполните задания 7 и 8.**

7 Укажите одно название улицы любого населённого пункта, находящегося в Вашем регионе, которое носит имя участника Великой Отечественной войны.

Ответ: \_\_\_\_\_

8 Чем известен этот участник Великой Отечественной войны, каков его вклад в Великую Победу?

Ответ: \_\_\_\_\_

\_\_\_\_\_

\_\_\_\_\_

\_\_\_\_\_

\_\_\_\_\_

\_\_\_\_\_

\_\_\_\_\_

\_\_\_\_\_

\_\_\_\_\_

\_\_\_\_\_

\_\_\_\_\_

\_\_\_\_\_

\_\_\_\_\_

\_\_\_\_\_

\_\_\_\_\_

\_\_\_\_\_

\_\_\_\_\_

\_\_\_\_\_

\_\_\_\_\_

\_\_\_\_\_

\_\_\_\_\_

\_\_\_\_\_

\_\_\_\_\_

\_\_\_\_\_

