

Тренировочный вариант №10 ВПР 2020 по математике

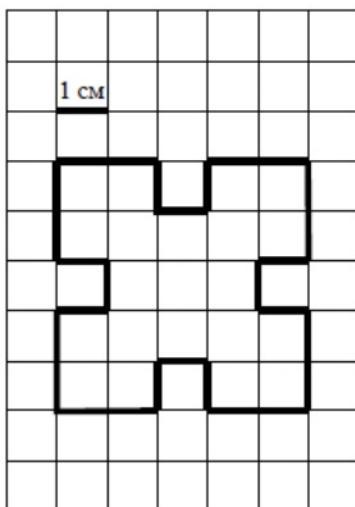
4 КЛАСС

1. Найди значение выражения $70 - 14$.
2. Найди значение выражения $(28 + 14):2 - 9$.
3. Рассмотрите рисунок и ответьте на вопрос: сколько рублей нужно будет заплатить, если купить три ручки и три карандаша?




Запиши решение и ответ.

4. Бегун пробежал дистанцию за 1 час 38 минут и финишировал в 13 часов 23 минуты. Сколько было времени, когда бегун стартовал?
5. На клетчатой бумаге нарисована фигура. Сторона клетки равна 1 см.



- 1) Найди площадь этой фигуры. Ответ дай в кв. см.

2) Нарисуй по клеточкам прямоугольник, площадь которого равна площади изображённой фигуры.



6. В хозяйстве тёти Ани куры, гусыни и утки несли яйца, а тётя Аня вела учёт количества снесённых яиц. Используя таблицу, ответь на вопросы.

Дни по порядку	Куры	Гусыни	Утки
Первый день	10	4	6
Второй день	4	1	4
Третий день	9	7	7
Четвёртый день	7	4	5

- 1) Сколько яиц снесли **гусыни** в **третий** день?
- 2) Какие из птиц (куры, гусыни или утки) за все четыре дня снесли **больше** всего яиц?

7. Найди значение выражения $170 \cdot 3 + 140 \cdot 4$

8. Даша получила на день рождения посылку, вес которой был равен 4 кг. В посылке было **четыре** куклы одинакового веса, а также **шесть** коробок конфет, каждая из которых весила 400 г. Сколько весила одна кукла?

Запиши решение и ответ.

9. Алексей Юрьевич решил каждый день с понедельника по пятницу заниматься спортом. В понедельник он занимался боксом, во вторник бегал, в среду играл в бадминтон, в четверг снова занимался боксом, в пятницу снова бегал, в понедельник играл в бадминтон. И так он тренировался каждую неделю.

- 1) Каким видом спорта Алексей Юрьевич займётся в среду на второй неделе?
- 2) Сколько раз за первые две недели своих занятий спортом Алексей Юрьевич будет играть в бадминтон?

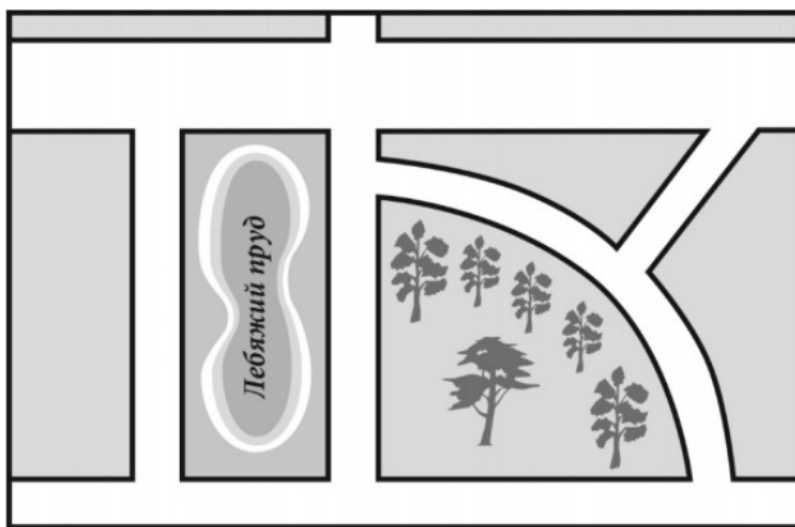
10. Лена написала сочинение «Мой город».

Меня зовут Лена. Я живу в красивом городе на улице с красивым названием Осенняя. Рядом с нашей улицей Лебяжий пруд, где мы с бабушкой любим гулять. Мы обходим пруд: сначала проходим немножко по нашей Осенней улице, затем поворачиваем налево на улицу Рябиновую, которая идёт вдоль пруда. А с другой стороны к Рябиновой улице примыкает небольшой парк; в парке, правда, много рябин. А ещё там есть качели и карусель. Пройдя через парк, мы выходим на

Парковую улицу, которую ещё называют Подковой, потому что она на самом деле изогнутая. Но это не настоящее название, а настоящее название всё-таки Парковая.

Если бабушке нужно в аптеку, то с Парковой улицы мы сворачиваем в Огородный проезд. Он узкий, совсем короткий и наискосок выводит нас на широкую улицу. Она главная в нашем городе и так и называется: улица Широкая. На перекрёстке Огородного проезда и Широкой как раз аптека. Но гуляем мы по воскресеньям. В остальные дни я хожу в школу. Школа тоже рядом с Лебяжьим прудом. Между школой и прудом проходит улица Школьная. Она не очень длинная: она только соединяет Широкую и Осеннюю и больше никуда не ведёт.

Прочти сочинение и рассмотри план. Пользуясь описанием, которое дала Лена, надпиши названия всех улиц и проезда на плане.



11. Водитель видит в зеркале заднего вида автомобиль, идущий сзади. Номер автомобиля тоже отражается в зеркале.

Какой номер у этого автомобиля, если смотреть на него не в зеркало?



12. Кустов смородины в саду в пять раз меньше, чем кустов малины. Садовник решил посчитать все кусты в саду. Сначала у него получилось 84 куста, затем — 85, а в третий раз — 88. Известно, что один раз садовник посчитал верно. Сколько всего кустов в саду?

Запиши решение и ответ.