



**ВСЕРОССИЙСКАЯ ОЛИМПИАДА ШКОЛЬНИКОВ
ПО ОБЖ. 2019–2020 уч. г.
МУНИЦИПАЛЬНЫЙ ЭТАП.
10–11 КЛАССЫ**

Уважаемый участник!

При выполнении заданий Вам предстоит выполнить определённую работу, которую лучше организовать следующим образом:

- внимательно прочитайте задание;
- если Вы отвечаете на теоретический вопрос или решаете ситуационную задачу, обдумайте и сформулируйте конкретный ответ (ответ должен быть кратким, и его содержание следует вписать в отведённое поле; пишите чётко и разборчиво);
- при ответе на тестовые задания определите верный ответ и обведите кружком букву (буквы), соответствующую(-ие) выбранному Вами ответу.

За каждый правильный ответ Вы можете получить определённое членами жюри количество баллов, не выше указанной максимальной оценки.

Сумма набранных баллов за все решённые вопросы в двух форматах – итог Вашей работы. Максимальное количество баллов – 100.

Задания считаются выполненными, если Вы вовремя сдали их членам жюри.

Желаем успеха!



ТЕСТОВЫЕ ЗАДАНИЯ

*Определите один правильный ответ.
За правильный ответ начисляется 2 балла.*

- 1 **Горение каких веществ относится к пожару класса В?**
 - а) твёрдых
 - б) газообразных
 - в) жидких
 - г) металлов

- 2 **Каким молодёжным увлечением НЕЛЬЗЯ заниматься ни при каких условиях?**
 - а) бейскламбинг
 - б) паркур
 - в) бейсджампинг
 - г) айсклаймбинг

- 3 **Укажите краткую характеристику землетрясения в 2 балла.**
 - а) отмечается только сейсмическими приборами
 - б) распознаётся по лёгкому дребезжанию и колебанию предметов, посуды и оконных стёкол, скрипу дверей и стен. Внутри здания сотрясение ощущает большинство людей
 - в) ощущается всеми. Многие в испуге выбегают на улицу. Картины падают со стен. Отдельные куски штукатурки откалываются
 - г) отмечается сейсмическими приборами. Ощущается только отдельными людьми, находящимися в состоянии полного покоя на верхних этажах зданий, и очень чуткими домашними животными

- 4 **Девазация применяется для**
 - а) уничтожения возбудителей инфекционных болезней
 - б) удаления радиоактивных веществ
 - в) обезвреживания токсичных и опасных химических веществ
 - г) уничтожения насекомых и клещей

- 5 **Укажите цветовое обозначение «критического» уровня террористической опасности**
 - а) оранжевый
 - б) жёлтый
 - в) алый
 - г) красный




- 6 **Какой витамин предупреждает развитие рахита у детей раннего возраста и остеопороза у пожилых людей?**
- а) А
 - б) В
 - в) С
 - г) D
- 7 **Характерным признаком тяжёлой черепно-мозговой травмы является**
- а) бледность кожи
 - б) головокружение
 - в) однократная рвота
 - г) выделение кровянистой жидкости из ушей, носа
- 8 **Война, в которой преследуются ограниченные военно-политические цели, военные действия ведутся в границах противоборствующих государств, и которая затрагивает преимущественно интересы только этих государств, –**
- а) локальная война
 - б) региональная война
 - в) военный конфликт
 - г) вооружённый конфликт
- 9 **Категория годности «Б» гражданина к военной службе обозначает**
- а) годен к военной службе с незначительными ограничениями
 - б) ограниченно годен к военной службе
 - в) временно не годен к военной службе
 - г) не годен к военной службе
- 10 **Каков радиус убойного действия осколков ручной гранаты РГН?**
- а) 8,7 м
 - б) 16,5 м
 - в) 25 м
 - г) 6,5 м



Определите все правильные ответы.

За каждый правильный ответ начисляется 2 балла.

- 11 **Какие группы знаков безопасности имеют геометрическую форму квадрата или прямоугольника?**
- а) предписывающие
 - б) пожарной безопасности
 - в) эвакуационные и медицинского и санитарного назначения
 - г) предупреждающие
 - д) запрещающие
- 12 **Какое значение имеет визуальный сигнал и к какому типу он относится?**
- а) «воздух–земля»
 - б) отрицательно – «нет»
 - в) «земля–воздух»
 - г) «необходима медицинская помощь»
 - д) утвердительно – «да»
- 
- 13 **Какой уровень опасности и цветовое обозначение соответствует описанию «Наблюдаются или ожидаются в прогностический период негативные последствия для всех видов деятельности и жизнедеятельности населения»?**
- а) красный
 - б) оранжевый
 - в) второй
 - г) третий
 - д) жёлтый
- 14 **Противорадиационные укрытия создаются для**
- а) населения, не отнесенного к категориям по гражданской обороне, расположенных в зоне возможного радиоактивного заражения
 - б) для работников наибольшей работающей смены организаций, отнесённых к категориям по гражданской обороне
 - в) населения, проживающего на территориях, отнесённых к группам по гражданской обороне, находящихся за пределами зон возможного радиоактивного заражения
 - г) для работников дежурной смены, расположенных за пределами зон возможного радиоактивного заражения
 - д) работников организаций, не отнесённых к категориям по гражданской обороне, расположенных в зоне возможного радиоактивного заражения
- 15 **Какие из указанных организаций являются террористическими?**
- а) Коммунистический союз молодёжи
 - б) «Ахульго»
 - в) «Джебхат ан-Нусра»
 - г) «Лашкаре-Тайба»
 - д) «Харон»



- 16 **В каких случаях у человека происходит формирование активного приобретённого иммунитета?**
- а) после перенесённого инфекционного заболевания
 - б) вследствие закаливания организма
 - в) вследствие применения витаминов
 - г) в результате занятий физической культурой
 - д) после профилактических прививок
- 17 **Какие из перечисленных признаков являются характерными для инсульта?**
- а) боль за грудиной
 - б) одышка
 - в) нарушение речи
 - г) кашель
 - д) асимметрия лица
- 18 **Какие рода войск входят в состав Сухопутных войск РФ?**
- а) береговые войска
 - б) войска ПВО-ПРО
 - в) инженерные войска
 - г) войска противовоздушной обороны
 - д) воздушно-десантные войска
- 19 **От призыва на военную службу в мирное время освобождаются граждане,**
- а) признанные годными к военной службе с незначительными ограничениями по состоянию здоровья
 - б) признанные ограниченно годными к военной службе по состоянию здоровья
 - в) прошедшие альтернативную гражданскую службу
 - г) прошедшие военную службу в любом другом государстве
 - д) имеющие учёную степень
- 20 **Военнослужащий держит снятый головной убор**
- а) в левой свободно опущенной руке
 - б) кокардой назад
 - в) в правой свободно опущенной руке
 - г) кокардой вниз
 - д) кокардой вперёд

Максимум за тестовые задания — 60 баллов.

Не забудьте перенести Ваши ответы в таблицу на титульном листе!



Задание 2

По воздействию на организм человека АХОВ можно разделить на группы.

Соотнесите название вещества и группы, к которой это вещество относится.


Ответ запишите в таблицу.

	Название вещества		Группа
А	хлор, фосген	1	Вещества общедовитого действия
Б	оксид углерода, синильная кислота	2	Нейротропные яды, т.е. вещества, воздействующие на генерацию и передачу нервного импульса
В	сернистый ангидрид, сероводород	3	Вещества, обладающие удушающим и общедовитым действием
Г	оксид этилена, сероуглерод	4	Вещества с преимущественно удушающим действием
Д	аммиак, ацетонитрил	5	Вещества, обладающие удушающим и нейротропным действием

А	Б	В	Г	Д

Максимум за задание – 10 баллов.

Не забудьте перенести Ваши ответы в бланк работы!




Задание 3

Укажите название стрелкового оружия Вооружённых Сил Российской Федерации.

А Изображение стрелкового оружия	Б Название
1. 	
2. 	
3. 	
4. 	
5. 	

Максимум за задание – 10 баллов.

Не забудьте перенести Ваши ответы в бланк работы!



Задание 4

Вы идёте по улице с приятелем и видите лежащего человека без явных признаков жизни (признаки биологической смерти отсутствуют).

А. Впишите пропущенные слова и цифры.

1) проверить наличие признаков жизни, к которым относятся:

а) наличие (отсутствие) _____;

б) наличие (отсутствие) _____;

в) наличие (отсутствие) _____;

2) при отсутствии признаков жизни приступить к проведению сердечно-лёгочной реанимации, т.е. выполнить:

3) искусственное дыхание (_____ вдоха), предварительно обеспечив проходимость дыхательных путей;

4) при появлении признаков жизни после проведения сердечно-лёгочной реанимации или при первоначальном их наличии у пострадавшего перевести пострадавшего в _____ положение;

5) _____ давлений на грудину пострадавшего;

6) оценить обстановку, обеспечить безопасные условия для оказания первой помощи;

7) контролировать признаки жизни до приезда скорой медицинской помощи;

8) попросить приятеля вызвать скорую медицинскую помощь.

В бланк работы перенесите только вставленные слова и цифры.

Б. Расположите действия по оказанию первой помощи в порядке их выполнения. Запишите цифры, которыми обозначены действия, в правильной последовательности.

Максимум за задание – 10 баллов.

Не забудьте перенести Ваши ответы в бланк работы!

Максимум за работу – 100 баллов.

